

توضیحات:

- آزمون آذر سال ۱۳۸۷
- بخش دروس عمومی
- با قابلیت پرینت

سوالات عمومی
آزمون استخدامی
بانک کشاورزی ۱۳۸۷

برای دانلود رایگان جدیدترین سوالات استخدامی ادوار گذشته بانک کشاورزی، **اینجا** بزنید

همچنین جهت مشاهده آخرین اخبار استخدامی بانک ها، **اینجا** بزنید



سوالات عمومی آزمون استخدامی بانک کشاورزی سال ۱۳۸۷

فهرست مطالب

- ❖ کامپیوتر - صفحه ۲
- ❖ هوش و ریاضیات - صفحه ۴
- ❖ اطلاعات عمومی و ادبیات - صفحه ۶
- ❖ زبان انگلیسی - صفحه ۷

کامپیوتر

۱- کدام یک از تجهیزات ورودی خروجی زیر می تواند سیگنالهای دیجیتال را به آنالوگ و برعکس تبدیل کند؟ (iranarze.ir)

Graphic card (۱) Touch screen (۲) Modem (۳) 2و1 (۴)

۲- ابزار Speline and Grammer چه کاربردی دارد؟ (iranarze.ir)

(۱) تنظیم متن (۲) اصلاح غلط املائی (۳) تنظیم فاصله خطوط (۴) ترجمه متن

۳- کدام گزینه صحیح نیست؟ (iranarze.ir)

- (۱) فایل مجموعه ای از اطلاعات به هم پیوسته در رابطه با یک موضوع میباشد.
- (۲) پوشه (fodder) دارای صفاتی از قبیل نوع اندازه مناعت تاریخ ایجاد می باشد.
- (۳) پوشه محلی برای نگهداری قابلها است.
- (۴) درون یک پوشه پوشه های دیگری نیز نگهداری میشود که به آنها زیر پوشه گفته می شود.

۴- کدام گزینه در مورد shortcut با میان بر صحیح نیست؟ (iranarze.ir)

- (۱) به برنامه اصلی یا فایل اصلی اشاره می کنند.
- (۲) در گوشه سمت چپ همه آنها علامت فلش دیده می شود.
- (۳) اگر آنها را حذف کنیم لازم است که برنامه اصلی دوباره نصب شود.
- (۴) راه سریع دسترسی به برنامه ها هستند.

۵- توسط کدام پنجره ساختار درختی پوشه نشان داده می شود؟ (iranarze.ir)

My Computer (۱) Windows Explore (۲) My Document (۳) Control pane (۴)

۶- معادل عمل copy از منوی Edit ترکیب کدام کلیدهاست؟ (iranarze.ir)

Alt+f4 (۱) Ctrl+x (۲) Ctrl+c (۳) ctrl+z (۴)

۷- کاربرد گزینه Refresh چیست؟ (iranarze.ir)

- (۱) حذف کلیه فایل های درون پوشه
 (۲) انتخاب کل فایل های درون پوشه
 (۳) بازیابی کردن محتوای پوشه
 (۴) تازه کردن محتوای پنجره

۸- برای تغییر نام دادن پوشه ها و فایلها : (iranarze.ir)

- (۱) روی پوشه مورد نظر کلیک کرده و گزینه Rename this folder را از نیمه چپ انتخاب کرده
 (۲) روی پوشه یا فایل مورد نظر کلیک راست کرده و گزینه Rename را انتخاب کرده
 (۳) پس از انتخاب پوشه یا فایل مورد نظر کلید ۱۲ را انتخاب کرده
 (۴) هر سه مورد

۹- جهت حذف دائمی فایلها و پوشه ها زیدون قرار گرفتن در (Recycle bin) از کدام گزینه استفاده می کنیم؟ (iranarze.ir)

- (۱) delete (۲) کشیدن و انداختن در Recycle bin (۳) shift +de (۴) ctrl+del

۱۰- کدام روش مرتب سازی آیکونها را بر اساس پسوند (نوع فایل) مرتب می کند؟ (iranarze.ir)

- (۱) Type (۲) Size (۳) Comments (۴) Name

۱۱- کدام یک از برنامه های زیر سبب پاک شدن فایلهای غیر ضروری می شود؟ (iranarze.ir)

- (۱) scan disk (۲) backup (۳) defragmente (۴) disk cleanup

۱۲- برای معرفی یک سخت افزار جدید از تابلوی کنترل (Control Panel) کدام گزینه استفاده می شود؟ (iranarze.ir)

- (۱) add remove program (۲) add new hardware
 (۳) network connection (۴) display

۱۳- در کار با چاپگر ، جهت تنظیمات صفحه کاغذ از کدام دستور استفاده می شود؟ (iranarze.ir)

- (۱) print perview (۲) page setup (۳) print (۴) send

۱۴- توسط کدام فرمان میتوان فایلی را به کمک E-mail پیوست کرد؟ (iranarze.ir)

- (۱) file (۲) Attachment (۳) Object (۴) Hyperlink

۱۵- کدام یک از برنامه های زیر جزء برنامه های مخرب نیست؟ (iranarze.ir)

- (۱) خطاها (۲) تراواها (۳) کرم ها (۴) ویروس ها

۱۶- کدام گزینه میتواند یکی از اهداف ایجاد شبکه های رایانه ای باشد؟ (iranarze.ir)

- (۱) انجام بازی های رایانه ی چند نفره (۲) دستهایی غیر مجاز به اطلاعات افراد دیگر
 (۳) حذف محدودیتهای جغرافیایی (۴) جلوگیری از ویروسی شدن سیستم ها

۱۷- به امواج الکتریکی مزاحمی که سبب اختلال در انتقال داده ها میشود چه می گویند؟ (iranarze.ir)

- (۱) پهنای باند (۲) نویز (۳) سرعت انتقال (۴) کانال ارتباطی

۱۸- وجود کدام یک از کارتهای زیر برای راه اندازی کامپیوتر ضروری است؟ (iranarze.ir)

- (۱) کارت شبکه (۲) کارت گرافیک (۳) کارت مودم (۴) کارت صوتی

۱۹- در محیط ویندوز Xp به کمک ... میتوان پنجره فعال (جاری) را بست؟ (iranarze.ir)

- (۱) Alt+f4 (۲) کلیک در سمت چپ میله عنوان و انتخاب (۳) کلیک بر روی آیکون X (۴) فرسه مورد

۲۰- واحد سرعت چاپگر بر حسب نوع چاپگر عبارت است از: (iranarze.ir)

- (۱) خط در دقیقه (۲) کاراکتر در دقیقه (۳) کاراکتر در ثانیه (۴) همه موارد

هوش و ریاضیات

۲۱- اگر یک سوم تمداد کبوترها را به کل آنها اضافه کنیم و ۹ کبوتر را آزاد نماییم ۲۷ کبوتر باقی میماند. تعداد کل کبوترها چند تا است؟ (iranarze.ir)

- (۱) ۳۶ (۲) ۲۷ (۳) ۴۵ (۴) هیچ کدام

۲۲- رابطه پیراهن به الگو مثل رابطه: (iranarze.ir)

- (۱) ساختمان است به نما (۲) موتور است به نقشه (۳) واپیما است به ماکت (۴) خرید است به نمونه

۲۳- اگر محیط دو مستطیل با یکدیگر برابر باشند الزاماً باید: (iranarze.ir)

- (۱) تو مستطیل مساوی باشند. (۲) دو مستطیل معادل باشند.

- (۳) قطر های دو مستطیل باهم برابر باشند (۴) مجموع طول و عرض یکی مساوی با مجموع طول و عرض دیگری باشد

۲۴- ۳۵ درصد از کارکنان این اداره ایرانی و ۳۰ درصد کارمندان این اداره، متخصص هستند. میکائیل کارمند این اداره است. بنابراین: (iranarze.ir)

- (۱) میکائیل ایرانی و متخصص است. (۲) میکائیل با ایرانی و یا متخصص است.

- (۳) میکائیل نه ایرانی و نه متخصص است. (۴) ممکن است میکائیل ایرانی و متخصص باشد

۲۵- از کدام یک از ابزارهای زیر نمی توان برای پرداخت قبوض (آب، برق، گاز، تلفن) استفاده کرد؟ (iranarze.ir)

- (۱) دستگاه خودپرداز (۲) تلفن بانک (۳) اینترنت (۴) پایانه فروش

۲۶- A در جنوب B قرار دارد. C در غرب B قرار دارد و D در شرق B قرار دارد بنابراین: (iranarze.ir)

- (۱) A در جنوب شرقی C قرار دارد. (۲) A در جنوب غربی C قرار دارد

- (۳) C در شمال شرقی A قرار دارد (۴) D در غرب C قرار دارد.

۲۷- شبکه بانکداری الکترونیکی بانک کشاورزی چه نام دارد؟ (iranarze.ir)

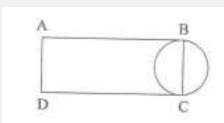
- (۱) سپهر (۲) سیبا (۳) مهر گستر (۴) ساتنا

۲۸- آهنگری میخواهد لوله ۲۴ متری را به سه قسمت مساوی تقسیم نماید. برای این کار چند برش لازم است؟ (iranarze.ir)

- (۱) برش (۲) ۲ برش (۳) ۳ برش (۴) ۴ برش

۲۹- اگر قطر دایره ۳ سانتی متر باشد و محیط مستطیل ۳ برابر محیط دایره باشد. مساحت مستطیل چقدر است؟ (iranarze.ir)

- (۱) ۳ (۲) ۴ (۳) ۱ (۴) ۲



۳۰- تمام دانش آموزان نابغه باهوش هستند. بعضی از دانش آموزان باهوش درس خوان هستند. بر اساس مفروضات بالا کدام حکم درست است؟

- (۱) بعضی دانش آموزان درس خوان افرادی باهوش هستند. (۲) تمام دانش آموزان باهوش، نابغه هستند.

۳) دانش آموزان درس خوان، نابغه هستند. ۴) تمام دانش آموزان نابغه درس خوان میباشند.

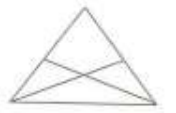
۳۱- اگر از کلمات زیر جمله ای بسازیم، حرف اول کلمه مقابل آخر کدام است؟ (iranarze.ir)

شود، جانت، تمام، حرف، بگو، را، حق، هر چند، قیمت، به

- (۱) ش (۲) ج (۳) ت (۴) ب

۳۲- در شکل مقابل چند مثلث وجود دارد؟ (iranarze.ir)

- (۱) ۷ (۲) ۸ (۳) ۵ (۴) ۴



۳۳- در کدام یک از عددهای دورقمی زیر اگر ترتیب رقم ها معکوس شود. عدد حاصل مربع یک عدد یک رقمی نمی باشد؟ (iranarze.ir)

- (۱) ۶۳ (۲) ۹۲ (۳) ۴۶ (۴) ۱۸

۳۴- هیچ یک از اعضای هیأت مدیره شرکت «لاندا» عضو شرکت «مینا» نمی باشند، جواد از اعضای هیات مدیره «مینا» و عضو شرکت «لاندا» است. اگر جمله اول درست باشد، جمله دوم: (iranarze.ir)

(۱) هیچ گاه درست نیست (۲) همواره درست است.

(۳) نتیجه قطعی از جمله اول است (۴) میتواند درست باشد.

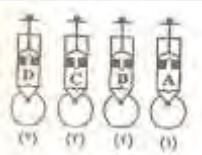
۳۵- اگر طایفه در شمال همه و همه باشد و هیچ در شمال داده و هدیه در شمال هبه واقع باشد احکام زیر درست خواهد بود؟ (iranarze.ir)

(۱) الف در جنوب «د» است (۲) «ب» در جنوب «ج» است.

(۳) «ج» در جنوب «ب» است (۴) «د» در شمال «الف» است.

۳۶- با توجه به تصاویر ۴ تلمبه A, B, C و D که با شماره های ۱ و ۲ و ۳ و ۴ مشخص شده اند. اگر بخواهیم توپ ها را باد کنیم کدام یک از آنها مناسب تر است؟ (iranarze.ir)

- (۱) ۱ (۲) ۲ (۳) ۳ (۴) ۴




۳۷- پنج کیوتی ۲۰۰ گرم ارزن را در مدت ۲ دقیقه می خورند در چه مدتی ۱۰۰ کیوتی ۴ کیلوگرم ارزن را می خورند؟ (iranarze.ir)

- (۱) ۱ دقیقه (۲) ۲ دقیقه (۳) ۴ دقیقه (۴) ۸ دقیقه

۳۸- کدام یک از شکل های زیر به دلیلی با بقیه تفاوت دارد؟ (iranarze.ir)

- (۱) ۱ (۲) ۲ (۳) ۳ (۴) ۴



39- دایره و برهمنوع $y = \frac{x}{\sqrt{x^2+1}}$ ب متنی ب برابر است با: (iranarze.ir)

- (۱) $R, (-1, 1)$ (۲) R, R^+ (۳) $R, (-1, 0)$ (۴) $R, (0, 1)$

۴۰- معکوس تابع $y = \frac{2x+3}{x-1}$ برابر است با: (iranarze.ir)

(۴) $y = \frac{x-1}{2x+3}$

(۳) $y = \frac{x+3}{x-2}$

(۲) $y = \frac{3+x}{2-x}$

(۱) $y = \frac{x-2}{x+3}$

۴۱- حاصل $\lim_{x \rightarrow \infty} \left(1 + \frac{a}{x}\right)^x$ برابر است با: (iranarze.ir)

(۴) e^n

(۳) $\frac{a}{e}$

(۲) $\frac{1}{e}$

(۱) e

۴۲- مشتق تابع $y = \ln(\cos x)$ برابر است با: (iranarze.ir)

(۴) $\sin x$

(۳) $-\sin x$

(۲) $-\tan x$

(۱) $\tan x$

۴۳- اگر ماکزیمم تابع $y = -x^3 + ax^2$ برابر ۴ باشد مقدار a کدام است؟ (iranarze.ir)

(۴) ۳

(۳) ۲

(۲) -۲

(۱) -۳

۴۴- حاصل $\int \frac{\sqrt{x+1}}{x} dx$ برابر است با: (iranarze.ir)

(۲) $2\sqrt{x} + \ln x + c$

(۱) $x\sqrt{x} - \ln x + c$

(۴) $\sqrt{x} + 2 \ln x + c$

(۳) $x\sqrt{x} + \ln x + c$

۴۵- دترمینان حاصل ضرب دو ماتریس زیر برابر است با: (iranarze.ir)

(۴) -۳۳

(۳) -۲۷

(۲) ۲۷

(۱) ۳۳

۴۶- بهای هر واحد از تولیدات کارخانه ای در رقابت کامل ۱۰۰ تومان است اگر تابع هزینه کل $C = x^2 + 20x + 70$ باشد حداکثر سود برابر است با:

(۴) ۴۰۰۰

(۳) ۱۶۰۰

(۲) ۱۰۰۰

(۱) ۹۰۰

۴۷- قیمت کالای A در خرداد ماه ۲ برابر کالای B بوده و در تیر ماه ۴/۵ برابر شده است. متوسط قیمت کالای A به B در این دو ماه چند بوده است؟

(۴) بسته به قیمت کالاها متفاوت خواهد بود.

(۳) ۳/۰۰

(۲) ۳/۲۵

(۱) ۲/۰۷

۴۸- در کارخانه ای دو خط تولید وجود دارد که مستقل از هم یک نوع محصول را تولید می کنند به طوری که خط اول ۴۰٪ و خط دوم ۶۰٪ کل محصولات را تولید می کنند. مشخص گردیده که ۳٪ محصولات خط اول و ۴٪ محصولات خط دوم معیوب هستند. اگر محصولی را به طور تصادفی انتخاب کنیم و معیوب باشد. احتمال این که این محصول از خط دوم انتخاب شده باشد برابر است با: (iranarze.ir)

(۴) $\frac{2}{3}$

(۳) $\frac{1}{2}$

(۲) $\frac{1}{3}$

(۱) $\frac{3}{4}$

اطلاعات عمومی و ادبیات

۴۹- کدام کلمه در مورد قرآن نقص شمرده می شود؟ (iranarze.ir)

(۴) تحفظ

(۳) ترتیل

(۲) تحریف

(۱) تذهیب

۵۰- کدام کلمه زیر در بانک ها بیشتر کاربرد دارد؟ (iranarze.ir)

(۴) ظهر

(۳) یستظهر

(۲) ظهور

(۱) استظهار

۵۱-نوعی نوشته است که در آن نویسنده اطلاعاتی در مورد موضوعی خاص در اختیار کسانی می گذارد که از آن مطلع نیستند؟ (iranarze.ir)

(۴) زندگی نامه

(۳) گزارش

(۲) خاطره

(۱) شرح حال

۵۲- کدام یک از گزینه های زیر مظهر «جنبش و تکاپو» است؟ (iranarze.ir)

(۴) رود

(۳) خورشید

(۲) آسمان

(۱) کپکشان

۵۳- کدام گزینه اضافه نبوت نیست؟ (iranarze.ir)

- (۱) ابن سینا (۲) محمود سبکتگین (۳) حسین بن علی (۴) سیف الدوله

۵۴- قالب و درونمایه اشعار شاهنامه چگونه است؟ (iranarze.ir)

- (۱) قطعه - رزمی (۲) مثنوی - حماسی (۳) غزل - رومی (۴) قصیده - حماسه

۵۵- کدام گزینه با سایر گزینه ها مترادف نیست؟ (iranarze.ir)

- (۱) بالا کشیدن (۲) برکشیدن (۳) پروردن (۴) نواختن

۵۶- کدام گزینه اسم مصدر است؟ (iranarze.ir)

- (۱) کشش (۲) فروزنده (۳) جویبار (۴) کشتن

۵۷- صائب تبریزی پیرو کدام سبک شعر است؟ (iranarze.ir)

- (۱) خراسانی (۲) هندی (۳) عراقی (۴) بازگشت

۵۸- در جمله «برعلیه بیماری باید مبارزه کرد» به جای «برعلیه» که عبارت غلطی است. باید نوشت: (iranarze.ir)

- (۱) بر خلاف (۲) با (۳) در جهت (۴) در مقابل

۵۹- کدام گزینه از ارکان اصلی یک گزارش را مشخص میکند؟ (iranarze.ir)

- (۱) عنوان، متن، امضاء، موضوع وهدف گزارش (۲) عنوان و متن

- (۳) عنوان، متن، نام و امضای گزارشگر (۴) فهرست، متن

۶۰- در عبارت «یکی از اهداف گزارش نویسی .. و نارسایی های اجتماعی و چاره اندیشی برای بر طرف کردن این تنگناهاست» کدام یک از گزینه های زیر در قسمت نقطه چین قرار می گیرد؟ (iranarze.ir)

- (۱) آشنایی با مدیران (۲) رسیدن به اهداف (۳) شناخت تنگناها (۴) برخورد مناسب با گزارشگر

زبان انگلیسی

61- Several companies the government's new program. (iranarze.ir)

- 1) supported 2) created 3) performed 4) competed

62- they have tried to limit such imports in order to their jobs. (iranarze.ir)

- 1) Prepare 2) produce 3) protect 4) present

63- The government had to the foreign prisoners and allow them to go to their own countries. (iranarze.ir)

- 1) release 2) review 3) remind 4) realize

64- there are talks about the Of petrol. (iranarze.ir)

- 1) import 2) snack 3) progress 4) degree

65- The American economy is already very had, it is getting worse. (iranarze.ir)

- 1) definition 2) continuation 3) situation 4) fascination

66- some women are forced to make a between their family and their job. (iranarze.ir)

- 1) track 2) review 3) departure 4) choice

67- We want to all the money we have collected to their bank. (iranarze.ir)

- 1) stretch 2) attach 3) involve 4) transfer

68 - All office door before you leave. (iranarze.ir)

- 1) must lock 2) must be locked 3) are being locked 4) will lock

69 -The bank manger, we talked about,.has been given a raise. (iranarze.ir)

- 1) which 2) who 3) whose 4) whom

70- All employees are asked to hand in ID card when arriving . (iranarze.ir)

- 1) his 2) their 3) your 4) its

71 -to have a cheque cashed you need to bring either your birth certificate a valid ID. (iranarze.ir)

- 1) together 2) or 3) as 4) by

73 - The clerks tea,when the boss stepped in. (iranarze.ir)

- 1) have had 2) are having 3) used to have 4) were having

74 - The has requested to be given a second chance. (iranarze.ir)

- 1) application 2) applicant 3) applied 4) applying

75- I'm still looking for a job but I something soon. (iranarze.ir)

- 1) to hape find 2) hope to find 3) find to hope 4) hope finding

ایران عرضه

مرجع نمونه سوالات

آزمون های استخدامی سراسری

به همراه پاسخنامه تشریحی

خدمات ایران عرضه:

- ارائه اصل سوالات آزمون های استخدامی
- پاسخنامه های تشریحی سوالات
- جزوات و درسنامه های آموزشی

برای دانلود رایگان جدیدترین سوالات استخدامی ادوار گذشته بانک کشاورزی، **اینجا** بزنید

همچنین جهت مشاهده آخرین اخبار استخدامی بانک ها، **اینجا** بزنید

