

مشخصات این بسته:

- دارای پاسخنامه تستی و تشریحی
- اصل سوالات برگزار شده
- با قابلیت پرینت

بسته کامل سوالات

استخدامی آموزش و پرورش

شامل دفترچه سوالات استخدامی آزمون

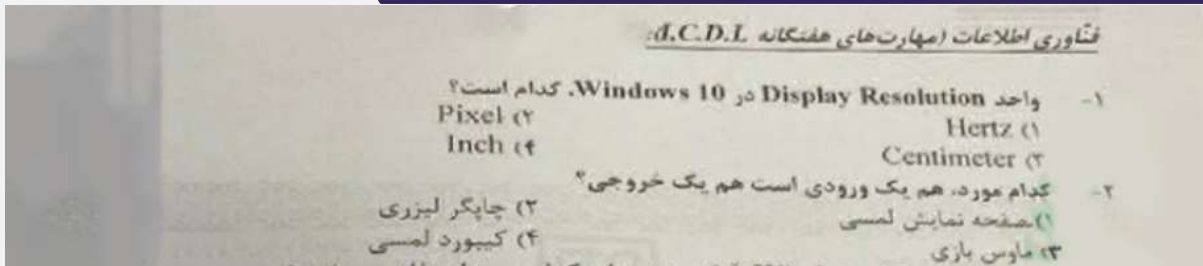
آموزش و پرورش ۱۴۰۰-۱۴۰۱ گروه ششم با پاسخنامه

توجه!

نمونه سوالات حاضر به صورت اختصاصی توسط فروشگاه کالاهای دانلودی ایران عرضه تهیه و ثبت شده است و هر گونه کپی برداری و انتشار آن توسط افراد سودجو، بدون اخطار قبلی، پیگرد قانونی به همراه خواهد داشت.

اصل سوالات آموزش و پرورش

سال ۱۴۰۰-۱۴۰۱ گروه ششم



(تصویر اصل دفترچه سوالات آزمون)

فناوری اطلاعات و مهارت های هفت گانه ICDL

۱- واحد Resolution Display در ویندوز ۱۰ کدام است؟ (www.iranarze.ir)

(۱) Hertz (۲) Pixel (۳) centimeters (۴) Inch

۲- کدام مورد هم یک ورودی است و هم یک خروجی؟ (www.iranarze.ir)

(۱) صفحه نمایش لمسی (۲) چاپگر لیزری (۳) ماوس بازی (۴) کیبورد لمسی

۳- در سیستم عامل ویندوز ۱۰ windows آیکون زیر برای کدام مورد استفاده میشود؟

(۱) Floppy Disk (۲) Removable memory

(۳) Network drive (۴) SSD Memory

۴- در سیستم عامل windows 10 فایل هایی که دارای پسوند tmp هستند از کدام نوع هستند؟

(www.iranarze.ir)

(۱) فایل های حجیم (۲) فایل های متنی (۳) فایل های مدیریتی (۴) فایل های موقت

۵- در نرم افزار word 2016 کدام مورد برای ایجاد فایل هایی که دارای ظاهر منسجم متن هستند استفاده میشود؟

(۱) Font (۲) Arrange (۳) Illustration (۴) Style

۶- در نرم افزار word 2016 کدام کلید ترکیبی زیر برای رفتن به سلول قبلی در جدول استفاده میشود؟

(۱) Shift + Tab (۲) AIT+← (۳) Alt +Tab (۴) Shift+←



برای خرید بسته کامل سوالات استخدامی آموزش و پرورش ۱۴۰۰-۱۴۰۱ به همراه پاسخنامه، اینجا کلیک نمایید.

۷- در نرم افزار WORD 2016 انتخاب بخشی از متن و Drog and Drog آن به بخش دیگر سند معادل کدام مورد است؟

(۱) امکان جابه جایی متن با Drog&Drog وجود ندارد (۲) Cut and paste

(۳) Copy and paste (۴) تغییر Order پاراگرافها بر اساس الفبا

۸- در نرم افزار excel 2016 ابزار Sort بر روی کدام مورد اعمال میشود؟ (www.iranarze.ir)

(۱) داده های موجود در سلول ها و شماره آنها (۲) شماره سلول ها

(۳) فرمول های موجود در سلول ها (۴) داده های موجود در سلول ها

۹- در حالت استاندارد (پیش فرض) کدام مورد زیر برای نام یک سلول در نرم افزار excel 2016 صحیح است؟

(۱) 2B31 (۲) 2F (۳) D13 (۴) D2B

۱۰- کدام مورد در خصوص نرم افزار excel 2016 صحیح است؟ (www.iranarze.ir)

(۱) ذخیره فایل های book1.xls و book1.xlsx در یک پوشه امکانپذیر است.

(۲) ذخیره دو فایل با نام book1.xls ولی با اندازه (file size) مختلف در یک پوشه، امکانپذیر است.

(۳) انتقال یک فایل اکسل از یک پوشه به پوشه دیگر، تاثیری در external reference ندارد

(۴) حذف یک فایل اکسل باعث حذف تمام reference های موجود در فایل های دیگر میشود.

۱۱- در نرم افزار ACCESS 2016 کدام مورد مشخص کننده نوع اطلاعاتی است که قصد داریم در پایگاه داده ذخیره کنیم؟

(۱) Index (۲) Validation text (۳) Smart tag (۴) Data type

۱۲- در نرم افزار power point 2016 ابزار Comment در کدام سربرگ قرار دارد؟ (www.iranarze.ir)

(۱) View (۲) Review (۳) Home (۴) Insert

۱۳- در نرم افزار power point 2016 کدام کلیدهای زیر میتوانند یک اسلاید را پاک کنند؟ (www.iranarze.ir)

(۱) Backspace, Delete (۲) Escape, Delete (۳) Escape, Backspace (۴) Tab, Backspace

۱۴- کدام مورد یک آدرس IP صحیح را نشان میدهد؟ (www.iranarze.ir)

(۱) 41.23.25.14.13 (۲) 00.01.02 (۳) 0.0.0.0 (۴) 256.255.254.253

۱۵- اگر در هنگام مشاهده صفحات یک وبسایت فایلی به صورت اتوماتیک شروع به دانلود کند بهترین عمل کدام است؟

(۱) فعال کردن آنتی ویروس سیستم

(۲) توقف سریع دانلود فایل

(۳) بستن کلیه صفحات سایت

(۴) باز کردن فایل با استفاده از نرم افزار مناسب

برای خرید بسته کامل سوالات استخدامی آموزش و پرورش ۱۴۰۰-۱۴۰۱ به همراه پاسخنامه، اینجا کلیک نمایید.

ریاضی و آمار مقدماتی

۱۶- حاصل $\frac{1}{(ab-2)^3} (a^{-2}b)$ کدام است؟ (www.iranarze.ir)

$\frac{a}{b}$ (۴) $\sqrt[3]{ab}$ (۳) ab (۲) $\frac{b}{a}$ (۱)

۱۷- اگر a یک عدد طبیعی باشد، چند عدد گویا به صورت $\frac{a}{100}$ می توان بین دو عدد $\frac{1}{3}$ و $\frac{4}{7}$ درج کنید؟

۲۳ (۴) ۲۴ (۳) ۲۵ (۲) ۲۲ (۱)

۱۸- تعداد زیر مجموعه های $A = \{1, 3, \{3, 1\}, \{1, 3\}\}$ کدام است؟ (www.iranarze.ir)

۴ (۴) ۱۲ (۳) ۸ (۲) ۱۶ (۱)

۱۹- به ازای کدام مقدار a معادله $(a-1)x + a^2 - 1 = 0$ بی شمار جواب دارد؟ (www.iranarze.ir)

۲ (۴) -۲ (۳) -۱ (۲) ۱ (۱)

۲۰- اگر $r(2x-1) = 7x^2 - 5$ حاصل $r(5)$ کدام است؟ (www.iranarze.ir)

۶۰ (۴) ۲۸ (۳) ۳۰ (۲) ۵۸ (۱)

۲۱- اگر $n(2n+1)$ مجموع n جمله نخست از یک دنباله حسابی باشد، جمله دوازدهم کدام است؟ (www.iranarze.ir)

۲۴ (۴) ۴۹ (۳) ۴۷ (۲) ۲۶ (۱)

۲۲- ریشه های معادله $x^2 - 4x - m - 1 = 0$ با هم برابرند مقدار m کدام است؟ (www.iranarze.ir)

-۵ (۴) ۴ (۳) ۲ (۲) -۳ (۱)

۲۳- ساده شده $\sin(\frac{\pi}{2} + a) \sin(\pi + a) - \sin(\pi - a) \cos(-a)$ کدام است؟ (www.iranarze.ir)

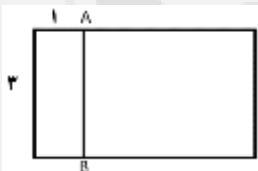
$-\cos 2a$ (۴) $\cos 2a$ (۳) $\sin 2a$ (۲) $-\sin 2a$ (۱)

۲۴- به ازای کدام مقدار a معادله $\frac{1}{x-1} + \frac{a}{x+2} = 0$ بی شمار جواب دارد؟ (www.iranarze.ir)

a هیچ مقدار از (۴) ۲ (۳) -۱ (۲) صفر (۱)

۲۵- در مستطیل زیر پاره خط AB طوری رسم شده تا دو مستطیل کوچک تر متشابه باشند مساحت مستطیل اولیه چند

برابر مساحت کوچک ترین مستطیل است؟ (www.iranarze.ir)



۹ (۲) ۶ (۱)

۲ (۴) ۱۰ (۳)

۲۶- احمد و ۴ نفر از دوستانش می خواهند در یک ردیف روی صندلی های سینما بنشینند در چند

حالت افراد سمت راست احمد از افراد سمت چپ وی بیشتر خواهد بود؟ (www.iranarze.ir)

۹۶ (۴) ۲۴ (۳) ۳۶ (۲) ۴۸ (۱)

برای خرید بسته کامل سوالات استخدامی آموزش و پرورش ۱۴۰۰-۱۴۰۱ به همراه پاسخنامه، اینجا کلیک نمایید.

۲۷- متغیرهای تصادفی "تیم مورد علاقه" و "وزن داوطلب" به ترتیب از کدام نوع است؟ (www.iranarze.ir)

- (۱) کمی پیوسته - کیفی اسمی
(۲) کیفی ترتیبی - کمی گسسته
(۳) کیفی اسمی - کمی گسسته
(۴) کیفی اسمی - کمی پیوسته

۲۸- برای داده های ۱۱ - ۷ - ۱۷ - ۱۶ - ۸ - ۲۰ - ۱۹ - ۱۶ - ۸.۵ - ۱۰ - ۵، اختلاف چارک اول و سوم کدام است؟

- (۱) 8.5 (۲) 9 (۳) 9.5 (۴) 8

۲۹- در یک جامعه آماری، فاصله هر دو داده متوالی از یکدیگر ۳، کمترین داده برابر ۷ و میانگین داده ها برابر ۲۵ است تعداد داده ها کدام است؟ (www.iranarze.ir)

- (۱) ۱۳ (۲) ۱۸ (۳) ۱۹ (۴) ۱۲

۳۰- اگر قیمت اجناس با انحراف معیار 0.5 طی یک سال ۲۰ درصد افزایش یابد، واریانس قیمت های جدید کدام است؟

- (۱) 0.54 (۲) 0.36 (۳) 0.18 (۴) 0.72

زبان و ادبیات فارسی

۳۱- معنی کدام واژه نادرست است؟ (www.iranarze.ir)

- (۱) فسخ: باطل کردن
(۲) مباحله: لعنت کردن یکدیگر را
(۳) فلق: سرخی آسمان هنگام صبح
(۴) دل شکر: خوشایند و مطبوع

۳۲- معنی واژه های (غنون، فحوا، لوث) به ترتیب کدام است؟ (www.iranarze.ir)

- (۱) آرمیدن - مضمون - پلیدی
(۲) آلودن - معنی واژه - زشتی
(۳) آسودن - معنی سخن - کوتاهی
(۴) آشفتن - مفهوم - آلودگی

۳۳- در متن زیر چند غلط املائی وجود دارد؟ (www.iranarze.ir)

(بدین گونه اسلام که یک امپراتوری عظیم جهانی بود با سماهت و تساحلی که از مختصات اساسی آن به شمار می آید مواریت و آداب بی زبان اقوام مختلف را تحمل کرد)

- (۱) یک (۲) چهار (۳) سه (۴) دو

۳۴- در عبارت زیر املائی کدام واژه نادرست است؟ (www.iranarze.ir)

(پیر را آز مال در کار آورد، تا جانب دین و مروت مهمل گذاشت، و ارتکاب این محضور به خلاف شریعت و طریقت جایز شمرد)

- (۱) محضور (۲) آز (۳) طریقت (۴) مهمل

برای خرید بسته کامل سوالات استخدامی آموزش و پرورش ۱۴۰۰-۱۴۰۱ به همراه پاسخنامه، اینجا کلیک نمایید.

۳۵- در بیت زیر چند تشبیه وجود دارد؟ (www.iranarze.ir)

(غمی که چون سپه زنگ ملک دل بگرفت ز خیل شادی روم رخت زداید باز)

(۱) دو (۲) پنج (۳) چهار (۴) سه

۳۶- آرایه های بیت زیر کدام اند؟ (www.iranarze.ir)

(دست قدرت این جهان خسته را نیرو دهد ابر رحمت در زمین تشنه باران آورد)

(۱) کنایه، استعاره، حسن تعلیل (۲) تشبیه، مجاز، حسن تعلیل

(۳) استعاره، تشبیه، اسلوب معادله (۴) استعاره، مجاز، ایهام

۳۷- مفهوم کنایه مصرع دوم بیت زیر از داستان "رزم رستم و اسفندیار" چیست؟ (www.iranarze.ir)

(تن زال را مرغ پدرود کرد) (ازو تار وز خویشتن پود کرد)

(۱) به سرعت از یکدیگر جداشدن (۲) همدیگر راه گرمی در آغوش گرفتند

(۳) باردیگر سفارش خود را تکرار کرد (۴) از نتیجه کار سخت بیمناک شد

۳۸- مفهوم کدام بیت با سایر ابیات متفاوت است؟ (www.iranarze.ir)

(۱) ای بسا تیز طبع کاهل کوش که شد از کاهلی سفال فروش

(۲) با بدان کم نشین که صحبت بد گرچه پاکی تو را پلید کند

(۳) از در افتادن شکاری خام صد دیگر در اوفتند به دام

(۴) عیب یک همنشست باشد و بس کافکند نام زشت بر هر کس

۳۹- مفهوم بیت زیر از کدام بیت دریافت میشود؟ (www.iranarze.ir)

(جمال کعبه مگر عذر رهروان خواهد) (که جان زنده دلان سوخت در بیابانش)

(۱) هست به سر تا هوای کعبه مقصود کوشش راکب خوش است و جنبش مرکب

(۲) آتش گل همیشه بهار است عشق را پروانه را به سیر گلستان چه حاجت است

(۳) خار از چه جان بکاهد گل عذر آن بخواهد سهل است تلخی می در جنب ذوق مستی

(۴) آن چنان کعبه دل را صنمی ویران ساخت که کس از بهر خدا در پی تعمیرش نیست

۴۰- معنی عبارت زیر کدام است؟ (www.iranarze.ir)

(شاخ املش در خزان عمر و برگ ریزان عیش شکوفه تازه بیرون می آورد)

(۱) در آخرین روزهای زندگی نیز شاداب و با طراوت بود

(۲) آرزوها و آمال خود را بر باد رفته می دید و خزان زندگی فر رسیده بود

برای خرید بسته کامل سوالات استخدامی آموزش و پرورش ۱۴۰۰-۱۴۰۱ به همراه پاسخنامه، اینجا کلیک نمایید.

۳) به خاطر اعتدال آب و هوا، درختان در فصل پاییز شکوفه داده بودند

۴) در ایام کهولت و پیری، آرزوها و اهداف تازه ای به سرش زده بود.

۴۱- به کارگیری کدام یک از علایم نگارشی در عبارت زیر نادرست است؟ (www.iranarze.ir)

پیغمبر - علیه السلام - گفت: «چون آخرالزمان بود؛ مومن را خواب کمتر گردد» (خوابگزاری، ص ۳)

۱) پرانتز (()) ۲) نقطه ویرگول (؛) ۳) خط فاصله (-) ۴) دونقطه (:)

۴۲- در کدام مصرع واژه "دو تلفظی" یافت میشود؟ (www.iranarze.ir)

۱) از نسیم مهرگانی برکنار است ای حکیم ۲) در معرفت دیده ی آدمی است

۳) سخن با قلم چون قلم راست دار ۴) زین همراهن سست عناصر دلم گرفت

۴۳- در کدام مورد نوع واژه ها متفاوت است؟ (www.iranarze.ir)

۱) دانش نامه - گیر و دار ۲) دانشسرا - سربازگیری ۳) اسم نویسی - زد و خورد ۴) دانش پژوه - ناخوشایند

۴۴- اجزای تشکیل دهنده مصراع روبه رو کدام است؟ «نسازد نقش یوسف دلنشین دیوار زندان را» (www.iranarze.ir)

۱) نهاد + مفعول + مسند + فعل ۲) نهاد + مفعول + فعل ۳) نهاد + مفعول + متمم + فعل ۴) نهاد + مسند + فعل

۴۵- در بیت زیر نقش واژه های مشخص شده به ترتیب کدام است؟ (www.iranarze.ir)

"گرت ز دست برآید چون نخل باش کریم ورت ز دست نیاید، چو سرو باش آزاد"

۱) متمم - مسند - نهاد ۲) مضاف الیه - متمم - مسند

۳) مضاف الیه - نهاد - مسند ۴) متمم - نهاد - مسند

احکام و معارف اسلامی

۴۶- از آیه شریفه «یا ایها الذین آمنوا استجبوا لله وللرسول اذا دعاکم لما یحییکم» کدام مفهوم دریافت میشود؟

۱) دین، زندگی بخش و مایه ی حیات انسان است ۲) دین، مظاهر زندگی را که حیات بخش است، ارج می نهد

۳) مخاطب دعوت خدا و رسولش، فطرت الهی انسان است ۴) مخاطب این دعوت خدا و رسولش، همه مردم هستن

۴۷- آیات شریفه «ام نجعل المتقین کالفجار» و «ان الله لا یظلم الناس شیئاً» به ترتیب بیانگر کدام برهان عقلی معاد است؟

۱) معقولیت - حکمت ۲) عدالت - حکمت ۳) عدالت - عدالت ۴) معقولیت - عدالت

۴۸- آیه شریفه «شَهِدَ اللهُ أَنَّهُ لَا إِلَهَ إِلَّا هُوَ وَالْمَلَائِكَةُ وَأُولُو الْعِلْمِ» به کدام مفهوم اشاره دارد؟ (www.iranarze.ir)

۱) خدای یگانه و بی همتا را بپرستید و از پرستش غیر او پرهیز کنید ۲) تنها خدا در اداره و تدبیر و کارگردانی جهان موثر است

۳) خدا یکتا و بی همتا است و ذات او بسیط و تعدد ناپذیر است ۴) درعالم، پروردگاری جز خدا وجود ندارد و همه مخلوق اویند

برای خرید بسته کامل سوالات استخدامی آموزش و پرورش ۱۴۰۰-۱۴۰۱ به همراه پاسخنامه، اینجا کلیک نمایید.

۴۹- گوهر و حقیقت مشترک همه ادیان الهی کدام است؟ (www.iranarze.ir)

- (۱) حنیف است که همان دین توحیدی حضرت ابراهیم است
(۲) اسلام است که همان تسلیم بودن در برابر خداست
(۳) اسلام است که به دین آخرین پیامبر الهی گفته میشود
(۴) حنیف است که دینی مورد قبول همه ادیان الهی میباشد

۵۰- کدام آیه زیر «امی بودن پیامبر» را نشانی بر اعجاز جاودانه او معرفی میکند؟ (www.iranarze.ir)

- (۱) وَمَا كُنْتَ تَتْلُو مِنْ قَبْلِهِ مِنْ كِتَابٍ وَلَا تَخْطُهُ بِمِیْنِكَ إِذَا لَارْتَابَ الْمُطْبُؤُنَ
(۲) اَمْ يَقُولُونَ افْتَرَاهُ قُلْ فَاْتُوا بِسُورَةٍ مِثْلِهِ وَادْعُوا مَنْ اسْتَطَعْتُمْ مِنْ دُونِ اللّٰهِ اِنْ كُنْتُمْ صَادِقِیْنَ
(۳) لَا یَأْتُونَ بِمِثْلِهِ وَلَوْ كَانَ بَعْضُهُمْ لِبَعْضٍ ظَهِیرًا
(۴) اَفَلَا یَنْدَبُرُونَ الْقُرْآنَ وَلَوْ كَانَ مِنْ عِنْدِ غَیْرِ اللّٰهِ لَوَجَدُوا فِیْهِ اِخْتِلَافًا كَثِیْرًا

۵۱- آیه شریفه «لقد ارسلنا رسلنا بالبینات وانزلنا معهم الكتاب والمیزان ليقوم الناس بالقسط» بیانگر کدام قلمرو رسالت پیامبر اکرم (ص) است؟ (www.iranarze.ir)

- (۱) ولایت معنوی (۲) دریافت و ابلاغ وحی (۳) تعلیم و تبیین قرآن (۴) ولایت ظاهری

۵۲- کدام یک از آیه های زیر، بیانگر وجه افتراق دنیا و برزخ است؟ (www.iranarze.ir)

- (۱) قَالَ رَبِّ ارْجِعُونِ لَعَلِّيْ اَعْمَلُ صَالِحًا
(۲) افحسبتم انما خلقناكم عبثًا
(۳) اینما تکونوا یدرککم الموت
(۴) ومن ورائهم برزخ الی یوم یبعثون

۵۳- عبارت قرآنی «آیا گمان کردید شما را بیهوده آفریده ایم و به سوی ما باز نمی گردید؟» به کدام موضوع اشاره دارد؟

- (۱) امکان معاد در پرتو عدل الهی
(۲) امکان معاد در پرتو حکمت الهی
(۳) ضرورت معاد در پرتو حکمت الهی
(۴) ضرورت معاد در پرتو عدل الهی

۵۴- آیه «ایحسب الانسان ان نجمع عظامه بلی قادرین علی ان نسوی بنانه بل یرید الانسان لیفجر امامه» به کدام موضوع اشاره دارد؟ (www.iranarze.ir)

- (۱) توحید و حقیقت انسان، همان روح او است که با متلاشی شدن بدن مادی باقی است
(۲) معاد و دلیل انکار آن، زیرا آدمی میخواهد راه برای گناهکاری او باز باشد
(۳) توحید و دلیل انکار آن، زیرا آدمی می خواهد راه برای گناهکاری او باز باشد
(۴) معاد و حقیقت انسان، همان روح او است که با متلاشی شدن بدن مادی باقی است

۵۵- آیه شریفه «ماهی الا حیاتنا الدنیا نموت ونحیی وما یهلکنا الا الدهر» به کدام موضوع اشاره دارد؟

- (۱) انکار ملاقات پروردگار و رضایت دادن و قناعت کردن به زندگی دنیایی
(۲) اعتقاد کسانی که راه غفلت از مرگ را در پیش گرفته اند علاقه به حیات مجدد ندارند
(۳) اعتقاد کسانی که نمی توانند خود را از اندیشه مرگ و نابودی پس از آن نجات دهند
(۴) عدم اعتقاد کفار به آخرت و منحصر کردن زندگی به همین زندگی دنیایی

برای خرید بسته کامل سوالات استخدامی آموزش و پرورش ۱۴۰۰-۱۴۰۱ به همراه پاسخنامه، اینجا کلیک نمایید.

۵۶- آیات شریفه «یومئذ تحدث اخبارها» و «جاءت کل نفس معها سائق شهید» به ترتیب ناظر بر کدام یک از گواهان روز قیامت است؟ (www.iranarze.ir)

- (۱) زمین - پیامبران (۲) زمان - فرشتگان (۳) زمان - پیامبران (۴) زمین - فرشتگان

۵۷- از آیه شریفه «وان الدار الاخره لهی الحیوان» کدام مفهوم دریافت میشود؟ (www.iranarze.ir)

- (۱) حیات اخروی مانند دنیا است و از ویژگی خاصی برخوردار است (۲) زندگی دنیا، اعتباری است و سرای آخرت حقیقی (۳) همانا زندگی برتر و حقیقی در سرای آخرت است (۴) حیات اخروی روحانی است و از برتری خاصی برخوردار است

۵۸- قرآن کریم عامل اصلی گناه را چه کسی معرفی میکند؟ (www.iranarze.ir)

- (۱) خود انسان، چون دعوت شیطان را میپذیرد و خودش به او اجازه ی وسوسه میدهد
(۲) شیطان، چون دعوت او را میپذیرد و انسان به او اجازه وسوسه می دهد
(۳) شیطان، چون انسان از وسوسه های او پیروی میکند و شیطان براو سلطه دارد
(۴) خود انسان، چون از وسوسه های شیطان پیروی میکند و شیطان براو سلطه دارد

۵۹- آیه شریفه «ومن لم یحکم بما انزل الله فاولئک هم الکافرون» ناظر بر کدام قسم توحید است؟ (www.iranarze.ir)

- (۱) توحید در عبادت (۲) توحید ذاتی (۳) توحید صفاتی (۴) توحید در ربوبیت

۶۰- به ترتیب اگر وجود موجود بر خود او متوقف باشد اصطلاحاً به آن چه میگویند و لازمه آن چیست؟

- (۱) تسلسل - اجتماع ضدّین و محال لست (۲) دور - اجتماع متناقضین و محال است
(۳) تسلسل - اجتماع متناقضین و محال است (۴) دور - اجتماع ضدّین و محال است

زبان انگلیسی عمومی

Part A: Grammar and Vocabulary

Directions: choose the word or phrase (1), (2), (3), or (4) that best completes each sentence. Then mark the correct choice on your answer sheet.

61- hard all day on her project. Mary was exhausted and needed a big rest

- 1) She has worked 2) To have worked 3) Having worked 4) having working

62- The documents from my car were finally found a few days ago (www.iranarze.ir)

- 1) having stolen 2) which stolen 3) stealing 4) stolen

63- if Helen had come to the theme park with us last week, she It. (www.iranarze.ir)

- 1) definitely enjoyed 2) had definitely enjoyed
3) would definitely enjoy 4) would definitely have enjoyed

برای خرید بسته کامل سوالات استخدامی آموزش و پرورش ۱۴۰۰-۱۴۰۱ به همراه پاسخنامه، اینجا کلیک نمایید.

64- A strike by air traffic controllers has begun. Many flight have Been canceled.

- 1) owing to the fact that 2) consequently 3) nevertheless 4) otherwise

65- The minister is pleased to answer all the questions. He has agreed ---- on television

- 1) to be interviewed 2) interviewing
3) being interviewed 4) to have interviewed

66- Both men and women agree that they have had positive results with this brand of footwear. (www.iranarze.ir)

- 1) cooperative 2) penetrative 3) innovative 4) restrictive

67- A number of uninvited guests arrived at the party and were asked to leave the premises.

- 1) promptly 2) productively 3) annually 4) adequately

68- One important Indicator of quality of life is the proportion of one has to spend in order to buy food. (www.iranarze.ir)

- 1) authority 2) precision 3) priority 4) income

69- Websites which allow user to download new books have been accused of copyright law. (www.iranarze.ir)

- 1) undergoing 2) violating 3) undertaking 4) discriminating

70- This method of construction is very convenient because it enables the builder to Constructive units of very small dimensions, such as bricks. (www.iranarze.ir)

- 1) diminish 2) predict 3) utilize 4) enforce

Part B: reading comprehension

Directions: read the following passage and select the choice (1), (2), (3), or (4) that best answers each question. Then mark your answer on your answer sheet.

Attending a good pre-school and primary school has more impact on children's academic progress than their gender or family background. The Institute of Education study found that the quality of teaching children receive is more important than their gender or family income. A high quality pre-school followed by an academically effective primary school gives children's development a significant boost. But children also need a stimulating early years home- learning environment to build upon.

The effective Provision of Pre-School Education project tracked almost 3,000 children from the time they started pre-school until age 11. While all children benefit from a good pre-school, high quality

برای خرید بسته کامل سوالات استخدامی آموزش و پرورش ۱۴۰۰-۱۴۰۱ به همراه پاسخنامه، اینجا کلیک نمایید.

is particularly important for children with special educational needs, those with mothers with low qualifications, or children who come from unstimulating homes.

At primary school, the quality of teaching affects both children's social behavior and intellectual development. The researcher found much variation in the quality of teaching at age 10 and said this had a more powerful impact on children's academic progress than their gender or whether or not they receive free school meals.

Children who attend a more academically effective primary school show better attainment and progress in key stage 2 (ages 7 to 11) than children with similar characteristics who attend a less effective school. But home matters too. A stimulating home learning environment at age 3 to 4 is linked to long-term gains in children's development and has an equal impact to the mother's qualification level

71- Which of the following statements is true about pre-school and primary school education?

- 1) A high quality pre-school alone ensures children's academic progress
- 2) The quality of education plays a more important role than children's gender
- 3) Family background is more important than the quality of education children receive
- 4) An academically effective primary school alone ensures children's academic progress

72- According to the passage, a high quality primary school education is particularly important for all of the following children EXCEPT those (www.iranarze.ir)

- 1) with special educational needs
- 2) with inappropriate social behavior
- 3) who come from unstimulating homes
- 4) whose mothers have low qualifications

73- The word "their" in paragraph 3 refers to.....(www.iranarze.ir)

- 1) researchers
- 2) homes
- 3) mothers
- 4) children

74- The word "attainment" in paragraph 4 is closest in meaning to(www.iranarze.ir)

- 1) achievement
- 2) amazement
- 3) amusement
- 4) adjustment

75-Where does the following sentence best fit into the passage? (www.iranarze.ir)

The higher their parents' qualification levels, the more likely children are to do well at school and be good socially at age 11

- 1) End of paragraph 1
- 2) End of paragraph 2
- 3) End of paragraph 3
- 4) End of paragraph 4

برای خرید بسته کامل سوالات استخدامی آموزش و پرورش ۱۴۰۰-۱۴۰۱ به همراه پاسخنامه، اینجا کلیک نمایید.

اطلاعات عمومی، دانش اجتماعی و قانون اساسی

۷۶- کوه شاه نشین یا شیطان کوه از جاذبه های توریستی کدام شهر است؟ (www.iranarze.ir)

- (۱) چالوس (۲) لاهیجان (۳) امل (۴) تالش

۷۷- نقش برجسته شکل شاه که به دستور ناصرالدین شاه قاجار بر روی سنگی حکاکی شده از آثار تاریخی کدامیک از استان های زیر است؟ (www.iranarze.ir)

- (۱) گیلان (۲) قزوین (۳) مازندران (۴) خراسان شمالی

۷۸- نخستین فیلم صامت ایران چه نام داشت؟ (www.iranarze.ir)

- (۱) آبی و رابی (۲) دختر لر (۳) گاو (۴) هامون

۷۹- آغاز دوره هفتم گفتگوهای برجامی پس از خروج یک جانبه امریکا مقارن با چندمین دوره ریاست جمهوری در ایران بود؟ (www.iranarze.ir)

- (۱) سیزدهم (۲) دوازدهم (۳) یازدهم (۴) دهم

۸۰- از نظر امام خمینی آزادی تا کدام مرحله میتواند پیش رود؟ (www.iranarze.ir)

- (۱) محدودیتی ندارد (۲) حفظ قانون (۳) افشای اسرار (۴) انتقاد

۸۱- در جنگ تحمیلی عراق علیه ایران اولین پل بشکه ای که جهاد تولید کرد روی کدام رودخانه مستقر است؟

- (۱) کارون (۲) بهمنشیر (۳) دجله (۴) فرات

۸۲- در سال ۱۹۹۷ در کدام پیمان کشورهای عضو به منع بکارگیری مین های ضد نفر، انهدام ان ها و جلوگیری از گسترش تولید و فروش یا جابجایی مستقیم و غیر مستقیم به دیگر کشورها متعهد شدند؟ (www.iranarze.ir)

- (۱) اتاوا (۲) ناگویا (۳) روتردام (۴) ژنو

۸۳- منظور از «ساسة العباد» چه کسانی هستند؟ (www.iranarze.ir)

- (۱) حاکمان و برگزیدگان (۲) سیاستمداران (۳) پیامبر و امامان معصوم (۴) فقها

۸۴- بزرگترین تولید کننده گندم در جهان کدام کشور است؟ (www.iranarze.ir)

- (۱) هند (۲) چین (۳) روسیه (۴) امریکا

۸۵- سخن این جنگ گنج است از کدام شخصیت است؟ (www.iranarze.ir)

- (۱) شهید بهشتی (۲) امام خمینی (۳) شهید رجایی (۴) آیت الله خامنه ای

۸۶- سازمان مطالعه و تدوین کتب علوم انسانی دانشگاه با تصویب کدام مرجع تاسیس شد؟ (www.iranarze.ir)

- (۱) هیئت وزیران (۲) شورای عالی اطلاع رسانی (۳) شورای عالی انقلاب فرهنگی (۴) وزیر علوم تحقیقات و فناوری

برای خرید بسته کامل سوالات استخدامی آموزش و پرورش ۱۴۰۰-۱۴۰۱ به همراه پاسخنامه، اینجا کلیک نمایید.

۸۷- کدام سیاست اقتصادی از نتایج سیاست بازار باز است؟ (www.iranarze.ir)

(۱) فروش اوراق مشارکت (۲) افزایش نرخ سپرده قانونی (۳) کاهش مخارج عمومی (۴) افزایش نرخ تنزیل مجدد

۸۸- در جریان بازنگری قانون اساسی در سال ۶۸ تمرکز در مدیریت کدام نهاد زیر موضوع بررسی شورای بازنگری نبوده است؟ (www.iranarze.ir)

(۱) قوه مجریه (۲) قوه قضاییه (۳) قوه مقننه (۴) صدا و سیما

۸۹- طبق قانون اساسی مصوبات جلسات غیر علنی مجلس در کدام صورت برای اطلاع رسانی عمومی منتشر می شود؟

(۱) پس از رفع محدودیت های اضطراری و به تقاضای رئیس جمهور یا هیات ریسه مجلس

(۲) پس از گذشت زمان معین یا تصویب مجمع تشخیص مصلحت نظام

(۳) به تقاضای ده نفر از نمایندگان و تصویب چهارپنجم مجموع نمایندگان

(۴) بعد برطرف شدن شرایط اضطراری

۹۰- نظارت بر حسن اجرای سیاست های کلی نظام به موجب کدام مورد زیر به مجمع تشخیص مصلحت نظام واگذار شده ؟

(۱) تصریح قانون اساسی (۲) فرمان رهبری (۳) اصل تفکیک قوا (۴) حکم قانون عادی

هوش، استعداد تحصیلی و توانمندی های عمومی

راهنمایی در این بخش از آزمون یک متن داده شده است این متن را به دقت بخوانید و پاسخ سوال هایی را که در زیر آن آمده است به توجه به آنچه می توان از متن استنتاج یا استنباط کرد انتخاب کنید و در پاسخنامه علامت بزنید.

"والدین اغلب خودشان را مسئول عاقبت فرزندان در زندگی می دانند، ولی باید بدانند که هرگز این طور نیست و در نهایت، خود فرزند، مسئول انتخاب هایش هست ولی از آنجا که فکر می کنند موفقیت فرزندان به ما بستگی دارد وارد حوزه ای می شویم که به آن تعلق نداریم. به ما آموخته اند که باید به طریقی فرزندمان را کنترل کنیم. بنابراین بیشتر ما بدون فکر کردن وارد حریم آنها می شویم. ما فکر می کنیم که باید به کودکان انگیزه بدهیم تا چیزهای خاصی را در زندگی بخواهند، ولی این کار فقط موجب می شود تا آنها در برابر ما واکنش نشان بدهند. ممکن است که کودک خواسته های شما را انجام بدهد تا از سرزنش های شما رها شود یا حتی شما را راضی کند. ولی این مسئله موجب ایجاد انگیزه در او نمی شود. دوباره تکرار می کنم شما باید برای کودکان خود الهام بخش باشید و آنها را ترغیب کنید، هدف ما یکسان است ما می خواهیم که فرزندانمان انگیزه داشته باشد ولی چیزی که موجب ایجاد تفاوت می شود روش رسیدن به این هدف است.

در واقع بعضی از کودکان نسبت به سایرین انگیزه کمتری دارند. {۱} کودکانی وجود دارند که بسیار باهوش اند ولی در کارنامه شان نمره های پایینی می گیرند {۲} بعضی از آنها با وجود تمام تلاش های معلم و والدین در کلاس می نشینند و به یکجا

برای خرید بسته کامل سوالات استخدامی آموزش و پرورش ۱۴۰۰-۱۴۰۱ به همراه پاسخنامه، اینجا کلیک نمایید.

راهنمایی برای پاسخگویی به سوال های ۹۵ تا ۹۸ لازم است موقعیتی را که در هر سوال مطرح شده مورد تجزیه و تحلیل قرار دهید و سپس گزینه ای را که فکر می کنید پاسخ مناسب تری برای آن سوال است انتخاب کنید هر سوال را با دقت بخوانید و با توجه به مطالب مطرح شده در هر سوال و نتایجی که بیان شده و بیان نشده ولی قابل استنتاج است پاسخی را که صحیح تر به نظر می رسد انتخاب و در پاسخنامه علامت بزنید

۹۵- در یکی از خیابان های اصلی لندن که نشانه گذاری های خیابان و نرده های آهنی برداشته شد تصادفات به اندازه ۴۴ درصد کاهش پیدا کرد. همه می دانند که در دوچرخه سواری پوشیدن کلاه ایمنی اطمینان بخش است، ولی وقتی آلمان استفاده از کلاه ایمنی را برای دوچرخه سواران اختیاری اعلام کرد و تعداد بسیار کمتری از کلاه ایمنی استفاده کردند، میزان مرگ و میر و آسیب دیدگی از کشورهایی مانند انگلستان که استفاده از کلاه ایمنی در آنها اجباری و رایج تر است کمتر شد. کدام مورد در صورتی که صحیح فرض شود، تناقض ظاهری موجود در متن را به بهترین وجه مرتفع میسازد؟

(۱) ایجاد تغییراتی که میزان خطر را بالا میبرند می تواند راهنمایی برای مردم باشد که بیشتر مراقب باشند

(۲) در تصادفات جاده ای عموماً دو طرف وجود دارند که تنها در اندکی از آنها فقط یک طرف مقصر اصلی است

(۳) برخی مردم بدون توجه به الزامات قانونی اصولاً خطر پذیر نبوده و از انجام کارهای خطرناک پرهیز می کنند

(۴) خطر پذیری در مردم وابسته به فرهنگ است و بنابراین میزان آن از کشوری به کشور دیگر متغیر است

۹۶- در مطالعه ای که اخیراً انجام شده است، معلوم شده که همبستگی معنی داری بین مصرف قرص های کلسیم که افراد مسن برای مقابله با پوکی استخوان مصرف می کنند و افزایش احتمال خطر حمله قلبی تا ۳۰ درصد وجود دارد. این نتیجه با توجه به تعداد زیاد سالمندانی که قرص های کلسیم مصرف می کنند تکان دهنده است و سالمندان لازم است برای حذف یکی از عوامل ایجاد کننده حمله قلبی از مصرف قرص های کلسیم خودداری کنند توصیه ای که در متن به عمل آمده است از کدام بابت قابل انتقاد است؟ (www.iranarze.ir)

(۱) مردم زیادی از نتایج مطالعات علمی بی خبر می مانند.

(۲) وجود همبستگی، دال بر وجود رابطه علت و معلول نیست.

(۳) برخی از افرادی که قرص کلسیم مصرف می کنند نشانه ای از عارضه قلبی را گزارش نکرده اند.

(۴) برخی پزشکان با توجه به تهدید جدی پوکی استخوان برای سلامت عمومی سالمندان دست از تجویز این قرص ها برنمی دارند.

۹۷- افراد شادتر، خلاق تر هستند. در مطالعه پژوهشگران دانشگاه نورث وسترن، افرادی که در یک آزمون استاندارد اندازه گیری، امتیاز بالاتری را در سطح خوشحالی کسب کرده بودند، توانستند ۲۵ درصد بیشتر از افراد ناراحت یا عصبانی، سوال های آزمون خلاقیت را حل کنند. حتی یک احساس خوشحالی کوتاه نیز می تواند خلاقیت افراد را به میزان چشمگیری افزایش دهد. در این مطالعه افرادی که فیلم خنده داری از کمدین معروف (الف) را تماشا کرده بودند ۲۰ درصد بیشتر از شرکت کنندگانی که فیلمی ترسناک یا خسته کننده را تماشا کرده بودند به سوال های آزمون خلاقیت پاسخ دادند. کدام مورد در صورتی که صحیح فرض شود، استدلال متن را به بهترین وجه زیر سوال می برد؟ (www.iranarze.ir)

برای خرید بسته کامل سوالات استخدامی آموزش و پرورش ۱۴۰۰-۱۴۰۱ به همراه پاسخنامه، اینجا کلیک نمایید.

۱) آزمونی که برای اندازه‌گیری میزان خلاقیت در مطالعه پژوهشگران دانشگاه نورث وسترن به کار رفته در مراحل آغازین فرایند استاندارد سازی قرار دارد.

۲) روان‌شناسان اعلام کرده‌اند که در صدد تهیه آزمونی برای سنجش خوشحالی هستند که در آن فرضیه‌های جدید در باب خوشحالی لحاظ شده باشد

۳) اختلاف ۲۰ الی ۲۵ درصدی امتیاز در آزمونی که در مطالعه مذکور در متن استفاده شده است اختلافی معنا دار است

۴) هیچ انسانی وجود ندارد که با قطعیت بگوید لحظه‌ای در زندگی نبوده که او احساس غم نداشته باشد

۹۸- جرم و جنایت همه را نگران کرده است، به خصوص والدین را. نظر سنجی‌های اخیر نشان می‌دهند که بزرگ‌ترین ترس ۲۰ درصد از والدین اروپایی این است که بچه‌هایشان توسط افراد غریبه دزدیده شده و یا کشته شوند. با این وجود اغلب والدین به فرزندان خود اجازه می‌دهند بیرون از خانه بازی کنند. به واقع احتمال دزدیده شدن بچه‌ها توسط افراد غریبه یک در ۲۰۰ هزار است و از آن ضعیف‌تر احتمال کشته شدن یک کودک در ماجرای جنایی است که حدود یک در یک میلیون است.

کدام مورد زیر را می‌توان به درستی متن فوق استنباط کرد؟ (www.iranarze.ir)

۱) آمار کودک ربایی نسبت به گذشته کاهش چشمگیری داشته است

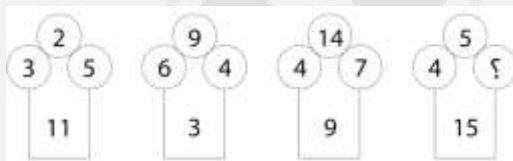
۲) امروزه بازی در محیط خارج از خانه برای رشد اجتماعی کودکان ضروری است

۳) والدین در عمق ضمیر ناخودآگاه خویش، به مبالغه آمیز بودن ترسشان، نوعی آگاهی دارند

۴) بسیاری از والدین، به دلیل مشغله‌های روزمره خود مجبورند چشم خود را بر بسیاری از ترس‌هایشان ببندند

راهنمایی: هر کدام از سوالهای ۹۹ تا ۱۰۵ را به دقت بخوانید و جواب هر سوال را در پاسخنامه علامت بزنید

۹۹- در هر کدام از اشکال زیر بین اعداد ارتباط خاص و یکسانی برقرار است. به جای علامت سوال کدام عدد باید قرار بگیرد؟



۸ (۱)

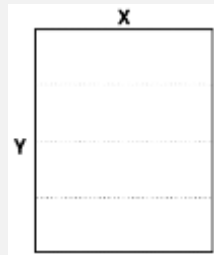

۷ (۲)

۵ (۳)

۲ (۴)

برای خرید بسته کامل سوالات استخدامی آموزش و پرورش ۱۴۰۰-۱۴۰۱ به همراه پاسخنامه، اینجا کلیک نمایید.

۱۰۰- یک مقوای مستطیل شکل در اختیار داریم. اگر این مقوا را با برش های عمودی مطابق شکل زیر به ۶ قسمت مساوی تقسیم کنیم طول هر کدام از مستطیل های کوچک ۷.۵ برابر عرض آنها می شود اگر در ابتدا مقوای اولیه را با برش های افقی به ۴ قسمت مساوی تقسیم می کردیم نسبت اضلاع هر کدام از برش ها کدام می شد؟



(۱) ۳ به ۸

(۲) ۷ به ۲۴

(۳) ۶ به ۱۹

(۴) ۵ به ۱۶

۱۰۱- در یک خانواده ۵ نفری شامل والدین و سه فرزند با فوت والدین میانگین سنی اعضای خانواده که m بوده است، ۱۰ سال کم می شود. میانگین سن پدر و مادر چند سال بوده است؟ (www.iranarze.ir)

(۴) نمی توان تعیین کرد

(۳) $M+7/5$

(۲) $M+15$

(۱) $M+10$

۱۰۲- نسبت دارایی A به B، ۲ به ۳، دارایی B به C، ۴ به ۵ و دارایی C به D، ۶ به ۷ است. D چند برابر A دارایی دارد؟

(۴) $\frac{70}{32}$

(۳) $\frac{35}{16}$

(۲) $\frac{32}{15}$

(۱) $\frac{21}{4}$

۱۰۳- ۶ شمع کاملا مشابه که هر کدام ظرف m دقیقه می سوزد در اختیار داریم. این شمع ها را با چه فاصله زمانی یکسان از همدیگر روشن کنیم تا مدت زمان سپری شده از زمان روشن کردن اولین شمع تا خاموش شدن آخرین شمع دقیقا برابر $3m$ باشد؟ (www.iranarze.ir)

(۴) $\frac{1}{3}m$

(۳) $\frac{1}{4}m$

(۲) $\frac{3}{5}m$

(۱) $\frac{2}{5}m$

۱۰۴- یک چراغ شارژی در هر ۱۱۲ دقیقه ۳۲ درصد از یک باتری پر را مصرف می کند با ۳ باتری پر، چند ساعت می توان از چراغ استفاده کرد؟ (www.iranarze.ir)

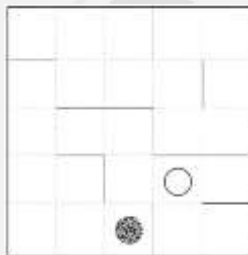
(۴) ۱۷.۵

(۳) ۱۵.۵

(۲) ۱۵

(۱) ۱۲.۵

۱۰۵- در الگوی زیر که مانند پازل است، یک گوی (دایره توپر) و یک بادکنک (دایره توخالی) قرار دارد در هر مرحله الگو ۹۰ درجه در خلاف عقربه های ساعت (پادساعتگرد) می چرخد و پس از کامل شدن چرخش و متعادل شدن گوی بر اثر جاذبه سقوط می کند و بادکنک بر اثر فشار هوا به بالا حرکت می کند و اگر گوی با بادکنک برخورد کند آن را می ترکاند. پس از چندمین مرحله بادکنک می ترکد؟ (www.iranarze.ir)



(۴) هفتم

(۳) هشتم

(۲) نهم

(۱) دهم

برای خرید بسته کامل سوالات استخدامی آموزش و پرورش ۱۴۰۰-۱۴۰۱ به همراه پاسخنامه، اینجا کلیک نمایید.

ایران عرضه مرجع نمونه

سوالات آزمون های استخدامی

مشخصات این بسته:

- دارای پاسخنامه تستی و تشریحی
- اصل سوالات برگزار شده
- با قابلیت پرینت

برای مشاهده بسته کامل سوالات استخدامی آزمون آموزش و پرورش ایران عرضه **اینجا** کلیک نمایید.

توجه!

نمونه سوالات حاضر به صورت اختصاصی توسط فروشگاه کالاهای دانلودی ایران عرضه تهیه و ثبت شده است و هر گونه کپی برداری و انتشار آن توسط افراد سودجو، بدون اخطار قبلی، پیگرد قانونی به همراه خواهد داشت.