



- ۱) توقف کرده و به کودکان اجازه عبور می دهید.
- ۲) قبل از توقف به کودکان اشاره می کنید که عبور کنند.
- ۳) تنها اگر کودکان در حال عبور از خط کشی عابر پیاده هستند توقف می کنید.
- ۴) تنها زمانی که عملاً کودکان در حال عبور از جاده هستند توقف می کنید.

در راه بدون جدول کناری و پارک در سربالایی.....

- ۱) باید فرمان به چپ (خلاف جهت عقربه های ساعت) چرخانده شود.
- ۲) باید فرمان به راست (موافق جهت عقربه های ساعت) چرخانده شود.
- ۳) فرمان مستقیم نگه داشته شود.
- ۴) ۱ و ۳ صحیح می باشد.

در حریم تابلوی ایستادن ممنوع

- ۱) فقط برای سوار و پیاده کردن مسافر، توقف بلامانع است.
- ۲) برای یک لحظه هم توقف نمی کنید.
- ۳) فقط به هیچ وجه نمی توان پارک کرد ولی می توان توقف کرد.
- ۴) بستگی به موقعیت دارد.

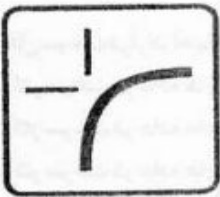
چه عاملی می تواند میزان خطر ناشی از آسیب دیدگی گردن را در موقع تصادف کم کند؟

- ۱) وجود پشت سری
- ۲) کمر بند
- ۳) صندلی مجهز به بالشتک هوا
- ۴) ترمزهای ضد قفل

در یک منطقه مسکونی به یک سرعت گیر نزدیک می شوید شما باید:

- ۱) با همان سرعت به حرکت خود ادامه دهید.
- ۲) از قسمت چپ جاده عبور کنید.
- ۳) به سرعت خود بیافزایید.
- ۴) سریعاً سرعت خود را کاهش دهید.

تابلوی روبرو به چه مفهومی می باشد؟




- ۱) بن بست
- ۲) تقاطع هم سطح در قوس
- ۳) تقاطع فرعی با اصلی در قوس
- ۴) گردش به راست و چپ

حساس و میزان نبودن ترمز پانی ..... و جزء جرایم رانندگی می باشد

- ۱) یک نقص جزئی می باشد
- ۲) بلامانع است
- ۳) نقص فنی نمی باشد
- ۴) نقص فنی محسوب می گردد

در شکل مقابل حق تقدم عبور با کدام وسیله است؟



- ۱) قرمز
- ۲) سفید
- ۳) مشکی
- ۴) همه با هم

۲۲ رنگ راهنمای مسیر در بزرگراهها چیست؟

۲۲

- (۱) زرد
- (۲) سبز
- (۳) سبز و مشکی
- (۴) قرمز

۲۳ تابلوی مقابل به معنای.....

۲۳



- (۱) خیابان یکطرفه
- (۲) فقط عبور مستقیم مجاز
- (۳) راه یکطرفه
- (۴) عبور آزاد

۲۴ مفهوم تابلوی زیر کدام گزینه است؟

۲۴



- (۱) عبور با عرض بیش از ۲ متر ممنوع
- (۲) عبور با ارتفاع بیش از ۲ متر ممنوع
- (۳) عبور یا بار بیش از ۲ تن ممنوع
- (۴) رعایت فاصله

۲۵ تابلوی زیر به چه مفهومی می باشد؟

۲۵



- (۱) پارکینگ
- (۲) پارک سوار
- (۳) پارک ممنوع
- (۴) توقف ممنوع

۲۶ فاصله شما و اتوبوس جلویی در راه خشک چند ثانیه می باشد؟

۲۶

- (۱) ۲ ثانیه
- (۲) ۳ ثانیه
- (۳) ۴ ثانیه
- (۴) ۵ ثانیه

۲۷ تابلوی روبرو یعنی.....

۲۷



- (۱) سبقت کامیون ممنوع
- (۲) ورود ممنوع
- (۳) سبقت ممنوع
- (۴) عبور سواری ممنوع

۲۸ رانندگان حق ندارند هنگام رانندگی.....

۲۸

- (۱) استعمال دخانیات نمایند
- (۲) خوراکی یا آشامیدنی میل نمایند
- (۳) تلفن همراه استفاده نمایند
- (۴) همه موارد

۲۹ تابلوهای منع کننده به رنگ..... و تابلوها در ازادراهها به رنگ..... و در بزرگراهها به رنگ..... می باشد

۲۹

- (۱) قرمز - آبی - سبز
- (۲) آبی - قرمز - سبز
- (۳) قرمز - سبز - آبی
- (۴) سبز - آبی - قرمز

۳۰ تابلوی رعایت حق تقدم کدام گزینه می باشد؟


۳۰



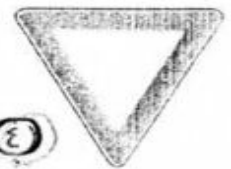
۱)



۲)



۳)



۴)

برای تهیه بسته کامل سوالات آزمون آیین نامه رانندگی گواهینامه پایه سه، اینجا کلیک کنید