



کد محصول
ES377



آخرین بروزرسانی
۳۲ بهمن ۱۴۰۱

سوالات استخدامی

تامین اجتماعی

- ✓ مطابق با منابع آخرین آزمون برگزار شده ۱۴۰۳
- ✓ نسخه رایگان شامل ۲۸۰ سوال (تعداد کمتر و تنها برخی دارای پاسخ)
- ✓ برای تهیه نسخه اصلی، با ۱۲۹۵ سوال به همراه پاسخنامه تشریحی، به سایت ایران عرضه مراجعه نمایید.



لینک های مفید آزمون استخدامی تامین اجتماعی

خرید این محصول	خرید درسینامه عمومی
خرید سوالات استخدامی ۱۰ سال اخیر	خرید سوالات جهاد دانشگاهی (مجری آزمون)
خرید سوالات مصاحبه	خرید درسینامه مصاحبه
منابع آزمون	اخبار آزمون
شبکه های اجتماعی ایران عرضه (فایل های رایگان + تخفیفات هفتگی + اخبار)	

آخرین بروزرسانی ها:

۱۴۰۳/۱۱/۲۳ سوالات موجود آپدیت و طبقه بندی شد

(برای مشاهده هر بخش روی آن بزنید )

فهرست مطالب

❖ فصل اول: حیطه عمومی

◀ بخش اول: سوالات معارف اسلامی

- سوالات اندیشه های سیاسی مقام معظم رهبری {صفحه ۵ - ۵ سوال}
- سوالات معارف اسلامی در آثار شهید مطهری {صفحه ۶ - ۵ سوال}
- سوالات اخلاق اسلامی برگرفته از آثار آیت اله محمد تقی مصباح یزدی {صفحه ۷ - ۵ سوال}
- سوالات احکام و معارف اسلامی {صفحه ۸ - ۵ سوال}

◀ بخش دوم: سوالات زبان و ادبیات فارسی {صفحه ۹ - ۲۰ سوال}

◀ بخش سوم: سوالات ریاضی و آمار مقدماتی {صفحه ۱۲ - ۲۰ سوال}

◀ بخش چهارم: سوالات اطلاعات عمومی، دانش اجتماعی و حقوق اساسی {صفحه ۱۵ - ۲۰ سوال}

◀ بخش پنجم: سوالات زبان انگلیسی عمومی {صفحه ۱۸ - ۲۰ سوال}

◀ بخش ششم: سوالات هوش و استعداد شغلی {صفحه ۲۲ - ۲۰ سوال}

◀ بخش هفتم: سوالات فناوری اطلاعات {صفحه ۲۶ - ۲۰ سوال}

◀ بخش هشتم: سوالات شناخت تامین اجتماعی {صفحه ۲۹ - ۲۰ سوال}

❖ فصل دوم: اصل سوالات آزمون استخدامی سازمان تامین اجتماعی

◀ بخش اول: سوالات آزمون استخدامی سازمان تامین اجتماعی سال ۱۳۹۳ {صفحه ۳۲ - ۲۰ سوال}

◀ ۴ سوال فناوری اطلاعات - ۳ سوال ریاضی - ۳ سوال ادبیات - ۳ سوال معارف - ۳ سوال زبان - ۴ سوال اطلاعات عمومی

◀ بخش دوم: سوالات آزمون استخدامی سازمان تامین اجتماعی سال ۱۳۹۴ {صفحه ۳۵ - ۲۰ سوال}

◀ ۴ سوال فناوری اطلاعات - ۴ سوال ادبیات - ۴ سوال معارف - ۴ سوال زبان - ۴ سوال اطلاعات عمومی

◀ بخش سوم: سوالات آزمون استخدامی سازمان تامین اجتماعی کد ۲۰۰D سال ۱۳۹۹ {صفحه ۳۸ - ۲۰ سوال}

۲) سوال فناوری اطلاعات - ۳ سوال زبان - ۲ سوال ادبیات - ۲ سوال معارف - ۳ سوال دانش اجتماعی - ۲ سوال شناخت تامین اجتماعی - ۳ سوال اطلاعات عمومی - ۳ سوال هوش)

◀ بخش چهارم: سوالات آزمون استخدامی سازمان تامین اجتماعی کد ۲۰۰۴ سال ۱۳۹۹ {صفحه ۴۲ - ۲۰ سوال}

۳) سوال ادبیات - ۳ سوال معارف - ۴ سوال دانش اجتماعی - ۴ سوال شناخت تامین اجتماعی - ۳ سوال اطلاعات عمومی - ۳ سوال هوش)

◀ بخش پنجم: سوالات آزمون استخدامی سازمان تامین اجتماعی سال ۱۴۰۱ {صفحه ۴۶ - ۲۰ سوال}

۴) سوال فناوری اطلاعات - ۴ سوال معارف - ۵ سوال ادبیات - ۲ سوال اطلاعات عمومی - ۵ سوال ریاضی و آمار) ◀ بخش ششم: سوالات آزمون استخدامی سازمان تامین اجتماعی فروردین سال ۱۴۰۳ {صفحه ۴۹ - ۲۰ سوال}

۳) سوال فناوری اطلاعات - ۳ سوال معارف - ۳ سوال ادبیات - ۳ سوال ریاضی - ۲ سوال اطلاعات عمومی - ۲ سوال زبان - ۲ سوال هوش - ۲ سوال شناخت تامین اجتماعی)

در هر بخش، تنها ۱ سوال ابتدایی دارای پاسخنامه تشریحی می باشد. در صورت تمایل به دریافت سوالات بیشتر با جواب تشریحی می توانید این محصول را از سایت ایران عرضه خریداری نمایید.

خرید محصول

❖ فصل اول: حیطه عمومی

◀ بخش اول: سوالات معارف اسلامی

◀ سوالات اندیشه های سیاسی مقام معظم رهبری

۱- چرا شناخت اندیشه های سیاسی رهبر انقلاب ضروری است؟

(۱) فهم سیاست های کلان ایران اسلامی (۲) شناخت بیشتر رهبر

(۳) شناخت اندیشه عالمان دینی (۴) شناخت جایگاه ولایت فقیه

☑ پاسخ سایت ایران عرضه: گزینه ۱. با توجه به ضرورت شناخت اندیشه عالمان دینی و نیز تحلیل این اندیشه ها برای پیشبرد جامعه اسلامی با توجه به جایگاه ولایت فقیه در نظام جمهوری اسلامی ایران و آرای حاکم اسلامی، شناخت اندیشه های سیاسی رهبر انقلاب آیت الله خامنه ای به منظور سیاست های کلان ایران اسلامی ضروری می نماید.

۲- کدام نظر زیربنای دولت لیبرال نوین است؟

(۱) انسان به گونه ای علاج ناپذیر نظم ستیز است.

(۲) به جز قدرت تمام منابع نظم همچنان نا موثر است.

(۳) نظم را با قدرت سنجیده انسان، می توان به دست آورد.

(۴) قدرت را به جای نیکی نشانند.

۳- با شدت گرفتن حرکت انقلاب اسلامی در سال رژیم پهلوی آیت الله خامنه ای را به تبعید کرد.

(۱) ۱۳۵۶-ایران شهر (۲) ۱۳۵۵-زرنند (۳) ۱۳۵۰-ایران شهر (۴) ۱۳۵۶-کرمان

۴- کدامیک، از ویژگی های جامعه ولایت مدار نمی باشد؟

(۱) ولی، در آن جامعه مشخص باشد. (۲) بعضی استعدادها را رشد دهد

(۳) الهام بخش همه نیروها شمرده شود. (۴) مرکزی باشد که فرمان می دهد و قانون را اجرا می کند.

۵- کدام شروط بیانگر نقش درست مردم در فعالیتهای اقتصادی است؟

(۱) با برنامه ریزی دولت باشد. (۲) مراقبت و هدایت دستگاههای مسئول همیشگی باشد.

(۳) کنترل اقتصاد مطلقا در دست مردم باشد. (۴) مورد ۱ و ۲

سوالات معارف اسلامی در آثار شهید مطهری

۱- کدام گزینه نادرست می باشد؟

- ۱) الهیات مسیحی، خداوند را در ردیف علل طبیعی نمی داند.
- ۲) اعتقاد به خدا و محاسبات علمی با یکدیگر ناسازگار می باشند.
- ۳) موفقیت های علوم، شکست الهیات مسیحی به شمار می آید.
- ۴) گزینه ۲ و ۳

☑ پاسخ سایت ایران عرضه: گزینه ۱ ← الهیات مسیحی، خداوند را در ردیف علل طبیعی می داند و به همین جهت، اعتقاد به خدا و محاسبات علمی با یکدیگر ناسازگار میباشند و طبعاً موفقیت های علوم، شکست الهیات مسیحی به شمار می آید . و همین اندیشه موجب گشته است کسانی چون آگوست کنت بگویند: «علم، پدر طبیعت کائنات را از شغل خود منفصل و او را به محل انزوا سوق داد».

۲- امیر مؤمنان از زیر دیوار کج بلند شد، و فرمود: «از قضای الهی به قَدَر الهی فرار می کنم .» این روایت تمثیل از چه موضوعی میباشد؟

- ۱) عوامل معنوی مؤثر در سرنوشت انسان است. ۲) تدبیر و پرهیز از خطر خود عین قضای الهی است .
- ۳) قضا و قَدَر حتمی و غیرقابل تغییر ۴) قضا و قدر مستلزم جبر
- ۳- کدامیک از کیفیتهای زیر را «اثر وضعی گناه» می نامند؟

- ۱) مجازات قرار دادی ۲) عذاب اخروی ۳) مکافات دنیوی ۴) تنبیه و عبرت

۴- در اصطلاحات دینی اسلامی، نیروی تدبیر اگر از گرایش های انسانی و ایمانی جدا شود و در خدمت اهداف مادی و حیوانی قرار بگیرد چه نامیده می شود؟

- ۱) شیطنت ۲) نُکرا ۳) کُزکار ۴) ۱ و ۲

۵- « بَعْضُهُمْ أَوْلِيَاءُ بَعْضٍ » مربوط به کدام نوع ولاء میباشد؟ - طراحی شده توسط ایران عرضه -

- ۱) ولاء امامت ۲) ولاء اثباتی خاص ۳) ولاء اثباتی عام ۴) ولاء محبت یا قرابت

سوالات اخلاق اسلامی برگرفته از آثار آیت اله محمد تقی مصباح یزدی

۱- کدام واژه به معنای صفت نفسانی یا حالتی است که در نفس رسوخ و ثبات داشته است؟

- (۱) خود شناسی (۲) اخلاق (۳) فطرت (۴) رنج گریزی

☑ پاسخ سایت ایران عرضه: گزینه ۲ ← اخلاق به معنای صفت نفسانی یا حالتی است که در نفس رسوخ و ثبات داشته باشد و موجب شود کارهایی متناسب با آن بدون نیاز به فکر و سنجش از انسان صادر شود؛ مانند ملکه سخاوت که حالتی نفسانی است.

۲- از نظر قران کریم فاعلیت در طول فاعلیت است و بر تاثیر همه علل و عوامل به اذن تأمید میکند.

- (۱) انسان - الهی - انسان (۲) الهی - انسان - الهی
 (۳) الهی - انسان - انسان (۴) انسان - الهی - الهی

۳- کدام یک از گزینه‌های زیر جزو ویژگی‌های تقوا نیست؟

- (۱) خطر از سوی عوامل دیگر طبیعت انسان را تهدید کند.
 (۲) خطر از سوی فاعل مختار باشد.
 (۳) خطر متوجه سعادت ابدی انسان باشد.
 (۴) طبق بینش توحیدی انسان هر سود و زیانی را از خدا بداند.

۴- کدام گزینه از نظریه های اخلاق محیط زیست نمی باشد؟

- (۱) نظریه انسان مدار (۲) نظریه خدا محور (۳) نظریه حیوان مدار (۴) نظریه حیات مدار

۵- کدام گزینه از موارد دزدی پنهان است؟

- (۱) خوردن مال یتیم (۲) کم فروشی (۳) قمار (۴) همه موارد

سوالات احکام و معارف اسلامی

۱- در آیه کریمه (کل شیء هالک الا وجهه) مقصود مفسران از وجه الله کدام است؟

- (۱) وجود الهی (۲) ذات الهی (۳) بقا و ابدیت (۴) فنا ناپذیری

❑ پاسخ سایت ایران عرضه: گزینه ۲ در ارتباط با آیه ۸۸ سوره قصص تفاسیر مختلفی وجود دارد که اولین مورد از آنها به این اشاره دارد که خدا جسم نیست و مانند انسانها چهره و صورت ندارد و از آنجا که در زبان عربی واژه «وجه الشئ» در معنی «ذات الشئ» به کار می رود، در بسیاری از آیات قرآن، «وجه الله» به معنای ذات خدا خواهد بود. در تفسیری دیگر نیز گفته شده است که مراد از «وجه»، هر چیزی است که به نوعی منسوب به خداست، از اسماء و صفات تا ادیان و اعمال صالح بندگان و همچنین مقربین درگاه او، از انبیاء، ملائکه، شهدا و مؤمنینی که مشمول مغفرتش شده باشند، همه وجه خدایند.

۲- آیه شریفه «وَعَدَ اللَّهُ الْمُؤْمِنِينَ وَالْمُؤْمِنَاتِ جَنَّاتٍ تَجْرِي مِنْ تَحْتِهَا الْأَنْهَارُ خَالِدِينَ فِيهَا وَمَسَاكِنَ طَيِّبَةً...»، به کدام موضوع اشاره دارد؟

- (۱) معاد، انسان در قیامت روحانی است. (۲) مرگ، پنجره ای به زندگی نو است.
(۳) توصیف بهشت در عالم برزخ است. (۴) معاد، انسان جسمانی و روحانی است.

۳- کدام یک، به ترتیب، جزو «حق رهبر بر مردم» و «حق مردم بر رهبر» است؟

- (۱) استقامت و پایداری در برابر مشکلات - حفظ استقلال کشور
(۲) تلاش برای اجرای احکام و دستورات الهی - حفظ استقلال کشور
(۳) استقامت و پایداری در برابر مشکلات - مشارکت در نظارت همگانی
(۴) تلاش برای اجرای احکام و دستورات الهی - مشارکت در نظارت همگانی

۴- پیامبر خدا، حضرت محمد، به ترتیب حکومتش را بر چه پایه ای بنا کرد و تنها ملاک گرامی بودن انسان ها، کدام است؟

- (۱) برابری و مساوات - تقوا (۲) تساوی و مواسات - تقوا
(۳) برابری و مساوات - ایمان (۴) تساوی و مواسات - ایمان

۵- کدام یک از موارد ذیل بر ضرورت معاد دلالت دارد؟

- (۱) لازمه حکمت الهی (۲) اشاره به پیمایش نخستین انسان
(۳) لازمه عدل الهی (۴) موارد ۱ و ۳

بخش دوم: سوالات زبان و ادبیات فارسی

۱- در عبارت «گو شمع میارید در این جمع که امشب / در مجلس ما ماه رخ دوست تمام است» چند صفت وجود دارد؟

- (۱) یک صفت (۲) دو صفت (۳) سه صفت (۴) چهار صفت

☑ پاسخ سایت ایران عرضه: گزینه ۱ در بیت ذکر شده در صورت سوال که معنی آن به صورت «بگو به مجمع ما شمع

نیارید زیرا که در مجلس ما روی دوست همچون ماه کامل است» است، تنها یک موصوف و صفت وجود دارد و آن (ماه تمام) یا همان ماه کامل میباشد.

۲- معنای کدام واژه، درست نیست؟ (تالیف توسط سایت ایران عرضه)

- (۱) رعب: بیم (۲) رجم: ترجمه کردن

- (۳) شوخ چشم: گستاخ (۴) شرزه: خشمگین

۳- در بیت کدام واژه «ایهام» دارد؟

«چشم چپ خویشتن بر آرم تا روی نبیندت به جز راست»

- (۱) خویشتن (۲) چشم (۳) چپ (۴) راست

۴- در عبارت «بوسهل را صغرا بجنبید و بانگ برداشت» صغرا بجنبیدن کنایه از چیست؟ (تهیه شده توسط سایت ایران عرضه)

- (۱) خشمگین شدن (۲) برخاستن

- (۳) به هم خوردن مزاج (۴) تکان خوردن

۵- معنی غماز چیست؟

- (۱) حيله گر (۲) سارق (۳) سخن چین (۴) اندوهگین

۶- کدام کلمه جمع نیست؟

- (۱) ارواح (۲) ارزاق (۳) اطراف (۴) ابزار

۷- در بیت زیر ترکیب «مرغ حق» استعاره از چیست؟

چون صفیری شنوی از مرغ حق ظاهرش را یادگیری چون سبق

- (۱) عارف روشن ضمیر (۲) عالم خردمند

- (۳) دانشمند ساده اندیش (۴) صوفی ظاهرین

۸- نوشتار کدام گزینه صحیح است؟

- (۱) کج دار و مریض (۲) کژدار و مریض (۳) کژدار و مریض (۴) کج دار و مریض

۹- در مصرع «لاله و گل زخمی خمیازه اند» منظور از «خمیازه» چیست؟

- (۱) بسته شدن (۲) پرپر شدن (۳) شکفته شدن (۴) بویا شدن

۱۰- کدام کتاب از آثار شیخ بهایی نیست؟

(۱) نان و حلو (۲) در اندرون (۳) شیر و شکر (۴) کشکول

۱۱- در مصراع رو به رو، کدام نوع صفت به کار رفته است؟

«هرکه چون قطره شبم نگران افتاده است.»

(۱) مفعولی (۲) فاعلی (۳) نسبی (۴) لیاقت

۱۲- مفهوم کدام بیت با سایر ابیات متفاوت است؟

(۱) ای بسا تیز طبع کاهل کوش که شد از کاهلی سفال فروش

(۲) با بدان کم نشین که صحبت بد گرچه پاکی تو را پلید کند

(۳) از در افتادن شکاری خام صد دیگر در اوفتند به دام

(۴) عیب یک همنشست باشد و بس کافکند نام زشت بر هر کس

۱۳- مفهوم بیت زیر از کدام بیت دریافت میشود؟

(جمال کعبه مگر عذر رهروان خواهد که جان زنده دلان سوخت در بیابانش)

(۱) هست به سر تا هوای کعبه مقصود کوشش راکب خوش است و جنبش مرکب

(۲) آتش گل همیشه بهار است عشق را پروانه را به سیر گلستان چه حاجت است

(۳) خار ار چه جان بکاهد گل عذر آن بخواهد سهل است تلخی می در جنب ذوق مستی

(۴) آن چنان کعبه دل را صنمی ویران ساخت که کس از بهر خدا در پی تعمیرش نیست

۱۴- معنی عبارت زیر کدام است؟

(شاخ املش در خزان عمر و برگ ریزان عیش شکوفه تازه بیرون می آورد)

(۱) در آخرین روزهای زندگیش نیز شاداب و با طراوت بود

(۲) آرزوها و آمال خود را بر باد رفته می دید و خزان زندگیش فرا رسیده بود

(۳) به خاطر اعتدال آب و هوا، درختان در فصل پاییز شکوفه داده بودند

(۴) در ایام کهولت و پیری، آرزوها و اهداف تازه ای به سرش زده بود.

۱۵- به کارگیری کدام یک از علایم نگارشی در عبارت زیر نادرست است؟

پیغمبر - علیه السلام - گفت: «چون آخرالزمان بود؛ مومن را خواب کمتر گردد» (خوابگزاری، ص ۳)

(۱) پرانتز (()) (۲) نقطه ویرگول (؛)

(۳) خط فاصله (-) (۴) دونقطه (:)

۱۶- در کدام مصرع واژه "دو تلفظی" یافت میشود؟

(۱) از نسیم مهرگانی برکنار است ای حکیم (۲) در معرفت دیده ی آدمی است

(۳) سخن با قلم چون قلم راست دار (۴) زین همرهان سست عناصر دلم گرفت

۱۷- سعدی در کدام بیت « گوشه گیری » را سفارش کرده است؟

(۱) نباید سخن گفت ناساخته / نشاید بریدن نینداخته

(۲) درون دلت شهر بند است راز / نگر تانبیند شهر باز

(۳) صدف وار گوهر شناسان راز / دهان جز به لولو نکردند باز

(۴) اگر پای در دامن آری چو کوه / سرت ز آسمان بگذرد در شکوه

۱۸- مفهوم بیت « دود اگر بالا نشیند کسر شان شعله نیست / جای چشم وابرو نگیرد، گر چه او بالاتر است » با کدام بیت

تناسب دارد؟ ایران عرضه

(۱) به هم دانا و نادان کی بود خوش / کجا دمساز باشد آب و آتش

(۲) دل نازک به نگاه کجی آزرده شود / خار در دیده چو افتاد کم از سوزن نیست

(۳) نه هر که صدر نشین شد عزیز شد که غبار / اگر به دیده رسد توتیا نخواهد شد

(۴) خار و سمن هر دو به نسبت گیاست / این خسک دیده و آن توتیاست

۱۹- وقتی کسی کاری را به خوبی و درست شروع نکند و اما پایان آن کار به نتیجه مطلوب و خوشایند برسد از کدام ضرب

المثل استفاده میشود؟

(۱) فلفل نبین چه ریزه، بشکن ببین چه تیزه (۲) شاهنامه آخرش خوشه

(۳) جوجه را آخر پاییز می‌شمرند. (۴) سالی که نکوست از بهارش پیداست.

۲۰- کدام گزینه، با ضرب‌المثل «نوشدارو بعد از مرگ سهراب» ارتباط معنایی و مفهومی ندارد؟

(۱) قبای بعد از عید برای گل منار خوب است.

(۲) علاج واقعه، قبل از وقوع باید کرد.

(۳) آب رفته به جوی باز آید / کارها به از آنکه بود کند.

(۴) چه سود آنکه که ماهی مرده باشد / که باز آید به جوی رفته آبی

بخش سوم: سوالات ریاضی و آمار مقدماتی

۱- با حروف کلمه MAHARAT چند رمز عبور چهار حرفی می‌توان ساخت؟

- (۱) ۱۳۶ (۲) ۱۹۲ (۳) ۲۰۸ (۴) ۲۱۰

پاسخ سایت ایران عرضه: گزینه ۳ ابتدا حالتی را در نظر می‌گیریم که رمز چهار حرف متمایز داشته باشد در اینصورت ۵

حرف داریم و تعداد این حالت ها (با در نظر گرفتن جایگشت آنها) برابر است با: $5! = 4! = 120$

در مرحله بعدی تعداد حالت هایی که ۳ حرف متمایز باشند و یک حرف (A) تکرار شده باشد: $6 * 12 = 72 = \frac{4!}{2}$

و در نهایت تعداد حالت هایی که حرف A سه بار آمده است و یک حرف متمایز وجود دارد. در این حالت تنها ۴ حرف برای

انتخاب میماند که از میان آنها فقط یک مورد را انتخاب می‌کنیم: $4 * 4 = 16 = \frac{4!}{3!}$

حال تمامی حالت ها را جمع می‌کنیم تا کل حالت های ممکن برای رمز ۴ حرفی را به دست آوریم: $120 + 72 + 16 = 208$

۲- اگر مجموعه‌های A و B به ترتیب ۷ و ۱۴ عضو داشته و مجموعه A - B نیز دارای ۳ عضو باشد، مجموعه B - A چند عضو

دارد؟ (متعلق به سایت ایران عرضه)

- (۱) ۷ (۲) ۱۱ (۳) ۱۰ (۴) ۴

۳- در صورتی که برخی از داده‌های آماری در یک سری داده مرتب شده معلوم نباشند، امکان محاسبه کدام پارمتر مرکزی

زیر میسر می‌باشد؟

- (۱) میانگین (۲) مد (۳) میانه (۴) واریانس

۴- چارک اول داده‌های جدول زیر کدام است؟

حدود طبقات	۱ - ۵	۵ - ۹	۹ - ۱۳	۱۳ - ۱۷
فراوانی	۹	۸	۱۱	۱۴

- (۱) $\frac{47}{8}$ (۲) $\frac{43}{4}$ (۳) $\frac{23}{8}$ (۴) $\frac{23}{4}$

۵- اگر ضریب پراکندگی حقوق کارمندان ۷۰ درصد باشد و ۱۰ درصد از حقوق هر کارمند کم کنیم، ضریب تغییرات جدید چقدر

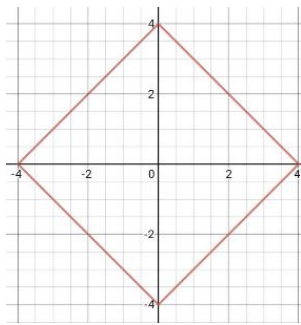
خواهد شد؟

- (۱) ۶۳٪ (۲) ۷۰٪ (۳) ۶۰٪ (۴) ۶۵٪

۶- برای تعدادی داده آماری، انحراف معیار و مجموع مربعات به ترتیب $\sqrt{2}$ و ۷۵۶ است. اگر میانگین برابر ۴ باشد، تعداد

داده ها کدام است؟

- (۱) ۸۴ (۲) ۶۳ (۳) ۴۲ (۴) ۱۲۶



۷- نمودار تابع $|x| + |y| = 4$ نمایش کدام شکل هندسی است؟

(۱) لوزی

(۲) مربع

(۳) متوازی الاضلاع

(۴) مستطیل

۸- اگر $\tan x = \frac{1}{3}$ و $\cos x < 0$ باشد مقدار $\cos x$ کدام است؟

(۱) $\frac{3}{\sqrt{10}}$ (۲) $\frac{3}{\sqrt{5}}$ (۳) $-\frac{9}{10}$ (۴) $-\frac{5}{10}$

۹- عبارت $\frac{(x^2-4x+4) \times (x^3-1)}{(x+1)^3}$ در بازه $(a, -1)$ همواره منفی است، مقدار a کدام است؟

(۱) ۲ (۲) ۰.۲ (۳) ۱ (۴) ۰.۱

۱۰- حسن و ۶ نفر دیگر وارد اتاقی می شوند که در آن ۷ صندلی تعبیه شده است. با کدام احتمال، حسن روی صندلی وسط

می نشیند؟

(۱) $\frac{5}{6}$ (۲) $\frac{6}{7}$ (۳) $\frac{1}{6}$ (۴) $\frac{1}{7}$

۱۱- در تابع $f(x) = -3x^2 + mx - 1$ اگر $f(2) = -5$ باشد، مقدار $f(-1)$ کدام است؟

(۱) ۴ (۲) -۲ (۳) ۲ (۴) -۸

۱۲- اگر $f(x) = 2x + 3$ و $g(x) = x - 4$ باشد، مقدار $\frac{f(g(2))}{g(f(-1))}$ کدام است؟ (ناشر سایت ایران عرضه)

(۱) $-\frac{7}{3}$ (۲) $-\frac{3}{7}$ (۳) $\frac{1}{3}$ (۴) ۳

۱۳- دامنه تابع $f(x) = \frac{\sqrt{x}}{|x|-1}$ کدام است؟

(۱) R (۲) $[0, +\infty) - \{1\}$ (۳) $R - \{\pm 1\}$ (۴) $(-1, 1)$

۱۴- توابع $f = \{(-1, 4), (2, 0), (-3, \frac{3}{2})\}$ و $g = \{(0, \frac{3}{2}), (2, -1), (-1, 1)\}$ مفروض اند، تابع $(f+g)$ کدام است؟

(۱) $\{(-1, 5), (2, -1), (-3, \frac{3}{2})\}$ (۲) $\{(-1, 5), (0, \frac{3}{2}), (2, -1)\}$

(۳) $\{(-2, 5), (2, -1)\}$ (۴) $\{(-1, 5), (2, -1)\}$

۱۵- تعداد جواب های معادله $\frac{x-2}{x+2} + \frac{x}{x-2} = \frac{8}{x^2-4}$ کدام است؟

(۱) صفر (۲) ۱ (۳) ۲ (۴) ۳

۱۶- متغیرهای تصادفی "تیم مورد علاقه" و "وزن داوطلب" به ترتیب از کدام نوع است؟

(۱) کمی پیوسته - کیفی اسمی (۲) کیفی ترتیبی - کمی گسسته

(۳) کیفی اسمی - کمی گسسته (۴) کیفی اسمی - کمی پیوسته

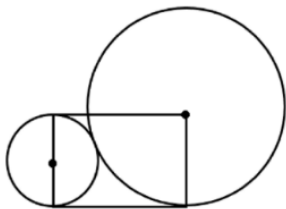
۱۷- اگر a و β ریشه های معادله $32x^2 + 4\sqrt{3}x - 3 = 0$ باشند، مقدار $\frac{a}{\beta}$ (وقتی $a > 0$) چقدر است؟

-2 (۴) $-\frac{1}{2\sqrt{3}}$ (۳) $-2\sqrt{3}$ (۲) $-\frac{1}{2}$ (۱)

۱۸- اگر $f(x) = 3 + \log_2(x+2)$ باشد مقدار $f \circ f(6)$ چقدر است؟

$2 + \log_2^3$ (۴) 6 (۳) 5 (۲) $4 + \log_2^3(1)$ (۱)

۱۹- در شکل زیر شعاع دایره کوچک ۵ سانتی متر است. مساحت مستطیل چند سانتی متر مربع است؟



۱۰۰ (۱)

۲۰۰ (۲)

۲ (۳)

۲۰۰ (۴)

۲۰- به چند طریق، می توان ۷ کارمند را در اتاق های ۱ و ۲ و ۴ نفره جای داد؟

۷۲ (۴) ۱۲۰ (۳) ۱۰۵ (۲) ۹۶ (۱)

بخش چهارم: سوالات اطلاعات عمومی، دانش اجتماعی و حقوق اساسی

۱- سخن این جنگ گنج است از کدام شخصیت است؟

(۱) شهید بهشتی (۲) امام خمینی (۳) شهید رجایی (۴) آیت الله خامنه ای

۲- پاسخ سایت ایران عرضه: گزینه ۴ ← سخن این جنگ یک گنج است از سخنان رهبر معظم انقلاب در جمع اعضاء دفتر ادبیات و هنر مقاومت میباشد

۲- سازمان مطالعه و تدوین کتب علوم انسانی دانشگاه با تصویب کدام مرجع تاسیس شد؟

(۱) هیئت وزیران (۲) شورای عالی اطلاع رسانی

(۳) شورای عالی انقلاب فرهنگی (۴) وزیر علوم تحقیقات و فناوری

۳- کدام سیاست اقتصادی از نتایج سیاست بازار باز است؟ (منبع فروشگاه اینترنتی ایران عرضه)

(۱) فروش اوراق مشارکت (۲) افزایش نرخ سپرده قانونی

(۳) کاهش مخارج عمومی (۴) افزایش نرخ تنزیل مجدد

۴- درگام دوم انقلاب اسلامی مهمترین ظرفیت امیدبخش چیست؟

(۱) نیروی انسانی کارآمد مؤمن و عالم با روحیه جهادی

(۲) جوانان و محققان علمی، فرهنگی و صنعتی

(۳) منابع خام و عظیم زیر زمینی

(۴) جوانان انقلابی

۵- بیشترین افرادی که در بیانیه گام دوم انقلاب است توسط مقام معظم مورد خطاب واقع شده اند، چه کسانی هستند؟

(۱) علمای دینی (۲) دانشمندان و اساتید دانشگاه

(۳) انقلابیون (۴) جوانان

۶- علت ماندگاری شعارهای جهانی انقلاب ایران چیست؟

(۱) انقلابی بودن شمارهای آن (۲) تطابق این شعارها با فطرت بشر در همه عصرها

(۳) نوگرا بودن این شعارها (۴) کسب موفقیت های چهل ساله

۷- کتاب شهریار، اثر کدام نویسنده زیر است؟

(۱) ماکیاولی (۲) کریمی افشین (۳) بهجت تبریزی (۴) ارسطو

۸- آکروپولیس در جهان کنونی، کجاست؟

(۱) انگلیس (۲) ایتالیا (۳) یونان (۴) اسپانیا

۹- پیامبر اسلام، از نوادگان کدام پیامبر اولی الامر هستند؟

(۱) ایوب (ع) (۲) موسی (ع) (۳) عیسی (ع) (۴) ابراهیم (ع)

۱۰- در کدامیک از اصول قانون اساسی پایه‌های اعتقادی نظام جمهوری اسلامی ایران اشاره شده است؟

- (۱) پنجم (۲) دوم (۳) سوم (۴) چهارم

۱۱- حزب منتسب به دولت اسلام گرای ترکیه چه نام دارد؟

- (۱) حزب عدالت و توسعه (۲) حزب مام میهن
(۳) جنبش اخوان اسماعیلی (۴) حزب خلق جمهوری خواه ترکیه

۱۲- کدام نهاد قانونی به رفع اختلاف بین مجلس و شورای نگهبان می پردازد؟

- (۱) مجلس خبرگان (۲) نهاد رهبری
(۳) مجمع تشخیص مصلحت نظام (۴) قوه قضائیه

۱۳- کدام گزینه در مورد اعضای دائم شورای امنیت سازمان ملل متحد صحیح است؟ (تالیف سایت ایران عرضه)

- (۱) آمریکا - انگلستان - فرانسه - چین - آلمان
(۲) آمریکا - انگلستان - فرانسه - چین - روسیه
(۳) آمریکا - انگلستان - فرانسه - چین - هند
(۴) آمریکا - انگلستان - آلمان - هند - روسیه

۱۴- رئیس قوه قضائیه توسط چه کسی یا نهادی انتخاب و منصوب می شود؟

- (۱) مجلس شورای اسلامی (۲) مجلس خبرگان رهبری
(۳) از طریق انتخابات و یا آرای مردم (۴) مقام معظم رهبری

۱۵- دولت و مجلس فعلی چندمین دولت و مجلس جمهوری اسلامی ایران است؟

- (۱) دولت دوازدهم و مجلس یازدهم (۲) دولت دوازدهم و مجلس دوازدهم
(۳) دولت یازدهم و مجلس دهم (۴) دولت دهم و مجلس یازدهم

۱۶- " حفظ صلح و امنیت بین المللی و توسعه روابط دوستانه میان ملل و همکاری در حل و فصل اختلافات بین المللی "

وظیفه کدام سازمان بین المللی است؟

- (۱) دیوان بین المللی دادگستری الهه (۲) سازمان بهداشت جهانی
(۳) سازمان اگو (۴) سازمان ملل متحد

۱۷- حضرت امام خمینی(ره) در وصیت نامه خود چه کسانی را به عنوان "نور چشمان ما و اولیای نعم همه" نام برده اند؟

- (۱) جوانان انقلابی (۲) روحانیون عظام
(۳) رزمندگان اسلام (۴) مستضعفان، محرومین و ستمدیدگان

۱۸- برای استیضاح وزیر، امضاء حداقل چند نماینده مجلس لازم است؟

- (۱) یک چهارم نمایندگان (۲) ده نفر

(۴) یک سوم نمایندگان

(۳) بیست نفر

۱۹- تبعید امام خمینی (ره) از ایران در اعتراض به کدام اقدام شاه صورت گرفت؟

(۲) اصلاحات ارضی

(۱) کاپیتولاسیون

(۴) انقلاب سفید

(۳) انجمن های ایالتی و ولایتی

۲۰- کدام کشور آسیایی به سرزمین هزار لبخند معروف است؟

(۴) کره جنوبی

(۳) هند

(۲) تایلند

(۱) ژاپن



بخش پنجم: سوالات زبان انگلیسی عمومی

1- For instance, under the main entry amicable, two nouns and an adverb are also listed. 'for instance' means

- 1) generally 2) for example 3) extensively 4) put emphasis

۱- بعنوان مثال در زیر ورودی اصلی «amicable» دو اسم و یک قید نیز جای می گیرند. for instance (بعنوان مثال) به معنای است.

- (۱) عموماً (۲) برای مثال (۳) به صورت گسترده (۴) تأکید کردن

☑ پاسخ سایت ایران عرضه: گزینه ۲ ← (for instance و for exmple هر دو به معنای «بعنوان مثال» هستند)

2- It is important to acquaint yourself your library as very first stage in your academic career.

- 1) of 2) on 3) by 4) with

3- The books in the library are According to subjects .

- 1) classify 2) classifies 3) classified 4) classification

4- I've tried those tablets and they haven't done me any (source: iran arze website)

- 1) benefit 2) good 3) better 4) best

5- She had watched birds fly by throwing into the air.

- 1) yourself 2) herself 3) ourselves 4) themselves

6- I've decided that to my boss about the situation.

- 1) speak 2) I'm going to speak
3) I'll speak 4) I'm having

7-Why were there no buses yesterday? Maybe it was the snow or they..... been on strike.

- 1) must have 2) could not have 3) might have 4) can't have

Direction: Read the following passage carefully and answer the questions that follow:

Jesse Owns was one of the world most famous track stars. The newspapers of his day called him "the world's fastest human." This was because he could run faster and jump further than any other man of the time. He was born in 1913. The son of a poor black family with six other brothers and sisters, the first years of his life were very difficult. He was close to death many times during his youth, due to illness. However, the care of his mother and father helped him to pull through each time. He started running and training in school and while in college at Ohio State University he entered a national competition. During

this competition, he set four world records. In 1936, the Olympic Games took place in Germany. This was the Germany of Hitler who did not believe that any race of people was better than the Germans. Jesse won the gold medal for each of the events he entered during the games and became one of the most popular athletes in the world.

8-Hitler

- 1) did not believe that his athletes could win the races
- 2) was in power when the 1936 Olympic Games were held
- 3) resented the people of the German race
- 4) had Jesse train at Ohio State University

9-Jesse Owens's

- 1) was brought up in poverty
- 2) first competed in the Olympic Games
- 3) started to run Because his mother and father pulled him through
- 4) ran faster than anyone could jump

10- According to the passage..... .

- 1) Jesse caused Hitler to worry about his athletes
- 2) Jesse was one of the world's most popular athletes
- 3) Jesse is the only man to have set four world records
- 4) Jesse was the only black athlete to have obtained an Olympic medal

PART B: Reading Comprehension

Direction: choose the number of the answer choice (1), (2), (3) or (4) that best completes the blank. Then mark it on your answer sheet

Passage 1:

Today almost all cars require fuel and many haters would not work without oil. In short more than 85 percent of the global energy consumption is based on fossil fuel sources, i.e. oil, gas and coal. But to get to these valuable resources of our plane, it is necessary to drill deeper and deeper- no easy enterprise. Deep drilling technology (called "downhole drilling" in the field of oil and gas exploration) makes it possible to recover oil and gas from depth of more than 2500 m. By combining downhole drilling with directional

drilling (dynamic position of a deep drill), previously unreachable oil reserves can be opened up, with drilling depth if currently approximately 5000 m and drill lengths of up to 11000 m.

Oil is a limited resource, but is an integral part of our modern way of living. Therefore, in many regions of the world, the black gold is recovered from deep inside the earth. In the USA, Russia, England, China and the Middle East, many oil and gas recovery plants, both onshore and offshore, produce several thousand barrels of petroleum or natural gas every day. Until February 2008, the longest drill hole for oil recovery was 11680 m long. It was drilled in 2007 in the course of opening up the Chayvo oil field offshore from the north -eastern coast of Sakhalin (Russia). This oil field is a approximately 2500 m deep, but it is several kilometers from the coast. These oil reserves are opened up mainly by means of directional from onshore.

11- Which drilling technologies have been mentioned in the passage?

- 1) Downhole drilling and rotary drilling
- 2) Circulation drilling and directional drilling
- 3) Downhole drilling and directional drilling
- 4) Rotary drilling and circulation drilling

12- The word "integral" in paragraph 2 is similar in meaning to:

- 1) explicit
- 2) identical
- 3) essential
- 4) initial

13- Which of the following countries has NOT been mentioned in the passage?

- 1) Venezuela
- 2) Russia
- 3) USA
- 4) England

14- According to the passage, the longest drill hole for oil recovery until February 2008 was

- 1) 11000 m
- 2) 2500 m
- 3) 5000 m
- 4) 11680 m

15- The word "it" in paragraph 2 refers to ... (i r a n a r z e)

- 1) the Chayvo oil field
- 2) the coast
- 3) oil recovery
- 4) the course

16- English is spoken in most of the countries of the world. It is in fact considered an language.

- 1) industrial
- 2) independent
- 3) technological
- 4) international

17- Boston college is a..... university in this city.

- 1) small
- 2) major

3) long

4) careful

18-Boston is in

1) Melbourne

2) South America

3) North America

4) America

19- Today, the weather is than yesterday.

1) bad

2) the worst

3) worst

4) worse

20- If you make one more mistake like this, you your job.

1) would lose

2) will lose

3) would have lost

4) will be losing



بخش ششم: سوالات هوش و استعداد شغلی

۱- فرید بزرگتر از فرداد و فرناز، ولی فرید کوچکتر از فرزاد است. بنابراین به طور ختم می‌توان گفت:

(۱) فرداد بزرگتر از فرناز است. (۲) فرداد کوچکتر از فرناز است.

(۳) فرزاد بزرگتر از فرداد است. (۴) هر دو جواب (۱) و (۲) درست هستند.

☑ پاسخ سایت ایران عرضه: گزینه ۳ ← با توجه به اینکه در توضیحات مسئله در ارتباط با ترتیب سنی فرداد و فرناز چیزی

نگفته شده است لذا نمیتوان در ارتباط با این دو فرد نظر حتمی داد که در اینصورت گزینه های ۱ و ۲ نادرست میباشند و در

پی آن گزینه ۴ نیز نادرست میباشد لذا تنها گزینه درست گزینه ۳ میباشد.

۲- عکس یک عدد با $\frac{1}{4}$ آن برابر است. آن عدد کدام است؟

(۱) ۲ (۲) -۲ (۳) ± ۲ (۴) ۴

۳- سرعت متوسط اتومبیلی ۷۲ کیلومتر در ساعت است. محیط هر چرخ آن تقریباً ۳ متر است. در مدت یک دقیقه حرکت،

هر چرخ چند دور می‌چرخد؟ (منبع ایران عرضه)

(۱) ۴۰۰ (۲) ۲۰۰ (۳) ۶۰۰ (۴) ۲۴۰

۴- اگر مساحت مربع به ضلع a ، برابر مساحت مربع به ضلع b باشد، بین a و b کدام رابطه برقرار است؟

$$a = 0.5b \quad (۱)$$

$$1.0a = 2.5b \quad (۳)$$

$$a = 0.5b \quad (۲)$$

$$2a = b\sqrt{10} \quad (۴)$$

۵- در یک دبیرستان ۱۵۰ نفری تعداد شاگردان کلاس اول ۳۵ نفر، تعداد شاگردان کلاس دوم ۲۵ نفر و تعداد شاگردان

کلاس سوم ۱۰ درصد کل شاگردان است. تعداد شاگردان کلاس چهارم چند درصد کل شاگردان دبیرستان است؟

(۱) ۲۵ (۲) ۵۰ (۳) ۷۵ (۴) ۱۵

۶- در دفترچه اختصاصی آزمون سراسری گروه امتحانی ریاضی و فنی که شامل سه درس ریاضی، فیزیک و شیمی است،

۴۰٪ سوالات مربوط به درس ریاضی، $\frac{1}{3}$ سوالات مربوط به فیزیک و سوالات فیزیک از سوالات شیمی، ۱۰ تا بیشتر است.

مجموعه سوالات فیزیک و شیمی، چه تعداد از سوالات ریاضی در این دفترچه، بیشتر است؟

(۱) ۴۰ (۲) ۳۰ (۳) ۲۰ (۴) ۱۵

راهنمایی: برای پاسخگویی به سوالات، لازم است موقعیتی را که در هر سوال مطرح شده، مورد تجزیه و تحلیل قرار دهید و

سپس گزینه ای را که فکر میکنید پاسخ مناسب تری برای آن سوال است، انتخاب کنید. هر سوال را با دقت بخوانید و با توجه

به مطالب مطرح شده در هر سوال و نتایجی که بیان شده و بیان نشده ولی قابل استنتاج است. پاسخی را که صحیح تر به

نظر میرسند، و در پاسخنامه علامت بزنید.

۱۱- اگر امتیازات C کمتر از امتیازات E شده باشد A از لحاظ امتیازی نفر چندم شده است؟

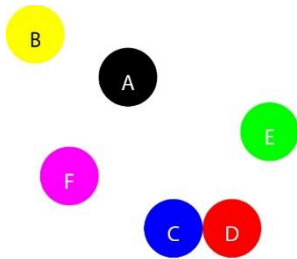
(۱) پنجم (۲) دوم (۳) سوم (۴) چهارم

۱۲- چراغ قوه‌ای به دو باتری نیاز دارد. اگر ۵ باتری داشته باشیم که دو تای آنها خراب باشد، با حداقل چند بار امتحان کردن، می‌توانیم دو باتری خراب را مشخص کنیم؟

(۱) ۳ (۲) ۴ (۳) ۵ (۴) ۶

با توجه به متن زیر، به سؤالات ۱۳ تا ۱۴ پاسخ دهید.

موقعیت جغرافیایی ۶ شهر A، B، C، D، E و F مورد بررسی قرار گرفته و نتایج زیر حاصل شده است.



- A شمال E و غرب C است.

- B شمال A و غرب F است.

- E شمال F و شرق D است.

- F شمال D و غرب A است.

- C جنوب F و غرب D است.

جایگیری شهرها با توجه به اطلاعات داده شده مطابق با تصویر مقابل است که از آن در پاسخ گویی به سؤالات زیر استفاده میکنیم

۱۳- کدام یک از شهرهای زیر در دورترین نقطه شمال غربی قرار گرفته است؟

(۱) B (۲) A (۳) C (۴) D

۱۴- کدام یک از شهرهای زیر، لزوماً باید هم در شمال و هم در غرب E قرار داشته باشد؟

(۱) C و B (۲) D و C (۳) A و B (۴) A و C

** با توجه به متن زیر به سؤالات پاسخ دهید:

پنج خانواده که شامل خانواده سعید، خانواده خاله سعید، خانواده عمه سعید، خانواده دایی سعید و خانواده عموی سعید هستند، توسط پنج خودروی پراید، پژو، سمند، تندر ۹۰ و پیکان (هر خانواده با یک خودرو) به پیک نیک می‌روند و با رعایت محدودیت‌های زیر، در مقصد وارد یک ویلا می‌شوند:

خودروی پراید که متعلق به عموی سعید نمی‌باشد، یا اولین خودرویی است که وارد ویلا می‌شود یا چهارمین خودرو.

خودروی تندر ۹۰ دقیقاً بعد از خودروی عمه سعید و دقیقاً قبل از خودروی دایی سعید وارد ویلا می‌شود.

دقیقاً قبل از خودروی پژو، خودروهای عموی سعید و دایی سعید، به ترتیب وارد ویلا می‌شوند.

خودروی خاله سعید، دقیقاً جلوی خودروی سمند وارد ویلا می‌شوند.

پاسخ نامه زیر کلی بوده و برای حل سؤالات ۶۳ و ۶۴ به کار می‌رود

با در نظر گرفتن مورد ۱ و ۲ میتوان به قطع جدول زیر را رسم کرد.

****	پژو	****	تندر ۹۰	****	****
****	****	دایی سعید	عموی سعید	عمه سعید	****

با در نظر گرفتن اینکه خودرو خاله سعید قبل از سمند وارد میشود و خودرو عمه سعید قطعا مشخص نیست میتوان به گفت خاله سعید یا نفر اول است یا نفر چهارم که در این صورت جدول به دو حالت بعدی رسم میشود

پژو	پیکان / پراید	تندر ۹۰	سمند	پراید / پیکان
سعید	دایی سعید	عموی سعید	عمه سعید	خاله سعید

سمند	پژو	پیکان	تندر ۹۰	پراید
سعید	خاله سعید	دایی سعید	عموی سعید	عمه سعید

۱۵- خودروی تندر ۹۰، به عنوان چندمین خودرو می تواند توسط خانواده سعید وارد ویلا شود؟

(۱) چهارمین خودرو (۲) خانواده سعید نمی تواند تندر ۹۰ داشته باشد

(۳) سومین خودرو (۴) دومین خودرو

۱۶- اگر خودرو خاله سعید، پیکان باشد، خودروی عمه سعید کدام است؟

(۱) پراید (۲) تندر ۹۰ (۳) پژو (۴) سمند

۱۷- با توجه به معادلات روبرو، مقدار x کدام گزینه است؟

$$\begin{cases} 1 + 3 = 6 \\ 2 + 4 = 12 \\ 3 + 5 = 20 \\ 4 + 6 = 30 \\ 5 + 7 = x \end{cases}$$

(۱) ۴۲ (۲) ۴۰ (۳) ۴۴ (۴) ۳۸

۱۸- به جای علامت سوال، چه عددی می توان قرار داد؟

۶ (؟) (۱۸) ۹، ۸ (۶) (۴)

(۱) ۲ (۲) ۳ (۳) ۱ (۴) ۵

۱۹- به هر یک از سه فرزند پدري که نصف دارایی خود را به تساوی بین آنها تقسیم کرده است، چه کسری از کل دارایی پدر می رسد؟

(۱) $\frac{1}{6}$ (۲) $\frac{1}{5}$ (۳) $\frac{1}{4}$ (۴) $\frac{1}{3}$

۲۰- به اجناس یک فروشگاه در مدت یکماه، دوبار تخفیف ۱۰% داده شده است. چند درصد نسبت به قیمت اولیه تخفیف داده شده است؟

(۱) ۲۰% (۲) ۲۱% (۳) ۱۹% (۴) هیچکدام

بخش هفتم: سوالات فناوری اطلاعات

۱- نام فایل در ویندوز حداکثر چند کاراکتر می‌تواند باشد؟ (منبع ایران عرضه)

(۱) ۱۱ (۲) ۲۵۶ (۳) ۸ (۴) محدودیت ندارد

۲- پاسخ سایت ایران عرضه: گزینه ۲ ← نامگذاری پوشه‌ها و فایل‌ها در ویندوز تابع قوانینی است که یکی از آنها به این صورت می‌باشد:

حداکثر تعداد کاراکتر برای نامگذاری یک فایل در ویندوز، ۲۵۶ کاراکتر می‌باشد. همچنین در این نامگذاری نمیتوان از کاراکترهای خاصی همچون علامت سوال، ستاره، دو نقطه و ... استفاده کرد.

۲- حاصل فرمول $\min(\text{sum}(4; 3); \text{Max}(2; 3))$ چیست؟

(۱) ۱۰ (۲) ۷ (۳) ۳ (۴) ۲

۳- خطایی که زمانی اکسل متنی را در فرمول درست تشخیص ندهد ظاهر می‌شود چیست؟

(۱) #value (۲) ##### (۳) #name? (۴) #div/o!

۴- کدام یک از فرمول‌های زیر معدل اعداد درون سلول‌های c4 تا c8 را نمایش می‌دهد؟

(۱) = average (c4: c8)

(۲) = sum (c4: c8)

(۳) = average (c4 ; c8)

(۴) = sum (c4 ; c8)

۵- برای نشان دادن عدد به صورت کسر از کدام گزینه‌ها استفاده می‌شود؟

(۱) Currency (۲) Scientific (۳) Accounting (۴) Fraction

۶- کدام ویژگی زیر فقط در ویندوز ۱۱ وجود دارد؟

(۱) پین کردن برنامه‌ها در منوی استارت

(۲) ایجاد تب جدید در اکسپلورر

(۳) ماشین حساب علمی

(۴) وجود نوتیفیکیشن

۷- در نرم افزار excel 2016 ابزار Sort بر روی کدام مورد اعمال میشود؟ (منبع فروشگاه اینترنتی ایران عرضه)

(۱) داده‌های موجود در سلول‌ها و شماره آنها

(۲) شماره سلول‌ها

(۳) فرمول‌های موجود در سلول‌ها

(۴) داده‌های موجود در سلول‌ها

۸- در حالت استاندارد (پیش فرض) کدام مورد زیر برای نام یک سلول در نرم افزار excel 2016 صحیح است؟

(۱) 2B31 (۲) 2F (۳) D13 (۴) D2B

۹- کدام مورد در خصوص نرم افزار excel 2016 صحیح است؟

(۱) ذخیره فایل‌های book1.xls و book1.xlsx در یک پوشه امکانپذیر است.

(۲) ذخیره دو فایل با نام book1.xls ولی با اندازه (file size) مختلف در یک پوشه، امکانپذیر است.

۳) انتقال یک فایل اکسل از یک پوشه به پوشه دیگر، تاثیری در external reference ندارد
 ۴) حذف یک فایل اکسل باعث حذف تمام reference های موجود در فایل های دیگر میشود.

۱۰- در نرم افزار ACCESS 2016 کدام مورد مشخص کنند نوع اطلاعاتی است که قصد داریم در پایگاه داده ذخیره کنیم؟

Index (۱) Validation text (۲) Smart tag (۳) Data type (۴)

۱۱- در نرم افزار power point 2016 ابزار Comment در کدام سربرگ قرار دارد؟

View (۱) Review (۲) Home (۳) Insert (۴)

۱۲- در نرم افزار Excel 2016 تابع قدر مطلق کدام است؟

ABS(number1 , number2) (۱) ACOS(number1 , number2) (۲)

ABS(number) (۳) ACOS(number) (۴)

شکل زیر، بخشی از یک کاربرگ را در نرم افزار Excel نشان می دهد،

	A	B	C	D	E	F	G	H
۱	name	score 1	score 2	results				
۲	richard	93	80					
۳	jennifer	60	91	pass				
۴	james	58	75	fail				
۵	lisa	79	94	pass				
۶	sharon	41	33	fail				
۷								

۱۳- حاصل سلول D2، کدام است؟

#NAME? (۱)

Pass (۲)

#Value! (۳)

Fail (۴)

۱۴- اگر تابع AND را به QR تغییر بدهیم، تعداد Fail در ستون D کدام است؟

۱ (۴) ۲ (۳) ۳ (۲) ۴ (۱)

۱۵- کدام مورد، برای چاپ اسلایدها در نرم افزار PowerPoint 2016 استفاده می شود؟

Ctrl + P (۱) Shift + P (۲) Ctrl + S + P (۳) Shift + S + P (۴)

۱۶- در نرم افزار PowerPoint 2016، از کلید Escape برای کدام یک از اهداف زیر استفاده می شود؟

افزودن Animation (۱) خاتمه به Slide Show (۲)

تغییر Time (۳) نمایش Slide Sorter (۴)

۱۷- شکل زیر، بخشی از یک کاربرگ در نرم افزار EXCEL ۲۰۱۳ را نشان می دهد. حذف ردیف ۴ در این کاربرگ، باعث کدام

تغییر در مقدار سلول C1 می شود؟ - ناشر ایران عرضه -

	A	B	C	D	E
۱	۱	۱	۱		
۲	۱	۱			
۳	۱	۱			
۴	۱	۱			
۵					

۱) خطای REEL رخ می دهد

۲) مقدار آن برابر با ۶ می شود

۳) مقدار آن بدون تغییر باقی می ماند

۴) خطای! VALUE رخ می دهد

۱۸- اگر بر روی یک آیکون کلیک کرده و دکمه چپ ماوس را رها نکنیم و آن را به سمت دلخواه خود بکشیم و سپس مجدداً کلید سمت چپ را رها کنیم چه عملی انجام داده ایم؟

Click (۴) Tool Bar (۳) Double Click (۲) Drag and Drop (۱)

۱۹- برای ارسال یک پیام به چندین گیرنده در بین آدرس آن ها از چه علامتی استفاده می شود؟

. (۱) , (۲) :(۳) @ (۴)

۲۰- برای نمایش صفحه پیش فرض مرورگر از کدام گزینه نوار ابزار استاندارد استفاده می کنیم؟

Research (۴) History (۳) Home (۲) Favorites (۱)



بخش هشتم: سوالات شناخت تامین اجتماعی

۱- غرامت دستمزد: به وجوهی اطلاق می شود که

(۱) به منظور اعاده سلامت یا برای جبران نقص جسمانی پرداخت می شود.

(۲) در ایام بارداری به بیمه شده پرداخت می شود.

(۳) هنگام عدم توانایی موقت فرد شاغل به کار و عدم دریافت مزد یا حقوق پرداخت می شود.

(۴) ۲ و ۳

☑ پاسخ سایت ایران عرضه: گزینه ۴ ← غرامت دستمزد: به وجوهی اطلاق می شود که در ایام بارداری، بیماری و عدم توانایی

موقت فرد شاغل به کار و عدم دریافت مزد یا حقوق به حکم این قانون به جای مزد یا حقوق به بیمه شده پرداخت می .گرد.

۲- عبارت است از وجهی که طبق شرایط مقرر در این قانون به منظور جبران قطع تمام یا قسمتی از درآمد او و در صورت

فوت او برای تامین بازماندگان وی به آنان پرداخت می شود.

(۱) کمک عائله مندی (۲) مستمری (۳) از کار افتادگی جزئی (۴) از کار افتادگی کلی

۳- کدام گزینه تعریف صحیحی از برون سپاری است؟

(۱) نظارت بر عدم اشتغال مقرر بگیران بیکاری

(۲) کاهش و تقلیل امور تصدی گری در عرصه ارائه خدمات و احاله آن به بخش خصوصی

(۳) چاپ، تعویض و صدور دفاتر درمانی و تحویل آن

(۴) انجام بخشی از فرآیند «تشکیل پرونده مطالبات کارگاهی» توسط کار گزارهای رسمی

۴- کدام گزینه از اقسام مشمول کسر حق بیمه است؟

(۱) پاداش نهضت سوادآموزی

(۲) حق اولاد

(۳) مستمری های بازنشستگی، از کارافتادگی و فوت

(۴) باز خرید ایام مرخصی

۵- دولت به منظور کمک به صندوق تامین اجتماعی به عنوان کمک به سازمان پرداخت می نماید.

(۱) ۳% (۲) ۵% (۳) ۷% (۴) ۱۰%

۶- ضمانت نامه صادره توسط بانک در چند نسخه تهیه می شود؟

(۱) ۲ (۲) ۳ (۳) ۴ (۴) ۵

۷- حق بیمه قیمت تجهیزات وارده از خارج از کشور که پیمانکاران از طریق گشایش اعتبار خریداری می نمایند بر اساس کدام

ماخذ محاسبه می شود؟ (iranarze)

(۱) به مأخذ ۲۱ درصد ناخالص کارکرد به اضافه ۹/۱ آن به عنوان بیمه بیکاری

(۱) مقومی مکانیزه (۲) مقومی دستی (۳) کسورات (۴) صحت سنجی

۱۵- کدام گزینه آخرین مرحله مقومی مکانیزه می باشد؟

(۱) تحویل به واحد رسیدگی (۲) رسیدگی و مقومی نسخ

(۳) ثبت کارشناسی (۴) تهیه گزارش ها

۱۶- کدامیک از گزینه های زیر در خصوص برقراری مستمری از کار افتاده کلی ناشی از کار در نظر گرفته نمی شود؟

(۱) مستمری از کار افتادگی جزئی ناشی از کار (۲) غرامت مقطوع نقص عضو

(۳) سوابق بعد از تاریخ تحقق از کار افتادگی (۴) همه موارد

۱۷- هیات حل اختلاف مرجع تجدید نظر دارای چند عضو است؟

(۱) ۳ (۲) ۵ (۳) ۶ (۴) ۹

۱۸- کمک هزینه مسکن به چه کسی تعلق نمیگیرد؟

(۱) بیمه شده گان مشغول به کار (۲) مستمری بگیران بازنشسته

(۳) از کار افتاده کلی (۴) بازماندگان

۱۹- در چه صورتی فرد مشمول بیمه استحقاق غرامت نقص مقطوع را خواهد داشت؟

(۱) هر گاه درجه کاهش قدرت کار بیمه شده کمر از ۱۰٪ باشد.

(۲) اگر درجه کاهش قدرت بیمه شده بین ۱۰ تا ۳۳٪ بوده و موجب آن حادثه ناشی از کار باشد.

(۳) چنانچه میزان کاهش قدرت کار بیمه شده بین ۳۳ تا ۶۶ و به علت حادثه ناشی از کار باشد.

(۴) هر گاه درجه کاهش قدرت کار بیمه شده ۶۶ و بیشتر باشد.

۲۰- کارگر مستعفی تا چه مدت پس از درخواست استعفا مکلف به ادامه کار است؟

(۱) ۱ ماه (۲) ۲ ماه (۳) ۳ ماه (۴) ۶ ماه

❖ فصل دوم: اصل سوالات آزمون استخدامی سازمان تامین اجتماعی

◀ بخش اول: سوالات آزمون استخدامی سازمان تامین اجتماعی سال ۱۳۹۳

◀ فناوری اطلاعات و مهارت های هفتگانه I.C.D.L


۱- اگر بخواهید در یک سند WORD، بالای صفحه یک نوشته ثابت ظاهر شود، چگونه عمل می‌کنید؟

(۱) استفاده از Table (۲) استفاده از Text Box


(۳) استفاده از Header (۴) کپی کردن نوشته موردنظر بالای هر صفحه

☑ پاسخ سایت ایران عرضه: گزینه ۳ ← برای نوشتن سر صفحه باید از بخش insert قسمت header استفاده نمود.

۲- یک جدول در یک صفحه از یک سند word قرار داده‌اید. جهت محوسازی خطوط جدول، از کدام ابزار زیر، کمک می‌گیرید؟



(۴)



(۳)



(۲)



(۱)

۳- اگر بخواهید در یک سند، Word، در انتهای آخرین خط سند قرار بگیرید، از ترکیب کلید Ctrl با کدام یک از کلیدهای میانبر

زیر، استفاده می‌کنید؟ (iranarze)

(۱) End (۲) Enter (۳) Page down (۴) Tab

۴- برای وارد کردن ، از کدام ابزار زیر، کمک می‌گیرید؟

(۱) Hyperlink (۲) Symbol (۳) Object (۴) Word Art

◀ ریاضی و آمار مقدماتی

۵- اگر $F = \{(1,3)(3,-4)(0,-1)(5,6)\}$ و $g = \{(1,-1)(5,0)(-3,-2)\}$ باشد، مقدار fog (5) کدام است؟

(۱) ۶ (۲) ۲ (۳) -۴ (۴) -۱

۶- حاصل عبارت $6\sqrt[3]{6}$ \log_{316} کدام است؟

(۱) $\frac{4}{9}$ (۲) $\frac{2}{9}$ (۳) $\frac{2}{3}$ (۴) $\frac{1}{3}$

۷- اگر عرض رأس سهمی $y = x^2 - 2x - 3a$ برابر ۱۶ - باشد، سهمی، محور x ها را در کدام نقاط قطع می‌کند؟

(۱) ۲، -۳ (۲) ۲، -۲ (۳) ۳، -۵ (۴) ۳، -۵

◀ زبان و ادبیات فارسی و آیین نگارش

۸- از نظر نگارش فارسی، به‌کاربردن کدام کلمه، درست است؟

(۱) پیشنهادات (۲) تأثیرات (۳) فرمایشات (۴) گزارشات

۹- در عبارت زیر، قبل از «باشکوه و عظمتی» کدام نشانه را باید گذاشت؟

«غروب ده در کویر با شکوه و عظمتی به یادماندنی فرا می‌رسد.»

(۱) دو نقطه (۲) نقطه (۳) نقطه ویرگول (۴) ویرگول

۱۰- وزن شعری در کدام مورد، با دیگر گزینه‌ها متفاوت است؟

(۱) به کمند سر زلفت نه من افتادم و بس که به هر حلقه زلف تو گرفتاری هست

(۲) پیرزنی را ستمی درگرفت دست زد و دامن سنجر گرفت

(۳) خانه من جست که خونی کجاست؟ ای شه! از این بیش زبونی کراست؟

(۴) کای ملک آزرم تو کم دیده‌ام وز تو همه ساله ستم دیده‌ام

معارف اسلامی

۱۱- آیه شریفه (و ان علیکم الاحافظین کراماً کاتبین یعلمون ما تفعلون) اشاره به کدام یک از شاهدان و گواهان روز حساب و

در کدام مرحله از قیامت دارد؟ (ایران عرضه)

(۱) پیامبران و ائمه معصومین - اول (۲) پیامبران و ائوه معصومین - دوم

(۳) فرشتگان و مأموران الهی - اول (۴) فرشتگان و مأموران الهی - دوم

۱۲- حدیث «دعوت کننده مردم باشید اما نه با زبان، بلکه با پارسایی، تلاش، نماز و نیکی که این رفتارها خود دعوت کننده

هستند.» به کدام مفهوم اشاره دارد؟

(۱) مؤثرترین راه فراخوانی به خیر و نیکی دعوت غیرزبانی است.

(۲) مؤثرترین راه فراخوانی به خیر و نیکی دعوت عملی است.

(۳) دعوت به خیر و نیکی قبل از امر به معروف می‌باشد.

(۴) دعوت به خیر و نیکی در شخص موجب تعهد می‌شود.

۱۳- هدایت ویژه الهی در مورد انسان، به دلیل کدام یک از خصوصیات زیر می‌باشد؟

(۱) روح و فطرت (۲) روح و عقل (۳) عقل و اختیار (۴) فطرت و غریزه

زبان انگلیسی عمومی

Part A. Grammar and vocabulary

Direction: choose the number of the answer choice (1), (2), (3) or (4) that best completes the blank. Then mark it on your answer sheet.

14- A contract of sale goods is a contract the seller transfers or agrees to transfer the property in good to the buyer for a price.

1) that 2) by that 3) that with 4) by which

بخش دوم: سوالات آزمون استخدامی سازمان تامین اجتماعی سال ۱۳۹۴

فناوری اطلاعات و مهارت های هفتگانه I.C.D.L

۱- فرض کنید از طریق کامپیوتر شخصی خود به اینترنت متصل شده اید کدام مورد جهت قطع ارتباط با اینترنت استفاده میشود؟ (iranarze)

Close (۴) No connect (۳) Eject (۲) Disconnect (۱)

پاسخ سایت ایران عرضه: گزینه ۱ ← برای قطع اتصال اینترنت کافیست از disconnect استفاده نماییم. و برای اتصال به یک مودم مد نظر باید از connect استفاده نمود.

۲- در محیط ویندوز برنامه های در حال اجرا توسط کدام نوار نمایش داده می شود؟

Task bar (۴) Menu bar (۳) Title bar (۲) Tool bar (۱)

۳- جهت ایجاد BOOK MARK در یک سند Word 2007 به کدام زبانه مراجعه میکنید؟

referencs (۴) home (۳) insert (۲) page layout (۱)

۴- به منظور درج کردن یک رابطه ریاضی در محیط word 2007 از کدام مورد استفاده میشود؟

Tools>function (۴) insert>equation (۳) insert>function (۲) Tools>equation (۱)

زبان و ادبیات فارسی و آیین نگارش

۵- معنی واژه های «مغبر، غشا» به ترتیب کدام است؟

(۱) تیرگی - درماندگی (۲) تیره بخت - شامگاه

(۳) غبارآلوده - پوشیدگی (۴) تیره - خوراک شبانه

۶- شهری چون بهشت»، «نفرین زمین» به ترتیب از آثار چه کسی است؟

(۱) سیمین دانشور - جلال آل احمد (۲) جلال آل احمد- صادق چوبک

(۳) سیمین دانشور - جمال میر صادقی (۴) جمال زاده - صادق هدایت

۷- در کدام عبارت غلط املایی یافت می شود؟ ایران عرضه

(۱) خطیبی کریه الصوت خود را خوش آواز پنداشتی و فریاد بیهده برداشتی.

(۲) جوانی خردمند از فنون فضایل حظی وافر داشت و طبعی نافر.

(۳) ملوک و اغنیا را در چشم همّت او، شوکت و هیبت نمانده.

(۴) گفتم: عقل نفیست را چه شد تا نفس خسیس قالب آمد؟ زمانی به فکرت فرو رفت.

۸- آرایه های بیت زیر کدامند؟

«هان تا لب شیرین نستاند دلت از دست کان کز غم او کوه گرفت از کمر افتاد»

(۲) تلمیح - مراعات نظیر - اسلوب معادله

(۱) مراعات نظیر - تشبیه - تلمیح

(۴) لف ونشر - تلمیح - مجاز

(۳) کنایه - استعاره - ایهام

معارف اسلامی

۹- معنای «حکیم بودن خداوند» در کدام مطلب آمده است؟

(۱) همه موجودات را یکسان آفریده است. (۲) کلیه اعمال انسان، تحت کنترل اوست.

(۳) هیچ تفاوتی در آفرینش انسانها نیست. (۴) کلیه افعال او هدفدار است.

۱۰- اگر انسان ایمان داشته باشد که در هر حالی خداوند به او علم دارد و همیشه در محضر الهی است،

(۱) حصولی- گرفتار مشکلات و سختی های دنیا نمی شود.

(۲) حضوری- به راحتی از گناهان اجتناب می ورزد.

(۳) حصولی- به راحتی از گناهان اجتناب می ورزد.

(۴) حضوری- گرفتار مشکلات و سختی های دنیا نمی شود.

۱۱- عبارت «لا حول و لا قوة الا بالله العلی العظيم» و «الحمد لله رب العالمین» به ترتیب بیانگر کدام بعد از ابعاد توحید

است؟ { ا یر ا ن ع ر ض ه }

(۱) افعالی-عبادی (۲) ذاتی-ربوبی (۳) افعالی-ربوبی (۴) ذاتی-عبادی

۱۲- کدامیک از صفات خداوند، دو چهره تکوینی و تشریحی دارد؟

(۱) مالکیت (۲) خالق (۳) ربوبیت (۴) ولایت

زبان انگلیسی - عمومی

Part A. Grammar and vocabulary

Direction: choose the number of the answer choice (1), (2), (3) or (4) that best completes the blank. Then mark it on your answer sheet.

13- I wish youhere. (source: iran arze website)

1) Are 2) will be 3) To be 4) Were

14- You can't make a snow manthere's some snow.

1) So that 2) Unless 3) Because 4) If

15- Why did you lend?

1) My jacket to Angela 2) Angela my jacket

3) Angela to my jacket 4) My jacket Angela

16-Do you really think those high -heeled shoes are In the jungle?

- 1) Loose 2) Clear 3) Suitable 4) Ancient

اطلاعات عمومی، دانش اجتماعی و قانون اساسی

۱۷- قیام موسوم به تنباکو در زمان کدام پادشاه قاجار صورت گرفت؟

- (۱) آقامحمدخان (۲) ناصرالدین شاه (۳) مظفرالدین شاه (۴) محمدعلی شاه

۱۸- تنها غزوه ای که حضرت علی به واسطه جانشینی پیامبر (ص) در مدینه در آن شرکت نکرد کدام است؟

- (۱) تبوک (۲) احد (۳) خندق (۴) بدر

۱۹- پر افتخارترین رشته ورزشی ایران در مسابقات المپیک کدام است؟

- (۱) وزنه برداری (۲) تکواندو (۳) کشتی (۴) دومیدانی

۲۰- مرز خسروی بین ایران و کدام کشور است؟ {ایران عرضه}

- (۱) ترکیه (۲) آذربایجان (۳) ترکمنستان (۴) عراق

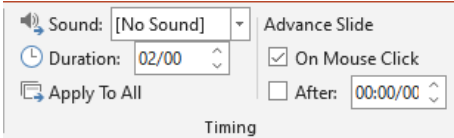


بخش سوم: سوالات آزمون استخدامی سازمان تامین اجتماعی کد ۲۰۰D سال ۱۳۹۹

۱۳۹۹

فناوری اطلاعات و مهارت های هفتگانه I.C.D.L

۱- در نرم افزار PowerPoint 2013، تنظیمات نشان داده شده در شکل زیر، مربوط به کدام ویژگی اسلاید است؟



Design (۲)

Animation (۱)

Transition (۴)

Layout (۳)

پاسخ سایت ایران عرضه: گزینه ۴ ← بخش نشان داده شده در تصویر مرتبط با زمان بندی موجود در منو transition بوده که برای اعمال جلوه های ویژه بین اسلاید ها به کار میرود. وظیفه این بخش از منو transition زمان بندی جلوه ویژه و نحوه انجام این جلوه ویژه میباشد.

۲- در نرم افزار PowerPoint 2013، عمل Copy & Paste یک اسلاید در همان فایل (بدون اینکه عمل دیگری بین آنها انجام شود)، معادل کدام مورد است؟ (iranarze)

Create New (۴)

Move (۳)

Merge (۲)

Duplicate (۱)

زبان انگلیسی-عمومی

Part A: Grammar and Vocabulary

Directions: Choose the word or phrase (1), (2), (3), or (4) that best completes each sentence. Then mark the correct choice on your answer sheet.

3- They live far from city center that they have to take a bus to go shopping.

- 1) too 2) enough 3) very 4) so

4- We have considered your proposal thoroughly;, we are afraid to tell you that we cannot accept it.

- 1) However 2) furthermore 3) otherwise 4) despite

5- one of the first countries to close its borders, Taiwan showed low numbers of Covid-19 deaths in March.

- 1) That is has been 2) Having been 3) It has been 4) To have been

◀ زبان و ادبیات فارسی

۶- نگارش کدام جمله، «غلط» است؟

(۱) من به اندرز شما توجه و آن را به کار خواهم بست

(۲) از خیرخواهی‌های شما نهایت امتنان را دارم

(۳) با نهایت دقت به راهنمایی‌های شما گوش خواهم داد

(۴) نصیحت شما را گوش کرده، مورد توجه قرار می‌دهم

۷- توضیح مقابل همه نشانه‌ها درست است. به جز

(۱) میان دو جمله مستقل که پیوند معنایی دارند. (نقطه ویرگول؛)

(۲) برای بیان استهزا و تمسخر (نشانه عاطفی !)

(۳) به جای واو عطف میان واژه‌های هم‌پایه (ویرگول،)

(۴) اگر بخواهیم چیزی به اصل کلام بیفزاییم. (قلاب [])

◀ معارف اسلامی

۸- انسان در کدام صورت به بزرگ‌ترین سعادت نائل می‌شود؟

(۱) خداشناسی، شناخت پیامبران و سرکوبی غرایز نفسانی

(۲) خودشناسی، کشف فطرت و تعدیل امیال نفسانی

(۳) خداشناسی، کشف فطرت و سرکوبی غرایز نفسانی

(۴) خودشناسی، شناخت پیامبران و تعدیل امیال نفسانی

۹- از آیهی شریفه‌ی « فَأَقِمَّ وَجْهَكَ لِلدِّينِ حَنِيفًا... » کدام مفهوم دریافت می‌شود؟

(۱) استوار بودن دین الهی

(۲) فطری بودن خداپرستی

(۳) فطری بودن خداشناسی

(۴) خالص بودن دین الهی

◀ دانش اجتماعی و حقوق اساسی

۱۰- تعدد «تیره‌ها» در اجتماع و جمعیت کدام مجموعه را می‌سازد؟

(۱) دودمان (۲) قوم (۳) طایفه (۴) ایل

۱۱- در قانون اساسی، وظیفه دولت به تأمین زمینه‌های تحقق کدام یک از حقوق افراد با رعایت اولویت برای آن‌ها که

نیازمندترند، مقید شده است؟

(۱) ایجاد بیمه خاص بیوه‌ها و زنان سالخورده

(۲) تأمین وسایل آموزش و پرورش رایگان

(۳) برخورداری از تأمین اجتماعی

(۴) برخورداری از مسکن متناسب با نیاز

۱۲- در قانون اساسی، عبارت «انفال» اشاره به کدام یک از موارد زیر دارد؟

- (۱) درآمدهای ملی (۲) مالکیت مشروع (۳) مالکیت شخصی (۴) اموال مجهول‌المالک

◀ شناخت تأمین اجتماعی

۱۳- «مشاغل آزاد» و «کارگران مزدی»، به ترتیب دارای کدام نوع بیمه تأمین اجتماعی هستند؟

- (۱) اجباری - اختیاری (۲) اختیاری - اجباری (۳) اجباری-اجباری (۴) اختیاری-اجباری

۱۴- چند نفر از اعضای هیئت امنای سازمان با پیشنهاد وزیر تعاون، کار و رفاه اجتماعی و با تصویب شورای عالی رفاه و تأمین

اجتماعی انتخاب می‌شوند؟ (تنظیم توسط فروشگاه ایران عرضه)

- (۱) ۳ (۲) ۹ (۳) ۶ (۴) ۴

◀ اطلاعات عمومی

۱۵- آبشار شاهان‌دشت در مجاورت قلعه بهمن (فرشته)، از مناظر طبیعی کدام استان است؟

- (۱) لرستان (۲) مازندران (۳) گیلان (۴) کردستان

۱۶- قطعه بابک (جمهور)، از جاذبه‌های گردشگری کدام استان است؟

- (۱) زنجان (۲) کرمانشاه (۳) آذربایجان شرقی (۴) قزوین

۱۷- در دوره کدام نخست وزیر، لایحه قانونی بیمه‌های اجتماعی کارگران برای اولین بار به تصویب رسید؟

- (۱) محمد مصدق (۲) احمد قوام (۳) احمد متین‌دفتری (۴) عبدالحسین هژیر

◀ هوش و توانمندی های عمومی

۱۸- نرخ بهره را می‌توان معادل نرخ تخفیف هم در نظر گرفت. فرض کنید نرخ بهره معین ۵/۲۶ درصد است و شما کالایی

خریده‌اید که فروشنده راضی است در ازای آن کالا، شما یک سال بعد یک میلیون تومان بپردازد. اگر به جای یک سال بعد،

امروز بخواهید این رقم را تسویه کنید، باید حدوداً به اندازه نرخ بهره ۵/۲۶ درصد تخفیف بگیرید؛ یعنی پولی که امروز باید

بپردازید،

- (۱) به نظرتان غیرمنطقی می‌آید. (۲) دیگر ارزش قبل را نخواهد داشت

- (۳) حکم پس‌انداز را برای شما داشته است (۴) کمتر از یک میلیون خواهد بود

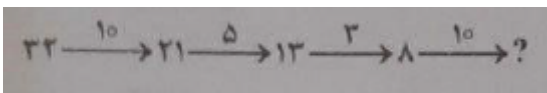
۱۹- در رشته اعداد زیر، از چپ به راست، ارتباط خاصی برقرار است. به جای علامت سؤال، کدام عدد باید قرار بگیرد؟

- (۱) ۵

- (۲) ۱۵

- (۳) ۹

- (۴) ۷



۲۰- شش سکه مطابق شکل زیر، روی یک میز چیده شده‌اند که برخی به «رو» و برخی به «پشت» قرار دارند. هر بار که به یک سکه دست بزنیم. باید تمام سکه‌هایی که در سمت چپ آن قرار دارند نیز برگردانده شوند. حداقل با چند بار تکرار این فرآیند، حالت قرار گرفتن تمام سکه‌ها می‌تواند مشابه شود (همگی به رو یا همگی به پشت)؟



۶ (۱)

۴ (۲)

۳ (۳)

۵ (۴)



بخش چهارم: سوالات آزمون استخدامی سازمان تامین اجتماعی کد ۲۰۰F سال

۱۳۹۹

آئین نگارش زبان فارسی

۱- کدام عبارت، نیاز به ویرایش دارد؟

(۱) نخستین ذکری که سزاوار است، سپاس خداوند یگانه است.

(۲) لازمه همبستگی مردم جهان وحدت نظر است.

(۳) همیشه احتمال سقوط صخره‌های بزرگ در جاده‌های کوهستانی وجود دارد.

(۴) این شوق فراوان حاکی بر آن بود که وی با معنویت سازگاری داشت.

☑ پاسخ سایت ایران عرضه: گزینه ۲ ← جمله از نظر نگارشی نیازمند علامت ویرگول در جمله میباشد. حالت صحیح جمله یه

شکل مقابل است: «لازمه همبستگی مردم جهان، وحدت نظر است.»

۲- کاربرد «را» در کدام عبارت، «غلط» است؟ (iranarze)

(۱) وی خراسان را به تصرف درآورد (۲) کفشی که خریده بودی را پسندیدم

(۳) اموال مردم را با بیدادگری گرفت (۴) دست بچه خردسالی را در دست داشت

۳- نگارش کدام عبارت، ایراد دارد؟

(۱) چون شاهنامه توسط فردوسی سروده شد، بزرگ‌ترین شاهکار ادبی ایران شد.

(۲) دوست خوب کسی است که مانند آینه عیوب تو را به تو بنمایاند.

(۳) باران‌های پراکنده به هوای بهاری لطافت خاص می‌بخشد و آن را دلپذیر می‌سازد.

(۴) کسی در زندگی پیروز است که برای رسیدن به هدف، فرصت‌ها را از دست ندهد.

معارف اسلامی

۴- انسان در کدام صورت، به بزرگ‌ترین سعادت نایل می‌شود؟

(۱) خودشناسی، شناخت پیامبران و تعدیل امیال نفسانی

(۲) خداشناسی، شناخت پیامبران و سرکوبی غرایز نفسانی

(۳) خودشناسی، کشف فطرت و تعدیل امیال نفسانی

(۴) خودشناسی، کشف فطرت و سرکوبی غرایز نفسانی

۵- از آیه شریفه {فَأَقِمْ وَجْهَكَ لِلدِّينِ حَنِيفًا...} کدام مفهوم دریافت می‌شود؟ ایران‌عرضه

(۱) خالص بودن دین الهی (۲) استوار بودن دین الهی

- (۱) هیئت مدیره - هیئت نظارت
(۲) هیئت امنا - هیئت امنا
(۳) مدیر عامل - مدیر عامل
(۴) هیئت مدیره - هیئت امنا
- ۱۴- تفریح بودجه سال قبل به همراه ارزیابی عملکرد سازمان، تا چه زمانی و باید توسط کدام مرجع به هیئت امنا ارائه شود؟
- (۱) اول خرداد - هیئت مدیره
(۲) اول خرداد - مدیر عامل
(۳) پایان خرداد - هیئت مدیره
(۴) پایان خرداد - مدیر عامل

اطلاعات عمومی

۱۵- آبشار شاهان دشت در مجاورت قلعه بهمن (فرشته)، از مناظر طبیعی کدام استان است؟

- (۱) کردستان (۲) لرستان (۳) مازندران (۴) گیلان

۱۶- قلعه بابک (جمهور)، از جاذبه‌های گردشگری کدام استان است؟

- (۱) قزوین (۲) زنجان (۳) کرمانشاه (۴) آذربایجان شرقی

۱۷- در دوره کدام نخست‌وزیر، لایحه قانونی بیمه‌های اجتماعی کارگران برای اولین بار به تصویب رسید؟

- (۱) عبدالحسین هژبر (۲) محمدمصدق (۳) احمد قوام (۴) احمد متین دفتری

هوش و توانمندی های عمومی

راهنمایی: در این بخش از آزمون، یک متن داده شده است. این متن را به دقت بخوانید و پاسخ سؤال‌هایی را که در زیر آن آمده است، با توجه به آنچه می‌توان از متن استنتاج یا استنباط کرد، انتخاب کنید و در پاسخنامه علامت بزنید.

سیاست اجتماعی گرچه از جنبه‌های مختلف با رفاه اجتماعی همسو است، به نوعی که گاه مترادف یکدیگر به کار می‌روند، اما از نظر نوع رویکرد به مسئله و نیز نحوه کارکرد، با رفاه اجتماعی مرزبندی دارد. سیاست اجتماعی از یک سو معطوف به تدبیر و اجراست و به نوعی ابزار پیوند برنامه‌های مختلف اقتصادی، اجتماعی و سیاسی محسوب می‌شود و از سوی دیگر، به عنوان پوششی عام برای برنامه‌های مختلف دولت در عرصه‌های گوناگون به شمار می‌رود. عده‌ای آن را مداخله عامدانه‌ای می‌دانند که دولت برای تحصیل اهداف رفاهی با توزیع مجدد منابع در میان شهروندان انجام می‌دهد. بنابر این تعریف، سیاست اجتماعی از طریق مساوات و عدم تبعیض، حفاظت از افراد آسیب‌پذیر و برنامه‌ریزی مدبرانه زندگی پیگیری می‌شود.

با توجه به تعریف «میجلی» علم سیاست اجتماعی بر سه زمینه متمرکز است: الف) ساختار و ترکیب مفهوم رفاه، ب) توضیح خاستگاه و عملکرد مسائل در اجرای برنامه‌های رفاه اجتماعی و ج) شکل‌دهی و رده‌بندی نظریه‌ها. «تونی فیتزپتریک» نیز در کتاب نظریه رفاه، ضمن آنکه تأکید می‌کند که سیاست اجتماعی یک رشته علمی و دانشگاهی است، اما مرزبندی محسوسی نیز در حیطه کارکردی آن قائل است و معتقد است که تأکید آگاهانه بر تحول اجتماعی، مضمون اصلی سیاست اجتماعی را تشکیل می‌دهد و از سیاست اجتماعی به عنوان روندی نام می‌برد که از طریق آن، رفاه یا بهزیستی جامعه به حداکثر می‌رسد، ضمن آنکه حیطه عملکردی آن را محدود به تولید و توزیع کالاهای عمومی می‌داند. از دید «فیتزپتریک»، سیاست اجتماعی

به نوعی همزاد ایجاد حق رأی و نگاه به دموکراسی نیز به شمار می‌رود. وقتی مشارکت در تعیین قدرت به‌عنوان حق شهروندی تعریف شد و عموم جامعه حق اظهارنظر پیدا کردند، دولت‌ها نیز برای کسب رأی و جلب توجه آرای عمومی، سیاست اجتماعی را در کنار سیاست‌های دیگر اقتصادی، سیاسی و دفاعی قرار دادند و از این‌رو، روند دموکراسی آنان را مجبور به ارائه آن کرد. هنگامی که در دهه ۱۹۷۰ میلادی، با افزایش نرخ بیکاری در سراسر اروپا، معضل بیکاری و به‌تبع آن مسئله اشتغال به‌عنوان مشکل اساسی تلقی شد، این مسئله موجب نگرانی سیاستمداران، اقتصاددانان و سایر بازیگران عرصه سیاست شد و به نظام‌های رفاهی را به‌طور اخص و سیاستگذاری‌های اجتماعی آنان را به انحای مختلف تحت‌تأثیر قرار داد. اما هر کشور براساس رهیافت‌های مخصوص به خود و به‌نحو متفاوت از دیگران، به مقابله با این مسئله پرداخت. کشورهایی نظیر ایتالیا، پرتغال، اسپانیا، یونان، مزایای محدودی در اختیار بیکاران قرار دادند، اما کشورهایی مانند ایرلند، هلند، آلمان، دانمارک و سوئد سیاست‌های اشتغال‌محور گسترده اجرا کردند. مسئله اصلی این بود که هر رژیم رفاهی، براساس همان ویژگی‌های خود، سیاست خاصی را نیز در برخورد با بیکاری دنبال کرده است. یکی از دلایل این تفاوت آن بود که چون این رژیم‌های رفاهی با الگوهای زندگی خانوادگی و همبستگی خانوادگی در تعادل هستند یا تحت‌تأثیر الگوهای مختلف زندگی خانوادگی می‌باشند، نمی‌توانستند از یک الگو پیروی کنند و شیوه‌های زندگی خانواده‌ها بر سیاستگذاری اجتماعی مؤثر بودند.

۱۸- مقصود اصلی متن، کدام است؟

(۱) بررسی مفهومی معاصر در جایگاه تاریخی تکوین آن

(۲) بررسی تأثیر تفاوت جوامع بر جهت‌گیری‌های اجتماعی

(۳) تبیین یک پدیده اجتماعی

(۴) مقایسه دو رهیافت متفاوت در رفاه اجتماعی

۱۹- کدام مورد، به بهترین وجه، نقش پاراگراف ۲ در ارتباط با موضوع اصلی پاراگراف ۱ را توصیف می‌کند؟

(۱) با مقایسه دو نظریه مربوطه، اهمیت آن را برجسته می‌سازد

(۲) با ارائه دو مثال مشخص، جایگاه علمی خاصی به آن می‌بخشد

(۳) با استناد به منابع موثق، آن را طبقه‌بندی می‌کند

(۴) آن را با توسل به برخی منابع مربوطه، تکمیل می‌کند

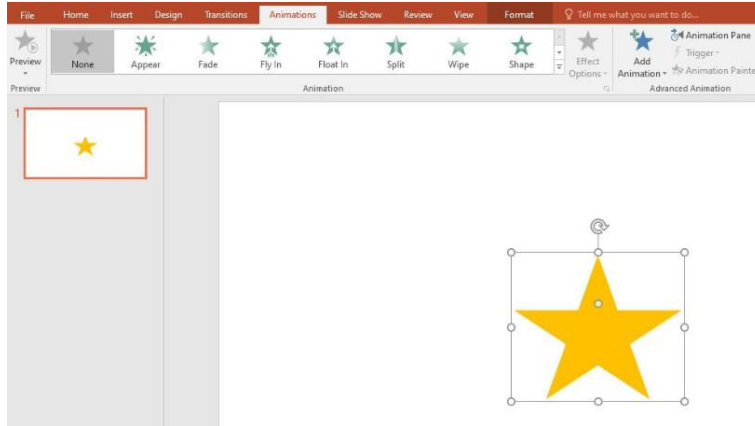
۲۰- از نظر «فیتزپتریک»، کدام مورد، نظر دولت‌ها درباره شروع به اجرای سیاست اجتماعی را به بهترین وجه، توصیف می‌کند؟

(۱) بی‌طرفی عامدانه (۲) پذیرش ناخواسته (۳) سخت ولی شدنی (۴) تردید و تشکیک عمیق

بخش پنجم: سوالات آزمون استخدامی سازمان تامین اجتماعی سال ۱۴۰۱

فناوری اطلاعات

با توجه به تصویر به سوال بعدی پاسخ دهید.



۱- در تصویر نشان داده شده در powerpoint, چند اسلاید وجود دارد؟

- (۱) یک (۲) دو (۳) مشخص نیست (۴) سه

پاسخ سایت ایران عرضه: گزینه ۱ ← تعداد اسلاید های یک فایل پاور پوینت در حالت نمایش نرمال در سمت چپ آن در بخش preview قابل مشاهده میباشد.

۲- اسلاید مورد نظر دارای چه نوع Animation است؟

- (۱) None (۲) Exit (۳) Fade (۴) Emphasis

۳- اگر ستاره موجود در اسلاید بچرخانیم چه اتفاقی در orientation می افتد؟

(۱) در قسمت orientation به صورت portrait عمودی بوده تبدیل به افقی landscape می شود

(۲) در قسمت orientation به صورت افقی می شود.

(۳) هیچ تغییری در orientation رخ نمیدهد.

(۴) در قسمت orientation به صورت افقی landscape بوده و تبدیل به portrait عمودی می شود

۴- کدام آدرس Url صحیح می باشد؟ (iranarze)

- (۱) https://www.google.com/ (۲) http:// google.com

- (۳) https:// google.com/ (۴) https://www.google.com/

معارف اسلامی

۵- آنگاه که افعال فاعل در غایت استواری و کمال و به دور از هرگونه نقصانی مطرح می شوند آن فاعل موصوف به کدام وصف است؟

۱) قدیر (۲) حکیم (۳) عادل (۴) علیم

۶- آیات «و لا نكلف نفسا الا وسعها» و «فلا تظلم نفس شيئا» به ترتیب شامل کدام معنای عدل است؟

۱) تشریحی - جزایی (۲) تشریحی - تشریحی

۳) جزایی - تشریحی (۴) جزایی - جزایی

۷- اگر بگوییم جهان معلول است و هر معلولی نیازمند علت است بنابراین جهان نیازمند علتی است که ان علت یا خداست

یا به خدا می رسد، به کدام موضوع اشاره دارد؟ ایران عرضه

۱) تقریر برهان هدمندی (۲) برهان نظم از موارد جزئی

۳) برهان هماهنگی کل عالم (۴) تقریر برهان علی

۸- صفاتی که از ارتباط ذات الهی با مخلوقات انتزاع می شوند کدام اند؟

۱) صفات فعلی مثل خالق بودن (۲) صفات فعلی مثل قادر بودن

۳) صفات ذاتی مثل خالق بودن (۴) صفات ذاتی مثل قادر بودن

ادبیات فارسی

۹- معنی «گان» در کدام گزینه متفاوت است؟

۱) مهرگان (۲) بردگان (۳) گویندگان (۴) مژگان

۱۰- نگارش کدام عبارت صحیح است؟

۱) چشمانش را باز و به من خیره شد (۲) چشمانش را باز و فوراً بست
۳) چشمانش را باز و به من نگریست (۴) چشمانش را باز و به من نگاه کرد

۱۱- کدام عبارت از نظر نگارشی صحیح است؟

۱) هوشنگ ابتهاج «۱.۵.سایه» مقاله ارزشمندی دارد

۲) جواب داد که: مرا قضای آسمانی در این ورطه کشید

۳) سعدی -رحمه الله علیه- در شیراز مدفون است

۴) جناب استاد، درسی که از شما فرا گرفتم، بسیار آموزنده بود

۱۲- بیت زیر چند جمله دارد؟

«حیلت رها کن عاشقا دیوانه شو دیوانه شو و اندر دل آتش درا پروانه شو پروانه شو»

۱) ۵ (۲) ۷ (۳) ۸ (۴) ۴

۱۳- در بیت زیر علت خود بینی چیست؟

« نبیند مدعی جز خویشتن خویش را که دارد پرده ی پندار در پیش »

۱) بی توجهی به عواقب کارها (۲) پیروی از لذات زندگی

۳) حجاب گمان باطل

۴) احساس بی نیازی نسبت به دیگران

اطلاعات عمومی

۱۴- جالینوس عرب لقب کدام یک از مشاهیر ایران است؟

۱) نصیر الدین طوسی

۲) ابوریحان بیرونی

۳) ابن سینا

۴) محمد زکریای رازی

۱۵- مقرر دائمی دبیر سازمان همکاری اقتصادی (اگو) پایتخت کدام کشور است؟

۱) آذربایجان

۲) پاکستان

۳) ایران

۴) ترکیه

ریاضی و آمار مقدماتی

۱۶- اگر A و B دو مجموعه ناتهی از مجموعه مرجع M باشند، مجموعه $f(B'-A)$ اشتراکش با B با کدام مجموعه برابر است؟

۱) تهی

۲) M

۳) B

۴) A

۱۷- اگر دو خط $ax - 3y = -6$ و $by - x = 4$ همدیگر را در نقطه $(2,2)$ قطع کنند، مقدار $a+b$ کدام است؟

۱) ۳

۲) ۴

۳) ۹

۴) ۲

۱۸- ۴ پرستار و ۳ پزشک به چند طریق میتوانند در یک ردیف بنشینند، به طوری که هیچ دو پرستاری کنار هم قرار نداشته باشند؟

۱) ۷۲

۲) ۳۶

۳) ۱۲

۴) ۱۴۴

۱۹- متغیر گروه خونی اهداکنندگان در یک مرکز اهدای خون، چه نوع متغیری است؟ (متعلق به سایت ایران عرضه)

۱) کیفی ترتیبی

۲) کمی گسسته

۳) کمی پیوسته

۴) کیفی اسمی

۲۰- برای تعدادی داده آماری، انحراف معیار و مجموع مربعات به ترتیب $\sqrt{2}$ و ۷۵۶ است. اگر میانگین برابر ۴ باشد، تعداد داده ها کدام است؟

۱) ۸۴

۲) ۶۳

۳) ۴۲

۴) ۱۲۶

بخش ششم: سوالات آزمون استخدامی سازمان تامین اجتماعی فروردین سال

۱۴۰۳

فناوری اطلاعات مهارت های هفت گانه (ICDL)

۱- کدام یک از ترکیب کلیدهای زیر، اولین کلمه بعد از مکان نما را در نرم افزار word پاک می کند؟

Ctrl + Shift + Back Space (۲)

Ctrl + Shift + Del (۱)

Ctrl + Back Space (۴)

Ctrl + Del (۳)

پاسخ سایت ایران عرضه: گزینه ۳ ← در اکثر نرم افزار های واژه پرداز، کلید Backspace برای پاک کردن قبل از مکان نما و کلید Delete برای پاک کردن مواردی که بعد از مکان نما هستند به کار می رود، همچنین برای پیمایش کلمه به کلمه در نرم افزار ورد میتوان از کلید Ctrl استفاده کرد. لذا برای پاک کردن کلمه ای که بعد از مکان نما قرار دارد از کلید ترکیبی Ctrl + DEL استفاده میکنیم.

۲- ترکیب کلیدهای Ctrl + y یا Redo چه عملی را در نرم افزار word انجام می دهد؟ (iranarze)

(۱) باز گرداندن آخرین عملیات لغو شده (۲) لغو آخرین عملیات انجام شده

(۳) Paste کردن اطلاعات کپی گرفته شده (۴) کپی گرفتن از بخش انتخاب شده متن

۳- در نرم افزار word، برای تنظیم حاشیه های یک صفحه، از کدام بخش رو به رو استفاده میشود؟

(۱) بخش ۱

(۲) بخش ۳

(۳) بخش ۴

(۴) بخش ۶



معارف اسلامی

۴- بر اساس نظر حضرت آیت الله خامنه ای کدام گزینه صحیح نمی باشد؟

(۱) هدف ها و آرمان ها در تشکیل شخصیت آدمی موثر است

(۲) نفس انسان یکی از عوامل مهم اثر گذار بر رفتار انسان است

(۳) جهان بینی هر انسانی در تشکیل شخصیت او تاثیر چندانی ندارد

(۴) فردگرایی یکی از عوامل تعارض و تفرقه در جامعه می باشد

۵- حاکم واقعی در جامعه اسلامی ... می باشد. {ایران عرضه}

(۴) پیامبران

(۳) امامان

(۲) خدا

(۱) رهبر اسلامی

۶- اساسی ترین مسئله دین کدام گزینه زیر میباشد؟

- (۱) توحید (۲) معاد (۳) ولایت (۴) عدالت

زبان و ادبیات فارسی

۷- در این بیت چه صنعت بدیعی دیده می شود؟

«شود کوه آهن چو دریای آب اگر بشنود نام افراسیاب»

- (۱) اغراق (۲) ایهام (۳) التفات (۴) تلمیح

۸- شاهنامه فردوسی در کدام قالب شعری سروده شده است؟

- (۱) قطعه (۲) قصیده (۳) ترکیب بند (۴) مثنوی

۹- کدام یک وزن مثنوی معنوی است؟ (متعلق به سایت ایران عرضه)

- (۱) فعولن فعولن فعولن فعل (۲) مستفعلن فاعلن مستفعلن فاعلن
(۳) فاعلاتن فاعلاتن فاعلن (۴) فاعلاتن مفاعلن فاعلن

ریاضی و آمار مقدماتی

۱۰- اگر $A = \{1, 3, 4, 7\}$ و $B = \{3, 7, 9\}$ باشد آنگاه حاصل $(A - B) \cup (B - A)$ عبارت است از:

- (۱) $\{1, 3, 9\}$ (۲) $\{1, 4, 7\}$ (۳) $\{3, 4, 7\}$ (۴) $\{1, 4, 9\}$

۱۱- اگر $x = 1 + \sqrt{2}$ و $y = -1 + \sqrt{2}$ باشد، حاصل عبارت $\frac{xy^3 + x^3y - 2x^2y^2}{x^3y - xy^3}$ کدام است؟ (تهیه شده توسط سایت ایران عرضه)

- (۱) $-2\sqrt{2}$ (۲) $\frac{\sqrt{2}}{2}$ (۳) $-\frac{\sqrt{2}}{2}$ (۴) $2\sqrt{2}$

۱۲- در تجزیه ی عبارت $x^2 - (x^2 - 20)^2$ کدام عامل ضرب زیر وجود ندارد؟

- (۱) $x-5$ (۲) $x+4$ (۳) $x-1$ (۴) $x+5$

اطلاعات عمومی، دانش اجتماعی و حقوق اساسی

۱۳- طبق اصل قانون اساسی جمهوری اسلامی ایران:

«برخوداری از تأمین اجتماعی از نظر بازنشستگی، بیکاری، پیری، از کار افتادگی، بی سرپرستی، در راه ماندگی، حوادث و

سوانح، نیاز به خدمات بهداشتی درمانی و مراقبت های پزشکی به صورت بیمه و غیره حقی است همگانی»

- (۱) اصل ۲۹ (۲) اصل ۶۴ (۳) اصل ۲۷ (۴) اصل ۳۲

۱۴- شناخت و آگاهی هر فرد نسبت به جهان هستی، چه نام دارد؟

- (۱) ایدئولوژی (۲) اصول عقاید (۳) جهان بینی (۴) علم الاشیاء

◀ زبان انگلیسی عمومی

Vocabulary

Choose the word or phrase) 1) ,) 2) ,) 3) or) 4) that best completes the sentence

لغت

از بین گزینه های (۱)، (۲)، (۳) و (۴) گزینه مناسب را انتخاب کنید که هر جمله را به بهترین شکل تکمیل می کند.

15- I don't know how we are going to the expected surge of immigrants into the country.

- 1) run throught 2) put out 3) cope white 4) take down

16- In Ethiopia, primitive farming practices of natural vegetation have transformed much of the country's highlands bare landscapes, but all destroyed erosion.

- 1) into / by 2) above / of 3) for / with 4) in / under

◀ هوش و استعداد شغلی

۱۷- در یک مستطیل همواره:

(۱) دو ضلع مجاور با هم مساوی اند

(۳) قطرها بر هم عمودند

۱۸- ۵ به $2\frac{3}{4}$ مانند ۲۰ است به:

(۱) $8\frac{3}{4}$ (۲) 11

(۲) دو ضلع مجاور بر هم عمودند

(۴) قطرها با هم زاویه ۴۵ درجه می سازند

(۳) $13\frac{3}{4}$ (۴) 15

◀ شناخت تأمین اجتماعی

۱۹- کدام جمله صحیح است؟

(۱) سازمان تأمین اجتماعی بر اساس قانون یک نهاد عمومی دولتی است که منابع مالی آن از محل حق بیمه ها با مشارکت کارفرما و بیمه شده تأمین می گردد.

(۲) سازمان تأمین اجتماعی متکی به دولت نیست ولی قابلیت ادغام بادیگر سازمان های حمایتی دولتی یا غیر دولتی را دارد.

(۳) سازمان تأمین اجتماعی بر اساس قانون یک نهاد عمومی غیر دولتی است که عمده منابع مالی آن از محل حق بیمه ها با مشارکت کارفرما و بیمه شده تأمین می گردد.

(۴) تکیه گاه اصلی سازمان مشارکت دو جانبیه کارفرمایان و بیمه شدگان می باشند.

۲۰- کدام قانون تنظیم کننده روابط کار و تضمین کننده حقوق کارفرما و کارگر است؟ (تهیه شده توسط ایران عرضه)

(۱) قانون کار (۲) قانون تأمین اجتماعی

(۳) قانون تجارت (۴) قانون بیمه بیکاری