

توضیحات:

- ویژه آموزش و پرورش
- هنرآموز ساختمان
- حیطة تخصصی
- تالیف مرداد ۱۴۰۲

سوالات استخدامی کتاب

نقشه کشی فنی رایانه ای معماری و ساختمان

پایه دهم دوره متوسطه (کد ۲۱۰۲۰۷)

تالیف مرداد ۱۴۰۲

برای دانلود رایگان جدیدترین سوالات هنرآموز ساختمان، اینجا بزنید

برای دانلود رایگان مرجع این سوالات، کتاب نقشه کشی فنی رایانه ای معماری و ساختمان دهم اینجا بزنید

«انتشار یا استفاده غیر تجاری از این فایل، بدون حذف لوگوی ایران عرضه مجاز می باشد»



سوالات استخدامی نقشه کشی فنی رایانه ای معماری و ساختمان دهم

۱_ تمام فرمان های اتوکد در سربرگ های این نوار قرار گرفته که با کلیک روی هر سربرگ میتوان تعدادی از فرمان های آن را دید. (iranarze.ir)

Title Bar (۱) Ribbon (۲) Menu Bar (۳) Toolbar (۴)

۲_ کدام گزینه نادرست است؟ (iranarze.ir)

View Cube : مکعب دید (۱)
Crosshair : نشانگر (۳)
Title Bar : نوار هدایت (۲)
UCS Icon : نشانه محور مختصات (۴)

۳_ در کنترل دید، به ترتیب TOP و 2D Wireframe چه کاربردی دارند؟ (iranarze.ir)

۱) کنترل چگونگی دید ترسیم_چگونگی رنگ آمیزی ترسیم های سه بعدی
۲) کنترل دریچه های دید در فضای مدل_کنترل دید از بالا
۳) تغییر دید در حالت سه بعدی_تغییر رنگ آمیزی دو بعدی
۴) چگونگی دید ترسیم_تغییر دید در حالت دو بعدی

۴_ کدام یک (منبع ایران عرضه) از گزینه های زیر مربوط به صفحه کار اتوکد می باشد؟ (iranarze.ir)

نوار وضعیت (۱) نوار هدایت (۲) خط فرمان (۳) همه موارد (۴)

۵_ از کدام مسیر میتوان نوار ابزار موجود در اتوکد را دید؟ (iranarze.ir)

Command-Ortho on-Auto CAD (۱)
Tools-Toolbars-Auto CAD (۲)
Drive C-Program-Auto CAD (۳)
Tools-Option-Display (۴)

۶_ نشان دهنده دستگاه مختصات است و در حالت سه بعدی محور هم نمایش داده خواهد شد. (iranarze.ir)

Y-UCS Icon (۱) X-limits (۲) Z-UCS Icon (۳) Y-Extents (۴)

۷_ با اجرای کدام یک از متغییر های زیر، نوار ریبون و همه نوار ابزار ها بسته شده و فضای بیشتری برای کار در اختیار کاربر قرار می دهد؟ (iranarze.ir)

ortho (۱) clean screen (۲) object snap (۳) crosshair (۴)

۸_ برای محدود کردن فضا فرمان اجرا شده و در پاسخ به سوال، طول و عرض فضا را با دو نقطه از گوشه محدوده تعیین نمود. (iranarze.ir)

Limits (۱) Zoom (۲) Conter (۳) Pan (۴)

۹_ از میان زیر مجموعه های فرمان Zoom در کدام یک همه ترسیم ها به بزرگترین حالت ممکن در جلوی دید قرار می گیرد؟ (iranarze.ir)

All (۱) Dynamic (۲) Extents (۳) Previous (۴)

۱۰_ مستطیل سبز در اجرای گزینه Dynamic چه نقشی دارد؟ (iranarze.ir)

۱) نشان دهنده پنجره دید در Zoom-All است.
۲) نشان دهنده حرکت نشانگر است.
۳) نشان دهنده تغییر اندازه و جا است.
۴) نشان دهنده پنجره دید در زوم قبلی است.

۱۱_ کدام گزینه نقش Window را بیان می کند؟ (iranarze.ir)

۱) بزرگنمایی با وارد کردن ضریب

۲) با اجرای این گزینه سه مستطیل در صفحه ظاهر میشود.

۳) در این حالت میتوان با انتخاب دو نقطه فضای بین آنها را به بزرگترین حالت دید.

۴) در این حالت نقطه ای به عنوان مرکز دید و عددی به عنوان ارتفاع پنجره دید در نظر گرفته میشود.

۱۲- با هر بار فشردن **Out** چه اتفاقی در صفحه رخ می دهد؟ (iranarze.ir)

- (۱) تغییری ایجاد نمیشود در صفحه
 (۲) صفحه دید دو برابر کوچکتر می شود.
 (۳) اندازه صفحه کمی کوچک می شود.
 (۴) صفحه دید دو برابر بزرگتر می شود.

۱۳- فرمان سبب یک بار بازسازی تمام ترسیم ها می گردد. (iranarze.ir)

- Regen(۱) Pan (۲) Zoom (۳) offset (۴)

۱۴- کدام یک از فرمان های زیر مربوط به ترسیم می باشد؟ (iranarze.ir)

- Line (۱) Ortho (۲) offset (۳) همه موارد (۴)

۱۵- از فرمان **Line** برای چه کاری استفاده می شود؟ (iranarze.ir)

- (۱) ایجاد کپی موازی
 (۲) رسم پاره خط در اندازه و زاویه های مختلف
 (۳) کنترل حرکت موس
 (۴) جلوگیری از حرکت موس

۱۶- ابزاری که در انجام بهتر و راحت تر فرمان ها به ما کمک میکنند، چه نام دارد؟ (iranarze.ir)

- (۱) ترسیم فنی (۲) ترسیم هندسی (۳) نقطه یابی دقیق (۴) کمک رسم

۱۷- برای پاک کردن قسمتی از یک موضوع و جابه جایی صفحه دید از کدام فرمان ها استفاده می شود؟ (iranarze.ir)

- Pan_Line (۱) Osnap_Trime (۲)

- Pan_Trim (۳) Line_ortho (۴)

۱۸- کدام گزینه با توجه به کاربرد هر فرمان صحیح نمی باشد؟ (iranarze.ir)

- (۱) Layer = نقطه یابی دقیق
 (۲) Extend = ادامه دادن قسمتی از یک موضوع
 (۳) Circle = رسم دایره
 (۴) copy = ایجاد کپی از یک یا چند موضوع

۱۹- یعنی یا لایه (تالیف توسط سایت ایران عرضه) جاری است یا ترسیمی در آن قرار دارد. (iranarze.ir)

- (۱) متوازی الاضلاع خاکستری رنگ
 (۲) مثلث آبی رنگ
 (۳) متوازی الاضلاع آبی رنگ
 (۴) مثلث خاکستری رنگ

۲۰- در کدام گزینه کاربرد **Freeze** ، **Lock** و **Plot** به درستی بیان شده است؟ (iranarze.ir)

- (۱) رنگ لایه-قفل کردن لایه-تعیین نوع خط یک لایه
 (۲) ضخامت لایه-منجمد کردن لایه-چاپ کردن یا نکردن لایه ها
 (۳) تغییر نام لایه-رنگ لایه-ضخامت خط لایه
 (۴) قفل کردن لایه-منجمد کردن لایه-چاپ کردن یا نکردن ترسیم های لایه

۲۱- فرمان **LTScale** برای استفاده می شود. (iranarze.ir)

- (۱) جابه جایی یک یا چند موضوع
 (۲) تغییر مقیاس خط های غیر ممتد
 (۳) رسم مستطیل
 (۴) رسم کمائی از دایره

۲۲_ برای رسم طول و ترکمان کدام گزینه را انتخاب می کنیم؟ (iranarze.ir)

Center (۱) Angele (۲) Length (۳) Radius (۴)

۲۳_ با توجه به فرمان Hatch برای ایجاد هاشور های مجزا در محدوده های مختلف از کدام گزینه استفاده می شود؟ (iranarze.ir)

Creat Separate Hatches (۱) Add.Select objects (۲)

Add Pick Point (۳) Associative (۴)

۲۴_ در تمام فرمان های ویرایشی که نیاز به انتخاب موضوع وجود دارد، میتوان از راه های استفاده کرد. (iranarze.ir)

Select (۱) Fence (۲) Window (۳) Last (۴)

۲۵_ کدام یک از گزینه های زیر ترکیبی از دو روش Crossing و Window که در فرمان های ویرایشی پیش فرض است. (iranarze.ir)

Add (۱) Last (۲) Single (۳) BOX (۴)

۲۶_ برای گرد کردن گوشه های داخل نقشه از کدام فرمان استفاده می شود؟ (iranarze.ir)

Mirror (۱) Fillet (۲) Chamfer (۳) Trim (۴)

۲۷_ با زیر گزینه Angle در هنگام استفاده از فرمان Chamfer می توان (iranarze.ir)

(۱) به جای تعیین دو فاصله پخ، فاصله اول را همراه زاویه پخ وارد کرد.

(۲) موضوع انتخاب شده را از حالت انتخاب خارج کرد.

(۳) آخرین موضوع رسم شده را انتخاب کرد.

(۴) گوشه یک مستطیل یکپارچه را همزمان و با یک انتخاب پخ کرد.

۲۸_ پیش فرض فرمان های و براین است که فرمان یک بار اجرا شده و به پایان برسد. (iranarze.ir)

Line_fillet (۱) offset_Trim (۲)

offset_Line (۳) chamfer_fillet (۴)

۲۹_ کدام گزینه برای رسم چند ضلعی منتظم صحیح نیست؟ (iranarze.ir)

(۱) رسم با استفاده از دایره محیطی (۲) رسم با استفاده از دایره محاطی

(۳) رسم با استفاده از محیط چند ضلعی (۴) رسم با داشتن طول یک ضلع

۳۰_ کدام گزینه از روش های ایجاد چیدمان در فرمان Array نمی باشد؟ (iranarze.ir)

(۱) چیدمان روی مسیر (۲) چیدمان طبقه ای

(۳) چیدمان شعاعی (۴) چیدمان سطری و ستونی

۳۱_ تغییر تعداد ستون ها و سطر ها را با واژه های و می شناسیم. (iranarze.ir)

Spacing-Count (۱) Base Point-Associative (۲)

Items-Rows (۳) Rows-Columns (۴)

۳۲_ کدام فرمان برای علامت گذاری در سر تقسیم ها از Point استفاده می کند؟ (iranarze.ir)

Divide (۱) Scale (۲) Polyline (۳) Block (۴)

۳۳_ کدام یک از قسمت های فرمان **Text Style** ، به معنای اندازه ارتفاع متن است؟ (iranarze.ir)

Apply (۱) Font (۲) Height (۳) Width Factor (۴)

۳۴_ در اتوکد پس از رسم نقشه با اندازه های دقیق باید اندازه گیری با کدام فرمان انجام شود؟ (iranarze.ir)

Text (۱) Block (۲) Dimension (۳) Insert (۴)

۳۵_ کدام گزینه بیانگر تنظیم های مربوط به فلش می باشد؟ (iranarze.ir)

Dimension Lines (۱) Extension Lines (۲)

Center marks (۳) Arrowheads (۴)

۳۶_ از فرمان **Dimlinear** برای استفاده می شود. (iranarze.ir)

(۱) اندازه گذاری خطی فقط فاصله عمودی یا افقی

(۲) اندازه گذاری طول کمان

(۳) اندازه گذاری خطی فقط فاصله عمودی یا مورب

(۴) اندازه گذاری شعاع و قطر

۳۷_ برای رسم خط با زاویه مشخص از چه کمک رسمی استفاده می شود؟ (iranarze.ir)

Ellipse (۱) Snap (۲) Polar (۳) Grid (۴)

۳۸_ کارایی کمک رسم **Grid** چیست؟ (iranarze.ir)

(۱) علامت گذاری مرکز و قطر کمان

(۲) تنظیم کردن مقیاس

(۳) هدایت موس در زاویه های مشخص

(۴) تنظیم پرش موس روی نقاط شطرنجی صفحه کار

۳۹_ در فرمان **Cone** برای ترسیم مقطع مخروط به صورت بیضی از کدام گزینه استفاده می شود؟ (iranarze.ir)

Top radius (۱) Ttr (۲) Axisendpoint (۳) Elliptical (۴)

۴۰_ در فرمان **Torus** ، نقش گزینه **Diameter** چیست (منبع سوالات سایت ایران عرضه)؟ (iranarze.ir)

(۱) وارد کردن عدد شعاع یا زاویه

(۲) وارد کردن اندازه قطر به جای اندازه شعاع

(۳) ترسیم منشور های چند ضلعی

(۴) تعیین تعداد اضلاع قاعده هرم

۴۱_ به وسیله کدام یک از گزینه زیر میتوان مدل سه بعدی طراحی کرد؟ (iranarze.ir)

Polysoild (۱) Inscribed (۲) Pyramid (۳) Sides (۴)

۴۲_ کدام گزینه نادرست است؟ (iranarze.ir)

(۱) فرمان **Boundary** برای ایجاد فضای یکپارچه به کار میرود.

(۲) برای رسم منحنی های نامشخص از فرمان **Spline** استفاده میشود.

(۳) فضای بسته ایجاد شده توسط فرمان **Boundary** در لایه ای که جاری است قرار میگیرد.

(۴) در فرمان **View** با انتخاب گزینه **Mode** میتوان جسم سه بعدی تولید شده را تعیین کرد.

۴۳_ راحت ترین مسیر برای اجرای فرمان **View** استفاده از قسمت در سمت چپ صفحه کار است. (iranarze.ir)

Toolbar View (۱) Ribbn View (۲) View controls (۳) command Line (۴)

۴۴_ در تغییر دید، **SE Isometric** و **Parallel** چه مفهومی دارند؟ (iranarze.ir)

(۱) دید پرسپکتیوی-دید موازی

(۲) دید ایزومتریک از جنوب شرقی-دید به صورت موازی

۳) نمای سمت چپ-دید ایزومتریک از شمال غرب

۴) دید نقطه گریز-نمای سمت راست

۴۵- در انواع دید تغییر رنگ، برای رنگ لایه و حالت اسکیس دستی، لازم است چه گزینه هایی انتخاب کنیم؟ (iranarze.ir)

sketchy-shaded (۱) conceptual-Xray (۲)

Hidden-Realistic (۳) Xray-Wireframe (۴)

۴۶- (منبع فروشگاه اینترنتی ایران عرضه)فرمان برای ارتفاع دادن به موضوع های دو بعدی استفاده می شود؟ (iranarze.ir)

View (۴) Visual style (۳) Presspull (۲) Sweep (۱)

۴۷- در تعیین محور چرخش برای موضوع دو بعدی از کدام محور استفاده نمی شود؟ (iranarze.ir)

X (۴) G (۳) Y (۲) Z (۱)

۴۸- ویرایش حجم های سه بعدی با اثر گذاری روی کدام قسمت از حجم انجام می شود؟ (iranarze.ir)

(۱) وجه-حافظه-گوشه (۲) بدنه-صفحه ها-لبه

(۳) ارتفاع-ضخامت-صفحه (۴) قاب-صفحه-گوشه

۴۹- کنترل عملیات اجرایی شامل کدام مورد نمی شود؟ (iranarze.ir)

(۱) کنترل نهایی پس از پایان کار (۲) کنترل قبل از شروع کار

(۳) کنترل صلاحیت نیروی انسانی (۴) کنترل حین انجام کار

۵۰- عبارت زیر مربوط به کدام موضوع است؟ (iranarze.ir)

تمام اندازه ها باید روی نقشه وجود داشته باشند نه اینکه با حدس و گمان تعیین شود.

(۱) کنترل نقشه (۲) کنترل کیفی و انتخاب مصالح

(۳) کنترل عملیات اجرایی (۴) کنترل صلاحیت نیروی انسانی

۵۱- با استفاده از کدام دو کلید +۹ Ctrl میتوانید خط فرمان را ظاهر یا مخفی نمایید. (iranarze.ir)

Ctrl +۰ (۱) Ctrl +۹ (۲) Ctrl +۴ (۳) Ctrl +۸ (۴)

۵۲- در اتوکد ۲۰۱۴ هوشمند بوده و با تایپ یک یا چند حرف، لیستی از فرمانهای دارای این حروف در آن ظاهر شده و میتوانید فرمان مورد نظر خود را

انتخاب نمایید. (iranarze.ir)

(۱) خط فرمان (۲) نوار منو (۳) نوار عنوان (۴) نشانه اتوکد

۵۳- کدام قسمت از ورژن ۲۰۰۹ به بعد برای سرعت بیشتر در دسترسی به فرمانهای اتوکد طراحی شده است. (iranarze.ir)

Navigation Bar (۴) Ribbon (۳) View Cube (۲) Command Line (۱)

۵۴- در کدام بزرگنمایی نقطه ای به عنوان مرکز دید و عددی، به عنوان ارتفاع پنجره دید در نظر گرفته می شود؟ (iranarze.ir)

Radius (۴) Length (۳) Angele (۲) Center (۱)

۵۵- بعد از اجرای کدام دستور نشانگر موس به شکل دست تبدیل شده و با درگ کردن موس صفحه دید جابه جا می گردد. (iranarze.ir)

Navigate (۴) Regen (۳) Zoom (۲) Pan (۱)

۵۶- کدام کلید در صفحه کلید کار اینتر را انجام می دهد؟ (iranarze.ir)

Command Line (۴) Pan (۳) Navigate (۲) Space Bar (۱)

۵۷- با استفاده از فرمان **Dist** میتوان (iranarze.ir)

- (۱) فرمان مستقلی است که میتواند ترسیم را در هر مرحله‌ای که باشد، به مرحله قبل برگرداند.
- (۲) فاصله بین دو نقطه را اندازه گرفت.
- (۳) به یک مرحله عقب برگشت تا چنانچه اشتباهی در انتخاب نقاط داشته ایم آن را اصلاح کنیم.
- (۴) ترسیم را در هر مرحله‌ای که باشد، به مرحله قبل برگرداند.

۵۸- کدام زیر فرمان **Line** نقطه سوم را به نقطه اول وصل کرده و از فرمان خارج می شود؟ (iranarze.ir)

- (۱) Close (۲) Undo (۳) Dist (۴) Redo

۵۹- کدام یک معادل خط دور کار است؟ (iranarze.ir)

- (۱) Continue (۲) Hidden (۳) dot Dash (۴) ۱ و ۳

۶۰- پس از انجام جابه جایی صفحه دید با درگ کردن موس با فشردن کدام گزینه از فرمان خارج می شویم؟ (iranarze.ir)

- (۱) Del (۲) اینتر (۳) ESC (۴) زوم

۶۱- ضخامت خط لایه توسط کدامیک از گزینه های زیر انتخاب می شود؟ (iranarze.ir)

- (۱) Lineweight (۲) Hidden (۳) Dash (۴) Dash dot

۶۲- کدام یک از انواع روش های رسم کمان نیست؟ (iranarze.ir)

- (۱) انتخاب ۳ نقطه روی کمان
 (۲) مرکز کمان
 (۳) زاویه مرکزی کمان
 (۴) عرض وتر کمان

۶۳- بهترین نوار برای تعبیر دید چیست؟ (iranarze.ir)

- (۱) Navigation Bar (۲) Toolbar
 (۳) Crosshair (۴) Status Bar

۶۴- توسط کدام گزینه چاپ کردن یا چاپ نکردن ترسیم های لایه با کلیک روی نشانه پرینتر میتوان حالت را تغییر داد. (iranarze.ir)

- (۱) Plot (۲) plan (۳) Lineweight (۴) Lineweight

۶۵- برای ثابت شدن تغییر لایه، کلید روی صفحه کلید را فشار دهیم. (iranarze.ir)

- (۱) LTScale (۲) esc (۳) LTS (۴) scale

۶۶- فرمان **Hatch** برای چه منظور به کار می رود؟ (iranarze.ir)

- (۱) جهت حرکت کمان برای رسم خلاف جهت عقربه های ساعت
- (۲) برای ایجادهاشور
- (۳) مام کردن رسم از فرمان Move
- (۴) برای پاک کردن یک یا چند موضوع

۶۷- کلید **scale** برای چه - طراحی شده توسط ایران عرضه - منظور به کار می رود؟ (iranarze.ir)

- (۱) تغییر زاویه هاشور (۲) تغییر مقیاس هاشور
 (۳) انتخاب نوع هاشور (۴) تغییر رنگ هاشور

۶۸- Associative مربوط به کدام یک از موارد زیر است؟ (iranarze.ir)

(۱) وابستگی هاشور به مرز خود.

(۲) ایجاد هاشورهای مجزا در محدودههای مختلف.

(۳) اضافه کردن به محدوده های هاشور با انتخاب خطوط پیرامونی محدوده.

(۴) اضافه کردن به محدوده های هاشور با کلیک در یک فضای بسته

۶۹- در روش با کلیک در سمت راست و درگ موس به سمت چپ (پایین یا بالا) و کلیک، مستطیل سبز رنگی با خط پیرامونی خطچین ایجاد میشود و تمام

شکلهایی را که با آن برخورد داشته باشد، انتخاب می کند. (iranarze.ir)

(۱) WPolygon (۲) Associative (۳) Crossing (۴) Fence

۷۰- با استفاده از کدام یک از فرمان های زیر خطهای اضافی داخل نقشه را پاک می کنیم؟ (iranarze.ir)

(۱) Trim (۲) Chamfer (۳) Erase (۴) ۱ و ۳

۷۱- برای تبدیل شکل الف به ب از کدام طریق عمل می شود؟ (iranarze.ir)



(۱) فرمان Polygon (۲) فرمان Array (۳) فرمان Trim (۴) فرمان Modify

۷۲- تایپ R و فشردن اینتر چه فرمانی را به اجرا در می آورد؟ (iranarze.ir)

(۱) گزارش از سیستم فرمان

(۲) مشخص کردن میزان شعاع انحنا

(۳) انتخاب خط اول در نقشه

(۴) انتخاب خط دوم در نقشه

۷۳- کدام یک از نوارهای زیر نوار در پایینترین قسمت صفحه کار قرار دارد و شامل ابزارهایی است که در ترسیم بسیار کمک کننده هستند؟ (iranarze.ir)

(۱) Navigation Bar (۲) Toolbar (۳) Crosshair (۴) Status Bar

۷۴- برای اینکه شکلهای ایجاد شده در چیدمان به هم وابسته باشند و به عنوان یک شکل در نظر گرفته شوند به کار می رود. (iranarze.ir)

(۱) WPolygon (۲) Associative (۳) Crossing (۴) Fence

۷۵- Base Point برای به کار می رود. (iranarze.ir)

(۱) تغییر تعداد ستون ها و سطرها

(۲) تغییر گیره در موضوع انتخاب شده برای چیدمان

(۳) تغییر فاصله بین ستون ها و سطرها

(۴) غیر تعداد ستون ها

۷۶- برای رسم قاعده منشور از روش های ترسیم در استفاده می کنیم. (iranarze.ir)

(۱) Polygon (۲) Polyline (۳) Polygon (۴) Base Point

۷۷- با کمک کدام زیر گزینه میتوان ۴ گوشه یک مستطیل یکپارچه را همزمان و با یک انتخاب پخ کرد؟ (iranarze.ir)

(۱) Polyline (۲) WPolygon (۳) chamfer (۴) Trim

۷۸- وارد کردن عدد منفی سبب چرخش و وارد کردن عدد مثبت سبب می شود. (iranarze.ir)

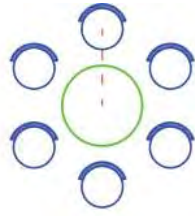
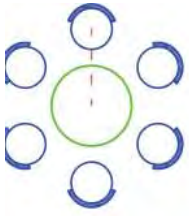
(۱) در جهت عقربه های ساعت - چرخش بر خلاف جهت عقربه های ساعت

۲) چرخش بر خلاف جهت عقربه های ساعت-

۳) حرکت به سمت بالا- حرکت به سمت پایین

۴) حرکت به سمت پایین - حرکت به سمت بالا

۷۹- برای چرخاندن شکل زیر از کدام دستور العمل پیروی می شود؟ (iranarze.ir)



select path curve (۱)

Enter path method (۲)

Rotate arrayed items (۳)

Align arrayed items to path (۴)

۸۰- با کدام زیر گزینه میتوان قسمتی از شکل را انتخاب کرده و سپس مقدار نهایی آن را تعیین کرد؟ (iranarze.ir)

Reference (۲)

Rectangle (۱)

select path curve (۴)

Align arrayed items (۳)

۸۱- تغییر تعداد نهایی شکل (منتشر کننده سوالات ایران عرضه) در چیدمان را می نامند. (iranarze.ir)

Angle Between (۲)

Items (۱)

Rows (۴)

Fill Angle (۳)

۸۲- در این روش با کلیک در نقطه های مختلف صفحه خط چین هایی رسم شده که با هر موضوعی برخورد داشته باشند، آن موضوع ها انتخاب می شوند؟

Fence (۴)

Crossing (۳)

Associative (۲)

WPolygon (۱)

۸۳- برای انتخاب نوع رسم چندضلعی از طریق طول ضلع از کدام طریق عمل می شود؟ (iranarze.ir)

۲) تایپ POL و فشردن اینتر

۱) تایپ E و فشردن اینتر

۴) تایپ F و فشردن اینتر

۳) تایپ R و فشردن اینتر

۸۴- با فرمان پس از رسم پله ها می توان آنها را به تعداد دلخواه تقسیم نمود. (iranarze.ir)

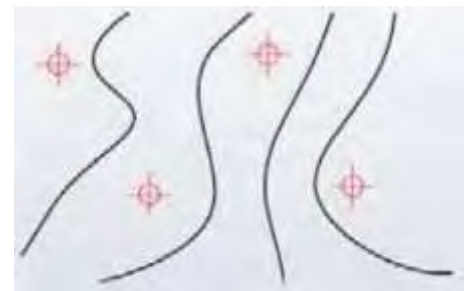
Set Size (۴)

Point (۳)

Divide (۲)

Format (۱)

۸۵- قرار است در شکل زیر عملیات نقطه گذاری را انجام دهیم، کدام کد دستوری به ما کمک می کند؟



Specify (۴)

Divide (۳)

Point (۲)

Ribbon (۱)

۸۶- کدامیک از زیر گزینه های Polyline نمی باشد؟ (iranarze.ir)

depth (۴)

Arc (۳)

Length (۲)

Halfwidth (۱)

۸۷- برای استفاده راحتتر از علامت کدهای ارتفاعی چه می کنیم؟ (iranarze.ir)

- (۱) آپشن های
 (۲) از divide استفاده می کنیم.
 (۳) از فرمان Block کمک میگیریم.
 (۴) تایپ B و فشردن اینتر

۸۸- Oblique Angle چیست؟ (iranarze.ir)

- (۱) زاویه حروف
 (۲) میزان کشیدگی یک حرف
 (۳) زیر و رو نوشتن متن
 (۴) ایجاد یک سبک جدید

۸۹- متن بین دو نقطه مشخص طوری که ارتفاع ثابت مانده ولی برای جا دادن متن بین دو نقطه میزان کشیدگی متن تغییر میکند..... نامیده می شود.

- (۱) Align (۲) Fit (۳) Single line (۴) Specify rotation

۹۰- مهمترین چیزی که قبل از اندازه گیری باید ... ایجاد کنیم که برای این کار از فرمان Dimension Style استفاده می کنیم. (iranarze.ir)

- (۱) rotation angle (۲) تایپ عدد ۹۰ و فشردن اینتر
 (۳) یک سبک جدید
 (۴) Single line

۹۱- ویرایش سبک انتخابی در کدام گزینه آمده است؟ (iranarze.ir)

- (۱) Set Current (۲) New (۳) Dimension style (۴) Modify

۹۲- همه گزینه های زیر در زیر مجموعه تنظیم های مربوط به خط اندازه Dimension style قرار می گیرند به جز..... (iranarze.ir)

- (۱) رنگ خط اندازه (۲) نوع خط اندازه (۳) ضخامت خط اندازه (۴) رنگ خط راهنما

۹۳- Offset office در کدام بخش تنظیم می گردد؟ (iranarze.ir)

- (۱) Extensions (۲) Dimension (۳) Extendbeyond (۴) Lineweight:

۹۴- فرمان Ellipse برای رسم کدامیک از اشکال- ناشر ایران عرضه - هندسی زیر به کار می رود؟ (iranarze.ir)

- (۱) دایره (۲) مربع (۳) مستطیل (۴) بیضی

۹۵- گزینه غلط را بیابید. (iranarze.ir)

(۱) برای رسم مکعب مستطیل نیاز به طول و عرض و ارتفاع نیاز است.

(۲) برای رسم مکعب مربع فقط یک عرض نیاز داریم.

(۳) برای ساخت حجم های پیچیده نیاز است در ابتدا روش ساخت حجم های ساده هندسی آموخته شود.

(۴) فرمان Ellipse برای رسم بیضی است.

۹۶- برای ترسیم گوه کدام گزینه صحیح است؟ (iranarze.ir)

- (۱) Wedge (۲) Menu bar (۳) Modeling (۴) Draw

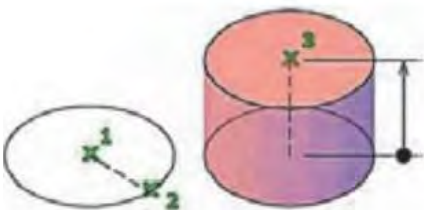
۹۷- زشکل زیر کدام گزینه به کار می رود؟ (iranarze.ir)

(۱) Wedge

(۲) Elliptical

(۳) 2Point

(۴) Axis endpoint



۹۸- با انتخاب می توان نقطه ای را در فضا معرفی کرد تا ضمن وارد کردن مقدار ارتفاع استوانه، جهت قرارگیری استوانه نیز مشخص شود.

- Axis endpoint (۱) Elliptical(۲) Cylinder(۳) 2 Point(۴)

۹۹- چگونه می توان موضوع دایره قاعده مخروط را بر دو موضوع دیگر مماس کرد؟ (iranarze.ir)

- Ttr با استفاده از (۱) با انتخاب (۲) Axis (۳) top radius (۴)

۱۰۰- در کدام گزینه مراحل ترسیم تیوپ به ترتیب به درستی بیان شده است؟ (iranarze.ir)



- (۱) وارد کردن شعاع یا قطراصلی حلقه- وارد کردن مرکز حلقه- وارد کردن اندازه شعاع یا قطر حلقه- اجرای فرمان Torus
 (۲) اجرای فرمان Torus- وارد کردن شعاع یا قطراصلی حلقه- وارد کردن مرکز حلقه- وارد کردن اندازه شعاع یا قطر حلقه
 (۳) اجرای فرمان Torus- وارد کردن مرکز حلقه- وارد کردن اندازه شعاع یا قطر حلقه- وارد کردن شعاع یا قطراصلی حلقه
 (۴) وارد کردن مرکز حلقه- وارد کردن اندازه شعاع یا قطر حلقه- اجرای فرمان Torus - وارد کردن شعاع یا قطراصلی حلقه

ایران عرضه

مرجع نمونه سوالات

آزمون های استخدامی

به همراه پاسخنامه تشریحی

خدمات ایران عرضه:

- ارائه اصل سوالات آزمون های استخدامی
- پاسخنامه های تشریحی سوالات
- جزوات و درسنامه های آموزشی

برای دانلود رایگان جدیدترین سوالات هنرآموز ساختمان، اینجا بنزید

برای دانلود رایگان مرجع این سوالات، کتاب نقشه کشی فنی رایانه ای معماری و ساختمان دهم اینجا بنزید

«انتشار یا استفاده غیر تجاری از این فایل، بدون حذف لوگوی ایران عرضه مجاز می باشد»

