

اصل سوالات عمومی

آزمون استخدامی

آموزش و پرورش ۱۳۹۴

توضیحات:

- آزمون سال ۱۳۹۴
- اصل سوالات دروس عمومی
- با قابلیت پرینت

برای دانلود رایگان جدیدترین سوالات استخدامی ادوار گذشته آموزش و پرورش ، اینجا بزنید

همچنین جهت مشاهده آخرین اخبار استخدامی آموزش و پرورش ، اینجا بزنید



فهرست مطالب

- فناوری اطلاعات و مهارت های هفت گانه I.C.D.L - صفحه ۲
- زبان و ادبیات فارسی - صفحه ۳
- اطلاعات عمومی و دانش اجتماعی و حقوق اساسی - صفحه ۵
- ریاضی و آمارمقدماتی - صفحه ۷
- معارف و احکام اسلامی - صفحه ۹
- هوش و توانمندی های عمومی - صفحه ۱۱
- زبان انگلیسی - عمومی - صفحه ۱۶

فناوری اطلاعات و مهارت های هفت گانه I.C.D.L

۱- بخشی از یک وب سایت داخلی یک شرکت که برای تعدادی از مشتری ها قابل دسترسی باشد، چه نامیده می شود؟ (iranarze.ir)

- (۱) Extranet (۲) Intranet (۳) Internet (۴) Network

۲- در علم کامپیوتر، آنتی ویروس به کدام معنی است؟ (iranarze.ir)

(۱) نرم افزاری که مانع ورود ویروس به کامپیوتر می شود.

(۲) سخت افزاری که مانع ورود ویروس به کامپیوتر می شود.

(۳) نرم افزاری که جهت تشخیص و حذف یا قرنطینه کردن ویروس استفاده می شود.

(۴) سخت افزاری که در صورت وجود ویروس در کامپیوتر به کاربر اطلاع می دهد.

۳- در سیستم عامل ویندوز، از کدام موارد می توان برای حرکت بین چند پنجره باز استفاده کرد؟ (iranarze.ir)

- (۱) Alt+F۴ (۲) Alt+Tab (۳) Alt+ Space (۴) Ctrl+Esc

۴- فایل Text.rar، چه نوع فایلی است؟ (iranarze.ir)

۱- یک فایل متنی

(۲) یک فایل موقت برای یک برنامه کاربردی

(۳) یک تصویر

(۴) یک فایل فشرده

۵- یک سند جدید Word را باز کرده و داخل آن یک جمله تایپ می کنیم. جمله تایپ شده را انتخاب کرده و دو کلید Ctrl و ا را فشار می دهیم. کدام مورد حاصل می شود؟ (iranarze.ir)

(۱) ضخیم شدن فونت

(۲) مورب شدن متن

(۳) وسط چین شدن متن

(۴) همتراز شدن متن با پهنای صفحه

۶- کدام مورد، مسیر صحیح تنظیمات مربوط به Tab را در یک سند Word ۲۰۰۷ نشان می دهد؟ (iranarze.ir)

Home>paragraph>Tab (۱) Page Layout>Page Setup>Tab (۲)

Insert>Text>Tab (۳) View>Window>Tab (۴)

۷- جهت درج یک کادر در حاشیه یک سند Word ۲۰۰۷، به کدام بخش مراجعه می کنید؟ (iranarze.ir)

Home (۱) Insert (۲) Mailings (۳) Page Layout (۴)

۸- در یک کاربرگ از یک فایل Excel، جهت انتخاب چند سطر که به طور متوالی واقع شده اند، از کدام کلید باید کمک گرفت؟ (iranarze.ir)

Alt (۱) Ctrl (۲) Shift (۳) Tab (۴)

۹- انتخاب کدام فرمت عددی برای یک سلول از یک کاربرگ باعث می شود که محتویات آن سلول که فقط عدد می باشد، به شکل کسری نمایش داده شود؟

Accounting (۱) Currency (۲) Number (۳) Fraction (۴)

۱۰- کدام مورد جهت مرتب سازی داده های یک کاربرگ از یک فایل Excel، مورد استفاده قرار می گیرد؟ (iranarze.ir)

Data > Filter (۱) Data > Sort (۲)

Insert > Chart (۳) Home > Conditional Formatting (۴)

۱۱- در محیط Access، مناسب ترین ابزار برای ورود و نمایش داده ها کدام است؟ (iranarze.ir)

Form (۱) Macro (۲) Modules (۳) Report (۴)

۱۲- جهت اجرای نمایش یک فایل Power Point از اسلاید جاری، از کدام مورد، استفاده می شود؟ (iranarze.ir)

F11 (۱) F5 (۲) Shift+F5 (۳) Ctrl+F9 (۴)

۱۳- اگر در محیط Power Point ۲۰۰۷، یک فایل را به شکل نمایشی Show PowerPoint ذخیره کنیم، پسوند آن، کدام مورد خواهد بود؟ (iranarze.ir)

ppt (۱) potx (۲) pptx (۳) ppsx (۴)

۱۴- کدام مورد، آدرس صفحات وبی که اخیراً مشاهده کرده اید را ذخیره می کند؟ (iranarze.ir)

Bookmark (۱) Favorites (۲) History (۳) Tools (۴)

۱۵- جهت ارسال یک فایل توسط پست الکترونیکی، از کدام ابزار کمک می گیرید؟ (iranarze.ir)

Attach (۱) Copy-Paste (۲) Insert (۳) Upload (۴)

۱۶- در یک کاربرگ از یک فایل Excel، جهت انتخاب چند سطر که به طور متوالی واقع شده اند، از کدام کلید باید کمک گرفت؟ (iranarze.ir)

Alt (۱) Ctrl (۲) Shift (۳) Tab (۴)

زبان و ادبیات فارسی

۱۷- معنی واژه « استمالت »، کدام است؟ (iranarze.ir)

(۱) برانگیختن (۲) بی نیازی (۳) دل جویی (۴) زیاده روی کردن

۱۸- در کدام مورد، املای واژه با توجه به معنی مقابل آن، غلط است؟ (iranarze.ir)

(۱) معلوف:خو گرفته (۲) سیاع: درندگان (۳) نقض:شکستن (۴) نعت:وصف کردن

۱۹- در کدام گروه کلمه، غلط املایی وجود دارد؟ (iranarze.ir)

- (۱) حشر و رستخیز - طره سنبل
 (۲) صحیفه و دفتر - مقهور و مقلوب
 (۳) رقت و نازکدلی - نسیان و فراموشی
 (۴) تعارض و تفاوت - سیره و فاخته

۲۰- کدام اثر، از ملک الشعراء بهار است؟ (iranarze.ir)

- (۱) شرح مثنوی مولوی
 (۲) تصحیح کلیات سعدی
 (۳) تصحیح جوامع الحکایات
 (۴) سبک شناسی

۲۱- کدام اثر از «آلبر کامو» است؟ (iranarze.ir)

- (۱) محاکمه
 (۲) سوء تفاهم
 (۳) وداع با اسلحه
 (۴) مسخ

۲۲- آرایهء شاخص بیت زیر، کدام است؟ (iranarze.ir)

- «گلستان کند آتشی بر خلیل
 گروهی بر آتش برد ز آب نیل»
 (۱) تشبیه
 (۲) تمثیل
 (۳) تلمیح
 (۴) تضمین

۲۳- آرایه های بیت زیر کدامند؟ (iranarze.ir)

- «یک عمر همچو غنچه در این بوستان سرا
 خون خورده ایم تا گره از دل گشاده ایم»
 (۱) تشبیه - استعاره
 (۲) تشبیه - تلمیح
 (۳) کنایه - ایهام
 (۴) استعاره - تلمیح

۲۴- اگر بیت زیر، اولین بیت از یک شعر ده بیتی باشد، آن شعر، در کدام قالب، سروده شده است؟ (iranarze.ir)

- «آب حیات من است خاک سر کوی دوست
 گر دو جهان خرمی است ما و غم روی دوست»
 (۱) قطعه
 (۲) مثنوی
 (۳) قصیده
 (۴) غزل

۲۵- بیت زیر، با کدام عبارت قرابت مفهومی دارد؟ (iranarze.ir)

- «کریمان را به دست اندر درم نیست
 خداوندان نعمت را کرم نیست»

- (۱) آن که بر دینار دسترس ندارد، در همه دنیا کس ندارد.
 (۲) عالم بی عمل درخت بی بر است و زاهد بی علم خانه بی در.
 (۳) درویش را دست قدرت بسته است و توانگر را پای ارادت شکسته.
 (۴) تلمیح بی ارادت عاشق بی زراست و رونده بی معرفت مر بی پر.

۲۶- مفهوم بیت زیر، کدام است؟ (iranarze.ir)

- «اندرون توست آن طوطی نهران
 عکس او را دیده تو بر این و آن»
 (۱) مبارزه و مخالفت با هوای نفس
 (۲) نادیده گرفتن استعدادهای خود و دیگران
 (۳) غفلت از اسرار جهان هستی
 (۴) عدم شناخت انسان از خویشتن خویش

۲۷- کام عبارت، از نظر نگارش غلط است؟ (iranarze.ir)

- (۱) معلم و دانش آموزان در جلسه شرکت کردند
 (۲) معلم با دانش آموز، اردوی مطالعاتی راترک کردند

۳) معلم و دانش‌آموزان به عیادت مدیر مدرسه رفتند ۴) معلم با دانش‌آموز به اردوی چند روزه رفت

۲۸- ساخت دستوری کدام کلمه، با کلمه‌های دیگر تفاوت دارد؟ (iranarze.ir)

۱) زدو خورد ۲) سوزوگداز ۳) دادوستد ۴) نشست و برخاست

۲۹- به کار گرفتن کدام پسوند، با همه‌ی واژه‌های «سرو، قلم، هنر»، مناسب و معمول است؟ (iranarze.ir)

۱) ستان ۲) دان ۳) زار ۴) گاه

۳۰- بیت زیر، چند جمله است؟ (iranarze.ir)

« قضا گفت گیر و قدر گفت ده فلک گفت احسنت مه گفت زه »

۱) پنج ۲) شش ۳) هفت ۴) هشت

۳۱- در کدام مصراع، حذف فعل به قرینه‌ی معنوی صورت گرفته است؟ (iranarze.ir)

۱) قضا روزگاری زمن در ربود
 ۲) گر آن باد پایان برفتند تیز
 ۳) جوانا ره طاعت امروز گیر
 ۴) من آن روز را قدر نشناختم

اطلاعات عمومی، دانش اجتماعی و حقوق اساسی

۳۲- همه‌ی پرس‌پرسی بازننگری قانون اساسی جمهوری اسلامی ایران، در چه زمانی برگزار شد؟ (iranarze.ir)

۱) فروردین ۱۳۶۸ ۲) مرداد ۱۳۶۸ ۳) شهریور ۱۳۶۸ ۴) بهمن ۱۳۶۸

۳۳- ریاست مجلس خبرگان رهبری تا سال ۱۳۸۶ برعهده‌ی چه کسی بود؟ (iranarze.ir)

۱) آیت‌الله مهدوی کنی ۲) آیت‌الله هاشمی ۳) آیت‌الله هاشمی ۴) آیت‌الله مشکینی

۳۴- پس از انقلاب مشروطه، در زمان کدام یک از پادشاهان، حکومت مشروطه بر پا گردید؟ (iranarze.ir)

۱) مظفرالدین شاه ۲) محمدعلی شاه ۳) رضاخان ۴) احمدشاه

۳۵- همه‌ی پرس‌پرسی تایید قانون اساسی جمهوری اسلامی ایران، در چه زمانی برگزار شد؟ (iranarze.ir)

۱) بهمن ۱۳۵۸ ۲) آذر ۱۳۵۸ ۳) مرداد ۱۳۵۸ ۴) فروردین ۱۳۵۸

۳۶- کدام یک از آثار زیر نوشته‌ی جلال آل احمد نویسنده‌ی معروف ایرانی نیست؟ (iranarze.ir)

۱) نون والقلم ۲) مدیرمدرسه ۳) شازده احتجاب ۴) غرب زدگی

۳۷- بهترین گلزن تاریخ فوتسال ایران چه کسی است؟ (iranarze.ir)

۱) علی اصغر حسن‌زاده ۲) محمدرضا حیدریان ۳) وحیدشمسایی ۴) حسین طیب

۳۸- کدام کشور زیر از باختر با دریای اژه هم مرز است؟ (iranarze.ir)

۱) بلاروس ۲) ترکیه ۳) گرجستان ۴) سوریه

۳۹- آزادسازی خرمشهر طی چه عملیاتی صورت گرفت؟ (iranarze.ir)

۱) فتح‌المبین ۲) مرصاد ۳) بیت‌المقدس ۴) طریق‌القدس

۴۰- کدام یک از افراد زیر، در راس هیئت مذاکره کنندگان جمهوری اسلامی ایران در مسئله هسته ای در طول سال های مذاکره قرار نداشته اند؟ (iranarze.ir)

- (۱) محمد جواد ظریف (۲) علی اکبر ولایتی (۳) سعید جلیلی (۴) علی لاریجانی

۴۱- طبق اصل بیست و یکم قانون اساسی جمهوری اسلامی ایران، کدام یک از موارد زیر، جزو وظایف دولت در تضمین حقوق زنان نمی باشد؟ (iranarze.ir)

- (۱) حمایت مادران، بالخصوص در دوران بارداری و حضانت فرزند و حمایت از کودکان بی سرپرست
 (۲) ایجاد بیمه خاص بیوه ها و زنان سالخورده و بی سرپرست
 (۳) ایجاد دادگاه صالح برای حفظ کیان و بقای خانواده
 (۴) اعطای بورس های تحصیلی ویژه، جهت ادامه تحصیل

۴۲- تیم ملی فوتبال مردان ایران، در کدام سال های میلادی، موفق به حضور در جام جهانی بوده است؟ (iranarze.ir)

- (۱) ۲۰۱۴، ۲۰۰۶، ۱۹۹۸، ۱۹۷۸ (۲) ۲۰۱۰، ۲۰۰۶، ۱۹۹۴، ۱۹۷۸
 (۳) ۲۰۱۴، ۲۰۰۲، ۱۹۸۲، ۱۹۹۸ (۴) ۲۰۱۴، ۲۰۰۶، ۱۹۸۲، ۱۹۹۸

۴۳- کدام یک از آثار زیر نوشتهء جلال آل احمد نویسنده ی معروف ایرانی نیست؟ (iranarze.ir)

- (۱) نون والقلم (۲) مدیر مدرسه (۳) شازده احتجاب (۴) غرب زدگی

۴۴- در گروه موسوم به پنج به علاوه «یک» که با جمهوری اسلامی ایران وارد مذاکرات دیپلماتیک شدند، عبارت «یک» به کدام کشور زیر، دلالت دارد؟

- (۱) روسیه (۲) آمریکا (۳) آلمان (۴) انگلستان

۴۵- آخرین پادشاه زندیه که به دست آغامحمدخان کشته شد، چه کسی بود؟ (iranarze.ir)

- (۱) لطفعلی خان زند (۲) کریم خان زند (۳) علیمراد خان زند (۴) ابوالفتح خان زند

۴۶- قرآن کریم، از چند جزء و چند حزب تشکیل شده است؟ (iranarze.ir)

- (۱) ۶۰ - ۱۵ (۲) ۶۰ - ۳۰ (۳) ۱۲۰ - ۱۵ (۴) ۱۲۰ - ۳۰

۴۷- ناو جنگی و ناخدای آن که در جنایت هولناک سقوط هواپیمای مسافربری جمهوری اسلامی ایران بر فراز خلیج فارس دخالت داشتند، به ترتیب کدامند؟

- (۱) روزولت - ویلیامز (۲) وینسنس - راجرز
 (۳) اوکلاهما - جکسون (۴) آریزونا - اسمیت

۴۸- محل قرارگرفتن تالاب بین المللی گاو خونی، در بین کدام دو استان زیر است؟ (iranarze.ir)

- (۱) کرمان و سیستان و بلوچستان (۲) فارس و کرمان
 (۳) یزد و اصفهان (۴) اصفهان و فارس

۴۹- اتباع ایرانی برای مسافرت به کدام یک از کشورهای زیر، نیاز به ویزا دارند؟ (iranarze.ir)

- (۱) ترکیه (۲) ترکمنستان (۳) کنیا (۴) مالزی

۵۰- طراح اصلی عملیات مرصاد بر ضد مهاجمین، چه کسی بود؟ (iranarze.ir)

- (۱) شهید باکری (۲) شهید کاوه (۳) شهید جهان آرا (۴) شهید صیادشیرازی

۵۱- زبان رسمی کدام یک از همسایگان ایران، اردو و انگلیسی است؟ (iranarze.ir)

- (۱) افغانستان (۲) ترکیه (۳) ترکمنستان (۴) پاکستان

۵۲- کدام یک از کتب آسمانی زیر، جزو کتبی نیست که در مجلس شورای اسلامی، در کنار قرآن کریم، نمایندگان اقلیت های مذهبی بر آن سوگند می خورند؟

- (۱) انجیل (۲) اوستا (۳) زبور (۴) تورات

۵۳- کدام یک از افراد زیر، برمسند ریاست قوه قضائیه در جمهوری اسلامی ایران قرار نداشته اند؟ (iranarze.ir)

- (۱) آیت الله محمدیزدی (۲) آیت الله صادق لاریجانی

- (۳) آیت الله مکارم شیرازی (۴) آیت الله سید محمود هاشمی شاهرودی

۵۴- آخرین پادشاه سلسله قاجار، کدام یک از افراد زیر بود؟ (iranarze.ir)

- (۱) احمدشاه (۲) محمدعلی شاه (۳) مظفرالدین شاه (۴) ناصرالدین شاه

۵۵- طبق اصل چهل و یکم قانون اساسی، دولت در کدام صورت می تواند از یک فرد ایرانی سلب تابعیت کند؟ (iranarze.ir)

- (۱) تخطی از قوانین (۲) اقامت در کشوری غیر ایرانی

- (۳) داشتن فرزندان با تابعیت غیر ایرانی (۴) درخواست خودفردیادآمدن به تابعیت کشوری دیگر

۵۶- تیم ملی والیبال مردان ایران، در کدام لیگ جهانی به کسب مقام چهارم نایل شد؟ (iranarze.ir)

- (۱) ۲۰۱۴ (۲) ۲۰۱۳ (۳) ۲۰۱۲ (۴) ۲۰۱۱

ریاضی و آمار مقدماتی

۵۷- حاصل $(\sqrt{2} - 1)^{-2} \times (\sqrt{2} + 1)^2$ ، کدام است؟ (iranarze.ir)

- (۱) $(3 - 2\sqrt{2})^2$ (۲) $(3 + \sqrt{2})^{-2}$

- (۳) $(17 - 12\sqrt{2})^{-1}$ (۴) $(17 + 6\sqrt{2})$

۵۸- چند عدد شش رقمی با ارقام {۰ و ۱ و ۲ و ۳ و ۴ و ۵} می توان ساخت، به طوری که فقط صفر یک در میان و تکراری ظاهر شود؟ (iranarze.ir)

- (۱) ۱۲۰ (۲) ۹۰ (۳) ۶۰ (۴) ۳۰

۵۹- عبارت $x^3 + 11x^2 - 3x + a$ بر $x+1$ بخش پذیر است. مقدار a کدام است؟ (iranarze.ir)

- (۱) ۱۵ (۲) ۹ (۳) -۷ (۴) ۱۳

۵۹- چند جمله ای $f(x) = x^4 + 3x^3 + ax$ بر $x+1$ بخش پذیر است. بزرگترین ریشه معادله $f(x) = 0$ کدام است؟ (iranarze.ir)

- (۱) $\sqrt{3}$ (۲) $\sqrt{3} + 1$ (۳) $\sqrt{7}$ (۴) $-\sqrt{7}$

۶۰- اگر $f = \{(-1, 6), (4, 11), (7, \frac{-3}{2}), (1, -2)\}$ و $g = \{(0, 2), (5, -2), (-3, 8)\}$ باشد، برد تابع $f(\frac{1}{2}g(x))$ کدام است؟ (iranarze.ir)

- (۱) $\{-2, 7, 11\}$ (۲) $\{-2, 7, 11\}$ (۳) $\{4, 1, -1\}$ (۴) $\{-1, 3, 4\}$

۶۱- مجموعه جواب نامعادله $(x^2 - 2\sqrt{5}x + 5)(2x - 2) \leq 0$ ، شامل چند عدد طبیعی است؟ (iranarze.ir)

- (۱) ۱ (۲) ۲ (۳) ۳ (۴) عضو طبیعی ندارد.

۶۲- اگر a و $a+2$ سه جمله اول یک دنباله هندسی باشند، حاصل $a^9 - a^7$ کدام است؟ (iranarze.ir)

- (۱) ۱۸ (۲) ۲۷ (۳) ۵۴ (۴) ۶۳

۶۳- چند تصاعد حسابی با قدر نسبت طبیعی بزرگ تر از واحد می توان ساخت به طوری که سه جمله ی این تصاعد یکی از اعداد ۱، ۲، ... و ۸ باشد؟ (جمله نخست طبیعی است). (iranarze.ir)

- (۱) ۵ (۲) ۶ (۳) ۷ (۴) ۸

۶۴- به ازای کدام مقدار m ، یکی از ریشه های معادله $3x^2 - 6x + m = 0$ دو برابر ریشه دیگری است؟ (iranarze.ir)

- (۱) $\frac{27}{3}$ (۲) $\frac{8}{3}$ (۳) ۶ (۴) ۹

۶۵- کمترین مقدار عبارت $(1 - \sqrt{3})x - x^2$ ، کدام است؟ (iranarze.ir)

- (۱) $\frac{3}{2}$ (۲) $\frac{5}{2}$ (۳) $\frac{-3}{2}$ (۴) $\frac{-7}{4}$

۶۶- خط d دو خط عمود $\Delta x - 7y = -4$ و $mx + ny = 1$ را در نقاط $(1, -1)$ و $(2, 2)$ قطع می کند. مقدار n کدام است؟ (iranarze.ir)

- (۱) $\frac{-5}{2}$ (۲) $\frac{5}{24}$ (۳) $\frac{-1}{3}$ (۴) $\frac{1}{36}$

۶۷- دو خط $2x - 2y = 5$ و $ax + by = 1$ روی خط $x = -1$ همدیگر را قطع کرده اند. اگر خط d ، این دو خط متقاطع را در نقاط $(2, 4)$ و $(1, -1)$ قطع کند، حاصل $\frac{a}{b}$ کدام است؟ (iranarze.ir)

- (۱) $\frac{17}{6}$ (۲) $\frac{1}{3}$ (۳) $\frac{-7}{2}$ (۴) $\frac{-8}{3}$

۶۸- اگر $A^{-1} = \begin{bmatrix} a & 0 \\ b & c \end{bmatrix}$ معکوس ماتریس $A = \begin{bmatrix} 1 & 0 \\ x & -1 \end{bmatrix}$ به ازای جميع مقادیر x باشد، حاصل $b + c$ کدام است؟ (iranarze.ir)

- (۱) $(x+1) \cdot 2$ (۲) $(x-1) \cdot 2$ (۳) $(x-1) \cdot 3$ (۴) $(x-1) \cdot 4$

۶۹- اگر $\begin{bmatrix} 1 & 1 \\ 0 & 1 \\ -1 & 0 \end{bmatrix} \begin{bmatrix} a \\ b \end{bmatrix} = \begin{bmatrix} 1 \\ 3 \end{bmatrix}$ باشد، حاصل $a - b$ کدام است؟ (iranarze.ir)

- (۱) ۵ (۲) ۲ (۳) ۱ (۴) -۳

۷۰- اگر $A = \{n \in \mathbb{N} \mid n^2 \leq 7\}$ و $B = \{m \in \mathbb{Z} \mid [m] = 4\}$ باشد، مجموعه $A \cup B$ دارای چند عضو است؟ ($[\cdot]$: تابع جزء صحیح است). (iranarze.ir)

- (۱) عضوی ندارد. (۲) بی شمار (۳) ۳ (۴) ۵

۷۱- با حروف کلمه "آموزش" چند کلمه پنج حرفی می توان ساخت به طوری که حرف "و" حرف وسط کلمه باشد؟ (iranarze.ir)

- (۱) ۱۲۰ (۲) ۹۶ (۳) ۵۴ (۴) ۲۴

۷۲- اگر نمره کسب شده معلمان در یک دوره ضمن خدمت براساس نمره ی صفر تا ۴، تنها به صورت عدد حسابی باشد، نوع متغیر تصادفی نمرات کدام است؟

- (۱) کمی پیوسته (۲) کمی گسسته
(۳) کیفی اسمی (۴) کیفی ترتیبی

۷۳- برای داده های جدول زیر، زاویه مربوط به دسته سوم در نمودار دایره ای، چند درجه است؟ (iranarze.ir)

مرکز دسته	۳	۷	۱۱	۱۵	۳۰۰ (۱)
فراوانی تجمعی	۵	۱۴	۲۰	۲۴	۱۳۵ (۲)
					۹۰ (۳)
					۶۰ (۴)

۷۴- دو جامعه دارای مقیاس های اندازه گیری متمایز هستند. برای مقایسه پراکندگی داده های آماری دو جامعه، کدام شاخص مناسب است؟

- (۱) ضریب تغییرات (۲) دامنه تغییرات (۳) واریانس (۴) انحراف معیار

۷۵- واریانس داده های ۱۳۰۲، ۱۳۰۷، ۱۳۰۳، ۱۳۰۴، ۱۲۹۹ کدام است؟ (iranarze.ir)

- (۱) ۴.۵ (۲) ۴.۳ (۳) ۶.۸ (۴) ۶.۴

۷۶- کلاس A دارای ۵ ردیف صندلی است، به طوری که به جز ردیف اول که ۴ صندلی دارد، سایر ردیف ها دارای ۷ صندلی هستند. با فرض خالی بودن همه صندلی ها، احتمال اینکه احمد، ردیف اول را برای نشستن انتخاب نکند، کدام است؟ (iranarze.ir)

- (۱) $\frac{4}{5}$ (۲) $\frac{1}{5}$ (۳) $\frac{1}{8}$ (۴) $\frac{7}{8}$

۷۷- کدام متغییر، کیفی ترتیبی است؟ (iranarze.ir)

- (۱) رنگ ها (۲) دوران تحصیل (۳) گروه خونی (۴) شدت زلزله

۷۸- اگر (۴۰ (۳۲)، حدود دسته سوم جدول فراوانی با ۵ دسته باشد، مرکز دسته دوم کدام است؟ (iranarze.ir)

- (۱) ۳۰ (۲) ۲۸ (۳) ۲۶ (۴) ۲۴

۷۹- جامعه آماری با ۱۵ داده به صورت زیر، دسته بندی شده است. میانگین جامعه کدام است؟ (iranarze.ir)

دسته ها	۷-۱۱	۱۱-۱۵	۱۵-۱۹	۱۹-۲۳
فراوانی	۴	۵	۲	۴

- (۱) ۱۲.۶ (۲) ۱۳.۹ (۳) ۱۴.۶ (۴) ۱۵.۹

۸۰- واریانس داده های ۱۲۵۶، ۱۲۵۸، ۱۲۶۰، ۱۲۵۹ و ۱۲۵۷، کدام است؟ (iranarze.ir)

- (۱) ۲ (۲) ۳ (۳) ۲.۵ (۴) ۳.۵

۸۱- خانواده ای دارای سه فرزند دختر است. احتمال اینکه فرزند چهارم پسر باشد، کدام است؟ (iranarze.ir)

- (۱) $\frac{1}{16}$ (۲) $\frac{1}{8}$ (۳) $\frac{1}{4}$ (۴) $\frac{1}{2}$

معارف و احکام اسلامی

۸۲- از حدیث امام صادق (ع) که فرمودند: «الله همان است که همه مخلوقات هنگام نیازها، سختیها و ناامیدی از هر چیز به او پناه می آورند» کدام موضوع مفهوم می گردد؟ (iranarze.ir)

- (۱) فطری بودن خداشناسی (۲) گرایش درونی انسان
(۳) فطری بودن خداپرستی (۴) گرایش فطری انسان

۸۳- ریشه بحران های فراوی انسان ناشی از کدام امر است و قرآن کریم زندگی تنگ و سخت رامعلول کدام مورد می داند؟ (iranarze.ir)

- (۱) خودناشناسی- روگردانی از خدا (۲) خدا ناشناسی- روگردانی از خدا
(۳) خودناشناسی- غفلت از فطرت (۴) خدا ناشناسی- غفلت از فطرت

۸۴- خداوند، چگونه انسان ها را به صورت ویژه هدایت نموده است؟ (iranarze.ir)

- (۱) با خلقت متفاوت و ایجاد حس رقابت در میان انسان ها
(۲) متناسب با دو ویژگی تعقل و اختیار، بافرستادن دین

۳) خلقت اقوام مختلف با شعبات گوناگون و نژاد متفاوت

۴) پیامبرانی را فرستاد تا مردم را به ادیان مختلف دعوت کنند.

۸۵- با توجه به آیه شریفه (لقد ارسلنا بالبینات و انزلنا معهم الکتاب و المیزان ...) مسلمانان وظیفه دارند جامعه را براساس کدام مورد بنا کنند و برترین مقام رسول خدا (ص) کدام است؟ (iranarze.ir)

۱) کتاب خدا - ولایت ظاهری

۲) کتاب خدا - ولایت معنوی

۳) قسط - ولایت ظاهری

۴) قسط - ولایت معنوی

۸۶- حدیث شریف منزلت در شان چه کسی بود و منزلت هارون نزد موسی (ع) کدام مورد است؟ (iranarze.ir)

۱) حضرت علی (ع) - مشاور، پشتیبان و شریک در امر هدایت مردم

۲) حضرت محمد (ص) - مشاور، پشتیبان و شریک در امر هدایت مردم

۳) حضرت علی (ع) - برادر، وصی و جاشین من در میان شما

۴) حضرت محمد (ص) - برادر، وصی و جاشین من در میان شما

۸۷- امامان معصوم (ع) چگونه تلاش کردند تا از تحریف اسلام جلوگیری کنند و مردم را از ظلمت به روشنایی برسانند؟ (iranarze.ir)

۱) سکوت در برابر خلفا و اقدام برای جمع آوری قرآن و رفع تحریف آن

۲) قیام برای انجام مسئولیت‌های مربوط به مرجعیت دینی و ولایت ظاهری

۳) اقدام برای حفظ سخنان و سیره ی پیامبر اسلام به همراه تعلیم و تفسیر قرآن

۴) معرفی خود به عنوان امام بر حق و تلاش برای جمع آوری شیعیان و ایجاد نهضت اسلامی

۸۸- کدام مورد، بیانگر وظیفه فقها در دوران غیبت امام زمان (عج) می باشد؟ (iranarze.ir)

۱) احکام و مسایل زمان پیامبر و امامان را به خوبی بداند و همانند آنان خود را آماده سازند.

۲) احکام، مسایل و رویدادهای جدید را که در زمان پیامبر و امامان اتفاق نیفتاده به دست آورند.

۳) وقت خود را صرف مطالعه ی دقیق منابع اسلامی نمایند تا در زمان ظهور بتوانند احکام لازم را صادر نمایند.

۴) در صورت ناتوانی حاکمان از حل مشکلات مردم بتوانند براساس قوانین اسلام حاکمان را راهنمایی کنند.

۸۹- از دقت در آیه شریفه (حَتَّىٰ إِذَا جَاءَ أَحَدَهُمُ الْمَوْتُ قَالَ رَبِّ ارْجِعُونِ، لَعَلِّي أَعْمَلُ صَالِحًا فِيمَا تَرَكْتُ) کدام مفهوم در یافت می شود؟ (iranarze.ir)

۱) در عالم برزخ فعالیت آگاهانه روح و جسم ادامه می یابد.

۲) حیطة درک و آگاهی انسان بعد از مرگ بیشتر می شود.

۳) اختیار از انسان سلب می شود و پرونده اعمال او بسته می شود.

۴) فرشتگان حقیقت وجود انسان را که همان روح و جسم است توفی می کنند.

۹۰- «ابتلای به بیماری در اثر عدم رعایت قوانین بهداشتی» و «خود را محاط در نتایج اعمال خویشتن یافتن»، به ترتیب منجر به تحقق کدام یک از انواع کیفر میشود؟

۱) طبیعی - اخروی

۲) عین عمل - اخروی

۳) عین عمل - محصول عمل

۴) طبیعی - محصول عمل

۹۱) حساس ترین و ارزشمندترین دوره عمر انسان، کدام دوره است و به چه دلیل؟ (iranarze.ir)

۱) نوجوانی و جوانی - دوره رشد و تقویت معرفت و آگاهی است.

۲) بلوغ تا ازدواج - دوره رشد و تقویت معرفت و آگاهی است.

۳) نوجوانی و جوانی-دوره تقویت عفاف و پاکدامنی می باشد.

۴) بلوغ تا ازدواج- دوره تقویت عفاف و پاکدامنی می باشد.

۹۲) « بی توجهی به عفاف و پاکدامنی » و « رشوه گیری » به ترتیب از کدام نوع گناهان است؟ (iranarze.ir)

۱) فردی، فردی و نیازمند توبه فردی
۲) اجتماعی، فردی و نیازمند توبه اجتماعی

۳) اجتماعی، اجتماعی و نیازمند توبه اجتماعی
۴) فردی، اجتماعی و نیازمند توبه فردی

۹۳) عامل اصلی وحدت جامعه اسلامی، بر مبنای کدام مورد است و برای انجام این مسئولیت (وحدت)، ابتدا باید یکدیگر را به کدام امر دعوت کنیم؟

۱) فالف بین قلوبکم- یدعون الی الخیر
۲) واعتصموا بحبل الله - یامرون بالمعروف

۳) فالف بین قلوبکم- یامرون بالمعروف
۴) واعتصموا بحبل الله - یدعون الی الخیر

۹۴) لباس نمازگزار نباید از حیوان حرام گوشت باشد. اگر مویی از آن، همراه نمازگزار باشد، نمازش چه حکمی دارد؟ (iranarze.ir)

۱) صحیح
۲) باطل
۳) مباح
۴) مکروه

۹۵- زکات چه نوع انفاقی است و به چه چیزهایی تعلق می گیرد؟ (iranarze.ir)

۱) واجب- گندم، جو، خرما و کشمش
۲) مستحب- گندم، جو، خرما و کشمش

۳) واجب- برنج، گندم، طلا و نقره
۴) مستحب- برنج، گندم، طلا و نقره

۹۶- «چیز نجس که انسان شک دارد پاک شده است یا نه» و «چیز پاک اگر شک کند نجس شده است یا نه»، به ترتیب ناظر بر کدام حکم است؟

۱) نجس - نجس
۲) پاک - نجس

۳) نجس - پاک
۴) پاک - پاک

هوش و توانمندی های عمومی

۹۷- در جدول زیر به جای علامت سؤال کدام گزینه را می توان قرار داد؟ (iranarze.ir)

۱	۳۱	۲
۲	۵۲	۳
۳	۶۳	۴

۱) ۳
۲) ۲
۳) ۴
۴) ۱

۹۸- ۱۴۰ ثانیه دیگر ساعت ۵ و ۳۰ دقیقه خواهد شد. الان ساعت چند است؟ (iranarze.ir)

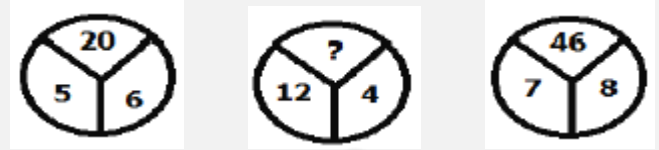
۱) چهارده و یازده دقیقه
۲) پنج ونه و چهل دقیقه

۳) پنج و یازده دقیقه
۴) چهار و پنجاه و یک دقیقه

۹۹- سعید بلندتر از مسعود و کوتاه تر از حمید است. حامد کوتاه تر از سعید اما بلندتر از مسعود است. قد کدام یک از همه بلندتر است؟ (iranarze.ir)

۱) حمید
۲) سعید
۳) حامد
۴) مسعود

۱۰۰- با توجه به شکلهای مقابل مقدار ؟ را بیابید: (iranarze.ir)



۵۸ (۴)

۳۸ (۳)

۱۸ (۲)

۱۶ (۱)

۱۰۱- در دنباله حروف زیر مجهول چه حرفی است؟ (iranarze.ir)

(ژ، ص، ر، ط، د، ع، ؟)

خ (۴)

ح (۳)

چ (۲)

ج (۱)

راهنمایی: متن زیر را به دقت بخوانید و صحیح ترین پاسخ را برای ۴ سؤال بعدی انتخاب کنید و در پاسخنامه علامت بزنید.

محققان در حال ساخت ریز روبات های اجتماعی ای هستند که پس از تزریق به بدن انسان وارد خون وی می شوند. برخلاف روبات های کوچکی که صدها عضو متحرک دارند، این روبات ها از نژاد متفاوتی هستند و تماما از مواد شیمیایی ساخته شده اند. هریک از این روبات ها، به اندازه یک موجود تک سلولی است و از طریق رگ های خونی به بخش هایی از بدن که غدد آن در حال شکل گیری اند، دارو حمل می کنند. دکتر فرانتیسک استپانک، که به عنوان مهندسی شیمی در کالج سلطنتی لندن فعالیت می کند، در حال کشت اولین نمونه روبات های شیمیایی است. وی می گوید: «سطح روبات ها به گونه ای طراحی شده که خود را به سلول سرطانی رسانده و به آن می چسبند. سپس به صورت ناگهانی تعداد زیادی روبات در سلول انباشته شده و با آزاد کردن دارو، سلول سرطانی را از بین می برند.» همانند حشرات که با استفاده از فرومون، یکدیگر را به منبع غذایی راهنمایی می کنند، این ریزروبات های اجتماعی نیز از طرق سیگنال های اجتماعی با یکدیگر ارتباط برقرار می کنند. پوسته ی بیرونی روبات ها از منقذهای ریزی پوشیده شده که تعیین می کنند چه موادی وارد روبات شوند و چه موقع محموله آن آزاد شود. دکتر استپانک می گوید: «وقتی روبات تنهاست، منقذهایش بسته می ماند. اما زمانی که روبات ها با یکدیگر هستند و روی یک هدف قفل کرده اند، ناگهان غلظت مولکول آزاد شده هر روبات، بیش از اندازه می شود و این یک سیگنال به بقیه روبات هاست. همگی به محض دریافت سیگنال، منقذهای خود را باز کرده و ماده شیمیایی فعال شده را جهت خنثی کردن هدف آزاد می کنند.» با وجود ترس اولیه، رها کردن ریز روبات ها در بدن انسان، روش مطمئنی برای تزریق دارو ست. هر روبات برای سمی بودن بسیار کوچک است و جمعیت روبات ها، فقط وقتی محموله دارویی خود را رها می کند. که در محل مورد نظر جمع شده باشد. دو سال است که استپانک روی این پروژه پنج ساله کار می کند. کار زیادی در پیش است اما او و گروهش، تاکنون موفق به یافتن راهی برای آزاد کردن محموله های ریز روبات ها شده اند. ریز روبات ها را می توان با هر وظیفه ای سازگار کرد. از چنین روبات هایی می توان برای مقابله با انتشار مواد شیمیایی یا پاکسازی محیط استفاده کرد.

۱۰۲- براساس متن، کدام مورد درباره ریز روبات ها، صحیح است؟ (iranarze.ir)

(۱) تنها برای یک هدف ساخته شده اند.

(۲) توسط سلول های سرطانی ساخته می شوند.

(۳) وظیفه انتقال و آزادسازی دارو در خون را برعهده دارند.

(۴) در مبارزه با سلول های سرطانی، مستقل از هم عمل می کنند.

۱۰۳- هدف اصلی نویسنده در پاراگراف دوم متن، کدام است؟ (iranarze.ir)

(۲) بررسی تاثیر ریز روبات ها بر سلول های سرطانی

(۱) توضیح عملکرد روبات ها در ارتباط با یکدیگر

(۴) مقایسه ریز روبات ها با حشرات

(۳) توصیف ساختار فیزیکی ریزروبات ها

۱۰۴- متن به کدام پرسش زیر، پاسخ نمی دهد؟ (iranarze.ir)

(۱) منقذهای موجود در پوسته بیرونی ریزروبات ها چه نقشی ایفا می کنند؟

(۲) چگونه ریز روبات ها نیازهای غذایی سلول ها را برطرف می کنند؟

۳) از ریزروبات‌ها برای انتقال چه موادی استفاده می‌شود؟

۴) ساختار فیزیکی و شیمیایی ریز روبات‌ها چگونه است؟

۱۰۵- کدام مورد، لحن نویسنده متن را درباره ریزروبات‌ها به خوبی بیان می‌کند؟ (iranarze.ir)

۴) خوش بینانه

۳) غیرعلمی

۲) نگران

۱) بی‌علاقه

راهنمایی: برای پاسخگویی به ۴ سوال بعدی لازم است موقعیتی را که در هر سوال مطرح شده، مورد تجزیه و تحلیل قرار دهید و سپس گزینه‌ای را که فکر می‌کنید پاسخ مناسب‌تری برای آن سوال است، انتخاب کنید. هر سوال را با دقت بخوانید با توجه به واقعیت‌های مطرح شده در هر سوال و نتایج‌ای که بیان شده و بیان نشده و قابل استنتاج است. پاسخی که صحیح‌تر به نظر می‌رسد را انتخاب نموده و در پاسخنامه علامت بزنید.

۱۰۶- ژورنالیسم و تاریخ‌نگاری اگر چه یکی نیستند. اما در نسبتی که با قایع دارند، مشترک‌اند. فرق رویکرد این دو اما، در اندک بودن منابع ژورنالیسم، به حد کافی ورز ندادن داده‌ها و مشاهدات است. حقیقتی که ژورنالیست به آن می‌پردازد، حقیقتی است متواضع و ژورنالیست‌ها آرتیزان داده‌های حقیقی‌ای اما خرد هستند.

کدام مورد را می‌توان از اطلاعات مندرج در متن فوق، به درستی استنباط کرد؟ (iranarze.ir)

۱) در تاریخ‌نگاری، نیازی به ورز دادن داده‌ها و مشاهدات نیست.

۲) منابع موجود برای مورخ، بیشتر از منابعی است که ژورنالیست در اختیار دارد.

۳) آنچه در ژورنالیسم اهمیت اصلی را دارد، گزارش خبر نیست، بلکه تفسیر آن است.

۴) کسانی که ژورنالیسم و تاریخ‌نگاری را جدا فرض می‌کنند، در حقیقت امر اشتباه می‌کنند.

۱۰۷- دانشی که یک بار به طور کامل مستندسازی شده و به صورت نوشته بیان شده است، می‌تواند کم‌کم به اشتراک گذاشته شود. به عبارت بهتر، تبدیل دانش به مسئله انتقال، بستگی به سازمانی به عنوان پایگاه دانش دارد که در آن جا می‌توان آن را تحت مدیریت و مشارکت قرار داد. در غیر این صورت، این دانش کاملاً شخصی باقی می‌ماند و انتقال آن غیرممکن خواهد بود.

نتیجه‌گیری متن فوق، بر کدام یک از مفروضات زیر بنا شده است؟ (iranarze.ir)

۱) تنها راه برای توزیع دانش، گذرگاه پایگاه دانش است

۲) میزان دانشی که تولید میشود، با ظرفیت موجود انتقال آن باید هماهنگی داشته باشد.

۳) دلیل شخصی ماندن برخی دانش‌ها، ناآگاهی تولیدکنندگان آنها از مجاری - انتقال دانشی است.

۴) دانشمندان باید در کار مستندسازی دانش، خوب دقت کنند تا دانش آنها، مقبولیت لازم برای پذیرش در پایگاه دانش را داشته باشد.

۱۰۸- مگس‌ها در هر ثانیه، ۲۵۰ بار بال می‌زنند و می‌توانند طی ۱۸ بار بال زدن، ۱۲۰ درجه تغییر جهت دهند. مگس برای دور زدن، یکی از بال‌هایش را تا حدی کج می‌کند و این کار را به کمک عضلات متصل به بال خود انجام می‌دهد این عضله، شبیه یک فنر مارپیچی کار می‌کند و بدون نیاز به اینکه مگس فکر کند
(iranarze.ir)

۱) تعداد بال زدن‌هایی آن را کم و زیاد می‌کند .

۲) به طور غریزی، مسیر درست پرواز را برای آن انتخاب می‌کند.

۳) به کمک دستگاه خود کار عصبی آن، جهت حرکت را تغییر می‌دهد.

۴) خود به خود، در مسیری که انتخاب می‌کند، کج شده و جهت حرکت مگس را تغییر می‌دهد.

۱۰۹- سهم معدن در اقتصاد کشور در ۲۰ سال گذشته، در حد یک درصد متوقف مانده است، در حالی که تعداد معادن فعال کشور طی این مدت، از حدود ۵۰۰ معدن به ۵۴۰۰ معدن افزایش یافته و میزان تولید از حدود ۱۲۰ میلیون تن، به بالغ بر ۳۹۰ میلیون تن افزایش یافته است. (iranarze.ir)

کدام مورد، در صورتی که صحیح فرض شود، به بهترین وجه تناقض ظاهری موجود در متن را برطرف می‌سازد؟

(۱) معادن موجود، با تمام ظرفیت خود کار نمی کنند.

(۲) بسیاری از تولیدات معدنی، به جای استفاده داخلی به خارج صادر میشوند

(۳) استفاده از فناوری در صنعت معدن، به مانند گذشته است و پیشرفتی نداشته است.

(۴) نرخ رشد بازدهی در دیگر بخش های اقتصادی، متناسب با رشد مربوطه در صنعت معدن بوده است.

راهنمایی: با توجه به اطلاعات زیر به ۴ سوال بعدی پاسخ دهید.

چهار نفر به اسامی A، B، C و D، هر کدام دارای یکی از مهارت های T₁، T₂، T₃، T₄، هستند. مدیر یک شرکت قرار است چهار پست Z، X، Y و S را بر اساس مهارت های این افراد، به آنها واگذار کند. این مدیر در واگذاری پست ها به افراد، با محدودیت های زیر، مواجه است:

B برای پست Y مناسب نیست.

پست Z نیاز به مهارت T₄ دارد.

C دارای مهارت T₂ است.

نه A و نه کسی که پست X به وی واگذار می شود، هیچ کدام مهارت T₃ را ندارند.

۱۱۰- اگر پست S به دلیل اینکه B دارای مهارت T₁ است، به وی واگذار شده باشد، A دارای کدام مهارت و کدام پست است؟ (iranarze.ir)

- (۱) Y، T₁ (۲) S، T₁ (۳) X، T₁ (۴) Z، T₄

۱۱۱- اگر پست X به D واگذار شود. کدام مورد درخصوصی B، صحیح است؟ (iranarze.ir)

- (۱) دارای مهارت T₃ است. (۲) دارای مهارت T₄ است
 (۳) پست Z، به وی واگذار می شود. (۴) یا دارای مهارت T₄ است یا پست Z به وی واگذار شده است.

۱۱۲- اگر پست Y به A واگذار شود، کدام مورد، لزوماً صحیح است؟ (iranarze.ir)

- (۱) پست Z به B واگذار می شود. (۲) پست S، به B واگذار می شود.
 (۳) پست S، نیاز به مهارت T₃ دارد. (۴) پست Z، به D واگذار می شود.

۱۱۳- اگر پست Z، به B واگذار شود، نوع مهارت چند نفر از این چهار نفر، به طور قطع مشخص می شود؟ (iranarze.ir)

- (۱) ۴ (۲) ۳ (۳) ۲ (۴) ۱

راهنمایی: چهار سوال بعدی را به دقت بخوانید و پاسخ صحیح آن را در پاسخنامه علامت بزنید.

۱۱۴- در رشته اعداد زیر، از چپ به راست، بین اعداد ارتباط خاصی برقرار است. به جای علامت سؤال کدام عدد باید قرار گیرد؟ (iranarze.ir)

? , ۷۷ , ۷۰ , ۶۲ , ۴۹ , ۳۸ , ۲۸

- (۱) ۸۵ (۲) ۸۷ (۳) ۸۹ (۴) ۹

۱۱۵- در شکل روبه‌رو، چند مثلث وجود دارد؟ (iranarze.ir)



- (۱) ۲۸ (۲) ۳۲ (۳) ۳۶ (۴) ۴۰

۱۱۶- اگر طول مستطیلی که نسبت عرض به طول آن ۳ به ۴ است. ۶۰ درصد کاهش یابد، عرضی این مستطیل چند درصد باید افزایش یابد تا محیط آن تغییری نکند؟ (iranarze.ir)

۸۰ (۴)

۹۶ (۳)

۴۵ (۲)

۷۵ (۱)

۱۱۷- معلمی تعدادی مسئله را بین سه دانش آموز به اسامی A، B و C به ترتیب به نسبت های ۲، ۴ و ۳ تقسیم می کند. اگر وی به B نسبت به C، ۱۰ مسئله بیشتر داده باشد، به A چند مسئله داده است؟ (iranarze.ir)

۴۰ (۴)

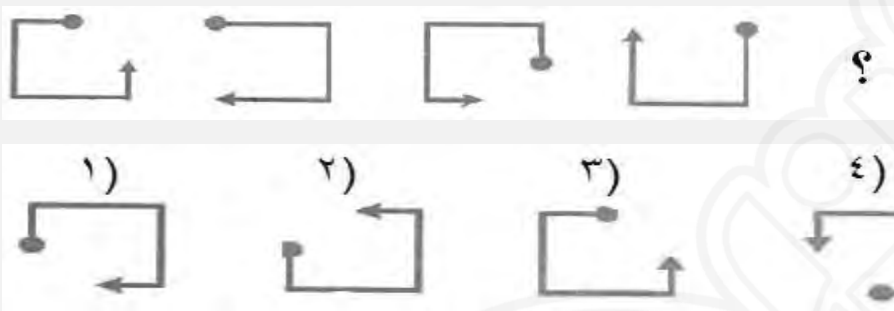
۳۰ (۳)

۲۰ (۲)

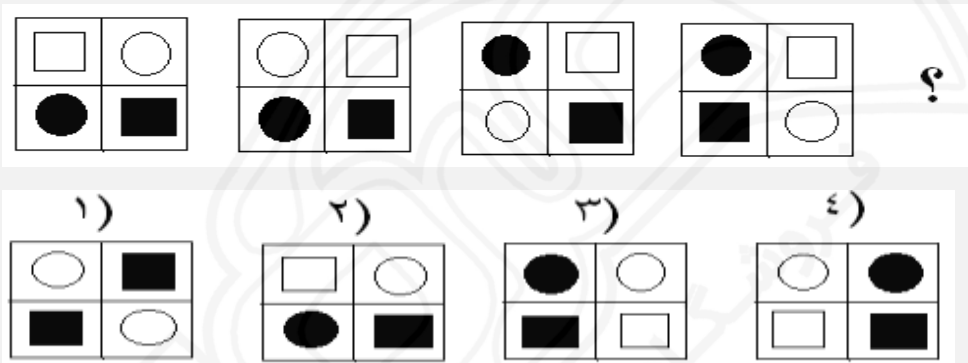
۱۰ (۱)

راهنمایی: در دو سوال بعدی، از چپ به راست، بین الگوها ارتباط خاصی وجود دارد. به جای علامت سؤال کدام الگو (موارد ۱ تا ۴) باید قرار بگیرد تا این ارتباط حفظ شود.

iranarze.ir - ۱۱۸

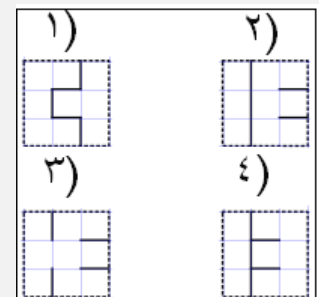
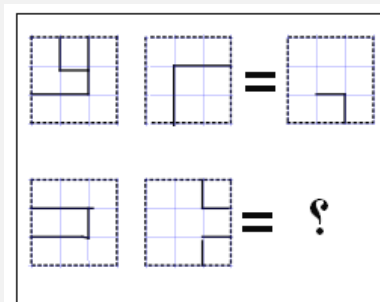


iranarze.ir - ۱۱۹



راهنمایی: در سؤال بعدی، دو تساوی ارائه شده است. که در تساوی پایین، همان ارتباطی برقرار است که در تساوی بالا برقرار است. به جای علامت سؤال، کدام الگوی (موارد ۱ تا ۴) باید قرار بگیرد؟

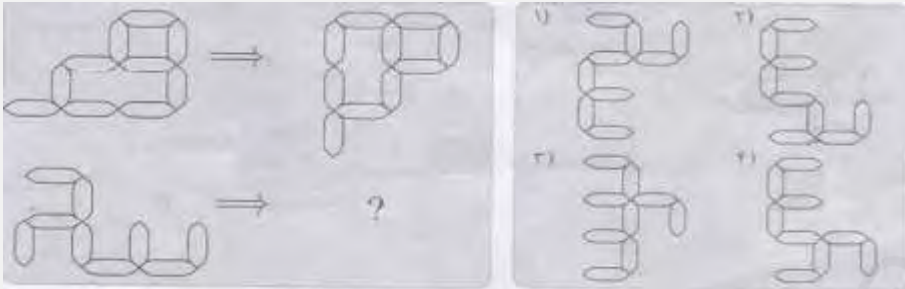
iranarze.ir - ۱۲۰



راهنمایی: در سؤال بعدی، الگوهای سمت چپ طبق قاعده ای خاص به الگوی سمت راست تبدیل می شوند. به جای علامت سؤال، کدام الگو (موارد ۴ تا ۱) باید

قرار بگیرد؟

(iranarze.ir) - ۱۲۱



زبان انگلیسی - عمومی

۱۲۲ - Scientists have set up so many experiments to How earthquakes happen .. (iranarze.ir)

- ۱) Tend ۲) Solve ۳) Find out ۴) Keep

۱۲۳- This is a very light chair. It is ... of a series of aluminum tubes. (iranarze.ir)

- ۱) Composed ۲) Consist ۳) Aware ۴) Afraid

۱۲۴ - Moslems ... Their shoes whenever they want to enter a mosque. (iranarze.ir)

- ۱) Keep on ۲) Take off ۳) Put on ۴) Turn off

۱۲۵- The teacher asked the student ... lesson ۵. (iranarze.ir)

- ۱) That she had studied ۲) That she has studied

- ۳) If she had studied ۴) Has she studied.

۱۲۶- This must be kept a ... between us. Nobody should know it. (iranarze.ir)

- ۱) Covered ۲) Secret ۳) Known ۴) Puzzle

۱۲۷- The stories ... either in English or Persian. (iranarze.ir)

- ۱) Can be told ۲) Will tell ۳) Can tell ۴) Can be tell

۱۲۸- If had treated her well she ... (iranarze.ir)

- ۱) Wont leave ۲) Dose not Leave ۳) Had Left ۴) Would not have left

۱۲۹- ... , follow the directions on the bottle carefully. (iranarze.ir)

- ۱) When taking drugs ۲) When one takes drugs

- ۳) When, in taking drugs ۴) Wen taken drugs

۱۳۰- These Flowers are really beautiful although they are... (iranarze.ir)

- ۱) Artificial ۲) Official ۳) Special ۴) Social

۱۳۱- Before anyone could photograph the strange looking bird,... (iranarze.ir)

- ۱) It was flying away ۲) It has flown away ۳) It had been flying away ۴) It flew away

۱۳۲ - They are my best friends, I always respect... (iranarze.ir)

- ۱) Their ۲) They ۳) Them ۴) Themselves

۱۳۳ - Created something which did not exist before means. (iranarze.ir)

- ۱) Discover ۲) Calculate
۳) Invent ۴) Involve

۱۳۴- I wish you ... it last week. (iranarze.ir)

- ۱) Sent ۲) Could sent ۳) Could have sent ۴) Have sent

۱۳۵- Are you still here? You were here half an hour ago. Who...for? (iranarze.ir)

- ۱) Do you wait ۲) Did you wait ۳) Had you waited ۴) Are you waiting

۱۳۶- The world is changing all the time, so are words. This sentence means that... ? (iranarze.ir)

- ۱) The world is changing, not words
۲) Words are changing, not worlds
۳) Only worlds are changing all the time
۴) Not only the world but also words are always changing

ایران عرضه

مرجع نمونه سوالات

آزمون های استخدامی سراسری

به همراه پاسخنامه تشریحی

خدمات ایران عرضه:

- ارائه اصل سوالات آزمون های استخدامی
- پاسخنامه های تشریحی سوالات
- جزوات و درسنامه های آموزشی

برای دانلود رایگان جدیدترین سوالات استخدامی ادوار گذشته آموزش و پرورش ، اینجا بنزید

همچنین جهت مشاهده آخرین اخبار استخدامی آموزش و پرورش ، اینجا بنزید

