

اصل سوالات عمومی

آزمون استخدامی

بانک ملت - ۱۴۰۱

توضیحات فایل:

- حاوی سوالات آزمون ۱۶ دی ۱۴۰۱
- اصل سوالات برگزار شده
- با قابلیت پرینت

برای تهیه بسته کامل سوالات استخدامی بانک ملت به همراه پاسخنامه، [اینجا](#) کلیک نمایید.

جهت کسب اطلاعات بیشتر در ارتباط با آخرین اخبار استخدامی بانک ملت، [اینجا](#) کلیک نمایید.

۱- در کلمات « نغز: نیکو / الیم: بسیار دانا / سلاح: آشتی / اصرار: رازها » با توجه به معنی آن‌ها چند غلط املائی وجود دارد؟
 (۱) چهار (۲) یک (۳) دو (۴) سه

۲- املائی کدام کلمه با توجه به معنی آن درست نیست؟

- (۱) همت = قصد و اراده (۲) کمند = ریمان (۳) غریب = نزدیک (۴) تواضع = فروتنی

۳- از شاعران معاصر است. وی در مشهد به دنیا آمد و برای تحصیلات مقدماتی از مکتب نیشابوری بهره‌مند شد. وی و اجتماعی خود را در روزنامه خراسان به چاپ رسانید. او در دوران زندگی خود به مطالعه، تدریس و مبارزه با حکومت ظالم زمان خود (۱) شهریار (۲) محمد تقی بهار (۳) خواجه نصیر الدین توسی (۴) فردوسی

۴- در کدام گزینه، آرایه تشبیه وجود ندارد؟

- (۱) علی آن شیر خدا، شاه عرب / الفتی داشته با آن دل شب
 (۲) شب شفته است مناجات علی / جوشش چشمه‌ی عشق ازلی
 (۳) فجر تا سینه‌ی آفاق شکافت / چشم بیدار علی، خفته نیافت
 (۴) کلماتی چو در آویزه‌ی گوش / مسجد کوفه هنوزش مدهوش

۵- بیت «امینوار بود آدمی به خیر کسان / مرا به خیر تو امید نیست / شر مرسان» با کدام بیت تناسب مفهومی دارد؟

- (۱) گاهی از خاک درت مرهم به زخم ما بیند / این چنین مگذار ما را یا رها کن یا بیند
 (۲) مرا وصال نیاید، همان امید خوش است / نه هر که رفت، رسید و نه هر که گشت، درود
 (۳) از پیش کسی کار کسی نگشاید / امید به کردگار می‌باید داشت
 (۴) ستان جور بر دل ریش کم زن / چو مرهم می‌سازی تیش کم زن

۶- کدام گزینه مفهوم عبارت «تان خود خوردن و نشستن به، که کمر زرین بستن و به خدمت ایستادن.» را به درستی بیان می‌کند؟

- (۱) اگر انسان حاصل زحمت خود را بخورد و بنشیند، بهتر از آن است که دست به کمر بایستد
 (۲) اگر انسان حاصل زحمت خود را بخورد و بنشیند، بهتر از آن است که کمر بند طلایی بسته و خدمتگزار دیگران باشد.
 (۳) بهتر آن است که انسان، کمر بند طلایی بسته و خدمتگزار دیگران باشد تا اینکه بنشیند و بخورد.
 (۴) بهتر است که انسان تلاش کند و ایستادگی داشته باشد، تا اینکه فقط بنشیند و بخورد.

۷- مفهوم بیت «عشق را خواهی که تا پایان بری / بس که بیستید باید ناپسند» با کدام گزینه مناسب است؟

- (۱) جمال کعبه چنان می‌کشاند به نشاط / که خارهای مفیضان حریر می‌آید
 (۲) عشق لوباز اندر آوردم به بند / کوشش بسیار نامد سودمند
 (۳) چه نارد جهان جز دل و مهر یار / مگر توده‌هایی ز پندارها
 (۴) یک‌رتگی و بوی تازه از عشق بگیر / پرسوزترین گدازه از عشق بگیر

۸- سدی در کدام بیت «گوشه‌گیری» را سفارش کرده است؟

- (۱) نباید سخن گفت ناساخته / نشاید بریدن نیتناخته
 (۲) درون دلت شهر بند است راز / نگر تا ببیند در شهر باز
 (۳) صدقوار گوهر شناسان راز / دهان جز به لؤلؤ نکرند باز
 (۴) اگر پای در دامن آری چو کوه / سرت ز آسان بگذرد در شکوه

۹- مفهوم بیت « دود اگر بالا نشیند کسر شأن شعله نیست / جای چشم ابرو بگیرد، گرچه او بالاتر است» با کدام بیت تناسب دارد؟

- (۱) به هم دانا و نادان کی بود خوش / کجا دمساز باشد آب و آتش
 (۲) دل نازک به نگاه کجی آزرده شود / خار در دیده چو افتاد کم از سوزن نیست
 (۳) نه هر که صدرتشین شد عزیز شد که غبار / اگر به دیده رسد توتیا نخواهد شد
 (۴) خار و سمن هر دو به نسبت گیاست / این خسک دیده و آن توتیاست

۱۰- مقصود دقیق مصراع « لب و دندان سنایی همه توحید تو گوید» چیست؟

- (۱) با خلوص نیت (۲) با دیده‌ی عقل (۳) با بینش فراوان (۴) با تمام وجود

۱۱- وقتی کسی کاری را به خوبی و درست شروع می‌کند و در وقت خستگی و دردت
۱۲- فلفل نین چه بزرگ بشکن بین ده لیزه
۱۳- یونجه را اثر پدید می‌شمرند

۱۲- کدام گزینه به شرب المتل ۵ نوشدارو بعد از مرگ سهراب به ارتباط معنایی و مفهوم ندارد؟
۱- قیای بعد از غیب برای گل منار خوب است
۲- علاج واقعه قبل از وقوع باید کرد
۳- آب رفته به جوی باز آید / کارها به از آنکه بود کند
۴- چه سود آنکه که ماهی مرده باشد / که باز آید به جوی رفته آید

۱۳- کاربرد کدام گزینه خلاف آیین نگارش فارسی است؟
۱) اعلی‌تر
۲) دوگانگی
۳) حسن خوبی
۴) سوابق گذشته

۱۴- کدام جمله کژتابی ندارد و به ویرایش نیز نیاز ندارد؟
۱) به دوست همسایه‌ام سلام کردم.
۲) سعید با پدر و مادر معلمش برگشت.

۱۵- کدام گزینه از نکات مورد توجه در هنگام نوشتن نیست؟
۱) ساده و خوانا بنویسیم.
۲) از آرایه و عبارات زیبای شاعرانه استفاده کنیم.

۱۶- کدام کلمه با سه کلمه دیگر هیچ گونه مناسبتی ندارد؟
۱) قندان
۲) خندان
۳) گلدان
۴) نمکدان

۱۷- رابطه کلمه کشمش با غوره مانند رابطه کلمه با است.
۱) یخ - بخار
۲) خاک - مجسمه
۳) نان - خمیر
۴) آرد - یونجه

۱۸- در سری ۲، ۷، ۱۷، ۳۷، ؟ به جای علامت سوال چه عددی قرار می‌گیرد؟
۱) ۲۵
۲) ۶۷
۳) ۷۷
۴) ۹۴

۱۹- اگر مساحت دو مستطیل با یکدیگر برابر باشند، الزاماً باید
۱) دو مستطیل مساوی باشند.
۲) دو مستطیل معادل باشند.
۳) قطرها، دو مستطیل با هم برابر باشند.
۴) حاصل ضرب طول و عرض در هر دو یکسان باشد.

۲۰- پنج کار در ۲۰۰ متر مربع دیوار را در مدت ۲ روز نقاشی می‌کنند. در چه مدتی ۲۰ کارگر ۴۰۰ متر مربع را نقاشی می‌کنند؟
۱) ۱ روز
۲) ۲ روز
۳) ۴ روز
۴) ۸ روز

۲۱- در یک کیسه، دو رنگ مهره وجود دارد. حداقل چند مهره از کیسه بیرون بیاوریم تا حتماً دو مهره یک‌رنگ داشته باشیم؟
۱) ۲
۲) ۳
۳) ۴
۴) امکان ندارد.

۲۲- اگر فروشنده‌ای کالایی را که ۶۰ ریال خریده است به ۷۲ ریال بفروشد، معادل ۴۰ ریال از آن کالا را چند ریال بفروشد تا به همان
۱) ۵۰
۲) ۴۶
۳) ۴۸
۴) ۵۴

۲۳- محمود در سال ۱۳۲۰ و حمید در سال ۱۳۲۵ خورشیدی متولد شده است. اگر حمیده کوچکتر از محمود باشد،
۱) حمیده بزرگتر از حمید است.
۲) حمیده کوچکتر از حمید است.
۳) حمیده با حمید هم‌سال است.
۴) هر سه مورد ممکن است.

۲۴- اگر p عددی بین ۲ و ۶ باشد و q عددی بین ۱۵ و ۶۰ را نشان دهد. $\frac{q}{p}$ بین کدام دو عدد زیر است؟

- (۱) ۵ و ۱۰ (۲) ۲۰ و ۵ (۳) $10\frac{1}{2}$ و ۱۰ (۴) $20\frac{1}{2}$ و ۲۰

۲۵- کدامیک از اعداد زیر نسبت به سایر اعداد متفاوت است؟

- (۱) $\sqrt{21}$ (۲) $\sqrt{121}$ (۳) ۱۳ (۴) ۱۷

۲۶- عقربه‌های یک ساعت در آینه ساعت ۲:۳۰ را نشان می‌دهد. ساعت چند است؟

- (۱) ۷:۳۰ (۲) ۱۰:۳۵ (۳) ۷:۴۰ (۴) ۸:۳۰

۲۷- امروز پس فردای روزی است که سه هفته از ۱۵ خرداد می‌گذرد. اگر ۱۰ اردیبهشت دوشنبه باشد، فردا چندشنبه خواهد بود؟

- (۱) چهارشنبه (۲) پنجشنبه (۳) جمعه (۴) شنبه





۲۸- حسن یا زن برادر پدر خود در اتاق نشسته است. تازه داماد آن خانم یا همسرش وارد می‌شود. هر دو با حسن چه نسبتی دارند؟

- (۱) دخترعمو (۲) زن برادر (۳) برادرزاده (۴) خواهر

۲۹- در یک زبان، "تانا دونا مگا" به معنی "آب بسیار سرد"، "تانا تانا" به معنی "آب گرم" و "دونا بلا" به معنی "بسیار خوب" است. کدام کلمه به معنی سرد است؟

- (۱) تانا (۲) دونا سرد (۳) مگا (۴) تا

۳۰- رابطه  یا  مثل  با است.

- (۱)  (۲)  (۳)  (۴) 

۳۱- با ترکیب کدام کلید می‌توان کل محتوای یک پوشه را انتخاب نمود؟

- (۱) Alt+A (۲) Ctrl+A (۳) Shift+A (۴) Alt+C

۳۲- از چه دستوری جهت بازیافت اطلاعات حذف شده استفاده می‌شود؟

- (۱) Redo (۲) Undo (۳) Restore (۴) Remove

۳۳- کدامیک، ابزاری برای مقابله نرم‌افزاری و سخت‌افزاری در برابر تهاجمات انجام شده از طریق اینترنت می‌باشد؟

- (۱) Java (۲) ویروس کشی (۳) Firewall (۴) هیچکدام

۳۴- گزینه Standby در منوی Turn Off Computer چه عملی را انجام می‌دهد؟

- (۱) رفتن به حالت آماده به کار (۲) خاموش کردن کامپیوتر (۳) راه اندازی مجدد سیستم عامل (۴) راه اندازی مجدد سیستم عامل در dos

۳۵- در ارسال Email، کادر To و Subject به ترتیب باید حاوی چه چیزهایی باشد؟

- (۱) نام گیرنده و موضوع نامه (۲) موضوع نامه و آدرس وب گیرنده (۳) موضوع نامه و آدرس گیرنده (۴) آدرس ایمیل گیرنده و موضوع نامه

۳۶- کدامیک از گزینه‌های زیر، به معنی پست الکترونیکی است؟

- (۱) WWW (۲) G-Mail (۳) Wi-Fi (۴) E-Mail

۳۷- دکمه Format Painter کدامیک از عملیات زیر را انجام می‌دهد؟

- (۱) رنگ نمودن قالب‌بندی (۲) کپی نمودن قالب‌بندی (۳) پر کردن خودکار خانه‌ها (۴) تغییر دادن قالب‌بندی

سوالات آزمون عمومی مقطع کارشناسی

۲۸- با کدام گزینه می توان جدول رسم کرد؟

۱) سرپرگ Home، گروه Table، دکمه Font

۲) سرپرگ Insert، گروه Illustrations، دکمه Chart

۳) سرپرگ Insert، گروه Table، دکمه Insert Table

۴) سرپرگ View، گروه Document view، دکمه Print Layout

۳۶- در ورد برای تقسیم یک خانه به چند خانه از کدام فرمان استفاده می شود؟

۱) Hide Gridlines

۲) Convert

۳) Split Table

۴) Split Cell

۳۰- کدام گزینه از کاربردهای اصلی Excel نمی باشد؟

۱) انجام امور نشر رومیزی و تایپ

۲) تهیه دفتر حسابداری

۳) تهیه نمودار گرافیکی

۴) فاکتور فروش

۴۱- برای نمایش کارمندی که متولد استان اصفهان هستند، از کدام گزینه در اکسل استفاده می شود؟

۱) Sort

۲) View

۳) Filter

۴) Function

۴۲- در Excel حاصل عبارت $4*3+2*3*2=$ با توجه با اولویت عملگرها کدام است؟

۱) ۲۸

۲) ۴۰

۳) ۷۶

۴) ۴۲

۴۳- کاربرد برنامه Power Point، در چه زمینه ای است؟

۱) طراحی تصاویر گرافیکی

۲) طراحی برنامه های نمایشی

۳) طراحی انیمیشن

۴۴- جهت اعمال جلوه های متحرک به اشیای اسلاید از کدام گزینه استفاده می شود؟

۱) Slide transition

۲) Slide Show

۳) Action

۴) Custom Animation

۴۵- حداکثر تعداد اسلایدهای یک فایل پاورپوینت چقدر است؟

۱) ۵۰

۲) ۱۰۰

۳) ۲۰۰

۴) محدودیتی ندارد

Shhh! Listen! A nostalgic tune on the radio.

1) is playing

2) was playing

3) has played

4) plays

Have you read that book the life of Van Gogh?

1) out

2) of

3) over

4) in

Do you know time it is?

1) which

2) when

3) what

4) how

I've tried those tablets and they haven't done me any.....

1) benefit

2) good

3) better

4) best

I've had watched birds fly by throwing into the air.

1) ourselves

2) herself

3) ourselves

4) themselves

I want to visit other countries but I find the of travel is too high.

1) way

2) cost

3) expenses

4) currency

I had only had my computer for three weeks when I had to have the hard drive

1) replaced

3) retaken

4) revived

ایران عرضه مرجع نمونه

سوالات آزمون های استخدامی

سایر محصولات استخدامی:

- تست های دروس عمومی و تخصصی
- با پاسخنامه های تستی و تشریحی
- جزوات آموزشی

برای تهیه بسته کامل سوالات استخدامی بانک ملت

ایران عرضه [اینجا](#) کلیک نمایید.

برای تهیه بسته کامل سوالات استخدامی بانک ملت به همراه پاسخنامه، [اینجا](#) کلیک نمایید.

جهت کسب اطلاعات بیشتر در ارتباط با آخرین اخبار استخدامی بانک ملت، [اینجا](#) کلیک نمایید.