



کد محصول
ES276



آخرین بروزرسانی
۱۲ آذر ۱۴۰۳

سوالات استخدامی

بانک سینا

✓ مطابق با منابع اعلام شده آزمون ۱۴۰۳

✓ نسخه رایگان شامل ۴۹۶ سوال (تعداد کمتر و تنها برخی دارای پاسخ)

✓ برای تهیه نسخه اصلی، با ۹۹۲ سوال به همراه پاسخنامه تشریحی، به سایت ایران عرضه مراجعه نمایید.



فهرست مطالب

- ❖ فصل اول: سوالات زبان و ادبیات فارسی - صفحه ۳
- ❖ فصل دوم: سوالات مهارت های هفتگانه کامپیوتر (ICDL) - صفحه ۱۱
- ❖ فصل سوم: سوالات زبان انگلیسی عمومی - صفحه ۲۰
- ❖ فصل چهارم: سوالات هوش و استعداد تحصیلی - صفحه ۲۹
- ❖ فصل پنجم: سوالات GMAT - صفحه ۴۰
- ❖ فصل ششم: سوالات مفاهیم پولی، مالی و خدمات بانکی
 - ◀ بخش اول: سوالات بانکداری داخلی - صفحه ۵۰
 - ◀ بخش دوم: سوالات دانش علوم بانکی - صفحه ۵۸
 - ◀ بخش سوم: سوالات اصول بانکداری - صفحه ۶۴
 - ◀ بخش چهارم: سوالات بازارهای مالی و سرمایه - صفحه ۷۲
 - ◀ بخش پنجم: سوالات آشنایی با خدمات الکترونیکی بانکی - صفحه ۷۹
- ❖ فصل ششم: اصل سوالات آزمون استخدامی بانک سینا سال ۱۳۹۸
 - ◀ هوش عمومی - صفحه ۸۳
 - ◀ ادبیات - صفحه ۸۴
 - ◀ دانش رایانه ICIDL - صفحه ۸۵
 - ◀ زبان انگلیسی - صفحه ۸۶

در هر بخش، تنها ۱ سوال ابتدایی دارای پاسخنامه تشریحی می باشد. در صورت تمایل به دریافت سوالات بیشتر با جواب تشریحی می توانید این محصول را از سایت ایران عرضه خریداری نمایید.

خرید محصول

❖ فصل اول: سوالات زبان و ادبیات فارسی

۱- مفهوم کدام بیت در مقابل آن درست ذکر نشده است؟ (iranarze.ir)

- (۱) از گفته‌ی ناکرده و بیهوده چه حاصل؟
 (۲) دادند دو گوش و یک زبانت ز آغاز
 (۳) آن شاخ که سر برکشد و میوه نیارد
 (۴) تو به صورت رفته‌ای ای بی‌خبر
- کردار نکو کن که نه سودی است نه گفتار: (پرهیز از علم بی‌حاصل)
 یعنی که دو بشنو و یکی بیش مگوی: (پرهیز از گزاف گویی)
 فرجام، به جز سوختنش نیست سزاوار: (پرهیز از بی‌ثمری)
 زان ز شاخ معنی‌ای بی‌بار و بر: (پرهیز از ظاهر بینی)
- ❑ پاسخ سایت ایران عرضه: گزینه ۱ ← مفهوم نوشته شده در مقابل تمامی بیت ها به غیر از بیت گزینه یک صحیح میباشد. در گزینه ۱ مفهوم بیت به به بیهوده بودن سخن بی عمل و واهی اشاره دارد و میگوید که به رفتار نیکو اهمیت بده که سودی در گفتار تنها نیست. در گزینه دو به پرهیز از اضافه گویی، در گزینه ۳ به پرهیز از بی عاری و بی ثمری و در گزینه ۴ به پرهیز (منبع ایران عرضه) از ظاهر و رو بینی توصیه شده است

۲- در کدام گزینه تضاد وجود دارد؟ (iranarze.ir)

- (۱) دست در دامن مولا زد، در
 (۲) دهقان چو تنور خود از بن هیمه برافروخت
 (۳) برگ درختان سبز در نظر هوشیار
 (۴) گر بود اختیار جهانی به دست من
- که علی بگذر و از ما نگذر
 بگریست سپیدار و چنین گفت دگر بار
 هر ورقش دفتریست، معرفت کردگار
 می‌ریختم تمام جهان را به پای تو

۳- واژه های «خَلْق، کاره، کریت، مرادف» یعنی (iranarze.ir)

- (۱) خواری، زندان، ناشنوایی، هدف
 (۲) جمعیت، کوشا، ناشنوا، هماهنگ
 (۳) نگران، شایسته، اندوه، هدفمند
 (۴) کهنه، ناپسند، اندوه، مترادف

۴- (تهیه شده توسط ایران عرضه) از نظر اصول ویرایش زبان و نگارش معیار فارسی، کدام جمله درست است؟

- (۱) فناوری می رود که چهره زمین را به کلی دگرگون کند
 (۲) روی دوست بی صداقت حساب نکن
 (۳) ممکن است فردا باران بیاید
 (۴) من روی این کار، خیلی وقت گذاشته ام

۵- در عبارت «گو شمع میارید در این جمع که امشب / در مجلس ما ماه رخ دوست تمام است» چند صفت وجود دارد؟

(۱) یک صفت (۲) دو صفت (۳) سه صفت (۴) چهار صفت

۶- در بیت کدام واژه «ایهام» دارد؟ (iranarze.ir)

«چشم چپ خویشتن بر آرم تا روی نبیندت به جز راست»

(۱) خویشتن (۲) چشم (۳) چپ (۴) راست

۷- معنی غماز چیست؟ (iranarze.ir)

(۱) حيله گر (۲) سارق (۳) سخن چین (۴) اندوهگین

۸- در بیت زیر ترکیب «مرغ حق» استعاره از کیست؟ (iranarze.ir)

چون صفیری شنوی از مرغ حق ظاهرش را یادگیری چون سبق

(۱) عارف روشن ضمیر (۲) عالم خردمند

(۳) دانشمند ساده اندیش (۴) صوفی ظاهرین

۹- در مصرع «لاله و گل زخمی خمیازه اند» منظور از «خمیازه» چیست؟ (iranarze.ir)

(۱) بسته شدن (۲) پرپر شدن (۳) شکفته شدن (۴) بویا شدن

۱۰- در کدام بیت آرایه تشبیه وجود ندارد؟ (iranarze.ir)

(۱) یک کس به فکر عاقبت کار خویش نیست

(۲) حیف و صد حیف که از آب مروت خالی است

(۳) خواهم سخنی گفت مرنج ای گل رعنا

(۴) هرگز گلی سراغ شبستان ما نکرد

۱۱- ساقی نامه‌ها چگونه شعرهایی هستند؟ (iranarze.ir)

(۱) معمولاً در قالب مثنوی شاعر از ساقی می‌خواهد به او باده‌ای دهد و سرودی درباره ناپایداری دنیا و جفای روزگار بسراید.

(۲) معمولاً در قالب غزل است و شاعر در وصف می و زیبایی‌های معشوق می‌سراید.

(۳) معمولاً در قالب مثنوی است و شاعر از ساقی می‌خواهد باده‌ای دهد و از ناپایداری دنیا و عشق به معشوق الهی بسراید.

(۴) معمولاً در قالب غزل است و شاعر در وصف مست شدن از زیبایی‌های ساقی می‌سراید.

۱۲- کدام گزینه درست است؟ (iranarze.ir)

(۱) طالب آملی، بیدل دهلوی و غنی کشمیری شاعران سبک هندی هستند.

(۲) فرخی، منوچهری، عنصری نمایندگان سبک عراقی هستند.

(۳) قآنی، نشاط اصفهانی، سوش اصفهانی نمایندگان سبک بازگشت ادبی هستند.

(۴) عراقی، کمال الدین اصفهانی، سنایی نمایندگان سبک خراسانی هستند.

۱۳- کدام عبارت از نظر نگارشی «نادرست» است (تالیف توسط سایت ایران عرضه)؟! (iranarze.ir)

(۱) تا از جان و دل نکوشیم به سرافرازی نخواهیم رسید

(۲) دوستم برگشت چون تصمیم جدی آن ادامه تحصیل بود

(۳) مشکل بود که آنها از رودخانه بگذرند

(۴) چون از تاخیر قطار خبر داشتیم، عجله نکردیم

۱۴- رسم الخط «کدام واژه «غلط» است؟ (iranarze.ir)

(۱) آزادگان - توانایی است (۲) بدست آورید - میروید

(۳) به راه افتادن - چشم به راه (۴) علاقه مند - بیهوده

۱۵- برای نشان دادن عبارت های توضیحی در جمله، کدام نشانه گذاری به کار می رود؟ (iranarze.ir)

(۱) پرانتز () (۲) دو نقطه (:) (۳) تعجب (!) (۴) قلاب []

۱۶- کدام عبارت نیاز به ویرایش دارد؟ (iranarze.ir)

(۱) نتایجی که امروز به دست آمد را گزارش می کنم

(۲) واژگان و تعبیر های مناسب به نوشته ارزش هنری می بخشد

(۳) صدای شکفتن دل با نسیم محبت جان مشام را می نوازد

(۴) باغبان محبت همیشه نگران پر پر شدن غنچه هاست

۱۷- در کدام مورد، «ساختمان واژه» متفاوت است؟ (iranarze.ir)

(۱) آرایشگر - ناهماهنگی (۲) روانداز - جانماز

(۳) هموطن - خوردنی (۴) ناشناس - بی استعداد

۱۸- بیت زیر با کدام بیت «تقابل» مفهومی ندارد؟ (iranarze.ir)

«دل نیست کبوتر که چو برخاست نشیند از گوشه بامی که پریدیم پریدیم»

(۱) از کمند عشق نتوان شد خلاص

(۲) عاشق آرامی ندارد ورنه یار

(۳) سعدی آن نیست که هرگز ز کمندت بگریزد که بدانست که در بند تو خوش تر ز رهایی

(۴) گفتمی به روزگاران مهری نشسته گفتم: بیرون نمی توان کرد حتی به روزگاران

۱۹- کدام بیت، با بیت زیر، قرابت مفهومی ندارد؟ (iranarze.ir)

«گریز از کفش در دهان نهنگ که مردن به از زندگانی به ننگ»

(۱) در ره تقوا و دانش رو که بهر کار ملک پیر دانشور به از برنای نادانشور است

(۲) مردن از هرچیز در عالم بتر باشد ولی بنده بیگانگان بودن ز مردن بدتر است

۳) فقر در آزادگی به از غنا در بندگی
 ۴) مردن اندر شیر مردی بهتر از ننگ فرار
 ۲۰- در مصراع رو به رو، کدام نوع صفت به کار رفته است؟ (iranarze.ir)

«هرکه چون قطره شبیم نگران افتاده است.»

۱) مفعولی ۲) فاعلی ۳) نسبی ۴) لیاقت

۲۱- مفهوم بیت زیر از کدام بیت دریافت میشود؟ (iranarze.ir)

(جمال کعبه مگر عذر رهروان خواهد که جان زنده دلان سوخت در بیابانش)

۱) هست به سر تا هوای کعبه مقصود
 ۲) آتش گل همیشه بهار است عشق را
 ۳) خار ار چه جان بکاهد گل عذر آن بخواهد
 ۴) آن چنان کعبه دل را صنمی ویران ساخت
 ۱) هوشش راکب خوش است و جنبش مرکب
 ۲) پروانه را به سیر گلستان چه حاجت است
 ۳) سهل است تلخی می در جنب ذوق مستی
 ۴) که کس از بهر خدا در پی تعمیرش نیست

۲۲- به کارگیری کدام یک از علایم نگارشی در عبارت زیر نادرست است؟ (iranarze.ir)

پیغمبر - علیه السلام - گفت: «چون آخرالزمان بود؛ مومن را خواب کمتر گردد» (خوابگزاری، ص ۳)

۱) پرانتز (()) ۲) نقطه ویرگول (;) ۳) خط فاصله (-) ۴) دونقطه (:)

۲۳- سعدی در کدام بیت « گوشه گیری» را سفارش کرده است؟ (iranarze.ir)

۱) نباید سخن گفت ناساخته / نشاید بریدن نینداخته
 ۲) درون دلت شهر بند است راز / نگر تانبیند شهر باز
 ۳) صدف وار گوهر شناسان راز / دهان جز به لولو نکردند باز
 ۴) اگر پای در دامن آری چو کوه / سرت ز آسمان بگذرد در شکوه

۲۴- وقتی کسی کاری را به خوبی و درست شروع نکند و اما پایان آن کار به نتیجه مطلوب و خوشایند برسد از کدام ضرب

المثل استفاده میشود؟

۱) فلفل نبین چه ریزه، بشکن ببین چه تیزه
 ۲) شاهنامه آخرش خوشه
 ۳) جوجه را آخر پاییز می‌شمرند.
 ۴) سالی که نکوست از بهارش پیداست.

۲۵- پدید آورنده هر یک از آثار رو به رو، به ترتیب چه کسی است؟ (iranarze.ir)

((روضه خلد - مخزن الاسرار - چهار مقاله))

۱) مجد خوافی- نظامی گنجه ای - نظامی عروضی
 ۲) مجد خوافی - نظامی عروضی - خواجه نصیر الدین توسی
 ۳) عنصرالمعالی کیکاووس- نظامی گنجه ای - محمد بن منور

۴) خواجه نصیر الدین توسی - سعد الدین وراویسی - نظامی گنجه ای

۲۶- معنی عبارت ((اجل نآمده، مردم را حسد بکشد))، کدام است؟ (iranarze.ir)

- ۱) انسان حسود، مردم را قبل از اینکه مرگشام فرا برسد، می کشد
- ۲) حسادت باعث مرگ مردم می شود، قبل از اینکه مرگشان فرا برسد
- ۳) حسادت همچون اجل معلق مردم را از پای در می آورد و ناوید میکند.
- ۴) مادام که انسان زنده باشد و اجلس فرانسیده، حسادت انسان هارا به طرف خود می کشد

۲۷- مفهوم کدام بیت، با سایر ابیات، تفاوت دارد؟ (iranarze.ir)

- ۱) نشستنی به جای دگر کس بسی نشیند به جای تو دیگر کسی
- ۲) چو از چابکان در دویدن گرو نبردی هم افتادن وخیزان برو
- ۳) به غفلت بدادی ز دست آب پاک چه چاره کنون جز تیمم به خاک
- ۴) گر آن بادپایان برفتند تیز تو بی دست و پای از نشستن بخیز

۲۸- مفهوم کدام بیت با سایر ابیات متفاوت است؟ (iranarze.ir)

- ۱) به ترک خویش بگو تا به کوی یار رسی که کارهای چنین با خطر تواند بود.
- ۲) ز تنگ چشمی در خاطر تو کی گذرد که هیچ چیز به از سیم و زر تواند بود.
- ۳) وصال دوست طلب می کنی بلاکش باش که خار و گل همه با یکدگر تواند بود.
- ۴) کسی به گردن مقصود دست حلقه کند که پیش تیر بلا سپر تواند بود.

۲۹- معنی کدام واژه نادرست است؟ (iranarze.ir)

- ۱) طالع : گنهار (۲) حشو : زاید (۳) روایح : روح ها (۴) حصین : استوار

۳۰- مقصود دقیق مصراع «لب و دندان سنایی همه توحید تو گوید» چیست؟ (iranarze.ir)

- ۱) با خلوص نیت (۲) با دیده عقل (۳) با بینش فراوان (۴) با تمام وجود

۳۱- بیت «اگر در دیده مجنون نشینی / به غیر از خوبی لیلی نبینی» بیانگر کدام مفهوم زیبایی اخلاقی است؟ (iranarze.ir)

- ۱) عیب پوشی (۲) خوش خویی (۳) آرام جویی (۴) طنازی

۳۲- ضرب المثل «زبان سرخ سر سبز می دهد بر باد» با کدام گزینه در تضاد است؟ (iranarze.ir)

- ۱) سخنان نیش دار به قیمت جان انسان است (۲) زخم زبان از زخم شمشیر بدتر است
- ۳) زبان در دهان، پاسبان سر است (۴) زبان خوش، مار را از سوراخ بیرون می کشد

۳۳- مفهوم عبارت زیر کدام است؟ (iranarze.ir)

«دوستی آن را شاید که وقت خشم تو بر تو ببخشد»

- ۱) کسی شایسته دوستی است که وقتی بر او خشم گیری، از تو در گذرد

- (۲) کسی را می توانی به درستی برگزینی که هرگز بر او خشم نگیری
(۳) دوست خوب کسی است که بر تو خشم نگیرد، حتی اگر به او دشمنی کنی
(۴) کسی می تواند دوست اختیار کند که هنگام خشم بتواند گناه او را ببخشد.

۳۴- کدام جمله از نظر نگارش «غلط» است؟ (iranarze.ir)

- (۱) دیروز بعد از ظهر پدرم به تهران آمده و زود برگشته بود
(۲) وی ایشان را بنشانده و هر یکی را کاردی به دست راست داد
(۳) روزگار ما را آزموده و در کوره حوادث پرورده است.
(۴) زلیخا ایشان را خوانده و جایگاهی ساخته بود.
- ۳۵- نقش دستوری واژه های تعیین شده در ادبیات زیر به ترتیب در کدام گزینه آمده است؟ (iranarze.ir)**

مرا لفظ شیرین خواننده داد/ تو را سمع دراک داننده داد

شنیدم که لقمان سیه فام بود/ نه تن پرور و نازک اندام بود

- (۱) نهاد- مسند (۲) مفعول- نهاد (۳) صفت- نهاد (۴) مضاف الیه- مفعول

۳۶- در کدام بیت آرایه ذکر شده نادرست است؟ (iranarze.ir)

- (۱) دیدی که خون ناحق پروانه شمع را / چندان امان نداد که شب را سحر کند (حسن تعلیل)
(۲) رنگین سخنان در سخن خویش نهان اند / از نکبت خود نیست به هر حال جدا گل (حسن آمیزی)
(۳) چو بوی پیرهننت بشنوم ز خودم بروم / چنان که گویی در پیرهن نمی باشم (متناقض نما)
(۴) حریص را نکند نعمت دو عالم سیر / همیشه آتش سوزنده اشتها دارد (اسلوب معادله)

۳۷- نثر روان بیت زیر در کدام گزینه آمده است؟ (iranarze.ir)

گو یا رب از این گزاف کاری / توفیق دهم به رستگاری

- (۱) بگو خداوند به من توفیق می دهد که از زندگی بیهوده و باطل نجات یابم
(۲) بگو خداوندا من از این کار بیهوده به سمت رستگاری حرکت می کنم
(۳) بگو بارالها به من توفیق رهایی از کار بیهوده عاشقی را هدایت کن
(۴) بگو ای خدا به من لطف کن از این زندگی مادی به تعالی برسم

۳۸- نام چند اثر و پدید آورنده آن نادرست است؟ (iranarze.ir)

- صفیر سیمرغ (اسلامی ندوشن) - قابوس نامه (عنصر المعالی) - سایه عمر (رهی معیری) - زاد المسافرین (مجد خوافی) -
فرهاد و شیرین (وحشی بافقی) - کویر (علی شریعتی) - مرصاد العباد (هجویری) - مصیبت نامه (عطار) - کلیدر (محمود
دولت آبادی) - جنگ و صلح (سیمین دانشور)

- (۱) دو (۲) سه (۳) چهار (۴) پنج

۳۹- در کدام بیت، از نظر ساختمان اسم، واژه مرکب یافت می شود؟ (iranarze.ir)

۱) بازا و جان شیرین از من ستان به خدمت / دیگر چه برگ باشد درویش بی نوا را؟

۲) گر در کمندم می کشی، شکرانه را جان می دهم / کان دل که صید عشق شد دولت شمارد دام را

۳) ای باد از آن باده نسیمی به من آور / کان بوی شفابخش بود دفع خمارم

۴) سخن عشق نه آن است که آید به زبان / ساقیا می ده و کوتاه کن این گفت و شنود

۴۰- در کدام یک از جمله های زیر غلط نگارشی وجود ندارد؟ (iranarze.ir)

۱) از ایشان خواستیم درباره این مسابقه برای شما توضیحاتی داشته باشند.

۲) این ساختمان از نقص های مهندسی فراوانی برخوردار است

۳) کتاب هایی که سال گذشته از نمایشگاه خریدم را هنوز مطالعه نکرده ام

۴) سوابق درخشان آقای احمدی، ما را بیش از پیش امیدوار می کند.

۴۱- در کلماتی که همزه پایانی دارند اگر حرف پیش از همزه ساکن یا یکی از مصوت های بلند «ا»، «و» و «ی» باشد همزه

..... (iranarze.ir)

۱) روی کرسی «ا» نوشته می شود ۲) بدون کرسی نوشته می شود.

۳) روی کرسی «و» نوشته می شود ۴) روی کرسی «ی» نوشته می شود

۴۲- مشهورترین شاعر رمانتیک فرانسه در قرن نوزدهم چه نام دارد؟ (iranarze.ir)

۱) ویکتور هوگو ۲) ژان بل سارتر ۳) امیل زولا ۴) ژاف والژان

۴۳- کتاب سیرالعباد الی المعاد از کیست؟ (iranarze.ir)

۱) حافظ ۲) عطار ۳) سعدی ۴) سنایی

۴۴- نویسندگان «داستان در شهر - رستاخیز - ابله» به ترتیب، صاحب کدام آثار هستند؟ (iranarze.ir)

۱) آرزوهای بزرگ - اناکارنیتا - خانه ارواح

۲) دیوید کابرفیلد - دون کیشوت - برادران کاواماروف

۳) بینوایان - جنگ و صلح - دهکده استپانچکوف

۴) آرزوهای بزرگ - کلبه عمو تم - دهکده استپانچکوف

۴۵- مفهوم کدام بیت، با سایر ابیات تفاوت دارد؟ (iranarze.ir)

۱) ز انقلاب خزان و بهار آسوده است. هوای مملکت بی غبار خاموشی

۲) طوطی از خاموشی آیینه می آید به حرف مهر خاموشی به لب زن تا به دل گویا شوی

۳) هر که زد مهر خاموشی به لب چون و چرا گرچه مور است در این دایره خاتم با اوست.

۴) خاموشی ای که بود خارخار حرف در او به کیش ما نبود در شمار خاموشی

۴۶- کدام عبارت، نیاز به ویرایش دارد؟ (iranarze.ir)

- ۱) نادان هیچکس را هم طراز خویش نمی‌بیند و پیوسته خود را آگاه می‌پندارد
- ۲) کار و تلاش مداوم او را شاگرد اول دانشگاه کرد.
- ۳) کتاب گلستان به وسیله سعدی شیرازی نوشته شده است.
- ۴) شناخت، جدا کردن ارزنده از بی ارزش در همه شئون است.



❖ فصل دوم: سوالات فناوری اطلاعات

۱- حاصل فرمول $\min(\text{sum}(ع; ۳); \text{Max}(۲; ۳))$ چیست؟ (iranarze.ir)

۱۰ (۱) ۷ (۲) ۳ (۳) ۲ (۴)

❑ پاسخ سایت ایران عرضه: گزینه ۳ ⇐ ابتدا نتیجه توابع داخلی را حساب میکنیم. تابع sum جمع دو آرگومان خود را به عنوان خروجی دارد، تابع max نیز بزرگترین مقدار را از بین دو آرگومان خود به عنوان خروجی ثبت میکند. در نهایت تابع min به صورت $\min(7;3)$ خواهد بود که این تابع نیز کوچکترین عدد را از میان دو آرگومان خود به عنوان خروجی ثبت میکند که این خروجی برابر است با ۳

۲- کدام یک از فرمول‌های زیر معدل اعداد درون سلول‌های c4 تا c را نمایش می‌دهد؟ (iranarze.ir)

= average (c4 : c8) (۱) = sum (c4 : c8) (۲)

= average (c4 ; c8) (۳) = sum (c4 ; c8) (۴)

۳- در نمایش آیکن‌ها به طوریکه بتوان نمایش آیکن‌ها را به شکل کاشیکاری دید، از کدام گزینه زیر استفاده می‌شود؟

List (۱) Details (۲) Small Icon (۳) Tiles (۴)

۴- در کدام منو فرمان‌هایی برای سازماندهی اطلاعات پنجره مثل کپی، انتقال، حذف و غیره وجود دارد؟ (iranarze.ir)

Open (۱) New Folder (۲) Navigation pane (۳) Organize (۴)

۵- در پنجره Font کدام گزینه متن را سایه دار می‌کند؟ (iranarze.ir)

Emboss (۱) Shadow (۲) Out Line (۳) Engrave (۴)

۶- اگر در نرم افزار پاورپوینت روی یک اسلاید با دکمه راست ماوس کلیک کنیم، منوی مقابل نمایش داده می‌شود. کدام



گزینه اسلایدی مانند اسلاید انتخاب شده را به فایل ما اضافه خواهد کرد؟ (iranarze.ir)

(۱) گزینه ۱

(۲) گزینه ۲

(۳) گزینه ۴

(۴) گزینه ۶

۷- در نرم افزار Excel 2016، نتیجه عبارت $2*3$ در یک سلول که فرمت آن General است کدام می‌باشد؟ (iranarze.ir)

۸ (۱) 6 (۲) #VALUE! (۳) 2000 (۴)

۸- کدام مورد زیر بین دو جدول در نرم افزار Access 2016 برقرار می‌شود؟ (iranarze.ir)

Relationship (۱) Class (۲) Management (۳) Query (۴)

۹- آنتی ویروس که همراه با ویندوز ۱۰ نصب می‌شود چه نام دارد؟ (iranarze.ir)

Window defender (۲) Nod 32 (۱)

Bit defender (۴)

Kaspersky (۳)

۱۰- در تصویر روبرو نحوه نمایش یک فایل پاورپوینت در منوی view آمده است. کدام گزینه برای جا به جایی و زمان بندی

اسلایدها استفاده می شود؟



Slide sorter (۲)

Notes page (۱)

Normal (۴)

Outline view (۳)

۱۱- relationships در نرم افزار اکسس، چه کاربردی دارد؟ (iranarze.ir)

(۱) نحوه ارتباط بین جداول یک دیتابیس با دیتابیس دیگر را نشان می دهد

(۲) نحوه ارتباط بین جداول یک دیتابیس را نشان می دهند.

(۳) نحوه ارتباط بین فرم ها و جداول یک دیتابیس را نشان می دهد

(۴) نحوه ارتباط بین فیلد های متفاوت یک جدول را نشان میدهد

۱۲- در ورد برای تقسیم یک خانه به چند خانه از کدام فرمان استفاده می شود؟ (iranarze.ir)

Hide Gridlines (۴)

Convert (۳)

Split Table (۲)

Split Cell (۱)

۲۵- کدام گزینه از کاربردهای اصلی Excel نمی باشد؟ (iranarze.ir)

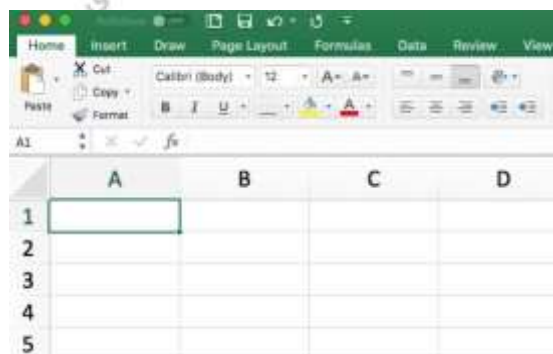
(۲) تهیه دفتر حسابداری

(۱) انجام امور نشر رومیزی و تایپ

(۴) فاکتور فروش

(۳) تهیه نمودار گرافیکی

۱۳- برای نمایش کارمندانی که متولد استان اصفهان هستند، از کدام گزینه در اکسل استفاده می شود؟ (iranarze.ir)



Function (۴)

Filter (۳)

View (۲)

Sort (۱)

۱۴- نحوه نمایش slide sorter در نرم افزار پاورپوینت برای کمک در کدام یک از موارد زیر است؟ (iranarze.ir)

(۱) مشخص نمودن ترتیب نمایش اسلایدها

۲) مشخص نمودن نحوه اتصال دو اسلاید به همدیگر

۳) مشخص نمودن نحوه نمایش هر اسلاید

۴) مشخص نمودن نحوه ترتیب نمایش اجزاء یک اسلاید

۱۵- کدام ویژگی زیر فقط در ویندوز ۱۱ وجود دارد؟ (iranarze.ir)

۱) پین کردن برنامه ها در منوی استارت ۲) ایجاد تب جدید در اکسپلورر

۳) ماشین حساب علمی ۴) وجود نوتیفیکیشن

۱۶- در حالت استاندارد (پیش فرض) کدام مورد زیر برای نام یک سلول در نرم افزار excel 2016 صحیح است؟ (iranarze.ir)

۱) 2B31 ۲) 2F ۳) D13 ۴) D2B

۱۷- در نرم افزار ACCESS 2016 کدام مورد مشخص کنند نوع اطلاعاتی است که قصد داریم در پایگاه داده ذخیره کنیم؟

۱) Index ۲) Validation text ۳) Smart tag ۴) Data type

۱۸- در تصویر روبرو، نحوه نمایش یک فایل power point در منوی view آمده است. کدام گزینه برای جابه جایی و زمان بندی اسلایدها استفاده می شود؟ (iranarze.ir)



۱) Normal ۲) Outline view

۳) slide sorter ۴) notes page

۱۹- تصویر روبرو تنظیمات قلم را در نرم افزار power point نشان می دهد. اعمال زیر به ترتیب توسط کدام بخش های نمایش داده شده در تصویر، انجام می شود؟ «کوچک کردن اندازه قلم- تغییر رنگ قلم- فاصله اندازی بین کاراکترها»



۱) بخش های ۱ و ۴ و ۲ ۲) بخش های ۲ و ۴ و ۵

۳) بخش های ۲ و ۶ و ۵ ۴) بخش های ۱ و ۶ و ۲

۲۰- اصطلاح ATTACHMENT در هنگام کار کردن با سایت های مربوط به پست الکترونیک، به چه معناست؟ (iranarze.ir)

۱) پاسخ دادن به ایمیل های دریافت شده

۲) پیش نویس ایمیل هایی که قرار است ارسال شود

۳) ضمیمه کردن فایل به ایمیل

۴) ارسال یک ایمیل به صورت همزمان به چند نفر

۲۱- شکل زیر بخشی از یک کاربرگ را در نرم افزار Excel 2016 نشان می دهند با در نظر داشتن داده های موجود مهمترین نمودار برای نمایش رشد جذب دانشجو در مقاطع گفته شده کدام است؟ (iranarze.ir)

	A	B	C	D
۱		2014	2016	2017
۲	Bs.d	5	6	9
۳	Ms.d	4	6	7
۴	Phd	2	4	8

Rader (۱)

Pie (۲)

line (۳)

Area (۴)

۲۲- در نرم افزار Access از کدام مورد برای دریافت داده از پایگاه داده در یک پرسو جو (Query) استفاده می شود؟

Get (۱) Extract (۲) obtain (۳) select (۴)

راهنمایی: با توجه به اطلاعات داده شده و شکل زیر سوال ۲۳ پاسخ دهید.

۲۳- ابزار compare برای مقایسه دو سند Word 2016 استفاده می شود. کدام مورد در خصوص مغایرت در دو سند، کدام

مورد توسط این ابزار قابل تشخیص نیست؟ (iranarze.ir)

Document Property (۱) white Spaces (۲)

Case changes (۳) Formatting (۴)

۲۴- در نرم افزار Word ۲۰۱۶، در صورت تایپ فارسی و انتخاب گزینه Right-to-left فشردن کلیدهای → + Ctrl باعث کدام

عمل خواهد شد؟

(۱) نشانگر را به ابتدای پاراگراف می برد

(۲) نشانگر را به انتهای کلمه سمت چپ می برد

(۳) نشانگر را به ابتدای کلمه سمت راست می برد

(۴) نشانگر را به ابتدای جمله می برد

۲۵- شکل زیر بخشی از یک کاربرگ در نرم افزار Excel 2016 را نشان می دهد. حذف ردیف ۲ در این کاربرگ باعث کدام

تغییر در مقدار سلول C4 می شود؟ (iranarze.ir)

	A	B	C
1	1	1	
2	1	1	
3	1	1	
4	1	1	8

(۱) خطای #value!

(۲) مقدار آن ۶ برابر می شود

(۳) خطای #Ref! رخ می دهد

(۴) مقدار آن بدون تغییر باقی می ماند

۲۶- اگر محل ذخیره فایل یا نام آن را فراموش کنیم از کدام قسمت میتوانیم استفاده کنیم؟ (iranarze.ir)

Help (۱) Control Panel (۲) Search (۳) Wordpad (۴)

۲۷- تابعی که مجموع اعداد در یک فایل اکسل را محاسبه میکند کدام است؟ (iranarze.ir)

Sum (۱) Count (۲) Average (۳) Math (۴)

راهنمایی: با توجه به شکل زیر به سوال های ۲۸ تا ۳۰ پاسخ دهید.

	A	B	C	D	E	F	G	H	I
1		category level	10000	10000	10000	10000	10000	10000	10000
2		project A	10000	10000	10000	10000	10000	10000	10000
3		project B	5000	5000	5000	5000	5000	5000	5000
4		project C	2500	2500	2500	2500	2500	2500	2500
5		project D	1250	1250	1250	1250	1250	1250	1250

۲۸- در صورتی که بخواهیم عملیات مرتب سازی و فیلتر به درستی کار کند، نوع داده سلول انتخاب شده، کدام باید باشد؟

Time (۴) Text (۳) Currency (۲) Percentage (۱)

۲۹- وجود در کنار سلول ها به چه معناست؟ (iranarze.ir)

Sort فقط (۱) Filter فقط (۲)

sort and filter (۳) امکان اضافه کردن سلول جدید (۴)

۳۰- ایمیلی که از طریق نرم افزار Microsoft Outlook به آدرس info@sanjesh.org ارسال شده است کدام مورد در

خصوص این ایمیل در سمت گیرنده، صحیح است؟ (iranarze.ir)

(۱) این ایمیل، با ایمیل های دیگر، هیچ تفاوتی ندارد

(۲) این ایمیل، در پوشه ای جدا از ایمیل های دیگر، متمایز می شود.

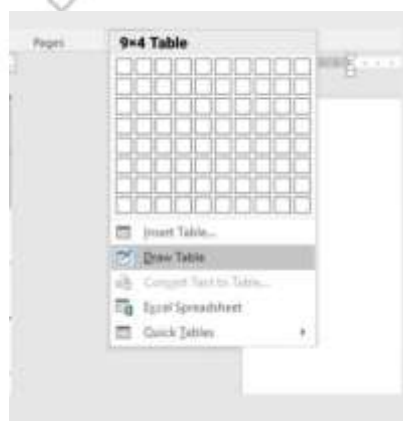
(۳) در موضوع (Subject) این ایمیل می توان تشخیص داد که از طریق نرم افزار Outlook ارسال شده است.

(۴) در امضای (Signature) این ایمیل، می توان تشخیص داد که از طریق نرم افزار Outlook ارسال شده است.

۳۱- حاصل تابع SQRT (ABS (A)) در Excel چه می باشد؟ (مقدار A = -16) (iranarze.ir)

۴ (۱) ۲۵۶ (۲) #Num (۳) ۱۶ (۴)

با توجه به تصویر به سوال ۳۲ پاسخ دهید.



۳۲- کدام گزینه با ابزار Draw Table امکان پذیر نیست؟ (iranarze.ir)

(۱) می توان سلول به جدول اضافه کرد

(۲) می توان خطوط مورب اضافه کرد

۳) می توان برای جدول حاشیه ایجاد کرد

۴) می توان از قبل تعداد سلول ها را وارد کرد یا مشخص کرد

۳۴- عملگر توان در اکسل کدام است؟ (iranarze.ir)

- ۱) % ۲) & ۳) x ۴) ^

۳۵- جهت رفتن به خط بعد در یک سلول نرم افزار Excel از کدام کلید استفاده می شود؟ (iranarze.ir)

- ۱) Enter ۲) Shift+Enter ۳) Alt+Enter ۴) Ctrl+Enter

شکل زیر، بخشی از یک کاربرگ را در نرم افزار Excel نشان می دهد،

۳۶- حاصل سلول D2، کدام است؟ (iranarze.ir)

	A	B	C	D	E	F	G	H
۱	name	score 1	score 2	results				
۲	nichard	93	80					
۳	jennifer	60	91	pass				
۴	james	58	75	fail				
۵	lisa	79	94	pass				
۶	sharon	41	33	fail				
۷								

۱) #NAME?

۲) Pass

۳) #Value!

۴) Fail

۳۷- کدام مورد، برای چاپ اسلایدها در نرم افزار PowerPoint 2016 استفاده می شود؟ (iranarze.ir)

- ۱) Ctrl + P ۲) Shift + P ۳) Ctrl + S + P ۴) Shift + S + P

۳۸- شکل زیر، بخشی از یک کاربرگ در نرم افزار EXCEL ۲۰۱۳ را نشان می دهد. حذف ردیف ۴ در این کاربرگ، باعث کدام

تغییر در مقدار سلول C1 می شود؟ (iranarze.ir)

	A	B	C	D	E
۱					
۲					
۳					
۴					
۵					

۱) خطای REEL رخ می دهد

۲) مقدار آن برابر با ۶ می شود

۳) مقدار آن بدون تغییر باقی می ماند

۴) خطای! VALUE رخ می دهد

۳۹- در نرم افزار EXCEL ۲۰۱۶ کدام تابع زیر می تواند بیش از یک عملگر داشته باشد؟ (iranarze.ir)

- ۱) NOL ۲) SIN ۳) PRODUCT ۴) NOW

۴۰- در نرم افزار POWERPOINT ۲۰۱۶ کدام روش برای نمایش یک اسلاید مخفی در نمای SLIDE SHOW استفاده می

شود؟ (iranarze.ir)

۱) کلیک راست بر روی اسلاید و انتخاب Show Hidden

۲) کلیک راست بر روی اسلاید و انتخاب Show all

۳) فشردن کلیدهای Ctrl+H

۴) فشردن کلید H

۴۱- کاربرد بوک مارک (book mark) در word چیست (تنظیم توسط فروشگاه ایران عرضه)؟ (iranarze.ir)

- (۱) تصحیح خطاهای گرامری متن
(۲) پرش به یک قسمت خاص از متن
(۳) چشم پوشی از خطاهای گرامری متن
(۴) هیچکدام

۴۲- تعریف دانش صریح عبارتست از: (iranarze.ir)

- (۱) شامل دانش فنی مهارت ها و فوت و فن هایی است که به تجربه کسب می شود
(۲) مدیریت داخلی می باشد
(۳) بصورت قوانین و راهنماها و رویه های کاری فرموله شده در کتاب ها می باشد
(۴) گزینه ۱ و ۳

۴۳- در جستجوی گوگل، کدام جمله زیر تعریف صحیح از عملگرهای جستجو را ارائه می دهد؟ (iranarze.ir)

- (۱) عملگر OR: محدود کننده میزان بازیابی
(۲) عملگر OR نسبت به AND میزان بازیابی بیشتری دارد
(۳) عملگر AND: گسترش دهنده میزان بازیابی
(۴) عملگر AND نسبت به OR میزان بازیابی بیشتری دارد

۴۴- نمودار های کوچکی هستند که می توانند در یک سلول اکسل قرار بگیرند. (iranarze.ir)

- (۱) sparkline (۲) If (۳) char (۴) Gadget

۴۵- با کدام یک از موارد ذیل در WORD می توانید یک نامه را برای افراد مختلفی که در اکسل ثبت شده است ارسال نمایید؟

- (۱) Mark Entry (۲) Envelopes (۳) Mail Merge (۴) Recipients

۴۶- از کدام یک از وسایل زیر، برای boot کردن یک کامپیوتر رومیزی استفاده نمیشود؟ (iranarze.ir)

- (۱) CD (۲) flash (۳) HDD (۴) Motherboard

۴۷- اصطلاح Homepage در مرورگر های اینترنتی به چه معناست؟ (iranarze.ir)

- (۱) صفحه شخصی کاربر
(۲) پر مراجعه ترین وب سایت کاربر
(۳) صفحه پیش فرض در هنگام باز شدن مرورگر
(۴) اولین صفحه مشاهده شده توسط کاربر

۴۸- مقدار عبارت زیر کدام است؟ (iranarze.ir)

$$=(\text{Min} (B2:E6) + \text{Max} (B2:E6))/2$$

- (۱) ۱۱ (۲) ۱/۵ (۳) ۹/۵ (۴) ۲۲

۴۹- کدام یک از گزینه های زیر سیستم مدیریت پایگاه داده نیست؟ (iranarze.ir)

Oracle (۴) Word (۳) SQL Server (۲) Access (۱)

۵۰- فایل‌های ایجاد شده در محیط PowerPoint را چه می‌نامند؟ (iranarze.ir)

chart (۴) document (۳) book (۲) presentation (۱)

۵۱- برای ارسال یک پیام به چندین گیرنده در بین آدرس آن‌ها از چه علامتی استفاده می‌شود؟ (iranarze.ir)

(۱) . (۲) , (۳) : (۴) @

۵۲- موضوع پیام در کدام قسمت نوشته می‌شود؟ (iranarze.ir)


To (۱) CC (۲) Subject (۳) BCC (۴)

۵۳- در صورتی که مقدار فیلدی که با علامت گذاری شده است را از D14 به E20 تغییر دهیم مقدار سلول تغییری خواهد کرد؟ (iranarze.ir)

(۱) هیچ تغییری (۲) قابلیت درج فرمول در E20 وجود ندارد

(۳) سلول خالی می‌ماند (۴) تغییر این فیلد امکان پذیر نیست.

۵۴- شکل زیر یک نمودار در نرم افزار Excel 2013 را نشان می‌دهد تعداد Data Series در این نمودار چند عدد است؟



(۱) ۲۵

(۲) ۵

(۳) ۸

(۴) ۱۰

۵۵- در نرم افزار Power Point 2016، کدام آیکن مربوط به Outline View است؟ (iranarze.ir)



۴



(۳)



(۲)



(۱)

۵۶- کدام گزینه صحیح است؟ (iranarze.ir)

(۱) حافظه اصلی با خاموش شدن کامپیوتر از بین نمی‌رود.

(۲) حافظه با دستیابی تصادفی RAM با خاموش شدن کامپیوتر از بین نمی‌رود.

(۳) حافظه فقط خواندن ROM با خاموش شدن کامپیوتر از بین نمی‌رود.

(۴) هر نوع حافظه با خاموش شدن کامپیوتر از بین می‌رود.

۵۷- محتوای هر سطر حافظه: (iranarze.ir)

(۱) نمی‌تواند از یک کاراکتر تجاوز نماید.

(۲) باید بیش از یک کاراکتر باشد.

(۳) بستگی به طراحی آدرس حافظه در پردازنده دارد.

۴) شامل یک کلمه است.

۵۸- منظور از درجه وضوح تصویر، "Resolution" چیست؟ (iranarze.ir)

۱) یکی از انواع کارت‌های گرافیکی است.

۲) یک نرم‌افزار است که برای نصب کارت‌های گرافیکی استفاده می‌شود.

۳) تعداد پیکسل‌های موجود در صفحه نمایشی.

۴) تعداد کاراکترهایی که می‌توان در صفحه نمایش ایجاد نمود.

۵۹- کدام مجموعه دستگاه همگی ورودی هستند؟ (iranarze.ir)

۲) دیجیتالایزر - پرینتر - ماوس

۱) ماوس - قلم نوری - پلاتر

۴) اسکنر - دسته بازی - پلاتر

۳) دسته بازی - دیجیتالایزر - ماوس



❖ فصل سوم: سوالات زبان انگلیسی

1- It is important to acquaint yourself Your library as very first stage in your academic career

- 1) of 2) on 3) by 4) with

۱- به عنوان اولین مرحله از دوره تحصیلی، مهم است که خود را کتابخانه تان آشنا کنید.

- ۱) از ۲) روی ۳) توسط ۴) با

☑ پاسخ سایت ایران عرضه: گزینه ۴ ← (acquaint oneself with) (آشنا کردن خود با) یک عبارت رایج در زبان انگلیسی است

و بنابراین همراه acquaint، واژه with می آید)

2- I've tried those tablets and they haven't done me any (iranarze.ir)

- 1) benefit 2) good 3) better 4) best

3- I like to visit other countries but I find the of travel is too high.(iranarze.ir)

- 1) money 2) cost 3) expenses 4) currency

4- Mathematics, physics, chemistry and biology are all , while painting is an art.(iranarze.ir)

- 1) scientist 2) sciences 3) scientific 4) scientifically

5- As..... of our employees can afford cars of..... Own they all have to rely on public transport.

- 1) few/them 2) most/our 3) none/their 4) some /his

6- I don't imagine he wrote the speech..... but.....did so Certainly made a good job of it. (iranarze.ir)

- 1) of his /somebody 2) themselves/whichever
3) for them /whomsoever 4) himself/whoever

7- Do you really believe that the party program..... it now stands, is democrats..... to influence the vote in our favor.

- 1) since/also 2) as/ enough 3) such as /too 4) where / as well

8- Why were there no buses yesterday? Maybe it was the snow or they..... been on strike. (iranarze.ir)

- 1) must have 2) could not have
3) might have 4) can't have

Direction: Read the following passage carefully and answer the questions that follow:

Jesse Owns was one of the world most famous track stars. The newspapers of his day called him "the world's fastest human." This was because he could run faster and jump further than any other man of the time. He was born in 1913. The son of a poor black family with six other brothers and sisters, the first

years of his life were very difficult. He was close to death many times during his youth, due to illness. However, the care of his mother and father helped him to pull through each time. He started running and training in school and while in college at Ohio State University he entered a national competition. During this competition, he set four world records. In 1936, the Olympic Games took place in Germany. This was the Germany of Hitler who did not believe that any race of people was better than the Germans. Jesse won the gold medal for each of the events he entered during the games and became one of the most popular athletes in the world.

9- Jesse Owens's (iranarze.ir)

- 1) was brought up in poverty
- 2) first competed in the Olympic Games
- 3) started to run Because his mother and father pulled him through
- 4) ran faster than anyone could jump

10- All students are expected to their term project by the end of this month.(iranarze.ir)

- 1) survey
- 2) submit
- 3) sustain
- 4) suspect

11- When Mrs. Harris was promoted, she missed the day – to – day with customers.

- 1) involvement
- 2) announcement
- 3) improvement
- 4) retirement

Part B: Reading Comprehension

Direction: Read the following passage and select choice (1), (2), (3) or (4) that best answers each question.

Then mark your answer on your answer sheet.

If you think of the job's robots could never do, you would probably put doctors and teachers at the top of the list. It's easy to imagine robot cleaners and factory workers, but some jobs need human connection and creativity. But are we underestimating what robots can do? In some cases, they already perform better than doctors at diagnosing illness. Also, some patients might feel more comfortable sharing personal information with a machine than a person. Could there be a place for robots in education after all?

British education expert Anthony Seldon so. And he even has a dare for the robot takeover the classroom: 2027. He predicts robots will read students' faces, movements and maybe even brain signals. Then they will adapt the information to each student. It's not a popular opinion and its unlikely robots will ever have empathy and the ability to really connect with humans like another human can.

One thing is certain. though. A robot teacher is better than no teacher at all. In some parts of the world, there aren't enough teachers and 9-16 percent of children under the age of 14 don't go to school. That problem could be partly solved by robots because they can teach anywhere and won't get stressed or tired or move somewhere for an easier, Higher-paid job.

Those negative aspects of teaching are something everyone agrees on. Teachers all over the world are leaving because it is difficult job and they feel overworked. Perhaps the question is not "Will robots replace teachers" but "How can robots help teachers?" office workers can use software to do things like organize and answer emails, arrange meeting and update calendars. Teachers waste a lot of time doing non-teaching work. Including more than 11 hours a week marking homework.

12- According to the passage, which of the following statements may come true?(iranarze.ir)

- 1) Anthony Seldon will become a robot expert soon
- 2) Teachers will be assistants to robots in 2027.
- 3) it is highly probable that robots will really connect with humans like another human can.
- 4) There will be no need for teachers throughout the world by 2027.

Vocabulary

Direction: choose the number of the answer choice (1), (2), (3) or (4) that best completes the blank. Then mark it on your answer sheet

13- the teacher told his. students that the books from the library must be returned soon .

- 1) were borrowed
- 2) borrowing
- 3) borrowed
- 4) which borrowed

14- if my friend a million dollars, he would certainly start his own business

- 1) would win
- 2) wins
- 3) won
- 4) has won

PART B: Reading Comprehension

Direction: choose the number of the answer choice (1), (2), (3) or (4) that best completes the blank. Then mark it on your answer sheet

Passage 1:

Today almost all cars require fuel and many haters would not work without oil. In short more than 85 percent of the global energy consumption is based on fossil fuel sources,i.e. oil ،gas and coal. But to get

to these valuable resources of our plane, it is necessary to drill deeper and deeper- no easy enterprise. Deep drilling technology (called "downhole drilling" in the field of oil and gas exploration) makes it possible to recover oil and gas from depth of more than 2500 m. By combining downhole drilling with directional drilling (dynamic position of a deep drill), previously unreachable oil reserves can be opened up, with drilling depth if currently approximately 5000 m and drill lengths of up to 11000 m.

Oil is a limited resource, but is an integral part of our modern way of living. Therefore, in many regions of the world, the black gold is recovered from deep inside the earth. In the USA, Russia, England, China and the Middle East, many oil and gas recovery plants, both onshore and offshore, produce several thousand barrels of petroleum or natural gas every day. Until February 2008, the longest drill hole for oil recovery was 11680 m long. It was drilled in 2007 in the course of opening up the Chayvo oil field offshore from the north -eastern coast of Sakhalin (Russia). This oil field is a approximately 2500 m deep, but it is several kilometers from the coast. These oil reserves are opened up mainly by means of directional from onshore.

15- Which drilling technologies have been mentioned in the passage? (iranarze.ir)

- 1) Downhole drilling and rotary drilling
- 2) Circulation drilling and directional drilling
- 3) Downhole drilling and directional drilling
- 4) Rotary drilling and circulation drilling

16- Which of the following countries has NOT been mentioned in the passage? (iranarze.ir)

- 1) Venezuela 2) Russia 3) Russia 4) England

17- The word "it" in paragraph 2 refers to ... (iranarze.ir)

- 1) the Chayvo oil field 2) the coast
3) oil recovery 4) the course

18- Our class is twelve boys and eight girls.(iranarze.ir)

- 1) provided with 2) composed of 3) concerned with 4) full of

Cloze Test

The atmosphere keeps part of the sun's light from reaching the earth. Plants and animals could not ... (19) ... on the earth without some light and ... (20) ... from the sun, but if all of the sun's light ... (21) ... the earth, they would kill living things.

19-(iranarze.ir)

- 1) breathe 2) keep 3) live 4) work

20- One important Indicator of quality of life is the proportion of one has to spend in order to buy food.(iranarze.ir)

- 1) authority 2) precision 3) priority 4) income

21-This method of construction is very convenient because it enables the builder to Constructive units of very small dimensions, such as bricks.(iranarze.ir)

- 1) diminish 2) predict 3) utilize 4) enforce

Part B: reading comprehension

Directions: read the following passage and select the choice (1), (2), (3), or (4) that best answers each question. Then mark your answer on your answer sheet.

Attending a good pre-school and primary school has more impact on children's academic progress than their gender or family background. The Institute of Education study found that the quality of teaching children receive is more important than their gender or family income. A high quality pre-school followed by an academically effective primary school gives children's development a significant boost. But children also need a stimulating early year home- learning environment to build upon.

The effective Provision of Pre-School Education project tracked almost 3,000 children from the time they started pre-school until age 11. While all children benefit from a good pre-school, high quality is particularly important for children with special educational needs, those with mothers with low qualifications, or children who come from unstimulating homes.

At primary school, the quality of teaching affects both children's social behavior and intellectual development. The researcher found much variation in the quality of teaching at age 10 and said this had a more powerful impact on children's academic progress than their gender or whether or not they receive free school meals.

Children who attend a more academically effective primary school show better attainment and progress in key stage 2 (ages 7 to 11) than children with similar characteristics who attend a less effective school. But home matters too. A stimulating home learning environment at age 3 to 4 is linked to long-term gains in children's development and has an equal impact to the mother's qualification level

22- According to the passage, a high-quality primary school education is particularly important for all of the following children EXCEPT those (iranarze.ir)

- 1) with special educational needs
- 2) with inappropriate social behavior
- 3) who come from unstimulating homes
- 4) whose mothers have low qualifications

Part B: Reading Comprehension:

Directions: Read the following passage and select the choice (1),(2),(3). Or (4) that best answers each question. Then mark your answer on your answer sheet.(iranarze.ir)

London is a famous and historic city. It is the capital of England in the United Kingdom. The city is quite popular for international tourism because London is home to one of the oldest standing monarchies in the western hemisphere. Helen and Nancy recently traveled to London. They were very excited for their trip because this was their first journey overseas from Canada.

Among the popular sights that Helen and Nancy visited are Big Ben the London Eye and Buckingham Palace. Big Ben is one of London's most famous monuments. It is a large clock tower located at the northern end of Westminster Palace. The clock tower is 96 meters tall. Unfortunately, Helen and Nancy were only able to view the tower from the outside. They learned that the tower's interior is undergoing renovations until 2022.

Fortunately, The London Eye, the city's famous Ferris wheel, was open to the public. The London Eye is situated along the southern shores of the Thames River. This attraction stands 135 meters high. It is one of London's most well-known spots for gaining aerial views of the city. Each capsule of the Ferris wheel can hold up to 25 passengers. When their capsule stopped at the top of the Ferris wheel the women took spectacular panoramic photographs of the beautiful cityscape below.

23- How tall is the clock tower? (iranarze.ir)

- 1) 202 meters
- 2) 135 meters
- 3) 96 meters
- 4) 25 meters

24- The word spots in paragraph 3 is similar in meaning to(iranarze.ir)

- 1) views
- 2) locations
- 3) buildings
- 4) attractions

25- I've listened to your argument. It's neither here nor there. In other words, it's quite

- 1) memorable 2) irrelevant 3) scornful 4) enormous

26- out of school as a teenager. Maurice decided later in life up his education where he had left off. (iranarze.ir)

- 1) being dropped/took 2) having dropped/to take
3) to drop/taking 4) dropped/being taken

27- of the countries of Western Europe used to have its own currency, but now of them use the Euro. (iranarze.ir)

- 1) either/any 2) all/whole 3) each/most 4) whole/every

28- Snakes hears things by picking up the vibrations of sound waves with their flicking tongues. (iranarze.ir)

- 1) rationally 2) consequently 3) mutually 4) constantly

Part C: READING COMPREHENSION

DIRECTIONS: read the following passage and select the choice (1), (2), (3) or (4) that best answers each question. then mark the correct choice on your answer sheet

Medical equipment prior to and even during the scientific revolution was based on classical Greek and roman theories about science, which were not based on science at all, but on philosophy and superstition, human health was viewed as a balance of 4 internal humors in the body. the 4 humor- blood, yellow bile, black bile, and phlegm- were analogous to the 4 elements of the universe to classical thinkers: fire, air, water, and earth. Aliments, both physical and mental, were caused by an imbalanced of humors. The ideal mind and body balanced all four humors, gracefully. To heal, doctors prescribed foods or procedures which would balance the fluids in the body. Some of the prescriptions seem to make sense. fevers, for example were treated with cold, dry temperature to combat the hot, wet overstimulation in the body. but when that failed, often the next step was bloodletting. unnecessary purging and enemas were also common cures, which have helped some people, but also might have caused more problems than they solved. George Washington's death has recently been attributed, not to the strep throat he probably had as he died, but to the bloodletting and mercury enema given to him cure it. Not-quite-scientific medical cure are still available and used by many even today

29- which of the following statements is true, according to the passage? (iranarze.ir)

- 1) classical Greek and Roman theories about science were mostly based on philosophy.
- 2) The Greeks believed in only 3 of the 4 internal humors in the body .
- 3) Medical equipment before and even during the scientific revolution was based on scientific experiment.
- 4) The Romans were more in favor of the 4 elements of the universe than the 4 internal humors

30 -Unfortunately, the new book failed to satisfy the..... Of the readers. (iranarze.ir)

- 1) offers 2) masterpiece 3) affairs 4) expectation

Red the paragraph carefully and answer the questions.

Even professional writers do not write everything perfectly the first time. They have to revise their work.

When you revise your writing, you look for ways to change it in a way to make it better. You check your spelling and you make sure that you have used perfect periods, and other punctuation marks in the best way. You look for words that can be replaced or traded for different, more exciting words. You make sure that your words help reader get a picture in his mind when he reads them. Revising your writing is important? That you make can turn boring words into exciting words, and can make your ideas ?

31- The passage is mainly about how to (iranarze.ir)

- 1) be a professional writer 2) trade different things
3) revise your writing 4) get a written picture

32- The underline word treated means (iranarze.ir)

- 1) exchanged 2) examined 3) cleaned up 4) looked after

33-Bargaining is a ritual for centuries. (iranarze.ir)

- 1) exists 2) has existed
3) existed 4) have existed

Reading

Direction: Read the passage and choose the best answer to each question:

if you are like most people, your intelligence differs from season to season. You are probably a lot sharper in the spring than you are at any other time of the year. A scientist believes climate and temperature have a certain effect on our mental abilities. He found out that cool weather is much more helpful for better thinking than is summer heat. This does not mean that all people are less intelligent in the summer than they are during the rest of the year. Spring appears to be the best period of the year for thinking. One

reason may be that in the spring, peoples' mental abilities are influenced by the same factors that all nature.

34-Which statement is correct about spring? (iranarze.ir)

- 1) It has no affect peoples' mental abilities.
- 2) It affects some peoples' mental abilities negatively.
- 3) It makes all peoples' less intelligent in comparison to other seasons.
- 4) It's the best period of the year for thinking.

35- Boston college is a..... university in this city. (iranarze.ir)

- 1) small
- 2) major
- 3) long
- 4) careful

36- Today, the weather is..... than yesterday. (iranarze.ir)

- 1) bad
- 2) the worst
- 3) worst
- 4) worse

37- He came here..... his own car. (iranarze.ir)

- 1) in
- 2) about
- 3) by
- 4) on

38- According to doctors, exercise and good diet are the means of living a life.

- 1) worried
- 2) healthy
- 3) skilled
- 4) rapid

39- Do you really think that you'll be to pass your driving test. (iranarze.ir)

- 1) able
- 2) honest
- 3) blind
- 4) useful

پ. عبارتهای زیر را با استفاده از یکی از گزینه 1,2,3 یا 4 پر کنید

40- Will the books in the future be to the books you can buy today? (iranarze.ir)

- 1) similar
- 2) Difference
- 3) similarity
- 4) differently

41- There are a number of reasons why computers won't books entirely.(iranarze.ir)

- 1) use
- 2) Replace
- 3) destroy
- 4) try

42- You can read a book for as long as you want and you want.

- 1) need
- 2) Where
- 3) read
- 4) whereve

❖ فصل چهارم: سوالات هوش و استعداد تحصیلی

۱- عکس یک عدد با $\frac{1}{4}$ آن برابر است. آن عدد کدام است؟ (iranarze.ir)

- (۱) ۲ (۲) -۲ (۳) ± ۲ (۴) ۴

❑ پاسخ سایت ایران عرضه: گزینه ۳ ⇐ اگر عدد مجهول را با x نشان دهیم خواهیم داشت: (منبع ایران عرضه)

$$\frac{1}{x} = \frac{1}{4}x \rightarrow 4 = x^2 \rightarrow x = \pm 2$$

۲- اگر مساحت مربع به ضلع a ، $\frac{2}{5}$ برابر مساحت مربع به ضلع b باشد، بین a و b کدام رابطه برقرار است؟ (iranarze.ir)

- (۱) $a = 0.05b$ (۲) $a = 0.5b$ (۳) $10a = 25b$ (۴) $2a = b\sqrt{10}$

۳- به ۱۰ گرم آلیاژ مس و طلا، به نسبت ۱ به ۳، چند گرم مس بیافزاییم تا آلیاژ به نسبت ۲ به ۵ تغییر یابد؟ (iranarze.ir)

- (۱) $0/3$ گرم (۲) $0/5$ گرم (۳) ۳ گرم (۴) ۲ گرم

۴- چند درصد رمزهای (تهیه شده توسط ایران عرضه) سه رقمی از سه رقم زوج تشکیل شده‌اند؟ (iranarze.ir)

- (۱) ۱۲٪ (۲) ۱۲/۵٪ (۳) ۳۰٪ (۴) ۱۰٪

۵- گیاهان هم حس دارند. در میان گیاهان، رتبه اول در حساسیت را گیاه (میموزا) دارد. این گیاه استوایی بر اثر تماس

فیزیکی با برگ هایش، آنها را از وسط تا کرده و برگ های شانه ای خود را روی هم میگذارد. این نحوه عکس العمل، مکانیسمی

دفاعی برای جلوگیری از صدمه در اثر وجود طوفان های شدید به حساب می آید. این نشان میدهد که گیاهان هم مانند

جانوران، به محیط اطراف خود واکنش نشان میدهند.

کدام مورد رابطه دو بخش از متن را که زیر آنها خط کشیده شده است را به منطقی ترین وجه توصیف میکند؟ (iranarze.ir)

(۱) اولی، ادله ای بر تائید ادعای متن است و دومی، بیان دیگری از ادعاست

(۲) اولی، مثالی در تائید نتیجه گیری متن و دومی، قضاوتی در باب آن نتیجه گیری است

(۳) اولی، نتیجه گیری متن است و دومی، ادله ای در اثبات آن

(۴) اولی و دومی، هر دو ادله ای هستند که ادعای متن را تقویت میکند

راهنمایی: هرکدام از سوال های زیر را به دقت بخوانید و جواب های هر سوال را در پاسخنامه علامت بزنید.

۶- هرکدام از اشکال زیر بین اعداد ارتباط خاص و یکسانی برقرار است، به جای علامت سوال کدام گزینه قرار بگیرد؟

4	3	2	9	4	7	4	5	9	6	۸ (۱)
4	5	3	6	4	8	9	?	6	6 (۲)	
4	7	5	3	5	2	6	2	4	5	۵ (۳)
4	7	5	3	5	2	6	2	4	5	۲ (۴)

۷- میانگین تمام اعداد طبیعی دو رقمی مضرب ۵ کدام است؟ (iranarze.ir)

۸- «نتایج یک پژوهش بر روی دانش آموزان پسر یک شهرستان، که به مدت حداقل دو سال در هر روز یک یا بیشتر از یک پاکت سیگار مصرف می کردند، نشان داد، ۱۵ درصد ظرفیت ریه ها در ۸۵ درصد دانش آموزان ایرانی که در یک دوره ۴۵ روزه سیگار کشیدن را ترک کردند، بهبود یافته است. در این آزمایش مطمئن شدیم که بهبود ریه ها اتفاقی و تصادفی نیست.» (تالیف توسط سایت ایران عرضه) !!

اگر مطالب بالا درست باشد، این یافته ها تایید می کند که:

(۱) رژیم غذایی عامل رابط بین مصرف سیگار و ظرفیت ریه ها محسوب می شود

(۲) محدودیت مصرف سیگار در محیط های آموزشی باید به صورت قانونی درآید

(۳) مصرف سیگار با کاهش ظرفیت ریه ها در دانش آموزان پسر از نظر آماری همبسته است

(۴) پژوهشگر علاقه زیادی به ممنوعیت مصرف سیگار داشته است.

۹- عقربه های یک ساعت در آینه، ساعت ۲:۴۰ را نشان می دهد، ساعت چند است؟ (iranarze.ir)

(۱) ۷:۲۰ (۲) ۱۰:۳۵ (۳) ۷:۴۰ (۴) ۸:۴۰

۱۰- حسن با زن برادر پدر خود در اتاق نشسته است. تازه داماد آن خانم با همسرش وارد می شود. عروس با حسن چه نسبتی دارد؟ (iranarze.ir)

(۱) دختر عمو (۲) زن برادر (۳) برادرزاده (۴) خواهر

۱۱- (تهیه شده توسط ایران عرضه) کدام واژه با سه واژه ی دیگر تفاوت دارد؟ (iranarze.ir)

(۱) برد (۲) برید (۳) برودت (۴) تبرید

۱۲- اگر ۵ درصد $(m+n)$ برابر ۱۵ و m یک عدد صحیح منفی باشد، کوچک ترین مقدار ممکن برای n کدام است؟

(۱) ۱۵۱ (۲) ۳ (۳) ۲۹۹ (۴) ۳۰۱

۱۳- جرم و جنایت همه را نگران کرده است، به خصوص والدین را. نظر سنجی های اخیر نشان می دهند که بزرگ ترین ترس ۲۰ درصد از والدین اروپایی این است که بچه هایشان توسط افراد غریبه دزدیده شده و یا کشته شوند. با این وجود اغلب والدین به فرزندان خود اجازه می دهند بیرون از خانه بازی کنند. به واقع احتمال دزدیده شدن بچه ها توسط افراد غریبه یک در ۲۰۰ هزار است و از آن ضعیف تر احتمال کشته شدن یک کودک در ماجرای جنایی است که حدود یک در یک میلیون است. کدام مورد زیر را می توان به درستی متن فوق استنباط کرد؟ (iranarze.ir)

(۱) آمار کودک ربایی نسبت به گذشته کاهش چشمگیری داشته است

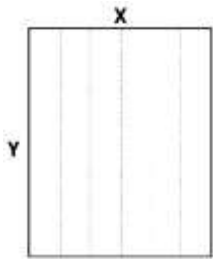
(۲) امروزه بازی در محیط خارج از خانه برای رشد اجتماعی کودکان ضروری است

(۳) والدین در عمق ضمیر ناخودآگاه خویش، به مبالغه آمیز بودن ترسشان، نوعی آگاهی دارند

(۴) بسیاری از والدین، به دلیل مشغله های روزمره خود مجبورند چشم خود را بر بسیاری از ترس هایشان ببندند

راهنمایی: هر کدام از سوالهای زیر را به دقت بخوانید و جواب هر سوال را در پاسخنامه علامت بزنید

۱۴- یک مقوای مستطیل شکل در اختیار داریم. اگر این مقوا را با برش های عمودی مطابق شکل زیر به ۶ قسمت مساوی تقسیم کنیم طول هر کدام از مستطیل های کوچک $\frac{7}{5}$ برابر عرض آنها می شود اگر در ابتدا مقوای اولیه را با برش های افقی به ۴ قسمت مساوی تقسیم می کردیم نسبت اضلاع هر کدام از برش ها کدام می شد؟ (iranarze.ir)



(۱) ۳ به ۸

(۲) ۷ به ۲۴

(۳) ۶ به ۱۹

(۴) ۵ به ۱۶

۱۵- نسبت دارایی A به B، ۲ به ۳، دارایی B به C، ۴ به ۵ و دارایی C به D، ۶ به ۷ است. D چند برابر A دارایی دارد؟

(۱) $\frac{21}{4}$ (۲) $\frac{32}{15}$ (۳) $\frac{35}{16}$ (۴) $\frac{70}{32}$

۱۶- در صورتی که رتبه ی چهارم و پنجم به ترتیب به افراد X و U تعلق گرفته باشد، رتبه ی دوم متعلق به کدام فرد می تواند باشد؟ (iranarze.ir)

(۱) T (۲) V (۳) S (۴) Y

* در سوال ۱۷ سوال و دو گزاره که با او II مشخص گردیده و در آنها اطلاعاتی داده شده است، تشکیل می شود.

(۱) اگر اطلاع (I) به تنهایی برای پاسخگویی به سوال کافی باشد ولی اطلاع (II) به تنهایی کافی نباشد و یا اینکه اطلاع (II) به تنهایی برای پاسخگویی به سوال کافی باشد ولی اطلاع (I) به تنهایی کافی نباشد. گزینه «۱» صحیح است.
(۲) اگر هر یک از دو اطلاع (I) و (II) به تنهایی برای پاسخگویی به سوال کافی نباشد ولی هر دو با هم کافی باشد، گزینه «۲» صحیح است.

(۳) اگر هر یک از دو اطلاع (I) و (II) به تنهایی برای پاسخگویی به سوال کافی باشند. گزینه «۳» صحیح است.

(۴) اگر هر دو اطلاع (I) و (II) با هم نیز برای پاسخگویی به سوال کافی نباشند. گزینه «۴» صحیح است.

۱۷- بهزاد ۵۰ عدد تمبر خریداری کرده است. تمبرها در دو قیمت ۲۰ تومانی و ۲۵ تومانی عرضه می شوند. چه تعداد از تمبرها ۲۵ تومانی است؟ (iranarze.ir)

(۱) این شخص کلاً ۱۱۰۰ تومان برای تمبرها خرج کرده است.

(II) تعداد تمبرهای ۲۰ تومانی $1\frac{1}{2}$ برابر تعداد تمبرهای ۲۵ تومانی خریداری شده است.

راهنمایی: برای پاسخگویی به سوالات، لازم است موقعیتی را که در هر سوال مطرح شده، مورد تجزیه و تحلیل قرار دهید و سپس گزینه ای را که فکر می کنید پاسخ مناسب تری برای آن سوال است، انتخاب کنید. هر سوال را به دقت بخوانید و با توجه به واقعیت های مطرح شده در هر سوال و نتایج که بیان شده و بیان نشده ولی قابل استنتاج است، پاسخی را که صحیح تر به نظر می رسد، انتخاب و در پاسخنامه علامت بزنید.

۱۸- دانش آموزان دبیرستانی که احساس می کنند در مدرسه موفق نیستند، اغلب قبل از فارغ التحصیلی ترک تحصیل می کنند و سرکار میروند. این در حالی است که در سال جاری، میزان ترک تحصیل در دبیرستان شهر «الف» به میزان قابل توجهی، کمتر از سال قبل بوده است. این نشانه دلگرم کننده ای است که نشان می دهد برنامه ای که از دو سال پیش برای بهبود روحیه دانش آموزان دبیرستانی راه اندازی شد، برای کاهش ترک تحصیل موثر واقع شده است.

کدام مورد، در صورتی که صحیح فرض شود، ادعای متن راجع به تاثیر برنامه دو ساله برای بهبود روحیه را تضعیف می کند؟
 (۱) امسال به دلیل بحران اقتصادی، میزان بیکاری در کل کشور و از جمله شهر «الف» بسیار بالا رفته است
 (۲) آمار پایین ترک تحصیلی های هر مدرسه، به تمایل والدین به ثبت نام فرزند خود در آن مدرسه می افزاید
 (۳) امسال تعداد دانش آموزانی که در مدارس دیگر هم ترک تحصیل کرده اند، تغییر چشمگیری نسبت به سال های گذشته نداشته است

(۴) درآمدی که دانش آموزان ترک تحصیلی بابت کار خود کسب می کنند، در مقایسه با درآمد افراد سن و سال دار تر که همان کار را می کنند، امسال هم مانند سال های پیشین، پایین تر است.

۱۹- مازلو که به خاطر نظریه انگیزشی خود معروف است، به عنوان یک انسان گرا، معتقد بود که تمامی مردم در جهان، میل ذاتی به خود شکوفایی دارند؛ به این معنا که دوست دارند، تا به بهترین خود برسند، با این حال، برای دست یابی به این هدف، تعدادی نیاز اساسی مانند نیاز به غذا، ایمنی، عشق و عزت نفس باید در آنها برآورده شود. به همین خاطر، وی پنج سطح مختلف از سلسله مراتب نیاز های انسانی را مطرح نمود که حرکت به طرف شکوفایی، مستلزم آن است (تهیه و تنظیم: ایران عرضه) که نیاز ها در پایین ترین سطح هرم برآورده شود تا افراد بتوانند به سطح بالاتر روند و این روند، به صورت پلکانی تا رسیدن به بالاترین سطح مصداق دارد.

کدام مورد، در صورتی که صحیح فرض شود، فرضیه مازلو را به قوی ترین وجه، زیر سوال می برد؟ (iranarze.ir)

(۱) اولویت نیاز های انسانی، تحت تاثیر فرهنگ های مختلف، متفاوت تعیین می شود

(۲) انگیزه متغیری است که تعریف آن، از نظر بسیاری محققان، کاری بسیار دشوار است

(۳) برخی مدیران می گویند که با کاربست نظریه مازلو نتوانسته اند انگیزش مورد نظرشان را در کارکنان خود ایجاد کنند

(۴) بعد از نظریه انگیزشی مازلو، نظریه های مربوطه دیگری نیز در علم روان شناسی مطرح و مورد بحث و بررسی قرار گرفته است.

۲۰- در دفترچه اختصاصی آزمون سراسری گروه امتحانی ریاضی و فنی که شامل سه درس ریاضی، فیزیک و شیمی است،

۴۰٪ سوالات مربوط به درس ریاضی، $\frac{1}{3}$ سوالات مربوط به فیزیک و سوالات فیزیک از سوالات شیمی، ۱۰ تا بیشتر است.

مجموعه سوالات فیزیک و شیمی، چه تعداد از سوالات ریاضی در این دفترچه، بیشتر است؟ (iranarze.ir)

(۱) ۴۰ (۲) ۳۰ (۳) ۲۰ (۴) ۱۵

۲۴- مطابق یک بخشنامه، در یکی از شعب بانک ملی، به ازای هر ۴ کارمند مرد دارای ۳ فرزند، ۵ کارمند مرد دارای ۴ فرزند، از تسهیلات کمک هزینه اولاد، استفاده کرده اند. اگر مجموع تعداد فرزندان که پدرشان از این تسهیلات استفاده کرده اند، ۱۶۰ نفر باشد، چند نفر از این فرزندان، پدرشان دارای ۴ فرزند است؟ (iranarze.ir)

۲۵ (۱) ۶۰ (۲) ۱۰۰ (۳) ۱۲۰ (۴)

۲۵- یک تکه نخ ۱۶ سانتی متری داریم که از یک طرف، به رنگ سفید و به طول ۶ سانتی متر و از طرف دیگر، به رنگ سیاه و به طول ۱۰ سانتی متر است. این نخ را از دو سر آن، همزمان آتش می زنیم، سرعت سوختن نخ طوری بوده است که دقیقاً بعد از دو دقیقه، کاملاً سوخته و آتش خاموش می شود. مدت زمانی که بخش سیاه رنگ نخ، به تنهایی در حال سوختن بوده، چند ثانیه است؟ (iranarze.ir)

۷۵ (۱) ۱۵ (۲) ۲۰ (۳) ۳۰ (۴)

راهنمایی: با توجه به اطلاعات زیر به سوالات پاسخ دهید

اطلاعات مربوط به کارمندان خیره بانک «الف» در یک استان که فقط تحویلدار و حسابرس هستند، جمع آوری شده است. جدول زیر، نسبت تحویلداران و حسابرسان خیره زن و مرد را از مجموع تحویلداران و حسابرسان خیره این بانک در استان نشان می دهد. ایران عرضه

«نسبت تحویلداران و حسابرسان خیره زن و مرد از مجموع

تحویلداران و حسابرسان خیره این بانک در استان»

جنسیت / کارمند خیره	زن	مرد
تحویل دار	$\frac{1}{5}$	$\frac{11}{20}$
حسابرس	$\frac{3}{20}$	$\frac{1}{10}$

راهنمایی: در این بخش از آزمون، دو متن داده شده است. هر کدام از متن ها را به دقت بخوانید و پاسخ سوال هایی را که در زیر هر متن آمده است، با توجه به آنچه می توان از متن استنتاج یا استنباط کرد انتخاب کنید و در پاسخنامه علامت بزنید

متن اول:

در بسیاری از سازمان ها، تعارض به صورت یک مسئله جدی وجود دارد. شاید در همه جا این پدیده دارای چنان قدرتی نباشد که موجب انحلال سازمان شود، ولی تردیدی نیست که می تواند بر عملکرد سازمان اثرات ناگوار بگذارد یا شرایطی را به وجود آورد که سازمان، بسیاری از نیروهای کارآمد خود را از دست بدهد. تعارض در سازمان، در هم شکستن همکاری یا تهدیدی برای آن به حساب می آید. البته بروز تعارض در سازمان ها، هم طبیعی است و هم در روابط افراد مورد انتظار است. تعارض

وضعیتی است که افراد متعامل در زمینه اهداف اصلی و فرعی و ارزش ها با یکدیگر اختلاف دارند که خود شامل سه راهبرد است: ۱) راهبرد عدم مقابله: شیوه های اجتناب و تطبیق یا سازش؛ ۲) راهبرد راه حل گرا: شیوه های همکاری و مصالحه؛ ۳) راهبرد کنترل: با شیوه رقابتی یکسان است. رابینز هرنوع مخالفت یا تعامل خصمانه را تعارض می نامد و منشا آن را کمیابی منابع، موقعیت اجتماعی، قدرت با نظام های ارزشی متفاوت می داند و بر این باور است که «تعارض فراگردی است که در آن، تلاش عمدی شخص «الف» برای خنثی سازی تلاش های شخص «ب» از طریق نوعی مانع تراشی، به عجز و ناکامی شخص «ج» در دستیابی به اهداف و منابع منجر می شود». مدیریت تعارض، مدیریت برخورد با اختلافات و ناسازگاری ها توسط مدیران و چگونگی اداره کردن تعارض با سه سبک عدم مقابله، راه حل گرا و کنترلی است. فراگیری مدیریت تعارض، برای بهبود انطباق و بهره گیری . (متن ناقص است)

۲۶- کدام مورد زیر، بهترین عنوان برا متن است؟ (iranarze.ir)

- ۱) تعارض، بایدها و نباید ها
۲) عوامل سازمانی تعارض
۳) تعارض و مدیریت سازمان
۴) منشا و راهکرد های تعارض

متن دوم:

نیروگاه های زمین گرمایی یا ژئوترمال به واحدهای تبدیل انرژی گفته می شود که انرژی خود را از طریق سیال گرم شده از طریق عبور از میان لایه های پوسته زمین به دست می آورد. اگر نیروگاه های زمین گرمایی را با سایر نیروگاه های انرژی های نو مقایسه کنیم مشاهده می کنیم که نیروگاه های زمین گرمایی به دلیل بالا بودن ضریب دسترسی (۸۵% زمان در سال)، در جهان از اهمیت فراوانی برخوردارند و از این نوع نیروگاه ها می توان به عنوان بار پایه شبکه استفاده نمود. در زیر سطح زمین یک لایه سنگ داغ و مذاب به نام ماگما وجود دارد، که به طور مداوم حرارت در این لایه از مواد رادیواکتیو مانند اورانیوم و پتاسیم تولید می شود. این مقدار حرارت می تواند ۵۰۰۰۰ برابر بیش تر از منابع نفت و گاز انرژی تولید کند. مناطقی که درجه حرارت زمین به دلیل وجود آتشفشان ها و یا نازک بودن پوسته ی زمین بالاست، برای این صنعت مدنظر هستند. حاشیه اقیانوس آرام و حلقه آتشفشان ها را می توان جز بهترین گزینه ها معرفی کرد. از طریق ارتعاشات حاصل از زلزله ها ماگماها، سنگ های گرم و پوسته زمین اجازه حرکت آب به سمت بالا را داده و چشمه های آب گرم را به وجود می آورند، این چشمه ها از طریق حرارت زمین گرم شده و دمایشان تا حدود ۲۰۰ درجه سانتی گراد نیز می رسد.

نیروگاه های زمین گرمایی را با توجه به نوع سیال خروجی از چاه های تولیدی و نیز تجهیزات مورد استفاده در سیکل نیروگاه آن ها را دسته بندی نمود. بر این اساس نیروگاه های زمین گرمایی به سه دسته تقسیم می شوند.

۲۷- کدام مورد، رابطه پاراگراف ۲ در ارتباط با پاراگراف ۱ را به درست ترین وجه نشان می دهد؟ (iranarze.ir)

- ۱) با برشمردن برخی نکات مثبت منبع انرژی توصیف شده در پاراگراف ۱، ظرفیت آن در تولید انرژی را نشان می دهد.
۲) محدودیت های مرتبط با استفاده از امکان بالقوه ای که در پاراگراف ۱ آمده است را بر می شمرد.
۳) اطلاعاتی دال بر درستی و عملی بودن ادعای پاراگراف ۱ فراهم می آورد.


۴) فرآیند تحقق اهداف توصیف شده در پاراگراف ۱ را توصیف می کند.

۲۸- کدام ترکیب مناسبت کمتری با سه گزینه دیگر دارد؟ (iranarze.ir)

۱) قاضی و مغضوب (۲) سائل و مسئول

۳) قاصد و مقصود (۴) حاصل و محصول

۲۹- چه شکلی به جای علامت سؤال قرار گیرد؟ (www.iranarze.ir)



(۲)



(۱)



(۴)



(۳)

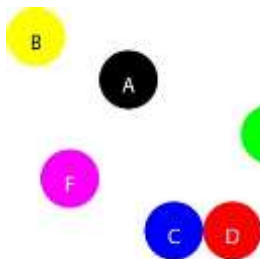
۳۰- چراغ قوه‌ای به دو باتری نیاز دارد. اگر ۵ باتری داشته باشیم که دو تای آنها خراب باشد، با حداقل چند بار امتحان

کردن، می‌توانیم دو باتری خراب را مشخص کنیم؟ (iranarze.ir)

۱) ۳ (۲) ۴ (۳) ۵ (۴) ۶

با توجه به متن زیر، به سوال ۳۱ پاسخ دهید.

موقعیت جغرافیایی ۶ شهر A ، B ، C ، D ، E و F مورد بررسی قرار گرفته و نتایج زیر حاصل شده است.



A - شمال E و غرب C است.

B - شمال A و غرب F است.

E - شمال F و شرق D است.

F - شمال D و غرب A است.

C - جنوب F و غرب D است.

جایگیری شهرها با توجه به اطلاعات داده شده مطابق با تصویر مقابل است که از آن در پاسخ گویی به سوالات زیر استفاده

میکنیم

۳۱- کدام یک از شهرهای زیر، لزوماً باید هم در شمال و هم در غرب E قرار داشته باشد؟ (iranarze.ir)

۱) C و B (۲) D و C (۳) A و B (۴) A و C

** با توجه به متن زیر به سوالات پاسخ دهید:

پنج خانواده که شامل خانواده سعید، خانواده خاله سعید، خانواده عمه سعید، خانواده دایی سعید و خانواده عموی سعید

هستند، توسط پنج خودروی پراید، پژو، سمند، تندر ۹۰ و پیکان (هر خانواده با یک خودرو) به پیک نیک می روند و با رعایت

محدودیت های زیر، در مقصد وارد یک ویلا می شوند:

• خودروی پراید که متعلق به عموی سعید نمی باشد، یا اولین خودرویی است که وارد ویلا می شود یا چهارمین خودرو.

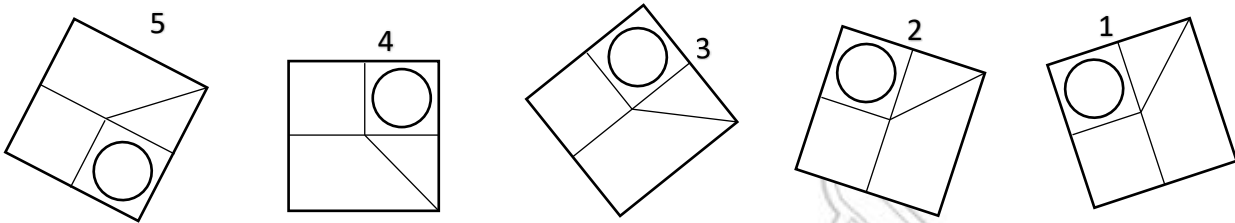
- خودروی تندر 90 دقیقاً بعد از خودروی عمه سعید و دقیقاً قبل از خودروی دایی سعید وارد ویلا می شود.
- دقیقاً قبل از خودروی پژو، خودروهای عموی سعید و دایی سعید، به ترتیب وارد ویلا می شوند.
- خودروی خاله سعید، دقیقاً جلوی خودروی سمند وارد ویلا می شوند.

۳۲- اگر خودرو خاله سعید، پیکان باشد، خودروی عمه سعید کدام است؟ (iranarze.ir)

(۱) پراید (۲) تندر 90 (۳) پژو (۴) سمند

۳۳- کدام تصویر روبرو، با بقیه متفاوت است؟ (iranarze.ir)

(۱) ۲ (۲) ۳ (۳) ۴ (۴) ۵



۳۴- مراقبت های پزشکی می توانند باعث طول عمر و یا بهبودی از یک بیماری جدی شوند، ولی شرایط مهم برای سلامت جمعیت، شرایط اجتماعی-اقتصادی است که بر وضعیت جسمی افراد تاثیر می گذارد. بدین معنا که تعیین کننده های موقعیت اجتماعی سلامت، مانند میزان درآمد، سطح تحصیلات، شغل، تغذیه و طبقه اجتماعی، بسیار بیشتر از عواملی مانند عوامل بیولوژیک، باعث ابتلا به بیماری ها می شوند و در سلامت انسان نقش به سزایی دارند. که اگر نادیده گرفته شوند، رسیدن به اهداف سلامتی محال خواهد بود.

کدام مورد در صورتی که صحیح فرض شود، استدلال متن را به بهترین وجه تقویت می کند؟ (iranarze.ir)

(۱) افراد پایین دست جامعه، اگر چه ساعات بیشتری را به کار می پردازند، ولی نمی توانند موقعیت اجتماعی خود را ارتقا بخشند.

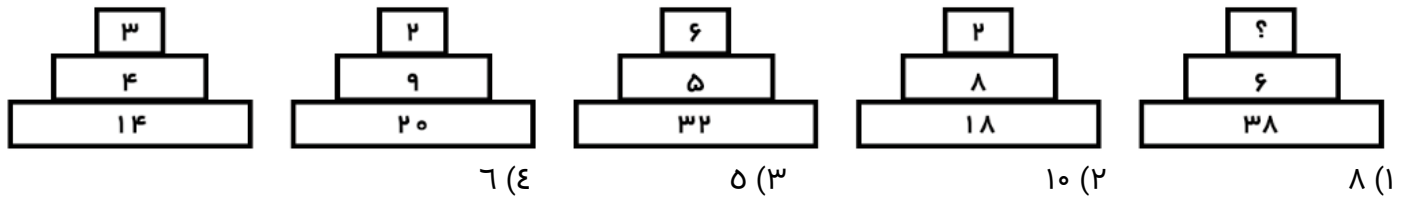
(۲) برخی از پزشکان با این نظر که بین امکان ابتلا به بیماری و میزان تحصیل و درآمد افراد، رابطه مستقیم وجود دارد، موافق نیستند.

(۳) هر چه موقعیت اجتماعی افراد بالاتر می رود، آنان بیشتر نکات پیشگیری از بیماری را رعایت می کنند

(۴) مکمل های غذایی و دارویی موجود، نقش عوامل بیولوژیک در ایجاد بیماری ها را کم رنگ تر از گذشته کرده است

راهنمایی: هر کدام از سوال های زیر را به دقت بخوانید و جواب هر سوال را در پاسخنامه علامت بزنید.

۳۵- هر کدام از اشکال زیر بین اعداد، ارتباط یکسانی برقرار است، به جای علامت سوال، کدام عدد باید قرار بگیرد؟



۳۶- کدامیک از اعداد زیر به ۷ نزدیک است؟ (iranarze.ir)

- (۱) $\frac{50}{7}$ (۲) $7\frac{1}{8}$ (۳) $7\frac{1}{6}$ (۴) $7\frac{1}{10}$

۳۷- جمع محصولات باغ سیب ۳ کشاورز در طول سال گذشته ۱۸ تن بوده است، اگر کشاورز ۲، ۳ برابر کشاورز ۳ و کشاورز

۱، ۲ برابر کشاورز ۲ برداشت کرده باشد، کشاورز ۲ چند کیلو برداشت کرده است؟ (iranarze.ir)

- (۱) ۱۸۰۰ (۲) ۲۶۰۰ (۳) ۵۴۰۰ (۴) ۷۲۰۰

۳۸- به هر یک از سه فرزند پدری که نصف دارایی خود را به تساوی بین آن‌ها تقسیم کرده است، چه کسری از کل دارایی


پدر می‌رسد؟ (iranarze.ir)

- (۱) $\frac{1}{6}$ (۲) $\frac{1}{5}$ (۳) $\frac{1}{4}$ (۴) $\frac{1}{3}$

۳۹- رابطه وزارت با ترازو مانند رابطه است با بیرق: (iranarze.ir)

- (۱) درفش (۲) نزدیک (۳) پرچم (۴) بلندی

۴۰- کدام شش ضلعی باید جایگزین علامت سوال شود؟ (iranarze.ir)



(۱) A

(۲) B

(۳) C

(۴) D

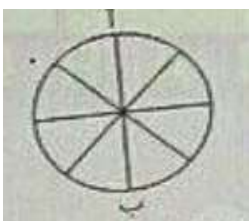
۴۱- وقتی ۳۰٪ از دبه ای خالی است. آن دبه ۳۰ لیتر بیشتر از وقتی که ۳۰٪ آن پر است آب می‌گیرد. گنجایش دبه چند

لیتر است؟ (iranarze.ir)

- (۱) ۲۰ (۲) ۵۰ (۳) ۷۵ (۴) ۴۰

۴۲- در شکل زیر تعداد کل حالت هایی که می‌توان از «آ» به «ب» رسید کدام است؟ تنها حرکت رو به پایین مجاز است

(حرکتی که شما را نسبت به وضعیت قبلی در جای پایین تری قرار دهد) (iranarze.ir)



(۱) ۱۱

(۳) ۸

(۲) ۶

(۴) ۱۴

۴۳- در گزینه‌های زیر، ۳ کلمه از جهتی با هم شباهت دارند و یکی با سه کلمه دیگر متفاوت است، آن کلمه کدام است؟

- (۱) باغ (۲) شکسپیر (۳) ویکتور هوگو (۴) منتسکیو

۴۴- شخصی کالایی را به مبلغ ۴۰۰ ریال خریده است. سپس آن را به مبلغ ۴۴۰ ریال می‌فروشد. این شخص در این معامله

۴۰ ریال سوده برده است. چند درصد سود برده است؟ (iranarze.ir)

- (۱) ۱۵٪ (۲) ۱۰٪ (۳) ۲۰٪ (۴) ۴٪

۴۵- به جای علامت سوال، چه عددی می‌توان قرار داد (متعلق به سایت ایران عرضه) ؟ (iranarze.ir)

۶ (؟) (۱۸) ، ۹ ، ۸ (۶) (۴)

- (۱) ۲ (۲) ۳ (۳) ۱ (۴) ۵



❖ فصل پنجم: سوالات GMAT

۱- کشور «الف» برای مدتی طولانی در زمینه گندم و گوشت تا حدی خودکفا بوده است. با این وجود، از آنجا که درآمد سرانه در این کشور به سمت میزان متوسط جهانی رو به افزایش است. مصرف سرانه گوشت هم به سمت میزان متوسط جهانی رو به رشد گذاشته است و برای تولید یک کیلو گوشت، چندین کیلو گندم لازم است. در نتیجه، چون درآمد سرانه مردم رو به افزایش است در حالیکه تولید داخلی گندم افزایش نمی یابد، کشور «الف» به زودی مجبور خواهد بود یا گندم یا گوشت و یا هر دو را وارد کند.

کدامیک از موارد زیر، فرضیه ای است که استدلال فوق، بر آن مبتنی است؟ (iranarze.ir)

(۱) آن دسته از مردم کشور «الف» که مصرف گوشت خود را افزایش می دهند، به طور چشمگیری مصرف گندم را کاهش نخواهند داد.

(۲) درآمد سرانه تولیدکنندگان گوشت در کشور «الف» نسبت به درآمد سرانه تولیدکنندگان گندم آن کشور، با سرعت بیشتری در حال افزایش است.

(۳) مصرف سرانه گوشت در کشور «الف»، در تمام سطوح درآمدی، تقریباً به میزان یکسانی در حال افزایش است.

(۴) واردات گندم یا گوشت، باعث نخواهد شد که درصد بسیار بالاتری از درآمد مردم، صرف غذا شود.

❑ پاسخ سایت ایران عرضه: گزینه ۱ ← نتیجه گیری نهایی متن نوشته شده بر این اساس میباشد که خانواده هایی که مصرف گوشت خود را افزایش داده اند مصرف گندم خود را کاهش نداده اند و در نتیجه نه تنها مصرف گندم کاهش پیدا نکرده است، مصرف گندم در پروسه تولید گوشت نیز افزایش یافته است، پس با دقت در اینکه تولید گندم تغییری نکرده است چندین حالت به وجود می آید که عبارتند از کاهش تولید گوشت و واردات آن، واردات گندم مورد نیاز برای تولید گوشت و یا واردات هر دو به نسبت مورد نیاز.

۲- بین اعداد زیر، ارتباط خاصی برقرار است. به جای علامت سوال، کدام عدد باید قرار گیرد؟ (iranarze.ir)

2 12 60 240 720 ?

۹۶۰ (۱) ۱۴۰۰ (۲) ۱۴۴۰ (۳) ۱۹۲۰ (۴)

۳- (منبع ایران عرضه) مجموع سن اعضای یک باشگاه ورزشی ۱۸۷ سال و شش ماه است. کوچکترین عضو این باشگاه ۹ سال دارد. اگر افراد این باشگاه به طور متوالی، اختلاف سنی ۶ ماه داشته باشند، تعداد افراد این باشگاه چقدر است؟

۲۵ (۱) ۱۵ (۲) ۵۰ (۳) ۴ نمیتوان تعیین کرد (۴)

۴- حداکثر تعداد بردهای C، کدام می تواند باشد؟ (iranarze.ir)

۱ (۱) ۲ (۲) ۳ (۳) ۴ (۴)

۵- کدام دو نفر از افراد زیر، از دو مسابقه ای که مقابل هم انجام داده اند، لزوماً یکی را برده و دیگری را باخته اند؟

B و A (۱) D و B (۲) D و C (۳) C و A (۴)

۶- کدام فرد (افرا۴)، تعداد برد و باخت هایشان میتواند برابر هم باشد. (iranarze.ir)

(۱) فقط C (۲) C و D

(۳) همه به جز A (۴) هیچ کدام از افراد مسابقه دهنده

** فرض کنید مصرف سرانه بنزین در چهار استان کشور که به ترتیب از شمال غرب تا جنوب شرق روی یک خط فرضی قرار دارند، اندازه گیری شده است. مصرف سرانه استان تهران از بهار تا زمستان، به ترتیب ۱۱۰، ۱۲۵، ۱۱۰ و ۷۷ لیتر بوده است. همچنین درصد رشد سرانه مصرف بنزین هر استان نسبت به استان مجاور غربی اش، در جدول زیر داده شده است (برای مثال: در فصل تابستان، سرانه مصرف بنزین استان یزد ۲۰ درصد کمتر از استان اصفهان بوده است).

استان	بهار	تابستان	پاییز	زمستان
البرز				
تهران	11.11	17.92	-9.09	10.00
اصفهان	-10.00	-20.00	00.00	12.90
یزد	-11.11	-20.00	10.00	-19.54

۷- سرانه مصرف بنزین استان البرز در فصل زمستان، تقریباً چند لیتر است (تالیف توسط سایت ایران عرضه)؟ (iranarze.ir)

(۱) ۸۵ (۲) ۸۰ (۳) ۷۰ (۴) ۷۵

۸- در فصل پاییز، سرانه مصرف بنزین استان البرز تقریباً چند لیتر از سرانه مصرف بنزین استان اصفهان، بیشتر است؟

(۱) ۸ (۲) ۱۱ (۳) ۷ (۴) ۱۳

۹- آب درون یک ظرف را ابتدا ۸ برابر میکنیم و سپس، آب موجود در این ظرف را ۲۵ درصد کاهش می دهیم. اگر آب موجود در این ظرف را درون ظرف دیگری که خالی است بریزیم، ۲۰ درصد ظرف دوم خالی میماند، ظرفیت ظرف دوم چند برابر حجم آب اولیه بوده است؟ (iranarze.ir)

(۱) ۴ (۲) ۵/۵ (۳) ۶ (۴) ۷/۵

۱۰- نسبت درآمد علی به درآمد خواهرش، ۲ به ۳، نسبت درآمد خواهر علی به مادرش، ۴ به ۵ و نسبت درآمد مادر علی به پدر علی، ۳ به ۷ است. درآمد والدین، چند برابر درآمد فرزندان میباشد؟ (iranarze.ir)

(۱) ۱/۲۵ (۲) ۱/۵ (۳) ۲/۲۵ (۴) ۲/۵

۱۱- محقق دندان پزشکی: پر کردن پوسیدگی دندان کاری بی ضرر نیست: خواهی نخواهی به برخی قسمت های سالم دندان آسیب وارد می شود. پوسیدگی ها فقط وقتی مضرند که پوسیدگی به اعصاب درون دندان برسد و بسیاری از پوسیدگی ها، چنانچه معالجه نشوند، هرگز به آن مرحله نمیرسند. بنابراین دندانپزشکان نباید پوسیدگی را پر کنند، مگر این که اعصاب درون دندان در معرض خطر از سوی پوسیدگی باشند.

کدام یک از اصول زیر، در صورتی که صحیح فرض شوند، به بهترین نحو، تأیید کننده استدلال محقق فوق میباشد؟

(۱) بیماری که بالقوه خطرناک است، نباید معالجه نشده رها شود، مگر این که به طور مداوم تحت نظر و کنترل باشد
(۲) بیماری که در حال پیشرفت است، نباید با استفاده از روشهایی که فقط مسکن هستند و آرامش موقعیت ایجاد میکنند، درمان شود

(۳) بیماری که فقط به طور بالقوه مضر است، نباید با استفاده از روشی که قطعاً زیان آور است، درمان شود
(۴) دندانپزشکان بایستی هرگونه رویه ای که در بلند مدت مفید است را پیش بگیرند، اما فقط به این شرط که این رویه باعث زیان فوری نشود.

۱۲- استانداردهای سختگیرانه در استخدام، دلیل اصلی کمبود نیروی کار در مدارس دولتی نیست. کمبود معلم اساساً به این دلیل است که در سالهای اخیر معلمین هیچ گونه بهبودی در شرایط کاری و حقوقی شان ندیده اند و حقوقشان متناسب با حقوق مشاغل دیگر، افزایش نیافته است.

کدامیک از موارد زیر، در صورتی که صحیح فرض شوند، به بهترین وجه، ادعاهای فوق را تأیید میکند (منبع سوالات سایت ایران عرضه)؟ (iranarze.ir)

(۱) خیلی از معلمین معتقدند که حقوق پایین و فقدان آزادی حرفه ای، از عوامل رها کردن شغلشان می باشد.
(۲) امروزه معلمین بیشتری با تحصیلات بالاتر نسبت به معلمین پیشین، وارد این شغل می شوند.
(۳) بعضی از معلمین معتقدند که استانداردهای بالا برای استخدام، عوامل کمبود نیرو می باشد.
(۴) در صورت وجود استانداردهای سخت، بیشتر معلمین شاغل اکنون مشغول به کار نبودند

۱۳- اگر سالن های لوازم خانگی و مواد غذایی در روبروی هم داشته باشند، کدامیک از موارد زیر لزوماً صحیح است؟

(۱) سالن C حاوی مواد غذایی است

(۲) سالن پوشاک دو در دارد

(۳) سالن مواد غذایی دو در دارد

(۴) سالن صنایع دستی در روبروی سالن لوازم خانگی دارد

۱۴- در چند حالت مختلف، سالن های D و لوازم خانگی می توانند یک در روبروی یکدیگر داشته باشند؟ (iranarze.ir)

(۱) ۳ (۲) صفر (۳) ۱ (۴) ۲

۱۵- شرکت های داروسازی، زمانی که داروی بیماری های نادر را تولید میکنند، زیان میدهند چون که تولید دارویی که فقط تعداد معدودی بیماری را معالجه میکند، هزینه های تولید را برنمیگرداند. بنابراین شرکتی که داروی بیماری لاگزمیا، یک بیماری بسیار نادر، را تولید میکند، بدون شک ضرر خواهد کرد.

کدامیک از موارد زیر، در صورتی که صحیح فرض شود، نتیجه گیری فوق را به طور جدی تضعیف مینماید؟ (iranarze.ir)

(۱) بسیاری از شرکت های داروسازی که داروی بیماری های نادر تولید میکنند، داروی بیماری لاگزمیا را تولید نمی کنند

۲) بسیاری از آنهایی که مبتلا به بیماری لاگزمیا می شوند، همزمان مبتلا به یک بیماری دیگر هم می شوند.

۳) دارویی که بیماری لاگزمیا را مداوا می کند، مبتلایان به بیماری های بسیار شایع را نیز معالجه می کند.

۴) علی رغم این که هر بیماری نادر، فقط تعداد معدودی از مردم را مبتلا میکند، تعداد قابل توجهی از مردم، مبتلا به یک بیماری نادر دیگر می شوند.

۱۶- کدام یک از موارد زیر، صحیح نمیباشد؟ (iranarze.ir)

۱) می تواند در یک حالت خاص، در روز یکشنبه به مشهد سفر کند.

۲) می تواند سفرهای مشهد و تبریز خود را در چهار روز متوالی انجام دهد.

۳) می تواند سفرهای تبریز و اصفهان خود را در چهار روز متوالی انجام دهد.

۴) می تواند سفرهای مشهد و اصفهان خود را در چهار روز متوالی انجام دهد.

۱۷- او به چند صورت می تواند سفرهای خود (منبع فروشگاه اینترنتی ایران عرضه) به اصفهان را در دو روز متوالی انجام دهد؟

۵ (۱) ۷ (۲) ۸ (۳) ۹ (۴)

۱۸- اگر X اولین سفر مشهد را دقیقاً بعد از دومین سفر اصفهان انجام دهد، کدام یک از موارد زیر صحیح میباشد؟

۱) X در روز سه شنبه به تبریز سفر کرده است

۲) سفر های او به اصفهان در دو روز متوالی بوده است

۳) بین دو سفر او به تبریز دو روز فاصله افتاده است

۴) بین دو سفر او به مشهد دو روز فاصله افتاده است

** با توجه به اطلاعات داده شده به سوالات ۳۶ الی ۴۲ پاسخ دهید.

آقای بهرامی به همراه همسر و مادرش، آقای حمیدی به همراه همسر و دخترش و آقای صفاپور به همراه همسر، برادر و خواهرش، سه خانواده غریبه هستند که قرار است در یک پرواز، در دو ردیف اول یک هواپیما (مطابق شکل)، با محدودیتهای زیر بنشینند: (iranarze.ir)

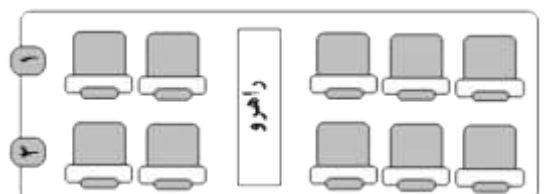
• هیچ زن و مرد نامحرمی نمی توانند کنار یکدیگر بنشینند.

• دختر آقای حمیدی مایل است کنار پنجره بنشیند.

• آقای بهرامی طوری کنار همسرش می نشیند که همسرش کنار راهرو قرار نگیرد.

• آقای صفاپور کنار خواهرش و دقیقاً پشت سر بردارش می نشیند.

• همسر آقای حمیدی دقیقاً پشت سر دخترش می نشیند.



** با توجه به شروط بالا دو حالت نشستن زیر ثابت میباشد و با استفاده از این موارد میتوان به سوالات زیر پاسخ داد

ب. صفاپور		ب. صفاپور		د. حمیدی
صفاپور	خ. صفاپور	خ. صفاپور	صفاپور	خ. حمیدی

۱۹- اگر آقای بهرامی دقیقاً جلوی مادرش بنشیند، چه کسی لزوماً کنار آقای حمیدی مینشیند؟ (iranarze.ir)

(۱) همسر آقای حمیدی

(۲) دختر آقای حمیدی

(۳) آقای بهرامی

(۴) برادر آقای صفاپور

۲۰- اگر همسر آقای بهرامی دقیقاً پشت سر همسر آقای صفاپور (البته نه کنار پنجره) نشسته باشد، کدام مورد در خصوص

جای نشستن مادر آقای بهرامی صحیح است؟ (iranarze.ir)

a: کنار راهرو

b: کنار همسر آقای صفاپور

c: دقیقاً جلوی پسرش

(۱) b و a

(۲) c و a

(۳) c و b و a

(۴) c و b

۲۱- اگر مادر آقای بهرامی وسط دو نفر نشسته باشد، کدام یک از افراد زیر میتوانند بین دو نفر دیگر قرار بگیرند؟ (iranarze.ir)

(۱) همسر آقای بهرامی

(۲) همسر آقای صفاپور

(۳) آقای بهرامی

(۴) خواهر آقای صفاپور

۲۲- اگر همه افراد مطابق شکل زیر در صندلی ها قرار گرفته باشند، برای برقراری همه محدودیت ها حداقل چند جابجایی

(دو نفر با یکدیگر) باید صورت بگیرد؟ (iranarze.ir)



(۱) ۳

(۲) ۴

(۳) ۶

(۴) ۵

۲۳- در شکل زیر، بین اعداد ارتباط خاصی برقرار است. به جای علامت سؤال، چه عددی باید قرار گیرد؟ (iranarze.ir)



(۱) ۴۳۷۹۱

(۲) ۱۷۳۹۴

(۳) ۱۹۴۳۷

(۴) ۴۱۳۷۹

۲۴- در تساوی های زیر، بین اعداد و اشکال ارتباط خاصی برقرار است. به جای علامت سؤال، کدام یک از موارد زیر، باید قرار

$$\square 7 - \triangle 4 = \triangle 1$$

بگیرد؟

$$\pentagon 5 - \triangle 2 = \triangle 2$$

$$\square 2 \quad (۲)$$

$$\triangle 1 \quad (۱)$$

$$\pentagon 7 - \square 2 = ?$$

$$\square 5 \quad (۴)$$

$$\pentagon 1 \quad (۳)$$

۲۵- تابحال بارها موجودات فضایی به زمین آمده اند. آنها به منطقه X حمله و تعدادی از مردم را از خانه ها و مزارعشان در این منطقه به سفینه خود برده اند تا روی آنها تحقیق کنند. البته این فضایی ها رسماً موجودیت خود را اعلام نکرده اند. این کار چه نفعی برای آنها دارد؟ اگر آنها قصد حمله به جایی را داشته باشند، مسلماً نمی خواهند ما باخبر شویم تا بتوانیم در مقابل آنها خود را آماده سازیم و چون آنها می خواهند روی انسانها تحقیق کنند، حضور خود را اعلام نمیکنند؛ چرا که این امر باعث خواهد شد تا ما رفتارمان را عوض کنیم و در نتیجه، مشاهدات آنها خدشه دار خواهد شد. (iranarze.ir)

کدامیک از موارد زیر، در متن فوق، مفروض است؟

(۱) موجودات ناشناخته، قبلاً به سیارات دیگر حمله کرده اند و ممکن است به سیاره ما نیز یورش ببرند.

(۲) موجودات ناشناخته ای که به کره زمین می آیند، فقط در صدد حمله به آن یا به دنبال مطالعه روی نوع بشر هستند.

(۳) موجودات فضایی ممکن است با مطالعه روی انسان ها، در مورد بشر اطلاعات با ارزشی به دست آورند.

(۴) موجودات فضایی از لحاظ تکنولوژی قادر به رفتن به تمام نقاط کره زمین نبوده اند.

۲۶- (منتشر کننده سوالات ایران عرضه) با مطالعه بر روی افراد ۶۵ ساله، محققین به این نتیجه رسیدند که سلامت روانی در بزرگسالی، همبستگی بالایی با روابط صمیمانه با خواهر و برادرها در آغاز بزرگسالی دارد. آن دسته از آزمودنی های تحقیق که هرگز رابطه صمیمانه ای با خواهر و برادر های خود نداشتند یا در سن دانشجویی با خواهر و برادر های خود رابطه صمیمانه نداشتند، نسبت به آنانی که روابط صمیمانه با حداقل یک خواهر یا برادر خود داشتند، از سلامت روانی کمتری برخوردار بودند.

اگر یافته های محققین فوق صحیح فرض شوند، کدام یک از موارد زیر را میتوان نتیجه گرفت؟ (iranarze.ir)

(۱) افرادی که در سن دانشجویی از سلامت روانی خوبی برخوردارند، احتمالاً در ۶۵ سالگی نیز از سلامت روانی خوبی برخوردار خواهند بود.

(۲) برخی از کسانی که در جوانی به دانشگاه می روند، احتمالاً در ۶۵ سالگی از سلامت روانی خوبی بهره خواهند برد

(۳) داشتن رابطه صمیمانه با خواهر و برادرها در سن دانشجویی، مهم تر از داشتن چنین رابطه ای در ۶۵ سالگی است

(۴) روابط صمیمانه با خواهر و برادرها به سلامت روحی در ۶۵ سالگی مربوط تر است تا صرف داشتن خواهر و برادر.

** هر کدام از سوالات زیر شامل دو مقدار یا کمیت میباشند که یکی در ستون الف و دیگری در ستون ب واقع هستند. مقادیر

دو ستون را با همدیگر مقایسه کنید و با توجه دستور العمل، پاسخ صحیح را به شرح زیر انتخاب نمایید:

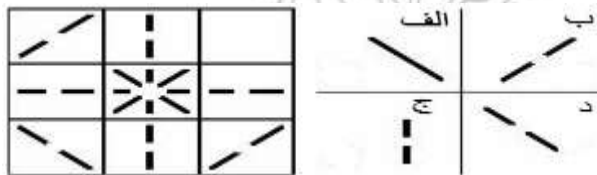
- اگر مقدار ستون الف بزرگتر است، در پاسخنامه گزینه ۱ زده شود
 - اگر مقدار ستون ب بزرگتر است، در پاسخنامه گزینه ۲ زده شود
 - اگر مقادیر ستون های الف و ب با هم برابر باشند، در پاسخنامه گزینه ۳ زده شود
 - اگر نتوان رابطه ای را بین ستون الف و ب، بر اساس داده های مسئله به دست آورد در پاسخنامه گزینه ۴ زده شود
- ۵۳- فرض کنید x و y دو عدد حقیقی هستند که $0 < x < y$

ستون الف	ستون ب
مربع اختلاف x و y	اختلاف مربع های x و y

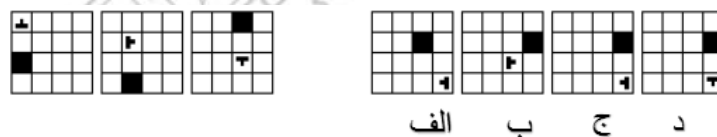
۲۷- سه سال قبل میانگین سن علی و والدینش برابر ۲۷ سال بوده است و دو سال قبل تر از آن نیز میانگین سن علی و مادرش ۲۰ سال بوده است؟ (iranarze.ir)

ستون الف	ستون ب
سن اکنون پدر علی	میانگین سن علی و مادرش در ۱۵ سال بعد

۲۸- کدام گزینه برای جای خالی مناسب میباشد؟ (iranarze.ir)



۲۹- کدام گزینه برای جای خالی مناسب میباشد؟ (ترتیب از چپ به راست) (iranarze.ir)



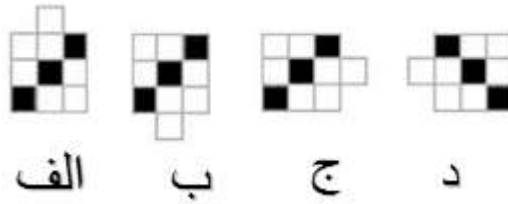
۳۰- کدام گزینه بعدی میباشد؟ (ترتیب از چپ به راست) (iranarze.ir)



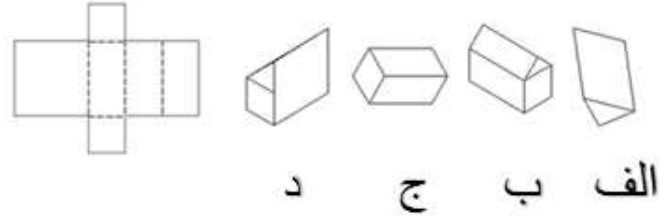
۳۱- کدام گزینه با سایر گزینه ها تفاوت دارد؟ (iranarze.ir)



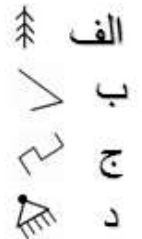

۳۲- کدام گزینه با سایر گزینه ها تفاوت دارد؟ (iranarze.ir)



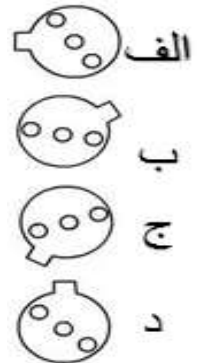
۳۳- با باز کردن کدام گزینه صفحه روبرو حاصل خواهد شد؟ (iranarze.ir)



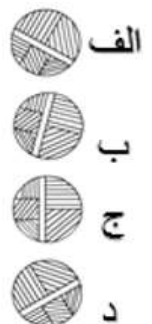
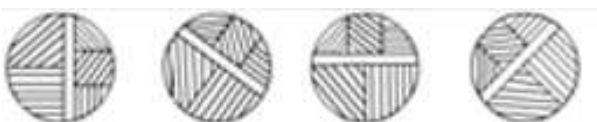
۳۴- کدام گزینه برای جای خالی مناسب میباشد؟ (iranarze.ir)



۳۵- کدام گزینه با سایر گزینه ها تفاوت دارد؟ (iranarze.ir)



۳۶- کدام گزینه بعدی میباشد (منبع ایران عرضه)؟ (ترتیب از چپ به راست) (iranarze.ir)



۳۷- کدام گزینه بعدی میباشد؟ (ترتیب از چپ به راست) (iranarze.ir)



۳۸- با ترکیب دو شکل بالا، کدام گزینه میتواند حاصل شود؟ (iranarze.ir)



۳۹- کدام گزینه بعدی میباشد؟ (ترتیب از چپ به راست) (iranarze.ir)



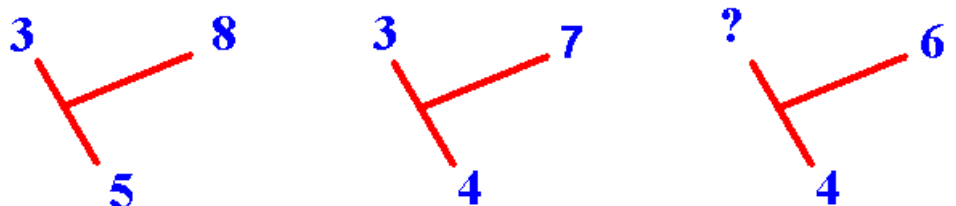
۴۰- کدام گزینه برای جای خالی مناسب میباشد؟ (iranarze.ir)



۴۱- کدام گزینه برای جای خالی مناسب میباشد؟ (iranarze.ir)



۴۲- به جای ؟ چه عددی باید قرار داد؟ (iranarze.ir)



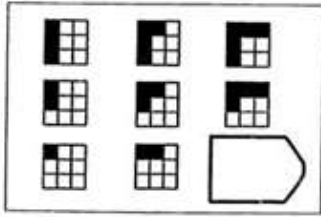
الف ۱

ب ۲

ج ۳

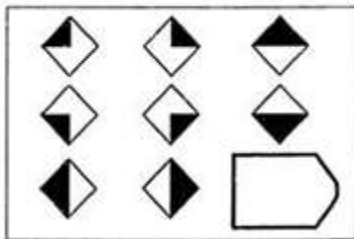
د ۴

۴۳- بهترین گزینه را برای جای خالی انتخاب نمایید. (iranarze.ir)



الف ب ج د

۴۴- (تالیف توسط سایت ایران عرضه) کدام گزینه برای جای خالی مناسب میباشد؟ (iranarze.ir)



الف ب ج د

ایران عرضه
فروشگاه کالاهای دانلودی
IRANARZE.IR

❖ فصل ششم: سوالات مفاهیم پولی، مالی و خدمات بانکی

◀ بخش اول: سوالات بانکداری داخلی

۱- بانکداری در جهان از چه زمانی آغاز شد؟ (iranarze.ir)

- (۱) از زمانی که تجارت کالا به رواج یافت
(۲) از زمانی که پول وسیله داد و ستد و مبادله کالا شد
(۳) از زمانی که انسان به تجارت روی آورد.
(۴) از زمانی که تمدن انسانی روی کار آمد

❑ پاسخ سایت ایران عرضه: گزینه ۲ ← بانکداری در جهان از زمانی آغاز گردید که پول به عنوان وسیله داد و ستد و مبادله کالا مورد استفاده قرار گرفت. خطرات ناشی از نقل و انتقال پول وصول مطالبات از مشتریان دور و نزدیک و سپردن وجوه نقد به جای مطمئن از نخستین علل ایجاد بانک و بانکداری به شمار می آید.

۲- (منبع ایران عرضه) بانکداری در جهان به چند دوره تقسیم می شود؟ (iranarze.ir)

- (۱) سه دوره (۲) دو دوره
(۳) قابل تقسیم نیست (۴) چهار دوره

۳- نخستین تجربه بانکی به شکل جدید آن در..... و توسط.....تحقق یافت. (iranarze.ir)

- (۱) در کشور آلمان و توسط جان کالون (۲) در کشور فرانسه توسط پروتستان ها
(۳) در ایتالیا توسط جان لائو (۴) در فرانسه توسط جان لائو

۴- نخستین بانک ایرانی کدام بانک است و در چه سالی تاسیس شد؟ (iranarze.ir)

- (۱) بانک ملی / ۱۳۰۶
(۲) بانک سپه / ۱۳۰۶
(۳) بانک ملی / ۱۳۰۴
(۴) بانک سپه / ۱۳۰۴

۵- کدام یک از گزینه های زیر برای تعریف بانک صحیح است؟ (iranarze.ir)

- (۱) بانک سازمان اقتصادی / مالی / خدماتی است.
(۲) بانک با هدف کسب سود و ارائه خدمات انجام وظیف می نماید.
(۳) بانک با جذب منابع سرگردان برای تحقق اهداف اقتصادی کشور انجام وظیفه می کند
(۴) همه موارد

۶- منظور از سپرده کم هزینه دیداری چیست؟ (iranarze.ir)

- (۱) حساب قرض الحسنه جاری
(۲) حساب قرض الحسنه پس انداز
(۳) سپرده کوتاه مدت عادی
(۴) هیچکدام

۷- کدام گزینه تعریف ارسطو از پول را بیان می کند؟ (iranarze.ir)

- (۱) پول کالایی است که واسطه معاملات و معیار و مقیاس ارزشها می باشد
(۲) پول از آنجا حائز اهمیت است که بین حال و آینده پلی برقرار می کند

۳) پول واسطه مبادله، واحد ارزش و ذخیره ارزش هاست

۴) پول واحد رسمی و قانونی کشور است، که وسیله مبادله و مورد پذیرش عامه است.

۸- بانک مرکزی حد نگهداری وجوه نقد را چند درصد اعلام نموده است؟ (iranarze.ir)

۱) حداقل ۳ درصد (۲) حداکثر ۳ درصد (۳) حداقل ۵ درصد (۴) حداکثر ۵ درصد

۹- نرخ جایزه سپرده قانونی چگونه به دست می آید؟ (iranarze.ir)

۱) تقسیم مبلغ جایزه سپرده قانونی به کل سپرده قانونی نزد بانک مرکزی

۲) حاصل ضرب مبلغ جازه سپرده قانونی به کل سپرده قانونی نزد بانک مرکزی

۳) تقسیم کل سپرده قانونی به مبلغ جایزه سپرده

۴) هیچکدام

۱۰- کدام گزینه درباره پول کالایی درست است؟ (iranarze.ir)

۱) تعیین ارزش کالا بر اساس قبول واحد معینی که مورد پذیرش طرفین باشد بوده است.

۲) تعیین خریدار و فروشنده که هر دو نیاز به عرضه کالای طرف مقابل را داشته باشد کار مشکلی نبود.

۳) در جوامع نخستین تحصیل انواع کالاهای تولید شده صرفاً از طریق تعویض و مبادله کالا بوده است.

۴) هیچکدام.

۱۱- وکالت نامه در چه صورتی باطل می گردد؟ (iranarze.ir)

۱) برحسب تقاضای کتبی موکل (۲) فوت وکیل یا موکل

۳) جنون یا حجر وکیل یا موکل (۴) همه موارد

۱۲- هزینه هر قطعه چک صیاد..... است. (iranarze.ir)

۱) ۱۳۰۰ ریال (۱۰۰۰ ریال هزینه صدور هر قطعه چک و ۳۰۰ ریال تمبر مالیاتی)

۲) ۱۲۰۰ ریال (۱۰۰۰ ریال هزینه صدور هر قطعه چک . ۲۰۰ ریال تمبر مالیاتی)

۳) ۱۲۰۰ ریال (۹۰۰ ریال هزینه صدور هر قطعه چک و ۳۰۰ ریال تمبر مالیاتی)

۴) ۱۲۰۰ ریال (۱۲۰۰ ریال هزینه صدور هر قطعه چک و تمبر مالیاتی رایگان)

۱۳- هر گاه چک به علت پرداخت نگردد از گواهی عدم پرداخت استفاده می گردد. (iranarze.ir)

۱) کسر موجودی (۲) عدم تطابق امضا

۳) قلم خوردگی در متن چک (۴) همه موارد

۱۴- کارمزد ارزیابی جعاله در حال حاضر ۴۰۰/۰۰۰ ریال مقطوع بوده که درصد آن سهم ارزیاب و درصد آن به

حساب درآمد بانک می رود.

۱) 60/ 40 (۲) 40/ 60 (۳) 50/50 (۴) به صورت توافقی انجام می شود.

۱۵- کدام گزینه درباره تسهیلات مزارعه صحیح نیست؟ (iranarze.ir)

- ۱) بانکها به دلیل اینکه صاحب زمین نیستند امکان برقراری عقد مزارعه را ندارند.
 - ۲) این عقد در سیستم بانکهای خصوصی و تجاری عملاً غیر قابل اجراست
 - ۳) نحوه محاسبه سود آن مانند مشارکت مدنی است
 - ۴) این عقد در تمامی بانکها بدون محدودیت قابل برقراری است.
- ۱۶- قرار داد استصناع برای تامین مالی طرحهای انفرادی به دلیل می تواند بالاترین کاربرد را داشته باشد.

- ۱) محدود بودن مبلغ و حجم پروژه
- ۲) بومی بودن تکنولوژی احداث پروژه
- ۳) مدت زمان پایین اجزای پروژه و تحویل طرح یا کالا
- ۴) همه موارد

۱۷- شرایط و نحوه محاسبه تخفیف سود زود پرداخت (در تسهیلات دین) چگونه است؟ (iranarze.ir)

- ۱) سی روز - مدت زمان استفاده از تسهیلات - کل مدت تنزیل = مدت زود پرداخت
کل مدت تنزیل ÷ (مدت دوره × کل مبلغ سود) = میزان تخفیف زود پرداخت
- ۲) سی روز - مدت زمان استفاده از تسهیلات - کل مدت تنزیل = مدت زود پرداخت
کل مدت تنزیل + (مدت دوره + کل مبلغ سود) = میزان تخفیف زود پرداخت
- ۳) سی روز - مدت زمان استفاده از تسهیلات - کل مدت تنزیل = مدت زود پرداخت
کل مدت تنزیل + (مدت دوره ÷ کل مبلغ سود) = میزان تخفیف زود پرداخت
- ۴) سی روز - مدت زمان استفاده از تسهیلات - کل مدت تنزیل = مدت زود پرداخت
کل مدت تنزیل × (مدت دوره - کل مبلغ سود) = میزان تخفیف زود پرداخت

۱۸- در حال حاضر اسناد و اوراق تجاری مورد قبول مطابق دستورالعمل اجرایی دین می باشد. (iranarze.ir)

- ۱) صرفاً چک مدت دار تودیدی
- ۲) صرفاً چک
- ۳) هر نوع اوراق بهاداری
- ۴) همه موارد

۱۹- مدت استفاده از حد اعتباری در سال کبیسه چند روز است؟ (iranarze.ir)

- ۱) ۳۶۴ روز
- ۲) ۳۶۵ روز
- ۳) ۳۶۶
- ۴) تفاوتی با سال غیر کبیسه ندارد

۲۰- یکی از کاربردهای مهم اوراق مرابحه تبدیل کردن تسهیلات بانکها و شرکتهای لیزینگ به است.

- ۱) چک
- ۲) اوراق بهادار
- ۳) اوراق قرضه
- ۴) سرمایه

۲۱- منظور از توان مالی بلند مدت در آئین نامه تشخیص صلاحیت پیمانکار چیست؟ (iranarze.ir)

- ۱) وام های با وثیقه و بدون وثیقه و وامهای دریافتنی از شرکتهای وابسته یا عضو گروه

۲) وامها و اضافه برداشتتای های بانکی، حصه های جاری، بدی های بلند مدت و پرداختی.

۳) رقمی که بیانگر توانایی مالی پیمانکار برای انجام تعهدات است

۴) همه موارد

بدهی های بلند مدت- دارایی های ثابت= توان مالی بلند مدت

۲۲- کدام گزینه درباره سفته درست نیست؟ (iranarze.ir)

۱) باید مهر و امضا صادر کننده را داشته باشد. ۲) نیازی به قید مبلغی که باید پرداخت شود نیست.

۳) گیرنده وجه مشخص باشد ۴) تاریخ پرداخت معین شود

۲۳- کدام گزینه تفاوت سفته و برات را بیان می کند؟ (iranarze.ir)

۱) در تنظیم برات معمولا سه نفر و در سفته دو نفر شرکت دارند.

۲) برای صدور برات وجود محل لازم است در صورتیکه برای سفته وجود محل ضرورت ندارد.

۳) سفته نماینده دین مسلم صادر کننده است در حالیکه برات چنین نیست.

۴) همه موارد

۲۴- گزینه صحیح کدام است؟ (iranarze.ir)

۱) در تنظیم برات سه نفر شرکت دارند و در سفته دو نفر

۲) در تنظیم برات دو نفر شرکت دارند و در سفته سه نفر

۳) در تنظیم برات و سفته هر دو سه نفر شرکت دارند

۴) هیچ کدام

۲۵- از انواع سفته است. (iranarze.ir)

۱) برات وصولی ۲) برات تضمینی ۳) برات خریداری ۴) همه موارد

۲۶- تعریف زیر برای کدام گزینه است؟ (iranarze.ir)

«به سفته یا براتی اطلاق می گردد که دارنده با ظهرنویسی جهت وصول به بانک واگذار نماید»

۱) برات تضمینی ۲) برات وصولی ۳) برات خریداری ۴) هیچکدام

۲۷- کدام گزینه صحیح نیست؟ (iranarze.ir)

۱) در سفته های با تاریخ معین احتیاج به ارسال اظهارنامه نیست.

۲) باید حداکثر ظرف مدت ۱۰ روز بعد از سر رسید وخواست سفته صورت پذیرد

۳) در سفته های عندالمطالبه ارسال اظهارنامه ضروری است

۴) در سفته های با تاریخ معین احتیاج به ارسال اظهارنامه است.

۲۸- در تهیه اوراق اظهار نامه، جهت ارسال اظهار نامه برای یک شخص فرم اظهار نامه در چند نسخه تهیه می گردد؟

۱) یک نسخه (۲) دو نسخه (۳) سه نسخه (۴) پنج نسخه

۲۹- در براوت وصولی وخواست کننده و در براوت خریداری و تضمینی وخواست کننده می باشد. (iranarze.ir)

۱) بانک/ بانک (۲) واگذارنده سفته/ واگذارنده سفته

۳) بانک/ واگذارنده سفته (۴) واگذارنده سفته/ بانک

۳۰- در وخواست کننده و واگذارنده سفته و در براوت وخواست کننده بانک می باشد.

۱) براوت تضمینی/ براوت وصولی (۲) براوت وصولی/ براوت خریداری

۳) براوت وصولی/ براوت خریداری و تضمینی (۴) براوت خریداری/ براوت تضمینی

۳۱- (منبع فروشگاه اینترنتی ایران عرضه) کدام گزینه صحیح نیست؟ (iranarze.ir)

۱) وجه نقد معادل ۱۰۰ درصد تسهیلات یا تعهدات قابلیت توثیق دارد.

۲) طلا به قیمت کارشناسی قابلیت توثیق دارد.

۳) سپرده قرض الحسنه پس انداز نزد بانک معادل ۱۰۰ درصد تسهیلات یا تعهدات قابلیت توثیق دارد.

۴) سپرده قرض الحسنه پس انداز نزد بانک معادل ۱۱۰ درصد تسهیلات یا تعهدات قابلیت توثیق دارد.

۳۲- عمده ترین تحول در نظام بانکداری فعلی چیست؟ (iranarze.ir)

۱) پیاده کردن قانون اسلامی در اقتصاد (۲) حذف بهره

۳) حذف زیان از معاملات (۴) همه موارد

۳۳- در طبقه بندی عقود از نظر مدت تسهیلاتی که مدت استهلاک آنها از یک سال بیشتر و از پنج سال کمتر باشد در کدام طبقه قرار می گیرد؟ (iranarze.ir)

۱) میان مدت (۲) کوتاه مدت (۳) بلند مدت (۴) هیچکدام

۳۴- کدام گزینه درباره قرض الحسنه ازدواج صحیح نیست؟ (iranarze.ir)

۱) بازپرداخت آن در ۶۰ ماه است. (۲) تنها به ازدواج اول تعلق نمی گیرد

۳) تسهیلات قرض الحسنه است. (۴) از تاریخ تنظیم سند عقد یک سال بیشتر نگذشته باشد

۳۵- کدام گزینه از ویژگی های کالای مورد معامله سلف است؟ (iranarze.ir)

۱) کالای مورد معامله از کیفیت مناسب و مطلوب برخوردار باشد.

۲) کالای موضوع معامله می بایست سهل البیع بوده و سریع الفساد نباشد.

۳) کالای موضوع سلف با توجه به قوانین جاری کشور مجاز و مشروع باشد.

۴) همه موارد

۳۶- ارزش فعلی کالا در معاملات سلف چیست؟ (iranarze.ir)

۱) قیمت نقدی عمده فروشی کالا در زمان انجام معامله

- (۲) بهای پیش پرداخت خرید آن کالا در زمان انجام معامله
(۳) ارزش آتی و اسمی کالا ارزش فعلی آن کالا است.
(۴) همه موارد.

۳۷- کدام گزینه صحیح است؟ (iranarze.ir)

- (۱) تسهیلات سلف فقط به منظور تامین سرمایه در گردش کاربرد ندارد.
(۲) تسهیلات سلف به منظور تامین سرمایه ثابت کاربرد دارد.
(۳) تسهیلات سلف فقط به منظور تامین سرمایه در گردش کاربرد دارد.
(۴) همه موارد

۳۸- در فرمول جدید نحوه محاسبه قیمت پیش خریدی در عقد سلف منظور از r و A چیست؟ (iranarze.ir)

$$C = \frac{36500 \times A}{36500 + (r \cdot n)}$$

$$36500 + (r \cdot n)$$

- (۱) r قیمت عمده فروشی / A نرخ بهره
(۲) r نرخ بهره / A قیمت پیش خریدی
(۳) r نرخ بهره / A قیمت عمده فروشی
(۴) r مدت / A نرخ بهره

۳۹- اجاره به شرط تملیک از چند عقد تشکیل شده است؟ (iranarze.ir)

- (۱) تنها یک عقد است (۲) سه عقد (۳) دو عقد (۴) بنا بر شرایط متفاوت است

۴۰- اجاره به شرط تملیک از کدام نوع تسهیلات بانکی می باشد؟ (iranarze.ir)

- (۱) میان مدت (۲) کوتاه مدت (۳) بلند مدت (۴) از تسهیلات بانکی نیست

۴۱- اخذ کدام مدرک برای افراد روشندلی که تمایل به معرفی وکیل ندارند جهت افتتاح حساب ضروری است؟ (iranarze.ir)

- (۱) رسید ثبت امضای الکترونیک

- (۲) ضمانت نامه بانکی جهت قبول مسئولیت ناشی از صدور چک

- (۳) تعهدنامه رسمی قبول مسئولیت ناشی از صدور چک

- (۴) ارایه رضایت نامه محضری به بانک جهت افتتاح حساب بدون معرف

۴۲- حداکثر مدت اعتبار چک از زمان دریافت دسته چک چقدر است؟ (iranarze.ir)

- (۱) ۱ سال (۲) ۲ سال (۳) ۳ سال (۴) ۴ سال

۴۳- در کدام نوع چک، صادر کننده با کشیدن دو خط موازی در گوشه بالای سمت چپ دارنده را ملزم می نماید که وجه چک

را به صورت نقدی دریافت ننموده و آن را جهت وصول به شعبه بانک محل حساب خود واگذار نماید؟ (iranarze.ir)

- (۱) چک تضمین شده (۲) چک بسته (۳) چک گواهی شده (۴) چک بانکی

۴۴- در همه موارد زیر صادر کننده چک قابل تعقیب کیفری نمیباشد، به جز (iranarze.ir)

- (۲) به موجب حکم دادگاه مشتری ورشکسته اعلام شود.
- (۳) به موجب حکم دادگاه مشتری دارای سو پیشینه کیفری باشد.
- (۴) به موجب حکم دادگاه در خصوص اجرای ماده ۱۴ قانون صدور چک باشد.



بخش دوم: سوالات دانش علوم بانکی

۱- در چکی که محل صدور چک با محل پرداخت وجه آن یکی باشد در قانون تجارت بعد مسافت از محل صدور چک تا محل پرداخت آن چه مدت زمان می باشد؟ (iranarze.ir)

- (۱) ده روز از تاریخ صدور
(۲) ۱۵ روز از تاریخ صدور
(۳) یک ماه از تاریخ صدور
(۴) ۴۵ روز از تاریخ صدور

✓ پاسخ سایت ایران عرضه: گزینه ۲ ← اگر چک در همان مکانی که صادر شده است باید تادیه گردد دارنده چک باید ظرف ۱۵ روز از تاریخ صدور و وجه آن را مطالبه کند.

۲- اگر محل صدور چک با محل تادیه یکی نباشد ظرف از تاریخ صدور مطالبه می شود. (iranarze.ir)

- (۱) ۱۰ روز (۲) پانزده روز (۳) ۲۵ روز (۴) ۴۵ روز

۳- دارنده چک بی محل می تواند با انتخاب کدام یک از تو گزینه های زیر وجه را مورد مطالبه قرار دهد؟ (iranarze.ir)

- (۱) صدور اجرائیه از طریق اجرای ثبت
(۲) مراجعه به ظهرنویسان در مدت قانونی
(۳) طرح شکایت کیفری به دادسرا و تسلیم دادخواست مطالبه وجه
(۴) همه موارد

۴- در برابر صدور چک بلامحل کدام یک از ضمانت های اجرایی تعبیه گردیده است؟ (iranarze.ir)

- (۱) حبس تعزیری از ۶ ماه تا دو سال
(۲) بر حسب مورد جزای نقدی معادل یک چهارم وجه چک یا یک چهارم کسر موجودی
(۳) مجازات حبس پنج تا شش سال
(۴) جزای نقدی معادل مبلغ چک

۵- مرور زمان شکایت کیفری علیه چک بلامحل چه مدت زمان می باشد؟ (iranarze.ir)

- (۱) یک سال از تاریخ صدور چک
(۲) شش ماه از تاریخ مراجعه به بانک
(۳) شش ماه از تاریخ صدور چک
(۴) دو سال از تاریخ صدور چک

۶- کدام یک از گزینه های زیر در مورد چک بلامحل صدق نمی کند؟ (iranarze.ir)

- (۱) دارنده چک موظف است ظرف مدت ۶ ماه برای وصول آن به بانک مراجعه کند وگرنه حق شکایت کیفری نخواهد داشت.
(۲) کسی که چک پس از برگشت از بانک به او منتقل گردیده حق شکایت کیفری نخواهد داشت مگر آنکه انتقال قهری باشد.
(۳) کسی که چک پس از برگشت از بانک به او منتقل شده نیز حق شکایت کیفری دارد.
(۴) هرگاه بعد از شکایت کیفری شاکی چک را به دیگری انتقال دهد یا حقوق خود را نسبت به چک به دیگری واگذار نماید تعقیب کیفری موقوف خواهد شد.

- ۷- بانک حساب جاری اشخاص را که اقدام به صدور یک فقره چک بلامحل نمایند و بنا به تقاضای دارنده چک منجر به صدور گواهینامه عدم پرداخت به علت فقدان موجودی شود تحت عنوان حساب تلقی می کند. (iranarze.ir)
- (۱) حساب جاری درگیر
(۲) حساب مسدود
(۳) حساب بی اعتبار
(۴) حساب بی محل
- ۸- کدام یک از شرایط رفع سوء اثر از سوابق چک های برگشتی می باشد؟ (iranarze.ir)
- (۱) حساب جاری صادر کننده توسط بانک پرداخت شده باشد.
(۲) لاشه چک ارائه شود.
(۳) رضایتنامه دارنده چک که مشخصات آن با مندرجات موجود در گواهینامه عدم پرداخت چک مطابقت دارد اخذ شود.
(۴) همه موارد
- ۹- چکی است که در موقع گشایش حساب جاری بر اساس تقاضای کتبی مشتری در اختیار وی قرار می گیرد تا با هر برگ آن از حساب خود برداشت یا به دیگری منتقل نماید. (iranarze.ir)
- (۱) چک گواهی شده (۲) چک عمومی (۳) چک عادی (۴) چک مسافرتی
- ۱۰- چکی که وجود محل آن و چه چک بنا به درخواست دارنده حساب برای مدت معین که معمولاً برای ارائه چک لازم است از طرف بانک تایید شده باشد و بانک معادل مبلغ آن چک را از حساب مشتری برداشت یا در همان حساب تا زمان ارائه چک برای دریافت وجه مسدود می نماید به اصطلاح می باشد. (iranarze.ir)
- (۱) چه عادی (۲) چک گواهی شده (۳) چک عمومی (۴) چک مسافرتی
- ۱۱- معامله ای است که بین صاحب درخت و امثال آن با عوامل در مقابل هسته مشاع معین از ثمره واقع می شود که ممکن است میوه بر گل و غیره باشد. (iranarze.ir)
- (۱) مزارع (۲) مساقات (۳) جعاله (۴) گزینه ب و ج
- ۱۲- شرایط افتتاح حساب جاری برای بانک ها مشابه مقرراتی است که برای ن..... اعمال می شود. (iranarze.ir)
- (۱) اشخاص خصوصی (۲) اشخاص حقوقی (۳) اشخاص حقیقی (۴) موسسات غیرانتفاعی
- ۱۳- نگهداری حساب وزارتخانه ها و موسسات ای که دارای ذیحساب منتخب وزارت امور اقتصاد و دارایی میباشند و به عهده می باشد. (iranarze.ir)
- (۱) رئیس شعبه آن بانک (۲) بانک مرکزی جمهوری اسلامی ایران
(۳) فرد منتخب برای نگهداری حساب های دولتی (۴) وزارت کشور
- ۱۴- کلیه حسابهای وزارتخانه ها و سازمان ها شرکت ها ارگان ها و نهادها که دارای ذیحساب منتخب وزارت امور اقتصادی و دارایی می باشد از طریق افتتاح و انسداد می شود. (iranarze.ir)
- (۱) خزانه داری کل (۲) دستورالعمل های صادره توسط نمایندگی خزانه در استان

۱۵- حساب‌های شرکت‌های بیمه و شرکت‌های هواپیمایی ملی ایران از کدام دسته حساب‌ها می‌باشد؟ (iranarze.ir)

۱) حساب‌های خزانه داری

۲) حسابهای بنگاه‌های دولتی

۳) حسابهای بنگاه‌های خصوصی

۴) حسابهای حقیقی

۱۶- چنانچه کلیه حسابهای طی شش ماه متوالی فاقد هرگونه گردش عملیاتی باشند مراتب باید به

اعلام گردد. (iranarze.ir)

۱) حساب سازمان مدیریت و برنامه ریزی و حسابداری کل و بودجه

۲) خزانه داری - بانک مرکزی

۳) خزانه داری- رئیس شعبه آن بانک

۴) حساب سازمان مدیریت برنامه ریزی رئیس شعبه

۱۷- افتتاح حساب ی شرکت های خارجی در ایران به چه نحوه است؟ (iranarze.ir)

۱) با شرکت های خارجی که در ایران به ثبت رسیده اند باید عینا مانند شرکت‌های ایرانی عمل شود.

۲) شرکت‌های خارجی که در ایران به ثبت رسیده اند باید تحت شرایط خاصی کنترل شوند.

۳) بر اساس قانون شرکت های خارجی نمی توانند در ایران به ثبت برسند.

۴) شرکت‌های خارجی تنها از طریق نماینده ایرانی مجاز به ثبت می باشند.

۱۸- کدام یک از مدارک زیر برای افتتاح حساب جاری برای انجمن ها الزامی می باشد؟ (iranarze.ir)

۱) رونوشت مصدق اساسنامه

۲) مرامنامه ثبت شده انجمن

۳) یک نسخه روزنامه رسمی کشور مبنا بر انتشار آگهی تاسیس انجمن

۴) همه موارد

۱۹- افتتاح حساب سپرده قرض الحسنه جاری برای مدارس غیر انتفاعی با تقاضای در ردیف حسابهای نقطه میسر

می گردد. (iranarze.ir)

۱) مدیر کل حساب- اشخاص حقوقی

۲) مدیر کل -حساب اشخاص حقیقی

۳) وزیر آموزش و پرورش - حساب اشخاص حقوقی

۴) وزیر آموزش و پرورش - حساب انجمن ها

۲۰- در کدام یک از انواع شرکت ها مسئولیت صاحبان سهام محدود به مبلغ اسمی سهام آنها می باشد؟ (iranarze.ir)

۱) شرکت های مسئولیت محدود

۲) شرکت های سهامی

۳) شرکت های تضامنی ۴) شرکت های مختلط غیر سهامی

۲۱-..... شرکتی است که برای امور تجاری تحت اسم خاصی بین یک یا چند نفر ضامن و یک یا چند نفر شریک با مسئولیت محدود بدون انتشار سهام تشکیل می شود. (iranarze.ir)

۱) شرکت های مختلط غیر سهامی ۲) شرکت مختلط سهامی

۳) شرکت سهامی خاص ۴) شرکت سهامی عام

۲۲- رسیدگی و تصویب بودجه و آیین نامه های داخلی بر عهده چه کسی است؟ (iranarze.ir)

۱) بانک مرکزی ۲) شورای پول و اعتبار ۳) بانک ملی ۴) بانک سپه

۲۳- در این حساب ها جنبه آماری وزن دهی مدنظر بوده و جزو دارایی و بدهی بانک محسوب نمی گردد. (iranarze.ir)

۱) حساب انتظامی ۲) درآمد حساب سپرده ۳) هزینه ها ۴) الف و ب

۲۴- مجموعه مخارجی که بانک طی یک دوره مالی جهت تحصیل درآمد متقبل میگردد و مانده حساب آن در پایان دوره مالی به حساب سود و زیان منتقل می شود به اصطلاح چه نامیده می شود؟ (iranarze.ir)

۱) حساب سود معامله ۲) حساب انتظامی ۳) هزینه ها ۴) سپرده

۲۵- در صورتی که وصول کسری صندوق و عملیات حسابداری آن به صورت فوری امکان نداشته باشد باید مبلغ مذکور از تأمین و حداکثر ظرف مدت ترتیب دریافت کسری صندوق از متصدی امور بانکی داده شود. (iranarze.ir)

۱) متصدی امور بانکی - چهار روز ۲) متصدی امور بانکی - سه روز

۳) از محل بدهکاران - چهار روز ۴) از محل بدهکاران موقت - سه روز

۲۶- مبلغ فزونی صندوق به چه حسابی واریز می گردد؟ (iranarze.ir)

۱) حساب انتظامی ۲) حساب بدهکاران موقت

۳) حساب بستانکاران موقت ۴) هیچکدام

۲۷- منظور از سیتواسیون چیست؟ (iranarze.ir)

۱) تنظیم صورت وضعیت صندوق ۲) تنظیم به حساب بدهکاری موقت

۳) تنظیم حساب ۴) همه موارد

۲۸- کدام یک از موارد زیر از محتویات دفتر خزانه می باشد؟ (iranarze.ir)

۱) اسکناس و نیکل ۲) چک های تضمین شده شهری

۳) چکهای مبلغ دار با نام تضمین شده ۴) همه موارد

۲۹- تمبر مالیاتی سفته برات بارنامه و دسته چک عموماً باید توسط شعبه برای مصرف تنظیم گردد. (iranarze.ir)

۱) ۱۵ روزه ۲) سالانه ۳) روزانه ۴) سه ماهه

۳۰- تمبر مالیاتی دسته چک عموماً باید توسط شعبه برای مصرف چند ماه پیش بینی شود؟ (iranarze.ir)

(۱) دوازده ماه (۲) چهار ماه (۳) سه ماه (۴) ۱۵ ماه

۳۱- اجتماعی عده‌ای از افراد با تمرکز اموال به منظور انجام مقاصد خاص یا غیر انتفاعی است مانند موسسات دولتی شرکتهای تجاری شهرداری ها انجمن ها سازمانها و بانکها. (iranarze.ir)

(۱) اشخاص حقیقی (۲) اشخاص حقوقی (۳) اشخاص عمومی (۴) اشخاص خصوصی

۳۲- آن دسته از اشخاص حقوقی که حدود وظایف و تکالیف آنها را قانون معین می‌کند و موجودیت حقوقی آنها احتیاج به تشریفات و ثبت ندارد و با ایجاد دارای شخصیت حقوقی می‌شوند نامیده می‌شوند. (iranarze.ir)

(۱) اشخاص حقیقی (۲) اشخاص حقوقی عمومی

(۳) اشخاص حقوقی خصوصی (۴) گزینه ۲ و ۱

۳۳- کدام حساب از دارایی‌های ثابت محسوب می‌شود و دارای ویژگی‌های مربوط به آن است؟ (iranarze.ir)

(۱) حساب بدهکاران (۲) حساب دارایی (۳) حساب پایاپای (۴) حساب اموال منقول

۳۴- تبدیل یا تغییر یا نقل و انتقال با پذیرش دارایی غیر قانونی به طور عمدی یا مخفی کردن آن برای جلوه دادن دارایی نام دارد. (iranarze.ir)

(۱) تخمین زدن نقدینگی (۲) افزایش سرعت نقل و انتقالات

(۳) پولشویی (۴) همه موارد

۳۵- در کدام کشور علاوه بر بانک‌های خصوصی بعضی از افراد هم به کار صرافی اشتغال می‌ورزیدند؟ (iranarze.ir)

(۱) ایران (۲) یونان (۳) روم (۴) چین

۳۶- عملیات بانکی کدام کشور در ابتدای تاسیس شبیه به بانک‌های کنونی میباشد؟ (iranarze.ir)

(۱) یونان (۲) چین (۳) روم (۴) ایران

۳۷- در سطح عمومی قیمت‌ها و در نتیجه در ارزش پول تاثیر مستقیم دارند. (iranarze.ir)

(۱) نقدینگی (۲) شبه پول (۳) سپرده (۴) حجم پول

۳۸- کدام عامل اگر همراه با افزایش تولید ناخالص داخلی نباشد یا واردات کشور میسر نشود عامل تشدید کننده قیمت محسوب می‌شود؟ (iranarze.ir)

(۱) افزایش نقدینگی (۲) افزایش شبه پول

(۳) افزایش حجم پول در گردش (۴) نقدینگی در حال کاهش

۳۹- میزان شبه پول به اضافه برابر است با نقدینگی بخش خصوصی. (iranarze.ir)

(۱) حجم پول در گردش (۲) سپرده (۳) شبه پول (۴) نقدینگی

۴۰- منظور از تعداد دفعاتی است که یک واحد پولی در یک مقطع زمانی مشخص توسط اشخاص جابجا می‌شود. (iranarze.ir)

- ۱) سرعت گردش سپرده
۲) سرعت گردش پول
- ۳) حجم گردش پول
۴) پول تحریری
- ۴۱- به مجموعه مانده حسابهای مشتریان بانکها و سایر موسساتی که سپرده میدهند اطلاق می شود. (iranarze.ir)
- ۱) پول تحریری
۲) پول واسطه
۳) پول
۴) پول اعتباری
- ۴۲- یک عدد شامل بیت های دیجیتالی است که بعد از امضای دیجیتال ناشران با ارزش اعتبار می یابد. (iranarze.ir)
- ۱) پول تحریری
۲) پول واسطه
۳) پول الکترونیکی
- ۴۳- کدام مورد از امتیازات پول الکترونیکی محسوب می شود؟ (iranarze.ir)
- ۱) گمنام بودن کاربر
۲) قابلیت کاربری آسان
۳) حمل و نقل راحت و مستمر
۴) همه موارد
- ۴۴- تفاوت عقاید شخصی و تقریباً تخمین باید حتی امکان تأثیری در حسابداری و نتایج حاصل از آن نداشته باشد.
- ۱) اصل تعیین ارزش اقلام و دارایی
۲) اصل ادامه فعالیت
۳) اصل واقعیت
۴) اصل تساوی
- ۴۵- معادله بدهی به اضافه سرمایه مساوی با دارایی نشانگر کدام اصل است؟ (iranarze.ir)
- ۱) اصل تعیین ارزش اقلام و دارایی
۲) اصل ادامه فعالیت
۳) اصل واقعیت
۴) اصل تساوی
- ۴۶- منظور از باید کوشش لازم به عمل آید تا درآمد موسسات بیش از آنچه واقعیت دارد در حسابها منظور نشود.
- ۱) اصل تساوی
۲) اصل وضع هزینه دوره
۳) اصل احتیاط
۴) اصل واقعیت
- ۴۷- اظهار نظر در مورد افزایش یا کاهش سرمایه هر یک از بانکها از وظایف است. (iranarze.ir)
- ۱) شورای عالی بانکها
۲) مجمع عمومی بانکها
۳) مجمع فوق العاده بانکها
۴) همه موارد
- ۴۸- هیئت مدیره به پیشنهاد و تصویب انتخاب می شود. (iranarze.ir)
- ۱) شورای عالی مجمع فوق العاده
۲) شورای عالی مجمع عمومی بانکها
۳) شورای عالی شورای عالی
۴) مجمع عمومی شورای عالی
- ۴۹- بالاترین مقام اداری و اجرایی بانک است. (iranarze.ir)
- ۱) رئیس هیئت مدیره
۲) بازرسان قانونی
۳) رئیس هیئت عمومی
۴) مدیرعامل
- ۵۰- مدیرعامل به پیشنهاد و نظر انتخاب می شود. (iranarze.ir)
- ۱) وزیر دارایی- مجمع عمومی بانکها
۲) وزیر بازرگانی - شورای عالی بانکها
۳) مجمع عمومی بانکها - شورای عالی بانکها
۴) رئیس هیئت - مدیره شورای عالی

بخش سوم: سوالات اصول بانکداری

۱- کدام گزینه از جمله اختلافات بسیار مهم بین عملیات بانکداری رم قدیم با عملیات بانکداری عصر حاضر میباشد؟

(۱) در بانکداری قدیم عین مسکوکات فلزی رد و بدل میشد ولی در بانکداری جدید اعتبارنامه ها و مقیاس های ارزش معرف پول استفاده میشود.

(۲) در بانکداری جدید برخلاف بانکداری قدیم عملیات بصورت سیستمی انجام میگردد و درصد خطای کمتری دارد.

(۳) در عملیات بانکداری قدیم تعداد حسابهایی که هر بانک مجاز است افتتاح نماید محدود تر از تعداد حسابها در بانکداری جدید بود.

(۴) در بانکداری قدیم نگهداری و نقل و انتقال اسناد بصورت ارزان و سهل و ساده انجام می شد.

☑ پاسخ سایت ایران عرضه: گزینه ۱ ← عملیات بانکی بانکداران رومی از بیشتر جهات شبیه به عملیات بانکی زمان حاضر بود و شامل افتتاح حساب جاری و مدتدار به نفع افراد و پرداخت بهره به سپرده های مدتدار - صدور بروات تجارتي - دادن قرضه های بانکی اعم از مصرفی و تجارتي با بهره متفاوت - رهن و حتی صدور اعتبارنامه تجارتي (Letter of Credit) میشد. یکی از موارد اختلاف بسیار مهمی که میتوان درباره عملیات بانکداری رم قدیم با سیستم عملیات بانکی عصر حاضر ذکر کرد این است که قسمت اعظم عملیات بانکهای امروز با استفاده از مقیاسهای ارزش (معرف پول و واحد حساب) انجام میشود در حالی که کلیه عملیات در سیستم بانکداری رم قدیم بر اساس رد و بدل کردن عین پول (مسکوکات فلزی) انجام می شده است.

۲- بنیاد پهلوی سابق و بانک توسعه صنعتی و معدنی ایران با راهنمایی بانک مرکزی در سال ۱۳۵۴ اقدام به مشارکت در امور کدام یک از موسسات بانکی زیر نمودند؟ (iranarze.ir)

(۱) بانک ایرانشهر (۲) بانک بیمه ایران (۳) بانک عمران (۴) بانک کار

۳- هدف اصلی در بانکداری کدام اصل است؟ (iranarze.ir)

(۱) اصل منفعت (۲) اصل نقدینگی (۳) اصل امنیت (۴) اصل نظارت

۴- دو معیار مهم ارزیابی سودآوری بانک چیست؟ (iranarze.ir)

(۱) بازده دارایی (۲) کارایی عملیاتی (۳) بازده سرمایه (۴) گزینه ۱ و ۳

۵- منظور از حساب جاری درگیر چیست؟ (iranarze.ir)

(۱) نام دیگر سپرده های دیداری است

(۲) حساب جاری افراد دارای دسته چک که به اندازه مبلغ چک تا پس از ۱۰ روز از تاریخ اجرای چک در آن بلوکه و غیر قابل برداشت میشود

(۳) حساب جاری افراد صادر کننده چک بلامحل که بنابر تقاضای دارنده چک منجر به صدور گواهینامه عدم پرداخت به علت فقدان موجودی شده

۴) نوعی حساب جاری که به عنوان یک پشتوانه مالی برای حفظ حجم پول در گردش و پرداخت سپرده های دیداری و غیر دیداری استفاده شود

۶- وجود سازمان کلرینگ و تسویه چک ها از طریق سازمان مزبور و بانک مرکزی چه نتیجه ای را دربردارد؟ (iranarze.ir)

۱) افزایش هزینه های بانکهای عضو

۲) کاهش هزینه های بانک های عضو شده و جلوگیری از گردش نامطلوب وجه نقد

۳) افزایش اطمینان عمومی نسبت به بانک و سپرده گذاری

۴) افزایش مخاطرات ناشی از هزینه های تحمیل شده به بانک

۷- در میان انواع موسسات تجاری، قدیمی ترین و ساده ترین نوع سازمان بازرگانی چیست؟ (iranarze.ir)

۱) شرکت های سهامی

۲) شرکت های تضامنی

۳) موسسه انفرادی

۴) شرکت های مسئولیت محدود

۸- براساس اظهار نظر شورای عالی قضایی و به موجب ماده واحده مصوب ۲۱ فروردین ماه ۱۳۵۷، مادران اطفالی که دارای

ولی قهری هستند میتوانند برای فرزندان صغیر خود فقط از چه نوع حسابی به نام فرزند خود افتتاح حساب کنند؟

۱) پس انداز کوتاه مدت

۲) پس انداز بلند مدت

۳) قرض الحسنه پس انداز

۴) جاری کوتاه مدت

۹- در ارتباط با موضوع تفاوت های میان وام ها و سرمایه گذاری های بانکی، همه گزینه های زیر صحیح هستند به غیر از

..... ؟ (iranarze.ir)

۱) سررسید وام های اعطایی بانک ها معمولا کوتاه تر از سر رسید سرمایه گذاری آنها برای اوراق قرضه خریداری شده است.

۲) اعتبارات و وام های بانکی بیشتر جنبه علمی و شخصی دارد اما سرمایه گذاری ها بیشتر جنبه غیر شخصی دارد.

۳) سرمایه گذاری های بانکی معمولا قابل خرید و فروش در بازار آزاد و بورس میباشد در صورتی که بازار وام ها محدود به

بانک مرکزی است

۴) توسعه سرمایه گذاری های بانک در حدود مقررات و قوانین بانکی امری است اختیاری اما توسعه اعطای اعتبارات بستگی

به تقاضای مشتریان دارد

۱۰- در بازار های پیشرفته مالی، بانک ها با وضع کدام قرارداد میتوانند هزینه های بهره خود را تثبیت نمایند؟ (iranarze.ir)

۱) قرارداد سلف نرخ بهره

۲) ضمانت نامه ها

۳) تامین اعتبارات

۴) تعهدات سلف

۱۱- پس از یک سیر قهقراپی در عملیات بانکی قدیم، کدام گروه عرف بانکداری قدیم را به خصوص از طریق صرافان ادامه

داد؟ (iranarze.ir)

۱) مسیحی ها

۲) کاتالیست ها

۳) مسلمانان

۴) یهودی ها

۱۲- دریافت و پرداخت شخص از مبلغ قرارداد جعاله به عنوان پیش دریافت و یا پیش پرداخت با رعایت ضوابط حداقل و یا حداکثر مقرر از طرف مجاز می باشد. (iranarze.ir)

(۱) بانک مرکزی (۲) هیأت وزیران (۳) شورای پول و اعتبار (۴) بانک عامل

۱۳- بر اساس ماده ۳ قانون بانک مرکزی، مسئولیت استقرار بانکداری اسلامی و پیگیری اجتماعی قوانین مرتبط با بخش پولی و بانکی بر عهده کیست؟ (iranarze.ir)

(۱) شورای عالی پول و سرمایه (۲) وزارت اقتصاد و دارایی

(۳) بانک مرکزی (۴) سازمان معارف اسلامی

۱۴- تصمیم گیری در خصوص جواز یا عدم جواز نگهداری و مبادله انواع رمز پول در چهارچوب قانون بر عهده کیست؟

(۱) هیات عالی (۲) بانک مرکزی

(۳) شورای عالی پول و سرمایه (۴) هیات وزیران

۱۵- با توجه به ماده ۷ قانون بانک مرکزی جمهوری اسلامی، کدام گزینه در ترکیب هیات عالی نمی باشد؟ (iranarze.ir)

(۱) رئیس کل (۲) رئیس شورای فقهی

(۳) وزیر امور اقتصاد و دارایی (۴) معاون سیاستگذاری پول

۱۶- کدام گزینه از وظایف هیات عالی بانک مرکزی جمهوری اسلامی نمی باشد؟ (iranarze.ir)

(۱) تعیین سیاست‌های پولی، ارزی و اعتباری بانک مرکزی

(۲) تصویب برنامه‌های اجرایی که توسط رئیس کل برای تحقق اهداف بانک مرکزی پیشنهاد می شود

(۳) عزل یا انتصاب رئیس کل بانک مرکزی

(۴) نظارت بر عملکرد هیئت عامل بانک مرکزی

۱۷- رئیس کل بانک مرکزی موظف است حداقل چند روز قبل از برگزاری نشست ویژه سیاست گذاری، گزارش عملکرد بانک مرکزی و شبکه بانکی کشور را در اختیار اعضای اصلی بانک قرار دهد؟ (iranarze.ir)

(۱) ۳ روز (۲) ۵ روز (۳) ۱۰ روز (۴) ۱۵ روز

۱۸- بر اساس ماده ۱۱ قانون بانک مرکزی جمهوری اسلامی، کدام مورد، طبق قواعد محرمانگی بانک مرکزی، از انتشار عمومی استثنا می باشد؟ (iranarze.ir)

(۱) موضوعات موثر بر امنیت ملی و اسرار حاکمیتی.

(۲) اطلاعاتی که افشای آنها مصداق نقض حریم خصوصی یا اسرار تجاری اشخاص حقیقی یا حقوقی است.

(۳) مذاکرات و تصمیماتی که انتشار آنها قبل از نهایی شدن می تواند مورد سو استفاده واقع شود.

(۴) همه موارد.

۱۹- با توجه به ماده ۳۰ قانون بانک مرکزی جمهوری اسلامی، در صورت تصویب سلب اختیار از رئیس موسسه اعتباری،

معاون تنظیم گری بانک مرکزی موظف به انجام چه اقداماتی است؟ (iranarze.ir)

(۱) تعیین رئیس دیگری برای موسسه

(۲) تعلیق موقت موسسه

(۳) اداره موسسه تحت نظر رئیس کل تا زمان انتخاب فرد دیگری

(۴) انتخاب هیئت سرپرستی موقت برای موسسه اعتباری

۲۰- بر اساس ماده ۳۳ قانون بانک مرکزی جمهوری اسلامی، در چه صورت رئیس کل بانک مرکزی موظف است پیشنهاد گزیر

موسسه اعتباری را به هیات عالی بانک مرکزی ارائه بدهد؟ (iranarze.ir)

(۱) در صورتی که هزینه‌های هیات سرپرستی تامین نشود.

(۲) چنانچه رئیس کل متوجه شود که شاخص‌های ناظر به وضعیت سرمایه و نقدینگی موسسه قابل اصلاح نمی باشد.

(۳) چنانچه صندوق ضمانت سپرده‌ها تایید کند که انحلال موسسه منفعت بیشتری دارد.

(۴) چنانچه درصد زیادی از افراد از تصمیمات و اقدامات هیئت سرپرستی موقت متضرر شوند.

۲۱- مبتنی بر ماده ۳۴ قانون بانک مرکزی جمهوری اسلامی، در صورتی که موسسه اعتباری نسبت به مصوبه هیات عالی

نسبت به تعیین هیئت سرپرستی موقت یا گزیر متعرض باشد اعتراض خود را کجا تسلیم می نماید؟ (iranarze.ir)

(۱) دیوان عدالت اداری (۲) دبیرخانه هیات انتظامی بانک مرکزی

(۳) دادگستری کل (۴) شورای عالی پول و سرمایه

۲۲- از نظر ارتباط هر بانک با بانکهای دیگر کدام مورد صحیح است؟ (iranarze.ir)

(۱) بانک مرکزی با بانکهای دیگر مجاز به انجام هرگونه عملیات است.

(۲) هر بانک با بانک های دیگر مجاز به انجام تمامی عملیات می باشد.

(۳) بانک مرکزی با بانکهای دیگر مجاز به انجام عملیات بانکی ربوی نیست.

(۴) هر بانک با بانک دیگر مجاز به انجام عملیات بانکی ربوی است.

۲۳- کدام نوع وجوه قابل تقسیم بین سپرده گذاران نیست؟ (iranarze.ir)

(۱) سود سپرده گذاری بلندمدت (۲) سود سپرده گذاری کوتاه مدت

(۳) کارمزد و حق الوکاله (۴) موارد ۲ و ۳

۲۴- قانون عملیات بانکی بدون ربا، مشتمل بر چند ماده و در چه تاریخی به تایید شورای نگهبان رسیده است؟ (iranarze.ir)

(۱) ماده ۲۴ - ۱۳۶۴/۶/۲ (۲) ماده ۲۱ - ۱۳۶۶/۶/۵

(۳) ماده ۲۷ - ۱۳۶۲/۶/۱۰ (۴) ماده ۳۴ - ۱۳۶۲/۶/۸

۲۵- طبق آیین نامه تسهیلات اعطایی بانکی، حداقل و حداکثر سود و ضوابط تعیین سود ناشی از تسهیلات باید به تصویب کدام یک از مقامات زیر برسد؟ (iranarze.ir)

- (۱) شورای پول و اعتبار
(۲) رئیس مجلس
(۳) رئیس بانک مرکزی
(۴) رییس جمهور

۲۶- از تاریخ اجرای قانون عملیات بانکی بدون ربا، بانکها موظف هستند به چه صورت عمل کنند؟ (iranarze.ir)

- (۱) با موافقت مشتریان خود تسهیلات اعطایی گذشته را با موازین اسلامی تطبیق دهند.
(۲) قراردادهای گذشته بانکها به قوت خود باقی می ماند و قراردادهای جدید طبق قانون جدید اعمال می شود.
(۳) در صورت عدم تطبیق معاملات با عملیات جدید بانکی، آنها را قبل از سر رسید منقضی کنند.
(۴) در صورت عدم امکان تطبیق قراردادهای گذشته بانکها با عملیات جدید بانکی، آنها را لغو نمایند.

۲۷- در مواردی که موضوع تسهیلات اعطائی، واگذاری اموال می باشد، اعلام قیمت فروش نقدی این اموال، طبق ضوابط مقرر از طرف توسط به مشتری الزامی است. (iranarze.ir)

- (۱) بانک - رئیس بانک مرکزی
(۲) رئیس بانک مرکزی - بانک
(۳) شورای پول و اعتبار - بانک
(۴) بانک - شورای پول و اعتبار

۲۸- در رابطه با موضوع "مشارکت مدنی" کدام گزینه صحیح نیست؟ (iranarze.ir)

- (۱) هدف از مشارکت مدنی ایجاد تسهیلات لازم برای فعالیت های تولیدی است.
(۲) مشارکت مدنی ۱ ماه پس از اتمام موضوع شرکت، تصفیه و مرتفع میشود.
(۳) پرداخت سهم الشرکه می تواند طبق قرارداد به دفعات صورت گیرد.
(۴) مشارکت مدنی به معنای درآمیختن سهم الشرکه نقدی و غیرنقدی به اشخاص حقیقی به منظور انتفاع است.

۲۹- در مشارکت حقوقی کدام مورد عنداللزوم توسط بانک مرکزی تعیین خواهد شد؟ (iranarze.ir)

(۱) حداقل نسبت سرمایه شرکتهای سهامی عام به کل منابع مالی این قبیل شرکتها در بدو مشارکت عنداللزوم توسط بانک مرکزی تعیین خواهد شد.

(۲) حداکثر نسبت سرمایه شرکتهائی که بانکها در آنها مشارکت مینمایند به کل منابع مالی این قبیل شرکتها در پایان مشارکت عنداللزوم توسط بانک مرکزی تعیین خواهد شد.

(۳) حداقل نسبت سرمایه شرکتهائی که بانکها در آنها مشارکت مینمایند به کل منابع مالی این قبیل شرکتها در بدو مشارکت عنداللزوم توسط بانک مرکزی تعیین خواهد شد

(۴) ۱ و ۳

۳۰- بانکها حق سرمایه گذاری در چه موردی را ندارند؟ (iranarze.ir)

- (۱) طرح های تولیدی
(۲) طرح های عمرانی انتفاعی

(۴) کالاهای مصرفی ضروری

(۳) تولید اشیاء تجملی

۳۱- در سرمایه گذاری مستقیم بانکها، نسبت سرمایه به کل منابع مالی لازم برای اجرای طرح باید از چند درصد کمتر نباشد؟

- (۱) ۴۰ درصد (۲) ۳۰ درصد (۳) ۵۰ درصد (۴) ۷۰ درصد

۳۲- در معاملات سلف پیش خرید محصولات واحدهای تولیدی توسط بانکها در چه صورت مجاز است؟ (iranarze.ir)

(۱) فروش قبل از سر رسید تحویل باشد.

(۲) محصولات توسط واحد درخواست کننده تولید شود.

(۳) قیمت پیش خرید از قیمت نقدی فروش محصولات بیشتر باشد.

(۴) سهل البیع نباشد.

۳۳- طبق آیین نامه تسهیلات اعطایی بانکی، در معاملات پیش خرید محصولات تولیدی، کدام گزینه جز مواردی نیست که

بانکها در قرارداد باید لحاظ کنند؟ (iranarze.ir)

(۱) تعیین تاریخ تحویل

(۲) تعیین مقدار، تعداد، وزن و سایر مشخصات متعارف محصولات مورد معامله

(۳) پرداخت یک دوم قیمت پیش خرید محصولات پیش خرید شده به فروشنده در زمان انجام معامله

(۴) تعیین محل تحویل محصولات پیش خرید شده

۳۴- مدت وصول قیمت فروش اقساطی کالاها نباید از و حداکثر تجاوز کند مگر با موافقت بانک مرکزی باشد.

(۱) کمتر از یک دوره- دو سال (۲) یک دوره- ۶ ماه

(۳) دو دوره- یک سال (۴) یک دوره- یک سال

۳۵- بانکها بر اساس کدام ماده می توانند اموالی را به منظور ایجاد تسهیلات برای گسترش امور صنعتی و غیره بر اساس

درخواست کتبی متقاضیان خریداری و به صورت اقساطی به آنها بفروش برسانند؟ (iranarze.ir)

- (۱) ماده ۵۲ (۲) ماده ۴۷ (۳) ماده ۵۱ (۴) ماده ۴۹

۳۶- تسهیلات اعطایی جهت خرید کالاهای مصرفی با دوام ساخت داخل به چه صورت میتواند پرداخت شود؟ (iranarze.ir)

(۱) به صورت مستقیم به مصرف کنندگان

(۲) به صورت انتقال مازاد تسهیلات مصرف کنندگان به تولیدکنندگان

(۳) انتقال مانده تسهیلات استفاده شده تولید کنندگان این نوع کالاها به خریداران

(۴) گزینه ۱ و ۲

۳۷- بانک ها مکلفند در قرارداد های تنظیمی خود در ارتباط با عملیات مضاربه، معاملات اقساطی، اجاره بشرط تملک و غیره

قید نمایند که قرارداد های مذکور بر اساس توافق حاصله، در حکم و تابع است. (iranarze.ir)

- (۱) اسناد لازم الاجرا - آیین نامه اجرایی اسناد رسمی (۲) اسناد لازم الاجرا - عملیات اجرایی اسناد رسمی

۳) اسناد ذمه - آیین نامه اجرایی اسناد رسمی ۴) اسناد ذمه - عملیات اجرایی اسناد رسمی

۳۸- مطابق آئین نامه تسهیلات اعطائی بانکی مصوب ۱۳۶۲،۱۰،۱۴ ، بانکها مکلف بودند سرمایه گذاری مستقیم خود را

حداکثر تا چه تاریخی با ضوابط آیین نامه تطبیق دهند؟ (iranarze.ir)

۱) پایان سال ۱۳۶۵ ۲) ابتدای سال ۱۳۶۳

۳) پایان سال ۱۳۷۰ ۴) فروردین ۱۳۷۵

۳۹- کدام یک از عملیات زیر برای بانکها ممنوع نمی باشد؟ (iranarze.ir)

۱) خریداری واحدهای مسکونی یا احداث آنها و واگذاری که به صورت اجاره به شرط تملیک است.

۲) خرید و فروش کالا که به منظور تجارت است.

۳) معاملات غیر منقول جز برای بانکهایی که هدف آنها انجام دادن معاملات غیر منقول است.

۴) اعطای اختیار به اعضای ارکان خود و موسساتی که اعضای مزبور در آنها ذینفع هستند.

۴۰- به معامله ای که بین صاحب درخت و امثال آن با عامل در مقابل حصه مشاع معین از ثمره واقع می شود به اصطلاح چه

می گویند؟ (iranarze.ir)

۱) مزارعه ۲) مضاربه ۳) مساقات ۴) اجاره

۴۱- قرضه و سهام با چند نوع ریسک مواجه هستند؟ (iranarze.ir)

۱) ۱ ۲) ۲ ۳) ۳ ۴) ۴

۴۲- انتخاب اعضای هیئت مدیره بانکها بنا به پیشنهاد شورای عالی بانکها از وظایف کدام قسمت از بخش های بانک

می باشد؟ (iranarze.ir)

۱) مجمع عمومی عادی ۲) مجمع عمومی فوق العاده

۳) شورای پول و اعتبار ۴) بانک مرکزی

۴۳- مشارکت مدنی چه زمانی تشکیل و تحقق می یابد؟ (iranarze.ir)

۱) در صورتی که شرکا طبق قرارداد سهم و شرکه نقدی خود را به حساب مخصوصی که در بانک برای شرکت افتتاح می گردد واریز نمایند.

۲) در صورتی که پرداخت سهم شرکت طبق قرارداد یکباره صورت گیرد.

۳) در صورتی که پس از اتمام موضوع نیز شرکت بتواند ادامه یابد.

۴) در صورتی که سهم الشرکه به تساوی بین اعضا تقسیم گردد.

۴۴- کدام گزینه از اعضای شورای پول و اعتبار نمی باشد؟ (iranarze.ir)

۱) معاون اتاق بازرگانی و صنایع معادن ایران ۲) رئیس کل بانک مرکزی ایران

۳) دادستان کل کشور و یا معاون او ۴) معاون سازمان برنامه و بودجه به معرفی وزیر مربوطه

۴۵- ضوابط تعیین مدت و نحوه برگشت اصل و همچنین سود حاصل از تسهیلات اعطایی بانک ها به تصویب و تایید خواهد بود. (iranarze.ir)

- (۱) بانک مرکزی - شورای پول و اعتبار
(۲) شورای پول و اعتبار - رئیس جمهور
(۳) هیات وزیران - رئیس جمهور
(۴) وزارت اقتصاد و دارایی - بانک مرکزی

۴۶- هیات انتظامی بدوی بانک مرکزی متشکل از است که توسط برای مدت ۲ سال انتخاب می شود.

- (۱) سه نفر کارشناس خبره بانکی- هیات عالی
(۲) یک قاضی مسلط بر قوانین - هیات عالی
(۳) یک قاضی مسلط به قوانین- قوه قضاییه
(۴) سه نفر کارشناس خبره بانکی- قوه قضاییه

۴۷- آرای هیات انتظامی بدوی و تجدید نظر بانک مرکزی در صورت عدم اعتراض محکوم علیه، ظرف چند روز از تاریخ ابلاغ رای قطعی و لازم الاجراست؟ (iranarze.ir)

- (۱) ۵ روز
(۲) ۱۰ روز
(۳) ۲۰ روز
(۴) ۳۰ روز

۴۸- شعبه قضائی ویژه موضوع هیات انتظامی تجدید نظر بانک مرکزی در کجا و توسط چه کسی برگزار می شود؟

- (۱) دادگستری کل - رئیس کل
(۲) دادگاه انتظامی قضاات - رئیس کل
(۳) دیوان عدالت اداری - رئیس قوه قضاییه
(۴) دادگستری محل بانک - رئیس قوه قضاییه

۴۹- بر اساس قانون بانک مرکزی جمهوری اسلامی، هیات انتظامی بانک مرکزی با توجه به نوع تخلف و متناسب با آن، "شخص تحت نظارت" متخلف به کدام حکم زیر نمی تواند محکوم کند؟ (iranarze.ir)

- (۱) اخطار کتبی به "شخص تحت نظارت" متخلف یا هر یک از سهامداران مؤثر و مدیران آن
(۲) سلب صلاحیت موقت یا دائم هر یک از سهامداران مؤثر و مدیران شخص تحت نظارت
(۳) اعمال جریمه نقدی برای سهامداران مؤثر شخص تحت نظارت تا سقف پانصد میلیارد
(۴) حبس سهامداران مؤثر شخص تحت نظارت به مدت ۶ ماه

۵۰- بر اساس ماده ۲۴ قانون بانک مرکزی جمهوری اسلامی، راهبری فرایند بازسازی و گزیر موسسات اعتباری از جمله وظایف کدام بخش است؟ (iranarze.ir)

- (۱) شورای عالی پول و ارز
(۲) وزارت اقتصاد و دارایی
(۳) معاون تعلیم گری و نظارت
(۴) رئیس کل بانک مرکزی

بخش چهارم: سوالات بازارهای مالی و سرمایه

۱- بازار سرمایه چگونه راه توسعه و ایجاد شغل و افزایش سطح رفاه عمومی را هموار می کند؟ (iranarze.ir)

- (۱) با هدایت سرمایه و پس انداز مردم
(۲) با هدایت نیروی کار و سرمایه مردم
(۳) با سرمایه مردم و هدایت منابع ملی
(۴) با هدایت نیروی کار و منابع ملی

پاسخ سایت ایران عرضه: گزینه ۱ ← بازار پول و سرمایه همواره به شکل سازمان یافته تری در اقتصاد کشورها حضور دارد و نقش آن، در زمینه توسعه از اهمیت بیشتری برخوردار می شود. بازار سرمایه با هدایت سرمایه ها و پس انداز مردم راه توسعه و ایجاد شغل و افزایش سطح رفاه عمومی را هموار می کند.

۲- عبارت زیر درباره کدام یک از فرضیه های اصلی مطالعات درباره بازار مالی (سرمایه و پس انداز) است؟ (iranarze.ir)
" یک رابطه دو طرفه بین توسعه بازارهای مالی و عملکرد اقتصادی وجود دارد."

- (۱) عرضه - هدایت (۲) بازخور (۳) واکنش - تقاضا (۴) همه موارد

۳- توسعه و اثر آن بر یکی از مهم ترین عوامل تأثیرگذار در شکل گیری انواع پس اندازها و هدایت آن به سمت سرمایه گذاری توسعه بازار مالی است. (iranarze.ir)

- (۱) پس انداز/ بازار مالی (۲) بازار مالی/ بازار اقتصادی
(۳) بازار مالی/ رشد اقتصادی (۴) بازار اقتصادی/ بازار مالی

۴- عواملی که باعث شده است که مبانی نظری پازل رشد اقتصادی- توسعه بازارهای مالی در بخش مالی ایران با اما و اگرهای متعدد روبه رو باشد، چیست؟ (iranarze.ir)

- (۱) نتیجه گیری شرایط خاص بازارهای مالی ایران
(۲) ساختار مالی مبتنی بر بانک و حضور دولت در اقتصاد
(۳) اقتصاد تک محصولی وابسته به درآمدهای نفتی
(۴) همه موارد

۵- کدام گزینه از ویژگی های بازار پول نیست؟ (iranarze.ir)

- (۱) سررسید ابزارهای رایج در آن بلندمدت می باشد.
(۲) درجه نقد شوندگی ابزارهای آن بالا می باشد.
(۳) گردش پول نقدینگی در این بازار سریع است.
(۴) ریسک سوخت اصل سرمایه در آن پایین است.

۶- کدام گزینه از خدمات نهادهای پولی است که میتوانند زمینه مکمل بودن دو بازار پول و سرمایه را فراهم کنند؟

(۱) کمک به بانک های تجاری به این منظور که آن ها مجبور به پرداخت وام های بلندمدت نباشند و نقدینگی های خود را در معرض ریسک بیشتری قرار ندهند.

۲) ارائه ابزارهایی قابل معامله نظیر سهام، قراردادهای بیمه، اوراق بدهی بلندمدت جهت ایجاد تنوع و تعدیل ریسک در سبد دارایی های نهادهای پولی.

۳) فراهم آوردن امکان عضویت بانک و سایر نهادهای پولی در بازارهای بورس اوراق بهادار و یا بازارهای خارج از بورس

۴) تسهیل مکانیسم پرداخت ها و دریافت ها برای نهادهای فعال بازار سرمایه مثل شرکت های بیمه کارگزاری و بانک های سرمایه گذاری و شرکت های سرمایه گذاری.

۷- کدام گزینه از عوامل برتری بازار پولی بر بازار سرمایه است؟ (iranarze.ir)

۱) اهمیت پس انداز / تورم ۲) اهمیت سرمایه / اهمیت پس انداز

۳) بی ثباتی اقتصادی / تورم ۴) بی ثباتی اقتصادی / اهمیت پس انداز

۸- اولین بازار بورس در کدام کشور تاسیس شد؟ (iranarze.ir)

۱) سوئد ۲) هلند ۳) یونان ۴) سوئیس

۹- عبارت زیر درباره کدام دوره از دوره های چهارگانه بورس در ایران صحیح است؟ (iranarze.ir)

«بر اساس ماده ۹۵ برنامه سوم توسعه، شورای بورس مجاز شد تا دست به راه اندازی بورس های منطقه ای در سطح کشور

بزند و راهکارهای لازم را برای قابل معامله شدن دیگر ابزارهای مالی در بورس اوراق بهادار فراهم نماید.»

۱) دوره اول (۱۳۴۶-۱۳۵۷) ۲) دوره دوم (۱۳۵۸-۱۳۶۷)

۳) دوره سوم (۱۳۶۸-۱۳۸۳) ۴) دوره چهارم (۱۳۸۳ تا کنون)

۱۰- تشکیل سازمان بورس و اوراق بهادار در کدام دوره از دوره های چهارگانه فعالیت بورس اوراق بهادار انجام شد؟

۱) دوره اول (۱۳۴۶-۱۳۵۷) ۲) دوره دوم (۱۳۵۸-۱۳۶۷)

۳) دوره سوم (۱۳۶۸-۱۳۸۳) ۴) دوره چهارم (۱۳۸۳ تا کنون)

۱۱- کدام گزینه مربوط به شرایط عمومی قرداد اوراق قرضه می باشد؟ (iranarze.ir)

۱) نحوه پرداخت بهره و نام موسسه امین، مشخصات دارایی مورد وثیقه

۲) اولویت دارندگان اوراق قرضه، نرخ بهره، تاریخ سررسید

۳) نرخ بهره، تاریخ سررسید، نحوه پرداخت بهره

۴) تاریخ سررسید، نحوه پرداخت بهره، قیمت بازخريد

۱۲- هزینه خاص سرمایه مربوط به از هزینه خاص سرمایه مربوط به کمتر است. (iranarze.ir)

۱) اوراق قرضه / سهام ممتاز ۲) سهام ممتاز / اوراق قرضه

۳) سهام ممتاز / سهام عادی ۴) سهام عادی / سهام جایزه

۱۳- منظور از اوراق بهادار دورگه چیست؟ (iranarze.ir)

۱) سهام عادی ۲) سهام جاری ۳) سهام ممتاز ۴) اوراق قرضه

۱۴- سهام ممتازی را که سود سهام آن ها ثابت نیست و با نرخ بهره بازار ارتباط دارد، چه مینامند؟ (iranarze.ir)

- (۱) سهام ممتاز قابل بازر خرید
(۲) سهام ممتاز با نرخ شناور
(۳) سهام ممتاز با نرخ متغیر
(۴) سهام ممتاز جمع شونده

۱۵- در هر زمان که انتشار اوراق قرضه مطلوب نباشد شرکتها چه اقدامی انجام میدهند؟ (iranarze.ir)

- (۱) دست به انتشار اوراق قرضه قابل تبدیل میزنند.
(۲) دست به انتشار سهام عادی میزنند.
(۳) دست به انتشار اوراق بهادار با نرخ ثابت میزنند.
(۴) دست به انتشار سهام ممتاز میزنند

۱۶- گزینه نادرست را انتخاب کنید. (iranarze.ir)

- (۱) اگر قرار باشد شرکتی از منابع خارج از سازمان تأمین سرمایه کند، سهام عادی در درجه دوم اهمیت قرار میگیرد.
(۲) از نظر ریسک و دوام شرکت هم سهام ممتاز نقشی حیاتی ایفا می کند؛
(۳) سهام عادی یک نوع دارایی مالی است که نشان دهنده مالکیت در یک شرکت است
(۴) دارندگان هر نوع سهم (عادی و ممتاز) مالک شرکت به حساب می آیند

۱۷- پس از اینکه یک شرکت، مالیات و سود سهام خود را پرداخت کرد، می تواند باقیمانده را به عنوان سود سهام به

صاحبان.....پردازد. (iranarze.ir)

- (۱) سهام عادی (۲) سهام ممتاز (۳) سهام جایزه (۴) سهام جاری

۱۸- امکان دارد که یک شرکت به علل مختلف تعدادی از سهام منتشرشده خود را بازر خرید کند، در این صورت سهام بازر خرید

شده را چه می نامند؟ (iranarze.ir)

- (۱) سهام مجاز (۲) سهام ترازنامه (۳) سهام منتشر شده (۴) سهام خزانه

۱۹- کدام گزینه از محاسن انتشار سهام عادی می باشد؟ (iranarze.ir)

- (۱) شرکت الزام قانونی به پرداخت سود به سهامداران عادی خود ندارد.
(۲) هزینه خاص سرمایه متعلق به سهام عادی، در مقایسه با سایر ابزار تأمین مالی، بیشتر است.
(۳) پرداخت سود سهام باعث صرفه جویی مالیاتی برای شرکت نمی شود.
(۴) انتشار سهام عادی جدید باعث خواهد شد که موقتاً سود هر سهم کاهش یابد.

۲۰- پیروان کدام روش معتقدند که کلیه عوامل تأثیرگذار در انتخاب یک سهم، تأثیر خود را در قیمت روز آن متبلور می

سازند؟ (iranarze.ir)

- (۱) روش بنیادگرا (۲) روش MPT (۳) روش های تکنیکال (۴) موج سواران و سفته بازان

۲۱- در کدام یک از قرار دادهای قابل معامله در بورس باید موارد زیر رعایت شود؟ (iranarze.ir)

مشخصات کالا و نوع قرارداد مورد معامله - مقدار کالای مورد معامله - واحد اندازه گیری کالای مورد معامله - زمان معامله

(۱) قراردادهای معاوضه (۲) قراردادهای خاص موضوع ماده ۱۰ قانون مدنی

(۳) قرارداد اختیار معامله (۴) همه موارد

۲۲- همه گزینه ها درباره بازار ارز درست است بجز گزینه... (iranarze.ir)

(۱) بازار ارز بزرگ ترین و قدیمی ترین بازارهای مالی در جهان است.

(۲) تجارت داخلی مستلزم پرداخت و دریافت وجوه بر حسب پول رایج ملی است.

(۳) در مقابل پول ملی، هر پول خارجی دیگر پول بیگانه یا ارز نامیده می شود.

(۴) هر پول بیگانه ای یا هر ارزی در تسویه معاملات بین المللی یا سرمایه گذاری در سایر نقاط جهان قابلیت استفاده را دارد.

۲۳- هنگامی که سطح قیمت ها در اروپا در مقایسه با ایران..... می یابد قیمت محصولات و دارایی ها در اروپا نسبت

به قیمت محصولات و دارایی ها در ایران می شود. (iranarze.ir)

(۱) افزایش/گرانتر (۲) افزایش/ ارزانتر (۳) کاهش/ گرانتر (۴) کاهش / ثابت

۲۴- کدام گزینه درباره فارکس درست است؟ (iranarze.ir)

(۱) بازاری که ارزش گذاری پول ملی کشورها بر اساس عرضه و تقاضا در مقابل سایر ارزها سنجیده می شود.

(۲) بازاری که در آن قیمت تبدلات کالاها به صورت جهانی یا منطقه ای بر اساس عرضه و تقاضا، ارزش گذاری می شود.

(۳) بازار معاملات بین المللی ارز است که در آن شما قادرید به خرید و فروش ابزارهای مالی مربوط به ارزهای مختلف بپردازد.

(۴) همه موارد

۲۵- جریان انتقال وجوه را از اشخاص حقیقی و حقوقی به شرکت ها، دولت ها و سایر اشخاص تسهیل می نمایند.

(۱) بانک ها (۲) بنگاه های اقتصادی (۳) سرمایه گذاران (۴) بازارهای مالی

۲۶- در چه صورت بازارهای مالی نمی توانند پول را به بخش های نیازمند انتقال دهند؟ (iranarze.ir)

(۱) عدم عرضه منابع (۲) رکود اقتصادی (۳) تورم (۴) کاهش ارزش سهام

۲۷- (منبع ایران عرضه) چه کسانی بخش اصلی واحدهای دارای مازاد وجوه نقد را تشکیل میدهند؟ (iranarze.ir)

(۱) دانشجویان (۲) بازنشستگان (۳) بنگاه های تجاری (۴) خانوارها

۲۸- ویژگی مهم اوراق بهادار معامله شده در بازار ثانویه چیست؟ (iranarze.ir)

(۱) سود بالا (۲) نقد شوندگی (۳) عرضه بالا (۴) ۲و۱

۲۹- اسناد فاقد سررسیدی که مالکیت جزئی در شرکت های ناشر را نشان می دهند چه نامیده میشوند؟ (iranarze.ir)

(۱) سهام (۲) اوراق رهنی (۳) اوراق بهادار مشتقه (۴) اوراق قرضه

۳۰- عمده ترین نهاد سپرده پذیر کدام است؟ (iranarze.ir)

(۱) بانک های تجاری (۲) نهاد اندوخته (۳) اتحادیه اعتباری (۴) شرکت بیمه

- ۳۱- کدام نظریه بیان می‌کند که چگونه فدرال رزرو می‌تواند تعادل بین عرضه و تقاضای پول را تحت تاثیر قرار دهد تا بر آن نرخ بهره حجم مخارج و رشد اقتصادی تاثیر بگذارد؟ (iranarze.ir)
- (۱) نظریه پولی
 (۲) نظریه کینزی ناب
 (۳) نظریه رویکرد پولگرایان
 (۴) نظریه مقداری
- ۳۲- تاثیر اقتصادی سیاست پولی به کدام عامل بستگی دارد؟ (iranarze.ir)
- (۱) میزان نقدینگی بخش خصوصی
 (۲) اندوخته مالی بانک
 (۳) تمایل بانک‌ها برای وام دهی
 (۴) وجوه سیاست انقباضی بانک
- ۳۳- ایران عرضه! طرفداران رویکرد پولی بر چه چیزی تاکید دارند؟ (iranarze.ir)
- (۱) میزان نقدینگی بخش خصوصی
 (۲) ثبات و رشد پایین در عرضه پول
 (۳) نرخ بهره تعیین شده
 (۴) میزان وام دهی
- ۳۴- نظریه انتظارات عقلایی بر کدام موضوع دلالت میکند؟ (iranarze.ir)
- (۱) تحت تاثیر قرار دادن تعادل بین عرضه و تقاضا (۲) ثبات و رشد پایین در عرضه پول
 (۳) عموم، مسائل اطلاعات موجود
 (۴) کنترل نرخ وام دهی بانک‌ها
- ۳۵- کدامیک، از متغیرهای اقتصادی که فدرال رزرو آنها را پایش میکند، نمی‌باشد؟ (iranarze.ir)
- (۱) تورم
 (۲) نرخ بیکاری
 (۳) تولید ناخالص داخلی (۴) جذب سرمایه گذار خارجی
- ۳۶- مهم ترین نماگرهای اقتصادی پایش شده توسط فدرال رزرو چیست؟ (iranarze.ir)
- (۱) نماگرهای رشد اقتصادی
 (۲) نماگرهای تورم
 (۳) تولید ناخالص داخلی
 (۴) نرخ بهره وام های اعطایی
- ۳۷- چه زمانی فدرال رزرو درباره سیاست های پولی تصمیم می‌گیرد؟ (iranarze.ir)
- (۱) زمانی که اولین گزارش در مورد عملکرد هر بانک صادر میشود.
 (۲) زمانی که آخرین گزارش‌ها درباره شاخص های رشد اقتصادی تورم را ارزیابی کرده باشد.
 (۳) زمانی که بنابر سیاست های پولی تقاضا برای وام زیاد شده باشد.
 (۴) زمانی که نیاز به اعمال سیاست های پولی انبساطی باشد.
- ۳۸- کدام گزینه نادرست است؟ (iranarze.ir)
- (۱) از سال ۱۹۹۹ تاکنون فدرال رزرو تمایل بیشتری به افزایش تصمیمات دارد.
 (۲) اگر تورم آتی بیشتر مورد توجه فدرال قرار گیرد سیاست را انبساطی اعلام می‌کند.
 (۳) اگر نرخ تورم بالا بماند نرخ بهره فدرال افزایش می‌یابد.
 (۴) در شرایط اقتصاد ضعیف‌تر عرضه پول افزایش می‌یابد.

۳۹- چرا گاهی خزانه ترجیح میدهد که فدرال رزرو، بدهی را تبدیل به پول کند؟ (iranarze.ir)

- (۱) زیرا در غیر این صورت ممکن است نرخ بهره افزایش یابد و رشد اقتصادی کند شود.
- (۲) زیرا در غیر این صورت ممکن است عدم عرضه پول باعث تورم شود.
- (۳) بتواند اوراق بهادار را در سررسید بازخرد کند.
- (۴) تا بدهی خزانه داری را جبران کند و پول به خزانه برگردد.

۴۰- اثر جاننشینی جبری جهانی به چه چیزی گفته میشود؟ (iranarze.ir)

- (۱) افزایش وامدهی به سراسر دنیا
- (۲) تاثیر تورم بر نرخ بهره و نرخ بیکاری
- (۳) تاثیر کسری بودجه دولت بر نرخ بهره کشورهای مختلف
- (۴) تبدیل اوراق قرضه به پول برای جبران کندی رشد اقتصادی

۴۱- در چه صورت تغییر در هیئت مدیره شرکت‌های سهامی سودمند خواهد بود؟ (iranarze.ir)

- (۱) در صورتی که هیئت مدیره جدید تصمیماتی را اتخاذ کند که بیشتر بر حداکثرسازی قیمت سهام متمرکز است.
- (۲) در صورتی که هیئت مدیره با اخذ تصمیمات جدید قیمت سهام را تثبیت نماید.
- (۳) در صورتی که سهامداران مخالف، آرای کافی به دست آورد.
- (۴) اگر مدیران مسئولیت خود را نسبت به سهامداران اجرا نکنند.

۴۲- (منتشر کننده سوالات ایران عرضه) منظور از تصاحب اهرمی در بازار کنترل شرکت چیست؟ (iranarze.ir)

- (۱) تصاحب سهام شرکت از طریق تبانی
- (۲) خرید شرکتهای دارای مدیریت ضعیف از طریق وام
- (۳) حداکثرسازی ارزش سهام از طریق افزایش نقدینگی
- (۴) حداکثرسازی سهام شرکت با عرضه عمومی و فروش آن

۴۳- کدام گزینه از بورس‌های ادغام شده جهت تشکیل بازار یورونکست نمی‌باشد؟ (iranarze.ir)

- (۱) آمستردام
- (۲) نیویورک
- (۳) بروکسل
- (۴) پاریس

۴۴- در ایران عرضه عمومی اولیه سهام عادی به چه دلیل اتفاق می‌افتد؟ (iranarze.ir)

- (۱) زمانی که دولت سهام متعلق به خود و شرکت‌های دولتی را در راستای آزادسازی اقتصادی و خصوصی سازی موظف به عرضه عمومی کند.
- (۲) زمانی که شرکت از سهامی عام برای تامین مالی و یا پذیرش در بورس به سهامی خاص تبدیل می‌شود.
- (۳) زمانی که یک شرکت در زیر مجموعه یکی از شرکت‌های مادر ادغام می‌شود و سهام شرکت خود را به عرضه می‌گذارد.

(۴) ۲۰۱

۴۵- به انتقال سهام شرکت‌های دولتی به کارکنان واحدها به منظور اجرای برنامه‌های خصوصی سازمان به اصطلاح چه

می‌گویند؟ (iranarze.ir)

(۱) سهام ممتاز (۲) سهام عادی (۳) سهام ترجیحی (۴) سهام برتر

۴۶- کدام یک از مدل‌های قیمت گذاری سهام از اولین مدل‌های به کار رفته برای قیمت گذاری سهام می‌باشد که توسط جان ویلیام ابداع شد؟ (iranarze.ir)

(۱) مدل نسبت سهم به درآمد (۲) مدل ارزش گذاری مبتنی بر دارایی‌ها

(۳) مدل تنزیل سود سهام (۴) مدل تنزیل جریان نقدی آزاد

$$P = \sum_{t=1}^{\infty} \frac{D_t}{(1+k)^t}$$

۴۷- معمولاً از به عنوان نرخ بهره بدون ریسک استفاده می‌شود؟ (iranarze.ir)

(۱) بتای شرکت (۲) نرخ بازده اوراق خزانه تازه منتشر شده

(۳) بازده اضافی بازار (۴) میزان حساسیت بازده هر سم به بازده کل بازار

۴۸- در مورد عامل اقتصادی اثرگذار بر قیمت سهام، اطلاعات مثبت غیر منتظره در مورد اقتصاد چه نتیجه‌ای را سبب می‌شود؟ (iranarze.ir)

(۱) باعث تعدیل جریان وجوه نقد مورد انتظار شرکت و افزایش ارزش شرکت می‌شود.

(۲) باعث افزایش جریان وجوه نقد مورد انتظار شرکت و کاهش ارزش شرکت می‌شود.

(۳) تقاضا برای محصولات و خدمات شرکت‌ها را افزایش داده و در نتیجه جریان‌ات نقدی و ارزش شرکت را افزایش می‌دهد.

(۴) تقاضا برای محصولات و خدمات شرکت‌ها را کاهش داده و در نتیجه جریان‌ات نقدی و ارزش شرکت را کاهش می‌دهد.

۴۹- افزایش سود سهام بیانگر چیست؟ (iranarze.ir)

(۱) شرکت انتظار دارد در آینده جریان نقدی کافی نداشته باشد.

(۲) شرکت انتظار دارد نرخ بهره بدون ریسک بالایی داشته باشد.

(۳) شرکت انتظار دارد به آسانی از عهده پرداخت سود سهام برآید.

(۴) شرکت قصد دارد سرمایه‌گذاران بیشتری را تشویق به سرمایه‌گذاری کند.

۵۰- مورنینگ استار از چه روشی برای تعیین اینکه آیا سهام شرکتی ارزان قیمت گذاری شده یا نه استفاده می‌کند؟

(۱) هر سهم را از یک (بالترین) تا ۵ (پایین‌ترین) رتبه‌بندی می‌کنند.

(۲) به روش‌های سنتی مثل برآورد در هزینه متکی است.

(۳) هر سهم را از یک تا ۹۹ رتبه‌بندی می‌کنند.

(۴) سهام را از ۱۷۰۰ (بالترین) رتبه تا ۵۰۰ (پایین‌ترین) ، رتبه‌بندی می‌کنند.

بخش پنجم: سوالات آشنایی با خدمات الکترونیکی بانکی

۱- کدام تعریف برای بانکداری الکترونیک کاملتر است؟ (iranarze.ir)

- (۱) انجام عملیات بانکی با استفاده از اینترنت
 - (۲) انجام عملیات الکترونیک با بستر الکترونیکی بعد از گسترش تجارت الکترونیکی
 - (۳) نوعی تجارت الکترونیک که ارتباطی به خدمات مالی ندارد
 - (۴) همه موارد
- پاسخ سایت ایران عرضه: گزینه ۲ ← انجام عملیات الکترونیک با بستر الکترونیکی بعد از گسترش تجارت الکترونیکی را به اصطلاح بانکداری الکترونیک می گویند.

۲- کدام یک از موارد زیر از شاخه های بانکداری الکترونیک میباشد؟ (iranarze.ir)

- (۱) بیمه
 - (۲) خرید سهام به صورت الکترونیکی
 - (۳) فروش سهام به صورت الکترونیکی
 - (۴) همه موارد
- ۳- (منبع ایران عرضه) کلیه خدماتی که از طریق اینترنت با استفاده از محصولات و خدمات مرتبط آن سودآوری ایجاد می کنند را به اصطلاح..... می نامند. (iranarze.ir)

(۱) بانکداری اینترنتی (۲) اقتصاد اینترنتی (۳) اقتصاد دیجیتال (۴) گزینه ۲ و ۴

۴- کدام یک از فعالیتهای زیر مربوط به کسب و کارهای الکترونیک نمیشود؟ (iranarze.ir)

- (۱) مدیریت روابط با مشتری
 - (۲) مدیریت زنجیره تامین
 - (۳) خرید تجهیزات دیجیتال از خرده فروشی
 - (۴) برنامه ریزی منابع شرکت
- ۵-..... عمده ترین دستاوردهای به کارگیری فناوری ارتباطات در زمینه های اقتصادی است. (iranarze.ir)
- (۱) تجارت الکترونیک (۲) تجارت هوشمند (۳) مدیریت رایانه (۴) افزایش ارزش سهام

۶- همه موارد زیر از ویژگی های تجارت الکترونیک می باشد به جز..... (iranarze.ir)

- (۱) جهانی شدن تجارت
- (۲) حذف محدودیت های زمانی و مکانی
- (۳) کاهش چشمگیر هزینه های معاملاتی
- (۴) افزایش هزینه های معاملاتی

۷- دوران طفولیت تجارت الکترونیکی به چه زمانی برمیگردد؟ (iranarze.ir)

(۱) سال ۱۹۵۵ (۲) ۱۹۷۸ (۳) ۱۹۹۰ (۴) بعد از در دهه های ۷۰ و ۸۰

۸- کدام یک از گزینه های زیر مربوط به عصر طلایی در تجارت الکترونیکی نمی شود؟ (iranarze.ir)

- (۱) این دوره بین سالهای ۱۹۵۵ تا ۱۹۹۹ شکل گرفت.
- (۲) از دیگر اتفاقات مهم در این سال بنیان گذاری آمازون دات کام بود.
- (۳) در سال ۱۹۹۶ تراکنش تجارت الکترونیکی در ایالات متحده بیش از ۷۷۰ میلیون دلار سود داشت.

۴) تجارت الکترونیک با توسعه تبادل داده الکترونیکی EDI که قالبی استاندارد برای تبادل اسناد تجاری از یک رایانه به رایانه دیگر است ممکن شد.

۹- ISOC چه سازمانی بود و در چه سالی تاسیس شد؟ (iranarze.ir)

- ۱) سازمانی که به منظور تهیه تدوین و نظارت بر استانداردهای اینترنت در سال ۱۹۸۰ تاسیس شد.
- ۲) سازمانی به منظور تهیه و تدوین و نظارت و استانداردهای اینترنت که در سال ۱۹۹۲ تاسیس شد.
- ۳) سازمانی به منظور تبلیغات اینترنتی که در سال ۱۹۹۹ تاسیس شد.
- ۴) یک جامعه اینترنتی که به منظور نظارت بر تراکنش های تجارت الکترونیکی در سال ۱۹۹۸ تاسیس شد

۱۰- حباب دات کام اصطلاحی برای تعریف..... می باشد و در سال... ایجاد شد. (iranarze.ir)

- ۱) تجارت الکترونیک و افزایش ارزش شرکت های اینترنتی، ۱۹۹۰
- ۲) تجارت الکترونیک و افزایش ارزش شرکت های اینترنتی ۲۰۰۰
- ۳) تغییر بازار سهام سال ۲۰۰۱
- ۴) تغییر بازار سهام ۱۹۹۹

۱۱- در کدام دوره اطلاعات بانکی شعب در سیستم های اطلاعاتی مرکزی میشد؟ (iranarze.ir)

- ۱) اتوماسیون پشت باجه مرحله اول
- ۲) دوره دوم اتوماسیون پشت باجه
- ۳) دوره سوم متصل کردن مشتریان به حساب هایشان
- ۴) یکپارچه سازی سیستم ها و مرتبط کردن مشتری با عملیات بانکی

۱۲- در..... رایانه های شخصی در اختیار کارمندان بانک قرار گرفت. (iranarze.ir)

- ۱) اتوماسیون پشت باجه مرحله اول
- ۲) دوره دوم اتوماسیون پشت باجه
- ۳) دوره سوم متصل کردن مشتریان به حساب هایشان
- ۴) یکپارچه سازی سیستم ها و مرتبط کردن مشتری با عملیات بانکی

۱۳- کدامیک از ویژگی های دوره چهارم یکپارچه سازی سیستم ها و ارتباط مشتری با عملیات بانکی نمی باشد؟

- ۱) تلاش برای استاندارد سازی نرم افزار ها
- ۲) تلاش برای تاسیس سیستم های پارچه
- ۳) استفاده از پول کاغذی در مبادلات
- ۴) حذف نیروی انسانی تا حد ممکن

۱۴- در کدام سطح از بانکداری الکترونیکی امکان انجام مبادلات بین سیستم بانکی و مشتری فراهم شد؟

- ۱) اطلاع رسانی
- ۲) تراکنش
- ۳) ارتباطات
- ۴) همه موارد

۱۵- در کدام یک به یک سیستم امنیتی قوی نیاز است و بالاترین سطح ریسک را دارد؟ (iranarze.ir)

(۲) ارتباطات و اطلاع رسانی

(۱) تراکنش

(۴) تراکنش

(۳) خدمات رسانی در سیستم

۱۶- کدام مورد از ویژگی های اصلی سامانه بانکداری تجارت الکترونیکی میباشد؟ (iranarze.ir)

(۱) توانایی پردازش حجم بالای تراکنش ها در ساعت (۲) وجود زیرساخت انعطاف پذیر

(۳) قابلیت انجام پردازش آنی (۴) همه موارد

۱۷- هدف اصلی از حرکت به سمت بانکداری متمرکز چیست؟ (iranarze.ir)

(۱) یکپارچه سازی خدمات و محصولات در قالب یک چارچوب واحد

(۲) تسریع عملیات بانکی

(۳) قابلیت پردازش آنی

(۴) انعطاف پذیری بیشتر

۱۸- امضا الکترونیک با هدف طراحی شده است. (iranarze.ir)

(۱) بهره برداری از خدمات جدید در سایتهای بانکداری اینترنتی

(۲) ارائه خدمات ویژه و کاربردی به مشتریان

(۳) تسریع عملیات ایجاد شده است

(۴) تضمین توسعه پذیری و کارایی سامانه ها

۱۹- کدام مورد امکان ارتباط پایانه پرداخت الکترونیکی و فروشگاههای با رایانه مشتری را ایجاد می کند؟

(۱) انواع کارت های بانکی (۲) پایانه پوز فروشگاههای

(۳) سامانه پرداخت خرید اینترنتی (۴) امضای الکترونیک

۲۰- سامانه سحاب نام دیگری از است؟ (iranarze.ir)

(۱) سامانه حواله الکترونیکی بین بانکی (۲) مبادلات بین مشتریان

(۳) ارتباط بین بانک و مشتری (۴) خدمات ارائه شده توسط بانک های عضو شتاب

۲۱- چرا نباید هنگام انجام تراکنش های مالی از وی پی ان استفاده کنیم؟ (iranarze.ir)

(۱) با هدف افزایش امنیت استفاده از درگاه های بانکداری اینترنتی

(۲) با هدف پیشگیری از تقلب در سایتهای مورد استفاده

(۳) با هدف جلوگیری از ورود بدافزار

(۴) با هدف پیشگیری از ورود کی لاگرها

۲۲- همه روشهای فوق از روشهای متداول مجرمان جهت سرقت رمز کاربران می باشد به جز (iranarze.ir)

(۱) ایمیل جعلی (۲) فیشینگ

۳) کی لاگرها

۴) سرقت رمز

۲۳- چه اقداماتی می‌تواند هنگام فروش رایانه شخصی به شما در حفظ اطلاعات کمک کند؟ (iranarze.ir)

۱) پاک کردن کامل سیستم از اطلاعات شخصی (۲) جداسازی هارد دستگاه و عدم فروش آن

۳) عدم ذخیره اطلاعات شخصی در رایانه شخصی (۴) همه موارد

۲۴- - طراحی شده توسط ایران عرضه - را می‌توان به عنوان فراهم آورنده امکاناتی برای مشتریانی که بدون نیاز به

حضور فیزیکی در بانک و با استفاده از واسطه های ایمن و خدمات بانکی دسترسی یابند تعریف نمود. (iranarze.ir)

۱) بانکداری الکترونیک (۲) تجارت الکترونیک

۳) اقتصاد الکترونیک (۴) ایجاد هماهنگی و همراهی بین سازمانها

۲۵- عمده ترین دستاورد به کارگیری فناوری اطلاعات و ارتباطات در زمینه های اقتصادی چیست؟ (iranarze.ir)

۱) اقتصاد الکترونیک (۲) تجارت الکترونیک

۳) استفاده از خدمات آنلاین (۴) فعالیت های بنگاه های کوچک تجاری

۲۵- پیاده سازی تجارت الکترونیک نیازمند چیست؟ (iranarze.ir)

۱) استفاده از نظام های مختلف اینترنتی (۲) استفاده از سیستم های الکترونیک در موسسات مالی

۳) استفاده از سیستم های اعتباری در دنیا (۴) بانکداری الکترونیک

۲۷- کدام شرکت برای اولین بار از واژه کسب و کار الکترونیک استفاده نمود؟ (iranarze.ir)

۱) شرکت ای بی ام (۲) شرکت های متصل به تجارت الکترونیک

۳) شرکت سی آر ام (۴) مدیریت زنجیره تامین سی اس ام

۲۸- کدام یک از تعاریف زیر مربوط به تجارت الکترونیک می باشد؟ (iranarze.ir)

۱) هدایت اطلاعات کاربری و معاملات بر روی شبکه ها (۲) از طریق رایانه خرید و فروش کالا و

۳) خدمات و انتقال سرمایه ها از طریق ارتباطات دیجیتالی (۴) همه موارد

۲۹- کدام یک از مزایای تجارت الکترونیک نیست؟ (iranarze.ir)

۱) جهانی شدن تجارت الکترونیک (۲) افزایش قیمت منابع جهت خرید

۳) حذف محدودیت های زمانی و مکانی (۴) دسترسی آسان به اطلاعات

۳۰- کدام یک از مزایای انجام عملیات بانکی به صورت اینترنتی می باشد؟ (iranarze.ir)

۱) صرف جویی در هزینه ها (۲) صرفه جویی در مصرف انرژی

۳) دسترسی به کانالهای مختلف (۴) همه موارد

❖ فصل هفتم: اصل سوالات آزمون استخدامی بانک سینا سال ۱۳۹۸

◀ هوش عمومی

۱- متحرکی که به طرف جنوب در حرکت بوده، سه مرتبه هر بار یک قائمه، مسیر خود را به سمت راست تغییر داده است سمت حرکت به کدام سمت است؟ (iranarze.ir)

- (۱) جنوب (۲) شمال (۳) مشرق (۴) مغرب

✓ پاسخ سایت ایران عرضه: گزینه ۳ ← در صورتی که متحرک به سمت راست خود به اندازه ۹۰ درجه بچرخد این متحرک در چرخش اول رو به سمت

۲- حجم کدام بیشتر است؟ (iranarze.ir)

- (۱) ستون الف: (۲) ستون ب:

یک کره با شعاع 10cm یک مکعب با ضلع 10cm

۳- سه شکل داده شده است که بین آنها، یک رابطه منطقی وجود دارد این رابطه را بیابید و سپس یکی از چهار شکل پیشنهاد شده را که باید به جای علامت؟ قرار داد، انتخاب کنید (iranarze.ir).



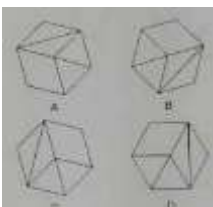
۴- پزشک به بیماری، مثل روانپزشک است به: (iranarze.ir)

- (۱) تنگدستی (۲) حماقت (۳) سالخوردگی (۴) ناسازگاری

۵- به اجناس یک فروشگاه در مدت یکماه، دوبار تخفیف ۱۰% داده شده است. چند درصد نسبت به قیمت اولیه تخفیف داده شده است؟ (iranarze.ir)

- (۱) ۲۰% (۲) ۲۱% (۳) ۱۹% (۴) هیچکدام

۶- کدام یک با بقیه فرق دارد؟ (iranarze.ir)




A (۱)

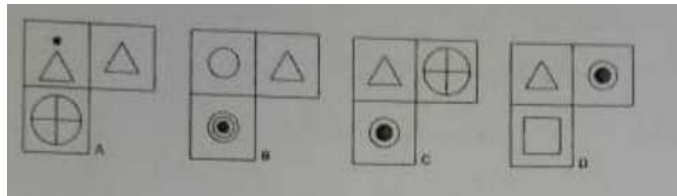
B (۲)

C (۳)

D (۴)

۷- کدام گزینه از شکل زیر حذف گردیده است؟ (iranarze.ir)





- A (۱)
B (۲)
C (۳)
D (۴)

۸- حاصل $(2a - b)^2 + 4a(b - a)$ کدام است؟ (iranarze.ir)

- a(a+b) (۴) b(2b-a) (۳) b(a-b) (۲) b (۱)

ادبیات

۹- کدام یک از موارد زیر از ارکان اصلی نامه‌های اداری محسوب نمی‌شود؟ (iranarze.ir)

- (۱) پیوست (۲) سرلوحه
(۳) عناوین (گیرنده، فرستنده و موضوع) (۴) امضا

۱۰- در کدام گزینه، دو عبارت استاندارد نامه اداری با هم تناسب ندارند؟ (iranarze.ir)

- (۱) به اطلاع می‌رساند - ارسال می‌گردد (۲) به استحضار می‌رساند - مقتضی است
(۳) ابلاغ می‌گردد - شایسته است (۴) خواهشمند است - تقدیم می‌گردد.

۱۱- در عبارت زیر چند غلط از نظر رسم الخط وجود دارد؟ (iranarze.ir)

«یکی از فرمالیست‌ها در رابطه با دیدگاه‌های منتقدان خود می‌گوید: بعنوان سیاستگذار مکتب فرمالیسم علاقمندم با ایشان بصورت مستقیم گفتگو کنم»

- (۱) پنج (۲) هشت (۳) شش (۴) هفت

۱۲- توضیح زیر مربوط به کدام یک از علایم نشانه‌گذاری است؟ (iranarze.ir)

«از این علامت به منظور نشان دادن تغییر روال نوشته و یا تغییر کلی سیاق سخن استفاده می‌شود»

- (۱) سه ستاره (۲) قلاب (۳) دو کمان (پرانتز) (۴) خط کشیده

۱۳- در کدام یک از عبارت‌های زیر غلط نگارشی وجود دارد؟ (iranarze.ir)

- (۱) خیرین مدرسه ساز هر سال مدارس زیادی را آماده و به آموزش و پرورش تحویل می‌دهند.
(۲) گزارش بعدی ما به رویدادهای فرهنگی و هنری اختصاص دارد.
(۳) شهرهای شمالی ایران از منظره‌های بسیار زیبایی برخوردار هستند.
(۴) آسمان شهرهای تهران، زاهدان، مشهد و کرمانشاه آفتابی پیش بینی می‌شوند.

۱۴- کدام گزینه در مورد صورتجلسه نادرست است؟ (iranarze.ir)

- (۱) رئیس جلسه مانند سایر اعضا دارای یک حق رای است و به دلیل رئیس بودن امتیاز ویژه‌ای به وی تعلق نمی‌گیرد.

۲) در صورتی که فرد شرکت کننده به نمایندگی از طرف شخص حقیقی دیگری در جلسه حضور یافته باشد نام هر دو نفر باید با توجیه کامل مطلب قید شود.

۳) نظارت بر آماده بودن جلسه و حصول اطمینان از فراهم بودن لوازم و ابزار مورد نیاز جلسه از وظایف رئیس جلسه است.

۴) هدف از تشکیل جلسه از قبل باید به شکل مکتوب تحت عنوان دستور جلسه برای شرکت کنندگان ارسال گردد.

۱۵- در مورد اندازه و ابعاد نامه‌های اداری کدام گزینه نادرست است؟ (iranarze.ir)

۱) کاغذ A4 مخصوص مطالب بیشتر از پنج سطر است

۲) کاغذ A5 مخصوص مطالب کمتر از پنج سطر است

۳) کاغذ A6 مخصوص یادداشتهای کوتاه داخلی بین کارمندان یک واحد سازمانی است

۴) کاغذ A3 مخصوص نقشه‌ها و نمودارهای گرافیکی است

دانش رایانه ICDL

۱۶- یک پردازشگر شامل کدام قسمتهای زیر است؟ (iranarze.ir)

۱) واحد محاسبه و منطق - واحد کنترل - حافظه

۲) واحد محاسبه و منطق - واحد کنترل - حافظه نهان

۳) ALU - واحد کنترل - Register

۴) گزینه‌های ۱ و ۳

۱۷- برای اینکه اطلاعات حذف شده در داخل Recycle Bin قرار نگیرند کلید..... را نگه می‌داریم. (iranarze.ir)

Shift (۱) Ctrl (۲) Alt (۳) Ctrl+Shift (۴)

۱۸- اسناد تولید شده در محیط Word با چه فرمتی ذخیره می‌شود؟ (iranarze.ir)

Wordx ، Word (۱) Dot ، Dotx (۲) Doc ، Docx (۳) Gif ، Jpg (۴)

۱۹- مقدار $\text{Sum}(D2:D6)/\text{Count}(D2:D6)$ برابر است با: (iranarze.ir)

۱۵ (۱) ۵ (۲) ۱۶ (۳) ۱۲ (۴)

۲۰- کدام یک از تعاریف زیر یا عبارت مطابقت دارد؟ (iranarze.ir)

۱) Field (به هر ستون از جدول گفته میشود)

۲) Table (به مجموعه ای از چند فیلد گفته می‌شود)

۳) Record (به مجموعه ای از چند فیلد گفته می‌شود)

۴) همه موارد

۲۱- کدام گزینه زیر معادل Slide Show می‌باشد. (iranarze.ir)

F4 (۱) F5 (۲) F6 (۳) F7 (۴)

۲۲- WWW مخفف کدام یک از گزینه‌های زیر می‌باشد؟ (iranarze.ir)

- World Wide Web (۲) Wild Web Word (۱)
Web Window World (۴) Window World Web (۳)

۲۳- چرا اعمال سیاست "تعیین کلمه عبور" برای کامپیوترهای یک سازمان ضروری است؟ (iranarze.ir)

- (۱) برای دسترسی آسان کاربران به منابع اطلاعاتی به اشتراک گذاشته شده
(۲) برای آسان ساختن ورود کاربران به محیط شبکه
(۳) برای جلوگیری از دسترسی غیر مجاز به اطلاعات موجود در سیستم
(۴) برای آسان ساختن یافتن و بهره برداری از فایل‌های موجود در سیستم

◀ زبان انگلیسی

24- He is tired because he.....football all afternoon. (iranarze.ir)

- 1) have played 2) had played 3) has played 4) played

25- I have to..... an appointment with the dentist. (iranarze.ir)

- 1) to make 2) makes 3) making 4) make

Read the following passage and answer questions 106-109.

Boston

Boston is the capital of the state of Massachusetts, about 200 miles north of New York city on the Atlantic Ocean. About 550.000 people live in the city. Boston is one of the oldest and most historically important cities in North America, and was founded in 1630. Boston is known for its fine universities, beautiful architecture, and delicious sea food. Boston college is a major university in this city.

BC is one of the oldest and largest university in the united states.

26- Boston is capital of the..... (iranarze.ir)

- 1) state of Massachusetts 2) state of American
3) Australia 4) Melbourne

27- Boston college is a..... university in this city. (iranarze.ir)

- 1) small 2) major 3) long 4) careful

28- Today, the weather is..... than yesterday. (iranarze.ir)

- 1) bad 2) the wors 3) worst 4) worse

29- He came here..... his own car. (iranarze.ir)

- 1) in 2) about 3) by 4) on

30- Hasti feared that if she walked the streets, she would be..... (iranarze.ir)

- 1) qualify 2) molested 3) dense 4) probe

