

## سوالات استخدامی

## بانک رفاه کارگران


### توضیحات:

- ویژه آزمون بانک رفاه
- شامل ۱۴۱ سوال
- با قابلیت پرینت

برای خرید پاسخنامه گلچین سوالات استخدامی بانک رفاه کارگران اینجا بزنید

برای خرید پکیج جامع آزمون استخدامی بانک رفاه کارگران اینجا بزنید

« انتشار یا استفاده غیر تجاری از این فایل، بدون حذف لوگوی ایران عرضه، مجاز می باشد »



**فهرست مطالب** (برای مراجعه به هر بخش، روی عنوان بزنید)

- ❖ فصل اول: سوالات آزمون استخدامی بانک رفاه کارگران ۱۴۰۱ - صفحه ۲
- ❖ فصل دوم: سوالات استخدامی زبان و ادبیات فارسی (اصل سوالات سازمانها) - صفحه ۴
- ❖ فصل سوم: سوالات استخدامی کامپیوتر و مهارتهای هفتگانه ICDL (اصل سوالات سازمانها) - صفحه ۶
- ❖ فصل چهارم: سوالات استخدامی زبان انگلیسی عمومی (اصل سوالات سازمانها) - صفحه ۸
- ❖ فصل پنجم: سوالات استخدامی هوش و استعداد تحصیلی (اصل سوالات سازمانها) - صفحه ۱۰
- ❖ فصل ششم: سوالات استخدامی جی مت (GMAT) تالیف ایران عرضه - صفحه ۱۴
- ❖ فصل هفتم: سوالات استخدامی آشنایی با خدمات الکترونیکی بانکی تالیف ایران عرضه - صفحه ۱۶
- ❖ فصل هشتم: سوالات استخدامی بانکداری داخلی کاربردی تالیف ایران عرضه - صفحه ۱۷
- ❖ فصل نهم: سوالات استخدامی دانش علوم بانکی تالیف ایران عرضه - صفحه ۱۹

۱۰ سوال اول این بخش با پاسخنامه می باشد که به عنوان نمونه زده شده است. در صورت تمایل به دریافت جواب سوالات فصل های ۱ الی ۹ می بایستی این محصول را از سایت ایران عرضه خریداری نمایید.

### فصل اول: سوالات آزمون استخدامی بانک رفاه کارگران ۱۴۰۱

۱- از چه دستوری در سطل، بازیافت کامپیوتر برای برگرداندن فایل حذف شده استفاده میشود؟ (iranarze.ir)

Redo (۱) Restore (۲) Remove (۳) Rename (۴)

پاسخ سایت ایران عرضه: گزینه ۲

در سطل زباله فایل هایی که به صورت کلی از سیستم حذف نشده اند را میتوان با دستور restore به محل سابق خود که در آن قرار داشتند بازگرداند.

۲- اگر محل ذخیره فایل یا نام آن را فراموش کنیم از کدام قسمت میتوانیم استفاده کنیم؟ (iranarze.ir)

Help (۱) Control Panel (۲) Search (۳) Wordpad (۴)

پاسخ سایت ایران عرضه: گزینه ۳

با استفاده از پنجره search در ویندوز میتوان با داشتن نام یا نوع و یا حتی بخشی از نام فایل مورد نظر، آن را جستجو کرد.

۳- با فشردن کدام دکمه در یک فایل ورد میتوان سطر جدیدی ایجاد کرد؟ (iranarze.ir)

Delete (۱) Enter (۲) Insert (۳) Shift (۴)

پاسخ سایت ایران عرضه: گزینه ۲

در نرم افزار word میتوان با استفاده از دکمه enter میتوان یک سطر جدید ایجاد کرد. دکمه delete برای پاک کردن کاراکتر روبرویی و یا انتخاب شده میباشد، دکمه shift برای استفاده از

حالت ثانویه کلید های تایپ و از کلید insert برای درج کردن متن کپی شده استفاده میشود

۴- تابعی که مجموع اعداد در یک فایل اکسل را محاسبه میکند کدام است؟ (iranarze.ir)

Sum (۱) Count (۲) Average (۳) Math (۴)

پاسخ سایت ایران عرضه: گزینه ۱

با استفاده از تابع sum که مخفف summation و به معنی مجموع است میتوان مجموع اعداد موجود در سلول های انتخابی یا یک بازه از سلول ها را محاسبه کرد.

۵- کدام گزینه کاربرد اصلی اکسل نیست؟ (iranarze.ir)

(۱) تهیه دفاتر حسابداری (۲) انجام امور نشر رومیزی و تایپ (۳) تهیه نمودار گرافیکی (۴) فاکتور فروش

پاسخ سایت ایران عرضه: گزینه ۲

برای تایپ و نشر رومیزی میتوان از نرم افزار هایی همچون word و wordpad استفاده کرد.

۶- جهت ادغام سلولها از کدام گزینه استفاده میشود؟ (iranarze.ir)

Wrap Text (۱) Justify (۲) Merge Cells (۳) Shrink To Fit (۴)

پاسخ سایت ایران عرضه: گزینه ۳

در مجموعه نرم افزار های office میتوان با استفاده از گزینه merge cells سلول های کنار هم و انتخاب شده را با هم ادغام کرد.

۷- کدام ترکیب مناسب کمتری با سه گزینه دیگر دارد؟ (iranarze.ir)

(۱) قاضی و معضوب (۲) سائل و مسئول (۳) قاصد و مقصود (۴) حاصل و محصول

پاسخ سایت ایران عرضه: گزینه ۱

در گزینه های ۲، ۳ و ۴ کلمات ریشه مشترک است (به ترتیب سئل - قصد - حصل)، در حالی که در گزینه ۱ دو کلمه ریشه مشترک ندارند (قضى - غضب).

۸- نسبت ..... به تیغ مثل فرو رفتن است به .....؟ (iranarze.ir)

(۱) برندگی - نیزه (۲) برندگی - میخ (۳) شمشیر - دست (۴) نیزه - کارد

پاسخ سایت ایران عرضه: گزینه ۲

فرو رفتن، فعل انجام کاری توسط یک شیء همچون میخ میباشد. لذا فعلی که توسط تیغ انجام میشود بریدن است.

۹- اولین بانک اینترنتی واقعی در کدام کشور بوده است؟ (iranarze.ir)

(۱) ایالات متحده (۲) ژاپن (۳) انگلستان (۴) فرانسه

پاسخ سایت ایران عرضه: گزینه ۱

۱۰- ریاست شورای عالی بانک ها بر عهده کدام عضو شرکت کننده در این شورا میباشد؟ (iranarze.ir)

(۱) رئیس کل بانک مرکزی (۲) وزارت امور اقتصادی و دارایی (۳) مدیر کل بانک ملی (۴) رئیس سازمان برنامه و بودجه

پاسخ سایت ایران عرضه: گزینه ۱

۱۱- اگر حساب دو طرف در شعبه از یک بانک نگهداری شود دستور انتقال منابع مزبور از کدام یک از الگوهای زیر پیروی می کند؟ (iranarze.ir)

(۱) تنها یک بانک دخیل باشد (۲) سه بانک دخیل باشند (۳) دو بانک دخیل باشند (۴) فقط بانک مرکزی دخیل باشد

۱۲- کدام دور در واقع دوره شکل گیری بانکداری الکترونیک به شمار می آید؟ (iranarze.ir)

(۱) دوره اول (۲) دوره دوم (۳) دوره سوم (۴) دوره چهارم

۱۳- مهم ترین ویژگی دوره سوم سیر تحول فناوری اطلاعات در صنعت بانکداری در کدام گزینه آمده است؟ (iranarze.ir)

(۱) افزایش تعداد کارمندان و رضایت ارباب رجوع (۲) توسعه جزیره ای سیستم های ماشینی در جلوی باجه و پشت باجه

۳) دسترسی آنی کارمندان به حسابهای جاری مشتریان

۴) کاهش هزینه ها و افزایش رضایتمندی مشتریان

۱۴- هدف مدیریت شرکت بایستی ..... شرکت باشد؟ (iranarze.ir)

(۱) به حداکثر رساندن سود (۲) به حداکثر رساندن ارزش سهام (۳) به حداقل رساندن هزینه ها (۴) به حداقل رساندن ریسک ورشکستگی

۱۵- مدیریت مالی مدیریت منابع و مصارفه سرمایه است تا ؟..... (iranarze.ir)

(۱) ثروت سهام داران را حداکثر کند (۲) سود هر شرکت را حداکثر کند (۳) قیمت هر سهم را حداکثر کند (۴) ریسک شرکت را حداقل کند

۱۶- حساب دو طرفه در دو شعبه از یک بانک نگهداری شود دستور انتقال منابع مزبور از کدامیک از الگوهای زیر پیروی می کند ؟.....

(۱) تنها یک بانک دخیل باشد (۲) دو بانک دخیل باشند (۳) سه بانک دخیل باشند (۴) فقط بانک مرکزی دخیل باشد

۱۷- کدامیک از موارد زیر جزو کنترل های داخلی مالی نیست؟ (iranarze.ir)

(۱) کنترل فاکتور های فروش (۲) کنترل مرغوبیت کالا (۳) نگهداری حساب های کنترل (۴) تهیه صورت مغایرت بانکی

۱۸- آگاهی حسابرس از صنعتی که صاحب کار در آن فعالیت کند بخشی از مفاد استاندارد؟ (iranarze.ir)

(۱) اول از استاندارد های عمومی است (۲) دوم از استاندارد های عمومی است (۳) سوم از استاندارد های عمومی است (۴) دوم از استاندارد های اجرای عملیات است

۱۹- قبل از پذیرش صاحب کار جدید حسابرس کدامیک از کار های زیر انجام نمی دهد؟ (iranarze.ir)

(۱) تماس با حسابرس قبلی (۲) بررسی توانایی انجام کار (۳) زمان بندی اجرای روشهای حسابرسی (۴) تحقیق در مورد حسن شهرت مدیران صاحب کار

۲۰- ثبت منافع اقتصادی به عنوان دارایی و ثبت تعهدات اقتصادی به عنوان بدهی مبتنی بر کدام اصل یا فرض حسابداری است؟ (iranarze.ir)

(۱) اهمیت (۲) بهای تمام شده (۳) تمام فعالیت (۴) تفکیک شخصیت

۲۱- به طور معمول استفاده از روش های تحلیلی در رسیدگی به..... کاربرد بیشتری دارد؟ (iranarze.ir)

(۱) ترازنامه (۲) صورت سود و زیان (۳) صورت سود و زیان انباشته (۴) صورت جریان وجوه نقد

## فصل دوم: سوالات استخدامی زبان و ادبیات فارسی (اصل سوالات سازمانها)

۱- معنای کدام واژه، درست نیست؟ (iranarze.ir) (بانک تجارت آبان ۱۴۰۲)

(۱) رعب: بیم (۲) رجم: ترجمه کردن (۳) شوخ چشم: گستاخ (۴) شرز: خشمگین

۲- در بیت زیر ترکیب «مرغ حق» استعاره از کیست؟ (iranarze.ir) (دهمین آزمون فراگیر دستگاه های اجرایی خرداد ۱۴۰۲) (مجری جهاد دانشگاهی)

چون صفیری شنوی از مرغ حق      ظاهرش را یادگیری چون سبق

(۱) عارف روشن ضمیر (۲) عالم خردمند (۳) دانشمند ساده اندیش (۴) صوفی ظاهرین

۳- درباره ادبیات حماسی کدام گزینه درست نیست؟ (iranarze.ir) (وزارت بهداشت مهر ۱۴۰۲) (مجری جهاد دانشگاهی)

(۱) قهرمان حماسه جانور مهیب یا هیولایی را می کشد.

(۲) در حماسه با گیاهانی که خاصیت جادویی دارند مواجهیم.

(۳) در حماسه قهرمان باید از میان دو گزینه بد و بدتر یکی را انتخاب کند اما فاجعه او را به سوی بدتر می برد.

(۴) قهرمان حماسه اعمال بزرگی انجام می دهد که اهمیت حکمی، معنوی یا ملی دارد.

۴- از مفهوم کدام بیت، «مذمت خست و خشک دستی» دریافت می شود؟ (iranarze.ir) (بانک ملی اردیبهشت ۱۴۰۲) (مجری سنجش)

(۱) از خوان مسکان مطلب توشه حیات      کان لقمه پیش اهل طریقت حلال نیست

۲) احمقی باشد که گنجی دارد و خرجش نیست

بر ستور انبار گوهر کی بود سود ستور؟

۳) دائم ز همت فقر خرم ز دخل بیش است

خرمن به مور بخشم با آنکه خوشه چینم

۴) همایی چون تو عالی قدر حرص استخوان تا کی؟

دریغ آن سایه همت که بر نا اهل افکندی

۵- کدام عبارت از نظر نگارشی «نادرست» است؟ (iranarze.ir) (وزارت نفت اردیبهشت ۱۴۰۲) (مجری سنجش)

۱) تا از جان و دل نکوشیم به سرافرازی نخواهیم رسید

۲) دوستم برگشت چون تصمیم جدی آن ادامه تحصیل بود

۳) مشکل بود که آنها از رودخانه بگذرند

۴) چون از تاخیر قطار خبر داشتیم، عجله نکردیم

۶- مفهوم کدام بیت، یادآور بیت زیر است؟

(iranarze.ir) (نهمین آزمون فراگیر دستگاه های اجرایی مشترک با آموزش و پرورش گروه اول تیر ۱۴۰۱) (مجری سنجش)

«تو یک ساعت چو افریدون به میدان باش تا زان پس

به هرجانب که روی آری در فش کاویان بینی»

۱) نظرگاه الهی را یکی بستان کن از عشقی

که در وی رنگ و بوی گل ز خون دوستان بینی

۲) گر ازین چاه طبیعت که جهان من و توست

به دراییم جهان جمله از آن من و توست

۳) لاف فریدون زدن وائگه ضحاک وار

سلطنت و شیطنت هر دو به هم داشتن

۴) به نور عشق مگر چشم دل گشاده شود

و گرته دیده ظاهر حجاب بینایی است

۷- بیت زیر با کدام بیت «تقابل» مفهومی ندارد؟

(iranarze.ir) (نهمین آزمون فراگیر دستگاه های اجرایی مشترک با آموزش و پرورش گروه پنج تیر ۱۴۰۱) (مجری سنجش)

«دل نیست کبوتر که چو برخاست نشیند

از گوشه بامی که پریدیم پریدیم»

۱) از کمند عشق نتوان شد خلاص

جهد من بی جا و سعی ام باطل است

۲) عاشق آرامی ندارد ورنه یار

مونس جان است و آرام دل است

۳) سعدی آن نیست که هرگز ز کمندت بگریزد

که بدانست که در بند تو خوش تر ز رهایی

۴) گفתי به روزگاران مهتری نشسته گفتم:

بیرون نمی توان کرد حتی به روزگاران

۸- مفهوم کدام بیت با سایر ابیات متفاوت است؟

(iranarze.ir) (نهمین آزمون فراگیر دستگاه های اجرایی مشترک با آموزش و پرورش گروه شش تیر ۱۴۰۱) (مجری سنجش)

۱) ای بسا تیز طبع کاهل کوش

که شد از کاهلی سفال فروش

۲) با بدان کم نشین که صحبت بد

گرچه پاکی تو را پلید کند

۳) از در افتادن شکاری خام

صد دیگر در اوفتند به دام

۴) عیب یک همنشست باشد و بس

کافکند نام زشت بر هر کس

۹- سعدی در کدام بیت «گوشه گیری» را سفارش کرده است؟

(iranarze.ir) (بانک ملت دی ۱۴۰۱) (ایران آزمون)

۱) نباید سخن گفت ناساخته / شاید بریدن نینداخته

۲) درون دلت شهر بند است راز / نگر تانبیند شهر باز

۳) صدف وار گوهر شناسان راز / دهان جز به لولو نکردند باز

۴) اگر پای در دامن آری چو کوه / سرت ز آسمان بگذرد در شکوه

۱۰- در بیت زیر، شاعر چه امری را نکوهش می کند؟ (iranarze.ir) (شرکت کار و تامین مهر ۱۴۰۱) (مجرى سنجش)

(( جو کارى بى فضول من بر آيد مرا در وى سخن گفتن نشايد))

(۱) سکوت (۲) دخالت بی جا (۳) خودنمایی (۴) سخن گفتن

۱۱- مفهوم کدام بیت با سایر ابیات متفاوت است؟ (iranarze.ir) (تامین اجتماعی مهر ۱۴۰۱) (مجرى سنجش)

(۱) به ترک خویش بگو تا به کوی بار رسی که کارهای چنین با خطر تواند بود.  
(۲) ز تنگ چشمی در خاطر تو کی گذرد که هیچ چیز به از سیم و زر تواند بود.  
(۳) وصال دوست طلب می کنی بلاکش باش که خار و گل همه با یکدگر تواند بود.  
(۴) کسی به گردن مقصود دست حلقه کند که پیش تیر بلا سپر تواند بود.

۱۲- مقصود دقیق مصراع «لب و دندان سنایی همه توحید تو گوید» چیست؟ (iranarze.ir) (بانک ملت سال ۱۴۰۰) (مجرى ایران آزمون)

(۱) با خلوص نیت (۲) با دیده عقل (۳) با بینش فراوان (۴) با تمام وجود

۱۳- مفهوم کنایی «گندم نمای جو فروش» از کدام بیت دریافت می شود؟ (iranarze.ir) (وزارت بهداشت مهر ۱۳۹۹ سری ۲۰۰) (مجرى سنجش)

(۱) با نامرادی از همه کس زخم می خوریم ای وای اگر سپهر رود بر مراد ما  
(۲) چون به طاعت نگه کنی گنه است عاشق خویش بین چه مرد ره است  
(۳) طاعت خود ز چشم خلق بیوش زان مکن یاد و در فزونی کوش  
(۴) هوش به میخانه و رو در خدای وای بر این طاعت آلوده وای

۱۴- توضیح زیر مربوط به کدام یک از علایم نشانه گذاری است؟ (iranarze.ir) (بانک سینا سال ۱۳۹۸)

«از این علامت به منظور نشان دادن تغییر روال نوشته و یا تغییر کلی سیاق سخن استفاده می شود»

(۱) سه ستاره (۲) قلاب (۳) دو کمان (پراتنز) (۴) خط کشیده

۱۵- در کدام گزینه نام پدید آورندگان اثر ذکر شده، هردو نادرست است؟ (iranarze.ir) (علوم پزشکی سال ۱۳۹۹ نوبت عصر) (مجرى سنجش)

(۱) هفت پیکر (نظامی) - هفت اورنگ (جامی)  
(۲) اسرار التوحید (ابو سعید ابوالخیر) - قصه های دوشنبه (الفونس دوده)  
(۳) فرهاد و شیرین (جامی) - فرار از مدرسه (غزالی)  
(۴) چشمه روشن (غلام حسین یوسفی) - سر و ته یک کرباس (محمد علی جمالزاده)

## فصل سوم: سوالات استخدامی کامپیوتر و مهارتهای هفتگانه ICDL (اصل سوالات سازمانها)

۱- کدام یک از اصطلاحات زیر در نرم افزار اکسس با بقیه متفاوت است؟

(iranarze.ir) (دهمین آزمون فراگیر دستگاه های اجرایی خرداد ۱۴۰۲) (مجرى جهاد دانشگاهی)

(۱) report (۲) query (۳) form (۴) table

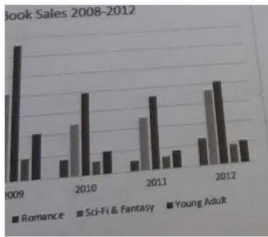
۲- در تصویر روبرو، نحوه نمایش یک فایل power point در منوی view آمده است. کدام گزینه برای جابه جایی و زمان بندی اسلایدها استفاده می شود؟



(iranarze.ir) (وزارت بهداشت مهر ۱۴۰۲) (مجرى جهاد دانشگاهی)

(۱) Normal (۲) Outline view (۳) slide sorter (۴) notes page

۳- شکل زیر یک نمودار در نرم افزار Excel ۲۰۱۳ را نشان می دهد تعداد Data Series در این نمودار چند عدد است؟



(iranarze.ir) (بانک ملی اردیبهشت ۱۴۰۲) (مجری سنجش)

۲۵ (۱)      ۵ (۲)      ۸ (۳)      ۱۰ (۴)

۴- ابزار **compare** برای مقایسه دو سند Word ۲۰۱۶ استفاده می شود. کدام مورد در خصوص مغایرت در دو سند، کدام مورد توسط این ابزار قابل تشخیص

نیست؟ (iranarze.ir) (وزارت نفت اردیبهشت ۱۴۰۲) (مجری سنجش)

Document Property (۱)      white Spaces (۲)      Case changes (۳)      Formatting (۴)

۵- کدام یک از توابع زیر در نرم افزار Excel ۲۰۱۶، بر روی مفادیر عددی استفاده می شود؟

(iranarze.ir) (نهمین آزمون فراگیر دستگاه های اجرایی مشترک با آموزش و پرورش گروه اول تیر ۱۴۰۱) (مجری سنجش)

SUMIF (۱)      PROPER (۲)      LOWER (۳)      UPPER (۴)

۶- در نرم افزار Excel ۲۰۱۶، حاصل کدام تابع زیر با پارامتر ورودی آن متفاوت است؟

(iranarze.ir) (نهمین آزمون فراگیر دستگاه های اجرایی مشترک با آموزش و پرورش گروه اول پنج ۱۴۰۱) (مجری سنجش)

ABS(۴) (۱)      ABS(۴,۵) (۲)      ABS(-۲) (۳)      ABS(۴,۲) (۴)

۷- در نرم افزار excel ۲۰۱۶ ابزار **Sort** بر روی کدام مورد اعمال میشود؟

(iranarze.ir) (نهمین آزمون فراگیر دستگاه های اجرایی مشترک با آموزش و پرورش گروه اول شش ۱۴۰۱) (مجری سنجش)

(۱) داده های موجود در سلول ها و شماره آنها (۲) شماره سلول ها (۳) فرمول های موجود در سلول ها (۴) داده های موجود در سلول ها

۸- با کدام گزینه، می توان جدول رسم کرد؟ (iranarze.ir) (بانک ملت دی ۱۴۰۱) (ایران آزمون)

(۱) سربرگ Home ، گروه Table ، دکمه Font (۲) سربرگ Insert ، گروه Table ، دکمه Insert Table

(۳) سربرگ Insert ، گروه Illustrations ، دکمه Chart (۴) سربرگ View ، گروه Document view ، دکمه Print Layout

۹- از کلیدهای ترکیبی **Alt + F4** به چه منظور استفاده می شود؟ (iranarze.ir) (بانک مهر ایران اسفند ۱۴۰۱) (مجری ایران آزمون)

(۱) برای ایجاد یک سند جدید (۲) برای خروج از یک سند جدید (۳) برای بستن یک سند و خروج از برنامه (۴) گزینه ۲ و ۳

۱۰- کدام گزینه کاربرد اصلی اکسل نیست؟ (iranarze.ir) (بانک رفاه ۱۴۰۱)

(۱) تهیه دفاتر حسابداری (۲) انجام امور نشر رومیزی و تایپ (۳) تهیه نمودار گرافیکی (۴) فاکتور فروش

۱۱- واحد سرعت انتقال داده در شبکه اینترنت، کدام است؟ (iranarze.ir) (شرکت کار و تامین مهر ۱۴۰۱) (مجری سنجش)

Mpps(۱)      hps (۲)      ppm (۳)      bps (۴)

۱۲- کدام گزینه با ابزار **Draw Table** امکان پذیر نیست؟ (iranarze.ir) (تامین اجتماعی مهر ۱۴۰۱) (مجری سنجش)

(۱) می توان سلول به جدول اضافه کرد

(۲) می توان خطوط مورب اضافه کرد

(۳) می توان برای جدول حاشیه ایجاد کرد

(۴) می توان از قبل تعداد سلول ها را وارد کرد یا مشخص کرد

۱۳- برای گذاشتن نقطه نظرات و پیشنهادات بر روی متن تایپ شده از کدام گزینه استفاده می‌شود؟

(iranarze.ir) (بانک ملت سال ۱۴۰۰) (مجری ایران آزمون)

Comment (۱) Footnote (۲) Track Changes (۳) Caption (۴)

۱۴- در نرم افزار Excel ۲۰۱۶ تابع قدر مطلق کدام است؟ (iranarze.ir) (بانک تجارت تیر ۱۴۰۰)

ABS(number ۱ , number ۲) (۱) ACOS(number ۱ , number ۲) (۲) ABS(number) (۳) ACOS(number) (۴)

شکل زیر، بخشی از یک کاربرگ را در نرم افزار Excel نشان می‌دهد،

۱۵- حاصل تابع N (TRUE) در نرم‌افزار Excel ۲۰۱۳. کدام است؟

(iranarze.ir) (هشتمین آزمون فراگیر دستگاه‌های اجرایی مشترک با آموزش و پرورش آبان ۱۳۹۹) (مجری سنجش)

# NAME?(۱) ۰ (۲) ۱ (۳) # VALUE!(۴)

### فصل چهارم: سوالات استخدای زبان انگلیسی عمومی (اصل سوالات سازمانها)

۱- they'd only known each other for two month, they got engaged.

(iranarze.ir) (دهمین آزمون فراگیر دستگاه‌های اجرایی خرداد ۱۴۰۲) (مجری جهاد دانشگاهی)

۱) despite ۲) even though ۳) in spite of ۴) even if

۲- Choose the correct passive sentence. "they cancelled all flights because of fog.

(iranarze.ir) (وزارت بهداشت مهر ۱۴۰۲) (مجری جهاد دانشگاهی)

۱) All flights have been cancelled because of fog. ۲) All flights were cancelled because of fog.  
۳) All flights are cancelled because of fog. ۴) All flights are being cancelled because of fog.

۳- the athlete ..... avoids sweets and starchy foods so that he can keep his weight down

(iranarze.ir) (بانک ملی اردیبهشت ۱۴۰۲) (مجری سنجش)

۱) promptly ۲) purposefully ۳) consequently ۴) frankly

۴- According to the passage, the longest drill hole for oil recovery until February ۲۰۰۸ was .....

(iranarze.ir) (وزارت نفت اردیبهشت ۱۴۰۲) (مجری سنجش)

۱) ۱۱۰۰۰ m ۲) ۲۵۰۰ m ۳) ۵۰۰۰ m ۴) ۱۱۶۸۰ m

۵- All students are expected to ..... their term project by the end of this month.

(iranarze.ir) (نهمین آزمون فراگیر دستگاه‌های اجرایی مشترک با آموزش و پرورش گروه پنج تیر ۱۴۰۱) (مجری سنجش)

۱) survey ۲) submit ۳) sustain ۴) suspect

۶- One important Indicator of quality of life is the proportion of ..... one has to spend in order to buy food.

(iranarze.ir) (نهمین آزمون فراگیر دستگاه‌های اجرایی مشترک با آموزش و پرورش شش تیر ۱۴۰۱) (مجری سنجش)

۱) authority ۲) precision ۳) priority ۴) income



۷- One important Indicator of quality of life is the proportion of ..... one has to spend in order to buy food.

(iranarze.ir) (نهمین آزمون فراگیر دستگاه های اجرایی مشترک با آموزش و پرورش گروه شش تیر ۱۴۰۱) (مجرى سنجش)

- ۱) authority                      ۲) precision                      ۳) priority                      ۴) income

۸- Controlling your fear and practicing some skills in public speaking can bring you .....

(بانک مهر ایران اسفند ۱۴۰۱) (مجرى ایران آزمون) (iranarze.ir)

- ۱) rank                      ۲) contact                      ۳) focus                      ۴) success

### Part B: Reading Comprehension

Directions: Read the following passage and select the choice (۱), (۲), (۳), or (۴) that best answers each question. Then mark your answer on your answer sheet.

Are you healthy? Before answering, think about what you understand by "health". It doesn't just mean freedom from disease. Health is a measure of how sound and vigorous both your body and mind are. A truly healthy person has a sense of physical and mental well-being. Our health is precious and easily damaged. But there is much we can do to maintain it. Eating well, exercising, and getting enough sleep all help keep us healthy. Standards of health and health hazards are different from place. In some parts of the world, many people have many health problems because they are poor, hungry, and without clean drinking water. In other places, stress at work, lack of exercise, and too much food bring their own health problems, such as heart disease. Food plays a large part in our health. A healthy diet includes fresh fruit and vegetables, meat, fish, bread, eggs, and milk, but not too many fatty, salty, or sugary. Good health also depends on regular exercise because it keeps us fit. Regular exercise improves blood circulation. Makes the heart and lungs work well, and keeps the strong and toned. It is good for the brain as well as the body. And makes on feet in start and a cool-down sequence at the end to prevent strain on muscles.

۹- The word "they" in paragraph ۱ refers to .....

(شرکت کار و تامین مهر ۱۴۰۱) (مجرى سنجش) (iranarze.ir)

- ۱) people                      ۲) health hazards                      ۳) parts of the world                      ۴) health proble

۱۰- English is spoken in most of the countries of the world. It is in fact considered an ..... language.

(بانک ملت سال ۱۴۰۰) (مجرى ایران آزمون) (iranarze.ir)

- ۱) industrial                      ۲) independent                      ۳) technological                      ۴) international

۱۱- The words spots in paragraph ۳ is similar in meaning to .....

(بانک تجارت تیر ۱۴۰۰) (iranarze.ir)

- ۱) views                      ۲) locations                      ۳) buildings                      ۴) attractions

۱۲- ..... out of school as a teenager. Maurice decided later in life ..... up his education where he had left off.

(قوه قضاییه اسفند ۱۴۰۰) (مجرى جهاد دانشگاهی) (iranarze.ir)

- ۱) being dropped/took                      ۲) having dropped/to take                      ۳) to drop/taking                      ۴) dropped/being taken

۱۳- Unfortunately, the software i saw in the store is not .....

(وزارت بهداشت مهر ۱۳۹۹ سری D۲۰۰) (مجرى سنجش) (iranarze.ir)

- ۱) Fundamental                      ۲) Compatible                      ۳) Predominant                      ۴) Meticulous

۱۴ - Unfortunately, the new book failed to satisfy the..... Of the readers. (prepared by iranarze.ir)

(iranarze.ir) (علوم پزشکی سال ۱۳۹۹ نوبت صبح) (مجری سنجش)

۱) offers                      ۲) masterpiece                      ۳) affairs    ۴) expectation

۱۵ - In this week's column, I ..... you some tips on how to perform this most enjoyable activity.

(iranarze.ir) (کار و تامین سال ۱۳۹۹)

a) am going to give                      b) will give                      c) given                      d) have given

### فصل پنجم: سوالات استخدامی هوش و استعداد تحصیلی (اصل سوالات سازمانها)

\* برای پاسخ به سوالات ۱ از متن زیر استفاده کنید.

هشت داوطلب در یک آزمون ورودی شرکت کرده اند. در مورد نتایج این افراد که آن ها را با حروف S, T, U, V, W, X, Y, Z نشان می دهیم. اطلاعات زیر در دست است.

۱) هیچ یک از داوطلبان نمره مساوی با داوطلب دیگر نداشته است.

۲) فرد S نمره ای بالاتر از فرد Z بدست آورده است.

۳) فقط نمره یک فرد بین نمره دو داوطلب T و X قرار گرفته است.

۴) فرد Y درست یک رتبه پایین تر از فرد U است.

۵) فرد V و Y هر دو زتبه ای بهتر از فرد S بدست آورده اند.

۶) فرد W بالاترین نمره (رتبه اول) را بدست آورده است.

۱- اگر فرض کنیم فرد V رتبه ای کمتر از فرد T بدست آورده باشد، کدام فرد باید در رتبه هفتم قرار داشته باشد؟

(iranarze.ir) (دهمین آزمون فراگیر دستگاه های اجرایی خرداد ۱۴۰۲) (مجری جهاد دانشگاهی)

T (۱)                      X (۲)                      S (۳)                      V (۴)

۲- دانش آموزان دبیرستانی که احساس می کنند در مدرسه موفق نیستند، اغلب قبل از فارغ التحصیلی ترک تحصیل می کنند و سرکار میروند. این در حالی است که در سال جاری، میزان ترک تحصیل در دبیرستان شهر «الف» به میزان قابل توجهی، کمتر از سال قبل بوده است. این نشانه دلگرم کننده ای است که نشان می دهد برنامه ای که از دو سال پیش برای بهبود روحیه دانش آموزان دبیرستانی راه اندازی شد، برای کاهش ترک تحصیل موثر واقع شده است.

کدام مورد، در صورتی که صحیح فرض شود، ادعای متن راجع به تأثیر برنامه دو ساله برای بهبود روحیه را تضعیف می کند؟

(iranarze.ir) (دبیری و هنرآموز آموزش و پرورش مرداد ۱۴۰۲) (مجری سنجش)

۱) امسال به دلیل بحران اقتصادی، میزان بیکاری در کل کشور و از جمله شهر «الف» بسیار بالا رفته است

۲) آمار پایین ترک تحصیلی های هر مدرسه، به تمایل والدین به ثبت نام فرزند خود در آن مدرسه می افزاید

۳) امسال تعداد دانش آموزانی که در مدارس دیگر هم ترک تحصیل کرده اند، تغییر چشمگیری نسبت به سال های گذشته نداشته است

۴) درآمدی که دانش آموزان ترک تحصیلی بابت کار خود کسب می کنند، در مقایسه با درآمد افراد سن و سال دار تر که همان کار را می کنند، امسال هم مانند سال های پیشین، پایین تر است.

راهنمایی: برای پاسخگویی به سوال ۳ لازم است موقعیتی را که در سوال مطرح شده، مورد تجزیه و تحلیل قرار دهید و سپس گزینه ای را که فکر میکنید پاسخ مناسب تری برای آن سوال است، انتخاب کنید. سوال را با دقت بخوانید و با توجه به مطالب مطرح شده در سوال و نتایجی که بیان شده و بیان نشده ولی قابل استنتاج است، پاسخی را که صحیح تر به نظر میرسد، و در پاسخنامه علامت بزنید.

۳- از آنجایی که سرما خوردگی و آنفولانزا در زمستان، به مراتب از فصول دیگر سال به ویژه در فصول گرم بیشتر است، بهتر است برای اینکه میزان سرما خوردگی به ویژه نزد کودکان در دبستان ها را کم کنیم، این محیط ها را همیشه گرم نگه داریم و تماس بچه ها با سرما را هرچه بیشتر کاهش دهیم. کدام مورد، در صورتی که صحیح فرض شود، توصیه به عمل آمده در متن را به بهترین شکل تضعیف می کند؟

(iranarze.ir) (آموزگار ابتدایی آموزش و پرورش اردیبهشت ۱۴۰۲) (مجرى سنجش)

(۱) بیماری سرما خوردگی در فصول گرم سال هم، یک بیماری نایاب نیست.

(۲) برخی تحقیقات که درباره تاثیر گرما بر قدرت بیماری زاوی ویروس های سرماخوردگی انجام شده است به نتایج مشخصی رسیده اند.

(۳) در فصل سرما، مردم بیشتر کنار هم هستند و لذا امکان سرایت ویروس سرما خوردگی هم زیادتر است

(۴) امکان ابتلا به سرماخوردگی در فصول مختلف سال، به یک اندازه نیست.

۴- قیمت ۵ دفتر، ۳ مداد و ۲ مداد پاک کن روی هم ۵۷۰ هزار تومان شده است. اگر قیمت مداد یک سوم قیمت دفتر و قیمت مداد پاک کن نصف قیمت مداد باشد، (تهیه شده توسط ایران عرضه) قیمت هر دفتر چقدر است؟ (iranarze.ir) (وزارت بهداشت مهر ۱۴۰۲) (مجرى جهاد دانشگاهی)

(۱) ۸۰ هزار تومان (۲) ۱۲۰ هزار تومان (۳) ۹۰ هزار تومان (۴) ۶۰ هزار تومان

۵- در ۵ تراکنش متوالی، در هر کدام نسبت به قبلی، ۸۰ درصد، مبلغ موجودی حساب کسر شده است. اگر بعد از آخرین تراکنش، ۸۰ تومان باقی مانده باشد، در اولین تراکنش، چند هزار تومان کسر شده است؟ (iranarze.ir) (بانک ملی اردیبهشت ۱۴۰۲) (مجرى سنجش)

(۱) ۲۵۰ (۲) ۲۰۰ (۳) ۸۰ (۴) ۵۰

نیروگاه های زمین گرمایی یا ژئوترمال به واحدهای تبدیل انرژی گفته می شود که انرژی خود را از طریق سیال گرم شده از طریق عبور از میان لایه های پوسته زمین به دست می آورد. اگر نیروگاه های زمین گرمایی را با سایر نیروگاه های انرژی های نو مقایسه کنیم مشاهده می کنیم که نیروگاه های زمین گرمایی به دلیل بالا بودن ضریب دسترسی (۸۵٪ زمان در سال)، در جهان از اهمیت فراوانی برخوردارند و از این نوع نیروگاه ها می توان به عنوان بار پایه شبکه استفاده نمود. در زیر سطح زمین یک لایه سنگ داغ و مذاب به نام ماگما وجود دارد، که به طور مداوم حرارت در این لایه از مواد رادیواکتیو مانند اورانیوم و پتاسیم تولید می شود. این مقدار حرارت می تواند ۵۰۰۰۰ برابر بیش تر از منابع نفت و گاز انرژی تولید کند. مناطقی که درجه حرارت زمین به دلیل وجود آتشفشان ها و یا نازک بودن پوسته ی زمین بالاست، برای این صنعت مدنظر هستند. حاشیه اقیانوس آرام و حلقه آتشفشان ها را می توان جز بهترین گزینه ها معرفی کرد. از طریق ارتعاشات حاصل از زلزله ها ماگماها، سنگ های گرم و پوسته زمین اجازه حرکت آب به سمت بالا را داده و چشمه های آب گرم را به وجود می آورند، این چشمه ها از طریق حرارت زمین گرم شده و دمایشان تا حدود ۲۰۰ درجه سانتی گراد نیز می رسد. نیروگاه های زمین گرمایی را با توجه به نوع سیال خروجی از چاه های تولیدی و نیز تجهیزات مورد استفاده در سیکل نیروگاه آن ها را دسته بندی نمود. بر این اساس نیروگاه های زمین گرمایی به سه دسته تقسیم می شوند.

۶- کدام مورد، رابطه پاراگراف ۲ در ارتباط با پاراگراف ۱ را به درست ترین وجه نشان می دهد؟ (iranarze.ir) (وزارت نفت اردیبهشت ۱۴۰۲) (مجرى سنجش)

(۱) با برشمردن برخی نکات مثبت منبع انرژی توصیف شده در پاراگراف ۱، ظرفیت آن در تولید انرژی را نشان می دهد.

(۲) محدودیت های مرتبط با استفاده از امکان بالقوه ای که در پاراگراف ۱ آمده است را بر می شمرد.

(۳) اطلاعاتی دال بر درستی و عملی بودن ادعای پاراگراف ۱ فراهم می آورد.

۴) فرآیند تحقق اهداف توصیف شده در پاراگراف ۱ را توصیف می کند.

راهنمایی: برای پاسخگویی به سوال ۷، لازم است موقعیتی را که در سوال مطرح شده، مورد تجزیه و تحلیل قرار دهید و سپس گزینه ای را که فکر میکنید پاسخ مناسبتری برای آن سوال است، انتخاب کنید. سوال را با دقت بخوانید و با توجه به مطالب مطرح شده در هر سوال و نتایجی که بیان شده و بیان نشده ولی قابل استنتاج است، پاسخی را که صحیح تر به نظر می رسد، انتخاب و در پاسخنامه علامت بزنید.

۷- چه چیزی در انتظار فرزند دوم است؟ این کودک نیز موقعیتی منحصر بفرد دارد. از یک جهت، او هرگز قدرت و جایگاه محور بودن را تجربه نمیکند. زیرا آن جایگاه پیش تر توسط فرزند اول اشغال شده است بنابراین حتی اگر دوباره خواهر یا برادر دیگری پا به دنیا بگذارد، فرزند دوم آن حس کودکانه خلع شدگی را که خودش با ظهورش از فرزند اول گرفته است،.....

(iranarze.ir) (نهمین آزمون فراگیر دستگاه های اجرایی مشترک با آموزش و پرورش گروه پنج تیر ۱۴۰۱) (مجرى سنجش)

۱) تشدید میکند ۲) تجربه نخواهد کرد ۳) به دست می آورد ۴) فراموش نمیکند

راهنمایی برای پاسخگویی به سوال ۸ لازم است موقعیتی را که در سوال مطرح شده مورد تجزیه و تحلیل قرار دهید و سپس گزینه ای را که فکر می کنید پاسخ مناسب تری برای آن سوال است انتخاب کنید. سوال را با دقت بخوانید و با توجه به مطالب مطرح شده در سوال و نتایجی که بیان شده و بیان نشده ولی قابل استنتاج است پاسخی را که صحیح تر به نظر می رسد انتخاب و در پاسخنامه علامت بزنید

۸- جرم و جنایت همه را نگران کرده است، به خصوص والدین را. نظر سنجی های اخیر نشان می دهند که بزرگ ترین ترس ۲۰ درصد از والدین اروپایی این است که بچه هایشان توسط افراد غریبه دزدیده شده و یا کشته شوند. با این وجود اغلب والدین به فرزندان خود اجازه می دهند بیرون از خانه بازی کنند. به واقع احتمال دزدیده شدن بچه ها توسط افراد غریبه یک در ۲۰۰ هزار است و از آن ضعیف تر احتمال کشته شدن یک کودک در ماجرای جنایی است که حدود یک در یک میلیون است. کدام مورد زیر را می توان به درستی متن فوق استنباط کرد؟

(iranarze.ir) (نهمین آزمون فراگیر دستگاه های اجرایی مشترک با آموزش و پرورش گروه شش تیر ۱۴۰۱) (مجرى سنجش)

۱) آمار کودک ربایی نسبت به گذشته کاهش چشمگیری داشته است

۲) امروزه بازی در محیط خارج از خانه برای رشد اجتماعی کودکان ضروری است

۳) والدین در عمق ضمیر ناخودآگاه خویش، به مبالغه آمیز بودن ترسشان، نوعی آگاهی دارند

۴) بسیاری از والدین، به دلیل مشغله های روزمره خود مجبورند چشم خود را بر بسیاری از ترس هایشان ببندند

۹- عقربه های یک ساعت در آینه، ساعت ۲:۴۰ را نشان می دهد، ساعت چند است؟ (iranarze.ir) (بانک ملت دی ۱۴۰۱) (ایران آزمون)

۱) ۷:۲۰ ۲) ۱۰:۳۵ ۳) ۷:۴۰ ۴) ۸:۴۰

۱۰- در کدام یک از عددهای دو رقمی زیر، اگر ترتیب رقمها معکوس شود، عدد حاصل، مربع یک عدد یک رقمی نمی باشد؟

(iranarze.ir) (بانک مهر ایران اسفند ۱۴۰۱) (مجرى ایران آزمون)

۱) ۶۳ ۲) ۴۶ ۳) ۹۲ ۴) ۱۸

۱۱- نسبت ..... به تیغ مثل فرو رفتن است به .....؟ (iranarze.ir) (بانک رفاه ۱۴۰۱)

۱) برندگی - نیزه ۲) برندگی - میخ ۳) شمشیر - دست ۴) نیزه - کارد

راهنمایی: اطلاعات زیر را بخوانید و باتوجه به آن، به سوال ۱۲ که در زیر آن آمده است، پاسخ دهید و در پاسخنامه علامت بزنید.

شرکتی برای تأمین کادر اداری خود، با هفت نفر به اسامی A, B, C, D, E, F و G مصاحبه کرده، سپس آنها را برحسب عملکردشان مرتب نموده و ۴ نفر اول را قبول و ۳ نفر آخر را رد اعلام می کند. اطلاعات زیر، درخصوص این افراد و وضعیت مصاحبه شان موجود است.

- B و E یا هر دو قبول می شوند یا هر دو رد. - A و G، یکی قبول و دیگری رد می شود. - عملکرد D در مصاحبه، از C بهتر است.

۱۲- اگر F رد شده باشد، چند نفر از ۶ نفر دیگر، قبولی شان قطعی می شود؟ (iranarze.ir) (شرکت کار و تأمین مهر ۱۴۰۱) (مجری سنجش)

(۱) ۱ (۲) ۲ (۳) ۳ (۴) ۴

- هر سؤال حاوی دو اطلاع (تحت عنوان اطلاع I و اطلاع II) است. مطابق دستورالعمل زیر، پاسخ صحیح سوال ۱۳ را مشخص نمایید.

\* اگر اطلاع I به تنهایی برای پاسخگویی به سؤال مطرح شده کافی باشد ولی اطلاع II به تنهایی کافی نباشد (یا برعکس)، گزینه ۱ را علامت بزنید.

\* اگر دو اطلاع I و II با هم برای پاسخگویی به سؤال کافی باشند ولی هر کدام از این دو اطلاع به تنهایی برای پاسخگویی به سؤال کافی نباشند، گزینه ۲ را علامت بزنید.

\* اگر هر کدام از دو اطلاع I و II به تنهایی برای پاسخگویی به سؤال کافی باشد، گزینه ۳ را علامت بزنید.

\* اگر دو اطلاع I و II با هم نیز برای پاسخگویی به سؤال کافی نباشند، گزینه ۴ را علامت بزنید.

۱۳- مقدار n چقدر است؟ (iranarze.ir) (بانک ملت سال ۱۴۰۰) (مجری ایران آزمون)

(I)  $5n = -10$  (II)  $n < 0$

(۱) I کافی و II ناکافی (۲) هر دو کافی، به تنهایی ناکافی (۳) I و II به تنهایی کافی (۴) I و II هر دو ناکافی

۱۴- با توجه به معادلات روبرو، مقدار x کدام گزینه است؟ (iranarze.ir) (قوه قضاییه اسفند ۱۴۰۰) (مجری جهاد دانشگاهی)

$$\begin{cases} 1 + 3 = 6 \\ 2 + 4 = 12 \\ 3 + 5 = 20 \\ 4 + 6 = 30 \\ 5 + 7 = x \end{cases}$$

(۱) ۴۲ (۲) ۴۰ (۳) ۴۴ (۴) ۳۸

راهنمایی: برای پاسخگویی به سوال ۱۵ لازم است موقعیتی را که در سوال مطرح شده، مورد تجزیه و تحلیل قرار دهید. سپس گزینه های را که فکر می کنید پاسخ مناسب تری برای آن سوال است انتخاب کنید. سوال را با دقت بخوانید و با توجه به واقعیت های مطرح شده در هر سوال و نتایج که بیان شده و بیان نشده ولی قابل استنتاج است، پاسخی را که صحیح تر به نظر می رسد، انتخاب کنید و در پاسخ نامه علامت بزنید.

۱۵- در تحقیقی که برای بررسی اثر بخشی داروی (الف) در درمان سرماخوردگی حاد در مردان مسن انجام شد، دو گروه از مردان مسن، وارد مطالعه شدند. به افراد یک گروه، همان داروی (الف) داده شد، در حالی که به افراد گروه دیگر، دارونما تجویز شد. بعد از یک هفته، محققین با تعجب دریافتند که افراد هر دو گروه کاملاً بهبود یافته اند. کدام مورد در صورتی که صحیح فرض شود، تناقض موجود در متن را به منطقی ترین وجه، مرتفع می سازد؟

(iranarze.ir) (وزارت بهداشت مهر ۱۳۹۹ سری D۲۰۰) (مجری سنجش)

(۱) تقریباً تمامی آنانی که به آنها دارونما داده شد، به طریقی پی برده اند که داروی آنها بی اثر است.

(۲) برخی از پزشکان بر این باورند که اثر تلقین، گاهی از اثر دارو نیز بیشتر است.

(۳) افراد گروهی که دارونما دریافت کرده بودند، به خیال اینکه داروی دریافتی شان کافی نیست، خود اقدام به خرید و مصرف داروی (الف) کرده بودند.

(۴) داروی (الف) به واقع دارویی موثر در بر طرف نمودن سرماخوردگی حاد برای همه گروه های سنی است.

## فصل ششم: سوالات استخدای جی مت (GMAT) تالیف ایران عرضه

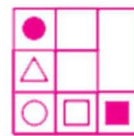
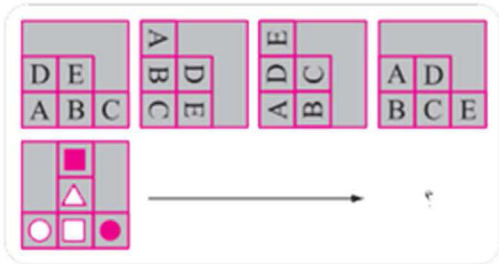
۱ - (منبع ایران عرضه) مجموع سن اعضای یک باشگاه ورزشی ۱۸۷ سال و شش ماه است. کوچکترین عضو این باشگاه ۹ سال دارد. اگر افراد این باشگاه به طور

متوالی، اختلاف سنی ۶ ماه داشته باشند، تعداد افراد این باشگاه چقدر است؟ (iranarze.ir)

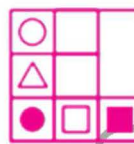
- (۱) ۲۵ (۲) ۱۵ (۳) ۵۰ (۴) نمیتوان تعیین کرد

۲- در شکل زیر، الگوی اول (بالایی) در چهار مرحله تغییر می کند. اگر الگوی دوم (الگوی پایینی) نیز به همین طریق تغییر نماید، این الگو نهایتاً بعد از تغییر

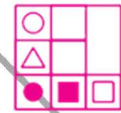
چهارم، به کدامیک از موارد ۱ تا ۴ تبدیل خواهد شد؟ (iranarze.ir)



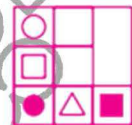
(۲)



(۴)



(۱)



(۳)

۳ - نسبت درآمد علی به درآمد خواهرش، ۲ به ۳، نسبت درآمد خواهر علی به مادرش، ۴ به ۵ و نسبت درآمد مادر علی به پدر علی، ۳ به ۷ است. درآمد

والدین، چند برابر درآمد فرزندان میباشد؟ (iranarze.ir)

- (۱) ۱.۲۵ (۲) ۱.۵ (۳) ۲.۲۵ (۴) ۲.۵

۴ - محقق دندان پزشک: پر کردن پوسیدگی دندان کاری بی ضرر نیست؛ خواهی نخواهی به برخی قسمت های سالم دندان آسیب وارد می شود. پوسیدگی ها فقط وقتی مضرند که پوسیدگی به اعصاب درون دندان برسد و بسیاری از پوسیدگی ها، چنانچه معالجه نشوند، هرگز به آن مرحله نمیرسند. بنابراین دندانپزشکان نباید پوسیدگی را پر کنند، مگر این که اعصاب درون دندان در معرض خطر از سوی پوسیدگی باشند.

کدام یک از اصول زیر، در صورتی که صحیح فرض شوند، به بهترین نحو، تأیید کننده استدلال محقق فوق میباشد؟ (iranarze.ir)

(۱) بیماری که بالقوه خطرناک است، نباید معالجه نشده رها شود، مگر این که به طور مداوم تحت نظر و کنترل باشد

(۲) بیماری که در حال پیشرفت است، نباید با استفاده از روشهایی که فقط مسکن هستند و آرامش موقعت ایجاد میکنند، درمان شود

(۳) بیماری که فقط به طور بالقوه مضر است، نباید با استفاده از روشی که قطعاً زیان آور است، درمان شود

(۴) دندانپزشکان بایستی هرگونه رویه ای که در بلند مدت مفید است را پیش بگیرند، اما فقط به این شرط که این رویه باعث زیان فوری نشود.

۵ - این روزها شرکت های دارویی و متخصصین بهداشت، توجه خود را به کلسترول خون معطوف کرده اند. هر چه میزان کلسترول خون مان بالاتر باشد، ریسک

مردن در اثر حمله قلبی بیشتر است. این مسأله منطقی است، چرا که بیماری قلبی نسبت به هر کدام از دیگر عوامل، سالانه افراد بیشتری را می کشد. حداقل

سه عامل «سیگار، پرخوری و عدم تحرک» هر کدام میتواند مقدار کلسترول خون را تحت تأثیر قرار دهد.

کدامیک از موارد زیر را میتوان از متن فوق، نتیجه گرفت؟ (iranarze.ir)

(۱) اگر فردی میزان کلسترول خون خود را تحت نظر داشته باشد، ریسک ابتلای وی به بیماری کشنده قلبی پایین است.

(۲) یک رژیم غذایی با کلسترول بالا، علت اصلی مرگ افراد می باشد.

(۳) ریسک بیماری کشنده حمله قلبی را با تغییراتی در سبک زندگی می توان تغییر داد.

(۴) تنها راهی که سیگار، ریسک ابتلا به بیماری قلبی را افزایش می دهد، از طریق تغییر سطح کلسترول خون میباشد.

\*\* با توجه به اطلاعات داده شده به سوالات ۶ الی ۱۲ پاسخ دهید.

آقای بهرامی به همراه همسر و مادرش، آقای حمیدی به همراه همسر و دخترش و آقای صفاپور به همراه همسر، برادر و خواهرش، سه خانواده غریبه هستند که قرار است در یک پرواز، در دو ردیف اول یک هواپیما (مطابق شکل)، با محدودیت‌های زیر بنشینند: (iranarze.ir)

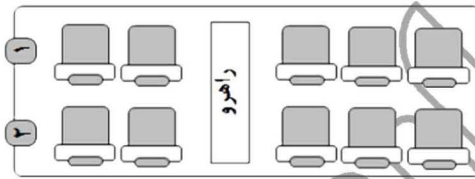
• هیچ زن و مرد نامحرمی نمی‌توانند کنار یکدیگر بنشینند.

• دختر آقای حمیدی مایل است کنار پنجره بنشیند.

• آقای بهرامی طوری کنار همسرش می‌نشیند که همسرش کنار راهرو قرار نگیرد.

• آقای صفاپور کنار خواهرش و دقیقاً پشت سر بردارش می‌نشیند.

• همسر آقای حمیدی دقیقاً پشت سر دخترش می‌نشیند.



\*\* با توجه به شروط بالا دو حالت نشستن زیر ثابت می‌باشد و با استفاده از این موارد میتوان به سوالات زیر پاسخ داد

ب. صفاپور		ب. صفاپور	د. حمیدی
صفاپور	خ. صفاپور	خ. صفاپور	خ. حمیدی

۶- اگر آقای بهرامی دقیقاً پشت سر مادرش بنشیند، کدامیک از افراد زیر، میتواند کنار خواهر آقای صفاپور بنشیند؟ (iranarze.ir)

(۱) مادر آقای بهرامی (۲) همسر آقای صفاپور (۳) همسر آقای حمیدی (۴) همسر آقای بهرامی

۷- اگر آقای بهرامی دقیقاً جلوی مادرش بنشیند، چه کسی لزوماً کنار آقای حمیدی بنشیند؟ (iranarze.ir)

(۱) همسر آقای حمیدی (۲) دختر آقای حمیدی (۳) آقای بهرامی (۴) برادر آقای صفاپور

۸- اگر آقای حمیدی و دخترش در ردیف ۳ تایی نشسته باشند، چه کسی لزوماً کنار مادر آقای بهرامی نشسته است؟ (iranarze.ir)

(۱) همسر آقای صفاپور (۲) همسر آقای بهرامی (۳) همسر آقای حمیدی (۴) خواهر آقای صفاپور

۹- اگر همسر آقای بهرامی دقیقاً پشت سر همسر آقای صفاپور (البته نه کنار پنجره) نشسته باشد، کدام مورد در خصوص جای نشستن مادر آقای بهرامی صحیح است؟ (iranarze.ir)

a: کنار راهرو      b: کنار همسر آقای صفاپور      c: دقیقاً جلوی پسرش

(۱) a و b      (۲) a و c      (۳) a و b و c      (۴) b و c

۱۰- در چند حالت مختلف، دو زن و شوهر از سه زن و شوهر میتوانند بین دو نفر دیگر قرار بنشینند؟ (iranarze.ir)

(۱) ۳      (۲) ۲      (۳) صفر      (۴) ۱

۱۱- اگر مادر آقای بهرامی وسط دو نفر نشسته باشد، کدام یک از افراد زیر میتوانند بین دو نفر دیگر قرار بگیرند؟ (iranarze.ir)

(۱) همسر آقای بهرامی (۲) همسر آقای صفاپور (۳) آقای بهرامی (۴) خواهر آقای صفاپور

۱۲- اگر آقای حمیدی - طراحی شده توسط ایران عرضه - کنار پنجره بنشیند، چند نفر به طور قطع کنار راهرو نشسته اند؟ (iranarze.ir)

(۱) ۱      (۲) ۲      (۳) ۴      (۴) ۳

۱۳- در تساوی های زیر، بین اعداد و اشکال ارتباط خاصی برقرار است. به جای علامت سؤال، کدام یک از موارد زیر، باید قرار بگیرد؟

$$\boxed{7} - \triangle 4 = \triangle 1$$

$$\boxed{2} \quad (۲)$$

$$\triangle 1 \quad (۱)$$

$$\text{pentagon } 5 - \triangle 2 = \triangle 2$$

$$\boxed{5} \quad (۴)$$

$$\text{pentagon } 1 \quad (۳)$$

$$\text{pentagon } 7 - \boxed{2} = ?$$

۱۴- آزمایشی که از سیستم های رادار حسگر طوفان متعلق به سازمان هواشناسی به عمل آمد، نشان داد که سیستم متعلق به حدود پنجاه سال قبل، نسبت به سیستم رایانه ای جدید، ۱۰ برابر قابل اعتمادتر است. بنابراین فناوری به کار رفته در سیستم جدید رادار، از پیچیدگی و کارآمدی کمتری نسبت به فناوری به کار رفته در رادار پنجاه سال قبل برخوردار است. (iranarze.ir) نتیجه گیری فوق، به کدامیک از فرضیه های ضعیف زیر، وابسته است؟ (iranarze.ir)

- (۱) میزان پیچیدگی و کارآمدی فناوری به کار رفته در رادارهای تشخیص طوفان، از روی قابلیت اعتماد سیستم، قابل تعیین است
  - (۲) سخت افزار رایانه ای، در حال حاضر عنصر اصلی سیستم های رادار جدید تشخیص طوفان هستند که توسط سازمانهای پیش بینی هوا استفاده می شوند
  - (۳) قابلیت اعتماد سیستم های رادار تشخیص طوفان، با دقت آنها در پیش بینی الگوهای آب و هوایی، قابل تعیین است.
  - (۴) قابلیت اعتماد سیستم های رادار تشخیص طوفان، با تعداد دفعات خرابی آن ها، قابل تعیین است.
- ۱۵- در یک جامعه نسبت زن ها به مرد ها برابر ۲ به ۵ میباشد و همچنین نسبت افراد بیمار به سالم ۳ به ۸ است. حداقل چه کسری از افراد سالم زن هستند؟

$$\frac{1}{56} \quad (۴)$$

$$\frac{1}{77} \quad (۳)$$

$$\frac{1}{22} \quad (۲)$$

$$\frac{25}{77} \quad (۱)$$

## فصل هفتم: سوالات استخدامی آشنایی با خدمات الکترونیکی بانکی تالیف ایران عرضه

۱- کدام تعریف برای بانکداری الکترونیک کاملتر است؟ (iranarze.ir)

- (۱) انجام عملیات بانکی با استفاده از اینترنت
- (۲) انجام عملیات الکترونیک با بستر الکترونیکی بعد از گسترش تجارت الکترونیکی
- (۳) نوعی تجارت الکترونیک که ارتباطی به خدمات مالی ندارد (۴) همه موارد

۲- ..... عمده ترین دستاوردهای به کارگیری فناوری ارتباطات در زمینه های اقتصادی است. (iranarze.ir)

- (۱) تجارت الکترونیک
- (۲) تجارت هوشمند
- (۳) مدیریت رایانه
- (۴) افزایش ارزش سهام

۳- ISO ۹۰۰۱ چه سازمانی بود و در چه سالی تاسیس شد؟ (iranarze.ir)

- (۱) سازمانی که به منظور تهیه تدوین و نظارت بر استانداردهای اینترنت در سال ۱۹۸۰ تاسیس شد.
- (۲) سازمانی به منظور تهیه و تدوین و نظارت و استانداردهای اینترنت که در سال ۱۹۹۲ تاسیس شد.
- (۳) سازمانی به منظور تبلیغات اینترنتی که در سال ۱۹۹۹ تاسیس شد.
- (۴) یک جامعه اینترنتی که به منظور نظارت بر تراکنش های تجارت الکترونیکی در سال ۱۹۹۸ تاسیس شد

۴- معاملات تهاتری خالص نام دیگری است برای نظام های ..... بانکداری الکترونیک. (iranarze.ir)

- (۱) پایاپای کالا به کالا
- (۲) پول کلایی
- (۳) پول اعتباری
- (۴) گزینه ۲ و ۳

۵- کدام مدل بیان کننده ارتباط بین دو یا چند سازمان، موسسه اقتصادی می باشد؟ (iranarze.ir)

- (۱) B۲C
- (۲) B۲B
- (۳) C۲B
- (۴) C۲C



۶- در کدام دوره اطلاعات بانکی شعب در سیستم های اطلاعاتی مرکزی میشود؟ (iranarze.ir)

- (۱) اتوماسیون پشت باجه مرحله اول  
(۲) دوره دوم اتوماسیون پشت باجه  
(۳) دوره سوم متصل کردن مشتریان به حساب هایشان  
(۴) یکپارچه سازی سیستم ها و مرتبط کردن مشتری با عملیات بانکی

۷- در کدام یک به یک سیستم امنیتی قوی نیاز است و بالاترین سطح ریسک را دارد؟ (iranarze.ir)

- (۱) تراکنش  
(۲) ارتباطات و اطلاع رسانی  
(۳) خدمات رسانی در سیستم  
(۴) تراکنش

۸- کدام مورد امکان ارتباط پایانه پرداخت الکترونیکی و فروشگاه با رایانه مشتری را ایجاد می کند؟ (iranarze.ir)

- (۱) انواع کارت های بانکی  
(۲) پایانه پوز فروشگاه  
(۳) سامانه پرداخت خرید اینترنتی  
(۴) امضای الکترونیک

۹- کدام یک از خطرات استفاده از درگاه های اینترنتی است؟ (iranarze.ir)

- (۱) استفاده از کارت توسط دارنده کارت  
(۲) ماقبت از رمزهای کارت  
(۳) عدم استفاده از رمزهای قابل حدس  
(۴) قرار دادن کارت در اختیار فروشنده

۱۰- کدام یک از بد افزارهای زیر مهاجم آدرس جعلی خود را در سیستم قربانی قرار می دهد؟ (iranarze.ir)

- (۱) حملات درگاه الکترونیک  
(۲) حملات فیشینگ  
(۳) دستکاپ فیشینگ  
(۴) حملات درگاه جعلی

۱۱- چرا نباید هنگام انجام تراکنش های مالی از وی پی ان استفاده کنیم؟ (iranarze.ir)

- (۱) با هدف افزایش امنیت استفاده از درگاه های بانکداری اینترنتی  
(۲) با هدف پیشگیری از تقلب در سایتهای مورد استفاده

- (۳) با هدف جلوگیری از ورود بدافزار  
(۴) با هدف پیشگیری از ورود کی لاگرها

۱۲- عمده ترین دستاورد به کارگیری فناوری اطلاعات و ارتباطات در زمینه های اقتصادی چیست؟ (iranarze.ir)

- (۱) اقتصاد الکترونیک  
(۲) تجارت الکترونیک  
(۳) استفاده از خدمات آنلاین  
(۴) فعالیت های بنگاه های کوچک تجاری

۱۳- کدام یک از مزایای تجارت الکترونیک نیست؟ (iranarze.ir)

- (۱) جهانی شدن تجارت الکترونیک  
(۲) افزایش قیمت منابع جهت خرید  
(۳) حذف محدودیت های زمانی و مکانی  
(۴) دسترسی آسان به اطلاعات

۱۴- کدامیک از معایب اجرای بانکداری الکترونیک از طریق تلفن های عادی است؟ (iranarze.ir)

- (۱) پرهزینه بودن  
(۲) نداشتن سرعت عمل  
(۳) پایین بودن ضریب امنیت  
(۴) کاربر پسند نبودن

۱۵- کدام مورد از موانع اصلی گسترش سیستم بانکداری الکترونیک در ایران می باشد؟ (iranarze.ir)

- (۱) عدم توجه کافی به مسائل فرهنگی  
(۲) عدم توجه به مسائل امنیتی  
(۳) عدم حمایت دولت  
(۴) همه موارد

## فصل هشتم: سوالات استخدامی بانکداری داخلی کاربردی تالیف ایران عرضه

۱- نخستین تجربه بانکی به شکل جدید آن در..... و توسط .....تحقق یافت. (iranarze.ir)

- (۱) در کشور آلمان و توسط جان کالون  
(۲) در کشور فرانسه توسط پروتستان ها  
(۳) در ایتالیا توسط جان لائو  
(۴) در فرانسه توسط جان لائو

۲- کدام گزینه درباره حسابهای دولتی درست نیست؟ (iranarze.ir)

- (۱) حسابهایی هستند که توسط خزانه داری وزارت دارایی معرفی میگردند.  
(۲) افتتاح حساب قرض الحسنه پس انداز برای حسابهای دولتی ممنوع است.  
(۳) افتتاح حسابهای سپرده گذاری بلند مدت و کوتاه مدت برای حسابهای دولتی ممنوع است.  
(۴) دستگاههای دولتی مجاز به افتتاح هر نوع حسابی هستند.

۳- کدام گزینه درست است؟ (iranarze.ir)

هر کس مرتکب بزه صدور چک بلا محل گردد به شرح ذیل محکوم خواهد شد.

- (۱) چنانچه مبلغ مندرج در متن چک بیشتر از ۱۰/۰۰۰/۰۰۰ ریال باشد به حبس تا حداقل ۶ ماه محکوم خواهد شد.
- (۲) چنانچه مبلغ مندرج در متن چک از ۱۰/۰۰۰/۰۰۰ ریال تا ۵۰/۰۰۰/۰۰۰ ریال باشد به حبس از شش ماه تا یک سال محکوم خواهد شد
- (۳) چنانچه مبلغ مندرج در متن چک از ۵۰/۰۰۰/۰۰۰ ریال کمتر باشد به حبس تا دو سال محکوم خواهد شد.
- (۴) هیچکدام

۴- صندوق های مورد استفاده بانکها برای نگهداری وجه نقد معمولاً دارای چند قفل و رمز هستند؟ (iranarze.ir)

- (۱) دو قفل و یک رمز
- (۲) یک قفل و یک رمز
- (۳) دو قفل یا دو قفل همراه یک رمز
- (۴) یک قفل یا یک قفل همراه با یک رمز

۵- کدام گزینه تفاوت سفته و برات را بیان می کند؟ (iranarze.ir)

- (۱) در تنظیم برات معمولاً سه نفر و در سفته دو نفر شرکت دارند.
- (۲) برای صدور برات وجود محل لازم است در صورتیکه برای سفته وجود محل ضرورت ندارد.
- (۳) سفته نماینده دین مسلم صادر کننده است در حالیکه برات چنین نیست.
- (۴) همه موارد

۶- بانکداری اسلامی علی الاصول مبتنی بر ..... می باشد. (iranarze.ir)

- (۱) اصل مشارکت در سود
- (۲) اصل مشارکت در سپرده گذاری
- (۳) اصل مشارکت در سود و زیان
- (۴) اصل مشارکت در برقراری ارتباط با مشتری

۷- تعهدات و یا تسهیلاتی اعطایی به هر متقاضی یا ذینفع واحد که مبلغ آن از ۱۰ درصد سرمایه بانک بیشتر باشد ..... نامیده می شود. (iranarze.ir)

- (۱) تسهیلات کلان
- (۲) تسهیلات خرد
- (۳) تسهیلات عادی
- (۴) همه موارد

۸- عمده ترین تحول در نظام بانکداری فعلی چیست؟ (iranarze.ir)

- (۱) پیاده کردن قانون اسلامی در اقتصاد
- (۲) حذف بهره
- (۳) حذف زیان از معاملات
- (۴) همه موارد

۹- کدام گزینه درباره قرض الحسنه ازدواج صحیح نیست؟ (iranarze.ir)

- (۱) بازپرداخت آن در ۶۰ ماه است.
- (۲) تنها به ازدواج اول تعلق نمی گیرد
- (۳) تسهیلات قرض الحسنه است.
- (۴) از تاریخ تنظیم سند عقد یک سال بیشتر نگذشته باشد

۱۰- تسهیلات اجاره بها به شرط تملیک در بخش خدمات به منظور خرید دفتر کار به چه کسانی تعلق می گیرد؟ (iranarze.ir)

- (۱) پزشکان و دندانپزشکان، مهندسی و کشاورزان
- (۲) مهندسی و کلا و پزشکان
- (۳) دامداران، مهندسی و پزشکان
- (۴) تمامی مشاغل

۱۱- کدام گزینه در باره مضاربه (عقد مضاربه) درست نیست؟ (iranarze.ir)

- (۱) بانکها در امر واردات مجاز به مضاربه با بخش خصوصی می باشند.
- (۲) سرمایه مضاربه ختماً می بایست نقد و عین مشخص باشد
- (۳) مضاربه از عقود جایز است
- (۴) عقد مضاربه از عقود معینه بوده و شرایط احکام خاصی بر آن حاکم می باشد.

۱۲- مدت تقسیط اقساط تسهیلات جعاله برای تعمیر خودروهای سرمایه ای و تعمیر مسکن به ترتیب حداکثر چه مدت است؟ (iranarze.ir)

- (۱) خودرو ۱۸ ماه/ مسکن ۲۴ ماه
- (۲) خودرو ۱۲ ماه/ مسکن ۳۶ ماه
- (۳) خودرو یک سال/ مسکن دو سال
- (۴) خودرو هر دو ۱۸ ماه

۱۳- قرار داد استنصاع برای تامین مالی طرحهای انفرادی به دلیل ..... می تواند بالاترین کاربرد را داشته باشد. (iranarze.ir)

- (۱) محدود بودن مبلغ و حجم پروژه
- (۲) بومی بودن تکنولوژی احداث پروژه
- (۳) مدت زمان پایین اجزای پروژه و تحویل طرح یا کالا
- (۴) همه موارد

۱۴- با توجه به نکات مهم در صدور ضمانتنامه ها کدام گزینه صحیح نیست؟ (iranarze.ir)

- (۱) کارمزد صدور ضمانتنامه در قبال ۵۳٪ وجه نقد در کلیه موارد مقطوع ۸۰۰/۰۰۰ ریال تعیین گردیده است.
- (۲) کارمزد صدور ضمانتنامه نسبت به کل مبلغ ضمانتنامه پس از کسر سپرده نقدی محاسبه و سپس مابقی بر اساس نرخ های مربوط به نوع وثایق محاسبه میگردد.

۳) حداقل کارمزد ضمانتنامه های ریالی بر اساس نرخهای فوق الاشاره در کلیه موارد ۵۰۰/۰۰۰ ریال تعیین گردیده است.

۴) در صورت تغییر در مبالغ ضمانتنامه کارمزد مربوطه نسبت به مابه التفاوت مبلغ با توجه به نوع وثیقه برای مدت باقیمانده تا سر رسید محاسبه شده و وصول یا مسترد خواهد شد.

۱۵- سهم خسارت تاخیر تادیه روز شمار از زمان انتقال به سر فصل مانده بدهی به سر فصل مطالبات مشکوک الوصول تا زمان وصول چگونه محاسبه می شود؟

۱) کل خسارت تاخیر تادیه تا روز وصول × مبلغ واریز شده = سهم تاخیر تادیه از مبلغ وصول شده

کل خسارت تاخیر تادیه تا روز وصول - اصل بدهی

۲) کل خسارت تاخیر تادیه تا روز وصول + مبلغ واریز شده = سهم تاخیر تادیه از مبلغ وصول شده

کل خسارت تاخیر تادیه تا روز وصول × اصل بدهی

۳) کل خسارت تاخیر تادیه تا روز وصول - مبلغ واریز شده = سهم تاخیر تادیه از مبلغ وصول شده

کل خسارت تاخیر تادیه تا روز وصول × اصل بدهی

۴) کل خسارت تاخیر تادیه تا روز وصول × مبلغ واریز شده = سهم تاخیر تادیه از مبلغ وصول شده

کل خسارت تاخیر تادیه تا روز وصول × اصل بدهی

## فصل نهم: سوالات استخدامی دانش علوم بانکی نالیف ایران عرضه

۱- شرکت های سهامی عام و سهامی خاص جزء ..... است. (iranarze.ir)

۱) موسسات اعتباری بانکی      ۲) موسسات اعتباری غیر بانکی عمومی      ۳) موسسات اعتباری غیر بانکی خصوصی      ۴) موسسات بانکی خصوصی

۲- هیئت مدیره به پیشنهاد ..... و تصویب ..... انتخاب می شود. (iranarze.ir)

۱) شورای عالی مجمع فوق العاده      ۲) شورای عالی مجمع عمومی بانک ها      ۳) شورای عالی شورای عالی      ۴) مجمع عمومی شورای عالی

۳- ..... فقط می تواند در قالب شرکت های سهامی عام کار کند. (iranarze.ir)

۱) موسسات اعتباری بانکی      ۲) موسسات اعتباری غیر بانکی عمومی      ۳) موسسات اعتباری غیر بانکی خصوصی      ۴) بانک مرکزی

۴- تعهداتی که انتظار می رود طی سال بعد از محل دارایی های موجود پرداخت تسویه یا خدمات موضوع آن انجام شود بدهی های ..... نام دارد.

۱) بلند مدت      ۲) جاری      ۳) کوتاه مدت      ۴) اعتباری

۵- ..... نشان دهنده رابطه مالی بین واحدها یا مانده بدهکار می باشد و به دو بخش صادره و وارده تقسیم می شود. (iranarze.ir)

۱) حساب مرکزی      ۲) حساب بدهکاران موقت      ۳) حساب وجه در راه      ۴) حساب صندوق

۶- ..... در سطح عمومی قیمت ها و در نتیجه در تغییر در ارزش پول تاثیر مستقیم دارند. (iranarze.ir)

۱) نقدینگی      ۲) شبه پول      ۳) سپرده      ۴) حجم پول

۷- ..... در سال ۱۳۶۷ موجب امتیازی که از طرف ناصرالدین شاه به این گروه به وجود آمد. (iranarze.ir)

۱) بانک جدید شرق      ۲) بانک سپه      ۳) بانک شاهی      ۴) بانک ملی

۸- سپرده ها به کدام اصطلاح نزدیک تر هستند؟ (iranarze.ir)

۱) اسکناس و مسکوک      ۲) شبه پول      ۳) پول واسطه      ۴) پول تحریری

۹- اعضای مجمع عمومی بانک ها شامل چند عضو است؟ (iranarze.ir)

۵ (۱) ۳ (۲) ۶ (۳) ۷ (۴)

۱۰- رسیدگی و تصویب بودجه و آیین نامه های داخلی بر عهده چه کسی است؟ (iranarze.ir)

۱) بانک مرکزی ۲) شورای پول و اعتبار ۳) بانک ملی ۴) بانک سپه

۱۱- در صورتی که وصول کسری صندوق و عملیات حسابداری آن به صورت فوری امکان نداشته باشد باید مبلغ مذکور از ..... تأمین و حداکثر ظرف مدت

..... ترتیب دریافت کسری صندوق از متصدی امور بانکی داده شود. (iranarze.ir)

۱) متصدی امور بانکی - چهار روز ۲) متصدی امور بانکی - سه روز ۳) از محل بدهکاران - چهار روز ۴) از محل بدهکاران موقت - سه روز

۱۲- دسته چک های تضمین شده با نام شهری چند برگی می باشند و بنا به درخواست چه کسی صادر می گردند؟ (iranarze.ir)

۱) ده برگی درخواست مشتریان ۲) بیست و پنج برگی درخواست مشتریان ۳) ۵۰ برگی درخواست مدیر شعبه ۴) ۱۰۰ برگی درخواست مدیر شعبه

۱۳- اشخاص حقوق خصوصی به چند دسته تقسیم می شوند؟ (iranarze.ir)

۱) دو دسته ۲) سه دسته ۳) چهار دسته ۴) پنج دسته

۱۴- اگر محل سکونت شخصی غیر از محل امور باشد اقامتگاه او ..... می شود. (iranarze.ir)

۱) محلی که در آن به دنیا آمده است ۲) محل سکونت شخصی ۳) محل مرکز مهم امور او ۴) هر کدام بسته به نظر دادگاه

۱۵- کدام یک از گزینه های زیر در رابطه با چک اشتباه می باشد؟ (iranarze.ir)

۱) هرگاه در متن چک شرطی برای پرداخت قید شده باشد بانک به آن شرط ترتیب اثر خواهد داد.

۲) چک فقط در تاریخ مندرج در آن یا پس از تاریخ مذکور قابل وصول از ما نخواهد بود.

۳) هرگاه چک به علتی از علل مندرج در ماده ۳ پرداخت نگردد بانک مکلف است در برگ مخصوصی مشخصات چک و هویت و نشانی کامل صادرکننده آن را ذکر کند.

۴) در صورتی که موجودی حساب صادر کننده چک کمتر از مبلغ چک باشد به تقاضای دارنده چک بانک مکلف است مبلغ موجود در حساب را به دارنده چک بپردازد

ایران عرضه

مرجع نمونه سوالات

آزمون های استخدامی

به همراه پاسخنامه تشریحی

خدمات ایران عرضه:

- ارائه اصل سوالات آزمون های استخدامی
- پاسخنامه های تشریحی سوالات
- جزوات و درسنامه های آموزشی

برای خرید پاسخنامه گلچین سوالات استخدامی بانک رفاه کارگران اینجا بزنید

برای خرید پکیج جامع آزمون استخدامی بانک رفاه کارگران اینجا بزنید

« انتشار یا استفاده غیر تجاری از این فایل، بدون حذف لوگوی ایران عرضه، مجاز می باشد »

