

## سوالات استخدامی

## طرح شهید زین الدین

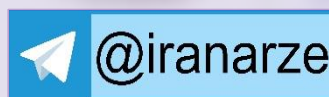
### توضیحات:

- ویژه آزمون طرح شهید زین الدین
- حیطه عمومی و اختصاصی
- بخشی از محصول
- شامل ۴۳۱ سوال

برای دانلود رایگان جدیدترین سوالات استخدامی طرح شهید زین الدین، اینجا بزنید

همچنین جهت مشاهده آخرین اخبار آزمون استخدام طرح شهید زین الدین، اینجا بزنید

« انتشار یا استفاده غیر تجاری از این فایل، بدون حذف لوگوی ایران عرضه، **مجاز** می باشد »



## فهرست مطالب (برای مراجعه به هر بخش، روی آن بزنید)

### حیطه عمومی

#### ❖ فصل اول: تسلط بر مبانی اسلامی انقلابی

- سوالات استخدامی ولایت فقیه امام خمینی (ره) موسسه تنظیم و نشر آثار امام خمینی (ره)  
تالیف ایران عرضه ۱۴۰۲ - صفحه ۳
- سوالات استخدامی طرح کلی اندیشه اسلامی در قرآن تالیف ایران عرضه ۱۴۰۲ - صفحه ۱۰
- سوالات استخدامی جدال دو اسلام امام خمینی (ره) تالیف ایران عرضه ۱۴۰۲ - صفحه ۲۱

#### ❖ فصل دوم: دانش عمومی و آشنایی با نظام اداری

- سوالات استخدامی قانون اساسی ایران تالیف ایران عرضه ۱۴۰۲ - صفحه ۲۸
- سوالات استخدامی بیانیه گام دوم انقلاب اسلامی آیت الله خامنه ای تالیف ایران عرضه ۱۴۰۲  
- صفحه ۳۲

#### ❖ فصل سوم: هوش و توانمندی های ذهنی و GMAT

- سوالات استخدامی هوش، استعداد تحصیلی و توانمندی های عمومی - صفحه ۳۶
- سوالات استخدامی GMAT - صفحه ۴۹

### حیطه اختصاصی برخی از مشاغل آزمون طرح شهید زین الدین

- ❖ فصل چهارم: سوالات استخدامی سیاست های کلی نظام در برنامه هفتم با اولویت پیشرفت اقتصادی  
توام با عدالت تالیف ایران عرضه ۱۴۰۳ - صفحه ۶۰
- ❖ فصل پنجم: سوالات استخدامی سند چشم انداز ۱۴۰۴ - صفحه ۶۲
- ❖ فصل ششم: سوالات استخدامی آمایش سرزمین تالیف ایران عرضه ۱۴۰۳ - صفحه ۶۷

۵ سوال اول این بخش با پاسخنامه تشریحی می باشد که به عنوان نمونه زده شده است. در صورت تمایل به دریافت جواب تشریحی سوالات فصل های ۱ الی ۶ می بایستی این محصول را از سایت ایران عرضه خریداری نمایید.

## ❖ فصل اول: تسلط بر مبانی اسلامی انقلابی

### ➤ سوالات استخدامی ولایت فقیه امام خمینی (ره) موسسه تنظیم و نشر آثار

#### امام خمینی (ره) تالیف ایران عرضه ۱۴۰۲

۱- اسلام چگونه دینی است؟ (iranarze.ir)

- (۱) دین افراد مجاهدی که به دنبال حق و عدالتند.  
(۲) دین کسانی که آزادی و استقلال می خواهند.  
(۳) دین همه مردم اعم از مجاهد و غیر مجاهد است.  
(۴) مورد ۱ و ۲

پاسخ سایت ایران عرضه: گزینه ۴

اسلام، دین افراد مجاهدی است که به دنبال حق و عدالتند، دین کسانی که آزادی و استقلال می خواهند، مکتب مبارزان و مردم ضد استعمار است.

۲- بر طبق سخنان امام خمینی مشروطه خواهان چگونه قانون اساسی را تدوین کردند؟ (iranarze.ir)

- (۱) مجموعه حقوقی بلژیکی ها را از سفارت بلژیک قرض کردند و با مجموعه های حقوقی غرب ترمیم کردند.  
(۲) مجموعه حقوقی فرانسه و انگلیس را قرض کردند و مجموعه حقوقی بلژیکی را ضمیمه آن کردند.  
(۳) نقایص قانون اساسی را با مجموعه های حقوقی غرب و انگلیس ترمیم نمودند.  
(۴) مجموعه حقوقی بلژیکی ها را از سفارت بلژیک قرض کردند، و نقایص آنها از مجموعه های حقوقی فرانسه و انگلیس به اصطلاح «ترمیم» نمودند.

پاسخ سایت ایران عرضه: گزینه ۴

وقتی که میخواستند در اوایل مشروطه قانون بنویسند و قانون اساسی را تدوین کنند، مجموعه حقوقی بلژیکی ها را از سفارت بلژیک قرض کردند، و چند نفری قانون اساسی را از روی آن نوشتند و نقایص آنها از مجموعه های حقوقی فرانسه و انگلیس به اصطلاح «ترمیم» نمودند! و برای گول زدن ملت بعضی از احکام اسلام را ضمیمه کردند! اساس قوانین را از آنها اقتباس کردند و به خورد ملت دادند (متعلق به سایت ایران عرضه)

۳- چرا در اسلام برای رباخواری و بانکداری توام با رباخواری قانون و مقررات تعیین نشده است؟ (iranarze.ir)

- (۱) زیرا اسلام سلطنت و ولایت عهدی ندارد و رباخواری مربوط به سلطنت است.  
(۲) چون اساساً اینها را حرام کرده است  
(۳) اسلام سلطنت و ولایت عهدی ندارد بنابراین اسلام ناقص است.

(۴) ۱ و ۳

۴- در رابطه با این فرموده امام که " قوانین فعلی دادگستری ، برای مردم نتیجه ای ندارد". کدام گزینه صحیح نیست؟

(۱) کمتر کسی به حقوق حقه خود می رسد .

(۲) وقت و کیفیت زندگی و کارهای طرفین در آن ملاحظه نشده است.

(۳) استفاده های غیرمشروع از آنها میشود.

(۴) سریعتر ولی به ناحق رسیدگی می شود.

پاسخ سایت ایران عرضه: گزینه ۴

قوانین فعلی دادگستری برای مردم جز زحمت ، جز بازماندن از کار و زندگی و جز اینکه استفاده های غیر مشروع از آنها بشود نتیجه ای ندارد. در این قوانین کمتر کسی به حقوق حقه خود می رسد تازه در حل و فصل دعاوی همه جهات باید رعایت شود نه اینکه فقط هر کس به حق خود برسد . بای ضمنا وقت مردم، کیفیت زندگی و کارهای طرفین دعوی ملاحظه شود و هر چه ساده تر و سریع تر انجام بگیرد.

۵- در قانون اسلام دلیل حضور تعدادی از مومنان به هنگام اجرای حدود چیست؟ (iranarze.ir)

(۱) از عقوبت آنان عبرت گیرند. (۲) از جمله آداب کیفر خاطی برشمرده شده است.

(۳) فتوای آن به آیه ۲ از سوره نور باز می گردد. (۴) همه گزینه ها.

پاسخ سایت ایران عرضه: گزینه ۴

در قانون اسلام حضور تعدادی از مومنان به هنگام اجرای حدود از جمله آداب کیفر خاطی برشمرده شده است فقهای شیعه بر رعایت این سنت در زمان اجرای حد زنا و قیادت و غضف تصریح نموده اند و فتوای آن به آیه ۲ از سوره نور باز می گردد. «وگروهی از مؤمنان باید بر مجازات مرد و زن زناکار گواه باشند». وجه دیگر آن است که حاضران، از عقوبت آنان عبرت گیرند و هر آن کس در او میلی بدین کار هست یا آنرا مرتکب شده است، از ارتکاب باز ایستد.

۶- عدالت چه معناست؟ (iranarze.ir)

(۱) یک صفت راسخ نفسانی است .

(۲) عدالت یعنی شخص را بر ملازمت تقوا یعنی ترک محرمات و انجام واجبات وا دارد.

(۳) عدالت یعنی پیروی از عادات نیکو و دوری از زشتی های رفتاری.

(۴) ۱ و ۲

۷- به گفته اما خمینی استعمارگران با تبلیغات خود، به نظر ما آوردند که اسلام حکومتی ندارد ، دلیل این تبلیغات چه بود؟

(۱) برای اینکه ثابت کنند اسلام حکومتی ندارد و قانونگذار نیست.

(۲) برای اینکه ثابت کنند اسلام مجری ندارد و قانونگذار نیست.

(۳) برای بازداشتن مسلمین از سیاست و اساس حکومت.

(۴) همه موارد

۸- اگر پیامبر اکرم ..... تعیین نکند، رسالت خویش را به پایان نرسانده است. (iranarze.ir)

(۱) حکومت (۲) خلیفه (۳) قانون (۴) احکام

۹- دلیل آنکه رسول اکرم خلیفه تعیین کرد چه بود؟ (iranarze.ir)

(۱) مسلمانان ولی داشته باشند. (۲) برای بیان عقاید

(۳) برای بیان احکام (۴) اجرای احکام و تنفیذ قوانین

۱۰- کدام یک از تعاریف زیر صحیح نمی‌باشد؟ (iranarze.ir)

(۱) جزیه ، مالی است که اهل کتاب به حکومت اسلام می‌دهند و در ازای مال و جان و عرض ایشان از سوی حکومت حمایت میشوند.

(۲) خراج مقدار مالیاتی است که حکومت اسلامی بر زمین‌هایی که مسلمانان بر روی آن کشت و کار دارند بسته می‌شود .

(۳) خمس یکی از حقوق واجب در اسلام است که احراز شرایط به اموال هفتگانه تعلق می‌گیرد.

(۴) همه موارد صحیح است.

۱۱- زکات شامل کدام مورد نمیشود؟ (iranarze.ir)

(۱) شتر (۲) زمین (۳) گوسفند (۴) نقره

۱۲- به گفته امام سادات از کدام صندوق امرار معاش می‌کنند؟ (iranarze.ir)

(۱) صندوق زکات (۲) صندوق صدقات (۳) صندوق تبعات (۴) صندوق خمس

۱۳- "آیه و اَعِدُوا لَهُمْ ما اسْتَطَعْتُمْ مِنْ قُوهِ" ، بر چه چیزی دلالت دارد؟ (iranarze.ir)

(۱) قدرت تهیدستان (۲) استطاعت مالی اسلام (۳) لزوم تشکیل حکومت (۴) مصالح مسلمین

۱۴- همه گزینه های زیر از دلایلی است که نباید بگذاریم حکومتها به صورت ضد دینی یا غیر اسلامی ادامه پیدا کنند به جز؟

(۱) چون برقراری نظام سیاسی اسلامی به معنای بی اجرا ماندن نظام سیاسی اسلام است.

(۲) به این دلیل که هر نظام سیاسی غیر اسلامی، نظامی شرك آمیز است چون حاکمش «طاغوت» است

(۳) به این دلیل که موظفیم شرایط اجتماعی مساعدی برای تربیت افراد مومن و با فضیلت فراهم سازیم

(۴) موظفیم آثار شرک را از جامعه مسلمانان و از حیات آنان دور کنیم

۱۵- استعمارگران بخاطر تحمیل نظامات اقتصادی ظالمانه مردم را به چند دسته تقسیم کردند؟ (iranarze.ir)

(۱) دو دسته ظالم و مظلوم (۲) دو دسته فقیر و ثروتمند

(۳) دو دسته دیندار و بی‌دین (۴) هیچکدام

۱۶- به چه دلیل خدای حکیم " اولی الامر" قرار داده و به اطاعت آنها امر کرده است؟ (iranarze.ir)

(۱) اگر برای آنان امام برپا نگهدارنده نظم و قانون، خدمتگزار امین و نگهبان پاسدار و امانتداری تعیین نکند دین به کهنگی و

فرسودگی دچار خواهد شد.

- ۲) در حکمت خدای حکیم روا نیست که مردم، یعنی آفریده گان خویش را، بی رهبر و بی سرپرست رها کند.
- ۳) همه فرقه ها جز به وجود یک بر پا نگهدارنده نظم و قانون و یک رئیس و رهبر نتوانسته اند به حیات خود ادامه داده باقی بمانند.
- ۴) همه موارد.

**۱۷- استبداد چه نوع حکومتی است؟ (iranarze.ir)**

- ۱) حکومتی که مردم در آن حق رای داشته باشند اما نماینده قانونی ندارند.
- ۲) نامحدود بودن قدرت فرمانروا از لحاظ قانونی
- ۳) نبود دستگاه متمرکز جهت سرکوب هر نوع مخالفت.
- ۴) قدرت حکومت ناشی از قدرت مردم است.

**۱۸- منظور از سلطنت مطلقه چیست؟ (iranarze.ir)**

- ۱) اقتدارات شاه توسط مجلس قانون گذاری محدود می شود و وضع قوانین به نمایندگان مردم تفویض میگردد.
- ۲) حکومت سلطنتی که برای همیشه نامحدود است.
- ۳) تمامی اقتدارات دولتی در دست شاه بوده و قوای سه گانه از او ناشی می شود.
- ۴) شکلی است از نظام حکومتی که در آن رئیس کشور، عنوان پادشاه یا ملکه دارد.

**۱۹- پس از شرایط عامه، مثل عقل و تدبیر دو شرط اساسی زمامدار، کدامها هستند؟ (iranarze.ir)**

- ۱) علم به چگونگی ملایک - تدبیر
- ۲) تدبیر - علم به قانون
- ۳) علم به قانون و عدالت
- ۴) عدل و عدالت

**۲۰- ولایت به چه معناست؟ (iranarze.ir)**

- ۱) ولایت یعنی مقام غیر عادی که او را از حد انسان عادی بالاتر ببرد.
- ۲) یعنی حکومت و اداره کشور و اجرای قوانین شرع مقدس.
- ۳) ولایت یعنی مقام فقها همان مقام ائمه
- ۴) همه موارد

**۲۱- حکم اراضی خراجیه یا زمینهای خراجی چیست؟ (iranarze.ir)**

- ۱) این زمینها به تمام مسلمین تعلق دارد.
- ۲) خرید و فروش آن ممنوع است.
- ۳) حکومت اسلامی می تواند آنها را واگذار کند و در برابر استفاده از آن مالی به اسم خراج دریافت کند.
- ۴) همه موارد

**۲۲- واجب کفایی چیست؟ (iranarze.ir)**

- ۱) انجام آن برای یکایک مکلفین الزامی است.
  - ۲) انجام دادن یکی ، موجب سقوط تکلیف از عهده دیگری نمی‌شود.
  - ۳) بجا آوردن نماز و روزه واجب کفایی است.
  - ۴) اگر شخص یا عده ای آن را انجام دهند از عهده دیگران ساقط می‌شود.
- ۲۳- پاسخ رسول الله در مقابل این سوال که جانشینان چه کسانی هستند، چه بود؟ (iranarze.ir)**

- ۱) کسانی که بعد از من می‌آیند و حدیث و سنت مرا نقل می‌کنند.
- ۲) کسانی که در زمان من می‌آیند و حدیث و سنت مرا خوانده و به مردم می‌آموزند.
- ۳) کسانی که حدیث و سنت مرا از دیگران می‌آموزند.
- ۴) هیچ کدام

**۲۴- گزینه صحیح را مشخص کنید: (iranarze.ir)**

- ۱) شیخ مفید از مجتهدینی است که نظر خودشان را در روایات ، به کار نمی‌برده‌اند.
- ۲) شیخ مفید و شیخ صروق از مجتهدینی هستند که نظر خودشان را در روایات به کار نمی‌برده‌اند.
- ۳) شیخ مفید از فقهای است که نظری درباره روایات نمی‌داده .
- ۴) شیخ صدوق از فقهای است که نظر خود را به کار نمی‌برده یا کمتر در روایات و اخبار به کار می‌برده است.

**۲۵- از نظر رسول الله صلی الله ، کدام دسته از محدثین بی‌ارزش هستند؟ (iranarze.ir)**

- ۱) محدثینی که به مرتبه اجتهاد نرسیده‌اند و فقط نقل حدیث می‌کنند و این امور را نمی‌دانند.
- ۲) کسانی که سنت واقعی رسول الله را نمی‌توانند تشخیص دهند.
- ۳) محدثینی که به مرتبه اجتهاد رسیده‌اند ولی سنت واقعی پیامبر را نمی‌دانند و حدیث را نقل قول میکنند.
- ۴) مورد ۱ و ۲

**۲۶- منظور از " الفقها أئمة رسل " ، چیست؟ (iranarze.ir)**

- ۱) یعنی کلیه اموری که به عهده پیغمبران است و همه مردم موظف و مامور انجام آن هستند.
  - ۲) یعنی کلیه اموری که به عهده پیغمبران است فقهای عادل موظف و مامور انجام آن هستند.
  - ۳) فقها امین پیامبرانند پس اموری که به عهده پیغمبران است عینا بر عهده فقها می‌باشد.
  - ۴) بخشی از اموری که به عهده پیغمبران است بر عهده فقها نیز می‌باشد.
- ۲۷- قضا یا دادرسی برای کسی است که این سه شرط یعنی ..... و ..... و ..... را داشته باشد.**

- ۱) عادل، دیندار و شجاعت.
- ۲) رئیس و عالم و عادل بودن
- ۳) رئیس و تقوا و عدالت باشد.
- ۴) عالم ، عادل ، شجاعت

۲۸- در حکومت شخصی مانند حضرت امیر علیه السلام در حکومت اسلامی خوف برای چه کسانی است؟ (iranarze.ir)

(۱) عموم مردم

(۲) کسانی که خائن هستند و ظالمند.

(۳) ستمگران و منافقین

(۴) دشمنان اسلام

۲۹- کدام گزینه در مورد امور حسبیه صحیح است؟ (iranarze.ir)

(۱) کارهای پسندیده‌ای که شرع خواهان تحقق آنها در جامعه است.

(۲) اموری که انجام آن برای همه افراد جامعه لازم است.

(۳) انجام امور حسبیه بر عهده حاکم شرع است.

(۴) خمس و زکات، نمونه ای از امور حسبیه می باشد.

۳۰- روایت ابوالبختری اشاره به چه موضوع مهمی دارد؟ (iranarze.ir)

" إِنَّمَا أَوْثَرُوا أَحَادِيثَ مِنْ أَحَادِيثِهِمْ "

(۱) ولایت قابل ارث و میراث است.

(۲) احادیث قابل ارث نیستند.

(۳) آنچه قابل ارث می باشد همان احکام و احادیث است

(۴) ولایت از نظر عقل قابل انتقال نیست.

۳۱- فئه باغیه به چه کسانی گفته می‌شود؟ (iranarze.ir)

(۱) کسانی که از اطاعت امام معصوم بیرون روند.

(۲) کسانی که بر ضد گروهی از مسلمانان به ناحق اقدام به جنگیدن کنند.

(۳) کسانی که حرامخواری کنند و مال مردم را غارت کنند

(۴) مورد ۱ و ۲

۳۲- در لایحه انجمن‌های ایالتی و ولایتی که از سوی دولت وقت به تصویب رسیده بود چه مواردی درج شده بود؟ ژ

(۱) در متن تصویب نامه شرط مسلمان بودن از شرایط انتخاب کنندگان و انتخاب شوندگان برداشته شده بود

(۲) در متن تصویب نامه "اسلام" از شرایط انتخاب کنندگان و انتخاب شوندگان برداشته شده بود

(۳) سوگند به "کتاب آسمانی" جایگزین سوگند به "قرآن" گردیده بود

(۴) ۲ و ۳



۳۳- در مورد موضوع زیر نوع حکم را مشخص کنید. (iranarze.ir)

"در خوردن گوشت مردار که حرام است اگر شخصی به خوردن آن مضطر گردید به میزان سد جوع، خوردن آن جایز می گردد."

(۱) حکم اولی (۲) حکم ثانوی (۳) حکم قطعی (۴) ۱ و ۲

۳۴- کدام گزینه درباره سخن امام خمینی درباره تقیه ، صحیح نیست؟ (iranarze.ir)

(۱) فقهای اسلام باید در موردی که برای دیگران تقیه است تقیه کنند.

(۲) تقیه مربوط فروع دین است.

(۳) تقیه برای حفظ اسلام و مذهب بود که اگر تقیه نمی کردند مذهب را باقی نمی گذاشتند.

(۴) وقتی که اصول اسلام و حیثیت اسلام در خطر است ، تقیه لازم نیست.



## ➤ سوالات استخدامی طرح کلی اندیشه اسلامی در قرآن تالیف ایران عرضه ۱۴۰۲

۱- عالم اسلامی..... ندارد عالم اسلامی همانی است که سعی می کند که بگیرد..... (iranarze.ir)

(۱) رهبانیت - غریق را (۲) غریق را - رهبانیت

(۳) گوشه گیری - روحانیت (۴) ترس دائمی - تارك دنیا

۲- چرا بر اساس آیه " وَ أَطِيعُوا اللَّهَ وَالرَّسُولَ لَعَلَّكُمْ تُرْحَمُونَ " قرآن سفارش به اطاعت از خدا و هم پیامبر نموده است؟

(۱) زیرا اطاعت از خداوند و پیامبر لازم است.

(۲) راهبان مسیحیت احبار یهود هم، ادعای عبودیت و اطاعت خدا را می کردند.

(۳) همه کس می توانند مدعی باشند که بنده خدا هستند و مطیع او.

(۴) برای اینکه مومنان مورد رحم پروردگار قرار گیرند.

(۱) ۲، ۱ (۲) ۴، ۳، ۲ (۳) ۳، ۲ (۴) ۳، ۱

۳ معنی آیه " وَ سَارِعُوا إِلَى مَغْفِرَةٍ مِّن رَّبِّكُمْ " این است: سبقت بجوئید به سوی ..... (iranarze.ir)

(۱) به سوی پروردگارتان از مغفرت تان (۲) از سوی پروردگارتان از سوی مغفرتی

(۳) به سوی مغفرتی از سوی پروردگارتان (۴) به سوی مغفرت آن به سوی پروردگارتان

۴- مغفرت یعنی چه؟ (iranarze.ir)

(۱) طلب بخشش از خدا

(۲) کسی را مورد لطف بی حساب قرار دادن

(۳) پر کردن خلاء هایی که زخم های روح انسان اند

(۴) به سخن توبه کردن

۵- (تهیه شده توسط ایران عرضه) انفال از آن خدا و از آن پیامبر است. منظور از انفال از آن خداست چیست؟ ژ

(۱) یعنی برای یک عده معینی از بندگان خدا نیست.

(۲) آنچه مال خداست در حقیقت مال بندگان خداست.

(۳) آن چیزی است که باید در مسیر اهداف الهی صرف شود.

(۴) مال عمومی است و در مصارف شخصی میتوان مصرف نمود.

(۱) ۲، ۱ (۲) ۳، ۲، ۱ (۳) ۴، ۳، ۲ (۴) ۴، ۱

۶- معنی توکل بر خدا کدام یک از موارد زیر است؟ (iranarze.ir)

(۱) دست روی دست گذاشتن تا خداوند خودش مشکل را درست کند.

(۲) در تکلیف ها و تعهد ها و مسئولیت ها به جای تکیه بر نیروی خود، معجزه خدا را مسئول دانستن.

۳) در همه حال اتکا و امید به خدا داشتن.

۴) در مواقع بحران و دشواری های زندگی تسلیم شدن.

۷- نشانه ایمان چیست؟ (iranarze.ir)

۱) نماز خواندن ۲) دعا و نیایش کردن

۳) نماز را در جامعه به پا داشتن ۴) قرآن خواندن

۸- اگر ایمان با آگاهی، منطق و روشن بینی های خاص باشد؛ ..... (iranarze.ir)

۱) از آسیب زمان مصون می ماند. ۲) به مقام و پول و شهرت و محبوبیت هم می رسد.

۳) سیل می آید و درخت های تناور را میبرد. ۴) باید آفتاب و مهتاب را نبیند تا بماند.

۹- از نظر قرآن خردمند چه کسی است؟ (iranarze.ir)

۱) در همه حال به یاد خدایند.

۲) در حال تفکر هستند.

۳) به زبان دل و زبان ظاهر می گویند پروردگار ما این را به بیهوده نیافریده است.

۴) همه موارد

۱۰- این آیه " حَسْبُنَا مَا وَجَدْنَا عَلَيْهِ آبَاءَنَا " (تنظیم توسط فروشگاه ایران عرضه) اشاره به کدام ایمان دارد؟

۱) ایمان آگاهانه ۲) ایمان متعصبانه

۳) ایمان مقلدانه ۴) ایمان خردمندانه

۱۱- ایمانی که در اسلام معتبر است ،ایمان ..... است. (iranarze.ir)

۱) اظهار ایمان به زبان و دل ۲) متعصبانه ۳) زاینده و تعهد آفرین ۴) مذهبی

۱۲- ویژگی نفع طلبان متجاوز ،کدام یک از موارد زیر است؟ (iranarze.ir)

۱) هم به فکر منافع خود و هم منافع جمع هستند.

۲) ایمان و عمل را تا آنجا می خواهند که به سود شخص آنهاست.

۳) ایمان دارند و به ایمان خود متعهد هستند.

۴) در هر زمان و در هر جای دین ایمان دارند.

۱۳- هدف رسالت ها و نبوت ها و بعثت ها کدام یک از موارد زیر است؟ (iranarze.ir)

۱) ایمان آوردن مردم به پیامبران ۲) بنده خاص خدا شدن

۳) تنها پرستش خداوند ۴) بالا بردن سطح فکر و اندیشه مردم

۱۴- چرا آن چیزی که به علت ها مربوط است ما به خدا نسبت می دهیم؟ (iranarze.ir)

۱) به خاطر اینکه خدا آفریننده علت هاست.

۲) وجود آورنده معلول ها علت ها هستند.

۳) وجود علت العلل مربوط به خداوند است.

۴) همه موارد

۱۵- معنی " از او پروا کند "مربوط به کدام یک از کلمات زیر است؟ (تهیه شده توسط ایران عرضه) (iranarze.ir)

۱) وَعَدَهُ (۲) فائِزَهُ (۳) وَبَيَّتَهُ (۴) وَبَخَشَهُ

۱۶- در قرآن درباره مؤمن و ایمان چند آیه وجود دارد؟ (iranarze.ir)

۱) ۱۰۲۰ آیه (۲) ۷۰۰ آیه (۳) ۶۵۰ آیه (۴) ۹۰۵ آیه

۱۷- یکی از ارکان خوشبختی انسان و از عناصر سعادت انسان چه چیزی است؟ (iranarze.ir)

۱) نجات از هر آنچه برای او ظلمت می آفریند. (۲) یافتن حقیقت.

۳) وجود شوق رسیدن به مقصود. (۴) تسلط بر موانع درونی انسان.

۱۸- کدام یک از موارد زیر جزء شرایط خوشبختی و سعادت انسان نیست؟ (iranarze.ir)

۱) بداند لغزش ها و خطاهایش قابل جبران و مورد بخشایش است.

۲) در مواجهه با دشمن ها و دشمنی ها به نیروهای نظامی خود متکی باشد.

۳) بر جبهه ها و صف های مخالف برتری و رجحان داشته باشد.

۴) از همه سختی ها و فشارها رسته و به مقصود و منظور خود نائل گردد.

۱۹- این مصرع شعر عطار " خود راه بگویدت که چون باید رفت " به کدام یک از آیات زیر اشاره دارد؟ (iranarze.ir)

۱) وَاشْدُدْ عَلَى الْعَزِيمَةِ جَوَانِحِي (۲) وَ جَاهِدُوا بِأَمْوَالِهِمْ وَأَنْفُسِهِمْ فِي سَبِيلِ اللَّهِ

۳) يَهْدِيهِمْ رَبُّهُمْ بِإِيمَانِهِمْ (۴) إِنَّ الَّذِينَ آمَنُوا وَعَمِلُوا الصَّالِحَاتِ

۲۰- (تنظیم توسط فروشگاه ایران عرضه) مفهوم این آیه قرآنی " لَنَهْدِيَنَّهُمْ سُبُلَنَا " با مفهوم کدام یک از آیات زیر نزدیک

است؟ (iranarze.ir)

۱) وَاشْدُدْ عَلَى الْعَزِيمَةِ جَوَانِحِي (۲) إِنَّ الَّذِينَ آمَنُوا وَعَمِلُوا الصَّالِحَاتِ

۳) وَ جَاهِدُوا بِأَمْوَالِهِمْ وَأَنْفُسِهِمْ فِي سَبِيلِ اللَّهِ (۴) يَهْدِيهِمْ رَبُّهُمْ بِإِيمَانِهِمْ

۲۱- چرا زندگی مشرک، همیشه توأم با اضطراب است؟ (iranarze.ir)

۱) زیرا خداوند غیر مومن را به نور نمی رساند. (۲) زیرا خداوند مشرک را هدایت نمی کند.

۳) زیرا مشرک از خداوند می ترسد. (۴) زیرا شناخت درستی از معرفت ندارد.

۲۲- اینکه همه مردم بتوانند با ایمنی کامل به حقوق و خواسته های مشروع خودشان نائل بیایند. مفهوم مربوط به کدام

یک از عبارت زیر است؟

۱) امنیت (۲) عدالت (۳) آزادی تفکر (۴) آزادی بیان

۲۳- نداشتن کدام نوید است که باعث کند شدن حرکت می شود و احتمال نرسیدن را زیاد می کند؟ (iranarze.ir)

- (۱) هدایت (۲) اطمینان (۳) پاداش اخروی (۴) ثمربخش بودن

۲۴- کدام یک از موارد زیر از نوید های قرآنی نیست؟ (iranarze.ir)

- (۱) هدایت (۲) نور (۳) پاداش دنیوی (۴) ثمربخش بودن

۲۵- با نازل شدن آیه " قَوْلٍ وَجْهَكَ شَطْرَ الْمَسْجِدِ الْحَرَامِ " (تهیه شده توسط ایران عرضه) مسلمانان چه کار کردند؟

- (۱) در مسجد الحرام صورت هایشان را شستند (وضو گرفتند)

- (۲) به سمت مسجد الحرام به راه افتادند.

- (۳) مسلمان ها به طرف مسجدالحرام نماز خواندند.

- (۴) مسلمان ها سنت آباد و اجدادی خود را در مسجدالحرام شکستند.

۲۶- و رهبانیته ابتدعوها ..... در این جمله کلمه ابتدعوها به چه معناست؟ (iranarze.ir)

- (۱) پیروی کردن (۲) بدعت ایجاد کردن (۳) دعا کردن (۴) همه موارد

۲۷- کلمه ابنا در آیه زیر به چه معناست و از کدام سوره آمده است؟ (iranarze.ir)

وَقَالَتِ الْيَهُودُ وَالنَّصَارَى نَحْنُ أَبْنَاءُ اللَّهِ

- (۱) پسران و فرزندان سوره مائده (۲) پسران سوره الكافرون

- (۳) فرزندان سوره بقره (۴) پسران و فرزندان سوره حجرات

۲۸- آن کسانی که خود را بنده خدا می دانند اما بنده فرمان قانون خدا نیستند..... (iranarze.ir)

- (۱) نمی توانند بگویند بنده خدا هستند (۲) از دین ترد می شوند

- (۳) می توانند توبه کنند (۴) باید جبران کنند

۲۹-رحمت خدا آن وقتی است که ملتی..... (iranarze.ir)

- (۱) ایمان داشته باشند. (۲) دعای فراوان کنند

- (۳) توبه کند (۴) به مسئولیت خود عمل کند.

۳۰- آیه شریفه زیر از کدام سوره است؟ (تنظیم توسط فروشگاه ایران عرضه) (iranarze.ir)

بَيْنَهُمْ ثُمَّ لَا يَجِدُوا فِي أَنْفُسِهِمْ حَرَجًا مِمَّا قَصَّيْتِ

- (۱) النساء (۲) الناس (۳) الكافرون (۴) المومنون

۳۱- در ایه زیر دنیا به چه چیزی تشبیه شده است؟ (iranarze.ir)

وَسَارِعُوا إِلَى مَغْفِرَةٍ مِنْ رَبِّكُمْ

- (۱) مزرعه (۲) ساحتی برای گشت و گذار (۳) مسابقه (۴) خانه

۳۲- در آیه شریفه زیر خدا از بندگان می خواهد در چه راهی سبقت بگیرند؟ (iranarze.ir)

إِلَى مَغْفِرَةٍ مِنْ رَبِّكُمْ وَجَنَّةٍ

(۱) در راه بهشت (۲) به سوی مغفرت پروردگار (۳) به سوی اسلام (۴) ۱ و ۲

۳۳- چرا می گوئیم گناه ضربت روح است؟ (iranarze.ir)

(۱) چون بخشی از بدن است.

(۲) چون روح هم مثل بدن کار می کند.

(۳) چون روح باید تعالی پیدا کند و گناه ان را باز می دارد.

(۴) گناه روح را سیاه می کند.

۳۴- انسان با گناه جان خود را از اوج انسانیت و تکامل و نقطه پرواز انسانی کمی منحنی می کند. منحنی یعنی.....

(۱) پایان (۲) دور (۳) پست کردن (۴) کثیف کردن

۳۵- (تهیه شده توسط ایران عرضه) خداوند می گوید انی لغفار این جمله کدام مفهوم را می رساند؟ (iranarze.ir)

(۱) ما غفاریم (۲) گناه با نیکی پاک نمی شود (۳) ما لجباز نیستیم (۴) ۱ و ۳

۳۶- توبه کردن در لمن تاب به چه معنی است؟ (iranarze.ir)

(۱) برگشتن (۲) دل خوش داشتن (۳) ایمان داشتن (۴) همه موارد

۳۷- بر اساس آیه زیر کسانی که در.....انفاق می کنند. (iranarze.ir)

الَّذِينَ يُنْفِقُونَ فِي السَّرَّاءِ وَالضَّرَّاءِ

(۱) رفاه (۲) خوشی و ناخوشی (۳) تنگدستی (۴) به وقت نیاز

۳۸- آیه زیر بخشی از آیات سوره..... است. (iranarze.ir)

الَّذِينَ يُنْفِقُونَ فِي السَّرَّاءِ وَالضَّرَّاءِ

(۱) سوره مبارکه ال عمران (۲) النسا (۳) الکافرون (۴) المومنون

۳۹- آیه زیر به معنی..... است. (iranarze.ir)

وَالْعَافِينَ عَنِ النَّاسِ

(۱) گذرکنندگان از مردم (۲) عفو کنندگان (۳) فروبرندگان (۴) ۱ و ۲

۴۰- آیه زیر در رابطه با تقوا (تنظیم توسط فروشگاه ایران عرضه) به چه معناست؟ (iranarze.ir)

أَوْ ظَلَمُوا أَنْفُسَهُمْ

(۱) ظلم کردن به نفس (۲) ذکر خدا (۳) انفاق کردن (۴) بخشیدن

۴۱- کدام یک ترجمه صحیح عبارت زیر است؟ (iranarze.ir)

وَيَخْشَى اللَّهَ

(۱) و از او عصبانی شود (۲) و از خدا بیم برد

(۳) و خشوع در برابر خدا (۴) عاجزانه در برابر خدا

۴۲- در آیه زیر یسئلونک به چه معناست؟ (iranarze.ir)

يَسْأَلُونَكَ عَنِ الْأَنْفَالِ

(۱) از تو می پرسند (۲) پرسیدند (۳) سوال کردند (۴) از او پرسیدند

۴۳- لِأُولِي الْأَلْبَابِ چه کسانی هستند؟ (iranarze.ir)

(۱) خردمندان (۲) نادانان (۳) اهل نماز (۴) بندگان خدا

۴۴- درآمد هایی که در جنگ نصیب مسلمانان می شود ..... است. (iranarze.ir)

(۱) انفاق (۲) انفال (۳) وقف (۴) بیت المال

۴۵- ..... به طور خلاصه آن ثروت هایی که متعلق به یک فرد خاص نیستند را می گویند. (iranarze.ir)

(۱) انفاق (۲) انفال (۳) وقف (۴) بیت المال

۴۶- کلمه یخافون در آیه زیر به معنی ..... است. (iranarze.ir)

أَمْ يَخَافُونَ أَنْ يَحِيفَ اللَّهُ عَلَيْهِمْ وَرَسُولَهُ

(۱) ظلم کردند (۲) بترس (۳) آنها ترسیدند (۴) ظلم نکن

۴۷- در ایه زیر مبینات بیانگر چیست؟ (iranarze.ir)

لَقَدْ أَنْزَلْنَا آيَاتٍ مُبَيِّنَاتٍ

(۱) دلایل (۲) نشانه ها (۳) پر نور (۴) روشنگر

۴۸- مَنْ يَشَاءُ در همه جای قران به چه معناست؟ (iranarze.ir)

(۱) خدا روزی رسان است (۲) او خواهد آمد

(۳) خدا هدایتگر است (۴) خدا آفریننده علت هاست

۴۹- (تهیه شده توسط ایران عرضه) به ایمانی که از روی تقلید باشد ... می گویند؟ (iranarze.ir)

(۱) ایمان مقلدانه (۲) ایمان متعصبانه (۳) حقیقی و متعصبانه (۴) ۱ و ۲

۵۰- مضمون آیه زیر چیست؟ (iranarze.ir)

وَيَقُولُونَ آمَنَّا بِاللَّهِ وَبِالرَّسُولِ

(۱) می گویند ایمان آورده ایم به خدا و پیامبرش (۲) ادعای ایمان کردند به خدا و رسولش

(۳) ایمان ظاهری آوردند (۴) به ایمان حقیقی اقرار نمودند

۵۱- انصار یعنی ..... (iranarze.ir)

(۱) مبارزین (۲) یاری کنندگان (۳) اهل صلح (۴) مهاجرین

۵۲- انفاق (تنظیم توسط فروشگاه ایران عرضه) یعنی چه؟ (iranarze.ir)

- (۱) پر کردن خلاها و نیازها  
(۲) بخشش از سر بی نیازی  
(۳) اموال همه مسلمانان  
(۴) ۲ و ۳

۵۳- آیه زیر یعنی آیا در دل آنها مرضی است؟ منظور کدام بیماری است؟ (iranarze.ir)

أَفِي قُلُوبِهِمْ مَرَضٌ

- (۱) رباخواری  
(۲) نفاق  
(۳) ظلم  
(۴) برگشتن از دین

۵۴- معنی ایه زیر چیست؟ (iranarze.ir)

أَمْ أَرْتَابُوا

- (۱) اگر نمی ترسی  
(۲) اگر شک نداری  
(۳) آیا باور ندارند  
(۴) آیا ایمان نیاوردند

۵۵- کدام جنبه از عمل بعد از انجام آن از بین نمی رود؟ این جنبه در کدام قسمت باقی می ماند؟ (iranarze.ir)

- (۱) باطنی - روح  
(۲) باطنی - جسم  
(۳) باطنی - جسم  
(۴) ظاهری - روح

۵۶- ترجمه دقیق آیه زیر .... است. (iranarze.ir)

سَمِعْنَا وَأَطَعْنَا

- (۱) گوش کردیم و طعنه زدیم  
(۲) شنیدیم و فرمان بردیم  
(۳) گوش کردند طعنه زدند  
(۴) شنیدند و اطلاعات کردند

۵۷- حضرت آیت الله خامنه ای در پاسخ به سوال (اعتقاد به توحید عملاً نقشی در زندگی انسان دارد؟) چه مقاله ای را نوشته

اند؟ (iranarze.ir)

- (۱) روح توحید ، نفی عبودیت غیر خدا  
(۲) جهاد تبیین  
(۳) توحید و ولایت  
(۴) جایگاه توحید در اندیشه اسلامی

۵۸- معنی آیه شریفه « فبشر عباد ، الذین يستمعون القول فيتبعون احسنه » چیست؟ (iranarze.ir)

- (۱) کسانی که ایمان آورده اند و تهمت نمی زنند گروه دیگری را.  
(۲) ای اهل ایمان! به خدا و پیامبرش و کتابی که بر پیامبرش نازل کرده و به کتابی که پیش از این فرستاده ایمان بیاورید.  
(۳) و مژده بده به کسانی که به خدا و پیامبرش ایمان آوردند، پروردگارشان آنها را میشوند و اجابت میکند.  
(۴) به بندگان من مژده بده، به آنها که سخن را می شنود و نیکوترینش را انتخاب می کنند و پیروی می کنند

۵۹- در آیه « بسم الله الرحمن الرحيم ، الله لا اله الا هو » کلمه اله به چه معناست؟ (iranarze.ir)

- (۱) او  
(۲) خدا  
(۳) معبود  
(۴) پروردگار

۶۰- «لا تاخذنه سنة ولا نوم» اشاره به چیست؟ (iranarze.ir)



(۱) غفلت‌ها و خواب‌ها (۲) بیخودی‌های خداوندان

(۳) خداوندگاران دروغین (۴) هر سه مورد

۶۱- کدام آیه اشاره به این دارد فقط دنبال پندار و گمانند ، والا نمی‌توانند خدا را با دلیل نفی بکنند؟ (iranarze.ir)

(۱) «وَمَنْ يَكْسِبْ إِثْمًا فَإِنَّمَا يَكْسِبُهُ عَلَى نَفْسِهِ»

(۲) «وَمَنْ يَكْسِبْ خَطِيئَةً أَوْ إِثْمًا ثُمَّ يَرْمِ بِهِ بَرِيئًا»

(۳) «ان هم الا يظنون»

(۴) «إِنْ يَدْعُونَ مِنْ دُونِهِ إِلَّا إِنَاثًا وَإِنْ يَدْعُونَ إِلَّا شَيْطَانًا مَرِيدًا»

۶۲- آیه شریفه «و من الناس من يتخذ من دون الله اندادا» در مورد چه کسانی است؟ (iranarze.ir)

(۱) خداپرستان (۲) بت پرستان

(۳) کسانی که به وجود خدا شک دارند (۴) کسانی که برای خدا شریک انتخاب می‌کند

۶۳- آنان که با سرسپردگی به غیر خدا ستم کرده‌اند در روز قیامت چه چیزی می‌بینند؟ (iranarze.ir)

(۱) «ان القوه لله جميعا» (۲) «إِنَّ اللَّهَ يَغْفِرُ الذُّنُوبَ جَمِيعًا إِنَّهُ هُوَ الْغَفُورُ الرَّحِيمُ»

(۳) «وَأَسْتَعِينُوا بِالصَّبْرِ وَالصَّلَاةِ» (۴) «وَأِنَّهَا لَكَبِيرَةٌ إِلَّا عَلَى الْخَاشِعِينَ»

۶۴- تابعان و دنباله روان ستمکاران در قیامت با خود چه می‌گویند؟ (iranarze.ir)

(۱) «لو انا لنا كرته فنتبرا منهم كما تبرا منا»

(۲) «و ما هم بخارجين من النار»

(۳) «قُلْ يَا عِبَادِيَ الَّذِينَ أَسْرَفُوا عَلَىٰ أَنفُسِهِمْ لَا تَقْنَطُوا مِنْ رَحْمَةِ اللَّهِ إِنَّ اللَّهَ يَغْفِرُ الذُّنُوبَ جَمِيعًا»

(۴) «ما فى القرآن آية أوسع منى يا عبادى الذين أسرفوا»

۶۵- از مفهوم کدام آیه برداشت می‌شود که خداوند کارهای آنان را به صورت مایه حسرتی به آنان می‌نمایاند؟ (iranarze.ir)

(۱) «أَيُّ بُنَىٰ كَمْ نَظَرَهُ جَلِبَتْ حَسْرَةٌ وَكَمْ مِنْ كَلِمَةٍ سَلَبَتْ نَعْمَةً»

(۲) «وَالْعَصْرِ \* إِنَّ الْإِنْسَانَ لَفِي خُسْرٍ»

(۳) «كذلك يريهم الله اعمالهم حسرات عليهم»

(۴) «إِنَّ أَشَدَّ النَّاسِ نَدَامَةً يَوْمَ الْقِيَامَةِ رَجُلٌ بَاعَ آخِرَتَهُ بِدُنْيَا غَيْرِهِ»

۶۶- «مُفْصَلًا» یعنی چه؟ (iranarze.ir)

(۱) یعنی مُبَيَّنًا (۲) یعنی با تبیین تمام و کامل

(۳) یعنی مفصل و زیاد (۴) گزینه ۱ و ۲

۶۷- کدام آیه مصداق جمله « ریشه ترس از دیگران را در دل خود به خشکانید » می‌باشد؟ (iranarze.ir)

(۱) فلا تخافوهم وخافون

۲) «إِنَّمَا يَخْشَى اللَّهَ مِنْ عِبَادِهِ الْعُلَمَاءُ»

۳) «شِدَّةُ الْجَبِينِ مِنْ عَجْزِ النَّفْسِ وَ ضَعْفِ الْيَقِينِ.»

۴) «أَتَشْرِكَنَّ فِي رَأْيِكَ جَبَانًا يُضَعِّفُكَ عَنِ الْأَمْرِ وَيُعْظِمُ عَلَيْكَ مَا لَيْسَ بِعَظِيمٍ.»

۶۸- یوم البعثت چه روزی است؟ (iranarze.ir)

۱) روز قیامت  
۲) روز مبعوث شدن پیامبر (ص)

۳) روز ظهور حضرت مهدی (عج)  
۴) هیچکدام

۶۹- اولین سوره بشارت آمیزی که به پیغمبر اکرم خطاب می کند کدام سوره است؟ (iranarze.ir)

۱) سوره محمد  
۲) سوره والضحی  
۳) سوره حج  
۴) سوره بقره

۷۰- «ذومره» اشاره به چه کسی دارد؟ (iranarze.ir)

۱) خداوند  
۲) پیامبر (ص)  
۳) انسان  
۴) جبرئیل

۷۱- قطب‌های انقلابات الهی چه کسانی بودند؟ (iranarze.ir)

۱) پیامبران اولوالعزم  
۲) چهارده معصوم  
۳) همه پیامبران الهی  
۴) پیامبران و امامان

۷۲- در آیه شریفه ی « و نجعلهم الوارثین » منظور از وارثین چه کسانی می باشد؟ (iranarze.ir)

۱) اهل بیت پیامبر  
۲) پیامبران  
۳) مستضعفان  
۴) مسلمانان

۷۳- پاسخ انبیا به این سوال که "چگونه می‌شود انسان‌ها را ساخت" چیست؟ (iranarze.ir)

۱) باید جامعه الهی ، جامعه توحیدی و محیط متناسب درست کرد

۲) باید انسان‌ها را امر به معروف و نهی از منکر کرد

۳) باید راه ایمان و تعالی را به انسان‌ها نشان داد

۴) همه موارد

۷۴- ..... و ..... مایه تکامل و تعالی روح انسان است. (iranarze.ir)

۱) توحید و معرفت  
۲) خداشناسی و اعتقاد به معاد

۳) نماز و عطوفت  
۴) ایمان به خدا و عمل صالح

۷۵- چه کسی نقشه قتل ناموفق پیامبر اکرم را کشید؟ (iranarze.ir)

۱) ابوجهل  
۲) ابوسفیان  
۳) ابوالحکم عمرو بن هشام  
۴) ۱ و ۳

۷۶- در قرآن چند بار واژه طاغوت به کار رفته است؟ (iranarze.ir)

۱) پنج بار  
۲) چهارده بار  
۳) ده بار  
۴) هشت بار

۷۷- در آیه «ولا تهنوا ولا تحزنوا و انتم الاعلون آن کنتم مومنین» منظور از «لاتهنوا» چیست؟ (iranarze.ir)

۱) نا امید نشوید  
۲) سست نشوید  
۳) اندوهگین مگردید  
۴) تمسخر نکنید

۷۸- معنی کدام آیه "رودخانه‌ها و جویبارهایی به اندازه‌های گوناگون جریان پیدا کرد" می‌باشد؟ (iranarze.ir)

(۱) « أنزل من السماء ماء »

(۲) « فتحمل السيل زبدا رابيا »

(۳) « فسالت اوديه بقدرها »

(۴) « ابتغاء حليه او متاع »

۷۹- خداوند در آیاتی از سوره رعد خطاب به ..... می‌فرماید. (iranarze.ir)

« اولئك لهم سوء الحساب »

(۱) مشرکان و تکذیب کنندگان

(۲) کسانی که پیرو قرآن هستند

(۳) رهبران و سران باطل

(۴) پیروان رهبران حق

۸۰- توده‌ها و ملت‌های مسلمان در چه صورت بر همه جهان پیروز خواهند شد؟ (iranarze.ir)

(۱) ایمان پیدا کنند و صبر ذخیره کنند

(۲) قدرت داشته باشند و صبر ذخیره کنند

(۳) پیروی دستورات قرآن کرده، و قدرتمند ادامه دهند

(۴) همه موارد

۸۱- سر پیامبری که بریده شد و به هدیه رفت منظور کدام است؟ (iranarze.ir)

(۱) حضرت شعیب

(۲) حضرت یونس

(۳) حضرت یحیی

(۴) حضرت زکریا

۸۲- کدام آیه بیانگر این جمله است که "وقتی یقین دارید حتما شکست می‌خورید باز به تلاش و کوشش تان ادامه دادید آن

وقت پیروزی و فتح نصیبتان خواهد شد"؟ (iranarze.ir)

(۱) « حتی اذا استیاس الرسل ووطنوا انهم قد کذبوا »

(۲) « ووطنوا انهم قد کذبوا جاءهم نصرنا »

(۳) « وَاسْتَعِينُوا بِالصَّبْرِ وَالصَّلَاةِ وَإِنَّهَا لَكَبِيرَةٌ إِلَّا عَلَى الْخَاشِعِينَ »

(۴) « ثُمَّ كَانَ مِنَ الَّذِينَ آمَنُوا وَتَوَّاصُوا بِالصَّبْرِ وَتَوَّاصُوا بِالْمَرْحَمَةِ »

۸۳- این جمله از فرمایشات چه کسی می‌باشد؟ (iranarze.ir)

« ولقد كنا مع رسول الله نقتل آباءنا و أبناءنا و إخواننا و أعمامنا »

(۱) حضرت علی (ع) (۲) امام حسین (ع) (۳) امام حسن (ع) (۴) امام صادق (ع)

۸۴- تعهد رسالت کدام است؟ (iranarze.ir)

(۱) دعوت انسان‌ها به اسلام

(۲) تشکیل و گسترش حکومت اسلامی

(۳) بشارت مردم به آخرت و پرستش خدای یگانه

(۴) ساختن دنیایی به شکلی که اسلام گفته است

۸۵- أَلْسَاكُتُ أَخُو الرَّاظِي وَ مَنْ لَمْ يَكُنْ مَعَنَا كَانَ عَلَيْنَا یعنی؟ (iranarze.ir)

(۱) هر کس که در برابر ظلم ساکت باشد یعنی راضی به آن ظلم است

(۲) هرکسی که به کار یک جمعی به زندگی یک مردمی راضی نباشد، از خود آنهاست

(۳) در برابر رضایت برادرت ساکت باش هرکه با ما نیست، بر ماست

۴) آن کسی که درمقابل وضع باطل ساکت است، برادر آن کسی ست که به آن وضع راضیست.

۸۶- تعهد قبول و پذیرش نبوت چیست؟ (iranarze.ir)

۱) دنبال نبی رفتن ۲) آن چندانی که او میخواهد عمل کردن

۳) قبول تکلیف او نمودن ۴) همه موارد

۸۷- قرآن مومنین را چگونه تعبیر کرده است؟ (iranarze.ir)

۱) اولیای یکدیگر می داند ۲) شیعه یعنی مومن ۳) برادر یکدیگر می داند ۴) گزینه یک و دو

۸۸- « یخرجون الرسول و ایاکم » یعنی چه؟ (iranarze.ir)

۱) و با پیامبر از شهر و دیارتان خارج شدید ۲) و پیامبر شما را از شهر و دیارتان بیرون کرد

۳) پیامبر شما را از شهر و دیارتان بیرون می کند ۴) پیامبر و شما را از شهر و دیار تان بیرون میکنند

۸۹- یحیی بن ام طویل چه نسبتی با امام سجاد ( ع ) داشت؟ (iranarze.ir)

۱) فرزند دایه و از اصحاب بسیار خوب و زبده ایشان بود ۲) پسرعموی ایشان بود

۳) از دشمنان سرسخت وی بود ۴) گزینه ۲ و ۳

۹۰- کدام یک جز سه بعد ولایت نمی باشد؟ (iranarze.ir)

۱) حفظ پیوندهای داخلی

۲) قطع پیوند و وابستگی به قطب های متضاد خارجی

۳) حفظ ارتباط دائمی و با قلب پیکر اسلامی یعنی تمام و رهبر

۴) مبارزه با مخالفان و دشمنان حکومت اسلامی

۹۱- کدام جامعه، جامعه ای می شود که تمام استعداد های انسانی را رشد می دهد؟ (iranarze.ir)

۱) جامعه ای که با هم اتحاد دارند ۲) جامعه ای که قدرت دارد

۳) جامعه دارای ولایت ۴) همه موارد

## ➤ سوالات استخدامی جدال دو اسلام امام خمینی (ره) تالیف ایران عرضه ۱۴۰۲

۱- این سخن امام خمینی که «سالیان سال فرزندان انقلابی جهان را در حصارهای آهنین زندانی نموده بود» اشاره به کدام یک از موارد زیر است؟ (iranarze.ir)

- (۱) شکستن استخوان‌های مارکسیسم  
(۲) امپریالیسم ستیزی  
(۳) مفهوم ملکوتی مستضعف  
(۴) عدالت توحیدی

۲- این جمله امام که «مملکتی که با استکبار و پول پرستی و تاجرگرایی و مقدس مآبی مخالف است همه افرادش باید بسیجی باشند» به کدام مورد زیر اشاره می‌نماید؟ (iranarze.ir)

- (۱) تقابل با استکبار  
(۲) تقابل با پول پرستی  
(۳) تقابل با تاجرگرایی و مقدس مآبی  
(۴) اهمیت بسیج

۳- از ارکان و آرمان اصلی و کاربردی بسیج مستضعفین می‌باشد؟ (iranarze.ir)

- (۱) عدالت خواهی  
(۲) ظلم ستیزی  
(۳) تفکر و روحیه بسیجی  
(۴) گزینه ۱ و ۲

۴- اسلام ناب محمدی یعنی اسلام انقلابی که دعوتش به ..... و ..... برای جبهه کفر و سرمایه‌داری خانه برانداز و فتنه‌انگیز است. (iranarze.ir)

- (۱) توحید و نبوت  
(۲) نبوت و ازادگی  
(۳) معاد و رستاخیز  
(۴) توحید و معاد

۵- استفاده از گفتمان «اسلام ناب- اسلام آمریکایی» و «جنگ فقر و غنا» توسط امام خمینی در پیام قطعنامه مبین کدام یک از ابعاد سازماندهی امام بود؟

- (۱) بعد معرفتی  
(۲) بعد سازمانی  
(۳) بعد آسیب شناسی  
(۴) بعد جهاد و شهادت

۶- کدام یک از موارد زیر هدف امام را از فتوای سلمان رشدی مرتد نشان می‌دهد؟ (iranarze.ir)

(۱) صلابت انقلاب را به رخ جهانیان بکشاند

(۲) ظرفیت‌های وحدت را نشان داد و کل جهان اهل سنت را متوجه حضرت امام کرد

(۳) با توجه به تمام تبلیغات مسمومی که علیه انقلاب ایران به عنوان یک انقلاب صرفاً شیعه‌ای شده بود این پیام که جهان اسلام تبدیل کرد همه مجموعه نیروهای جهان اسلام را تقویت کرد و هم شیعه را به مثابه خط مقدم دفاع از رسول الله

تقویت کرد

(۴) همه موارد

۷- حضرت امام خمینی در منشور برادری با چه کسانی اتمام حجت می‌کند؟ (iranarze.ir)

- (۱) دولت  
(۲) مجموعه نهادهای نظام

- ۳) نیروهای فعال سیاسی  
 ۴) شورای عالی قضایی و رئیس قوه قضاییه
- ۸- با توجه به گفته رهبری که می‌فرماید «۴ تار موی یک خانم تمام منکرات نیست» اشاره به کدامیک از منکرات دیگر می‌باشد؟ (iranarze.ir)
- ۱) منکرات سیاسی  
 ۲) منکرات فرهنگی  
 ۳) منکرات اقتصادی  
 ۴) همه موارد
- ۹- مهمترین انگیزه قیام سیدالشهدا چه بود؟ (iranarze.ir)
- ۱) اقامه عدل  
 ۲) اقامه نماز  
 ۳) مبارزه با ظلم  
 ۴) به دست گرفتن حکومت
- ۱۰- از آغاز انقلاب تاکنون هدف استکبار گسستن مردم از ..... و ..... است. (iranarze.ir)
- ۱) تکلیف شرعی و سیاسی  
 ۲) آرمان‌های اجتماعی و سیاسی اسلام  
 ۳) تکلیف اجتماعی و شرعی  
 ۴) تکلیف شرعی و آرمان‌های اجتماعی
- ۱۱- از مولفه‌های اسلام ناب آمریکایی محسوب نمی‌شود؟ (iranarze.ir)
- ۱) اسلام سرمایه‌داری و اسلام مستکبرین  
 ۲) اسلام مرفهین بی‌درد و اسلام راحت طلبان  
 ۳) اسلام فرصت طلبان و اسلام منافقین  
 ۴) اسلام رنج دیدگان تاریخ و اسلام عارفان مبارزه جو
- ۱۲- امام خمینی: امروز باید لباس ..... را از تن بیرون نمود و زره ..... و ..... پوشید و در افق تلیه فجر تا ظهور شمس به پیش تاخت و ضامن بقای خون شهیدان بود؟ (به ترتیب) (iranarze.ir)
- ۱) جهالت\_نبرد-مبارزه  
 ۲) مال اندوزی\_مقاومت-جهان  
 ۳) محبت دنیا\_جهاد-مقاومت  
 ۴) لذایذ دنیوی\_مبارزه-جهاد
- ۱۳- این روایت که « هر عَلمی بلند شود قبل از ظهور آنحضرت، آن عَلم، باطل است » در مورد کدام یک از تفسیرهای زیر صحیح است؟ (iranarze.ir)
- ۱) هر حکومتی اگر در زمان غیبت محقق بشود این حکومت باطل است و برخلاف اسلام است  
 ۲) هر کس که علم بلند کند با علم مهدی به عنوان مهدویت بلند کند باطل است  
 ۳) این دنیا پر از ظلم و جور شود تا حضرت تشریف بیاورند ظلم و جور را بردارند پس ما دعا می‌کنیم که ظلم و جور باشد  
 ۴) اینکه می‌گوید حکومت لازم نیست معنایش این است که هرج و مرج باشد همه هم را بکشند همه به هم ظلم کنند برای اینکه حضرت بیاید
- ۱۴- این گفته امام که اگر در يك ملتي اختلاف سلیقه نباشد این ناقص است و اگر در مجلسی اختلاف نباشد این مجلس ناقص است اشاره به کدام یک از موضوعات زیر دارد؟ (iranarze.ir)
- ۱) لزوم دوستی با وجود اختلاف سلیقه  
 ۲) لزوم اتحاد و همبستگی  
 ۳) لزوم توجه به تفرقه  
 ۴) شیطنت برای ایجاد اختلاف

۱۵- امام خمینی بهترین نفرین را برای امثال رئیس جمهور آمریکا و نوکرهایش چی می‌داند؟ (iranarze.ir)

- (۱) خدا حفظشان کند  
(۲) خدا مرگشان بدهد  
(۳) دچار عذاب الهی شوند  
(۴) همچنان در خواب غفلت بمانند

۱۶- از دیدگاه امام خمینی کدام یک از نهادهای زیر پشتوانه عظیم و با برکت و پرثمری برای کشور ماست؟ (iranarze.ir)

- (۱) مجلس شورای اسلامی  
(۲) شورای محترم نگهبان  
(۳) مجمع تشخیص مصلحت  
(۴) مجلس خبرگان

۱۷- به گفته امام خمینی سرنوشت جنگ در کجا رقم خواهد خورد؟ (iranarze.ir)

- (۱) در جبهه‌ها  
(۲) در جهاد  
(۳) میدان مذاکره‌ها  
(۴) میدان صبر و تقوا

۱۸- جنگ امروز ما جنگ با ابر قدرت‌های شرق و غرب نیست جنگ ما جنگ.....است بر علیه.....می‌باشد.

- (۱) جنگ با اسرائیل-بر علیه اشغالگری  
(۲) جنگ با دین ستیزان غرب- بر علیه فرهنگ غربی  
(۳) جنگ مکتب ماست-بر علیه تمامی ظلم و جور  
(۴) جنگ با حاکمان بی‌درد کشورهای اسلامی-علیه برهنگی

۱۹- در پیام سالگرد کشتار خونین مکه و قبول قطعنامه ۵۹۸، امام، کشتار فجیع رو چگونه توصیف کردند؟ (iranarze.ir)

- (۱) آل سعود با کشتن میهمانان خدا و به خاک و خون کشیدن بهترین بندگان حق، نه تنها حرم را، که جهان اسلام را آلوده به خون شهیدان نمود.  
(۲) آمریکا و آل سعود انتقام از کسانی گرفت که از خانه خویش به سوی خانه مردم دیگر هجرت کرده بودند  
(۳) انتقام از کسانی گرفتند که شاه را فراری داده بودند.  
(۴) همه موارد

۲۰- کدام یک از موارد زیر فلسفه حج از ناحیه ناآگاهان یا تحلیلگران مغرض یا جیره‌خوران ترسیم شده است؟ (iranarze.ir)

- (۱) حج یک عبادت دسته جمعی و یک سفر زیارتی-سیاحتی است  
(۲) حج کانون معارف الهی است که از آن محتوای سیاست اسلام را در تمامی زوایای زندگی باید جستجو نمود  
(۳) حج پیام آور و ایجاد و بنای جامعه به دور از رذایل مادی و معنوی است  
(۴) حجم به سان قرآن است که همه از آن بهره‌مند می‌شوند

۲۱- آمریکا، کدام سیاست ما را توسعه طلبی و تفکر تشکیل امپراتوری بزرگ میدانند؟ (iranarze.ir)

- (۱) گسترش نفوذ اسلام در جهان  
(۲) کم کردن سلطه جهان‌خواران  
(۳) نابود کردن نظام هایی که بر پایه صهیونیسم، سرمایه‌داری و کمونیسم استوار گردیده‌اند  
(۴) گزینه او ۲

۲۲- طبق گفته امام، حادثه مکه زمینه ساز کدام یک از تحولات بزرگ زیر خواهد شد؟ (iranarze.ir)

- (۱) ریشه کن شدن نظام‌های فاسد کشورهای اسلامی  
(۲) آغاز بیداری اسلامی  
(۳) طرد روحانی نماها  
(۴) گزینه ۳ و ۴

۲۳- عده‌ای از خدا بی‌خبر برای از بین بردن انقلاب هر کس را که بخواهد برای فقرا و مستمندان کار کند و راه اسلام و انقلاب

را بپیماید فوراً او را..... و.....می‌خوانند؟ (iranarze.ir)

- (۱) کمونیست و التقاطی  
(۲) متظاهر و ظاهر نما  
(۳) مقدس نما و متظاهر  
(۴) کمونیست و متظاهر

۲۴- منظور حضرت امام خمینی از کلمه «روحانیت» که در نوشته‌ها و صحبت‌هایشان از آنان قدردانی کرده اند چه کسانی

می‌باشند؟ (iranarze.ir)

- (۱) علمای پاک و متعهد و مبارز  
(۲) روحانیون مقدس مآب  
(۳) روحانیون وابسته  
(۴) همه موارد

۲۵- حضرت امام خمینی موفقیت‌های روحانیت و نفوذ آنان را در جوامع اسلامی نتیجه کدام عوامل می‌داند؟ (iranarze.ir)

- (۱) ارزش عملی و زهد آنان  
(۲) ارزش عملی و ارزش علمی آنان  
(۳) ارزش علمی و زهد آنان  
(۴) ارزش علمی و دوری از ظواهر دنیوی

۲۶- شما را از دل و جان دوست دارم و علاقمندم که فرد فرد شما عالم و متخصصی متعهد برای.....و مبارزی سرسخت

علیه.....باشید؟ (امام خمینی)

- (۱) اسلام ناب محمدی-اسلام آمریکایی  
(۲) ایران اسلامی-امپریالیسم جهانی  
(۳) جهان اسلام-جهان کفر  
(۴) محرومان و مستضعفان-فقر و بی‌عدالتی

۲۷- چه کسانی تا همیشه تاریخ، مشعل‌داران راه اولیا، افتخار روشنایی طرق الی الله را بر عهده گرفته اند؟ (iranarze.ir)

- (۱) روحانیون مبارز در راه خدا  
(۲) خانواده‌های شهدا  
(۳) مجروحین و جانبازان  
(۴) مسئولین خدوم ملت

۲۸- نکاتی که در بازسازی و سازندگی توجه به آن ضروری است؟ (iranarze.ir)

(۱) بر دست اندرکاران نظام است که ذوق و استعداد و توان خود را در هرچه بهتر رسیدن به امور معنوی و مادی و ارزشی و

فرهنگی این یادگاران هدایت نور (خانواده شهدا و ایثارگران) به کار گیرند و از خدمت بی‌شائبه و بی‌منت با آنان دریغ نکنند

(۲) با قبول و اجرای صلح، از تقویت بنیه دفاعی و نظامی کشور و توسعه و گسترش صنایع تسلیحاتی کشور غفلت می‌شویم.

(۳) توجه به بازسازی مراکز صنعتی موجب غفلت از خودکفایی در کشاورزی میشود، بنابراین ابتدا توسعه کشاورزی بعد صنعتی

مد نظر گیرد.



۴) توسعه مراکز علمی و تحقیقات و تمرکز و هدایت امکانات باید مورد توجه قرار گیرد اما در آخرین مرحله از بازسازی و سازندگی

۲۹- هدف از حفظ و نگهداری ترکیب یک یا چند شهر خراب شده در جنگ بعد از قطعنامه ۵۹۸ چه بود؟ (iranarze.ir)

- ۱) ترسیم علنی تجاوز دشمنان علیه انقلاب و کشورمان  
۲) نشان دادن قدرت دفاع و مقاومت قهرمانانه ملت  
۳) تاکید بر حفظ ارزش‌ها و شئون اخلاقی و اجتماعی  
۴) گزینه ۱ و ۲

۳۰- توصیه امام به اختلاف جریان‌های سیاسی و جناح‌های موجود وابسته به انقلاب چه بود؟ (iranarze.ir)

- ۱) حافظ خشم و کینه انقلابی خود و مردم علیه سرمایه‌داری غرب، کمونیسم و سوسیالیسم بین‌الملل باشید  
۲) اگر اختلاف صرفاً سیاسی باشد ولو اینکه شکل عقیدتی به آن داده شود تهدیدی متوجه انقلاب نیست  
۳) اکثریت قاطع هر دو جریان می‌خواهند کشورشان مستقل باشد، هر دو می‌خواهند اسلام قدرت بزرگ جهان گردد.  
۴) همه موارد

۳۱- توصیه امام خمینی به پیشنهاد آقایان خامنه‌ای و هاشمی در مورد ساختن مصلی تهران چه بود؟ (iranarze.ir)

- ۱) سادگی مصلی باید یادآور سادگی محل عبادت مسلمان صدر اسلام باشد  
۲) شدیداً از زرق و برق ساختمان‌های مساجد اسلام آمریکایی جلوگیری شود  
۳) جهات شرعی در مورد زمین مذکور حفظ شود  
۴) همه موارد

۳۲- شمایل دنیای آزادی و استقلال در عرصه کار و تلاش و پیکار علیه فقر و تنگدستی و رذالت و ذلت می‌باشد؟ (iranarze.ir)

- ۱) جهادگران جهاد سازندگی  
۲) بسیج دانشجویی  
۳) فرهنگ شهادت طلبی  
۴) بسیج طلبه

۳۳- امام خمینی در نامه خود به آقای گورباچف، چه چیزی را بزرگترین و بالاترین ضربه بر پیکر مردم کشور شوروی معرفی کرده است؟ (iranarze.ir)

- ۱) خدا زدایی و دین زدایی  
۲) مسئله مالکیت و استقلال  
۳) پذیرش فرهنگ غربی  
۴) همه موارد

۳۴- اساسی‌ترین درد جامعه بشری در غرب و شرق به فرموده امام خمینی چیست؟ (iranarze.ir)

- ۱) مسئله مادی بودن مکتب  
۲) مسئله عدم اعتقاد به معنویت  
۳) مسئله آزادی  
۴) مسئله اقتصاد

۳۵- کدام کتب از دیدگاه امام «قرآن صاعد» می‌باشد؟ (iranarze.ir)

- ۱) کتب ادعیه ائمه معصومین  
۲) مشایخ اهل عرفان  
۳) کتاب معارف الهی  
۴) همه موارد

۳۶- از نظر دیدگاه امام خمینی مخالفت روحانیون با بعضی از مظاهر تمدن در گذشته به جهت ..... بوده است.

- ۱) پاسداری از اسلام  
۲) ترس از نفوذ اجانب  
۳) بی اعتبار کردن عقاید مذهبی  
۴) نادیده گرفتن آداب و رسوم ملی

۳۷- تقابل و تعارض جناح‌های مومن با انقلاب منتهی به تقویت کدام یک از گروه‌های زیر می‌شود؟ (iranarze.ir)

- (۱) تقویت جناح رفاه طلب بی درد  
(۲) تقویت جناح بی مسئولیت و نق بزین  
(۳) تقویت روحانیون بی مسئولیت  
(۴) تقویت امپریالیسم جهانی و نوکرانشان

۳۸- کدام یک از موارد زیر از ویژگی‌های یک مجتهد جامع می‌باشد؟ (iranarze.ir)

- (۱) خلوص و تقوا و زهدی که در خور شأن مجتهد است  
(۲) مدیر و مدبر باشد  
(۳) زیرکی و هوش و فراست  
(۴) همه موارد

۳۹- هیچ پیغمبری جنگ نکرد الا برای ..... و صلح نکرد الا برای ..... (iranarze.ir)

- (۱) خدا - مصلحت مردم  
(۲) خدا - خدا  
(۳) اسلام - خدا  
(۴) خدا - اسلام

۴۰- من بارها اعلام کردم که با هیچکس در هر مرتبه‌ای که باشد ..... نیستم چارچوب دوستی من در ..... فرد

نهفته است؟ (امام خمینی) (iranarze.ir)

- (۱) عهد دوستی-صداقت  
(۲) عقد اخوت-درستی راه  
(۳) قرارداد همکاری-انسانیت  
(۴) عهد سازش-مومن بودن

۴۱- نصیحت امام خمینی در زمان پذیرش استعفای آقای منتظری به وی چه بود؟ (iranarze.ir)

- (۱) بیت خود را از افراد ناسالم پاک نمایم تا سهم امام بر حلقوم منافقین و گروه مهدی هاشمی نریزد  
(۲) از آنجا که ساده لوح هستم و سریعاً تحریک نشوید در سیاست دخالت نکنید.  
(۳) دیگر برای من نامه ننویسید  
(۴) همه موارد

۴۲- این کتاب بعد از قرآن بزرگترین دستور زندگی مادی و معنوی و بالاترین کتاب رهایی بخش بشر است؟ (iranarze.ir)

- (۱) نهج البلاغه  
(۲) صحیفه سجاده  
(۳) مناجات شعبانیه  
(۴) صحیفه فاطمیه

۴۳- ..... پدیده الهی است که با به کار بستن آن سعادت فرزندان خود را در دنیا و آخرت به بالاترین وجه تامین

می‌کند. (iranarze.ir)

- (۱) اسلام و حکومت اسلامی  
(۲) حدیث ثقلین  
(۳) ملی‌گرایی  
(۴) مذهب

۴۴- دو رکن اصلی رمز بقای انقلاب اسلامی چیست؟ (iranarze.ir)

- (۱) انگیزه الهی و عدالت اسلامی  
(۲) مقصد عالی حکومت اسلامی و شهیدان  
(۳) انگیزه الهی و مقصد عالی حکومت اسلامی  
(۴) عدالت و برابری

۴۵- ..... از بزرگترین واجبات و اقامه آن از والاترین عبادات است؟ (iranarze.ir)

- (۱) حکومت حق و عدالت برای نفع مستضعفان  
(۲) اقامه نماز  
(۳) فرهنگ شهادت و جهاد در راه خدا  
(۴) مبارزه با جهل و نادانی

۴۶- به کدام دلیل زیر خداوند در سوره توبه مسلمانان حجاز در عهد رسول الله را وعده عذاب داده است؟ (iranarze.ir)

(۱) از پیامبر اطاعت نمی کردند و با بهانه‌هایی به جبهه نمی رفتند

(۲) دروغ بستن به حضرت علی که حتی ایشان آنها را در منبر نفرین نمودند

(۳) بدرفتاری با اهل بیت پیامبر

(۴) همه موارد

۴۷- وصیت امام خمینی برای تعیین عالی‌ترین مقام قضایی به رهبر و شورای رهبری چیست؟ (iranarze.ir)

(۱) از مراجع و علمای بزرگ باشد

(۲) مظلومیت مستضعفان و محرومان جامعه را لمس نموده باشد

(۳) از کسانی که خود را وقف به اسلام نموده باشد

(۴) نصب اشخاص متعهد سابقه‌دار و صاحب نظر در امور شرعی، اسلامی و در سیاست

۴۸- از بالاترین و والاترین حوزه‌هایی که لازم است به طور همگانی مورد تعلیم و تعلم قرار گیرد ..... است.

(۱) علوم معنوی اسلامی (۲) علوم تجدید (۳) علوم کلام نقلی (۴) علم عرفان

۴۹- کدام یک از موارد زیر از وصایای امام خمینی به وزارت ارشاد در همه اعصار خصوصاً عصر حاضر می‌باشد؟ (iranarze.ir)

(۱) تلاش برای تبلیغ حق مقابل باطل و کوشش برای ارائه چهره حقیقی جمهوری اسلامی ایران

(۲) معرفی اسلام آمریکایی و راه‌های شناخت اسلام ناب محمدی

(۳) معرفی احکام اسلامی و پیاده کردن احکام اسلامی

(۴) خدمتگزار ملت و خصوصاً مستضعفان باشند

۵۰- وصیت امام خمینی به ثروتمندان و پولداران مشروع چیست؟ (iranarze.ir)

(۱) بکار انداختن ثروت های مشروع (۲) فعالیت سازنده در مزارع و روستاها و کارخانه‌ها

(۳) جوانان بیکار را در کارخانه های خود به کار گمارید (۴) گزینه ۱ و ۲

## ❖ فصل دوم: دانش عمومی و آشنایی با نظام اداری

### ➤ سوالات استخدامی قانون اساسی ایران تالیف ایران عرضه ۱۴۰۲

۱- بر اساس اصل اول در در همه پرسى چه سالى حكومت ايران با چه تعداد به جمهورى اسلامى تغيير راي كرد؟ (iranarze.ir)

(۱) دهم و يازدهم فروردين ماه يك هزار و سيصد و پنجاه و هشت هجرى شمسى- ۸۹/۴٪ آرا

(۲) دهم و يازدهم فروردين ۱۳۵۷ هجرى شمسى- ۸۹/۴٪ آرا

(۳) دهم و يازدهم فروردين ۱۳۵۸ هجرى شمسى ۹۸/۴٪ آرا

(۴) دهم و يازدهم فروردين ۱۳۵۹- ۷۸/۴٪ آرا

۲- شرح و تفسير قوانين عادى از وظائف کدام نهاد است؟ (iranarze.ir)

(۱) مجلس شوراي اسلامى (۲) شوراي نگهبان (۳) دو سوم مجموع نمايندگان (۴) رهبر

۳- بر اساس اصل ۱۳۰ رئيس جمهور استعفاى خود را به چه كسى تقديم ميكند؟ (iranarze.ir)

(۱) رهبر (۲) رئيس جمهور (۳) وزير امور خارجه (۴) شوراي نگهبان

۴- رئيس جمهور براي مدت .... سال با رأي مستقيم مردم انتخاب مى شود و انتخاب مجدد وى براي .... دوره بلامانع است.

(۱) ۱-۳ (۲) ۱-۴ (۳) ۲-۵ (۴) ۲-۴

۵- اعضاي شوراي نگهبان متشكل از چند نفرند؟ (iranarze.ir)

(۱) ۶ (۲) ۸ (۳) ۱۲ (۴) ۴

۶- اعضاي حقوقدانان شوراي نگهبان توسط .... معرفى مى شوند. (iranarze.ir)

(۱) رهبر (۲) نمايندگان مجلس (۳) شوراي نگهبان (۴) رئيس قوه قضائيه

۷- در چه صورتى مجلس شوراي اسلامى فاقد اعتبار قانونى است؟ (iranarze.ir)

(۱) بدون حضور حداقل نمايندگان (۲) بدون وجود شوراي نگهبان

(۳) دون وجود رئيس جمهور (۴) بدون حضور رئيس قوه قضائيه

۸- عدم تعارض مصوبات مجلس شوراي اسلامى با اساسى از مسوليت هاى .... است. (iranarze.ir)

(۱) رهبر (۲) اكثريت فقهاى شوراي نگهبان

(۳) همه اعضاي شوراي نگهبان (۴) رئيس جمهور

۹- تشخيص عدم مغايرت مصوبات مجلس شوراي اسلامى با احكام اسلام و قانون اساسى از وظائف کدام نهاد است؟

(۱) كليه حقوقدانان شوراي نگهبان (۲) اكثريت فقهاى شوراي نگهبان

(۳) كليه فقهاى شوراي نگهبان (۴) اكثريت فقهاى شوراي نگهبان و حقوقدانان آن

۱۰- هریک از نمایندگان مجلس به مدت چند سال برای خدمت برگزیده می شود؟ (iranarze.ir)

۶ (۱) ۵ (۲) ۴ (۳) ۲ (۴)

۱۱- مطابق اصل چهل و پنجم قانون اساسی، تصمیم گیری انفال و ثروت های عمومی از اختیارات ... است. (iranarze.ir)

(۱) نهاد رهبری (۲) ریاست جمهوری

(۳) خزانه داری جمهوری اسلامی (۴) حکومت اسلامی

۱۲- پس از برگزاری انتخابات، جلسات مجلس شورای اسلامی با حضور چند نفر نماینده برگزار می شود؟ (iranarze.ir)

(۱) یک سوم نمایندگان (۲) دو سوم مجموع نمایندگان

(۳) کل مجموع نمایندگان (۴) سه چهارم مجموع نمایندگان

۱۳- چه کسی اعضاء ثابت و متغیر مجمع تشخیص مصلحت نظام را تعیین میکند؟ (iranarze.ir)

(۱) شورای نگهبان (۲) مجلس شورای اسلامی (۳) رهبر (۴) نهاد جمهوری اسلامی

۱۴- تفسیر قانون اساسی بر عهده ... است و با تصویب چند نفر از آنها انجام می شود؟ (iranarze.ir)

(۱) شورای نگهبان - با تصویب دو سوم آنها (۲) نمایندگان مجلس - با تصویب سه چهارم آنها

(۳) مجلس شورای اسلامی - با تصویب دو سوم آنها (۴) شورای نگهبان - با تصویب سه چهارم آنها

۱۵- بر اساس اصل یکصد و نهم قانون اساسی (اصل ۱۰۹) شرایط و صفات رهبر کدام یک از موارد زیر است؟ (iranarze.ir)

(۱) صلاحیت علمی لازم افتاء در ابواب مختلف فقه

(۲) عدالت و تقوای لازم برای رهبری امت اسلام

(۳) بینش صحیح سیاسی و اجتماعی، تدبیر، شجاعت، مدیریت

(۴) همه موارد

۱۶- استیضاح هیأت وزیران یا هر یک از وزرا از وظایف ... است. (iranarze.ir)

(۱) شورای نگهبان (۲) رئیس ققوه قضائیه

(۳) مجلس شورای اسلامی (۴) نمایندگان مجلس

۱۷- بر اساس اصل ۱۲۱ سفیران به پیشنهاد ..... و تصویب ... تعیین میشوند. (iranarze.ir)

(۱) وزیر امور خارجه - رئیس جمهور (۲) رئیس جمهور - وزیر امور خارجه

(۳) رئیس جمهور - رهبر (۴) وزیر امور خارجه - رهبر

۱۸- بر اساس اصل ۲۱۲ کدام مورد از وظایف و اختیارات رهبر است؟ (iranarze.ir)

(۱) تعیین سیاست های کلی نظام جمهوری اسلامی ایران پس از مشورت با مجمع تشخیص مصلحت نظام

(۲) نظارت بر حسن اجرای سیاست های کلی نظام

(۳) فرمان همه پرسى

(۴) همه موارد

۱۹- فرماندهی کل نیروهای مسلح از وظایف محول شده به .... است. (iranarze.ir)

(۱) رهبر (۲) رئیس جمهور (۳) مجلس شورای اسلامی (۴) رئیس قوه قضائیه

۲۰- عالی ترین و بالاترین مقام قوه قضائیه کیست و برای چند سال انتخاب می گردد؟ (iranarze.ir)

(۱) رئیس قوه قضائیه-۴ سال (۲) رئیس قوه قضائیه-۵ سال

(۳) کارشناسان قوه قضائیه- ۳ سال (۴) رئیس جمهور- ۴ سال

۲۱- رئیس دیوان عالی کشور و دادستان کل توسط .... برای مدت .... انتخاب می شوند. (iranarze.ir)

(۱) رئیس قوه قضائیه- ۵ سال (۲) رئیس جمهور- ۵ سال

(۳) رئیس قوه قضائیه- ۴ سال (۴) مجلس خبرگان- ۴ سال

۲۲- رئیس قوه قضائیه از طرف کدام مقام و به مدت چند سال انتخاب می شود؟ (iranarze.ir)

(۱) رئیس جمهور- ۴ سال (۲) رئیس جمهور- ۵ سال

(۳) رهبر- ۵ سال (۴) مجلس خبرگان- ۴ سال

۲۳- کدام نهاد بر سازمان صدا و سیما نظارت دارد؟ (iranarze.ir)

(۱) نمایندگان رئیس جمهور (۲) رئیس قوه قضائیه

(۳) مجلس شورای اسلامی (۴) همه گزینه ها

۲۴- کدامیک از اعضای شورای عالی امنیت ملی نمی باشد؟ (iranarze.ir)

(۱) رؤسای قوای سه گانه (۲) رئیس ستاد فرماندهی کل نیروهای مسلح

(۳) مسئول امور برنامه و بودجه (۴) نمایندگان مجلس شورای اسلامی

۲۵- اخذ تصمیم و اقدام لازم در آن قسمت از امور حسبه که قانون معین می کند از وظایف کیست؟ (iranarze.ir)

(۱) رئیس قوه قضائیه (۲) اعضای شورای نگهبان

(۳) رئیس مجلس شورای اسلامی (۴) ۱ و ۲

۲۶- نصب و عزل رئیس سازمان صدا و سیماي جمهوری اسلامی ایران از وظایف .... است. (iranarze.ir)

(۱) رئیس جمهور (۲) رهبر (۳) هیأت وزیران (۴) معاون اول رئیس جمهور

۲۷- رسیدگی به جرائم عادی رئیس جمهور با اطلاع مجلس شورای اسلامی در کجا برگزار می شود؟ (iranarze.ir)

(۱) مجلس شورای اسلامی (۲) دفتر ریاست جمهوری

(۳) دادگاه عمومی دادگستری (۴) دفتر نهاد رهبری

۲۸- .... موظف است مصوبات مجلس یا نتیجه همه پرسى را پس از طى مراحل قانونى و ابلاغ به وي امضاء کند و براي اجرا در اختيار مسئولان بگذارد.

(۱) رئیس جمهور  
(۲) رئیس مجلس شورای اسلامی  
(۳) هیأت وزیران  
(۴) معاون اول رئیس جمهور

۲۹- رئیس جمهور با چه تعدادی از آراء شرکت کنندگان درانتخاب تعیین می شود؟ (iranarze.ir)

(۱) ۲ سوم آرا  
(۲) اکثریت آرا  
(۳) اکثریت مطلق آرا  
(۴) اکثریت نسبی آرا

۳۰- براي تصویب آئين نامه داخلی مجلس، موافقت چه تعدادی از حاضران ضروری می باشد؟ (iranarze.ir)

(۱) دو سوم حاضران  
(۲) سه چهارم حاضران  
(۳) یک سوم حاضران  
(۴) همه حاضران



## ➤ سوالات استخدامی بیانیه گام دوم انقلاب اسلامی آیت الله خامنه ای تالیف

### ایران عرضه ۱۴۰۲

۱- برای همه چیز میتوان طول عمر مفید و تاریخ مصرف فرض کرد، اما .... این انقلاب دینی از این قاعده مستثنا است؛ آنها هرگز بی مصرف وبی فایده نخواهند شد. (iranarze.ir)

(۱) شعارهای جهانی (۲) آرمان های (۳) اهداف (۴) پایه های

۲- از نظر مقام معظم رهبری در بیانیه گام دوم انقلاب اگر جامعه به ..... زیر گرفتار شود، خوشی و خیر نمی بیند.

(۱) عدم توجه به حيله‌ها و ترفندهای دشمن (۲) نبود فرهنگ

(۳) فساد و بی‌عدالتی (۴) عدم توجه به علم و دانش

۳- منظور از دوقطبی های مطرح شده در بیانیه گام دوم انقلاب چیست؟ (iranarze.ir)

(۱) متحجر و فاقد احساس و درک نبودن نسبت به پدیده ها و موقعیت های نو؛ اما به شدت حساس بودن در برابر اصول خود و مرزبندی با رقیبان و دشمنان

(۲) دارای انعطاف و آماده تصحیح خطاهای خویش، اما تجدید نظر پذیر و اهل انفعال نبودن

(۳) حساسیت مثبت نشان دادن به نقدها؛ اما فاصله نگرفتن از ارزش ها

(۴) همه موارد

۴- شعار شکل دهنده انقلاب اسلامی .... است. (iranarze.ir)

(۱) عدالت (۲) اقتصاد (۳) آزادی (۴) استقلال

۵- ..... آرمان بزرگ انقلاب اسلامی است. (iranarze.ir)

(۱) سربلندی ایران و ایرانی (۲) ایجاد تمدن اسلامی

(۳) شکست آمریکای جهان خوار (۴) جامعه سازی

۶- پایان درس نگرفتن از وقایع گذشته چیست؟ (iranarze.ir)

(۱) اینکه حقیقت را از دشمن بشنویم (۲) آینده مورد تهدیدهای ناشناخته قرار خواهد گرفت

(۳) دروغ ها به جای حقیقت خواهند نشست (۴) ۲ و ۳

۷- معنای لغوی انقلاب چیست؟ (iranarze.ir)

(۱) پدیده‌ای نوظهور (۲) عوض شدن ذات (۳) زیر و رو شدن (۴) چرخش

۸- نخستین درخشش انقلاب .... بود. (iranarze.ir)

(۱) ترکیب جمهوریت و اسلامیت و ابزارهای تشکیل و پیشرفت آن (۲) دستاوردهای سیاسی

(۳) پیشرفت خیره کننده در علم و فناوری (۴) همه موارد



۹- ..... پدیده برجسته جهان معاصر و کانون توجه جهانیان بود. (iranarze.ir)

(۱) تشکیل تقابل دوگانه ی جدید ایمان و کفر (۲) تشکیل تقابل دوگانه ی جدید اسلام و استکبار

(۳) تشکیل تقابل دوگانه ی جدید ایران و آمریکا (۴) تشکیل جهان سه قطبی

۱۰- چرا شعارهای انقلاب اسلامی هرگز منقضی نشده و در همه اعصار به کار می آید؟ (iranarze.ir)

(۱) زیرا بسیار پر مفهوم و پر معناست (۲) زیرا ارزش های دینی در آن نهفته است

(۳) زیرا مفهوم عمیقی دارد (۴) زیرا فطرت بشر در همه عصرها با آن سرشته است

۱۱- آنچه امروز محور حملات و تهاجمات دشمن قرار گرفته .... در زندگی مردم است. (iranarze.ir)

(۱) اعتقادات و انگیزه دفاع (۲) فرهنگ و معیشت (۳) اقتصاد و معیشت (۴) سیاست و نظام

۱۲- بر اساس بیانیه گام دوم برای رسیدن به قله های پیشرفت در جهان امروز به چه چیزی احتیاج است؟ (iranarze.ir)

(۱) علم و پژوهش (۲) سبک زندگی (۳) استقلال و آزادی (۴) اقتصاد

۱۳- خرمشهر در عملیات ..... آزاد شد. (iranarze.ir)

(۱) طریق القدس (۲) کربلای ۵ (۳) بیت المقدس (۴) فتح المبین

۱۴- همه موارد زیر از دستاوردهای انقلاب اسلامی هستند به جز ..... (iranarze.ir)

(۱) گسترش آزادی های عمومی، تشویق جوانان به آزاد اندیشی و طرح آزاد مباحث

(۲) گسترش برخورداری های عمومی و امکانات مادی

(۳) استقلال در تصمیم گیری، حفظ تمامیت ارضی کشور

(۴) رعایت عدالت اقتصادی و آزادی مطلق

۱۵- سالگرد پیروزی انقلاب در چه تاریخی است؟ (iranarze.ir)

(۱) ۱۷ شهریور (۲) ۲۲ بهمن (۳) ۱۲ بهمن (۴) ۱۳ آبان

۱۶- همه موارد زیر از ۷ حیطة نقش آفرینی و جهاد ملت ایران در گام دوم انقلاب هستند به جز ..... (iranarze.ir)

(۱) اقتصاد (۲) علم و پژوهش (۳) معنویت و اخلاق (۴) سیاست

۱۷- فرمان ارتش بیست میلیونی صادره از طرف کیست؟ (iranarze.ir)

(۱) فرمانده ارتش (۲) امام خمینی (ره) (۳) شهید رجایی (۴) مقام معظم رهبری

۱۸- شعار مهم انقلاب اسلامی ایران از دیدگاه حضرت امام خمینی (ره) و آیت خا منه ای چیست؟ (iranarze.ir)

(۱) تا خون در رگ ماست (۲) نه شرقی، نه غربی (۳) جمهوری اسلامی (۴) استقلال، آزادی

۱۹- کانون تامین زندگی انسان ها در بیانیه گام دوم انقلاب از نظر مقام معظم رهبری، .... است. (iranarze.ir)

(۱) اقتصاد (۲) علم و پژوهش (۳) عدالت و مبارزه با فساد (۴) معنویت و اخلاق

۲۰- برداشت از آیات قرآن کریم در خصوص دفاع چه می گویند؟ (iranarze.ir)

۱) مسلمانان باید به جنگ با مسلمین ترغیب شوند.

۲) نیروهای مسلح به تنهایی کار دفاع را انجام خواهند داد.

۳) در هر حال باید ساز و برگ جنگی را آماده کرد.

۴) در حالت امنیت پایدار دیگر نیازی به آمادگی نیست.

۲۱- چه عناصری عیار معنویت و اخلاق را در فضای عمومی جامعه بیش از هر چیز ترویج داد؟ (iranarze.ir)

۱) رفتار و منش حضرت امام خمینی(ره) ۲) قوانین دینی و اخلاقی در جمهوری اسلامی

۳) فعالیت روحانیون انقلابی ۴) تبلیغات گسترده معنوی و اخلاقی

۲۲- بر اساس بیانیه گام دوم ویژگی .... به عنوان خصوصیت شناخته شده ایران و ایرانی به ویژه جوانان این مرز و بوم به

شمار می رود. (iranarze.ir)

۱) تولید علم و فناوری ۲) عدالت

۳) معنویت و اخلاق ۴) تسلیم ناپذیری و صیانت و پاسداری از انقلاب

۲۳- کدام گزینه مانعی برای افزایش دستاوردهای انقلاب بیش از مقدار فعلی می باشد؟ (iranarze.ir)

۱) غفلت از جریان انقلابی ۲) بی توجهی به شعارهای انقلاب

۳) دشمنی های آمریکا ۴) ۱ و ۲

۲۴- محور تحقق نظام پیشرفته اسلامی .... می باشند. (iranarze.ir)

۱) نونهالان ۲) جوانان ۳) مسوالان ۴) ۱ و ۳

۲۵- جهت تبدیل ایران به الگوی کامل نظام پیشرفته اسلامی، جوان ها در کدام عرصه ها باید تلاش کنند؟ (iranarze.ir)

۱) عرصه های دین و اخلاق و معنویت و عدالت ۲) در میدان های سیاسی و اقتصادی و فرهنگی

۳) میدان های بین المللی ۴) همه موارد

۲۶- جوانان با چه نگاه و روحیه و عملی می توانند ایران را به یک الگوی کامل نظام پیشرفته اسلامی تبدیل کنند؟ (iranarze.ir)

۱) نگاه و روحیه سیاسی و عمل اخلاقی ۲) نگاه و روحیه انقلابی و عمل جهادی

۳) نگاه و روحیه فرهنگی و عمل جهادی ۴) همه موارد

۲۷- شورای انقلاب اسلامی در تاریخ .... تشکیل سازمان بسیج ملی را تصویب کرد. (iranarze.ir)

۱) نوزدهم تیرماه ۵۸ ۲) بیستم خرداد ۵۹ ۳) دهم دی ماه ۶۰ ۴) نوزدهم تیر ۵۹

۲۸- ..... بر اساس بیانیه گام دوم عیب بزرگ است؟ (iranarze.ir)

۱) کم بودن بینش سیاسی آحاد مردم ۲) عدم گسترش معنویت و اخلاق در فضای عمومی جامعه

۳) ظرفیتهای استفاده نشده طبیعی و انسانی ۴) کارکرد پایین عدالت در کشور

۲۹- مدیران کارآمد و پرانگیزه و خردمند از کدام طریق به اعتماد به نفس کشور کمک می کنند؟ (iranarze.ir)

(۱) فعال کردن و بهره گیری از فرصت های مادی کشور

(۲) حضور در میدان های فرهنگی

(۳) حضور در میدان های سیاسی

(۴) حضور در میدان های بین المللی

۳۰- اولین توصیه رهبر معظم انقلاب ... است. (iranarze.ir)

(۱) تغییر سبک زندگی

(۲) نگاه خوشبینانه به آینده

(۳) معنویت و اخلاق

(۴) علم و پژوهش



## ❖ فصل سوم: هوش و توانمندی های ذهنی و G\_MAT

### ➤ سوالات استخدامی هوش، استعداد تحصیلی و توانمندی های عمومی

\* برای پاسخ به سوالات ۱ تا ۲ از متن زیر استفاده کنید.

هشت داوطلب در یک آزمون ورودی شرکت کرده اند. در مورد نتایج این افراد که آن ها را با حروف S, T, U, V, W, X, Y, Z نشان می دهیم. اطلاعات زیر در دست است.

(۱) هیچ یک از داوطلبان نمره مساوی با داوطلب دیگر نداشته است.

(۲) فرد S نمره ای بالاتر از فرد Z بدست آورده است.

(۳) فقط نمره یک فرد بین نمره دو داوطلب T و X قرار گرفته است.

(۴) فرد Y درست یک رتبه پایین تر از فرد U است.

(۵) فرد V و Y هر دو زتبه ای بهتر از فرد S بدست آورده اند.

(۶) فرد W بالاترین نمره (رتبه اول) را بدست آورده است.

۱- اگر Y رتبه چهارم و X رتبه پنجم را بدست آورده باشند، کدام گزینه قطعاً صحیح است؟ (iranarze.ir)

(۱) T در رتبه سوم قرار دارد

(۲) Z در رتبه هشتم قرار دارد

(۳) S در رتبه دوم قرار دارد

(۴) V در رتبه سوم قرار دارد

۲- در صورتی که رتبه ی چهارم و پنجم به ترتیب به افراد X و U تعلق گرفته باشد، رتبه ی دوم متعلق به کدام فرد می تواند باشد؟ (iranarze.ir)

(۱) T

(۲) V

(۳) S

(۴) Y

\* در سوال زیر یک سوال و دو گزاره که با او II مشخص گردیده و در آنها اطلاعاتی داده شده است، تشکیل می شود.

(۱) اگر اطلاع (I) به تنهایی برای پاسخگویی به سوال کافی باشد ولی اطلاع (II) به تنهایی کافی نباشد و یا اینکه اطلاع (II) به تنهایی برای پاسخگویی به سوال کافی باشد ولی اطلاع (I) به تنهایی کافی نباشد. گزینه «۱» صحیح است.

(۲) اگر هر یک از دو اطلاع (I) و (II) به تنهایی برای پاسخگویی به سوال کافی نباشد ولی هر دو با هم کافی باشد، گزینه «۲» صحیح است.

(۳) اگر هر یک از دو اطلاع (I) و (II) به تنهایی برای پاسخگویی به سوال کافی باشند. گزینه «۳» صحیح است.

(۴) اگر هر دو اطلاع (I) و (II) با هم نیز برای پاسخگویی به سوال کافی نباشند. گزینه «۴» صحیح است.

۳- بهزاد ۵۰ عدد تمبر خریداری کرده است. تمبرها در دو قیمت ۲۰ تومانی و ۲۵ تومانی عرضه می شوند. چه تعداد از تمبرها ۲۵ تومانی است؟ (iranarze.ir)

(۱) این شخص کلاً ۱۱۰۰ تومان برای تمبرها خرج کرده است.

(II) تعداد تمبرهای ۲۰ تومانی  $1\frac{1}{2}$  برابر تعداد تمبر های ۲۵ تومانی خریداری شده است.

\* در سوال ۴ یک سوال از دو گزاره که با I و II مشخص گردیده و در آنها اطلاعاتی داده شده است، تشکیل می‌شود.

(I) اگر اطلاع (I) به تنهایی برای پاسخگویی به سوال کافی باشد، ولی اطلاع (II) به تنهایی کافی نباشد و یا اینکه اطلاع (II) به

تنهایی برای پاسخگویی به سوال کافی باشد ولی اطلاع (I) به تنهایی کافی نباشد، گزینه «الف» صحیح است.

(۲) اگر هر یک از دو اطلاع به تنهایی برای پاسخگویی به سوال کافی نباشد ولی هر دو با هم کافی باشد، گزینه «ب» صحیح

است.

(۳) اگر هر یک از دو اطلاع (I) و (II) به تنهایی برای پاسخگویی به سوال کافی باشند، گزینه «ج» صحیح است.

(۴) اگر هر دو اطلاع (I) و (II) با هم نیز برای پاسخگویی به سوال کافی نباشد، گزینه «د» صحیح است.

۴- اگر  $120 < n < 100$  باشد مقدار n چقدر است؟ (iranarze.ir)

(I) اگر n بر ۳ تقسیم کنیم، باقیمانده ۳ خواهیم داشت.

(II) اگر n-۲ را بر ۵ تقسیم کنیم، باقیمانده نخواهیم داشت.

۵- در تساوی‌های زیر، ارتباط خاصی برقرار است، در سومین تساوی به جای علامت سوال چه اسمی باید قرار بگیرد؟

مینا - ▲ + ■

(۱) ابراهیم (۲) شهروز

تقی - ▲ + ■

(۳) فرزانه (۴) شهرزاد

؟ - ■ + ●

\*\*\* در سوال زیر با توجه به اطلاعات داده شده به سوالات پاسخ دهید.

۶- «متوسط وزن کودکان ۶ ماهه ایرانی به طور طبیعی بین ۶ تا ۹ کیلوگرم مشخص شده است. به این ترتیب اگر یک کودک

۶ ماهه وزنی کمتر از ۶ کیلوگرم داشته باشد، می‌توان نتیجه‌گیری کرد که افزایش وزن او کمتر از حد متوسط برای کودکان

ایرانی بوده است.»

کدام یک از جملات زیر نشان دهنده یک لغزش در استدلال فوق است؟ (iranarze.ir)

(۱) وزن مناسب، فقط یکی از شرایط طبیعی بودن رشد کودک است.

(۲) وزن بعضی کودکان ۵ ساله ممکن است حتی به ۲۰ کیلوگرم هم برسد.

(۳) افزایش وزن کمتر از متوسط، نشان دهنده یک حالت غیر طبیعی نیست.

(۴) متوسط افزایش وزن و متوسط وزن مفهوم یکسانی ندارند.

۷- در ۵ تراکنش متوالی، (تهیه شده توسط ایران عرضه) در هر کدام نسبت به قبلی، ۸۰ درصد، مبلغ موجودی حساب کسر

شده است. اگر بعد از آخرین تراکنش، ۸۰ تومان باقی مانده باشد، در اولین تراکنش، چند هزار تومان کسر شده است؟

۵۰ (۴)

۸۰ (۳)

۲۰۰ (۲)

۲۵۰ (۱)

۸- یک ساعت شنی که زمان ریختن شن های آن، ۵۰ ثانیه است و دو ساعت دیجیتالی که یکی، هر ۵ ثانیه و دیگری، هر ۹ ثانیه زنگ می زند، در اختیار داریم. اگر هر سه ساعت، همزمان شروع به کار کنند، برای شنیدن حداقل ۸ مرتبه صدای همزمان هر دو ساعت، چند مرتبه نیاز به برگرداندن ساعت شنی داریم؟ (iranarze.ir)

۱۰ (۴)

۹ (۳)

۷ (۲)

۶ (۱)

راهنمایی: با توجه به اطلاعات زیر به سوال ۹ پاسخ دهید.

اطلاعات مربوط به کارمندان خیره بانک «الف» در یک استان که فقط تحویلدار و حسابرس هستند، جمع آوری شده است. جدول زیر، نسبت تحویلداران و حسابرسان خیره زن و مرد را از مجموع تحویلداران و حسابرسان خیره این بانک در استان نشان می دهد.

«نسبت تحویلداران و حسابرسان خیره زن و مرد از مجموع

تحویلداران و حسابرسان خیره این بانک در استان»

جنسیت / کارمند خیره	زن	مرد
تحویل دار	$\frac{1}{5}$	$\frac{11}{20}$
حسابرس	$\frac{3}{20}$	$\frac{1}{10}$

۹- تقریباً چند درصد از کارمندان خیره مرد این بانک در استان، حسابرس هستند؟ (iranarze.ir)

۷/۷ (۴)

۹/۴ (۳)

۱۳/۷ (۲)

۱۵/۴ (۱)

راهنمایی: در این بخش از آزمون، دو متن داده شده است. هر کدام از متن ها را به دقت بخوانید و پاسخ سوال هایی را که در زیر هر متن آمده است، با توجه به آنچه می توان از متن استنتاج یا استنباط کرد انتخاب کنید و در پاسخنامه علامت بزنید.

متن اول:

در بسیاری از سازمان ها، تعارض به صورت یک مسئله جدی وجود دارد. شاید در همه جا این پدیده دارای چنان قدرتی نباشد که موجب انحلال سازمان شود، ولی تردیدی نیست که می تواند بر عملکرد سازمان اثرات ناگوار بگذارد یا شرایطی را به وجود آورد که سازمان، بسیاری از نیروهای کارآمد خود را از دست بدهد. تعارض در سازمان، در هم شکستن همکاری یا تهدیدی برای آن به حساب می آید. البته بروز تعارض در سازمان ها، هم طبیعی است و هم در روابط افراد مورد انتظار است. تعارض وضعیتی است که افراد متعامل در زمینه اهداف اصلی و فرعی و ارزش ها با یکدیگر اختلاف دارند که خود شامل سه راهبرد است: ۱) راهبرد عدم مقابله: شیوه های اجتناب و تطبیق یا سازش؛ ۲) راهبرد راه حل گرا: شیوه های همکاری و مصالحه؛ ۳) راهبرد کنترل: با شیوه رقابتی یکسان است. رابینز هرنوع مخالفت یا تعامل خصمانه را تعارض می نامد و منشأ آن را کمیابی منابع، موقعیت اجتماعی، قدرت با نظام های ارزشی متفاوت می داند و بر این باور است که «تعارض فراگردی است که در

آن، تلاش عمدی شخص «الف» برای خنثی سازی تلاش های شخص «ب» از طریق نوعی مانع تراشی، به عجز و ناکامی شخص «ج» در دستیابی به اهداف و منابع منجر می شود». مدیریت تعارض، مدیریت برخورد با اختلافات و ناسازگاری ها توسط مدیران و چگونگی اداره کردن تعارض با سه سبک عدم مقابله، راه حل گرا و کنترلی است. فراگیری مدیریت تعارض، برای بهبود انطباق و بهره گیری . ( متن ناقص است)

۱۰- کدام مورد زیر، به بهترین وجه لحن کلی متن را توصیف می کند؟ (iranarze.ir)

(۱) بی تفاوتی عامدانه (۲) انتقادی (۳) ناامید کننده (۴) تحلیلی

متن دوم:

نیروگاه های زمین گرمایی یا ژئوترمال به واحدهای تبدیل انرژی گفته می شود که انرژی خود را از طریق سیال گرم شده از طریق عبور از میان لایه های پوسته زمین به دست می آورد. اگر نیروگاه های زمین گرمایی را با سایر نیروگاه های انرژی های نو مقایسه کنیم مشاهده می کنیم که نیروگاه های زمین گرمایی به دلیل بالا بودن ضریب دسترسی (۸۵٪ زمان در سال)، در جهان از اهمیت فراوانی برخوردارند و از این نوع نیروگاه ها می توان به عنوان بار پایه شبکه استفاده نمود. در زیر سطح زمین یک لایه سنگ داغ و مذاب به نام ماگما وجود دارد، که به طور مداوم حرارت در این لایه از مواد رادیواکتیو مانند اورانیوم و پتاسیم تولید می شود. این مقدار حرارت می تواند ۵۰۰۰۰ برابر بیش تر از منابع نفت و گاز انرژی تولید کند. مناطقی که درجه حرارت زمین به دلیل وجود آتشفشان ها و یا نازک بودن پوسته ی زمین بالاست، برای این صنعت مدنظر هستند. حاشیه اقیانوس آرام و حلقه آتشفشان ها را می توان جز بهترین گزینه ها معرفی کرد. از طریق ارتعاشات حاصل از زلزله ها ماگماها، سنگ های گرم و پوسته زمین اجازه حرکت آب به سمت بالا را داده و چشمه های آب گرم را به وجود می آورند، این چشمه ها از طریق حرارت زمین گرم شده و دمایشان تا حدود ۲۰۰ درجه سانتی گراد نیز می رسد. نیروگاه های زمین گرمایی را با توجه به نوع سیال خروجی از چاه های تولیدی و نیز تجهیزات مورد استفاده در سیکل نیروگاه آن ها را دسته بندی نمود. بر این اساس نیروگاه های زمین گرمایی به سه دسته تقسیم می شوند.

۱۱- کدام مورد زیر را می توان درباره نیروگاه های زمین گرمایی به درستی از متن استنباط کرد؟ (iranarze.ir)

(۱) این نیروگاه ها، بار پایه شبکه در تمام سال را مهیا می کند.

(۲) اتلاف انرژی در این نیروگاه ها، زمانی که در جای درستی بنا شوند، بسیار پایین است.

(۳) میزان انرژی تولیدی سالانه هر کدام از این نیروگاه ها از نیروگاه های فسیلی بیشتر است.

(۴) هم اکنون نیروگاه هایی که در حاشیه اقیانوس آرام و حلقه آتشفشان وجود دارند، همگی از این نوع انرژی زمین گرمایی هستند.

۱۲- کدامیک از اعداد زیر نسبت به سایر اعداد متفاوت است؟ (iranarze.ir)

(۱) ۲۱ (۲)  $\sqrt{121}$  (۳) ۱۳ (۴) ۱۷

۱۳- امروز پس فردای روزی است که سه هفته از ۱۵ خرداد می‌گذرد، اگر ۱۰ اردیبهشت دوشنبه باشد، فردا چند شنبه خواهد بود؟ (iranarze.ir)

(۱) چهارشنبه (۲) پنجشنبه (۳) جمعه (۴) سه‌شنبه

۱۴- در یک زبان، «تانا دونا مکا» به معنی «آب بسیار سرد»، «تانانتا» به معنی «آب گرم» و «دونا بلا» به معنی «بسیار خوب» است. کدام کلمه به معنی سرد است؟ (iranarze.ir)

(۱) تانا (۲) دونا (۳) مکا (۴) نتا

۱۵- خواربار فروشی از برنج هایش، یک بار یک سوم و بار دیگر یک دوم با باقیمانده را فروخت. حال اگر ۳۰ کیلوگرم برنج داشته باشد، قبل از فروش چند کیلوگرم داشته است؟ (iranarze.ir)

(۱) ۱۲۰ (۲) ۹۰ (۳) ۷۵ (۴) ۱۰۵

۱۶- سه و نیم برابر پول علی ۱۲ تومان بیشتر از ۲ برابر آن است. علی چند اسکناس ۲ تومانی دارد؟ (iranarze.ir)

(۱) ۴ (۲) ۲ (۳) ۸ (۴) ۱۲

۱۷- کلاس «گل شقایق» دو برابر کلاس «گل ااقیا» دانش آموز دارد. پس از اضافه شدن ۲۰ نفر به کلاس «گل شقایق» و ۳۰ نفر به کلاس «گل ااقیا» تعداد دانش آموزان هر دو کلاس ۱۴۰ نفر شده است. در ابتدا تعداد دانش آموزان کلاس «گل شقایق» چند نفر بوده است؟ (iranarze.ir)

(۱) ۴۵ (۲) ۷۰ (۳) ۶۰ (۴) ۱۰۰

۱۸- نسبت ..... به تیغ مثل فرو رفتن است به .....؟ (iranarze.ir)

(۱) برندگی- نیزه (۲) برندگی- میخ (۳) شمشیر - دست (۴) نیزه - کارد

۱۹- در یک گزارش از عملکرد یک کارمند، آمده است که در سال جاری نسبت به سال قبل، وی تعداد روزهایی که سرکار بوده را ۲۰ درصد افزایش داده و به ۱۹۲ روز رسانده است. وی سال قبل، چند روز کار کرده است؟ (iranarze.ir)

(۱) ۱۵۲ (۲) ۱۶۰ (۳) ۱۷۵ (۴) ۱۸۰

راهنمایی: اطلاعات زیر را بخوانید و باتوجه به آن، به سوال های ۲۰ و ۲۱ که در زیر آن آمده است، پاسخ دهید و در پاسخنامه علامت بزنید.

شرکتی برای تأمین کادر اداری خود، با هفت نفر به اسامی A, B, C, D, E, F, G و مصاحبه کرده، سپس آنها را برحسب عملکردشان مرتب نموده و ۴ نفر اول را قبول و ۳ نفر آخر را رد اعلام می کند. اطلاعات زیر، درخصوص این افراد و وضعیت مصاحبه شان موجود است.

- B و E یا هر دو قبول می شوند یا هر دو رد.

- A و G، یکی قبول و دیگری رد می شود.

- عملکرد D در مصاحبه، از C بهتر است.



۲۰- اگر C قبول شده باشد، کدام مورد به طور قطع، صحیح است؟ (iranarze.ir)

(۱) E رد شده است. (۲) G رد شده است. (۳) B قبول شده است. (۴) A قبول شده است.

۲۱- اگر C رد ولی A قبول شده باشد، وضعیت کدام فرد زیر، از لحاظ قبولی یا ردی در مصاحبه، به طور قطع، مشخص نمی شود؟ (iranarze.ir)

(۱) B (۲) D (۳) E (۴) G

- هر سؤال حاوی دو اطلاع (تحت عنوان اطلاع I و اطلاع II) است.

مطابق دستورالعمل زیر، پاسخ صحیح سوال ۲۲ را مشخص نمائید.

\* اگر اطلاع I به تنهایی برای پاسخگویی به سؤال مطرح شده کافی باشد ولی اطلاع II به تنهایی کافی نباشد (یا برعکس)، گزینه ۱ را علامت بزنید.

\* اگر دو اطلاع I و II با هم برای پاسخگویی به سؤال کافی باشند ولی هر کدام از این دو اطلاع به تنهایی برای پاسخگویی به سؤال کافی نباشند، گزینه ۲ را علامت بزنید.

\* اگر هر کدام از دو اطلاع I و II به تنهایی برای پاسخگویی به سؤال کافی باشد، گزینه ۳ را علامت بزنید.

\* اگر دو اطلاع I و II با هم نیز برای پاسخگویی به سؤال کافی نباشند، گزینه ۴ را علامت بزنید.

۲۲- سود سالیانه یک شرکت از درآمد سالیانه آن، منهای هزینه‌های سالیانه محاسبه می‌شود. سود سالیانه شرکت A در سال ۲۰۱۱ چقدر است؟

(I) درآمد سالیانه این شرکت در سال ۲۰۱۱ معادل ۱۱,۲۲۳,۴۵۶ ریال است.

(II) هزینه‌های سالیانه این شرکت در سال ۲۰۱۱ معادل ۸,۲۴۷,۹۳۴ ریال است.

(۱) I کافی و II ناکافی (۲) هر دو کافی، به تنهایی ناکافی

(۳) I و II به تنهایی کافی (۴) I و II هر دو ناکافی

۲۳- کدام یک از شهرهای زیر، لزوماً باید هم در شمال و هم در غرب E قرار داشته باشد؟ (iranarze.ir)

(۱) C و B (۲) C و D (۳) B و A (۴) A و C

۲۴- کدام یک از عبارتهای زیر، لزوماً صحیح نیستند؟ (iranarze.ir)

(۱) B شمال F است. (۲) E شمال D است. (۳) C شرق F است. (۴) C شمال D است.

\*\* با توجه به متن زیر به سوال ۲۵ پاسخ دهید:

پنج خانواده که شامل خانواده سعید، خانواده خاله سعید، خانواده عمه سعید، خانواده دایی سعید و خانواده عموی سعید هستند، توسط پنج خودروی پراید، پژو، سمند، تندر ۹۰ و پیکان (هر خانواده با یک خودرو) به پیک نیک می روند و با رعایت محدودیت های زیر، در مقصد وارد یک ویلا می شوند:

• خودروی پراید که متعلق به عموی سعید نمی باشد، یا اولین خودرویی است که وارد ویلا می شود یا چهارمین خودرو.

- خودروی تندر ۹۰ دقیقاً بعد از خودروی عمه سعید و دقیقاً قبل از خودروی دایی سعید وارد ویلا می شود.
- دقیقاً قبل از خودروی پژو، خودروهای عموی سعید و دایی سعید، به ترتیب وارد ویلا می شوند.
- خودروی خاله سعید، دقیقاً جلوی خودروی سمند وارد ویلا می شوند.

پاسخ نامه زیر کلی بوده و برای حل سوال ۲۵ به کار میرود

با در نظر گرفتن مورد ۱ و ۲ میتوان به قطع جدول زیر را رسم کرد.

****	پژو	****	تندر ۹۰	****	****
****	****	دایی سعید	عموی سعید	عمه سعید	****

با در نظر گرفتن اینکه خودرو خاله سعید قبل از سمند وارد میشود و خودرو عمه سعید قطعاً مشخص نیست میتوان به گفت

خاله سعید یا نفر اول است یا نفر چهارم که در این صورت جدول به دو حالت بعدی رسم میشود

پژو	پیکان / پراید	تندر ۹۰	سمند	پیکان / پراید
سعید	دایی سعید	عموی سعید	عمه سعید	خاله سعید

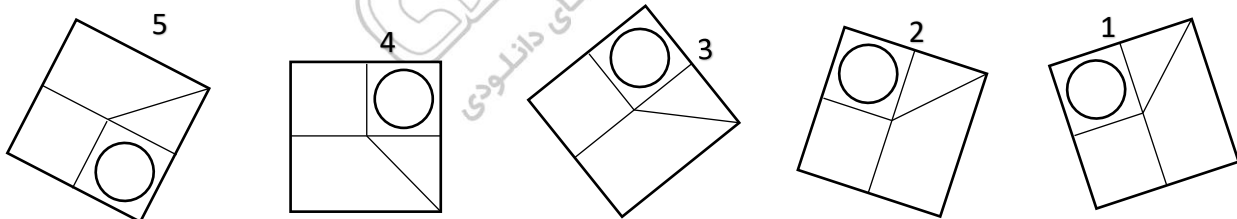
سمند	پژو	پیکان	تندر ۹۰	پراید
سعید	خاله سعید	دایی سعید	عموی سعید	عمه سعید

۲۵- اگر خودرو خاله سعید، (تهیه شده توسط ایران عرضه) پیکان باشد، خودروی عمه سعید کدام است؟ (iranarze.ir)

(۱) پراید (۲) تندر ۹۰ (۳) پژو (۴) سمند

۲۶- کدام تصویر روبرو، با بقیه متفاوت است؟ (iranarze.ir)

(۱) ۲ (۲) ۳ (۳) ۴ (۴) ۵



۲۷- تحقیقات نشان می دهد بازده کاری افراد پس از ۵۰ ساعت کار در هفته، به شدت افت می کند. بازدهی کارمندانی که

در هفته ۵۵ ساعت کار می کنند، نزدیک به صفر می رسد. شاید باورش سخت باشد، ولی افرادی که در طول هفته ۷۰

ساعت کار می کنند، میزان کار مفیدشان با کسانی که ۵۵ ساعت کار می کنند. . . . ؟ (iranarze.ir)

(۱) افتی نشان نمی دهد (۲) کاملاً برابر است

(۳) فقط به اندازه زمان بیشتری که می گذارند تغییر می کند (۴) حتی قابل مقایسه هم نیست

راهنمایی : هر کدام از سوال های زیر را به دقت بخوانید و جواب هر سوال را در پاسخنامه علامت بزنید.

۲۸- در یک درمانگاه، یک پرستار به ازای هر ۲ سرمی که تزریق می کند، ۵ آمپول (وریدی و غیر وریدی) تزریق می کند. اگر ۴۵ درصد از آمپول هایی که این پرستار زده است، وریدی باشد، وی حداقل چند سرم تزریق کرده است؟ (iranarze.ir)

- (۱) ۱۰ (۲) ۸ (۳) ۱۶ (۴) ۱۲

۲۹- پزشکی روز شنبه تعدادی بیمار را ویزیت کرده است. اگر در روزهای بعد این پزشک هر روز یک نفر بیشتر از روز قبل ویزیت کرده و در ظرف مدت ۷ روز، ۸۴ نفر را ویزیت کرده باشد، وی روز شنبه، چند نفر را ویزیت کرده است؟

- (۱) ۵ (۲) ۱۲ (۳) ۹ (۴) ۸

۳۰- در یک دایره کدام دو خط نمیتوانند موازی باشند؟ (iranarze.ir)

- (۱) یک شعاع و یک مماس (۲) دو مماس (۳) دو قطر (۴) دو وتر

۳۱- در صورتی که دو نقاش، دو اتاق را ظرف مدت دو ساعت رنگ بزنند، چند نفر لازم است تا ۱۸ اتاق را ظرف مدت ۶ ساعت رنگ بزنند؟ (iranarze.ir)

- (۱) ۶ نفر (۲) ۹ نفر (۳) ۱۲ نفر (۴) ۱۸ نفر

۳۲- جمع (تهیه شده توسط ایران عرضه) محصولات باغ سیب ۳ کشاورز در طول سال گذشته ۱۸ تن بوده است، اگر کشاورز ۲، ۳ برابر کشاورز ۳ و کشاورز ۱، ۲ برابر کشاورز ۲ برداشت کرده باشد، کشاورز ۲ چند کیلو برداشت کرده است؟ (iranarze.ir)


- (۱) ۱۸۰۰ (۲) ۲۶۰۰ (۳) ۵۴۰۰ (۴) ۷۲۰۰

۳۳- رابطه وزارت با ترازو مانند رابطه ..... است با بیرق: (iranarze.ir)

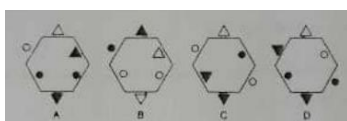
- (۱) درفش (۲) نزدیک (۳) پرچم (۴) بلندی

در تمامی مکعب ها در صورتی که وجه سفید رو به بالا باشد میتوان مشاهده کرد که تمامی وترها از گوشه چپ و پایین هر وتر به سمت مخالف رفته اند در صورتی که در شکل C این وترها از گوشه چپ و بالا به سمت مقابل خود رفته اند.

۳۴- کدام شش ضلعی باید جایگزین علامت سوال شود؟ (iranarze.ir)



- (۱) A  
(۲) B  
(۳) C  
(۴) D



۳۵- نسبت ..... به ..... مانند نسبت ..... به ..... کدام شکل است؟ (iranarze.ir)

- (۱) A (۲) B (۳) C (۴) D

۳۶- در یک مرغداری تعدادی سگ برای محافظت از مرغ ها وجود دارد. در یک حمله گرگ ها توانستند  $\frac{2}{7}$  مرغ ها و  $\frac{2}{5}$  سگ ها را با خود ببرند. صبح روز بعد که صاحب مرغداری باخبر شد. تصمیم گرفت برای پیدا کردن آن ها به صحرا برود. او توانست ۸ پای سگ و ۴۸ پای مرغ در زیر درختی پیدا کند. اگر این پاها، پاهای همان حیوانات ربوده شده باشد، مشخص کنید در این مرغ داری کلا چند سگ و چند مرغ باقی مانده است؟ (iranarze.ir)

- (۱) ۲۴۰ مرغ و ۲۰ سگ  
(۲) ۶۰ مرغ و ۳ سگ  
(۳) ۱۶۸ مرغ و ۲ سگ  
(۴) ۸۴ مرغ و ۲۰ سگ

با توجه به توضیحات زیر به سوال ۳۷ پاسخ دهید.

پنج لامپ که کنار هم به ترتیب از چپ به راست با شماره های ۱ تا ۵ شماره گذاری شده اند (مطابق شکل) با رعایت قوانین زیر می توانند به حالت روشن و خاموش در بیایند:



- اگر لامپ شماره ۱ روشن باشد، لامپ های ۱۰۵ و ۱۰۶ باید خاموش باشند
- اگر لامپ های ۲ و ۳ باهم روشن باشند سه لامپ دیگر باید خاموش باشند
- اگر لامپ شماره ۵ خاموش باشد از چهار تا لامپ دیگر فقط دو لامپ مجاور هم باید روشن باشد.

۳۷- اگر لامپ ۳ (تهیه شده توسط ایران عرضه) روشن باشد کدام لامپ (یا لامپ ها) لزوما باید خاموش باشد؟ (iranarze.ir)

- (۱) فقط ۱  
(۲) فقط ۲  
(۳) ۱ و ۲  
(۴) ۱، ۲ و ۵

۳۸- اگر همه لامپ ها خاموش باشند با تغییر حالت (روشن کردن) حداقل چند لامپ، می توان شرایطی را فراهم نمود که هیچ یک از قوانین فوق نقض نشوند؟ (iranarze.ir)

- (۱) ۱  
(۲) ۲  
(۳) ۳  
(۴) ۴

۳۹- کدام ترکیب، مناسبت کمتری با سه ترکیب دیگر دارد؟ (iranarze.ir)

- (۱) قاضی و مغضوب  
(۲) سائل و مسئول  
(۳) قاصد و مقصود  
(۴) حاصل و محصول

۴۰- اگر بخواهیم از یک میله ۹۰ سانتی متری، ۷ تکه ۱۰ سانتی متری ببریم، چند برش لازم است؟ (iranarze.ir)

- (۱) ۶  
(۲) ۷  
(۳) ۸  
(۴) ۹

۴۱- اگر در جمعیت کره‌ی زمین ۷ میلیارد نفر بوده و (تهیه شده توسط ایران عرضه) به طور نمایی با ضریب ثابت نسبت به جمعیت پایه در هر سال رشد نمود، و پس از ۲۵ سال دو برابر گردد، در ۷۰ سال بعد جمعیت زمین چند میلیارد نفر خواهد شد؟ (iranarze.ir)

- (۱) ۲۸  
(۲) ۲۵  
(۳) ۲۱  
(۴) ۳۵

در روانشناسی انسان گرا، مبنا بر این است که انسان توان تغییر را دارد و اسیر گذشته و احساس سرکوب شده خود نیست و بنابراین میتواند در هر زمان که بخواهد، برای بهتر و سالم تر شدن اقدام کند. در این نگاه، مسئولیت اصلی به انسان باز می‌گردد که واجد ویژگی‌های مانند یگانگی، فردیت و تفاوت‌های فردی است و سبب میشود که هر انسانی از دیگر انسان‌ها متفاوت بوده و حضور منحصر بفردی داشته باشد. روانشناسی انسان گرا با موضع‌گیری در مقابل دو مکتب مطرح زمان خویش، یعنی رفتارگرایی روان‌کاوی، کوشید جنبه‌های مغفول ماهیت انسان را در کانون توجه خود قرار دهد و در همین راستا بود که دو روان‌شناس مشهور، آبراهام مزلو و کارل راجرز، در پژوهش‌های و تحقیقات خود شاخص‌هایی را برای انسان سالم برشمردند. مزلو در مسیر رشد انسان، فرآیندی را بیان میکند که شامل پنج بخش یا مرحله است که عبارتند از: نیازهای بدنی، نیاز به امنیت، نیاز به محبت و عشق، نیاز به احترام و نیاز به خودشکوفایی. از نظر وی نیازهایی که در سطح پایین تر قرار دارند، مانند نیازهای بدنی، نسبت به نیازهای بالاتر همچون نیاز به خودشکوفایی مقدم بوده و از نیرومندی و قدرت بیشتری برخوردارند. همچنین نیازهای بدنی و امنیت مربوط به دوران کودکی، نیاز به محبت و عشق و نیاز به احترام متعلق به دوران نوجوانی و نیاز به خودشکوفایی مربوط به میانسالی است. نکته دیگر این است که ارضای نیازهای بالاتر برای بقا چندان ضروری نیست. اما ارضای آنها موجبات رشد و بالندگی فرد را فراهم میکند و البته مستلزم شرایط مناسب بیرونی (اجتماعی، اقتصادی و سیاسی) است. کارل راجرز دیگر روانشناسی بود که در شکل‌گیری روانشناسی انسان گرا نقش مهمی ایفا کرد. وی که بر اختیار، انتخاب و استقلال در افراد تاکید داشت، از تجربه‌های کاملاً فردی هر انسان سخن گفت که متفاوت از دیگر افراد است و بنابراین تاکید کرد که برای درک دیگران باید کوشید دنیا را از منظر آنها نگریم و نه از منظر خود به بررسی و تحلیل تجربه‌ها، باورها و اعتقادات دیگران پرداخت. روانشناسی انسان گرا بر تعلیم و تربیت نیز تأثیرات بسیاری گذاشته است. این رویکرد سبب شد که الگوهای مختلف در امر آموزش طرح شده و ما امروزه با تنوع بسیاری در روش‌های آموزشی و نیز در ارائه و شکل‌دهی برنامه‌های مراکز آموزشی از مهدکودک تا پایان دوره دبیرستان مواجه باشیم. این رویکرد واجد ویژگی‌هایی نیز هست که نگاه مثبت به انسان به عنوان موجودی منعطف که میتواند برای بهتر شدن تغییر کند، از جمله این ویژگی‌هاست. ویژگی دیگر، توجه نظام‌های انسان گرا به ادراک است تا کسب دانش. در این نظام‌ها احساس، تفکر، تعقل، بیان فکر و حل مسئله به مراتب مهم‌تر از اندوختن مجموعه‌ای از اطلاعاتی است که احتمالاً هرگز به کار انسان نخواهد آمد. در همین راستاست که خلاقیت و آزادی مطرح میشود. سومین ویژگی اصلی نظام‌های انسان گرا، توجه به روابط بین فردی است که سبب میشود فرایند آموزش به نتایج ارزشمندی برسد تا در نهایت فرد بتواند بر مبنای ارزش‌های زندگی در جامعه‌ای انسانی زندگی کند. تا کنون الگوهای آموزشی گوناگونی مبتنی بر آموزه‌های روانشناسی انسان گرا شکل گرفته‌اند، نظیر الگوی مبتنی بر روش‌های یادگیری، الگوی یادگیری مشارکتی، الگوی رژیو امیلیا، الگوی خانواده فعال، الگوی گروه‌های ترکیبی و ...

۴۲- کدام مورد زیر را میتوان از مطالب مطروحه در پاراگراف ۱، به درستی برداشت کرد؟ (iranarze.ir)

۱) هنگامی انسان اسیر گذشته و احساس سرکوب شده خود میشود که ایمان به تغییر را از دست بدهد

۲) زمینه ساز رشد روانشناسی انسان گرا، با نقد مبانی رفتار گرایی و روانکاوی آغاز شده است  
۳) با آنکه هر انسانی خاص است، ولی ملاک هایی نزد برخی روان شناسان انسان گرا وجود دارد که هویت کلی انسان سالم را ترسیم میکنند

۴) غایت روانشناسی انسان گرا، ایجاد انسانی است که بتواند با ایجاد قابلیت تغییر در خود، جامعه پذیری کسب کند.  
۴۳- در دو پاراگراف پایانی متن، به کدام مورد، به عنوان یکی از ویژگی های تاثیر رویکرد انسان گرا بر تعلیم و تربیت اشاره نشده است؟ (iranarze.ir)

۱) ایجاد امید به تغییر به سوی بهتر شدن

۲) ایجاد تمایز در برنامه ریزی آموزشی برای مقاطع تحصیلی مختلف

۳) توجه به ادراک وقایع

۴) زندگی ارزش مدار در جامعه

راهنمایی: برای پاسخگویی به سوال های ۴۴ تا ۴۵، لازم است موقعیتی را که در هر سوال مطرح شده، مورد تجزیه و تحلیل قرار دهید و سپس گزینه ای را که فکر میکنید پاسخ مناسبتری برای آن سوال است، انتخاب کنید. هر سوال را با دقت بخوانید و با توجه به مطالب مطرح شده در هر سوال و نتایجی که بیان شده و بیان نشده ولی قابل استنتاج است، پاسخی را که صحیح تر به نظر می رسد، انتخاب و در پاسخنامه علامت بزنید.

۴۴- از مطالعاتی که اخیرا انجام شده، این گونه بر می آید که افرادی که هوش هیجانی بالا دارند. از سازگاری اجتماعی و مهارت های اجتماعی بهتری برخوردارند. آنان به دلیل مهارت های اجتماعی بالا، به گونه ای سودمند و متقابل با مردم و محیط اجتماعی تعامل برقرار میکنند و لذا در مسیر زندگی خود، کمتر به مشکل بر می خورند. بنابراین، مسئولان آموزش و پرورش باید در کنار آموزش های کلاسیک مدرسه ای، ساعاتی را نیز وقف آموزش و تقویت هوش هیجانی دانش آموزان کنند. فرض لازم برای قبول نتیجه گیری متن کدام است؟ (iranarze.ir)

۱) هوش هیجانی اکتسابی

۲) مدرسه نوعی محیط اجتماعی است

۳) سطح آموزش کلاسیک مدرسه پایین است

۴) هدف غایی زندگی، سودبخشی اجتماعی است

۴۵- چه چیزی در انتظار فرزند دوم است؟ این کودک نیز موقعیتی منحصر بفرد دارد. از یک جهت، او هرگز قدرت و جایگاه محور بودن را تجربه نمیکند. زیرا آن جایگاه پیش تر توسط فرزند اول اشغال شده است بنابراین حتی اگر دوباره خواهر یا برادر دیگری پا به دنیا بگذارد، فرزند دوم آن حس کودکانه خلع شدگی را که خودش با ظهورش از فرزند اول گرفته است،..... (iranarze.ir)

۱) تشدید میکند

۲) تجربه نخواهد کرد

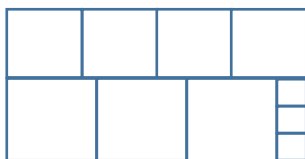
۳) به دست می آورد

۴) فراموش نمیکند

راهنمایی: هرکدام از سوال های ۴۶ تا ۴۸ را به دقت بخوانید و جواب های هر سوال را در پاسخنامه علامت بزنید.

۴۶- ده مربع مطابق شکل زیر، کنار هم چیده شده و یک مستطیل بزرگ را ساخته اند. نسبت اضلاع مستطیل ساخته شده

کدام است؟ (iranarze.ir)



(۴) ۲ به ۳

(۳) ۱۱ به ۱۸

(۲) ۹ به ۱۹

(۱) ۱۱ به ۲۰

۴۷- ۱۰ مخزن پر از آب که هر کدام ظرف مدت ۲۰ دقیقه خالی می شود، داریم. علی مسئول ۴ مخزن و محمد مسئول ۶ مخزن است. علی و محمد، همزمان شیر تخلیه اولین مخزن خود را باز می کنند. علی پس از خالی شدن هر مخزن، شیر مخزن بعدی اش را باز می کند. ولی محمد شیر مخازن خود را دقیقاً با فاصله  $x$  دقیقه ای باز می کند، اگر مخزن چهارم و مخزن ششم محمد همزمان بطور کامل خالی شوند،  $x$  کدام است؟ (iranarze.ir)

(۴) ۱۶

(۳) ۱۲

(۲) ۱۰

(۱) ۸

۴۸- ۱۲ کشاورز با توانایی یکسان، با روزی ۸ ساعت کار می توانند ۵ درصد یک زمین گندم را درو کنند. برای درو کردن  $\frac{3}{8}$  آن زمین چند کشاورز با روزی ۶ ساعت کار لازم است؟ (iranarze.ir)

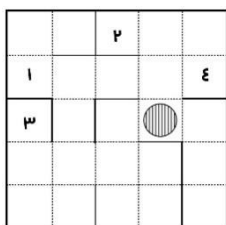
(۴) ۴۰

(۳) ۹۰

(۲) ۶۰

(۱) ۱۲۰

۹۷- شکل زیر، یک الگوی پازل مانند و یک گوی در آن را نشان می دهد. الگو در هر مرحله، ۹۰ درجه در جهت عقربه های ساعت (ساعتگرد) می چرخد و پس از متعادل شدن، گوی بر اثر جاذبه سقوط می کند. برای اولین مرتبه، گوی در کدام مکان شماره گذاری شده، زودتر از دیگر مکان های شماره گذاری شده قرار میگیرد؟ (iranarze.ir)



(۴) ۱

(۳) ۳

(۲) ۲

(۱) ۴

راهنمایی در این بخش از آزمون یک متن داده شده است این متن را به دقت بخوانید و پاسخ سوال هایی را که در زیر آن آمده است به توجه به آنچه می توان از متن استنتاج یا استنباط کرد انتخاب کنید و در پاسخنامه علامت بزنید.

"والدین اغلب خودشان را مسئول عاقبت فرزندان در زندگی می دانند، ولی باید بدانند که هرگز این طور نیست و در نهایت، خود فرزند، مسئول انتخاب هایش هست ولی از آنجا که فکر می کنند موفقیت فرزندان به ما بستگی دارد وارد حوزه ای می شویم که به آن تعلق نداریم. به ما آموخته اند که باید به طریقی فرزندانمان را کنترل کنیم. بنابراین بیشتر ما بدون فکر کردن وارد حریم آنها می شویم. ما فکر می کنیم که باید به کودکان انگیزه بدهیم تا چیزهای خاصی را در زندگی بخواهند، ولی این کار فقط موجب می شود تا آنها در برابر ما واکنش نشان بدهند. ممکن است که کودک خواسته های شما را انجام بدهد تا از

سرزنش های شما رها شود یا حتی شما را راضی کند. ولی این مسئله موجب ایجاد انگیزه در او نمی شود. دوباره تکرار می کنم شما باید برای کودکان خود الهام بخش باشید و آنها را ترغیب کنید، هدف ما یکسان است ما می خواهیم که فرزندانمان انگیزه داشته باشد ولی چیزی که موجب ایجاد تفاوت می شود روش رسیدن به این هدف است. در واقع بعضی از کودکان نسبت به سایرین انگیزه کمتری دارند. {۱} کودکانی وجود دارند که بسیار باهوش اند ولی در کارنامه شان نمره های پایینی می گیرند {۲} بعضی از آنها با وجود تمام تلاش های معلم و والدین در کلاس می نشینند و به یکجا میزنند. {۳} شاید فرزند شما فراموش می کند تکالیف مدرسه اش را انجام بدهد. یا بدتر از آن، تکالیف مدرسه را انجام می دهد ولی هرگز آنها را به معلم نشان نمی دهد. شاید کودکی در سن پیش از نوجوانی دارید که ظاهرا به هیچ چیز علاقه مند نیست و هیچ سرگرمی یا شور و اشتیاقی ندارد. شاید نوجوان شما به راحتی تسلیم می شود یا نمی خواهد تلاش کند {۴}

اگر کودک انگیزه کمی دارد این مسئله می تواند به دلیلی برای نگرانی و سرخوردگی و حتی گاهی ناامیدی مبدل شود و این، همان جایی است که مشکل شروع می شود. مشکل اصلی واکنش شما به نبود انگیزه در کودک است، نه خود مسئله بی انگیزه بودن کودک. وقتی از او عصبانی می شوید، سعی می کنید به دلیل اضطراب و نگرانی خودتان، او را با انگیزه کنید و فراموش می کنید که نمی توان کسی را وادار کرد که به چیزی اهمیت بدهد.

۴۹- طبق متن کدام مورد صحیح است؟ (iranarze.ir)

- ۱) کودکی ممکن است تکالیف درسی خود را انجام دهد، ولی آن را به معلم نشان ندهد
- ۲) تلاش کودک در کسب رضایت والدین، نشانه وجود انگیزه درونی در او است
- ۳) وارد حریم کودکان شدن، به هر شکلی که باشد مجاز نیست
- ۴) والدین مسئول عاقبت فرزندان در زندگی هستند.

۵۰- کدام مورد نقش پاراگراف ۳ در رابطه با پاراگراف ۲ را به بهترین وجه توصیف می کند؟ (iranarze.ir)

- ۱) دلیل اصلی ایجاد پدیده مورد بحث در پاراگراف ۲ را آشکار میسازد
- ۲) درباره نحوه برخورد با معضلی که در پاراگراف ۲ آمده است هشدار میدهد
- ۳) عواقب رفتار نامناسب والدین در خصوص برخورد با معضلاتی که در پاراگراف ۲ آمده است را بر می شمارد
- ۴) پارادوکسی در رفتار تربیتی برخی والدین را توصیف میکند که خود موجب مشکلاتی در است که در پاراگراف ۲ به آن پرداخته است



## سوالات استخدامی GMAT

۱- با افزایش ۸۰ درصدی وزن A، مجموع وزن A و B، ۲۰ درصد افزایش می یابد. کدام مورد زیر، صحیح است؟ (iranarze.ir)

- (۱) به طور قطع نمی توان چیزی گفت  
(۲) وزن B، سه برابر وزن A است  
(۳) وزن A، ۱/۵ برابر وزن B است  
(۴) مجموع وزن های A و B، ۴/۵ برابر وزن A است

۲- هما چند مرتبه در آزمون زبان شرکت کرده است. نمره وی در هر آزمون، از دو برابر نمره آزمون قبلی اش، ۲ نمره کمتر است. اگر وی سه بار آزمون داده باشد و در آزمون دوم، نمره اش ۶۰ درصد افزایش پیدا کرده باشد، در آزمون سوم نسبت به آزمون دوم، نمره اش چند درصد افزایش یافته است؟ (iranarze.ir)

- (۱) ۵۷ (۲) ۶۰ (۳) ۶۶ (۴) ۷۵

۳ - گاری یک دست فروش تحمل حمل حداکثر ۱۲ کیسه آرد یا حداکثر ۲۱ کیسه گندم و یا حداکثر ۳۰ کیسه برنج را دارد. این دستفروش علاوه بر ۷ کیسه گندم و ۷ کیسه برنج، حداکثر چند کیسه آرد میتواند به بار گاری اضافه و حمل کند؟ (iranarze.ir)

- (۱) ۴ (۲) ۵ (۳) ۶ (۴) ۷

\*\* با توجه به اطلاعات داده شده به سوالات ۴ الی ۵ پاسخ دهید.

در یک مسابقه شطرنج، چهار شطرنج باز به اسامی A، B، C و D هر کدام دو مرتبه با دیگر حریفان مسابقه می دهند همه مسابقات یک برنده داشته است. از نتایج مسابقات، فقط اطلاعات زیر در دست است: (iranarze.ir)

تعداد بردهای A دو برابر تعداد باخت هایش بوده است

نه C و نه D موفق نشده اند هیچ کدام از حریفهای خود را هر دو بار ببرند.

B نه به C باخته است و نه به D

با توجه به شروط دوم و سوم، فرم اولیه جدول بازی ها به شکل مقابل میباشد که در آن حرف موجود مربع نشان دهنده

	A	B	C	D
A		?	?	?
B	?		B	B
C	?	B		D
D	?	B	C	

برنده بازی است

۴- کدام یک از موارد زیر، صحیح میباشد؟ (iranarze.ir)

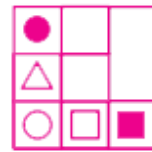
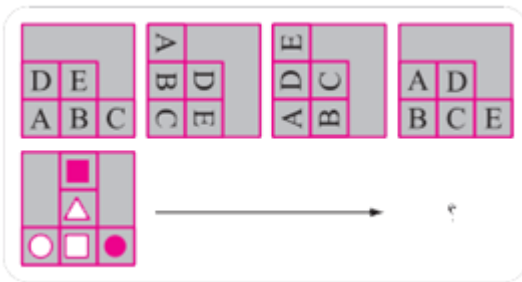
(۱) B و C میتوانند هر کدام یک بار A را برده باشند. (۲) تعداد بردهای A و B نمی تواند با هم برابر باشد

(۳) C می تواند در همه مسابقات خود بازنده باشد (۴) D می تواند فقط در سه مسابقه بازنده باشد

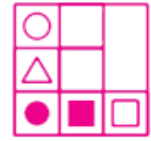
۵- اگر D فقط یک برد کسب کرده باشد، A مقابل چه کسی (یا کسانی)، هر دو مسابقه خود را لزوما برده است؟

- (۱) فقط B (۲) فقط D (۳) C و D (۴) B و D

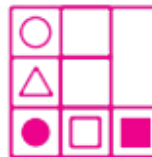
۶- در شکل زیر، الگوی اول (بالایی) در چهار مرحله تغییر می کند. اگر الگوی دوم (الگوی پایینی) نیز به همین طریق تغییر نماید، این الگو نهایتاً بعد از تغییر چهارم، به کدامیک از موارد ۱ تا ۴ تبدیل خواهد شد؟ (iranarze.ir)



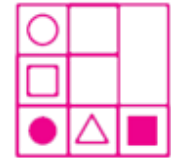
(۲)



(۱)



(۴)



(۳)

\*\* فرض کنید مصرف سرانه بنزین در چهار استان کشور که به ترتیب از شمال غرب تا جنوب شرق روی یک خط فرضی قرار دارند، اندازه گیری شده است. مصرف سرانه استان تهران از بهار تا زمستان، به ترتیب ۱۱۰، ۱۲۵، ۱۱۰ و ۷۷ لیتر بوده است. همچنین درصد رشد سرانه مصرف بنزین هر استان نسبت به استان مجاور غربی اش، در جدول زیر داده شده است (برای مثال: در فصل تابستان، سرانه مصرف بنزین استان یزد ۲۰ درصد کمتر از استان اصفهان بوده است).

استان	بهار	تابستان	پاییز	زمستان
البرز	۱۱.۱۱	۱۷.۹۲	-۹.۰۹	۱۰.۰۰
تهران	-۱۰.۰۰	-۲۰.۰۰	۰۰.۰۰	۱۲.۹۰
اصفهان	-۱۱.۱۱	-۲۰.۰۰	۱۰.۰۰	-۱۹.۵۴
یزد				

۷- سرانه مصرف بنزین کدام دو مورد، اختلال قابل ملاحظه ای با یکدیگر دارند؟ (iranarze.ir)

(۱) بهار البرز و بهار اصفهان (۲) زمستان البرز و زمستان یزد (۳) پاییز البرز و پاییز یزد (۴) بهار یزد و تابستان یزد

۸- اختلاف سرانه مصرف بنزین در استان اصفهان، در فصل های پاییز و بهار، چند لیتر میباشد؟ (iranarze.ir)

(۱) ۱۱ (۲) ۱۲ (۳) ۱۰ (۴) ۹

۹ - انسانهای امروز، گویی دو راه بیشتر ندارند، یا بمانند تا آینده اکنونشان در رسد و آنان نیز از مشربه و مآکله آن برخوردار شوند و یا میتوانند به آینده امروز سفر کنند و از مواهب آن متنعم گردند. لذا دیگر لزومی ندارد آینده را تنها در زمان به انتظار بنشینیم؛ می توان برای جلو افتادن در زمان، جغرافیا و مکان را تغییر داد و به آینده رفت و از زندگی خوش آینده بهره مند شد. کسانی که نمیتوانند منتظر باشند، مهاجرت را بر میگزینند.

کدام مورد، فرض پنهان در استدلال فوق است؟ (iranarze.ir)

(۱) کشورهایی که به لحاظ مرز بندی های جغرافیایی از هم جدا هستند، به لحاظ شرایط موجود خود، متفاوت و نتیجتاً به یک زمان واحد تعلق ندارند.

۲) انسان در تعجیل برای رسیدن به آینده خود، نقشی ندارد.

۳) کسی که از مواهب زمان حال بهره میبرد، به نوعی آینده را در حال میجوید.

۴) مهاجرت تنها راه رسیدن به آیندهای در خور شأن انسانی است.

۱۰- در شکلهای زیر، ارتباط خاصی بین الگوها از چپ به راست وجود دارد. به جای علامت سوال، کدام الگو (موارد ۱ تا ۴) باید

قرار بگیرد تا این ارتباط حفظ شود؟ (iranarze.ir)



(۲)



(۱)



(۴)



(۳)

۱۱- دانشمندان در حال بررسی راه هایی برای از بین بردن دی اکسید کربن اضافی از جو زمین با افزایش جذب آن، توسط گیاهان هستند. یک طرح برای رسیدن به این هدف، ایجاد مزارع شناور خزه دریایی در اقیانوس ها است. وقتی که خزه دریایی می میرد، میتوان آن را سوزاند و به عنوان سوخت استفاده کرد.

کدام یک از موارد زیر، در صورتیکه صحیح فرض شود، نشان دهنده جدی ترین ضعف در طرح فوق است؟ (iranarze.ir)

۱) سالانه حدود ۷ میلیارد تن دی اکسید کربن به درون جو زمین آزاد میشود، اما فقط حدود ۵ میلیارد تن توسط گیاهان جذب میشود

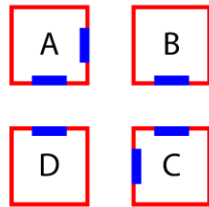
۲) وقتی که یک خزه دریایی سوزانده میشود، برابر با مقدار دی اکسید کربنی که در زمان حیات خود جذب میکند، دی اکسید کربن انتشار می دهد

۳) حتی اگر مزارع خزه دریایی، اثربخشی خود را ثابت نمایند، برخی مردم تمایلی به روی آوردن به این نوع سوخت نشان نخواهند داد

۴) برخی مناطق اقیانوس در نیمکره جنوبی، دارای املاح لازم برای مزارع بزرگ خزه دریایی نمی باشند.

\*\* با توجه به اطلاعات داده شده به سوالات ۱۲ الی ۱۳ پاسخ دهید.

\*\* شکل زیر، چهار سالن A، B، C، D در یک نمایشگاه را نشان میدهد که دو سالن مطابق شکل، دو در و دو سالن دیگر، دارای تنها یک در می باشند. هر کدام از این سالن ها، مربوط به یکی از موارد پوشاک، صنایع دستی، مواد غذایی و لوازم خانگی میباشدند. اطلاعات و محدودیتهای زیر، موجود است. (iranarze.ir)



• سالن لوازم خانگی دو در دارد.

• سالن صنایع دستی یا یک در دارد یا C است.

• سالن B مربوط به پوشاک نمیشد.

• سالنهای پوشاک و مواد غذایی، در روبروی یکدیگر ندارند.

۱۲- اگر سالن پوشاک، تنها یک در داشته باشد، کدام مورد، لزوماً صحیح است؟ (iranarze.ir)

(۱) سالن های پوشاک و لوازم خانگی، در روبروی هم ندارند

(۲) سالن های صنایع دستی و لوازم خانگی در روبروی هم دارند.

(۳) سالن های لوازم خانگی و مواد غذایی در روبروی هم ندارند.

(۴) سالن مواد غذایی دو در دارد.

۱۳- اگر سالن D مربوط به صنایع دستی باشد، کدام دو سالن، درهای روبروی یکدیگر دارند؟ (iranarze.ir)

(۱) مواد غذایی و لوازم خانگی

(۲) مواد غذایی و پوشاک

(۳) پوشاک و لوازم خانگی

(۴) لوازم خانگی و صنایع دستی

۱۴ - پزشک: تحقیقات نشان می دهد که نوجوانانی که مرتب بازی کامپیوتری میکنند، سه برابر افرادی که بازی نمی کنند،

مستعد ابتلا به سندرم تونل مچ دست هستند. قانونی که فروش بازی های کامپیوتری را به افراد زیر سن قانونی ممنوع کند،

به مهار کردن این نوع ناراحتی دردناک در بین نوجوانان کمک خواهد کرد. (iranarze.ir)

نتیجه گیری پزشک فوق، بر اساس کدامیک از فرضیه های زیر میباشد؟

(۱) تنها چیزی که باعث می شود یک نوجوان دچار سندرم تونل مچ دست شود، بازی کامپیوتری است.

(۲) اکثر نمایندگان مجلس، به قانون ممنوعیت فروش بازی های کامپیوتری به افراد زیر سن قانونی رأی مثبت خواهند داد.

(۳) همه نوجوانانی که به طور منظم بازی کامپیوتری می کنند، مبتلا به سندرم تونل مچ دست نیستند.

(۴) بسیاری از والدین، از خرید بازی های کامپیوتری برای فرزندان خود خودداری خواهند کرد.

۱۵- این روزها شرکت های دارویی و متخصصین بهداشت، توجه خود را به کلسترول خون معطوف کرده اند. هر چه میزان کلسترول خون مان بالاتر باشد، ریسک مردن در اثر حمله قلبی بیشتر است. این مسأله منطقی است، چرا که بیماری قلبی نسبت به هر کدام از دیگر عوامل، سالانه افراد بیشتری را می کشد. حداقل سه عامل «سیگار، پرخوری و عدم تحرک» هر کدام میتواند مقدار کلسترول خون را تحت تأثیر قرار دهد.

کدامیک از موارد زیر را میتوان از متن فوق، نتیجه گرفت؟ (iranarze.ir)

- ۱) اگر فردی میزان کلسترول خون خود را تحت نظر داشته باشد، ریسک ابتلای وی به بیماری کشنده قلبی پایین است.
  - ۲) یک رژیم غذایی با کلسترول بالا، علت اصلی مرگ افراد می باشد.
  - ۳) ریسک بیماری کشنده حمله قلبی را با تغییراتی در سبک زندگی می توان تغییر داد.
  - ۴) تنها راهی که سیگار، ریسک ابتلا به بیماری قلبی را افزایش می دهد، از طریق تغییر سطح کلسترول خون میباشد.
- \*\* با توجه به اطلاعات داده شده به سوالات ۱۶ الی ۱۷ پاسخ دهید.**

**\*\* فردی بنام X قرار است برای انجام یک پروژه تحقیقاتی به هر یک از شهرهای مشهد، تبریز و اصفهان، دو سفر انجام دهد و به تهران برگردد. وی که باید هر یک از این شش سفر را در یک روز از هفته (شنبه تا پنجشنبه) انجام دهد، در برنامه ریزی با محدودیت های زیر مواجه میباشد:**

- سفرهای تبریز را در باید روزهای غیر از یکشنبه و پنجشنبه انجام دهد.
- دو سفر به مشهد را نمیتواند در دو روز متوالی انجام دهد.
- در روز شنبه نمی تواند به اصفهان سفر کند.

۱۶- اگر X یکی از سفرهای خود به مشهد را دقیقاً بین دو سفرش به اصفهان انجام دهد، اولین سفرش به مشهد، در کدام روز باید انجام شود؟ (iranarze.ir)

- ۱) شنبه      ۲) یکشنبه      ۳) دوشنبه      ۴) موارد ۲ و ۳

۱۷ - اگر سفرهای تبریز خود را بخواهد در دو روز متوالی انجام دهد، ممکن است سفر به کدام شهر (شهرهایی) را در روز دوشنبه انجام دهد؟ (iranarze.ir)

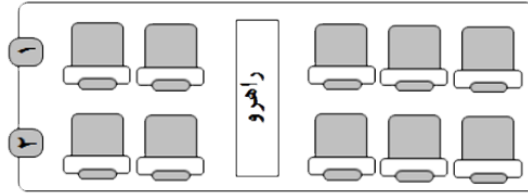
- ۱) اصفهان و مشهد      ۲) تبریز و اصفهان      ۳) فقط اصفهان      ۴) هر سه شهر

**\*\* با توجه به اطلاعات داده شده به سوالات ۱۸ الی ۲۱ پاسخ دهید.**

آقای بهرامی به همراه همسر و مادرش، آقای حمیدی به همراه همسر و دخترش و آقای صفاپور به همراه همسر، برادر و خواهرش، سه خانواده غریبه هستند که قرار است در یک پرواز، در دو ردیف اول یک هواپیما (مطابق شکل)، با محدودیتهای زیر بنشینند: (iranarze.ir)

- هیچ زن و مرد نامحرمی نمی توانند کنار یکدیگر بنشینند.
- دختر آقای حمیدی مایل است کنار پنجره بنشیند.

- آقای بهرامی طوری کنار همسرش می نشیند که همسرش کنار راهرو قرار نگیرد.
- آقای صفاپور کنار خواهرش و دقیقاً پشت سر بردارش می نشیند.
- همسر آقای حمیدی دقیقاً پشت سر دخترش می نشیند.



\*\* با توجه به شروط بالا دو حالت نشستن زیر ثابت میباشد و با استفاده از این موارد میتوان به سوالات زیر پاسخ داد

ب. صفاپور		ب. صفاپور		د. حمیدی
صفاپور	خ. صفاپور	خ. صفاپور	صفاپور	خ. حمیدی

۱۸ - اگر آقای بهرامی دقیقاً پشت سر مادرش بنشیند، کدامیک از افراد زیر، میتواند کنار خواهر آقای صفاپور بنشیند؟

(۱) مادر آقای بهرامی (۲) همسر آقای صفاپور

(۳) همسر آقای حمیدی (۴) همسر آقای بهرامی

۱۹ - اگر آقای حمیدی و دخترش در ردیف ۳ تایی نشسته باشند، چه کسی لزوماً کنار مادر آقای بهرامی نشسته است؟

(۱) همسر آقای صفاپور (۲) همسر آقای بهرامی

(۳) همسر آقای حمیدی (۴) خواهر آقای صفاپور

۲۰ - در چند حالت مختلف، دو زن و شوهر از سه زن و شوهر میتوانند بین دو نفر دیگر قرار بنشینند؟ (iranarze.ir)

			د. حمیدی	ه. بهرامی	بهرامی
			خ. حمیدی	م. بهرامی	ه. صفاپور

۳ (۱)

۲ (۲)

۳ صفر (۳)

۱ (۴)

۲۱ - اگر آقای حمیدی - طراحی شده توسط ایران عرضه - کنار پنجره بنشیند، چند نفر به طور قطع کنار راهرو نشسته اند؟

۳ (۴)

۴ (۳)

۲ (۲)

۱ (۱)

۲۲ - در تصویر زیر، بین اعداد هر شکل ارتباط خاصی برقرار است. به جای علامت سؤال، چه عددی باید قرار گیرد؟

4	6
7	
13	9

10	9
5	30

۷ (۱)

۵ (۲)

۹ (۳)

2	22
2	
15	6

14	10
?	
25	7

۱۱ (۴)

۲۳ - در سال ۲۰۰۴، ۳۰ میلیون فرانسوی به طور میانگین ۴۰ ساعت در هفته کار میکردند و حدوداً ۲۵ میلیون فرانسوی بر این باور بودند که شغلشان بسیار ملال آور است. این ارقام نشان میدهند که جمعیت نسبتاً کمی از افرادی که با میانگین بیش از ۴۰ ساعت در هفته کار می کردند، شغلشان را ملال آور نمیدانستند. کدام مورد، بیانگر وجود نقیصی منطقی برای این استدلال است؟ (iranarze.ir)

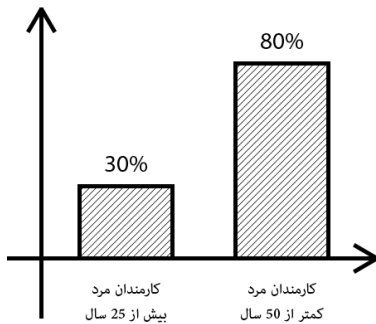
(۱) این احتمال را که ممکن است تقریباً هیچ شباهتی میان گروهها وجود نداشته باشد، نادیده می گیرد.

(۲) دو نتیجه گیری درباره گروه هایی با علایق دوگانه را در کنار هم قرار می دهد.

(۳) براساس شواهدی نتیجه گیری می کند که می توانند مبنای چندین نتیجه گیری دیگر نیز باشند.

(۴) نتیجه گیری آن، براساس فرضیاتی است که یکدیگر را نقض میکنند.

۲۴ - نمودار زیر، آماری از کارمندان مرد یک اداره را نشان میدهد. اگر ۴۰ درصد از کارمندان مرد و ۲۰ درصد از کارمندان مرد بالای ۵۰ سال، فوتبال بازی کنند، چند درصد از کارمندان مرد که در این اداره فوتبال بازی میکنند، زیر ۵۰ سال سن دارند؟



(۱) ۶۰

(۲) ۷۰

(۳) ۸۰

(۴) ۹۰

۲۵ - آزمایشی که از سیستم های رادار حسگر طوفان متعلق به سازمان هواشناسی به عمل آمد، نشان داد که سیستم متعلق به حدود پنجاه سال قبل، نسبت به سیستم رایانه ای جدید، ۱۰ برابر قابل اعتمادتر است. بنابراین فناوری به کار رفته در سیستم جدید رادار، از پیچیدگی و کارآمدی کمتری نسبت به فناوری به کار رفته در رادار پنجاه سال قبل برخوردار است.

نتیجه گیری فوق، به کدامیک از فرضیه های ضعیف زیر، وابسته است؟

(۱) میزان پیچیدگی و کارآمدی فناوری به کار رفته در رادارهای تشخیص طوفان، از روی قابلیت اعتماد سیستم، قابل تعیین است

(۲) سخت افزار رایانه ای، در حال حاضر عنصر اصلی سیستم های رادار جدید تشخیص طوفان هستند که توسط سازمانهای پیش بینی هوا استفاده می شوند

(۳) قابلیت اعتماد سیستم های رادار تشخیص طوفان، با دقت آنها در پیش بینی الگوهای آب و هوایی، قابل تعیین است.

(۴) قابلیت اعتماد سیستم های رادار تشخیص طوفان، با تعداد دفعات خرابی آن ها، قابل تعیین است.

۲۶ - در یک جامعه نسبت زن ها به مرد ها برابر ۲ به ۵ میباشد و همچنین نسبت افراد بیمار به سالم ۳ به ۸ است. حداقل

چه کسری از افراد سالم زن هستند؟

(۴)  $\frac{1}{56}$

(۳)  $\frac{1}{77}$

(۲)  $\frac{1}{22}$

(۱)  $\frac{35}{77}$

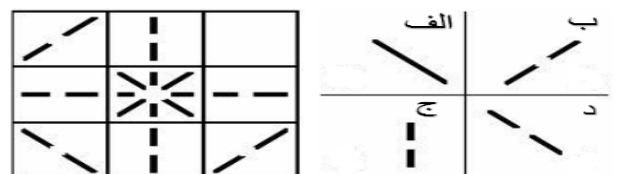
- \*\* هر کدام از سوالات زیر شامل دو مقدار یا کمیت میباشند که یکی در ستون الف و دیگری در ستون ب واقع هستند. مقادیر دو ستون را با همدیگر مقایسه کنید و با توجه دستور العمل، پاسخ صحیح را به شرح زیر انتخاب نمایید:
- اگر مقدار ستون الف بزرگتر است، در پاسخنامه گزینه ۱ زده شود
  - اگر مقدار ستون ب بزرگتر است، در پاسخنامه گزینه ۲ زده شود
  - اگر مقادیر ستون های الف و ب با هم برابر باشند، در پاسخنامه گزینه ۳ زده شود
  - اگر نتوان رابطه ای را بین ستون الف و ب، بر اساس داده های مسئله به دست آورد در پاسخنامه گزینه ۴ زده شود
- ۲۷- ۴ کارگر در ۴ روز میتوانند نمای ساختمان های A و B را به طور کامل رنگ کنند. همچنین ۳ کارگر در ۳ روز میتوانند کل نمای ساختمان B و ثلث نمای ساختمان A را رنگ کنند. (iranarze.ir)

ستون الف	ستون ب
نصف رنگ استفاده شده در نمای ساختمان A	رنگ استفاده شده در نمای ساختمان B

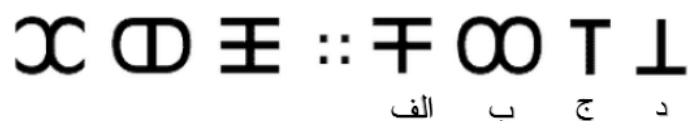
۲۸- افرادی که بدنشان قادر به ساختن ماده سیتوکروم P۴۵۰ نیست، سه برابر افراد عادی، مستعد ابتلا به بیماری پارکینسون -نوعی بیماری که روی مغز تاثیر میگذارد- هستند. از آنجایی که سیتوکروم P۴۵۰ مغز را در برابر مواد سمی محافظت میکند، میتوان نتیجه گرفت که مواد سمی در ابتلای بیماری پارکینسون نقش دارند. کدام یک از موارد زیر در صورتی که صحیح فرض شود، استدلال فوق را تقویت میکند؟ (iranarze.ir)

- (۱) به زودی امکان تولید مصنوعی ماده سیتوکروم P۴۵۰ برای افرادی که بدنشان این ماده را نمیسازد فراهم خواهد شد
- (۲) سیتوکروم P۴۵۰ به جز محافظت مغز در برابر مواد سمی تاثیر دیگری روی مغز ندارد
- (۳) بدن بسیاری از افرادی که قادر به ساختن سیتوکروم P۴۵۰ نمیباشد، قادر به ساختن برخی مواد شیمیایی دیگر نیز نیست
- (۴) افراد مبتلا به بیماری پارکینسون، معمولاً وقتی که با دوپامین - ماده شیمیایی که وسط مغز تولید میشود - مورد مداوا قرار میگیرند، نشانه های بیماری در آنها کاهش می یابد.

۲۹- کدام گزینه برای جای خالی مناسب میباشد؟ (iranarze.ir)

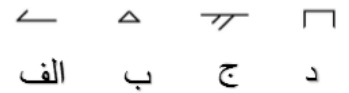
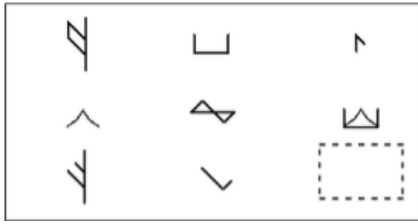


۳۰- کدام گزینه بعدی میباشد؟ (ترتیب از چپ به راست) (iranarze.ir)

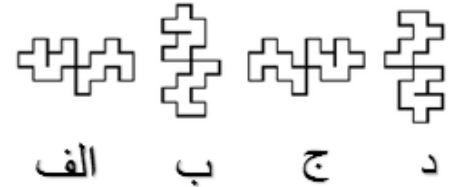




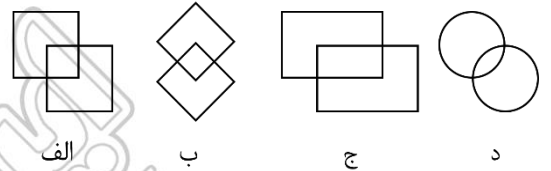
۳۱- کدام گزینه برای جای خالی مناسب میباشد؟ (iranarze.ir)



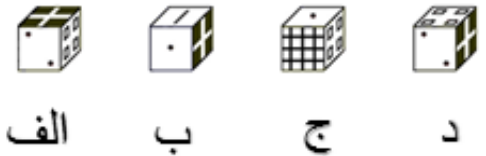
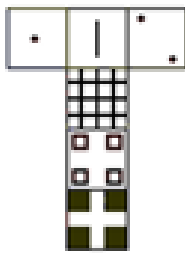
۳۲- کدام گزینه با سایر گزینه ها تفاوت دارد - ناشر ایران عرضه - ؟ (iranarze.ir)




۳۳- کدام گزینه با سایر گزینه ها تفاوت دارد؟ (iranarze.ir)



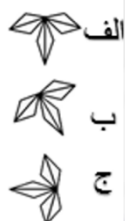
۳۴- با باز کردن کدام گزینه صفحه روبرو حاصل خواهد شد؟ (iranarze.ir)



۳۵- کدام گزینه با سایر گزینه ها تفاوت دارد؟ (iranarze.ir)

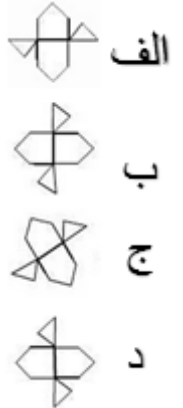


۳۶- کدام گزینه بعدی میباشد؟ (ترتیب از چپ به راست) (iranarze.ir)



(د) هیچکدام

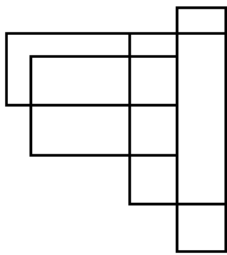
۳۷- کدام گزینه با سایر گزینه ها تفاوت دارد؟ (iranarze.ir)



۳۸- کدام گزینه بعدی میباشد؟ (ترتیب از چپ به راست) (iranarze.ir)



۳۹- در این شکل چند چهار ضلعی میبینید؟ (iranarze.ir)



۲۵ (۴)

۲۲ (۳)

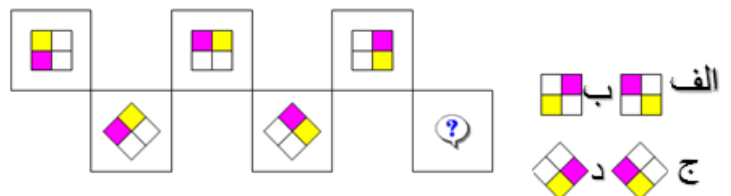
۱۶ (۲)

۱۰ (۱)

۴۰- کدام گزینه بعدی میباشد؟ (ترتیب از چپ به راست) (iranarze.ir)



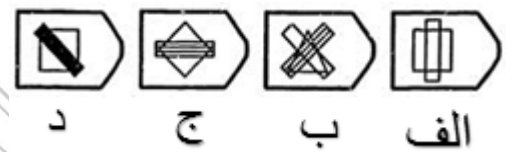
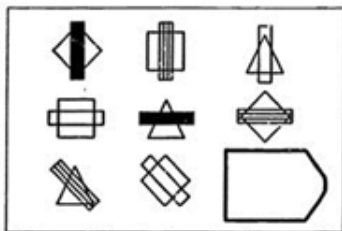
۴۱- کدام گزینه برای جای خالی مناسب میباشد؟ (iranarze.ir)



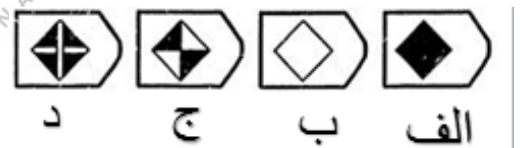
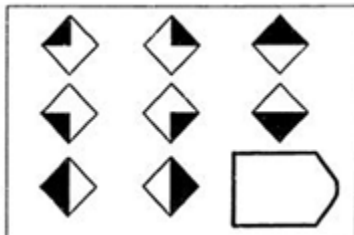
۴۲- کدام گزینه با سایر گزینه ها تفاوت دارد؟ (iranarze.ir)



۴۳- کدام گزینه برای جای خالی مناسب میباشد؟ (iranarze.ir)



۴۴- (تالیف توسط سایت ایران عرضه) کدام گزینه برای جای خالی مناسب میباشد؟ (iranarze.ir)



## ❖ حیطه اختصاصی برخی از مشاغل آزمون طرح شهید زین الدین

### ❖ فصل چهارم: سوالات استخدامی سیاست های کلی نظام در برنامه هفتم با

#### اولویت پیشرفت اقتصادی توام با عدالت تالیف ایران عرضه ۱۴۰۳

۱- حضرت آیت الله خامنه‌ای سیاست‌های کلی برنامه هفتم را پس از مشورت با کدام نهاد ابلاغ نمود؟ (iranarze.ir)

- (۱) مجمع تشخیص مصلحت نظام  
(۲) سران سه قوه  
(۳) رئیس ستاد نیروهای مسلح  
(۴) مجلس شورای اسلامی

۲- اولویت اصلی در سیاست‌های کلی برنامه هفتم قانون اساسی چیست؟ (iranarze.ir)

- (۱) پیشرفت آموزش توام با پیشرفت اقتصادی  
(۲) پیشرفت اقتصادی توام با عدالت  
(۳) رشد اجتماعی و عدالت  
(۴) تقویت نیروهای مسلح

۳- سیاست‌های کلی برنامه هفتم در چند سرفصل و چند بند تصویب شد؟ (iranarze.ir)

- (۱) ۷ سرفصل\_۲۳ بند  
(۲) ۵ سرفصل\_۲۶ بند  
(۳) ۷ سرفصل\_۲۶ بند  
(۴) ۵ سرفصل\_۳۲ بند

۴- در رابطه با راه‌های تحقق سیاست‌ها و الزاماتی که در سیاست‌های ابلاغی نیامده رهبر معظم چه پیشنهادی دارد؟

- (۱) بهبود روزافزون سیاست‌ها  
(۲) ابلاغ آیین نامه ای جداگانه  
(۳) توجه در لوایح در حد وسع و امکانات دولت  
(۴) تدوین در سیاست‌های برنامه هشتم

۹- در راستای سیاست‌های کلی برنامه ۵ ساله هفتم هدف اصلی کدام است؟ (iranarze.ir)

- (۱) پیشرفت اقتصادی توام با عدالت  
(۲) افزایش نرخ رشد اقتصادی متوسط ۸ درصد  
(۳) افزایش بهره‌وری کل عوامل تولید  
(۴) همه موارد

۵- افزایش بهره‌وری کل عوامل تولید شامل کدام یک از منابع زیر نمیشود؟ (iranarze.ir)

- (۱) منابع انسانی (۲) سرمایه  
(۳) واردات و صادرات  
(۴) فناوری و مدیریت

۶- کدام یک از سیاست‌های کلی برنامه هفتم در زمینه رشد اقتصادی نیست؟ (iranarze.ir)

- (۱) تک رقمی کردن تورم  
(۲) جهت دهی نقدینگی به فعالیت‌های غیر مولد  
(۳) ثبات در سطح عمومی قیمت‌ها  
(۴) ثبات نرخ ارز

۷- هدف از استقرار نظام جامع تامین اجتماعی چیست؟ (iranarze.ir)

- (۱) ارائه عادلانه خدمات  
(۲) تقویت نقش هدایت و تنظیم‌گری مالیات در اقتصاد  
(۳) رونق تولید و عدالت مالیاتی  
(۴) تامین بودجه جاری دولت

۸- امنیت غذایی در پرتو ..... است. (iranarze.ir)

- (۱) تولید حداقل ۹۰ درصد کالای اساسی در داخل  
(۲) حفظ و ارتقای ذخایر ژنتیکی  
(۳) تقویت نقش تنظیم‌گری مالیات و ثبات قیمت‌ها  
(۴) گزینه ۱ و ۲

۹- در راستای سیاست‌های افزایش حداکثری تولید نفت خام در میداین مشترک افزایش ارزش افزوده از چه طریقی امکان‌پذیر می‌شود؟ (iranarze.ir)

- (۱) افزایش ضریب بازیافت در میداین مستقل  
(۲) افزایش تولید و صادرات  
(۳) تکمیل زنجیره ارزش صنعت نفت و گاز  
(۴) اجرای طرح عظیم اقتصادی ملی

۱۰- تقویت همبستگی و اعتماد به نفس در راستای ارتقای کدام یک از اهداف زیر می‌باشد؟ (iranarze.ir)

- (۱) ارتقای حوزه فرهنگی و اجتماعی  
(۲) تحقق سیاست‌های کلی آمایش سرزمین  
(۳) اجرای طرح عظیم اقتصاد ملی  
(۴) اجرای طرح‌های روزآمد مبتنی بر آینده نگری

۱۱- ارتقاء سلامت اجتماعی و کاهش آسیب‌های اجتماعی بر اساس کدام یک از معیارهای زیر صورت می‌گیرد؟ (iranarze.ir)

- (۱) تحکیم نرخ باروری  
(۲) شاخص‌های معتبر و بهره‌گیری حداکثری از مشارکت مردم  
(۳) زمانبندی متناسب  
(۴) گزینه ۲ و ۳

۱۲- در راستای سیاست‌های دفاعی و امنیتی تقویت بنیه دفاعی به چه منظور انجام می‌شود؟ (iranarze.ir)

- (۱) ارتقای بازدارندگی  
(۲) اکتساب فناوری‌های اقتدارآفرین  
(۳) تقویت پیوندهای اقتصادی با اولویت همسا  
(۴) گزینه ۱ و ۲

۱۳- در راستای احقاق اهداف سیاسی و سیاست خارجی، کنشگری فعال در دیپلماسی رسمی و عمومی چگونه محقق می‌شود؟

- (۱) ایجاد تحول و ظرفیت سازی ارزش و انقلابی در نیروی انسانی  
(۲) همکاری هدفمند و موثر سازمان‌ها و نهادهای مسئول در امور خارجی  
(۳) افزایش شتاب پیشرفت و نوآوری علمی و فناوری  
(۴) گزینه ۱ و ۲

۱۴- چند درصد بودجه عمومی کشور جهت تقویت بنیه دفاعی از طریق خودکفایی و تهیه تجهیزات اولویت‌دار می‌باشد؟

- (۱) ۲ درصد  
(۲) ۵ درصد  
(۳) ۷ درصد  
(۴) ۱۰ درصد

## ❖ فصل پنجم: سوالات استخدامی سند چشم انداز ۱۴۰۴

۱- کدام یک از موارد زیر در تهیه تدوین و تصویب برنامه های توسعه و بودجه سالیانه در نظر گرفته نمی شود؟ (iranarze.ir)

(۱) نرخ سرمایه گذاری

(۲) تولید خالص ملی

(۳) نرخ اشتغال و تورم

(۴) کاهش فاصله درآمد میان دهک های بالا و پایین جامعه

۲- چشم انداز مبنای تنظیم سیاستهای کلی برنامه خود را برای چند سال آینده تنظیم می نماید؟ (iranarze.ir)

(۱) برنامه چهار ساله (۲) برنامه ۵ سال آینده (۳) برنامه ۲۰ سال آینده (۴) برنامه ده سال آینده

۳- کدام یک از گزینه های زیر از مبنای اصلاح نظام آموزشی کشور میباشد؟ (iranarze.ir)

(۱) تلاش در جهت تبیین و استحکام مبنای مردم سالاری دینی

(۲) کسب فناوری به ویژه فناوری های نو

(۳) تقویت نهضت نرم افزاری سازماندهی و بسیج امکانات

(۴) کارآمد کردن نظام فنی حرفه ای و تامین منابع انسانی مورد نیاز

۴- کسب اطلاعات و ارتباطات زیست محیطی و هوافضای هسته ای از زیر دسته های کدام یک از موارد زیر می باشد؟

(۱) اصلاح نظام آموزشی کشور (۲) کسب فناوری

(۳) تقویت نهضت نرم افزاری (۴) گسترش فعالیتهای رسانه ملی

۵- همه گزینه ها جز سیاستهای کلی برنامه چهارم در جهت توسعه امور فرهنگی و علمی و فناوری می باشد به جز....

(۱) برنامه ریزی برای بهبود رفتارهای فردی و اجتماعی

(۲) تقویت وجدان کاری و انضباط اجتماعی

(۳) ایجاد انگیزه و عزم ملی برای دستیابی به اهداف چشم انداز

(۴) تلاش در جهت تحقق عدالت و ایجاد فرصت های برابر

۶- ..... در پرتو امور اجتماعی سیاسی دفاعی و امنیتی در نظر گرفته می شود. (iranarze.ir)

(۱) تلاش در جهت تبیین نهضت مردم سالاری (۲) اصلاح نظام آموزشی کشور

(۳) کسب فناوری های نو (۴) تلاش در جهت رفع دغدغه های شغلی و ازدواج و مسکن

۷- ..... از جمله اصول آزمایش سرزمینی می باشد. (iranarze.ir)

(۱) حفظ هویت اسلامی و حراست از میراث فرهنگی

(۲) اصلاح نظام آموزشی کشور

- ۳) تقویت هویت ملی جوانان متناسب با آرمان‌های انقلاب اسلامی
- ۴) گسترش و نیرو بخشیدن به روحیه تعاون و مشارکت عمومی
- ۸- بهره‌گیری از روابط برای افزایش توان ملی از جمله اصول کدام یک از سیاست‌های زیر می‌باشد؟ (iranarze.ir)
- ۱) سیاست‌های فرهنگی (۲) سیاست‌های اجتماعی (۳) آزمایش سرزمینی (۴) مناسبات سیاسی
- ۹- ایجاد اشتغال مولد و کاهش نرخ بیکاری از جمله کدام یک از سیاست‌های زیر می‌باشد؟ (iranarze.ir)
- ۱) سیاست‌های آموزشی (۲) سیاست‌های خارجی (۳) امور اقتصادی (۴) امور فرهنگی
- ۱۰- توانمندسازی بخش‌های خصوصی و تعاونی به عنوان محرک اصلی رشد اقتصادی و کاهش تصدی دولت همراه با حضور کارآمد در آن در قلمرو امور حاکمیتی در چهارچوب کلی کدام یک از سیاست‌های قانون اساسی می‌باشد؟ (iranarze.ir)
- ۱) سیاست‌های کلی اصل ۴۴ قانون اساسی (۲) سیاست‌های کلی اصل ۳۴ قانون اساسی
- ۳) سیاست‌های کلی اصل ۵۴ قانون اساسی (۴) همه موارد
- ۱۱- هویت بخشی به سیمای شهر و روستا از جمله سیاست‌های به کار گرفته شده در کدام یک از موارد زیر می‌باشد؟
- ۱) سیاست‌های اقتصادی (۲) سیاست‌های خارجی
- ۳) آزمایش سرزمینی (۴) سیاست‌های فرهنگی
- ۱۲- از جمله موارد شایان ذکر در سیاست‌های کلی برنامه چهارم امور فرهنگی و علمی و فناوری می‌توان به کدامیک از موارد زیر اشاره نمود؟
- ۱) برنامه ریزی برای بهبود رفتارهای اجتماعی و فردی
- ۲) عدالت اجتماعی
- ۳) ایجاد فرصت‌هایی برای تقویت هویت ملی جوانان متناسب با آرمان‌های اجتماعی
- ۴) توجه به مقتضیات دوره جوانی و نیازهای آنها
- ۱۳- اهتمام به امر به معروف و نهی از منکر از کدام سیاست‌ها می‌باشد. (iranarze.ir)
- ۱) سیاست‌های فرهنگی (۲) سیاست‌های اجتماعی
- ۳) سیاست‌های دفاعی و امنیتی (۴) سیاست‌های خارجی
- ۱۴- ..... از امور مربوط به مسائل اجتماعی سیاسی دفاعی و امنیتی کشور می‌باشد. (iranarze.ir)
- ۱) ایجاد نظام جامع اجتماعی برای حمایت از حقوق محرومان و مستضعفان
- ۲) ملاحظات امنیتی و دفاعی
- ۳) کارایی و بازدهی اقتصادی
- ۴) وحدت و یکپارچگی

۱۵- ..... از اصول بسیار مهم ارتقا امور فرهنگی می باشد. (iranarze.ir)

(۱) مقابله با تهاجم فرهنگی (۲) ملاحظات امنیتی (۳) کارایی اقتصادی (۴) وحدت و یکپارچگی

۱۶- اصلاح نظام آموزشی کشور در سند چشم انداز مربوط به..... (iranarze.ir)

(۱) آموزش و پرورش (۲) آموزش عالی (۳) سازمان فنی و حرفه ای (۴) هر سه مورد

۱۷- آمایش سرزمین در سند چشم انداز ۲۰ ساله باید بر اساس: (iranarze.ir)

(۱) ملاحظات امنیتی و دفاعی (۲) کارایی و بازدهی اقتصادی

(۳) وحدت و یکپارچگی سرزمین (۴) هر سه مورد

۱۸- تبیین اهداف و دستاوردهای ایران اسلامی باید در برنامه کدام ارگان گنجانده شود؟ (iranarze.ir)

(۱) دولتی (۲) خصوص (۳) رسانه ملی (۴) هیچ کدام

۱۹- چشم انداز ۲۰ ساله مبنای تنظیم سیاست کلی چند برنامه پنج سال آینده کشور می باشد؟ (iranarze.ir)

(۱) ۵ برنامه (۲) ۶ برنامه (۳) ۴ برنامه (۴) ۳ برنامه

۲۰- در سند چشم انداز ۲۰ ساله به کدام مورد زیر تاکید شده است؟ (iranarze.ir)

(۱) سالم سازی فضای فرهنگی (۲) رشد و آگاهی فضائل اخلاقی

(۳) اهتمام در امر به معروف و نهی از منکر (۴) هر سه مورد

۲۱- در سند چشم انداز در افق ۱۴۰۴ ایران کشوری است با هویت..... (iranarze.ir)

(۱) اسلامی (۲) انقلابی (۳) ملی (۴) اسلامی و انقلابی

۲۲- در سند چشم انداز در افق ۱۴۰۴ ایران کشوری است..... (iranarze.ir)

(۱) دارای جایگاه اول اقتصادی (۲) دارای جایگاه اول علمی و فناوری

(۳) موارد ۱ و ۲ صحیح است (۴) دارای صادرات برتر

۲۳- سازماندهی و بسیج امکانات و ظرفیت کشور در جهت افزایش سهم کشور در..... میباشد؟ (iranarze.ir)

(۱) صادرات غیرنفتی (۲) تولید علمی جهان (۳) تولید علمی کشور (۴) هر سه مورد

۲۴- سند نهایی چشم انداز ۲۰ ساله جمهوری اسلامی ایران به ..... ابلاغ گردید. (iranarze.ir)

(۱) سران سه قوه (۲) قوه مجریه (۳) قوه مقننه (۴) مجلس شورای اسلامی و مجمع تشخیص مصلحت نظام

۲۵- چه ویژگی‌هایی در جامعه ایرانی در افق چشم‌انداز ۲۰ ساله توسعه یافته مطرح می‌شود؟ (iranarze.ir)

(۱) سرمایه اجتماعی در تولید ملی (۲) عدالت اجتماعی و آزادی‌های مشروع

(۳) توانا در علم و فناوری (۴) تبعیض و فساد

۲۶- در تهیه برنامه‌های توسعه و بودجه‌های سالیانه به چه چیزهایی توجه می‌شود؟ (iranarze.ir)

(۱) کاهش فاصله درآمد میان دهک های بالا و پایین جامعه



۲) رشد فرهنگ و آموزش و پژوهش

۳) نرخ تورم و نرخ اشتغال

۴) تمام موارد فوق

۲۷- هدف از اصلاح نظام آموزشی کشور چیست؟ (iranarze.ir)

۱) کاهش هزینه‌های آموزشی

۲) تأمین منابع انسانی مورد نیاز برای تحقق اهداف چشم انداز

۳) کاهش تعداد دانش‌آموزان

۴) افزایش تعداد مدارس

۲۸- ایجاد نظام جامع تأمین اجتماعی برای حمایت از چه کسانی است؟ (iranarze.ir)

۱) کارمندان دولتی      ۲) دانشجویان      ۳) محرومان و مستضعفان      ۴) تجار و بازرگانان

۲۹- اصلاح نظام اداری و قضایی شامل کدام مورد زیر نمی‌شود؟ (iranarze.ir)

۱) افزایش تحرک و کارایی      ۲) بهبود خدمت‌رسانی به مردم

۳) تأمین کرامت و معیشت کارکنان      ۴) افزایش تعداد مدیران موازی

۳۰- هدف از تقویت و کارآمد کردن نظام بازرسی و نظارت چیست؟ (iranarze.ir)

۱) اصلاح قوانین و مقررات برای رفع تداخل میان وظایف نهادهای نظارتی و بازرسی

۲) بهبود کیفیت محصولات

۳) افزایش تعداد بازرسان

۴) کاهش هزینه‌های نظارت

۳۱- تقویت و ثبات روابط خارجی بر اساس قانون اساسی از چه طریقی انجام نمی‌گیرد؟ (iranarze.ir)

۱) مقابله با افزون‌خواهی و اقدام متجاوزانه

۲) حمایت از مسلمانان و ملت‌های مظلوم و مستضعف

۳) تلاش برای جذب توریست‌های خارجی

۴) تلاش برای رهایی منطقه از حضور نظامی بیگانگان

۳۲- تلاش برای تبدیل مجموعه کشورهای اسلامی و کشورهای دوست منطقه به ..... از امور مربوط به مناسبات سیاسی و

روابط خارجی می‌باشد؟ (iranarze.ir)

۱) قطب منطقه‌ای اقتصادی، علمی، فناوری و صنعتی      ۲) مرکز توریستی جهانی

۳) پایگاه نظامی مشترک      ۴) مرکز فرهنگی و هنری

۳۳- پشتیبانی از کار آفرینی مربوط به چه حیطه ای از امور اقتصادی میباشد؟ (iranarze.ir)

- (۱) ایجاد ساز و کار مناسب برای رفع توسعه صادرات  
(۲) تحقق رشد اقتصادی پیوسته  
(۳) ایجاد سازوکار مناسب برای رشد بهره وری عوامل تولید  
(۴) مهار تورم و افزایش قدرت خرید

۳۴- تبدیل در آمد نفت و گاز با دارایی های مولد به چه منظوری میباشد؟ (iranarze.ir)

- (۱) پایدار سازی فرآیند توسعه  
(۲) بهره برداری بهینه از منابع  
(۳) توجه به ارزش های اقتصادی  
(۴) ۲و۱

۳۵- در چشم انداز مربوط به توسعه روستاها، جهت ارتقای سطح در آمد صنایع تبدیلی کوچک و خدمات نوین به چه چیزی

تأکید میشود؟ (iranarze.ir)

- (۱) ارتقای سطح درآمد و زندگی روستائیان و کشاورزان  
(۲) رفع فقر  
(۳) اصلاح نظام قیمت گذاری محصولات  
(۴) تقویت زیرساخت های مناسب تولید

۳۶- محرک اصلی رشد اقتصادی که در چارچوب سیاست های کلی اصل ۴۴ قانون اساسی قرار دارد چیست؟ (iranarze.ir)

- (۱) ارتقای ظرفیت و توانمندی های بخش تعاونی  
(۲) توانمند سازی بخشهای خصوصی و تعاونی  
(۳) تنظیم سیاست های پولی  
(۴) قطع اتکای هزینه های جاری به نفت و تأمین آن

۳۷- فرهنگ سازی برای استفاده از تولیدات داخلی، افزایش تولید و صادرات کالا و خدمات مربوط به کدامیک از سیاست

های کلی برنامه چهارم توسعه جمهوری اسلامی ایران میباشد؟ (iranarze.ir)

- (۱) امور فرهنگی، علمی و فن آوری  
(۲) امور اجتماعی، سیاسی و اقتصادی  
(۳) امور مربوط به مناسبات اجتماعی - اقتصادی  
(۴) امور مربوط به مناسبات سیاسی و روابط خارجی

## ❖ فصل ششم: سوالات استخدامی آمایش سرزمین تالیف ایران عرضه ۱۴۰۳

- ۱- به ایجاد تعادل بین سه عنصر .....، ..... و .....، آمایش سرزمین گفته میشود؟
- (۱) محیط طبیعی - محیط انسانی - فعالیت  
(۲) انسان - محیط طبیعی - محیط فرهنگی  
(۳) فضا - فعالیت - محیط  
(۴) انسان - فضای جغرافیایی - فعالیت
- ۲- مقوله آمایش، تلفیقی از چه علوم می باشد؟ (iranarze.ir)
- (۱) اجتماعی، منطق، زمین شناسی  
(۲) تاریخ، روانشناسی، زیست شناسی  
(۳) اقتصاد، جغرافیا، جامعه شناسی  
(۴) دینی، عقلی، اسلامی و فلسفه
- ۳- بر اساس مفاهیم جدید که در اخیرا در فرانسه منتشر شده است، آمایش سرزمین در حال حاضر شامل .....  
به منظور تحقق آینده ای مطلوب تلقی میشود. (iranarze.ir)
- (۱) سازماندهی اقتصادی (۲) سازماندهی محیط زیستی (۳) سازماندهی اجتماعی (۴) همه گزینه ها
- ۴- نخستین کوشش مدرن در زمینه طرح ریزی منطقه ای، چه نوع طرحی می باشد؟ (iranarze.ir)
- (۱) طرح جامع توسعه و برنامه ریزی فضایی منطقه ای.  
(۲) طرح اجتماعات محلی پایدار.  
(۳) طرح عمرانی دره تنسی  
(۴) طرح توسعه اقتصاد منطقه ای.
- ۵- کدام یک از موارد زیر از اهداف و موضوعات استراتژی های فضایی منطقه ای به شمار می رود؟ (iranarze.ir)
- (۱) تدوین استراتژی کلی برای ۱۵-۲۰ سال آینده.  
(۲) اولویت های محیطی مانند حفاظت تنوع زیستی و حومه ها.  
(۳) حمل و نقل، زیرساخت ها، توسعه اقتصادی، کشاورزی و بهره برداری از معدن و رفع پسماند.  
(۴) همه گزینه ها
- ۶- در چه سال ی دولت فرانسه تصمیم به توسعه وظایف داتار (DATAR) و تاسیس دیاکت (DIACT) گرفت؟
- (۱) پاییز ۲۰۰۷ (۲) زمستان ۲۰۰۷ (۳) پاییز ۲۰۰۵ (۴) زمستان ۲۰۰۵
- ۷- ..... مدعی است که زمینه اصلی تهیه برنامه توسعه اقتصادی، اجتماعی، منطقه ای را فراهم می آورد و با ارائه چهارچوب نظری توسعه منطقه ای در قالب استراتژی توسعه ملی و نتیجه گیری مکانی از آن، امکان تعیین سهم هر یک از بخشهای اقتصادی را با توجه به اهداف توسعه و امکانات منطقه به دست می دهد. (iranarze.ir)
- (۱) طرح پایه آمایش سرزمین (۲) طرح آمایش منطقه  
(۳) طرح اقلیم سرزمین (۴) طرح کالبدی سرزمین
- ۸- کدام یک از موارد زیر جزء وظایف اصلی داتار نمی باشد؟ (iranarze.ir)
- (۱) طراحی سیاست های مشخص اصلاحی.

۲) هماهنگی و ایجاد انسجام میان فعالیت های وزارتخانه ها و مقامات منطقه ای.

۳) آینده نگری: ترسیم تصویر آینده سرزمین.

۴) افزایش سرانه مصرف، رشد اقتصادی، رقابت پذیری منطقه ای

۹- کدام کشور دارای یک سنت تاریخی بلند مدت در ارتباط با برنامه ریزی فضایی و توسعه شهری است؟ (iranarze.ir)

۱) ایران                      ۲) انگلستان                      ۳) آلمان                      ۴) فرانسه

۱۰- طرح های جامع یکپارچگی منطقه ای، توسط چه قانونی بنیان گذاری شدند؟ (iranarze.ir)

۱) قانون برنامه ریزی منطقه ای                      ۲) قانون انسجام و برنامه ریزی شهری

۳) قانون برنامه ریزی و توسعه فضایی                      ۴) قانون همبستگی و نوسازی شهری

۱۱- چه طرح هایی بر پایه یک طرح برنامه ریزی فضایی و توسعه پایدار بنیان گذاری شده اند؟ (iranarze.ir)

۱) طرح های محلی شهرسازی                      ۲) طرح های توسعه اقتصادی منطقه ای

۳) طرح های جامع یکپارچگی منطقه ای                      ۴) طرح های جامع توسعه و برنامه ریزی فضایی منطقه ای

۱۲- در ویژگی فضایی چه موضوعاتی در آن مد نظر قرار می گیرد؟

۱) بحث پایداری در مقیاس کوتاه مدت، میان مدت و دراز مدت                      ۲) نیازمندی ها و ویژگی های مکان ها

۳) لزوم توجه به تمام بخش ها در یک نگرش سیستمی و جامع                      ۴) لزوم هماهنگی اهداف و اقدامات

۱۳- یکی از متخصصان برنامه ریزی ناحیه ای فرانسه به نام ..... در تعریف برنامه ریزی آمایش سرزمین

می نویسد:

آمایش سرزمین، هدف توزیع بهتر جمعیت در ارتباط با منابع طبیعی و فعالیتهای اقتصادی را دنبال می-کند. این تلاش به

منظور اهداف کاملاً اقتصادی نیست و رفاه و توسعه کامل ظرفیتهای بالقوه جمعیت را در نظر دارد. (iranarze.ir)

۱) جان فریدمن                      ۲) ویلیام آلنسو                      ۳) پوتی اوژن کلودیس                      ۴) هنسن نایلز

۱۴- این نظریه از دیدگاه چه کسانی است؟ (iranarze.ir)

«مسئله عدالت اجتماعی در توزیع ثمره های توسعه اقتصادی بر حسب واحی به اندازه توزیع آن بر حسب طبقات اجتماعی

مهم و دشوار است».

۱) پاتریک گدس و مارگارت روزیتر                      ۲) هنسن نایلز و هربرتسون

۳) جان فریدمن و ویلیام آلنسو                      ۴) پورویت و هاوارد

۱۵- چه موردی سیمای کلی و چگونگی پراکنشی و اسکان جمعیت و توزیع استقرار و ساختار اقتصادی-اجتماعی و کنش های

متقابل بین آنها را مشخص می سازد؟ (iranarze.ir)

۱) سازمان توسعه منطقه ای                      ۲) سازمان فضایی

۳) سازمان ملی- منطقه ای                      ۴) سازمان مدیریت برنامه ریزی شهری

۱۶- خطوط کلی برنامه آمایش سرزمین در اسفندماه سال ۱۳۵۳ به پیشنهاد چه کسانی بود؟

- (۱) مهندسين مشاور ستيران
- (۲) سازمان برنامه و بودجه
- (۳) دولت
- (۴) وزارت راه و شهرسازی

۱۷- جلد دوم طرح پایه آمایش سرزمین که در سال ۱۳۶۲ منتشر شده است شامل چه موضوعاتی است؟ (iranarze.ir)

(۱) حاوی نقشه های مربوط به گزارش است.

(۲) شامل تشریح اصول و کلیات سازماندهی فضایی کشور است

(۳) شامل اطلاعات مربوط به تشخیص وضعیت است

(۴) حاوی جمعیت، جوامع، فعالیت ها، و اقلیم و سرزمین به استراتژی توسعه ملی در زمینه های مربوط است

۱۸- طرح پایه آمایش سرزمین به عنوان اقدامی در جهت بهینه سازی رابطه جمعیت، فضا و فعالیت ها چه اهدافی را دنبال می کند؟ (iranarze.ir)

(۱) ساماندهی و تقویت جامعه روستایی هماهنگ با ضرورت توسعه ملی در راستای کاهش تفاوت بین شهر و روستا

(۲) سازماندهی جامعه شهری به منظور پشتیبانی از جامعه روستایی و توسعه امکانات اشتغال صنعتی مولد در کشور

(۳) تامین و تنظیم فضاهای توسعه در قالب محورها نواحی و کانون های سازمان یافته و مواد توسعه

(۴) همه گزینه ها

۱۹- گزارش مطالعات دوره دوم استراتژی درازمدت آمایش سرزمین در اردیبهشت ۱۳۵۶ در چهار بخش منتشر شده است.

کدامیک از موارد زیر از چهار بخش شده نمیباشد؟ (iranarze.ir)

(۱) نظام شهری و خط مشی اجرای آن

(۲) جامعه روستایی و خط مشی اجرایی آن

(۳) محور اهواز - مشهد و خط مشی اجرایی آن

(۴) عدم تمرکز فعالیت های بخش دوم و بخش سوم و خط مشی اجرایی آن

۲۰- مهمترین عناصر در توسعه فضایی کشور کدام یک از موارد زیر است؟ (iranarze.ir)

(۱) استخوان بندی و ستون فقرات سازمان فضایی آینده کشور

(۲) تکیه بر توانمندی های صنعتی فضایی کشور

(۳) تنوع و نوآوری در رشد اقتصادی سازمان فضایی در کشور

(۴) درون زدایی اقتصاد فضایی کشور

۲۱- از نظر تهیه کنندگان طرح آمایش سرزمین، مطالعات برنامه ریزی آمایش سرزمین جزئی از ..... میباشد و

مرحله دوم آن ..... نام دارد.

(۱) نظام جامع برنامه ریزی منطقه ای - تهیه طرح پایه آمایش سرزمین

(۲) نظام جامع برنامه ریزی منطقه ای - تهیه طرح های آمایش مناطق

(۳) نظام جامع برنامه ریزی توسعه ملی - تهیه طرح پایه آمایش سرزمین

۴) نظام جامع برنامه ریزی توسعه ملی - تهیه طرح های آمایش مناطق

۲۲- هدف و آرمان دیدگاه فضایی (مکانی، جغرافیایی) در برنامه ریزی توسعه و تکامل ملی در کدام یک از گزینه های زیر تعریف نشده است؟ (iranarze.ir)

۱) توزیع و تقسیم جمعیت و فعالیت عمرانی در پهنه سرزمین

۲) اجرای استراتژی بهزیستی برای فرد و جامعه

۳) استفاده مطلوب از منابع طبیعی و نیروی انسانی در جهت کفایت اقتصادی و اجتماعی

۴) تعدیل ساختاری توسعه اقتصادی - اجتماعی منطقه

۲۳- در ایران از چه عنوانی میتوان برای یاد کردن آمایش سرزمین استفاده کرد؟ (iranarze.ir)

۱) سازماندهی مطلوب فضا در جهت نیل به اهداف و استراتژی های توسعه ملی

۲) سازماندهی مطلوب فضا در جهت نیل به اهداف و استراتژی های توسعه منطقه ای

۳) سازماندهی فضا در جهت نیل به اهداف توسعه استراتژیک منطقه

۴) سازماندهی فضا در جهت نیل به اهداف توسعه استراتژیک ملی

۲۴- از میان شش کتاب نتایج مطالعات آمایش سرزمین کتاب سوم شامل چه موضوعاتی است؟ (iranarze.ir)

۱) جمعیت و نیروی انسانی ۲) راهبردهای فضایی توسعه صنعتی

۳) ساختار فرهنگ هویت ملی ۴) منابع طبیعی و محیط زیست

۲۵- با بالا رفتن قیمت نفت در بازارهای جهانی و در پی آن افزایش درآمدکشور، درچه سال ی نقش بهره وری از قابلیت ها

و امکانات سرزمین که زمینه ای در جهت کاهش وابستگی به نفت بود تقویت گردید؟ (iranarze.ir)

۱) سال ۱۳۵۴ ۲) سال ۱۳۶۱ ۳) سال ۱۳۵۲ ۴) سال ۱۳۵۹

۲۶- چه افرادی در تشکیل مرکز آمایش سرزمین در سال ۱۳۵۳ مشارکت نداشتند؟ (iranarze.ir)

۱) اقتصاد دانان ۲) برنامه ریزان اجتماعی - فرهنگی

۳) برنامه ریزان توسعه ملی ۴) برنامه ریزان سیاسی - نظامی

۲۷- در دهه ۸۰ در مراحل نخستین تهیه برنامه چهارم توسعه، سند ..... تصویب شد. (iranarze.ir)

۱) چشم انداز بلند مدت توسعه منطقه ای ۲) چشم انداز بلند مدت توسعه اقتصادی - اجتماعی

۳) چشم انداز بلند مدت توسعه ملی ۴) چشم انداز بلند مدت توسعه فضایی شهرها

۲۸- در سند ملی آمایش سرزمین که در ابتدای دوره چهارم به مرحله اجرا درآمد کدام راهبرد در دسته سطح کلان قرار

ندارد؟ (iranarze.ir)

۱) تحلیل شرایط منطقه ای و بین المللی

۲) پایگاه اطلاعات مکانی و جغرافیایی و اسناد تصویری مرتبط

۳) راهبردهای خاص مناطق که به لحاظ امنیتی و دفاعی دارای موقعیت ویژه میباشند

۴) سازگاری فرآیند توسعه با ویژگی های سرزمین

۲۹- سومین سطح از سطوح سلسله مراتب برنامه ریزی فضایی در ایران چه نام دارد؟ (iranarze.ir)

۱) سطح ملی ۲) سطح ناحیه ای ۳) سطح منطقه ای ۴) سطح محلی

۳۰- کدامیک از موارد ذکر شده از جمله موانعی که طرح آمایش سرزمین در حین اجرایی شدن با آن مواجه میشود

نمیشد؟ (iranarze.ir)

۱) فقدان منابع مالی برای اجرای آن

۲) عدم کارایی بیشتر ناشی از برقراری و تقویت پیوندها و ایجاد یکپارچگی فضایی

۳) عدم پیش بینی ساز و کار نهادی برای اجرای طرح

۴) انحلال سازمان مدیریت و برنامه سازی

۳۱- برنامه آمایش استان با چه رویکردی تهیه می شود؟ (iranarze.ir)

۱) جامع نگر، کل نگر، تقویت انسجام ملی

۲) تمرکز زدایی و تغییر الگوی شبکه استانی

۳) توسعه گرا، مشارکت جو، انعطاف پذیر

۴) ارتقاء بهره وری و پویایی، بهینه سازی و توسعه منطقه استانی

۳۲- کیفیت زندگی در فضاهای کلان تا خرد منطقه ناشی از چه عوامل و موضوعاتی است؟ (iranarze.ir)

۱) برقراری و تقویت پیوندها و ایجاد یکپارچگی فضایی

۲) کارایی اقتصادی و تعادل بوم شناختی با در نظر داشتن عدالت بین نسلی

۳) فرصت های درآمدی، برخورداری از شرایط امن، تامین نیازهای اساسی

۴) دسترسی عادلانه و توزیع فضایی دستاوردهای توسعه

۳۳ - حضور چه نهادهایی در تهیه برنامه آمایش استان به منظور اجرایی کردن راهبردهای ارائه شده امری ضروری است؟

۱) سازمان مسکن و شهرسازی استان ۲) شهرداری ها و فرمانداری ها

۳) سازمان خدماتی استان ۴) همه گزینه ها

۳۴- کدامیک از موارد زیر را نمیتوان از جمله اسناد بالادست مرتبط و کلیدی در تهیه طرح آمایش استان حساب کرد؟

۱) طرح آمایش سرزمین ۲) طرح کالبدی ملی

۳) سند ملی توسعه منطقه ای ۴) جهت گیری آمایش سرزمین

۳۵- چه موسسه ای در سال ۱۳۴۵ اقدام به انتشار گزارشی تحت عنوان «مسال ه افزایش جمعیت تهران و کتابی پیرامون سیاست عمران کشوری» نمود؟

(۱) موسسه مطالعات و تحقیقات اجتماعی دانشگاه تهران

(۲) موسسه مطالعات و تحقیقات فرهنگی دانشگاه تهران

(۳) موسسه مطالعات و تحقیقات اقتصادی-فرهنگی دانشگاه تهران

(۴) پژوهشکده مطالعات راهبردی-فرهنگی دانشگاه تهران

۳۶- کدامیک از موارد زیر از جمله رویکرد های فراهم کردن زمینه استمرار و پویایی مطالعات آمایش سرزمین در پی مکلف شدن سازمان مدیریت و برنامه ریزی کشور نمیباشد؟ (iranarze.ir)

(۱) تعمیق نگرش بلند مدت و پایدار در راهبردهای توسعه ای کشور

(۲) تاثیر تحولات جهانی، منطقه ای و داخلی

(۳) سازماندهی مطالعات آمایش سرزمین بر مبنای سند آمایش

(۴) تهیه طرح های ویژه از نظر موضوعی و یا محدوده جغرافیایی

۳۷- ..... پس از تصویب شورای عالی شهرسازی برای کلیه وزارتخانه ها و موسسات و شرکت های دولتی در امور مربوط به آنها لازم الاجرا بوده و در تهیه و تنظیم طرح های شهری باید از آن متابعت شود. (iranarze.ir)

(۱) طرح کالبدی سرزمین

(۲) طرح آمایش سرزمین

(۳) طرح جامع سرزمین

(۴) طرح کالبدی ملی

۳۸- بر اساس ماده ۱ مصوبه سال ۱۳۷۱ شورای عالی اداری در ارتباط با طرح آمایش سرزمین، طرح آمایش سرزمین به معنای تعیین استراتژی های توزیع فضایی جمعیت و فعالیت در پهنه سرزمین توسط چه سازمانی تهیه و به تصویب چه نهادی خواهد رسید؟ (iranarze.ir)

(۱) سازمان برنامه و بودجه - هیئت وزیران

(۲) سازمان برنامه و بودجه - وزارتخانه مسکن و شهرسازی

(۳) سازمان مدیریت و برنامه ریزی توسعه - هیئت وزرا

(۴) سازمان مدیریت و برنامه ریزی توسعه - وزارتخانه مسکن و

شهرسازی

۳۹- بر اساس ماده پنجم مصوبه طرح آمایش سرزمین شورای عالی اداری چه طرحی توسط وزارت مسکن و شهرسازی تهیه و به تصویب شورای عالی شهرسازی و معماری ایران می رسد؟ (iranarze.ir)

(۱) طرح کالبدی ملی

(۲) طرح کالبدی ملی - منطقه ای

(۳) طرح کالبدی منطقه ای

(۴) طرح جامع ملی - منطقه ای



۴۰- قانون اجرای اصل چهل و هشتم قانون اساسی (مصوب ۱۳۸۰) چه نهادی را مکلف بر تهیه طرح آمایش سرزمین تا دو سال پس از اجرای این قانون میکند؟ (iranarze.ir)

۱) هیأت وزیران      ۲) دولت      ۳) سازمان برنامه و بودجه      ۴) شورای عالی اداری

۴۱- در سال ۱۳۸۵ نهاد تحقیقاتی متناظر با مرکز آمایش سرزمین و وابسته به سازمان مدیریت و برنامه ریزی کشور، تحت چه عنوانی تشکیل گردید؟

۱) مرکز ملی آمایش سرزمین      ۲) موسسه مطالعات و تحقیقات آمایش سرزمین

۳) دفتر توسعه پایدار و محیط زیست      ۴) شورای آمایش سرزمین

۴۲- کدام یک از موارد زیر از جمله آخرین تغییرات صورت گرفته در طرح آمایش سرزمین ..... بر اساس مصوبه ۱۳۸۶/۴/۱۸ شورای عالی اداری میباشد؟ (iranarze.ir)

۱) انحلال سازمان مدیریت و برنامه ریزی کشور

۲) ادغام سازمان مدیریت و برنامه ریزی کشور با سازمان برنامه و بودجه

۳) تشکیل معاونت برنامه ریزی و نظارت راهبردی ریاست جمهوری

۴) گزینه ۱ و ۳

۴۳- بررسی ها نشان داده است که در سازمان مدیریت و برنامه ریزی، مدیریت آمایش سرزمین جریانی ادغام شده در فرایند برنامه ریزی توسعه کشور نبوده و جریان تدوین اسناد آمایش سرزمین با جریان ..... به صورت مجزا عمل نموده است؟ (iranarze.ir)

۱) تهیه اسناد آمایش منطقه ای      ۲) تدوین لوایح برنامه های پنج ساله توسعه

۳) تدوین لوایح سند برنامه ریزی توسعه      ۴) گزینه های ۱ و ۲

۴۴- در ایران بخش عمده ای از برنامه ها و طرح ها به سبب فقدان ساز و کار نهادی متناسب در تهیه، اجرا، نظارت بر اجرا و بازنگری و گاه بررسی و تصویب، تنها به ..... منتهی می شود. (iranarze.ir)

۱) رکود عملیات      ۲) تولید نقشه و گزارش      ۳) ارائه طرح اولیه      ۴) نتیجه گیری معکوس

۴۵- از جمله جهت گیری های آمایش ملی سرزمین تحول بنیادین در ساختار بخش خدمات و افزایش سهم خدمات نوین و دانش پایه میباشد. کدام یک از موارد زیر از جمله بخش های خدماتی مورد نظر این تحول میباشد؟ (iranarze.ir)

۱) خدمات بازرگانی، بانکی و بیمه ای      ۲) خدمات گردشگری

۳) خدمات پشتیبان تولید      ۴) همه گزینه ها

۴۶- از جمله جهت گیری ها و اقدامات آمایش سرزمین در مناطق .....، میتوان به رفع تنگناهای شبکه های زیربنایی مناطق مستعد، و تناسب با قابلیت های تولیدی و خدماتی در این مناطق اشاره کرد. (iranarze.ir)

۱) غربی و شمالی کشور      ۲) شرقی و جنوبی کشور      ۳) کم جمعیت مرکزی کشور      ۴) غربی و جنوبی کشور

۴۷- چه عاملی می تواند در رفع مشکلات و آسیب های نظام آمایش سرزمین موثر باشد؟ (iranarze.ir)

۱) تاکید بر ایجاد هماهنگی ها و ساز و کارهای نهادی پیش بینی شده در ضوابط ملی آمایش

۲) پیش بینی ساز و کارهای نهادی در دستگاه های نظارتی و دستگاه های اجرایی

۳) الزام نهادهای متولی برنامه ریزی در دستگاههای اجرایی بر تهیه طرح های هماهنگ با نظام آمایش ملی

۴) تداوم و سازماندهی مطالعات آمایش سرزمین و در ادامه بازنگری طرح آمایش ملی

۴۸- بر اساس اصلاحیه سال ۱۳۸۴، مرکز ملی آمایش سرزمین جایگزین چه نهادی شده است؟ (iranarze.ir)

۱) دفتر آمایش، توسعه پایدار منطقه ای و تحولات نظام شهری ۲) دفتر آمایش، توسعه پایدار محیط زیست

۳) دفتر آمایش، توسعه تحول جهانی با رویکرد محلی ۴) دفتر آمایش، توسعه پایدار شهری

۴۹- ماده یکم ضوابط ملی آمایش سرزمین، جهت گیری های ملی آمایش سرزمین را در چند بند تعریف می نماید؟

۱) چهل و چهار بند ۲) سی و سه بند ۳) سی و یک بند ۴) بیست و نه بند

۵۰- تاکید مواد یازدهم و دوازدهم از سند ضوابط ملی آمایش سرزمین، بر چه موضوعی میباشد؟ (iranarze.ir)

۱) تهیه طرح ها و برنامه های مرتبط با نظام آمایش ملی

۲) فراهم کردن زمینه استمرار و پویایی مطالعات آمایش سرزمین

۳) بر حفظ و پویایی هویت ایرانی-اسلامی در تعامل برای تحکیم و انسجام وحدت ملی

۴) جهت گیری های ملی آمایش سرزمین در راستای انسجام و وحدت ملی در ابعاد درونی

۵۱- در چارچوب اصول جدید برنامه ریزی فضای ملی همگام با برنامه های اقتصادی که در حال حاضر یکی از ضرورت های

توسعه متعادل فضایی در سطح ملی است. اصول برنامه ریزی فضایی دربرگیرنده چه اصولی نمی باشد؟ (iranarze.ir)

۱) پایداری ۲) یکپارچگی ۳) جامعیت. ۴) جزئی نگری