



IranArze.ir



@iranarze



کد محصول
ES1952



آخرین بروزرسانی
۱۶ تیر ۱۴۰۴

سوالات استخدامی

شرکت تراشه پرداز زاگرس

- ✓ مطابق با منابع عمومی اعلام شده در آزمون استخدامی ۱۴۰۵
- ✓ نسخه رایگان شامل ۱۵۰ سوال (تعداد کمتر و تنها برخی دارای پاسخ)
- ✓ برای تهیه نسخه اصلی، با ۳۰۰ سوال به همراه پاسخنامه تشریحی، به سایت ایران عرضه مراجعه نمایید.

لینک های مفید آزمون استخدامی شرکت تراشه پرداز زاگرس

دانلود رایگان سوالات عمومی آزمون های استخدامی با پاسخنامه	خرید این محصول
درسنامه دروس عمومی	خرید سوالات عمومی آزمون های استخدامی (۲ دهه اخیر)
درسنامه مصاحبه و گزینش استخدامی	سوالات مصاحبه و گزینش استخدامی
شبکه های اجتماعی ایران عرضه (فایل های رایگان + تخفیفات هفتگی + اخبار)	پکیج جامع سوالات و درسنامه مصاحبه و گزینش استخدامی
(برای مشاهده هر بخش روی آن بزنید )	
آخرین بروزرسانی های محصول: ۱۴۰۵/۰۴/۱۶ تالیف مجدد محصول	

فهرست مطالب

- ❖ فصل اول: سوالات آیین نگارش - صفحه ۴ (۵۰ سوال)
- ❖ فصل دوم: سوالات معارف عمومی - صفحه ۱۲ (۵۰ سوال)
- ❖ فصل سوم: سوالات هوش و استعداد تحصیلی - صفحه ۱۹ (۵۰ سوال)



در هر بخش، تنها ۲ سوال ابتدایی دارای پاسخنامه تشریحی می باشد. در صورت تمایل به دریافت سوالات بیشتر با جواب تشریحی می توانید این محصول را از سایت ایران عرضه خریداری نمایید.

خرید محصول

❖ فصل اول: سوالات آیین نگارش

۱- کدام مجموعه از ترکیب ها «اضافه تشبیهی» است؟

(۱) مزید نعمت - شرط انصاف - مرغ سحر - کلاه شکوفه

(۲) جیب مراقبت - امید اجابت - دیوار امت - قصه عشق

(۳) پرده ناموس - کلاه شکوفه - سرور کائنات - درگاه خداوند

(۴) دریای معرفت - شب جهل - شکوفه اشک - آتش عشق

❑ پاسخ سایت ایران عرضه: گزینه ۴ ← در (اضافه ی تشبیهی)، مضاف و مضاف الیه در ظاهر اضافه اند ولی در معنا تشبیه وجود دارد. مثلاً (دریای معرفت) یعنی شخصی که در معرفت، مانند دریاست در همه ی این ترکیب ها رابطه ی تملک یا وصفی نیست، بلکه نوعی تشبیه پنهان وجود دارد.

دریای معرفت (تشبیهی؛ معرفت مثل دریاست)

شب جهل (تشبیهی؛ جهل مانند شب است)

شکوفه اشک (تشبیهی؛ اشک مانند شکوفه است)

آتش عشق (تشبیهی؛ عشق مانند آتش است)

۲- در کدام گزینه «کنایه» به کار رفته است؟ (iranarze)

(۱) بزد تیر بر چشم اسفندیار/سیه شد جهان پیش آن نامدار

(۲) تهمت گز اندر کمان راند زود/بر آن سان که سیمرغ فرموده بود

(۳) تو را گر همی یار باید بیار/مرا یار هرگز نیاید به کار

(۴) بفرمود تا زین بر اسب سیاه/نهادند و بردند نزدیک شاه

❑ پاسخ سایت ایران عرضه: گزینه ۴ ← این مصراع می گوید که دستور داده شد تا زین بر اسب سیاه بگذارند و آن را به نزد شاه ببرند. عبارت (زین بر اسب سیاه نهادند) در ادبیات کهن می تواند کنایه از آماده کردن اسب برای سواری یا رفتن به جنگ باشد، زیرا در فرهنگ حماسی، آماده سازی اسب (به ویژه اسب سیاه که نماد قدرت و آمادگی است) اغلب به معنای آماده شدن برای یک مأموریت مهم یا نبرد است. این معنای غیرمستقیم (آماده سازی برای یک هدف بزرگ تر) می تواند به عنوان کنایه تلقی شود، به ویژه در متن حماسی که چنین عباراتی گاهی بار معنایی عمیق تری دارند.

زین بر اسب نهادن، در ادب فارسی کنایه از آماده شدن برای جنگ یا حرکت است. در این بیت، مقصود شاعر آماده سازی برای رفتن نزد شاه است.

۳- «عدت» به چه معناست؟

(۱) ارزیابی کردن (۲) فرصت دادن (۳) جنگ و دعوا (۴) ساز و برگ

۴- کدام گزینه ترکیب وصفی است؟

(۱) دست اجل (۲) دست خالی (۳) دست ادب (۴) دست دوست

۵- مفهوم کلی این بیت با کدام بیت تناسب دارد؟

«موی سپید را فلکم رایگان نداد/ این رشته را به نقد جوانی خریده ام»

(۱) چگونه پیر جوانی و جاهلی نکند / در این قضیه که گردد جهان پیر، جوان

(۲) برف پیری می نشیند بر سوم / همچنان طبعم جوانی می کند

(۳) قدح پر کن که من از دولت عشق / جوان بخت جهانم گرچه پیرم

(۴) سال ها با بار پیری خم شدم در جست و جوییش / تا به چاه گور هم رفتم نشد پیدا جوانی

۶- در کدام گزینه نام اثری منسوب به «محمد تقی بهار» آمده است؟

(۱) ایده آل (۲) گنجینه نشاط

(۳) تاریخ تطور شعر فارسی (۴) خداوند نامه

۷- مهم ترین قالب نثر دوره معاصر کدام است؟ - ناشر ایران عرضه -

(۱) نثر داستانی (۲) ادبیات نمایشی (۳) سفرنامه (۴) مقاله

۸- در متن کدام آرایه به کار نرفته است؟

«طاووس این بهارم، ساغر کش خمارم در راه انتظارم صدچشم و یک پریدن»

(۱) سجع (۲) تلمیح (۳) تشبیه (۴) تضمین

۹- آرایه های بیت زیر کدامند؟ «سوزن ز تیر مژگان و ز تار زلف نخ کن/ هر چند رخنه دل تاب رفو ندارد»

(۱) استعاره، پارادوکس، مجاز (۲) تشبیه، استعاره، ایهام تناسب

(۳) تشبیه، مراعات نظیر، تضاد (۴) استعاره، ایهام، تضاد

۱۰- وقتی مصراع اول شعری با مصراع های زوج هم قافیه باشد و بیتها از ۱۵ تجاوز نکند. آن قالب را قالب می گویند.

(۱) غزل (۲) قصیده (۳) قطعه (۴) رباعی

۱۱- کدام مورد از نمونه های سبک نظر دوره سامانی نیست؟

(۱) ترجمه تقسیم طبری (۲) قابوسنامه

(۳) شاهنامه ابومنصوری (۴) تاریخ بلعمی

۱۲- اثر..... جامی به شیوه و در بیان حقایق عرفانی و ذکر احوال عارفان نگارش یافت

- (۱) نوحات الانس - تذکره الاولیا
 (۲) بهارستان - گلستان
 (۳) نوحات الانس - گلستان
 (۴) بهارستان - تذکره الاولیا

۱۳- کدام بیت با دیگر ابیات قرابت مفهومی ندارد؟ ایران عرضه

- (۱) به زخم خورده حکایت کنم از درد جراحت / که تن درست ملامت کند چو من بخروشم
 (۲) حدیث روی او در پرده ی خورشید و مه گویم / از بیم چشم بد، گل را در اوراق خزان پیچم
 (۳) سینه خواهم شرحه شرحه از فراق / تا بگویم شرح درد اشتیاق
 (۴) و گر حدیث کنم، تن درست را چه خبر/ که اندرون جراحت رسیدگان چون است.

۱۴- بیت زیر به ترتیب فاقد کدام آرایه و دارای کدام آرایه است؟

من از رنگ صلاح آن دم به خون دل بشستم دست / جان که چشم باده پیمایش صلا بر هوشیاران زد

- (۱) بخشی - حس آمیزی
 (۲) جناس - استعاره
 (۳) تلمیح - مجاز
 (۴) تشبیه - تنتقض

۱۵- کدام بیت فاقد «مجاز» است؟

- (۱) این چه دامی است که از سنیل مشکین داری/ که به هر حلقه آن صد دل مسکین داری
 (۲) من آن شهرم که سیلاب محبت ساخت ویرانم/ تو آن گنجی که در ویرانه دلها وطن داری
 (۳) جام می از کف اختیار ننوشی نوشی/ سر خونخواری ام ای باز نداری داری
 (۴) از جعد پریشان جمع می به پریشانی /وز چشم سیه مستت شهری به امان داری

۱۶- کدام یک پیشگام شعر نو نیست؟

- (۱) قیصر امین پور (۲) شمس کسمایی (۳) ابولقاسم لاهوتی (۴) جعفر خامنه ای

۱۷- در گزینه معنای واژه ای نادرست نوشته شده است.

- (۱) (محاسن: ریش) (خفایا: پنهان)
 (۲) (تجلیل: بزرگداشت) (تجلی: جلوه گری)
 (۳) (متلاطم: آشفته) (ازدحام: شلوغی)
 (۴) (جسارت: دلیری) (ترجیح: برتری)

۱۸- معنی درست واژگان «مذلت، تاب، قهر، حکمت» به ترتیب در کدام گزینه آمده است؟

- (۱) خواری، فروغ، چیره، معرفت
 (۲) سستی، پایداری، خشمگین، دانایی
 (۳) فرومایگی، طاقت، چیرگی، دانش
 (۴) زبونی، توانایی، غضب، سعادت

۱۹- در همه ابیات به جز بیت گزینه واژگان مترادف به چشم میخورد. (ا یر ا ن عرضه)

- (۱) بسته شد عزم ملک را چشم و گوش
 خوف و رعب آمد به جای عقل و هوش
 (۲) مزدگانی بده ای نفس که سختی بگذشت
 دل گرانی مکن ای جسم که جان باز آمد

- (۳) چو بازان ساعد سلطان گزیدم
چو کرکس بوی مرداری نخواهم
- (۴) کو مبر جانب گلشن، قفسم را صیاد
بس بود ناله ای از حسرت گلزار مرا

۲۰- در کدام گروه کلمه، «غلط املایی» یافت میشود؟

- (۱) استیصال و درماندگی، بزم و ضیافت، قسیم و صاحب جمال
(۲) سفله و فرومایه، عصاره و شیر، ضجه و شیون
(۳) ضماد و مرهم، بحبوحه و میانه، مطاع و فرمانروا
(۴) مفرح و شادی بخش، فاحش و واضح، صریر و اورنگ

۲۱- در متن زیر چند غلط املایی وجود دارد؟

«هرگاه حوادث به عاقل محیط شود باید که در پناه صواب دود و بر خطا اسرار ننماید و آن را ثبات عزم و حسن عهد نام نکند و اگر خار در چشم مستبد افتد در بیرون آوردن آن غفلت ورزد و آن را خار دارد و بی شبهت کور شود و بر خردمندی واجب است که به غذاهای آسمانی ایمان آرد و جانب دوراندیشی را مهمل نگذارد»

- (۱) یک (۲) دو (۳) سه (۴) چهار

۲۲- ساختار کدام واژه با بقیه متفاوت است؟

- (۱) کوهسار (۲) وحشی گری (۳) فرهنگ نامه (۴) هنرستان

۲۳- مفهوم عبارت زیر با همه ابیات تناسب مفهومی دارد، به جز

«حالی ثواب آن باشد که جمله به طریق تعاون قوتی کنیید تا دام را از جای برگیریم که رهایش ما در آن است.»

- (۱) مورچگان را چو بود اتفاق شیر ژیان را بدراندن پوست
(۲) آب را چون مدد بود هم از آب گلستان گردد آن چه بود خراب
(۳) مروت نبینم رهایی زبند به تنها و یارانم اندر کمند
(۴) دو دوست با هم اگر یکدل اند در همه کار هزار طعنه دشمن به نیم جو نخرند

۲۴- همه ابیات با بیت زیر قرابت مفهومی دارد به جز {ایران عرضه}

«سخن گفته دگر باز نیاید به دهن اول اندیشه کند مرد که عاقل باشد»

- (۱) سخن چون برابر شود با خرد روان سراینده رامش برد
(۲) سخن گر چو گوهر برارد فروغ چو ناباور افتد نماید دروغ
(۳) بدان کز زبان است مردم به رنج چو رنجش نخواهی سخن را بسنج
(۴) سخن پیش فرهنگیان سخته گوی به هر کس نوازنده و تازه روی

۲۵- کدام واژه درست معنا شده است؟

- (۱) گُرد: پهلوان (۲) افسون: قصه (۳) آرمانی: آرزو (۴) یکدل: منفصل

۲۶- معنی کدام واژه نادرست است؟

- (۱) صعب: سخت (۲) فراغ: جدایی (۳) عقد: گردن‌بند (۴) وبال: گناه

۲۷- معنی هر دو واژه، در کدام گزینه درست است؟

- (۱) (بادی: شروع کننده) (خسته: مجروح) (۲) (کت: کتف) (سحاب: باران)
(۳) (مشعوف: شادمان) (مظالم: ستمکاران) (۴) (خفایا: پنهان) (جبهه: پیشانی)

۲۸- کلمات قافیه در بیت «گفتم که روی خوبت از من چرا نهان است / گفتا تو خود حجابی ورنه رخم عیان است» به ترتیب

چه معنایی دارند؟

- (۱) پنهان - ظاهر (۲) پیدا - آشکار (۳) پنهان - پوشیده (۴) پیدا - ظاهر

۲۹- در کدام گزینه غلط املایی وجود دارد؟

- (۱) علم و بیرق (۲) حضرت اصرافیل (۳) قبضه و مشت (۴) قهر و اکراه

۳۰- در کدام گروه کلمه «غلط املایی» وجود دارد؟

- (۱) جبهه و پیشانی، لطیفه‌ی نقض (۲) بذله و شوخی، زوال و نابودی
(۳) ضجه و شیون، مرتعش و لرزنده (۴) اولی و شایسته، استشاره و رای‌زنی

۳۱- در متن زیر در بین کلمات مشخص شده چند غلط املایی به چشم می‌خورد؟

«اشتری و گرگی و روباهی از روی مصاحبت مسافرت کردند و با ایشان از وجه زاد و توشه، گرده‌ای بیش نبود. در راه میان ایشان از برای گرده مخاسمت رفت تا آخرالعمر بر آن قرار گرفت که هر کدام از ایشان به زاد بیشتر بدین گرده خوردن اولی‌تر»

- (۱) چهار (۲) سه (۳) دو (۴) یک

۳۲- مفهوم ضرب‌المثل «از دل برود هر آن که از دیده برفت»، از کدام بیت دریافت می‌شود؟

- (۱) همه مهری ز نادیدن بکاهد / اگر دیده نبیند دل نخواهد
(۲) بلی داند دلی کاگاه باشد / که از دل‌ها به دل‌ها راه باشد
(۳) در عالم پیر هر کجا برنایی است / عاشق بادا که عشق خوش سودایی است
(۴) بیم آن است کز غم عشقت / سر برآرد دلم به شیدایی

۳۳- مفهوم کدام گزینه با بقیه گزینه‌ها متفاوت است؟ (متعلق به سایت ایران عرضه)

- (۱) رعیت چو بیخند و سلطان درخت / درخت ای پسر باشد از بیخ سخت
(۲) چو گرد آمدن خلقی موجب پادشاهیست / تو مَر خلق را پریشان برای چه می‌کنی؟
(۳) پادشاهی که طرح ظلم افکند / پای دیوار ملک خویش بکند
(۴) اگر ز باغ رعیت ملک خورد سیبی / برآوردن غلامان او درخت از بیخ

۳۴- مفهوم کدام گزینه با بقیه گزینه‌ها متفاوت است؟

- ۱) آدمی در عالمی خاکی نمی آید به دست / عالمی دیگر بیابد ساخت وز نو آدمی
 ۲) من که صلحم دائما با این پدر / این جهان چون جنتستم در نظر
 ۳) پیر ما گفت خطا بر قلم صنع نرفت / آفرین بر نظر پاک خطا پوشش باد
 ۴) گر کار فلک به عدل سنجیده بدی / احوال فلک جمله پسندیده بدی

۳۵- کدام گزینه دارای حسن تعلیل است؟

- ۱) مگر که لاله بدانست بی وفاپی دهر / که تا بزاد و بشد جام می ز گف نهاد
 ۲) زکوی میکده دوشش به دوش می بردند / امام شهر که سجاده می کشید به دوش
 ۳) تویی آن گوهر پاکیزه که در عالم قدس / ذکر خیر تو بود حاصل تسبیح ملک
 ۴) بهشت عدن اگر خواهی بیا با ما به می خانه / که از پای خمت یک سر به حوض کوثر اندازیم

۳۶- در کدام گزینه مجاز به علاقه جنس دیده نمی شود؟

- ۱) بدین چوپ شد روزگرم به سر / ز سیمرغ وز رستم چاره گر
 ۲) به آهن سراسر بپوشید تن / بدان تا نداند کسش ز انجمن
 ۳) سر / مایه کرد آهن آنگون / کز آن سنگ خارا کشیدش برون
 ۴) در این سنگم رها کن زار و بی زور / دگر سنگی بر او نه تا شود گور

۳۷- کدام گزینه با بیت «مرا بسود و فرو ریخت هر چه دندان بود / نبود دندان، لابل چراغ تابان بود» هم وزن نیست؟

- ۱) اگر تو فارغی از حال دوستان یارا / فراغت از تو میسر نمی شود مارا
 ۲) شب فراق که ناند که تا سحر چندست / مگر کسی که به زندان عشق در بندست
 ۳) درخت غنچه برآورد و بلبلان مستند / جهان جوان شد و یاران به عیش بنشستند
 ۴) به پایان آمد این دفتر حکایت همچنان باقی / به صد دفتر نشاید گفت حسب الحال مشتاقی

۳۸- عبارت است از دو بیت یا سه بیت تا ده و بیست بیت یا بیشتر که دارای یک وزن و هم قافیه باشند و

مصراع اول قافیه نداشته باشد، گاهی هم ممکن است قافیه دار باشد.

- ۱) قصیده ۲) قطعه ۳) مثنوی ۴) مسمط

۳۹- کدام یک از شاعران زیر نوآوری های زیادی در وزن غزل داشته است؟

- ۱) هوشنگ ابتهاج ۲) ملک الشعراى بهار ۳) سیمین بهبهانی ۴) شهریار

۴۰- در کدام گزینه مسند دیده نمی شود؟

- ۱) تیک باشی و بدت ببیند خلق / به که بد باشیو نیک بینند
 ۲) جان باختن اسان است اندر نظرت لیکن / این لاشه نمیبینم شایسته ی قربانت
 ۳) خویشن را بزرگ پنداری / راست گفتند یک دو بیند لوچ

۴) غزل گفتی و در سفتی بیا و خوش بخوان حافظ / که بر نظم تو افشاند فلک عقد ثریا را

۴۱- این ابیات در وصف کیست؟

- همه موی اندام او همچو برف
ولیکن به رخ سرخ بود و شگرف
- یکی پیر سر پور پر مایه دید
که چون او نه دید و نه از کس شنید
- ۱) رستم ۲) زال ۳) سهراب ۴) دیو سپید

۴۲- مفهوم این بیت چیست؟ (تهیه شده توسط ایران عرضه)

"دلش کرد پدرام و برداشتش
گرازان به ابر اندر افراشتش"

- ۱) دل او را آرام کرد و از دست گرازان فرار کرد
۲) دل او را آرام کرد و مثل گراز او را از بالا به زمین زد
۳) دل او را مضطرب و بی قرار کرد و مثل گراز به بالا فرار کرد
۴) دل او را آرام کرد و با تیختر بالا برد

۴۳- کدام یک از شعرای زیر حبسیه سرا می باشد؟

- ۱) رودکی ثمرقندی ۲) خاقانی شروانی ۳) محتشم کاشانی ۴) منوچهری دامغانی

۴۴- مفهوم بیت مقابل چیست؟

"بازگشتم اسیر قلعه نای
سود کم کرد با قضا حذرم"

- ۱) به قلعه نای برگشتم و در آن سود کمی بود
۲) از قلعه نای روی گردان شدم چون سود کمی در آن بود
۳) به قلعه نای بروم بهتر است تا سود کمی نصیبم شود
۴) پرهیزم از قضا و قدر کمتر برای من مفید واقع شد

۴۵- معنی کلمه دُهاات:

- ۱) جمع ده ۲) دهها ۳) زیرکان ۴) ناهلان

۴۶- معنی کلمه رزمه:

- ۱) بقچه ۲) محل رزم ۳) رزمه ۴) هیچ کدام

۴۷- نقش ستاره (*) در علائم نگارشی چیست؟

- ۱) برای نشان دادن جملات و کلمات محذوف
۲) جلو کلمات و جملاتی که می خواهید آن ها را معنی کنیم
۳) برای توضیح یک کلمه در پاورقی
۴) دستورهای اجرایی در نمایش نامه ها

۴۸- علتی ادبی و ادعایی است برای امری به گونه ای که بتواند است و هنر آن زیبا شمردن با زشت نمودن چیزی است و هنر

آن زیبا شمردن یا زشت نمودن چیزی است:

(۱) حسن تعلیل (۲) مجاز (۳) کنایه (۴) استمرار

۴۹- معانی کلمات «منحوس - مذموم - مغضوب» به ترتیب کدام است؟

(۱) بدکار - پیوسته - خشمگین (۲) ناپسند - زشتی - خشن
(۳) نامیمون - زشت - خشم گرفته (۴) بدخوی - بهره وری - غضب کرده

۵۰- در کدام بیت معنی واژه ی مشخص شده، به درستی ذکر شده است؟

(۱) بیچارگی و را چو دیدند / در چاره گری زبان کشیدند: سکوت کردند
(۲) دمی آب خوردن پس از بدسگال / به از عمر هفتاد هشتاد سال: بدخلق
(۳) اگر چه در طلبت هم عنان باد شمالم / به گرد سروخرامان قامت نرسیدم: همراه
(۴) هر چه در این دایره بیرون توست / گام سیمایت زده در خون توست: سعی و تلاش.



❖ فصل دوم: سوالات معارف عمومی

۱- درک فقر و نیاز بشر نسبت به خدا در گرو چیست؟

(۱) غنای حقیقی (۲) کمال حقیقی (۳) علم حقیقی (۴) ایمان حقیقی

❑ پاسخ سایت ایران عرضه: گزینه ۴ ⇐ انسانها هر قدر که به معنای حقیقی کاملتر میشوند، فقر و نیازمندی خود را به خداوند بیشتر درک می - کنند

۲- با توجه به معارف اسلامی شناخت هستی و چیستی خدا به ترتیب موصوف به و است.

(۱) ممکن - ناممکن (۲) ناممکن - ممکن (۳) ممکن - ممکن (۴) ناممکن - ناممکن

❑ پاسخ سایت ایران عرضه: گزینه ۱ ⇐ ناتوانی انسان در شناخت ذات و چیستی خداوند

اکنون ممکن است برای شما این سؤال پیش آید که آیا می توان به ذات خداوند پی برد و چیستی او را مشخص کرد؟ در پاسخ میگوییم: موضوعاتی که میخواهیم درباره آنها شناخت پیدا کنیم دو دسته اند: دسته اول موضوعاتی هستند که در محدوده شناخت ما قرار میگیرند، مانند گیاهان، حیوانات، ستارگان و کهکشانها؛ حتی کهکشانهای بسیار بسیار دور هم ممکن است روزی مورد شناسایی واقع شوند و انسان بتواند ماهیت و ذات آنها را شناسایی کند در حقیقت، ذهن ما توان و گنجایش فهم چیستی و ذات چنین موضوعاتی را دارد زیرا همه آنها اموری محدود هستند.

دسته دوم موضوعاتی هستند که نامحدودند و ذهن ما گنجایش درک آنها را ندارد؛ زیرا لازمه شناخت هر چیزی احاطه و دسترسی به آن است. در واقع ما به دلیل محدود بودن ذهن خود نمی توانیم ذات امور نامحدود را تصور کنیم و چگونگی وجودشان را دریابیم. خداوند حقیقتی نامحدود دارد؛ در نتیجه ذهن ما نمیتواند به حقیقت او احاطه پیدا کند و ذاتش را شناسایی نماید. بنابراین با اینکه ما به وجود خداوند به عنوان آفریدگار جهان پی میبریم و صفات و اسماء او را می توانیم بشناسیم اما نمیتوانیم ذات و چیستی او را دریابیم.

۳- کدام رابطه می تواند میان بندگی و خودشناسی و فقر و نیازمندی ما به خداوند، برقرار باشد؟ (منبع ایران عرضه)

(۱) افزایش بندگی ← افزایش خودشناسی ← درک بیشتر فقر و نیاز

(۲) افزایش بندگی ← درک بیشتر فقر و نیاز ← افزایش خودشناسی

(۳) افزایش خودشناسی ← درک بیشتر فقر و نیاز ← افزایش بندگی

(۴) درک بیشتر فقر و نیاز ← افزایش بندگی ← افزایش خودشناسی

۴- مانند روحی در پیکره ی معارف و احکام دین حضور دارد.

(۱) توحید (۲) معاد (۳) نبوت (۴) عدل

۵- اگر معتقد باشیم خدا تنها مبدأ جهان است و در آفرینش شریک و همتایی ندارد یعنی توحید در است.

(۱) ربوبیت (۲) خالقیت (۳) ولایت (۴) مالکیت

۶- سخن قرآن کریم درباره کسی که هوای نفس را معبود خود بگیرد، کدام است؟

- (۱) آیا به آنچه از حق آمده کفر می‌ورزند؟
 (۲) آیا تو می‌توانی ضامن او باشی؟
 (۳) همانا آنان در خسران آشکار هستند.
 (۴) همانا اینان در دنیا و آخرت زیان کار هستند.

۷- تحقق بعد اجتماعی توحید عملی مرهون است.

- (۱) قبول توحید در خالقیت
 (۲) تشکیل نظام الهی
 (۳) بعد فردی
 (۴) نفی ظلم

۸- کدام گزینه به معنای یگانه شدن برای خداست؟

- (۱) توحید در خالقیت (۲) عمل صالح
 (۳) توحید نظری (۴) اخلاص در بندگی

۹- در اصول دین تقلید چه حکمی دارد؟

(۱) کراهت دارد.

(۲) جایز نیست.

(۳) در صورتی که یقین پیدا نکرده باشید واجب است.

(۴) واجب است اما کسی مجتهد باشد، نباید تقلید کند.

۱۰- کدام جمله دلالت بر توحید در جهان بینی اسلامی ندارد؟

(۱) در همه منطقه وجود یک قدرت به نام خدا است.

(۲) تمام پدیده‌ها رو به آن قدرت عظیم با حال مسکنت قرار دارند.

(۳) در مواجهه همه موجودات با خداوند متعال فرقی از جهت عبودیت در مقابل آن مرکز قدرت نیست.

(۴) بین موجودات در مواجهه با خداوند متعال بر حسب خلقت آنها تفاوت است.

۱۱- پیشنهاد حفر گودال در جنگ خندق توسط چه کسی مطرح شد؟

(۱) حضرت علی علیه السلام
 (۲) ابوذر

(۳) سلمان فارسی
 (۴) اسامه

۱۲- کدام نماز است که دارای دو رکعت و ده رکوع میباشد؟

(۱) نماز عید فطر (۲) نماز جمعه
 (۳) نماز آیات (۴) نماز میت

۱۳- حضرت علی علیه السلام در کدام جنگ در مقابل خوارج ایستاد؟ (iranarze)

(۱) نهروان (۲) صفین
 (۳) جمل (۴) خیبر

۱۴- خطبه متقین در چه حیطة ای و به درخواست چه کسی ایراد شده است؟

(۱) در حیطة اخلاق و تقوا، به درخواست امام حسن (ع)

(۲) در حیطة احکام عملی اسلام، به درخواست مالک اشتر

(۳) در حیطة پارسایی، به درخواست همام

۴) در حیطة احکام عملی اسلام، به درخواست همام

۱۵- حکم روزه گرفتن در عید فطر و عید قربان را به ترتیب بیان کنید؟

۱) مکروه و مکروه (۲) حرام و مستحب (۳) حرام و حرام (۴) مکروه و مستحب

۱۶- کدامیک از نمازهای زیر وضو نمی خواهد؟

۱) نماز آیات (۲) نماز غفيله (۳) نماز میت (۴) نماز جمعه

۱۷- خداوند متعال در قرآن کریم عبارت «برادران شیطان» را به کدام گروه نسبت داده است؟

۱) اسراف کاران (۲) منافقین (۳) کم فروشان (۴) دروغ گویان

۱۸- اولین آیاتی که بر پیامبر نازل شد از کدام سوره بود؟

۱) حمد (۲) بقره (۳) علق (۴) کوثر

۱۹- وجود عنصر عقل و اختیار در آدمی چه نوع هدایتی را برایش لازم و ضروری می سازد؟

۱) تشریعی (۲) عامه (۳) تکوینی (۴) غریزی

۲۰- کسی که معروف و منکر را نمی شناسد، امر به معروف و نهی از منکر کردن او چه حکمی دارد؟

۱) واجب است. (۲) حرام است. (۳) واجب نیست. (۴) مکروه است.

۲۱- در اصطلاح معارف اسلامی کسی که احکام اسلامی را از منابع اصلی آن استخراج کند، چه نامیده می شود و مراد از منابع

اصلی کدام است؟ (تالیف توسط سایت ایران عرضه)

۱) فقیه - قرآن و احادیث (۲) فقیه - سنت و اجماع

۳) ولی فقیه - سنت و اجماع (۴) ولی فقیه - قرآن و احادیث

۲۲- قرآن کریم راه و روش اصلی کسب عزت و کرامت را چگونه معرفی می کند؟ ایران عرضه

۱) تحقیر نکردن دیگران (۲) بازگشت به سوی خدا و قبول فرمان های او

۳) توانایی انسان در کنترل شهوت (۴) پیروی نکردن از تمایلات پست درونی

۲۳- انسان با تقوا در کدام مورد تلاش بی وقفه می نماید و توجه به حضور خداوند چه تاثیری در او دارد؟

۱) روز به روز بر توانمندی خود می افزاید - به مردم توجهی نمی کند.

۲) روز به روز بر توانمندی خود می افزاید - دست به هر کاری نمی زند.

۳) در شرایط معصیت و ابتلا قرار نمی گیرد - به مردم توجهی نمی کند.

۴) در شرایط معصیت و ابتلا قرار نمی گیرد - دست به هر کاری نمی زند.

۲۴- در آیه یستلونک من الأنفال قل الأنفال لله والرسول منظور از (الرسول) چیست؟

۱) شخصیت حقیقی رسول اکرم (ص) (۲) مقام رهبری الهی

۳) حاکم و حکومت الهی (۴) نمایندگان ویژه ی رسول اکرم (ص)

۲۵- با توجه به آیه "وسارعوا إلى مغفرة من ربكم" معنای غفران چیست؟

- (۱) التیام دادن و پر کردن یک خلا
 (۲) نادیده گرفتن کامل آثار گناه
 (۳) محو آثار تکوینی اعمال سوء
 (۴) استقرار نظام جبران الهی در سونوشت فرد

۲۶- با توجه به آیه ان في خلق ... الأولى الألباب الذين يذكرون الله قياما وعودا و علی جنوبهم منظور از یاد خدا چیست؟

- (۱) توجه قلبی به ذکر لسانی و ذکر عملی
 (۲) حالتی عرفانی که مبتنی بر تقیه و عبادت است
 (۳) به یاد خدا بودن فعال و در همه حال
 (۴) عبودیتی است که بخشی از آن عبادت است

۲۷- اساسی ترین نقطه هر ایدئولوژی زندگی ساز که مشترک بین مومن و کافر می باشد، چیست؟

(۱) رهپویی تکوینی منبعث از عمل

(۲) حراست از اندیشه حیات انسانی، موجب آرامش است

(۳) انسان برای کاری (مسئولیت) به دنیا آمده است

(۴) انسانیت معیار و راه رسیدن به خوشبختی (سعادت) است

۲۸- کدام گزینه تفسیر صحیح از "جهاد" است؟

(۱) مطلق کوشش در راه خدا

(۲) جهاد عبارت است از مبارزه با دشمن در پیشبرد هدف

(۳) جهاد به نبرد نظامی در میدان جنگ با سلاح اطلاق می شود

(۴) جهاد شامل هرگونه تلاش برای اصلاح جامعه می شود، چه از طریق مبارزه با دشمن و چه از طریق کارهای سازندگی

۲۹- کدام یک از موارد زیر از شرایط تحقق صحیح تقیه نیست؟

(۱) حفظ نظم و مراقبت کردن از اصول و برنامه مقرر

(۲) استتار و کتمان

(۳) انجام کار به صورت تشکیلاتی

(۴) مطابقت عمل فردی با نظام معیار

۳۰- کدام گزینه جزو مناصب امام می باشد؟

(۱) رهبری جامعه و تبیین دین
 (۲) زعامت و تحقق حکومت عدل

(۳) رهبری جامعه و جامعه سازی
 (۴) مطابقت عمل فردی با نظام معیار

۳۱- نحوه مواجهه و موضع گیری ائمه علیهم السلام در رابطه با علمای درباری، چگونه بود؟ (منبع سوالات سایت ایران عرضه)

(۱) برای جذبشان، با احترام و ملاطفت با ایشان برخورد می کردند.

(۲) برای جا انداختن جایگاه عالم در جامعه، با اکرام و احترام با ایشان مواجه می شدند.

(۳) با ایشان برخوردی تند و خشن داشتند.

(۴) به آنها هیچ اعتنایی می کردند.

۳۲- وقتی از «فطرت انسان» سخن می‌گوییم منظور چیست و کدام ویژگی جزوی از فطرت مشترک میان همه انسان‌ها است؟

(۱) آفرینش خاص انسان - تمایل به قدرت (۲) راه و روش خلقت - تمایل به کمالات

(۳) راه و روش خلقت - تمایل به قدرت (۴) آفرینش خاص انسان - تمایل به کمالات

۳۳- در آیه مبارکه "أَنْ يَقُولُوا سَمِعْنَا وَأَطَعْنَا وَأُولَئِكَ هُمُ الْمُفْلِحُونَ" معنای فلاح برای مومنین چیست؟ ایران عرضه

(۱) رستگاری (۲) سعادت‌مندی در دنیا و آخرت

(۳) موفقیت و رسیدن به مقصد (۴) تلاش برای رسیدن به مقصد

کتاب طرح کلی اندیشه در اسلام

۳۴- نتیجه ایمان زاینده و تعهد آفرین چیست؟

(۱) نصرت و امنیت (۲) عبور از تنگنایهای اجتماعی

(۳) رستگاری و حکمت (۴) عافیت و عالی

۳۵- کدام گزینه مفهوم صحیح توکل به خدا را کامل بیان می‌کند؟

(۱) توکل یعنی در همه حال، با اتکا و امید به یاری الهی، انگیزه ای مضاعف برای تلاش و ایستادگی در برابر مشکلات به گونه ای که این اعتماد به خدا عامل تحرک باشد.

(۲) توکل یعنی در مواجهه با چالش های زندگی به عبادات فردی و درخواست کمک از خداوند بسنده کردن بدون اقدامی برای حل مشکل انجام دهد.

(۳) توکل یعنی در شرایط دشوار، با پذیرش محدودیت های موجود از تقابل با موانع صرف نظر کردن و به جریان دادن به امید اینکه خداوند راه حلی فراهم کند.

(۴) توکل یعنی در شرایط دشوار، با پذیرش محدودیت های موجود از تقابل با موانع صرف نظر کردن و به جریان دادن به امید اینکه خداوند راه حلی فراهم کند.

۳۶- کدام گزینه بیانگر رابطه صحیح بین "رحمت خدا" و "عمل انسان" می باشد؟

(۱) رحمت خدا جایگزین عمل انسان است و زمانی شامل حال بندگان میشود که از انجام وظایف خود ناتوان باشند.

(۲) رحمت الهی پاداش عمل انسان است و تنها شامل کسانی میشود که به تکالیف و مسئولیت های خود عمل می کنند.

(۳) رحمت پروردگار مستقل از اعمال انسان است و به صورت یکسان بر همه بندگان نازل می شود.

(۴) رحمت خداوند در عمل انسان مومن تجلی می یابد.

۳۷- کمیت بن زید اسدی چطور جهاد کرده است و در محضر کدام امامان معصوم حضور داشته است؟

(۱) با تحصیل علم و ترویج آن و در محضر امام باقر(ع) و امام صادق(ع)

(۲) با شعر و در محضر امام سجاد(ع)

۳) با شعر و در محضر امام سجاد (ع) و امام باقر (ع) و امام صادق (ع)

۴) با تحصیل علم الهی و در محضر امام سجاد (ع) و امام باقر (ع)

۳۸- روش دشمنان برای از بین بردن قهرمانان ملت ها چیست؟

۱) به فراموشی سپردن نام آن قهرمان و ممنوع کردن یاد او - تحریف چهره

۲) حذف فیزیکی و شخصیتی قهرمانان - ترویج شایعات درباره آن قهرمان

۳) افزایش هزینه های کنشگری آن قهرمان - تحریف چهره ی آن قهرمان

۴) به شهادت رساندن - تخریب شخصیتی

۳۹- در شروع ابلاغ رسالت توسط پیامبر اسلام نجیب ترین قبائل چه پاسخی به پیامبر دادند؟

۱) تنها بودن پیامبر و زیادی دشمنان ایشان

۲) جاننشینی ایشان را طلب کردند

۳) مشروط کردن پذیرش پیامبری به پذیرش دیگر قبائل

۴) پیامبری ایشان را پذیرفتند

۴۰- از نظر امام صادق (ع) جامع ترین آیه در مکارم اخلاق کدام گزینه است؟

۱) "وَلَا تَسْتَوِي الْحَسَنَةُ وَلَا السَّيِّئَةُ ادْفَعْ بِالَّتِي هِيَ أَحْسَنُ"

۲) "خُذِ الْعَفْوَ وَأْمُرْ بِالْعُرْفِ وَأَعْرِضْ عَنِ الْجَاهِلِينَ"

۳) "إِنَّ اللَّهَ يَأْمُرُ بِالْعَدْلِ وَالْإِحْسَانِ"

۴) "وَأَعْبُدُوا اللَّهَ وَلَا تُشْرِكُوا بِهِ شَيْئًا"

۴۱- منظور از (غفران) در سوره مبارکه آل عمران (و سارعو الی مغفرة من ربکم) به کدام معنا است؟ {ایران عرضه}

۱) بخشش گناهان ۲) التیام دادن ۳) رهایی از گناه ۴) دور شدن از گناه

۴۲- در جهان بینی اسلامی کدام گزینه درست است؟

۱) همه پدیده های جهان وابسته به علل هستند.

۲) همه پدیده های جهان وابسته به وجود هستند.

۳) همه پدیده های جهان وابسته به یک قدرت برترند.

۴) همه پدیده های جهان وابستگی گیری دارند.

۴۳- منظور از قرب و نزدیکی در سوره مبارکه نجم (فکان قاب قوسین او ادنی) به چه معنا است؟

۱) قرب مکانی ۲) به اندازه دو تیر کمان

۳) قرب زمانی ۴) استعاره از اوج قرب

۴۴- راهی که انبیای الهی مردم را بدان دعوت میکنند. ...

- (۱) راهی اجتماعی و طبیعی است.
 (۲) راهی فطری و طبیعی است.
 (۳) راهی آرمانی و طبیعی است.
 (۴) راهی عزتمندانه و طبیعی است.

۴۵- امام خمینی (ره) معتقد به

- (۱) ولایت مطلقه فقه و زعامت بود.
 (۲) ولایت مطلقه فقه و فقیه بود.
 (۳) ولایت مطلقه فقیه بود.
 (۴) ولایت مطلقه فقها و فقیه بود.

۴۶- از دیدگاه امام خمینی (ره) شرایط زمام دار چیست؟

- (۱) علم به قانون و عدالت
 (۲) علم به اسلام و شرع مقدس
 (۳) مدیر و مدبر
 (۴) شجاع و آگاه به زمان

۴۷- از نظر امام خمینی (ره) بسیاری از احکام عبادی اسلام منشاء.

- (۱) خدمات امنیتی و سیاسی است.
 (۲) خدمات رفاهی و اجتماعی است.
 (۳) خدمات رفاهی و سیاسی است.
 (۴) خدمات اجتماعی و سیاسی است.

۴۸- اسلام آمریکایی از منظر امام خمینی (ره) در کجا ترویج میشود؟

- (۱) در رژیم صهیونیستی
 (۲) در مراکز وهابیت
 (۳) در رسانه های آمریکایی
 (۴) در کشورهای اسلامی

۴۹- حق بودن آفرینش آسمانها و زمین به معنای

- (۱) تبعیت تمام کائنات و مخلوقات از حضرت باری تعالی است.
 (۲) هدف دار بودن خلقت آنها است
 (۳) لزوم عبادت همه خلایق موجود در آسمانها و زمین از خداوند است
 (۴) نظم آفرینش است

اوست که جهان را اداره می کند و آن را به سوی مقصدی که برایش معین فرموده هدایت می نماید و به پیش می برد.

۵۰- پیامبر اسلام (ص) "آنان که فراوان به یاد مرگ اند و بهتر از دیگران خود را برای آن آماده میکنند" را به عنوان چه مصداقی

ذکر فرموده اند؟

- (۱) باهوش ترین مومنان
 (۲) عاقل ترین انسان ها
 (۳) دانشمندان و علما
 (۴) آدم های فهیم و آگاه

كُلُّ نَفْسٍ ذَائِقَةُ الْمَوْتِ وَ نَبَلُوكُمْ بِالْأَسْرِّ وَ الْخَيْرِ فِتْنَةً ۗ وَ إِلَيْنَا تُرْجَعُونَ

هر کسی چشنده مرگ است و شما را با بدی و خوبی می آزماییم [تا معلوم شود] و سرانجام به سوی ما بازگردانده می شوید.

❖ فصل سوم: سوالات هوش و استعداد تحصیلی

«اگرچه اکثر دانشگاه ها حقوق مربوط به اختراعات اعضای هیئت علمی را برای خود حفظ میکنند، با این حال اعضای هیئت علمی حق التألیف کتب و مقالات خود را دریافت میکنند. بنابراین اعضای هیئت علمی باید حق الامتیاز تولید نرم افزار های آموزش کامپیوتری مربوط به خود را حفظ کنند»

۱- نتیجه گیری بالا معقول تر میبود اگر کدام گزینه به عنوان پیش فرض اضافه در استدلال آن وارد شود؟

(۱) اعضای هیئت علمی بیشتر احتمال دارد نرم افزار های آموزشی تولید کنند تا اختراعی انجام دهند.

(۲) اختراعات منزلت بیشتری برای دانشگاه ها به ارمغان میاورند تا کتب و مقالات.

(۳) بنا به تجربه اکثر دانشگاه ها، نرم افزار های آموزشی از قابلیت بیشتری برای عرضه به بازار برخوردارند تا کتب و مقالات.

(۴) از نقطه نظر موازن مورد استفاده برای اعطا حق الامتیاز، نرم افزار های آموزشی بیشتر با کتب و مقالات قابل مقایسه اند تا با اختراعات.

☑ پاسخ سایت ایران عرضه: گزینه ۴ ← در صورتی که متن را به صورت استدلالی و خط به خط بنویسیم خواهیم داشت:

مقدمه: دانشگاه ها معمولاً حقوق اختراعات هیئت علمی رو برای خودشون نگه میدارند.

مقدمه: هیئت علمی اما حق التألیف کتب و مقالات رو میگیرند.

نتیجه: بنابراین هیئت علمی باید حق الامتیاز نرم افزار های آموزشی خودشون رو هم بگیرند.

این نتیجه فقط زمانی منطقی تلقی میشه که نرم افزار آموزشی از لحاظ حقوقی / ماهیتی به کتاب و مقاله تشابه بیشتری دارند تا به اختراعات. میتوان دید که گزینه ۴ نیز دقیقاً این حالت را توصیف میکند، لذا پاسخ صحیح گزینه ۴ است.

«اندازه گیری میزان کارایی افرادی که در بخش خدمات کار میکنند بسیار پیچیده است. مثلاً برای کارمندان اداره پست، چنان مطرح شده است تعداد نامه هایی که هر مامور تحویل میدهد، نشان دهنده میزان کارایی اوست. مسلماً چنین تعبیری از کارایی چندان قابل دفاع نیست زیرا تحویل دادن تعداد بیشتری از نامه ها ممکن است همراه باشد با مفقود شدن، تاخیر و یا اشتباه در تحویل آن ها»

۲- انتقادی که در متن بالا مطرح شده است، در کدام یک از گزینه های زیر نیز منعکس گردیده است؟

(۱) نامه رسان پست یک شغل خدماتی است ولی نمیتواند معرف تمام مشاغل خدماتی باشد.

(۲) وظیفه اول اداره پست، رساندن نامه ها به دست صاحبان آنهاست.

(۳) کیفیت کار افرادی که در بخش خدمات کار میکنند، در سنجش کارایی آنان، به سادگی میتواند نادیده گرفته شود.

(۴) تعداد نامه هایی که ماموران به درستی تحویل میدهند، شاخص مناسبی برای میزان کارایی آنان است.

☑ پاسخ سایت ایران عرضه: گزینه ۳ ← موردی که در متن بهش اشاره شده اینه که همیشه صرفاً بر اساس تعداد کار انجام

شده (در این مورد تعداد نامه تحویل داده شده) کارایی رو سنجید، چون ممکنه اختلالاتی مثل تأخیر، اشتباه یا مفقود شدن نامه ها باعث بشه کیفیت از بین بره. از این رو همیشه گفت که انتقاد اصلی اینه که سنجش کارایی فقط بر اساس کمیت،

کیفیت کار رو نادیده میگیره. این پیام رو میشه در گزینه ۳ نیز مشاهده کرد که در اون گفته شده «کیفیت کار افرادی که در بخش خدمات کار میکنند، در سنجش کارایی آنان، به سادگی میتواند نادیده گرفته شود.».

«آلودگی محیط زیست تنها مربوط به آلودگی هوا و آلودگی آبها و محیط فیزیکی نیست، آلودگی صدا نیز مطرح است و از همه بدتر، آلودگی ناشی از فقر اقتصادی، اجتماعی و فرهنگی است که بدترین نوع آلودگی را ایجاد میکند و توجه چندانی هم در بحث های مربوط به آلودگی به آنها نمیشود.»

۳- کدامیک از جملات زیر منظور نویسنده متن را فوق را بهتر بیان میکند؟

(۱) برای حفظ محیط زیست، آلودگی هوا و محیط فیزیکی باید به حداقل برسد.

(۲) فقر فرهنگی از فقر اجتماعی و اقتصادی، آلودگی بیشتری ایجاد میکند.

(۳) کم کردن سر و صدا از مهمترین موارد تنظیم محیط زیست است.

(۴) متخصصان محیط زیست به مهمترین آلودگی، کمترین توجه را دارند.

* در یک برد کنترلی ۱۰ لامپ در یک ردیف قرار دارند. لامپ ها از ۱ تا ۱۰ به ترتیب از چپ به راست شماره گذاری شده اند.

هر لامپ یا روشن است یا خاموش. همچنین قوانین زیر بر آنها حاکم است:

- هیچ دو لامپی با شماره های متوالی، با هم روشن نیستند.

- هیچ سه لامپی با شماره های متوالی با هم خاموش نیستند.

- دقیقا چهار لامپ از ۱۰ لامپ روشن است.

- لامپ ۳ خاموش است

۴- کدامیک از حالت های زیر میتواند یکی از حالات معتبر برای لامپ های ۱ تا باشد؟

(۱) off , off , off , on , off , on , off , on , off , on

(۲) on , off , off , on , off , off , on , off , on , off

(۳) off , on , off , on , off , on , off , on , off , on

(۴) off , off , on , off , on , off , on , off , on , off

۵- اگر لامپ چهار خاموش باشد، کدامیک از عبارات زیر درست است؟

(۱) لامپ ۱ روشن است

(۲) لامپ ۲ خاموش است

(۳) لامپ ۵ خاموش است

(۴) لامپ ۶ خاموش است

۶- اگر لامپ ۹ و ۱۰ خاموش باشند، کدامیک از عبارات زیر حتما درست است؟

(۱) لامپ ۱ روشن است

(۲) لامپ ۲ خاموش است

(۳) لامپ ۴ روشن است

(۴) لامپ ۵ روشن است

۷- اگر لامپ ۶ روشن و لامپ ۸ خاموش باشد، برای چه تعداد از لامپ ها وضعیت روشن یا خاموش بودن آنها را میتوان مشخص کرد؟

(۱) ۵ (۲) ۶ (۳) ۷ (۴) ۸

۸- در بحث متدولوژی علم، توجه خاص باید

(۱) به مسئله ی اندازه گیری که طبیعتاً با اعداد سر و کار دارد توجه شود

(۲) به مسئله ی اندازه گیری معطوف شود که به طور طبیعی با اعداد سر و کار دارد

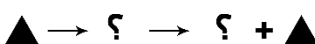
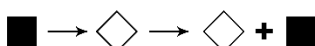
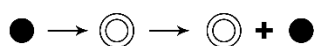
(۳) به اندازه وسایل مربوطه به آن معطوف شود

(۴) به اعداد معطوف شود که در اندازه گیری طبیعتاً مصداق پیدا میکند.

۹- اگر عقربه های ساعت دیواری در آینه محل کار ۳:۳۰ را نشان دهد، زمان واقعی چند است؟

(۱) ۸:۳۰ (۲) ۹:۳۰ (۳) ۱۰:۳۰ (۴) ۲:۳۰

۱۰- ادامه الگو کدام تصویر است؟ (متعلق به سایت ایران عرضه)



(۴)



(۳)



(۲)



(۱)

۱۱- با توجه به داده های زیر، کدام نتیجه گیری منطقی است؟

* نرخ تورم افزایش یافته است

* نرخ بهره بانکی ثابت مانده است

* تقاضا برای وام کاهش یافته است

(۱) افزایش تورم باعث کاهش تقاضای وام شده است

(۲) بانک سیاست های انقباضی اعمال کرده است

(۳) نرخ بهره باید افزایش یابد

(۴) رابطه ای بین متغیر ها وجود ندارد

۱۲- اگر نرخ سود سپرده ۱۸٪ سالانه باشد، سود یک سپرده ۵۰ میلیون تومان در ۶ ماه چقدر است؟

(۱) ۴,۵۰۰,۰۰۰ (۲) ۳,۶۰۰,۰۰۰ (۳) ۵,۰۰۰,۰۰۰ (۴) ۲,۲۵۰,۰۰۰

۱۳- تعداد تراکنش های غیر نقدی در سه شنبه ۲۰٪ بیشتر از دوشنبه و در چهارشنبه ۲۵٪ کمتر از سه شنبه است و در پنجشنبه ۴۰٪ بیشتر از چهارشنبه است. نسبت تعداد تراکنش های پنجشنبه به دوشنبه چقدر است؟

(۱) ۱/۲۰ برابر (۲) ۱/۲۶ برابر (۳) برابر (۴) ۰/۹۶ برابر

۱۴- عدد بعدی در دنباله اعداد ۷، ۱۰، ۱۶، ۲۸، ۵۲، ... کدام است؟

۱۱۲ (۴)

۱۰۴ (۳)

۱۰۰ (۲)

۸۸ (۱)

۱۵- با حروف فارسی «الف، ب، ج، د» رشته ای چهار حرفی میسازیم به شرط اینکه رشته با حرف الف شروع شود و هیچ دو حرف مجاوری برابر نباشند، چند رشته مختلف ممکن است؟

۲۵۶ (۴)

۲۷ (۳)

۶۴ (۲)

۱۸ (۱)

۱۶- به معنی آن است که خروجی گروه بیشتر از مجموع خروجی تک تک اعضای گروه است.




(۴) اثربخشی

(۳) آنتروپی

(۲) هم کامی

(۱) سینرژی

۱۷- کدام شکل به جای علامت سوال قرار بگیرد تا سری شکلی کامل گردد؟



(۲)

(۱)



(۴)

(۳)

۱۸- با توجه به اینکه آرزو مادر بهار، کاوه پسر آرزو، دانیال برادر الناز و الناز دختر بهار است، مادر بزرگ دانیال کیست؟

(۴) خواهر بهار

(۳) خواهر کاوه

(۲) بهار

(۱) آرزو

۱۹- در کدام گزینه ارتباط میان جفت کلمات داده شده با سایر گزینه ها متفاوت است؟

(۴) قطار و واگن

(۳) خانه و اتاق

(۲) کشک و شیر

(۱) اتم و الکترون

۲۰- اگر در یک زبان برنامه نویسی کلمه "مردان" معادل عدد ۵۱۶۴۳ باشد و "هنرور" معادل با عدد ۲۳۱۷۱ باشد. عدد

۱۴۲۳۵۴ معادل با کدام کلمه است؟ (متعلق به سایت ایران عرضه)

(۴) همراهان

(۳) راهنما

(۲) رهنورد

(۱) هنرمند

راهنمایی: اطلاعات زیر را بخوانید و با توجه به آن پاسخ سوال های ۲۰ تا ۲۵ را در پاسخنامه علامت بزنید.

** یک مؤسسه خیریه باید تیمی از داوطلبان را برای تحقیق به مناطق کم برخوردار ارسال کند. او شش داوطلب در اختیار

دارد: مالک، زهرا، جواد، کاوه، سایه و بهار. او میخواهد حداقل دو داوطلب را به شهر بفرستد و در عین حال همواره حداقل

دو داوطلب را در دفتر خیریه نگه دارد. این شرایط باید در انتخاب تیم داوطلبان رعایت شود:

الف) اگر مالک برای تحقیق برود، زهرا در دفتر خیریه میماند.

ب) اگر زهرا برای تحقیق برود، جواد نیز میرود.

ج) اگر زهرا در دفتر خیریه بماند، سایه نیز در آنجا میماند.

د) جواد و کاوه نمیتوانند هر دو بروند یا هر دو بمانند.

۲۱- کدام یک از موارد زیر میتواند فهرستی از همه داوطلبانی باشد که برای تحقیق ارسال شده اند؟

۱) سایه، بهار، زهرا (۲) زهرا، کاوه، بهار (۳) زهرا، جواد، بهار (۴) مالک، سایه

۲۲- کدام یک از جفت داوطلبان زیر میتوانند با یا بدون همراهی داوطلبان دیگر با هم برای تحقیق بروند؟

۱) زهرا و کاوه (۲) مالک و سایه (۳) کاوه و جواد (۴) زهرا و بهار

۲۳- اگر زهرا برای تحقیق برود، کدام یک از موارد زیر میتواند فهرست کامل داوطلبانی باشد که در دفتر میمانند؟

۱) جواد، مالک و سایه (۲) کاوه و مالک (۳) بهار و جواد (۴) بهار، جواد، مالک و سایه

۲۴- کدام یک از موارد زیر نمیتواند فهرست کامل داوطلبانی باشد که در دفتر میمانند؟

۱) کاوه، سایه و زهرا (۲) بهار، کاوه، سایه و زهرا

۳) بهار، کاوه و زهرا (۴) بهار، کاوه، مالک و سایه

۲۵- فروشنده‌ای ۲۰ جلد از چند کتاب را از قرار ۱۰ تا ۱۲ واحد پولی می‌خرد و از قرار ۱۵ تا ۱۸ واحد پولی می‌فروشد. حداقل

سود این کالا چند درصد حداکثر سود است؟

۱) ۶۶/۶ (۲) ۸۰ (۳) ۵۵/۵ (۴) ۳۷/۵

۲۶- یک یارد تقریباً ۹۱.۴۴ درصد یک متر است. صد متر تقریباً چند یارد است؟

۱) ۱۰۰ (۲) ۹۰ (۳) ۱۰۵ (۴) ۱۱۰

۲۷- متضاد کلمه تورم کدام است؟

۱) خالی شدن (۲) برطرف کردن (۳) تخفیف (۴) کم شدن

۲۸- اگر علی در شمال غربی تقی و حسن در جنوب غربی علی باشد و هم چنین حسین در شرق حسن و تقی در شمال

حسین باشد، آنگاه؟

۱) علی در شمال شرقی حسین است. (۲) تقی در شمال شرقی حسن است.

۳) علی در جنوب غربی حسین است. (۴) تقی در شمال غربی حسن است.

۲۹- نسبت «کلمات شعر» به «وزن شعر» مانند چیست؟

۱) زبان به جمله (۲) دستور زبان به انشاء

۳) کامیون به بار (۴) نت به موسیقی

۳۰- مجموع سه عدد متوالی ۲۷ است. کدام یک از آن‌ها بر عدد ۳ قابل قسمت است؟ (متعلق به سایت ایران عرضه)

(۱) عدد بزرگتر (۲) عدد کوچکتر (۳) عدد میانی (۴) هر سه.

۳۱- به ۱۵۰ لیتر الکل ۸۰ درصد، چند لیتر آب خالص افزوده شود تا الکل ۶۰ درصد به دست آید؟

(۱) ۵۰ (۲) ۴۵ (۳) ۵۵ (۴) ۶۰

۳۲- تاول زدن به پوست مانند؟

(۱) دردناک است به انگشت پا (۲) توپ است به توپ‌انداز
(۳) گل‌مزه است به پلک (۴) فروشگاه است به خیابان

با توجه به متن به چهار سوال زیر پاسخ دهید:

... مولانا نتیجه می‌گیرد، جنبش کف‌ها از دریاست و عالم محسوس بر آنچه نا محسوس است، مبتنی است و در ورای دنیای حس، دنیای غیب هست که عالم حس؛ حرکت و تبدل خود را بدان مدیون است، اما به جای دریا، آنچه به چشم ما می‌آید، کف است و بدین گونه ما که در درون دریا و ماورای حس جای داریم چون از چشم کف، بدان می‌نگریم؛ نمی‌توانیم دریا را درک کنیم. البته ورای آب دریا هم، آبی هست که آب دریا را می‌راند و ماورای عالم حس نیز عالمی هست، اما آن کس که مثل گیاه پای بند تعلق خاک مانده است؛ نمی‌تواند به این عوالم مکنون راه یابد و از آن چه ماورای این حیات است خبر ندارد.

.... باری در داستان پیل اشارت به کف دست و لمس آن در ظلمت که هر کس بر حسب آن که کف دست وی با کدام اندام پیل تماس یافته باشد، از پیل چیز دیگر درک می‌نماید، کف دریا را تداعی می‌کند و از تداعی دریا، مولانا به این نتیجه می‌رسد که خلق مثل کشتی‌ها هستند که در دریا از کنار هم می‌گذرند، اما با آن که در آب روشن حرکت دارند، خود مثل کشتی از چشم و حسی که دریا را ادراک کند، بی‌بهره‌اند. جان ما هم که در کشتی تن به خواب رفته است. آب را می‌بیند، اما از آب آب، که آب را می‌راند غافل است و انسان نمی‌تواند حتی به وسیله شریعت تنها و بی‌هیچ مدد غیبی به آن چه مربوط به ماورای عالم حس است، راه بیابد. مولانا در این جا می‌افزاید که حتی این دعوی هم قولی ناقص است چون آن چه کامل است به عالم حس ارتباط ندارد، مربوط به عالم ماورای حس و دنیای حقیقت است، اما آن چه از عالم می‌رسد، اگر به بیان آید مایه‌ی لغزش میشود و اگر به بیان نباید راز به کلی در پرده می‌ماند و جز حیرت و ظلمت نمی‌افزاید با این همه اگر حقیقت را آن کس که راز آن سری را به بیان می‌آورد در صورت قصه و داستان بازنماید. انسان به همان معنی ظاهر می‌چسبد و تعلقی که به عالم صورت و دنیای حسن دارد. او را از توجه به آن چه ورای آن است مانع می‌آید.

۳۳- کدام نکته با آنچه که مولانا بدان رسیده و نتیجه‌گیری کرده است مغایرت دارد؟

(۱) اگر با چشم، حس به عالم ماورای حسن بنگریم از درک و مشاهده‌ی آن محروم خواهیم ماند.
(۲) عالم حس و حرکت و جنبش آن پیوسته با عالم ماورای، حسن در تخالف است.
(۳) آن که وابسته‌ی عالم ماده است، نمی‌تواند به عالم غیب و نهان راهی بیابد.
(۴) عالم حس وابسته‌ی عالم نامحسوس است و جنبش و تغییر آن نیز در گرو دنیای غیب است.

۳۴- چرا تلقی هر کدام از افراد در ادراک هیبت پیل، متفاوت است؟

- (۱) محیط و فضای کافی، جهت استفاده صحیح و کامل از لامسه فراهم نیست.
- (۲) پیکر پیل، درشت و وسیع است و مشاهده گران خرد و اندک اند.
- (۳) ابزار شناخت ناقص و محدود است و مکان مورد نظر روشن نیست.
- (۴) هیبت پیل، بررسی و لمس همه ی اندام ها را از ایشان سلب کرده است.

۳۵- آیا در همه حال قرار گرفتن در مکان روشن، مشکل درک و شناخت را مرتفع می سازد؟

- (۱) مشروط به آن که نور و روشنایی از جوانب مختلف، شیء مورد نظر را فرا گرفته باشد، ادراک کامل حسی میسر خواهد بود.
- (۲) خیر، جز حواس ظاهر و باطن، باید از آن چه ماورای این حیات مادی است، مدد جویند.
- (۳) بله؛ صفا و پاکی محیط اگر به قدر لزوم فراهم باشد، چشم حسی نیز قادر به شناخت کامل تواند بود.
- (۴) اگر غیر از ادراک حسی و چشم ظاهر، از قومی لمس نیز استفاده شود، معرفت کامل حاصل می شود.

۳۶- کدام نکته با آن چه که از زبان مولانا در متن فوق ارائه شده است، مغایرت دارد؟ (تهیه شده توسط ایران عرضه)

- (۱) بیان رموز حقیقت در قالب قصه و حکایت، توجه شنونده را در عالم حس و ظاهر متوقف می سازد.
- (۲) میل و تعلق به ظواهر، آدمی را از روی آوردن و توجه به جهان غیر حسی و ماورای ظاهر، باز می دارد.
- (۳) چنان چه از عالم غیب یاری نشود، آدمی صرفا با توسل به شریعت نیز جواز ورود به عالم ماورای حس را نمی یابد.
- (۴) چنان چه سر حقیقت، به صورت داستان بیان شود، مخاطب را از ظاهر به باطن رهنمون و به درک کامل حقیقت، سوق میدهد.

۳۷- فردی به تمام ۲۴ سوال یک آزمون پاسخ داده و نمره ای برابر ۵۷ بدست آورده است. اگر به هر پاسخ صحیح ۳/۵ نمره

مثبت و به هر پاسخ غلط یک نمره منفی تعلق گیرد. پاسخهای صحیح این فرد چه تعداد از پاسخ غلط بیشتر است؟

- (۱) ۱۴ (۲) ۱۲ (۳) ۱۰ (۴) ۱۳

۳۸- از ۱۵۰ دانشجوی یک دانشکده ۱۰۰ نفر در همایش اول و ۹۵ نفر در همایش دوم شرکت داشته اند. اگر بدانیم که هر

دانشجو حداقل در یک همایش شرکت داشته است. چند نفر در هر دو همایش حضور داشته اند؟

- (۱) ۴۰ (۲) ۵ (۳) ۳۰ (۴) ۴۵

۳۹- وزن جلیل بیشتر از کریم و وزن لیلا بیشتر از محمد است. وزن محمد کمتر از نیما است کریم و نیما دقیقا هم وزن

هستند. اگر اطلاعات ذکر شده صحیح فرض شوند، کدام یک از موارد ذیل باید درست باشد؟

- (۱) وزن لیلا بیشتر از نیما است.
- (۲) وزن کریم کمتر از لیلا است.
- (۳) وزن جلیل بیشتر از محمد است.
- (۴) وزن کریم کمتر از محمد است.

با توجه به متن به پنج سوال زیر پاسخ دهید:

غرفه ای در یک تئاتر دارای سه ردیف و در هر ردیف، سه محل برای نشستن است. این غرفه برای ۹ نفر که قرار است این تئاتر را تماشا کنند، در نظر گرفته شده است. برای مشخص کردن این افراد فقط از حروف اول اسم آنها استفاده میشود که عبارتند از: الف، ن، م، ل، ک، ج، د، ط. برای تعیین محل نشستن این افراد، شرایطی به شرح زیر لازم است رعایت شود

- I. "ط" و "د" باید در یک ردیف قرار گیرند.
 - II. "ج" باید در ردیف وسط قرار گیرد.
 - III. "ن" و "ف" باید در یک ردیف قرار گیرند.
 - IV. "ک" و "الف" نباید در یک ردیف قرار گیرند.
 - V. "م" باید در ردیفی قرار گیرد که با "الف" و یا "ج" و با هر دوی آنها نشسته اند.
- ۴۰- کدام یک از گروه های زیر می توانند در یک ردیف قرار گیرند؟ (متعلق به سایت ایران عرضه)

(۱) ط، ج، ن (۲) ج، ل، الف (۳) ک، د، ل (۴) الف، ن، ف

با توجه به اطلاعات داده شده به سه سوال زیر پاسخ دهید.

حروف a, b, c, d, e, f هر یک نماینده یکی از اعداد ۱ تا ۶ هستند. می دانیم

- a بزرگتر از d است.
- c برابر مجموع b و f است.
- e از f و f از b بزرگتر است.
- d برابر مجموع b و e است.
- a از $d+2$ کوچکتر است.

۴۱- مقدار b کدام است؟

(۱) ۱ (۲) ۴ (۳) ۶ (۴) ۳

۴۲- مقدار a کدام است؟

(۱) ۲ (۲) ۴ (۳) ۶ (۴) ۵

۴۳- مقدار $c+d$ کدام است؟

(۱) ۶ (۲) ۸ (۳) ۷ (۴) ۴

۴۴- تمام حاضران در این جلسه لر زبان هستند، آقای x در این مجلس است، آقای x لر زبان نیست، اگر دو جمله اول و

درست باشند، جمله سوم ...

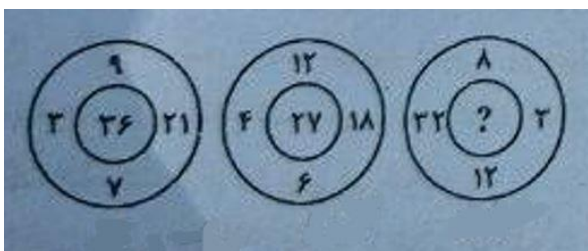
- (۱) حتما نادرست است.
- (۲) حتما درست است.
- (۳) احتمالاً نادرست است.
- (۴) احتمالاً درست است.

- (۱) به فکر نفع مادی برای خود باشد
 (۲) اقدام به فایده رساندن به دیگران کند
 (۳) به دیگران فخر بفروشد
 (۴) توقع نفع و فایده از غیر داشته باشد.

۴۹- اگر روابط روبرو بین اعداد برقرار باشد به جای علامت سوال چه عددی باید قرار بگیرد؟

$۷۴=؟$	$۲۴=۷$	$۴۸=۱۹$	$۳۲=۱۱$
۲۶ (۴)	۲۸ (۳)	۳۲ (۲)	۳۴ (۱)

۵۰- در شکل زیر به جای علامت سوال کدام عدد قرار میگیرد؟



- (۱) ۶۹
 (۲) ۴۵
 (۳) ۷۲
 (۴) ۸۱

ایران عرضه
 IRANARZE.IR
 فروشگاه کالاهای دانشمندی