



IranArze.ir



@iranarze



کد محصول
ES749



آخرین بروزرسانی
۱۷ خرداد ۱۴۰۵

سوالات استخدامی

آستان قدس رضوی

- ✔ ویژه آزمون استخدامی آستان قدس رضوی
- ✔ نسخه رایگان شامل ۱۰۰ سوال (تعداد کمتر و تنها برخی دارای پاسخ)
- ✔ برای تهیه نسخه اصلی، با ۸۷ سوال به همراه پاسخنامه تشریحی، به سایت ایران عرضه مراجعه نمایید.

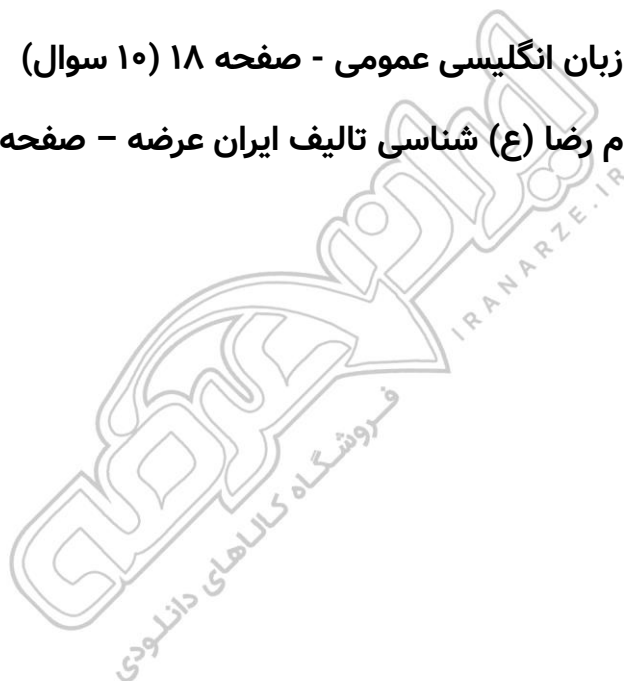


لینک های مفید آزمون استخدامی آستان قدس رضوی

سوالات رایگان دروس عمومی آزمون های استخدامی با پاسخنامه	خرید این محصول
خرید سوالات استخدامی ۱۰ سال اخیر	خرید سوالات امام رضا شناسی
منابع آزمون	خرید درسنامه استخدامی ۱۰ سال اخیر
شبکه های اجتماعی ایران عرضه (فایل های رایگان + تخفیفات هفتگی + اخبار)	اخبار آزمون
(برای مشاهده هر بخش روی آن بزنید )	
آخرین بروزرسانی های محصول: ۱۴۰۵/۰۳/۱۷ تالیف مجدد محصول	

فهرست مطالب

- ❖ فصل اول: سوالات هوش و توانمندی های عمومی - صفحه ۴ (۱۰ سوال)
- ❖ فصل دوم: سوالات معارف اسلامی - صفحه ۷ (۱۰ سوال)
- ❖ فصل سوم: سوالات زبان و ادبیات فارسی - صفحه ۹ (۱۰ سوال)
- ❖ فصل چهارم: سوالات مهارت های هفتگانه فناوری اطلاعات - صفحه ۱۱ (۱۰ سوال)
- ❖ فصل پنجم: سوالات قوانین و مقررات اداری و قانون اساسی - صفحه ۱۳ (۱۰ سوال)
- ❖ فصل ششم: سوالات اطلاعات عمومی - صفحه ۱۵ (۱۰ سوال)
- ❖ فصل هفتم: سوالات ریاضی و آمار مقدماتی - صفحه ۱۷ (۱۰ سوال)
- ❖ فصل هشتم: سوالات زبان انگلیسی عمومی - صفحه ۱۸ (۱۰ سوال)
- ❖ فصل نهم: سوالات امام رضا (ع) شناسی تالیف ایران عرضه - صفحه ۱۹ (۲۰ سوال)



در هر بخش، تنها ۱ سوال ابتدایی دارای پاسخنامه تشریحی می باشد. در صورت تمایل به دریافت سوالات بیشتر با جواب تشریحی می توانید این محصول را از سایت ایران عرضه خریداری نمایید.

خرید محصول

❖ فصل اول: سوالات هوش و استعداد تحصیلی

«اگرچه اکثر دانشگاه ها حقوق مربوط به اختراعات اعضای هیئت علمی را برای خود حفظ میکنند، با این حال اعضای هیئت علمی حق التألیف کتب و مقالات خود را دریافت میکنند. بنابراین اعضای هیئت علمی باید حق الامتیاز تولید نرم افزار های آموزش کامپیوتری مربوط به خود را حفظ کنند»

۱- نتیجه گیری بالا معقول تر میبود اگر کدام گزینه به عنوان پیش فرض اضافه در استدلال آن وارد شود؟

(۱) اعضای هیئت علمی بیشتر احتمال دارد نرم افزار های آموزشی تولید کنند تا اختراعی انجام دهند.

(۲) اختراعات منزلت بیشتری برای دانشگاه ها به ارمغان میاورند تا کتب و مقالات.

(۳) بنا به تجربه اکثر دانشگاه ها، نرم افزار های آموزشی از قابلیت بیشتری برای عرضه به بازار برخوردارند تا کتب و مقالات.

(۴) از نقطه نظر موازین مورد استفاده برای اعطا حق الامتیاز، نرم افزار های آموزشی بیشتر با کتب و مقالات قابل مقایسه اند تا با اختراعات.

☑ پاسخ سایت ایران عرضه: گزینه ۴ ← در صورتی که متن را به صورت استدلالی و خط به خط بنویسیم خواهیم داشت:

مقدمه: دانشگاه ها معمولاً حقوق اختراعات هیئت علمی رو برای خودشون نگه میدارند.

مقدمه: هیئت علمی اما حق التألیف کتب و مقالات رو میگیرند.

نتیجه: بنابراین هیئت علمی باید حق الامتیاز نرم افزار های آموزشی خودشون رو هم بگیرند.

این نتیجه فقط زمانی منطقی تلقی میشه که نرم افزار آموزشی از لحاظ حقوقی / ماهیتی به کتاب و مقاله تشابه بیشتری

دارند تا به اختراعات. میتوان دید که گزینه ۴ نیز دقیقاً این حالت را توصیف میکند، لذا پاسخ صحیح گزینه ۴ است.

«اندازه گیری میزان کارایی افرادی که در بخش خدمات کار میکنند بسیار پیچیده است. مثلاً برای کارمندان اداره پست، چنان

مطرح شده است تعداد نامه هایی که هر مامور تحویل میدهد، نشان دهنده میزان کارایی اوست. مسلماً چنین تعبیری از

کارایی چندان قابل دفاع نیست زیرا تحویل دادن تعداد بیشتری از نامه ها ممکن است همراه باشد با مفقود شدن، تاخیر و

یا اشتباه در تحویل آن ها»

۲- انتقادی که در متن بالا مطرح شده است، در کدام یک از گزینه های زیر نیز منعکس گردیده است؟

(۱) نامه رسان پست یک شغل خدماتی است ولی نمیتواند معرف تمام مشاغل خدماتی باشد.

(۲) وظیفه اول اداره پست، رساندن نامه ها به دست صاحبان آنهاست.

۳) کیفیت کار افرادی که در بخش خدمات کار میکنند، در سنجش کارایی آنان، به سادگی میتواند نادیده گرفته شود.

۴) تعداد نامه هایی که ماموران به درستی تحویل میدهند، شاخص مناسبی برای میزان کارایی آنان است.

«آلودگی محیط زیست تنها مربوط به آلودگی هوا و آلودگی آبها و محیط فیزیکی نیست، آلودگی صدا نیز مطرح است و از همه بدتر، آلودگی ناشی از فقر اقتصادی، اجتماعی و فرهنگی است که بدترین نوع آلودگی را ایجاد میکند و توجه چندانی

هم در بحث های مربوط به آلودگی به آنها نمیشود.»

۳- کدامیک از جملات زیر منظور نویسنده متن را فوق را بهتر بیان میکند؟

۱) برای حفظ محیط زیست، آلودگی هوا و محیط فیزیکی باید به حداقل برسد.

۲) فقر فرهنگی از فقر اجتماعی و اقتصادی، آلودگی بیشتری ایجاد میکند.

۳) کم کردن سر و صدا از مهمترین موارد تنظیم محیط زیست است.

۴) متخصصان محیط زیست به مهمترین آلودگی، کمترین توجه را دارند.

* در یک برد کنترلی ۱۰ لامپ در یک ردیف قرار دارند. لامپ ها از ۱ تا ۱۰ به ترتیب از چپ به راست شماره گذاری شده اند.

هر لامپ یا روشن است یا خاموش. همچنین قوانین زیر بر آنها حاکم است:

- هیچ دو لامپی با شماره های متوالی، با هم روشن نیستند.

- هیچ سه لامپی با شماره های متوالی با هم خاموش نیستند.

- دقیقا چهار لامپ از ۱۰ لامپ روشن است.

- لامپ ۳ خاموش است

۴- کدامیک از حالت های زیر میتواند یکی از حالات معتبر برای لامپ های ۱ تا باشد؟

۱) off , off , off , on , off , on , off , on , off , on

۲) on , off , off , on , off , off , on , off , on , off

۳) off , on , off , on , off , on , off , on , off , on

۴) off , off , on , off , on , off , on , off , on , off

۵- اگر لامپ چهار خاموش باشد، کدامیک از عبارات زیر درست است؟

۱) لامپ ۱ روشن است

۲) لامپ ۲ خاموش است

۳) لامپ ۵ خاموش است

۴) لامپ ۶ خاموش است

۶- اگر لامپ ۹ و ۱۰ خاموش باشند، کدامیک از عبارات زیر حتما درست است؟

۱) لامپ ۱ روشن است

۲) لامپ ۲ خاموش است

۳) لامپ ۴ روشن است

۴) لامپ ۵ روشن است

۷- اگر لامپ ۶ روشن و لامپ ۸ خاموش باشد، برای چه تعداد از لامپ ها وضعیت روشن یا خاموش بودن آنها را میتوان مشخص کرد؟

- ۵ (۱) ۶ (۲) ۷ (۳) ۸ (۴)

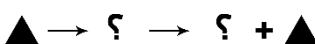
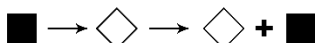
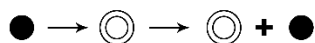
۸- در بحث متدولوژی علم، توجه خاص باید

- (۱) به مسئله ی اندازه گیری که طبیعتاً با اعداد سر و کار دارد توجه شود
 (۲) به مسئله ی اندازه گیری معطوف شود که به طور طبیعی با اعداد سر و کار دارد
 (۳) به اندازه وسایل مربوطه به آن معطوف شود
 (۴) به اعداد معطوف شود که در اندازه گیری طبیعتاً مصداق پیدا میکند.

۹- اگر عقربه های ساعت دیواری در آینه محل کار ۳:۳۰ را نشان دهد، زمان واقعی چند است؟

- ۸:۳۰ (۱) ۹:۳۰ (۲) ۱۰:۳۰ (۳) ۲:۳۰ (۴)

۱۰- ادامه الگو کدام تصویر است؟ (متعلق به سایت ایران عرضه)



(۴)



(۳)



(۲)



(۱)

❖ فصل دوم: سوالات معارف اسلامی

۱- درک فقر و نیاز بشر نسبت به خدا در گرو چیست؟

(۱) غنای حقیقی (۲) کمال حقیقی (۳) علم حقیقی (۴) ایمان حقیقی

❑ پاسخ سایت ایران عرضه: گزینه ۴ ⇨ انسانها هر قدر که به معنای حقیقی کاملتر میشوند، فقر و نیازمندی خود را به خداوند بیشتر درک می - کنند

۲- با توجه به معارف اسلامی شناخت هستی و چیستی خدا به ترتیب موصوف به و است.

(۱) ممکن - ناممکن (۲) ناممکن - ممکن (۳) ممکن - ممکن (۴) ناممکن - ناممکن

۳- کدام رابطه می تواند میان بندگی و خودشناسی و فقر و نیازمندی ما به خداوند، برقرار باشد؟ (منبع ایران عرضه)

(۱) افزایش بندگی ← افزایش خودشناسی ← درک بیشتر فقر و نیاز

(۲) افزایش بندگی ← درک بیشتر فقر و نیاز ← افزایش خودشناسی

(۳) افزایش خودشناسی ← درک بیشتر فقر و نیاز ← افزایش بندگی

(۴) درک بیشتر فقر و نیاز ← افزایش بندگی ← افزایش خودشناسی

۴- مانند روحی در پیکره ی معارف و احکام دین حضور دارد.

(۱) توحید (۲) معاد (۳) نبوت (۴) عدل

۵- اگر معتقد باشیم خدا تنها مبدأ جهان است و در آفرینش شریک و همتایی ندارد یعنی توحید در

(۱) ربوبیت (۲) خالقیت (۳) ولایت (۴) مالکیت

۶- سخن قرآن کریم درباره کسی که هوای نفس را معبود خود بگیرد، کدام است؟

(۱) آیا به آنچه از حق آمده کفر می ورزند؟ (۲) آیا تو می توانی ضامن او باشی؟

(۳) همانا آنان در خسران آشکار هستند. (۴) همانا اینان در دنیا و آخرت زیان کار هستند.

۷- تحقق بعد اجتماعی توحید عملی مرهون است.

(۱) قبول توحید در خالقیت (۲) تشکیل نظام الهی

(۳) بعد فردی (۴) نفی ظلم

۸- کدام گزینه به معنای یگانه شدن برای خداست؟

(۱) توحید در خالقیت (۲) عمل صالح (۳) توحید نظری (۴) اخلاص در بندگی

۹- در اصول دین تقلید چه حکمی دارد؟

(۱) کراهت دارد.

(۲) جایز نیست.

(۳) در صورتی که یقین پیدا نکرده باشید واجب است.

۴) واجب است اما کسی مجتهد باشد، نباید تقلید کند.

۱۰- کدام جمله دلالت بر توحید در جهان بینی اسلامی ندارد؟

۱) در همه منطقه وجود یک قدرت به نام خدا است.

۲) تمام پدیده ها رو به آن قدرت عظیم با حال مسکنت قرار دارند.

۳) در مواجهه همه موجودات با خداوند متعال فرقی از جهت عبودیت در مقابل آن مرکز قدرت نیست.

۴) بین موجودات در مواجهه با خداوند متعال بر حسب خلقت آنها تفاوت است.



❖ فصل سوم: سوالات زبان و ادبیات فارسی

۱- کدام مجموعه از ترکیب‌ها «اضافه تشبیهی» است؟

(۱) مزید نعمت - شرط انصاف - مرغ سحر - کلاه شکوفه

(۲) جیب مراقبت - امید اجابت - دیوار امت - قصه عشق

(۳) پرده ناموس - کلاه شکوفه - سرور کائنات - درگاه خداوند

(۴) دریای معرفت - شب جهل - شکوفه اشک - آتش عشق

❑ پاسخ سایت ایران عرضه: گزینه ۴ ← در (اضافه ی تشبیهی)، مضاف و مضاف الیه در ظاهر اضافه اند ولی در معنا تشبیه

وجود دارد. مثلاً (دریای معرفت) یعنی شخصی که در معرفت، مانند دریاست در همه ی این ترکیب‌ها رابطه ی تملک یا

وصفی نیست، بلکه نوعی تشبیه پنهان وجود دارد.

دریای معرفت (تشبیهی؛ معرفت مثل دریاست)

شب جهل (تشبیهی؛ جهل مانند شب است)

شکوفه اشک (تشبیهی؛ اشک مانند شکوفه است)

آتش عشق (تشبیهی؛ عشق مانند آتش است)

۲- در کدام گزینه «کنایه» به کار رفته است؟ (iranarze)

(۱) بزد تیر بر چشم اسفندیار/سپه شد جهان پیش آن نامدار

(۲) تهمت گز اندر کمان راند زود/بر آن سان که سیمرغ فرموده بود

(۳) تو را گر همی یار باید بیار/مرا یار هرگز نیاید به کار

(۴) بفرمود تا زین بر اسب سیاه/نهادند و بردند نزدیک شاه

۳- «عدّت» به چه معناست؟

(۱) ارزیابی کردن (۲) فرصت دادن (۳) جنگ و دعوا (۴) ساز و برگ

۴- کدام گزینه ترکیب وصفی است؟

(۱) دست اجل (۲) دست خالی (۳) دست ادب (۴) دست دوست

۵- مفهوم کلی این بیت با کدام بیت تناسب دارد؟

«موی سپید را فلکم رایگان نداد/ این رشته را به نقد جوانی خریده ام»

(۱) چگونه پیر جوانی و جاهلی نکند / در این قضیه که گردد جهان پیر، جوان

(۲) برف پیروی می نشیند بر سوم / همچنان طبعم جوانی می کند

(۳) قدح پر کن که من از دولت عشق / جوان بخت جهانم گرچه پیرم

(۴) سال‌ها با بار پیروی خم شدم در جست و جویش / تا به چاه گور هم رفتم نشد پیدا جوانی

۶- در کدام گزینه نام اثری منسوب به «محمد تقی بهار» آمده است؟

(۱) ایده آل (۲) گنجینه نشاط

(۳) تاریخ تطور شعر فارسی (۴) خداوند نامه

۷- مهم ترین قالب نثر دوره معاصر کدام است؟ - ناشر ایران عرضه -

(۱) نثر داستانی (۲) ادبیات نمایشی (۳) سفرنامه (۴) مقاله

۸- در متن کدام آرایه به کار نرفته است؟

«طاووس این بهارم، ساغر کش خمارم در راه انتظارم صدچشم و یک پریدن»

(۱) سجع (۲) تلمیح (۳) تشبیه (۴) تضمین

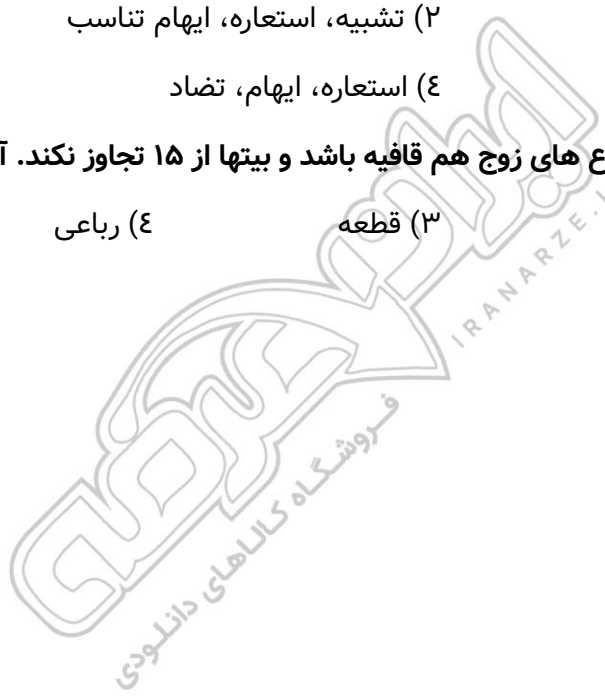
۹- آرایه های بیت زیر کدامند؟ «سوزن ز تیر مزگان و ز تار زلف نخ کن / هر چند رخنه دل تاب رفو ندارد»

(۱) استعاره، پارادوکس، مجاز (۲) تشبیه، استعاره، ایهام تناسب

(۳) تشبیه، مراعات نظیر، تضاد (۴) استعاره، ایهام، تضاد

۱۰- وقتی مصراع اول شعری با مصراع های زوج هم قافیه باشد و بیتها از ۱۵ تجاوز نکند. آن قالب را قالب می گویند.

(۱) غزل (۲) قصیده (۳) قطعه (۴) رباعی



❖ فصل چهارم: سوالات مهارت های هفتگانه (ICDL)

۱- اگر بخواهیم در نرم افزار اکسل، در یک سلول پس از ثبت بخشی از اطلاعات، به ابتدای سطر بعد رفته و همچنان در همان

سلول اطلاعات جدید را درج کنیم، از چه کلیدهایی به جای Enter استفاده میکنیم؟

(۱) Alt+Enter (۲) Shift+Enter (۳) Tab+Enter (۴) امکان پذیر نمی باشد.

☑ پاسخ سایت ایران عرضه: گزینه ۱ Alt+Enter : این ترکیب کلید یک خط جدید (Line Break) در داخل همان سلول ایجاد

می کند و به شما اجازه می دهد در همان سلول به خط بعدی بروید و اطلاعات جدید وارد کنید.

تشریح سایر گزینه ها:

گزینه ۲): Shift+Enter : این ترکیب در اکسل معمولاً برای حرکت به سلول بالایی استفاده می شود و برای ایجاد خط جدید

در همان سلول کاربرد ندارد.

گزینه ۳): Tab+Enter : این ترکیب عملکرد خاصی در اکسل ندارد و برای این منظور استفاده نمی شود (Tab). به تنهایی برای

حرکت به سلول بعدی در سمت راست استفاده می شود.

۲- در نرم افزار پاورپوینت کدام گزینه برای مرور اسلایدها و یادداشت گذاری روی آنها استفاده می شود؟

(۱) Normal (۲) Outline view (۳) slide sorter (۴) notes page

۳- کدام یک از توابع زیر در نرم افزار اکسل، مربوط به شمارش سلول های عددی در محدوده انتخاب شده است؟

(۱) count (۲) counta (۳) countblank (۴) countif

۴- در ساختار یک آدرس پست الکترونیک، قبل از علامت @ چه بخشی قرار دارد؟ (منبع ایران عرضه)

(۱) آدرس شرکت سرویس دهنده پست الکترونیک

(۲) WWW

(۳) نام اختصاصی انتخاب شده توسط کاربر

(۴) Com

۵- کدام یک از ترکیب کلیدهای زیر، اولین کلمه بعد از مکان نما را در نرم افزار ورد پاک میکند؟

(۱) Ctrl+Shift+Del (۲) Ctrl+Shift+BackSpace

(۳) Ctrl+Del (۴) Ctrl +BackSpace

۶- ترکیب کلیدهای Ctrl+y یا Redo چه عملی را در نرم افزار ورد انجام میدهد؟

(۱) بازگرداندن آخرین عملیات لغو شده (۲) لغو آخرین عملیات انجام شده

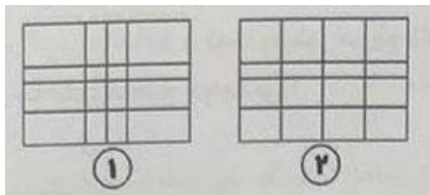
(۳) Paste کردن اطلاعات کپی گرفته شده (۴) کپی گرفتن از بخش انتخاب شده متن

۷- اگر در نرم افزار ورد بخواهیم دو بخش یک جدول را از هم جدا کرده و دو جدول مجزا از آن درست کنیم، از کدام گزینه

زیر استفاده میشود؟

insert below (۴) Split Cells (۳) Merge Cells (۲) Split Table (۱)

۸- وقتی جدولی مانند شکل شماره ۱ در نرم افزار ورد رسم کرده ایم با کدام یک از گزینه های زیر این جدول به صورت جدول شماره ۲ تغییر خواهد کرد؟



Auto Fit (۱)

Row Height (۲)

distribute columns (۳)

Fixed column Width (۴)

۹- کدام گزینه سیستم عامل نیست؟

Oracle (۴) Windows (۳) Unix (۲) Linux (۱)

۱۰- CPU از چه بخش هایی تشکیل شده است؟ {ایران عرضه}

ALU و حافظه پنهان (۱)

ALU و واحد کنترل (۲)

حافظه RAM و ROM (۳)

حافظه ثانویه (۴)



❖ فصل پنجم: سوالات قوانین و مقررات اداری و قانون اساسی

۱- مسئولی است که از لحاظ سلسله مراتب سازمانی به طور مستقیم مسئولیت سرپرستی و ارجاع کار به ارزشیابی شونده را دارد و از وی گزارش دریافت می کند.

(۱) ارزشیابی کننده (۲) مدیر بلافصل (۳) تایید کننده (۴) گزینه ۱ و ۲

❑ پاسخ سایت ایران عرضه: گزینه ۴ ← ارزشیابی کننده یا مدیر بلافصل، مسئولی است که از لحاظ سلسله مراتب سازمانی

به طور مستقیم مسئولیت سرپرستی و ارجاع کار به ارزشیابی شونده را دارد و از وی گزارش دریافت میکند.

طبق ماده ۹۲ قانون مدیریت خدمات کشوری، مدیران و سرپرستان بلافصل یا ارزشیابی کننده، مسؤل نظارت، کنترل و حفظ روابط سالم کارکنان خود در انجام وظایف محوله می باشند و در مورد عملکرد آنان باید پاسخگو باشند. در صورتی که کارکنان مزبور با اقدامات خود موجب ضرر و زیان دولت گردند و یا تخلفاتی نظیر رشوه یا سوءاستفاده در حیطه مدیریت مسؤلین مزبور مشاهده و اثبات گردد، علاوه بر برخورد با کارکنان خاطی، با مدیران و سرپرستان کارکنان (حسب مورد) نیز که در کشف تخلف یا جرایم اهمال نموده باشند، مطابق قوانین مربوط با آنان رفتار خواهد شد.

تشریح سایر گزینه ها:

تایید کننده: مدیری است که از لحاظ سطح سازمانی بالاتر از ارزشیابی کننده قرار دارد.

۲- کارمندی که به صورت غیر منظم و بر حسب نوبت به صورت کشیک یا عناوین مشابه آن در هر یک از حالت زمانی عهده

دار انجام مسئولیت های محوله باشند (تالیف سایت ایران عرضه)

(۱) مشمول پرداخت فوق العاده نوبت کاری نیستند.

(۲) با رعایت مقررات مربوط از فوق العاده اضافه کار ساعتی برخوردار خواهد بود.

(۳) مشمول پرداخت فوق العاده نوبت کاری می شوند.

(۴) موارد ۱ و ۲

۳- کارمندان دستگاه های اجرائی می توانند در طول مدت خدمت خود با موافقت دستگاه ذیربط حداکثر از مرخصی

بدون حقوق استفاده نمایند و اگر مرخصی برای ادامه تحصیلات عالی باشد تا قابل افزایش خواهد بود.

(۱) دو سال - یک سال (۲) یک سال - دو سال

(۳) یک سال - یک سال (۴) سه سال - دو سال

۴- کدام گزینه غلط است؟

(۱) پرداخت اضافه کاری بدون انجام کار اضافی به نظر مدیر سازمان بستگی ندارد.

(۲) پرداخت اضافه کاری تنها در قبال انجام کار اضافی در ساعات اداری مجاز می باشد.

(۳) پرداخت اضافه کاری بدون انجام کار اضافی وجاهت قانونی ندارد.

(۴) پرداخت اضافه کاری بدون انجام کار اضافی در حکم تصرف غیر قانونی وجوه و اموال عمومی است.

۵- کدام گزینه صحیح می باشد؟

- (۱) در به کارگیری و جذب نیروی انسانی جدید و مورد نیاز توسط واحد مجری، اولویت با نیروی انسانی جدید است.
- (۲) کاهش قانونی حقوق و مزایای کارکنان واحد مجری در دوره اجرای تفاهم نامه، به عنوان تعهدات دستگاه در تفاهم نامه منظور و توسط دستگاه اجرایی تأمین می شود.
- (۳) هزینه های ناشی از انعقاد تفاهم نامه نباید از مجموع اعتبارات هزینه هایی که در بودجه مصوب سالانه پیش بینی شده، تجاوز کند.
- (۴) موارد ۱ و ۲

۶- چه میزان مرخصی با حقوق سالانه کارمندان در دستگاه های اجرائی در طول سال قابل ذخیره کردن است؟

- (۱) ۲۰ روز (۲) نصف مرخصی ها (۳) کل مرخصی ها (۴) ۱۰ روز

۷- حداقل چند ماه پیش از پایان اعتبار گواهینامه متقاضیان تمدید گواهینامه صلاحیت خدمات مشاوره مدیریتی باید درصدد تمدید آن برآیند؟

- (۱) دو ماه پس از انقضای اعتبار گواهینامه (۲) حداقل ۱ ماه پیش از پایان اعتبار گواهینامه
- (۳) حداقل ۲ ماه پیش از پایان اعتبار گواهینامه (۴) یک ماه پس از انقضای اعتبار گواهینامه

۸- پیشنهاد بازنگری و بهبود دستورالعمل از وظایف است.

(۱) وزارتخانه

(۲) معاون نوسازی اداری

(۳) رئیس امور مدیریت عملکرد و ارتقای فرهنگ سازمانی

(۴) کمیته تشخیص صلاحیت

۹- در اجرای ماده ۲ آیین نامه اجرایی ماده ۲۰ قانون مدیریت خدمات کشوری هر نوع نظر، فکر و راهکاری که بتواند وضعیت موجود را آسان تر، سریع تر، صحیح تر، ارزان تر، ایمن تر و مطلوب تر کند، نام دارد.

- (۱) بهره وری (۲) پیشنهاد (۳) رویکرد (۴) آیین نامه

۱۰- تامین خدمات عمومی و تخصصی مورد نیاز دستگاه اجرایی با استفاده از ظرفیت بخش خصوصی و تعاونی نام دارد.

- (۱) خرید خدمات (۲) خدمت دهنده (۳) قیمت خدمات (۴) تعیین قیمت

❖ فصل ششم: سوالات اطلاعات عمومی

۱- پدر علم جامعه شناسی چه کسی است؟

- (۱) کارل مارکس (۲) آگوست کنت (۳) امیل دور کیم (۴) ماکس وبر

❑ پاسخ سایت ایران عرضه: گزینه ۲ ⇐ آگوست کنت (Auguste Comte) به عنوان پدر علم جامعه شناسی شناخته میشود، زیرا او برای اولین بار در قرن نوزدهم این رشته را به عنوان یک علم نظام مند و مستقل تعریف کرد و اصطلاح جامعه شناسی (Sociology) را به کار برد. کنت که بین سال های ۱۷۹۸ تا ۱۸۵۷ زندگی میکرد، فیلسوف و نظریه پرداز فرانسوی بود و نقش کلیدی در پایه گذاری مکتب پوزیتیویسم (اثبات گرایی) داشت. او معتقد بود که جامعه انسانی میتواند با استفاده از روش های علمی، مشابه علوم طبیعی، مورد مطالعه قرار گیرد. اگرچه مارکس، دورکیم و وبر هر یک کمک های عظیمی به جامعه شناسی کردند، اما کنت به دلیل معرفی مفهوم جامعه شناسی و تلاش برای تبدیل آن به یک علم نظام مند، به عنوان پدر این رشته شناخته میشود. او چارچوبی نظری و روش شناختی ارائه داد که بعدها توسط دورکیم، وبر و دیگران تکمیل شد.

۲- قرارداد گلستان در زمان کدام پادشاهان قاجار امضا شد؟

- (۱) آقامحمدخان (۲) ناصرالدین شاه (۳) فتحعلی شاه (۴) مظفرالدین شاه

۳- اصل تفکیک قوا در کدام اصل قانون اساسی ذکر شده است؟ (منبع ایران عرضه)

- (۱) ۶۰ (۲) ۵۷ (۳) ۱۱۰ (۴) ۹

۴- اصل ۴۴ قانون اساسی به کدام یک از موضوعات زیر اشاره دارد؟

- (۱) حقوق مردم (۲) اقتصاد (۳) آزادی مطبوعات (۴) آموزش و پرورش

۵- عملیات ثامن الائمه در سال با هدف انجام شد و عملیات با هدف آزاد سازی خرمشهر انجام شد.

- (۱) ۱۳۶۲ - آزادسازی سوسنگرد - بیت المقدس (۲) ۱۳۶۱ - شکست حصر آبادان - فتح المبین
(۳) ۱۳۶۳ - فتح فاو - فتح المبین (۴) ۱۳۶۰ - شکست حصر آبادان - بیت المقدس

۶- کدام کارگردان ایران اولین جایزه نخل طلایی کن را دریافت کرده است؟

- (۱) عباس کیارستمی (۲) اصغر فرهادی (۳) جعفر پناهی (۴) داریوش مهرجویی

۷- مصرف برای کاهش پوکی استخوان ضروری تر از بقیه است.

- (۱) فسفر (۲) کلسیم (۳) آهن (۴) پتاسیم

۸- کدام کشور عضو اتحادیه اروپا نمیشد؟

- (۱) قبرس (۲) لتونی (۳) مالت (۴) بریتانیا

۹- «در جمهوری اسلامی ایران آزادی و استقلال و وحدت و تمامیت ارضی کشور از یکدیگر تفکیک ناپذیرند»، مربوط به کدام

اصل قانون اساسی است؟

- (۱) اصل ششم (۲) اصل هشتم (۳) اصل یازدهم (۴) اصل نهم

۱۰- مصوبات شورای عالی امنیت ملی به تایید کدام نهاد یا مقام می رسد؟

(۲) مجلس شورای اسلامی

(۱) شورای نگهبان

(۴) رئیس جمهور

(۳) مقام معظم رهبری



❖ فصل هفتم: سوالات ریاضی و آمار مقدماتی

۱- مجموع دو عدد 40 و کوچکترین مضرب مشترک آنها 84 است. آن دو عدد کدام هستند؟

- (۱) 8 و 32 (۲) 12 و 28 (۳) 18 و 22 (۴) 12 و 26

☑ پاسخ سایت ایران عرضه: گزینه ۲ ⇐ ابتدا عدد 84 را تجزیه میکنیم تا عوامل سازنده آن مشخص شوند که این عوامل شامل 2 ، 3 و 7 میباشد. برای یک راه حل ساده میتوانیم به بررسی تک تک گزینه ها بپردازیم. به عنوان مثال در گزینه 4 میتوان دید که مجموع اعداد اصلا 40 نمیشود. در ارتباط با گزینه های 1 و 3 میتوان دید که هیچکدام از اعداد موجود در گزینه ها مضرب 7 نمیشوند. پس تنها گزینه ممکن گزینه 2 میباشد.

۲- اگر A مجموعه اعداد زوج و B مجموعه مضرب های یک رقمی عدد 4 باشد، $A \cup B$ از A چند عضو بیشتر دارد؟

- (۱) 3 (۲) 2 (۳) 1 (۴) صفر

۳- خارج قسمت $x^2 - 5x + 6$ در تقسیم بر $x - 3$ کدام است؟ (منبع ایران عرضه)

- (۱) $x - 2$ (۲) $x + 2$ (۳) $x + 3$ (۴) $x - 1$

۴- اگر $x^2 + y^2 = 2xy$ باشد، حاصل $\frac{x^2 + y^2}{3x^2 - y^2}$ چقدر است؟

- (۱) 2 (۲) 3 (۳) 1 (۴) 4

۵- طول اضلاع مثلثی a ، $a+1$ و $a+2$ است. به ازای چه مقدار a ، مثلث قائم الزویه است؟

- (۱) 1 (۲) 3 (۳) 4 (۴) 3 و 4

۶- تابع $y = x^5 - 3x + 1$ چند نقطه عطف دارد؟

- (۱) یک نقطه (۲) دو نقطه (۳) سه نقطه (۴) ندارد

۷- فاصله نقطه $B(2,5)$ از مبدا مختصات و همچنین از نقطه A واقع بر محور طول ها به یک اندازه میباشد. طول نقطه A کدام است؟

- (۱) 2 (۲) 3 (۳) 4 (۴) 5

۸- با توجه به مشاهدات « $9 - 9 - 2 - 2 - 2 - 7 - 7 - 19 - 20$ » نما کدام است؟

- (۱) 2 (۲) 2 و 9 (۳) $5/8$ (۴) 20

۹- در یک فضای نمونه، اگر احتمال وقوع A برابر $0/3$ و احتمال B برابر $0/4$ و احتمال اشتراک آنها $0/1$ باشد، احتمال اجتماع آنها چند است؟

- (۱) $0/7$ (۲) $0/6$ (۳) $0/8$ (۴) $0/5$

۱۰- در نظریه مجموعه ها اگر $n(A) = 4$ و $n(B) = 5$ و $n(A \cap B) = 2$ ، آنگاه $n(A \cup B) = ?$

- (۱) 7 (۲) 6 (۳) 8 (۴) 9

❖ فصل هشتم: سوالات زبان انگلیسی عمومی

1- Motors pass so that we often don't see them.

- 1) carefully 2) quickly 3) secretly 4) clearly

۱- موتورها چنان رد شدند که ما آن ها را ندیدیم.

- (۱) با احتیاط (۲) سریع (۳) به صورت مخفیانه (۴) به صورت واضح

❑ پاسخ سایت ایران عرضه: گزینه ۲ ← با توجه به ترجمه سوال گزینه ۲ به معنی "سریع" پاسخ صحیح می باشد.

2- It is possible for a microscope..... one or more lenses. (source: iran arze website)

- 1) to have 2) have 3) that has 4) has

3- The proved her theory that the chemical was harmless to plants.

- 1) explanation 2) experiments 3) exception 4) exhibition

4- If she hadn't lost her ticket, she..... so upset now.

- 1) won't be 2) wasn't 3) hadn't been 4) wouldn't be

5- The bookstore has a wide..... of books, fiction and non-fiction.

- 1) portion 2) chain 3) choice 4) range

6- Deep freezing is a common way of..... fruit and vegetables.

- 1) preserving 2) defending 3) producing 4) growing

7- How much coffee did you get? "I didn't get coffee".

- 1) no 2) few 3) some 4) any

8- My computer..... be old, but it still works really well.

- 1) can 2) could 3) may 4) would

9- Which term means "the risk that a borrow will not repay a loan"?

- 1) Credit risk 2) Market risk
3) Operational 4) Systemic risk

10- According to Central bank guidelines, which measure is mandatory for supporting vulnerable clients?

- 1) Waiving all types of collateral for low-income clients
2) Opening new branches in every rural community
3) Issuing loans without any formal credit assessment
4) Identifying clients using pre-approve social indicators

❖ فصل نهم: سوالات امام رضا (ع) شناسی تالیف ایران عرضه

۱- امام هشتم در چه سالی و در کجا دیده به جهان گشود؟ (منبع ایران عرضه)

(۱) دوازدهم ذی القعدة سال ۱۴۶ هجری قمری

(۲) سیزدهم جمادی الاول سال ۱۴۹ هجری قمری

(۳) روز یازدهم ذیقعدة سال ۱۴۸ هجری قمری

(۴) دوازدهم جمادی الاول سال ۱۴۷ هجری قمری

❑ پاسخ سایت ایران عرضه: گزینه ۳ ← امام هشتم شیعیان حضرت علی بن موسی الرضا علیه السلام روز یازدهم ذیقعدة

سال ۱۴۸ هجری قمری در مدینه دیده به جهان گشود

۲- دوران امامت امام رضا چند سال بود؟

(۱) ۱۰ سال (۲) ۲۰ سال (۳) ۱۵ سال (۴) ۱۸ سال

۳- دوران امامت امام رضا با حکمرانان مستبد عباسی هر کدام چند سال بود؟

(۱) هارون (۱۰ سال) امین (۵ سال) مامون (۵ سال)

(۲) هارون (۸ سال) امین (۸ سال) مامون (۴ سال)

(۳) هارون (۵ سال) امین (۱۰ سال) مامون (۵ سال)

(۴) هارون (۸ سال) امین (۶ سال) مامون (۶ سال)

۴- امام رضا علیه السلام در چه سالی و در چه سنی به شهادت رسید؟

(۱) سال ۲۰۳ هجری قمری و در سن ۵۶ سالگی

(۲) سال ۲۰۲ هجری قمری و در سن ۵۵ سالگی

(۳) سال ۲۰۱ هجری قمری و در سن ۵۶ سالگی

(۴) سال ۲۰۳ هجری قمری در سن ۵۵ سالگی

۵- این جمله از چه کسی است «هرگز ندیدم که امام رضا علیه السلام به کسی یک کلمه جفا کند و ندیدم که سخن

شخصی را قطع کند و ندیدم که نیازمندی را از درگاه خویش رد کند»

(۱) یسع بن حمزه (۲) ابراهیم بن عباس (۳) شیخ صدوق (۴) محمد بن سنان

۶- این حدیث از کیست «کار نیکی که پنهان انجام شود برابر هفتاد حج» است؟

(۱) پیامبر اکرم صلی الله

(۲) امام علی علیه السلام

(۳) امام رضا علیه السلام

(۴) امام صادق علیه السلام

۷- کدام یک از جملات زیر فرموده امام رضا علیه السلام می‌باشد؟

(۱) یک شب نگهبانی از حریم حکومت اسلامی برتر از هزار شب عبادت که روزش را انسان روزه بگیرد باشد

(۲) هرگاه کسی به نماز می ایستد، شیطان حسودانه به او می نگرد، بخاطر آنکه می بیند رحمت خدا او را فرا گرفته است
 (۳) چون خدا خیر بنده ای را خواهد او را نسبت به دنیا بی رغبت و نسبت به دین دانشمند کند و به دنیا بینایش سازد و به هر که این خصلتها داده شود خیر دنیا و آخرت داده شده
 (۴) عده‌ای از غالیان ؛ اخباری را در مورد تشبیه به خدا و مسئله جبر در شأن ما به دروغ جعل کردند و با این بیهوده‌گویی‌ها عظمت خدا را کوچک نمودند

۸- شیخ حر عاملی در مورد معجزات و کرامات حضرت رضا علیه السلام چه نوشته است؟

(۱) «معجزات امام رضا علیه السلام از حد تواتر تجاوز کرده است»
 (۲) ندیدم هرگز حضرت امام رضا (ع) را که از او چیزی بپرسند و نداند و از او دانایتر به مسائلی که در زمان او پیش آمده بود، ندیدم.

(۳) مقام و منزلت ایشان همانند پدرشان موسی بن جعفر است. امامت شیعه در زمان علی بن موسی به ایشان منتهای می‌شد، فضایل وی قابل شمارش نیست
 (۴) علی بن موسی الرضا داری والاترین و وافرترین فضایل و کرامات و برخوردار از برترین اخلاق و صورت و سیرت است که از پدرانش به ارث برده است

۹- یکی از معجزات امام رضا این بود که پسری به شخصی که صاحب فرزند نمی شد عطا کرد. آن شخص چ کسی بود؟

(۱) شیخ صدوق (۲) رکن الدوله (۳) حاکم توس (۴) ابومنصور عبدالرزاق

۱۰- و امامان و اولیای خدا پس از معرفت به خدا و اصول اعتقادات کدام یک را بر همه چیز مقدم می‌داشتند؟ (iranarze.ir)

(۱) عدل (۲) حرمت نماز (۳) حکومت اسلامی (۴) امر به معروف نهی از منکر

۱۱- امام رضا علیه السلام جمله زیر را خطاب به چه کسی فرمودند؟

« لا تؤخر الصلاة عن اول وقتها إلى آخر وقتها من غیر عله »

(۱) ابن عرفه (۲) محمد بن سنان (۳) عمران صائبی (۴) ابراهیم بن موسی

۱۲- پنجمین خلیفه عباسی چه کسی بود؟

(۱) هارون الرشید (۲) مامون عباسی
 (۳) ابوجعفر منصور دوانقی (۴) معتصم عباسی

۱۳- امام رضا با چه انگیزه‌ای وارد ماجرای ولایت عهدی شد؟

(۱) با انگیزه تشکیل حکومت اسلامی و مبارزه با مزدوران
 (۲) بنا به ادامه راه پدر بزرگوارشان
 (۳) با همان انگیزه‌ای که امام علی علیه السلام وادار به حضور در شورا شد

(۴ همه موارد

۱۴- مزدوران و عالمان فرومایه، عقیده جبر را به چه چیزی معرفی کردند؟

(۱ جزو عقاید اسلامی (۲ قضا و قدر الهی (۳ قانون و اجبار (۴ گزینه ۱ و دو

۱۵- عالمان خودفروخته دستگاه جور را از عقاید دینی می‌شمردند.

(۱ تحریم قیام و انقلاب (۲ قیام بر ضد سلاطین

(۳ حکومت پادشاهی (۴ جبر و زور

۱۶- روایت «حدثنی ابی موسی الکاظم ، عن ابیه جعفر صادق، عن ابیه محمدالباقر ، عن ابیه علی زین العابدین ، عن ابیه

شهید کربلا ، عن ابیه علی المرتضی و چه نام دارد؟

(۱ سلسله‌ها الذهب (۲ حدیث صحیح (۳ درایت الحدیث (۴ حدیث مرسل

۱۷- جمله « از پروردگار شنیدم که فرمود کلمه لا اله الا الله دژ من است پس هر کس آن را بگوید داخل دژ من شده است

و هر کس به دژ من وارد شود از عذاب من در امان است» از چه کسی است؟

(۱ رسول خدا صلی الله (۲ امام علی علیه السلام

(۳ جبرئیل (۴ امام رضا علیه السلام

۱۸- رئیس مذهب حنابله چه کسی بود؟

(۱ معتضد (۲ ابوحنیفه (۳ مالک بن عبس (۴ أحمد بن حنبل

۱۹- بنا به فرموده امام رضا علیه السلام کدام گزینه همبستگی شدیدی با توحید دارد؟

(۱ نبوت (۲ ولایت (۳ نماز (۴ همه موارد

۲۰- امام در نیشابور خویشتن را به حکم خدا معرفی کرد. (تالیف توسط سایت ایران عرضه)

(۱ رهبر (۲ حاکم و ولی (۳ امام مسلمانان (۴ رهبر