

## سوالات استخدامی

## شرکت پگاه انرژی پارسیان

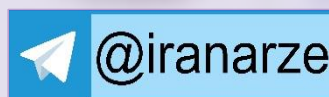
### توضیحات:

- بخشی از محصول
- شامل ۲۷۰ سوال
- با قابلیت پرینت
- کد محصول: ES1092

برای دانلود رایگان جدیدترین سوالات استخدامی پگاه انرژی پارسیان، اینجا بزنید

همچنین جهت مشاهده آخرین اخبار استخدامی، اینجا بزنید

« انتشار یا استفاده غیر تجاری از این فایل، بدون حذف لوگوی ایران عرضه، مجاز می باشد »



## فهرست مطالب (برای مراجعه به هر بخش، روی آن بزنید)

### حیطه عمومی

- ❖ فصل اول: سوالات ادبیات فارسی - صفحه ۳
- ❖ فصل دوم: سوالات معارف اسلامی - صفحه ۱۱
- ❖ فصل سوم: سوالات زبان انگلیسی عمومی - صفحه ۱۶
- ❖ فصل چهارم: سوالات هوش و توانمندی های ذهنی - صفحه ۲۵
- ❖ فصل پنجم: سوالات ICDL - صفحه ۳۳

### حیطه اختصاصی

- ❖ فصل ششم: سوالات مبانی حفاظت و حراست (برای شغل نگهبان) - صفحه ۴۰



در هر بخش، تنها ۲ سوال ابتدایی دارای پاسخنامه تشریحی می باشد. در صورت تمایل به دریافت سوالات بیشتر با جواب تشریحی می توانید این محصول را از سایت ایران عرضه خریداری نمایید.

خرید محصول

## ❖ فصل اول: سوالات ادبیات فارسی

۱- معنی واژه‌های مشخص شده در دو بیت زیر، به ترتیب در کدام گزینه آمده است؟ (iranarze.ir)

أوخ که شدم هیزم و آتشگر گیتی      اندام مرا سوخت چنین ز آتش ادبار

خندید برو شعله که از دست که نالی      ناچیزی تو کرد بدین گونه تو را خار

۱) دریغ، همیشگی، تیغ      ۲) افسوس، بدبختی، تیغ

۳) افسوس، همیشگی، پست      ۴) دریغ، بدبختی، پست

✓ پاسخ سایت ایران عرضه: گزینه ۴ ← معنی واژه های مشخص شده به ترتیب عبارتند از: اوخ/آوخ (افسوس، دریغ و هیهات) - ادبار (بدبختی، فلاکت و سیه روزی) - خار در این مصراع با توجه به معنی و مفهوم شعر، در اصل به صورت خوار بوده و برای زیبا نویسی به صورت خار نوشته شده است لذا در این مصراع واژه خوار مدنظر میباشد که معنی آن به صورت پست و حقیر و سرافکنده میباشد. با توجه به این معانی گزینه ۴ پاسخ صحیح میباشد.

۲- مفهوم کدام بیت در مقابل آن درست ذکر نشده است؟ (iranarze.ir)

۱) از گفته‌ی ناکرده و بیهوده چه حاصل؟      کردار نکو کن که نه سودی است نه گفتار: (پرهیز از علم بی‌حاصل)

۲) دادند دو گوش و یک زبانت ز آغاز      یعنی که دو بشنو و یکی بیش مگوی: (پرهیز از گزاف گویی)

۳) آن شاخ که سر برکشد و میوه نیارد      فرجام، به جز سوختنش نیست سزاوار: (پرهیز از بی‌ثمری)

۴) تو به صورت رفته‌ای ای بی‌خبر      زان ز شاخ معنی‌ای بی‌بار و بر: (پرهیز از ظاهر بینی)

✓ پاسخ سایت ایران عرضه: گزینه ۱ ← مفهوم نوشته شده در مقابل تمامی بیت ها به غیر از بیت گزینه یک صحیح میباشد. در گزینه ۱ مفهوم بیت به به بیهوده بودن سخن بی عمل و واهی اشاره دارد و میگوید که به رفتار نیکو اهمیت بده که سودی در گفتار تنها نیست. در گزینه دو به پرهیز از اضافه گویی، در گزینه ۳ به پرهیز از بی عاری و بی ثمری و در گزینه ۴ به پرهیز(منبع ایران عرضه) از ظاهر و رو بینی توصیه شده است.

۳- (تنظیم توسط فروشگاه ایران عرضه) جمع و فرد کلمه‌ها در کدام گزینه درست است؟ (iranarze.ir)

۱) جلد (اجلاد) - حفظ (حافظ) - آفت (أفات) - قوه (قوا)

۲) وارث (ورثه) - سند (مستندات) - شرط (مشروط) - حکیم (حکما)

۳) لون (الوان) - عجیب (عجایب) - مجلد (مجلدات) - وارث (وراث)

۴) وحش (وحوش) - خروش (خروشان) - ملک (املاک) - سند (اسناد)

۴- در کدام گزینه تضاد وجود دارد؟ (iranarze.ir)

- (۱) دست در دامن مولا زد، در  
 (۲) دهقان چو تنور خود از بن هیمه برافروخت  
 (۳) برگ درختان سبز در نظر هوشیار  
 (۴) گر بود اختیار جهانی به دست من  
 که علی بگذر و از ما نگذر  
 بگریست سپیدار و چنین گفت دگر بار  
 هر ورقش دفترست، معرفت کردگار  
 می ریختم تمام جهان را به پای تو

۵- در متن «متوجه شد که سربازان دشمن بعضی به صورت قافلگیر کننده از رودخانه‌ی بهمنشیر گذشته‌اند و می‌خواهند شهر

محاصره شده آبادان را اشغال کنند» چند غلط املائی وجود دارد؟ (iranarze.ir)

- (۱) دو (۲) سه (۳) چهار (۴) پنج

۶- واژه‌های «خَلَقَ، کاره، کربت، مرادف» یعنی .... (iranarze.ir)

- (۱) خواری، زندان، ناشنوایی، هدف  
 (۲) جمعیت، کوشا، ناشنوا، هماهنگ  
 (۳) نگران، شایسته، اندوه، هدفمند  
 (۴) کهنه، ناپسند، اندوه، مترادف

۷- نام نویسندگان «سبک شناسی» و «یکی بود یکی نبود» در کدام گزینه به درستی و به ترتیب آمده است؟ (iranarze.ir)

- (۱) ملک الشعرای بهار - محمدعلی جمالزاده  
 (۲) ملک الشعرای بهار - جلال آل احمد  
 (۳) ذبیح الله صفا - مهدی حمیدی شیرازی  
 (۴) علی اکبر دهخدا - جلال آل احمد

۸- از نظر اصول ویرایش زبان و نگارش معیار فارسی، کدام جمله درست است؟

- (۱) فناوری می رود که چهره زمین را به کلی دگرگون کند  
 (۲) روی دوست بی صداقت حساب نکن  
 (۳) ممکن است فردا باران بیاید  
 (۴) من روی این کار، خیلی وقت گذاشته ام

۹- از نظر آیین نگارش فارسی، کدام گزینه درست است؟ (iranarze.ir)

- (۱) آزمایشات (۲) کارخانجات (۳) احوال ها (۴) آشنائیت

۱۰- در عبارت «گو شمع میارید در این جمع که امشب / در مجلس ما ماه رخ دوست تمام است» چند صفت وجود دارد؟

- (۱) یک صفت (۲) دو صفت (۳) سه صفت (۴) چهار صفت

۱۱- (منبع فروشگاه اینترنتی ایران عرضه) درباره ادبیات حماسی کدام گزینه درست نیست؟ (iranarze.ir)

- (۱) قهرمان حماسه جانور مهیب یا هیولایی را می‌کشد.  
 (۲) در حماسه با گیاهانی که خاصیت جادویی دارند مواجهیم.  
 (۳) در حماسه قهرمان باید از میان دو گزینه بد و بدتر یکی را انتخاب کند اما فاجعه او را به سوی بدتر می‌برد.  
 (۴) قهرمان حماسه اعمال بزرگی انجام می‌دهد که اهمیت حکمی، معنوی یا ملی دارد.

## ۱۲- ساقی نامه‌ها چگونه شعرهایی هستند؟ (iranarze.ir)

- ۱) معمولاً در قالب مثنوی شاعر از ساقی می‌خواهد به او باده‌ای دهد و سرودی درباره ناپایداری دنیا و جفای روزگار بسراید.
- ۲) معمولاً در قالب غزل است و شاعر در وصف می و زیبایی‌های معشوق می‌سراید.
- ۳) معمولاً در قالب مثنوی است و شاعر از ساقی می‌خواهد باده‌ای دهد و از ناپایداری دنیا و عشق به معشوق الهی بسراید.
- ۴) معمولاً در قالب غزل است و شاعر در وصف مست شدن از زیبایی‌های ساقی می‌سراید.

## ۱۳- کدام گزینه درباره مکتب وقوع در شعر درست است؟ (iranarze.ir)

- ۱) پر از صنایع بدیعی و اصطلاحات نجومی و آیات و روایات، با محتوای فلسفی است. از شاعران آن ناصر خسرو
- ۲) صنایع بدیعی در آن بسیار اندک و با محتوای روایت وقایع مذهبی است. از شاعران آن محتشم کاشانی
- ۳) صنایع بدیعی در آن بسیار است و با زبان پیچیده از ماجراهای راه وصال معشوق می‌گوید. از شاعران آن نظامی گنجوی
- ۴) از صنایع بدیعی پرهیز شده و با اصطلاحات عامیانه درباره اتفاقات میان عاشق و معشوق و گلایه از محبوب است. از شاعران آن محتشم کاشانی

## ۱۴- کدام گزینه درست است؟ (iranarze.ir)

- ۱) طالب آملی، بیدل دهلوی و غنی کشمیری شاعران سبک هندی هستند.
- ۲) فرخی، منوچهری، عنصری نمایندگان سبک عراقی هستند.
- ۳) قآنی، نشاط اصفهانی، سوش اصفهانی نمایندگان سبک بازگشت ادبی هستند.
- ۴) عراقی، کمال الدین اصفهانی، سنایی نمایندگان سبک خراسانی هستند.

## ۱۵- کدام گزینه در تعریف صیغه مبالغه در فارسی درست است؟ (iranarze.ir)

- ۱) مانند مصدر از ریشه فعل ساخته می‌شود و افاده تکرار می‌کند. مانند گرفتار.
- ۲) مانند ماضی از ریشه فعل ساخته می‌شود و برای بیان صفت فاعلی است مانند گرفتار.
- ۳) مانند حاصل مصدر است افاده تکرار و استمرار می‌کند و گاهی برای بیان صفت فاعلی است مانند برخوردار و مردار.
- ۴) مانند حاصل مصدر از ماضی ساخته می‌شود و افاده استمرار می‌کند. گاهی نیز برای بیان صفت فاعلی است مانند گرفتار.

## ۱۶- کدام عبارت از نظر نگارشی «نادرست» است (تالیف توسط سایت ایران عرضه) !! (iranarze.ir)

- ۱) تا از جان و دل نکوشیم به سرافرازی نخواهیم رسید
- ۲) دوستم برگشت چون تصمیم جدی آن ادامه تحصیل بود
- ۳) مشکل بود که آنها از رودخانه بگذرند
- ۴) چون از تاخیر قطار خبر داشتیم، عجله نکردیم

## ۱۷- کدام عبارت نیاز به ویرایش دارد؟ (iranarze.ir)

- ۱) دامن زدن به دوگانگی‌ها موجب شکست می‌شود.

۲) انسان های سخت کوش و توانمند از هیچ مشکلی نمی هراسند

۳) استاد فاضل و فرزانه ما در سن پنجاه و دو سالگی در گذشت

۴) هم کلاسی های امروز ما، دوستان صمیمی فردای ما هستند

۱۸- رسم الخط « کدام واژه «غلط» است؟ (iranarze.ir)

۱) آزادگان - توانایی است ۲) بدست آورید - میروید

۳) به راه افتادن - چشم به راه ۴) علاقه مند - بیهوده

۱۹- کدام عبارت از نظر « نشانه گذاری» ایراد دارد؟ (iranarze.ir)

۱) برخی از عوامل موفقیت عبارت اند از: ۱) توکل به خدا ۲) تلاش و کوشش

۲) مولانا، جلال الدین بلخی، از شعرای بنام ایران است.

۳) آن را که حساب پاک است، از محاسبه چه باک است.

۴) فردوسی، حماسه سرای بزرگ ایران، در سال ۳۲۹ {ق.ه} به دنیا آمد

۲۰- برای نشان دادن عبارت های توضیحی در جمله، کدام نشانه گذاری به کار می رود؟ (iranarze.ir)

۱) پرانتز () ۲) دو نقطه (:) ۳) تعجب (!) ۴) قلاب []

۲۱- مفهوم کدام بیت با سایر ابیات متفاوت است؟ (iranarze.ir)

۱) ای بسا تیز طبع کاهل کوش که شد از کاهلی سفال فروش

۲) با بدان کم نشین که صحبت بد گرچه پاکی تو را پلید کند

۳) از در افتادن شکاری خام صد دیگر در اوفتند به دام

۴) عیب یک همنشست باشد و بس کافکند نام زشت بر هر کس

۲۲- مفهوم بیت زیر از کدام بیت دریافت میشود؟ (iranarze.ir)

۱) جمال کعبه مگر عذر رهروان خواهد که جان زنده دلان سوخت در بیابانش

۲) هست به سر تا هوای کعبه مقصود کوشش راکب خوش است و جنبش مرکب

۳) آتش گل همیشه بهار است عشق را پروانه را به سیر گلستان چه حاجت است

۴) خار ار چه جان بکاهد گل عذر آن بخواهد سهل است تلخی می در جنب ذوق مستی

۵) آن چنان کعبه دل را صنمی ویران ساخت که کس از بهر خدا در پی تعمیرش نیست

۲۳- معنی عبارت زیر کدام است؟ (iranarze.ir)

۱) شاخ املش در خزان عمر و برگ ریزان عیش شکوفه تازه بیرون می آورد

۲) در آخرین روزهای زندگیش نیز شاداب و با طراوت بود

۳) آرزوها و آمال خود را بر باد رفته می دید و خزان زندگیش فر رسیده بود



۳) به خاطر اعتدال آب و هوا، درختان در فصل پاییز شکوفه داده بودند

۴) در ایام کهولت و پیری، آرزوها و اهداف تازه ای به سرش زده بود.

۲۴- به کارگیری کدام یک از علائم نگارشی در عبارت زیر نادرست است؟ (iranarze.ir)

پیغمبر - علیه السلام - گفت: «چون آخرالزمان بود؛ مومن را خواب کمتر گردد» ( خوابگزاری، ص ۳)

۱) پرانتز ( )      ۲) نقطه ویرگول (؛)      ۳) خط فاصله (-)      ۴) دونقطه (:)

۲۵- در کدام مصرع واژه " دو تلفظی " یافت میشود؟ (iranarze.ir)

۱) از نسیم مهرگانی برکنار است ای حکیم      ۲) در معرفت دیده ی آدمی است

۳) سخن با قلم چون قلم راست دار      ۴) زین همرهان سست عناصر دلم گرفت

۲۶- سعدی در کدام بیت « گوشه گیری » را سفارش کرده است؟ (iranarze.ir)

۱) نباید سخن گفت ناساخته / نشاید بریدن نینداخته

۲) درون دلت شهر بند است راز / نگر تانبیند شهر باز

۳) صدف وار گوهر شناسان راز / دهان جز به لولو نکردند باز

۴) اگر پای در دامن آری چو کوه / سرت ز آسمان بگذرد در شکوه

۲۷- مفهوم بیت « دود اگر بالا نشیند کسر شان شعله نیست / جای چشم و ابرو نگیرد، گر چه او بالاتر است » با کدام بیت

تناسب دارد؟ (iranarze.ir)

۱) به هم دانا و نادان کی بود خوش / کجا دمساز باشد آب و آتش

۲) دل نازک به نگاه کجی آزرده شود / خار در دیده چو افتاد کم از سوزن نیست

۳) نه هر که صدر نشین شد عزیز شد که غبار / اگر به دیده رسد توتیا نخواهد شد

۴) خار و سمن هر دو به نسبت گیاست / این خشک دیده و آن توتیاست

۲۸- وقتی کسی کاری را به خوبی و درست شروع نکند و اما پایان آن کار به نتیجه مطلوب و خوشایند برسد از کدام ضرب

المثل استفاده میشود؟

۱) فلفل نبین چه ریزه، بشکن ببین چه تیزه      ۲) شاهنامه آخرش خوشه

۳) جوجه را آخر پاییز می‌شمرند.      ۴) سالی که نکوست از بهارش پیداست.

اما شاهنامه آخرش خوش است دقیقاً به این معناست که شاید اول کاری مطلوب و خوشایند نباشد اما نتیجه‌ی خوب آن مثل نتیجه‌ی شاهنامه در آخر مشخص خواهد شد.

۲۹- کدام گزینه، با ضرب‌المثل «نوشدارو بعد از مرگ سهراب» ارتباط معنایی و مفهومی ندارد؟ (iranarze.ir)

۱) قبای بعد از عید برای گل منار خوب است.

۲) علاج واقعه، قبل از وقوع باید کرد.

۳) آب رفته به جوی باز آید / کارها به از آنکه بود کند.

۴) چه سود آنکه که ماهی مرده باشد / که باز آید به جوی رفته آبی

۳۰- پدید آورنده هر یک از آثار رو به رو، به ترتیب چه کسی است؟ (iranarze.ir)

(( روضه خلد - مخزن الاسرار - چهار مقاله))

۱) مجد خوافی- نظامی گنجه ای - نظامی عروضی

۲) مجد خوافی - نظامی عروضی - خواجه نصیر الدین توسی

۳) عنصرالمعالی کیکاووس- نظامی گنجه ای - محمد بن منور

۴) خواجه نصیر الدین توسی - سعد الدین وراویسی - نظامی گنجه ای

۳۱- (طراحی توسط ایران عرضه) مفهوم کدام بیت با «دیو چو بیرون رود فرشته درآید» متناسب است؟ (iranarze.ir)

۱) به یزدان هر آن کس که شد ناسپاس / به دلش اندر آید ز هر سو هراس

۲) کسی کاو هوای فریدون کند / سر از بند صحاک بیرون کند

۳) منی چون بیبوست با کردگار / شکست اندر آورد و برگشت کار

۴) همی برخوردارشید و فریاد خواند / جهان را سراسر سوی داد خواند

۳۲- بیت «اگر در دیده مجنون نشینی / به غیر از خوبی لیلی نبینی» بیانگر کدام مفهوم زیبایی اخلاقی است؟ (iranarze.ir)

۱) عیب پوشی ۲) خوش خویی ۳) آرام جویی ۴) طنز

۳۳- بیت «دیدى که مرا هیچ کسی یاد نکرد / جز غم که هزار آفرین بر غم باد» با مفهوم کدام بیت تناسب معنایی ندارد؟

۱) این فخر بس مرا که چو پیدا شدم ز دور / شادی کنان غم تو به رویم سلام کرد

۲) غم می خوریم و هیچ شکایت نمی کنیم / ما را چه غم ز غم؟ که غمت غمگسار ماست

۳) آگه نیم که چیست غم را سبب ولی / دانم که یاد غم سبب شادی من است

۴) از دل غبار غم به گریستن نمی رود / این خانه را به سیل مگر رفت و رو کنند

۳۴- ضرب المثل «زبان سر سبز می دهد بر باد» با کدام گزینه در تضاد است؟ (iranarze.ir)

۱) سخنان نیش دار به قیمت جان انسان است ۲) زخم زبان از زخم شمشیر بدتر است

۳) زبان در دهان، پاسبان سر است ۴) زبان خوش، مار را از سوراخ بیرون می کشد

۳۵- مفهوم کنایی «گندم نمای جو فروش» از کدام بیت دریافت می شود؟ (iranarze.ir)

۱) با نامرادی از همه کس زخم می خوریم ای وای اگر سپهر رود بر مراد ما

۲) چون به طاعت نگه کنی گنه است عاشق خویش بین چه مرد ره است

۳) طاعت خود ز چشم خلق بپوش زان مکن یاد و در فزونی کوش

۴) هوش به میخانه و رو در خدای وای بر این طاعت آلوده وای



۳۶- مفهوم عبارت زیر کدام است؟ (iranarze.ir)

«دوستی آن را شاید که وقت خشم تو بر تو ببخشد»

(۱) کسی شایسته دوستی است که وقتی بر او خشم گیری، از تو در گذرد

(۲) کسی را می توانی به درستی برگزینی که هرگز بر او خشم نگیری

(۳) دوست خوب کسی است که بر تو خشم نگیرد، حتی اگر به او دشمنی کنی

(۴) کسی می تواند دوست اختیار کند که هنگام خشم بتواند گناه او را ببخشد.

۳۷- عبارت «آنچه گوید به لطف گوید نه به عنف» با کدام بیت، ارتباط مفهومی دارد؟ (iranarze.ir)

(۱) چو کردت لطف و احسان و نکویی حرامت باد اگر شکرش نگویی

(۲) تو با این لطف طبع و دلربایی چنین سنگین دل و سرکش چرایی

(۳) بنده حلقه به گوش از نوازی برود لطف کن لطف که بیگانه شود حلقه به گوش

(۴) هر جا که لطف اوست کند سوسن از نیر هر جا که عنف اوست کند خنجر از گیا

۳۸- کدام جمله از نظر نگارش «غلط» است؟ (iranarze.ir)

(۱) دیروز بعد از ظهر پدرم به تهران آمده و زود برگشته بود

(۲) وی ایشان را بنشانده و هر یکی را کاردی به دست راست داد

(۳) روزگار ما را آزموده و در کوره حوادث پرورده است.

(۴) زلیخا ایشان را خوانده و جایگاهی ساخته بود.

۳۹- میان دو جمله مستقل که پیوند معنایی دارند، کدام نشانه گذاری کاربرد دارد؟ (iranarze.ir)

(۱) نقطه (.) (۲) دو نقطه (:)

(۳) نقطه ویرگول (؛)

(۴) ویرگول (،)

۴۰- نقش دستوری واژه های تعیین شده در ادبیات زیر به ترتیب در کدام گزینه آمده است؟ (iranarze.ir)

مرا لفظ شیرین خواننده داد/ تو را سمع دراک داننده داد

شنیدم که لقمان سیه فام بود/ نه تن پرور و نازک اندام بود

(۱) نهاد- مسند (۲) مفعول- نهاد (۳) صفت- نهاد (۴) مضاف الیه- مفعول

۴۱- در کدام یک از جمله های زیر غلط نگارشی وجود ندارد؟ (iranarze.ir)

(۱) از ایشان خواستیم درباره این مسابقه برای شما توضیحاتی داشته باشند.

(۲) این ساختمان از نقص های مهندسی فراوانی برخوردار است

(۳) کتاب هایی که سال گذشته از نمایشگاه خریدم را هنوز مطالعه نکرده ام

(۴) سوابق درخشان آقای احمدی، ما را بیش از پیش امیدوار می کند.

۴۲- در کدام یک از عبارت های زیر غلط نگارشی وجود دارد؟ (iranarze.ir)

- ۱) خیرین مدرسه ساز هر سال مدارس زیادی را آماده و به آموزش و پرورش تحویل می‌دهند.  
 ۲) گزارش بعدی ما به رویدادهای فرهنگی و هنری اختصاص دارد.  
 ۳) شهرهای شمالی ایران از منظره‌های بسیار زیبایی برخوردار هستند.  
 ۴) آسمان شهرهای تهران، زاهدان، مشهد و کرمانشاه آفتابی پیش بینی می‌شوند.

۴۳- در کلماتی که همزه پایانی دارند اگر حرف پیش از همزه ساکن یا یکی از مصوت‌های بلند «ا»، «و» و «ی» باشد همزه  
 ..... (iranarze.ir)

- ۱) روی کرسی «ا» نوشته می‌شود. ۲) بدون کرسی نوشته می‌شود.  
 ۳) روی کرسی «و» نوشته می‌شود. ۴) روی کرسی «ی» نوشته می‌شود.

۴۴- (تنظیم توسط فروشگاه ایران عرضه) کدام گزینه در مورد صورتجلسه نادرست است؟ (iranarze.ir)

- ۱) رئیس جلسه مانند سایر اعضا دارای یک حق رای است و به دلیل رئیس بودن امتیاز ویژه‌ای به وی تعلق نمی‌گیرد.  
 ۲) در صورتی که فرد شرکت کننده به نمایندگی از طرف شخص حقیقی دیگری در جلسه حضور یافته باشد نام هر دو نفر باید با توجیه کامل مطلب قید شود.  
 ۳) نظارت بر آماده بودن جلسه و حصول اطمینان از فراهم بودن لوازم و ابزار مورد نیاز جلسه از وظایف رئیس جلسه است.  
 ۴) هدف از تشکیل جلسه از قبل باید به شکل مکتوب تحت عنوان دستور جلسه برای شرکت کنندگان ارسال گردد.

۴۵- مشهورترین شاعر رمانتیک فرانسه در قرن نوزدهم چه نام دارد؟ (iranarze.ir)

- ۱) ویکتور هوگو ۲) ژان بل سارتر ۳) امیل زولا ۴) ژاف والژان

۴۶- شهرت مسعود سعد در کدام یک از انواع شعر است؟ (iranarze.ir)

- ۱) غزل ۲) قصیده ۳) قطعه ۴) رباعی

۴۷- کتاب سیرالعباد الی المعاد از کیست؟ (iranarze.ir)

- ۱) حافظ ۲) عطار ۳) سعدی ۴) سنایی

- ۴) تحقیق ماللهند: شرح پژوهش‌های ابوریحان بیرونی در سفر به هند همراه با سلطان محمود است.  
 ۳) دائم ز همّت فقر خرم ز دخل بیش است خرم به مور بخشم با آنکه خوشه چینم  
 ۴) همایی چون تو عالی قدر حرص استخوان تا کی؟ دریغ آن سایه همت که بر نا اهل افکندی

## ❖ فصل دوم: سوالات معارف اسلامی

۱- در آیه کریمه (کل شیء هالک الا وجهه) مقصود مفسران از وجه الله کدام است؟ (iranarze.ir)

- (۱) وجود الهی (۲) ذات الهی (۳) بقا و ابدیت (۴) فنا ناپذیری

❑ پاسخ سایت ایران عرضه: گزینه ۲ ⇐ در ارتباط با آیه ۸۸ سوره قصص تفاسیر مختلفی وجود دارد که اولین مورد از آنها به این اشاره دارد که خدا جسم نیست و مانند انسانها چهره و صورت ندارد و از آنجا که در زبان عربی واژه «وجه الشئ» در معنی «ذات الشئ» به کار می رود، در بسیاری از آیات قرآن، «وجه الله» به معنای ذات خدا خواهد بود. در تفسیری دیگر نیز گفته شده است که مراد از «وجه»، هر چیزی است که به نوعی منسوب به خداست، از اسماء و صفات تا ادیان و اعمال صالح بندگان و همچنین مقربین درگاه او، از انبیاء، ملائکه، شهدا و مؤمنینی که مشمول مغفرتش شده باشند، همه وجه خدایند.

۲- یکی از اسامی قیامت یوم الازفه به چه معناست؟ (iranarze.ir)

- (۱) بسیار نزدیک (۲) جدایی حق از باطل  
(۳) جمع شدن (۴) خارج شدن از قبور

❑ پاسخ سایت ایران عرضه: گزینه ۱ ⇐ واژه الازفه به معنی تنگی وقت است و نشان دهنده نزدیک شدن موعد مقرر میباشد، نامگذاری قیامت به این نام، در دو آیه از قرآن کریم آمده است (۵۷ سوره نجم و ۱۸ سوره غافر) و تعبیری است گویا و بیدار کننده از قیامت. حال آنکه عبارت یوم الازفه که معنی آن روز نزدیک میباشد تنها در آیه ۱۸ سوره غافر آمده و بیانگر این واقعیت است که قیامت بیش از آنچه مردم فکر میکنند نزدیک است.

۳- کدام گزینه صحیح است؟ (iranarze.ir)

- (۱) ذات الهی قابل شناخت است  
(۲) صفات و اوصاف الهی شناخت ناپذیرند  
(۳) خداشناسی از رهگذر اوصاف و افعال الهی برای انسان میسر است  
(۴) آدمی از هر گونه معرفتی نسبت به خدا محروم است

۴- (تنظیم توسط فروشگاه ایران عرضه) از ذکر لاحول و لا قوه الا بالله کدام توحید فهمیده میشود؟ (iranarze.ir)

- (۱) توحید افعالی (۲) توحید عبادی (۳) توحید در خالقیت (۴) توحید ربوبی

۵- سرشت فرشتگان کدام است؟ (iranarze.ir)

- (۱) رسالت تکوینی (۲) جسم لطیف روحی  
(۳) گوهر سبحانی (۴) گوهر تمام عقلانی

۶- سوره توحید مربوط به کدام یک از مراتب توحید است؟ (iranarze.ir)

- (۱) توحید در خالقیت (۲) توحید در ذات  
(۳) توحید در صفات (۴) توحید در عبادت

۷- آیه شریفه «آیا گمان کرده اید شما را بیهوده آفریده ایم و بسوی ما باز نمی گردید» به کدام برهان اثبات معاد اشاره دارد؟  
(iranarze.ir)

۱) حکمت (۲) فطرت (۳) عدالت (۴) قدرت

۸- قرآن کریم مرگ جامعه را بر اثر چه عاملی می داند؟ (iranarze.ir)

۱) ظلم و نافرمانی خداوند (۲) برپایی قیامت (۳) ترک امر به معروف (۴) سیل و زلزله

۹- صفات علم و اراده به ترتیب کدام صفت الهی را بیان می کند؟ (iranarze.ir)

۱) فعلی، فعلی (۲) ذاتی، ذاتی (۳) فعلی، ذاتی (۴) ذاتی، فعلی

۱۰- از منظر قرآن چرا انسان به انکار معاد می پردازد؟ (iranarze.ir)

۱) نادانی (۲) باز شدن راه گنهکاری

۳) ناتوانی (۴) سست عنصری

۱۱- دعوت به دین، در کدام صورت، معنای واقعی دارد؟ (iranarze.ir)

۱) به جزئیات جهان پس از مرگ و آگاهی داشته باشد

۲) به راز خلقت جهان هستی و انسان پی برده باشد.

۳) اعتقاد به رسالت پیامبران اولوالعزم داشته باشد

۴) زندگی پس از مرگ، جزو اصول اساسی آن باشد

۱۲- به ترتیب، به کدام دلیل زیر، ممکن نیست که دفتر زندگی انسان با مرگ بسته شود و همه سرمایه ها را از دست بدهد و کدام آیه شریفه، مؤید آن است؟

۱) حکیم بودن خداوند- «أَفَحَسِبْتُمْ أَنَّمَا خَلَقْنَاكُمْ عَبَثًا وَأَنَّكُمْ إِلَيْنَا لَا تُرْجَعُونَ»

۲) بنا شدن دنیا بر عدل- «أَفَحَسِبْتُمْ أَنَّمَا خَلَقْنَاكُمْ عَبَثًا وَأَنَّكُمْ إِلَيْنَا لَا تُرْجَعُونَ»

۳) حکیم بودن خداوند- «أَمْ نَجْعَلُ الَّذِينَ آمَنُوا وَعَمِلُوا الصَّالِحَاتِ كَالْمُفْسِدِينَ فِي الْأَرْضِ»

۴) بنا شدن دنیا بر عدل- «أَمْ نَجْعَلُ الَّذِينَ آمَنُوا وَعَمِلُوا الصَّالِحَاتِ كَالْمُفْسِدِينَ فِي الْأَرْضِ»

۱۳- آیه شریفه «وَعَدَ اللَّهُ الْمُؤْمِنِينَ وَالْمُؤْمِنَاتِ جَنَّاتٍ تَجْرِي مِنْ تَحْتِهَا الْأَنْهَارُ خَالِدِينَ فِيهَا وَمَسَاكِنَ طَيِّبَةً...»، به کدام موضوع اشاره دارد؟ (iranarze.ir)

۱) معاد انسان در قیامت روحانی است (۲) مرگ، پنجره ای به زندگی نو است

۳) توصیف بهشت در عالم برزخ است (۴) معاد انسان، جسمانی و روحانی است

۱۴- آیه شریفه «لَعَلَّكَ بَاخِعٌ نَفْسِكَ أَلَّا يَكُونُوا مُؤْمِنِينَ»، به کدام سیره پیامبر اکرم(ص) در رهبری جامعه اشاره دارد؟

۱) محبت و مدارا با مردم (۲) سخت کوشی و دلسوزی در هدایت مردم

۳) تلاش برای برقراری عدالت و برابری (۴) مبارزه با فقر و محرومیت

۱۵- دو عبارت «العدل یضع الامور مواضعها» و «ام نجعل المتقین کالفجار»، به ترتیب، از اقسام کدام عدل هستند؟

(۱) تشریحی - جزایی (۲) تکوینی - تشریحی

(۳) تکوینی - جزایی (۴) تشریحی - تکوینی

۱۶- شرط اساسی در نبوت انبیاء، کدام است؟ (iranarze.ir)

(۱) برقراری عدالت اجتماعی (۲) داشتن کتاب آسمانی

(۳) اُسوه و سرمشق شدن (۴) عصمت از گناه و اشتباه

۱۷- عبارت «تصدیق قلبی و اقرار زبانی و عمل به اعضا» تعریف کدام واژه است؟ (iranarze.ir)

(۱) اخلاص (۲) اخلاق (۳) ایمان (۴) عرفان

۱۸- عبارت زیر، به کدام جنبه اعجاز قرآن کریم اشاره دارد؟ (iranarze.ir)

«ساختار موزون کلمه ها و جمله ها، رسایی در معنا باوجود ایجاز و اختصار»

(۱) معنوی (۲) لفظی (۳) باطنی (۴) معرفتی

۱۹- از اقدامات مهم رسول خدا (ص) ایجاد نگرشی جدید در جامعه بود که موجب تحول در رابطه بین اقوام شد، کدام آیه شریفه زیر، موید این مطلب است؟

(۱) « قُلْ هِيَ لِلَّذِينَ آمَنُوا فِي الْحَيَاةِ الدُّنْيَا خَالِصَةٌ يَوْمَ الْقِيَامَةِ »

(۲) « فَلِذَلِكَ فَادْعُ وَاسْتَقِمْ كَمَا أُمِرْتَ وَلَا تَتَّبِعْ أَهْوَاءَهُمْ »

(۳) « هَلْ يَسْتَوِي الَّذِينَ يَعْلَمُونَ وَالَّذِينَ لَا يَعْلَمُونَ »

(۴) « مُحَمَّدٌ رَسُولُ اللَّهِ وَالَّذِينَ مَعَهُ أَشِدَّاءُ عَلَى الْكُفَّارِ رُحَمَاءُ بَيْنَهُمْ »

۲۰- کدام حدیث نبوی می فرماید: «قرآن و عترت از خطا و لغزش مصونند و امت اسلامی برای همیشه موظفند از این دو میراث و امانت گران بها پیروی نمایند.»؟

(۱) منزلت (۲) ثقلین (۳) انذار (۴) سفینه نوح

۲۱- کدام یک، به ترتیب، جزو «حق رهبر بر مردم» و «حق مردم بر رهبر» است؟ (iranarze.ir)

(۱) استقامت و پایداری در برابر مشکلات - حفظ استقلال کشور

(۲) تلاش برای اجرای احکام و دستورات الهی - حفظ استقلال کشور

(۳) استقامت و پایداری در برابر مشکلات - مشارکت در نظارت همگانی

(۴) تلاش برای اجرای احکام و دستورات الهی- مشارکت در نظارت همگانی

۲۲- آیات « و لا نكلف نفسا الا وسعها » و «فلا تظلم نفس شيئا» به ترتیب شامل کدام معنای عدل است؟

(۱) تشریحی - جزایی (۲) تشریحی - تشریحی

(۳) جزایی - تشریحی (۴) جزایی - جزایی

- ۲۳- {ا ی ر ا ن ع ر ض ه} اگر بگوییم جهان معلول است و هر معلولی نیازمند علت است بنابراین جهان نیازمند علتی است که ان علت یا خداست یا به خدا می رسد، به کدام موضوع اشاره دارد؟ (iranarze.ir)
- (۱) تقریر برهان هدفمندی  
(۲) برهان نظم از موارد جزئی
- (۳) برهان هماهنگی کل عالم  
(۴) تقریر برهان علی
- ۲۴- صفاتی که از ارتباط ذات الهی با مخلوقات انتزاع می شوند کدام اند؟ (iranarze.ir)
- (۱) صفات فعلی مثل خالق بودن  
(۲) صفات فعلی مثل قادر بودن
- (۳) صفات ذاتی مثل خالق بودن  
(۴) صفات ذاتی مثل قادر بودن
- ۲۵- کدام مورد تبیین مناسبی از حکمت عملی ارائه نموده است؟ (iranarze.ir)
- (۱) کسب علم حصولی به مفاهیم ذهنی انسان  
(۲) آگاهی انسان به ذات خود و قوای ادراکی
- (۳) علم به تکالیف و وظایف انسان  
(۴) بیدار کردن و برانگیختن گنجینه های فطری آدمی
- ۲۶- با توجه به آیه ی شریفه ی « ثم سواه نفخ فیه روحه » مقصود کلمه ی «سواه» کدام است؟ (iranarze.ir)
- (۱) انسان دو ساحتی است و نیمه ی برتر ان روح است.  
(۲) خلقت جسمانی و پردازش آفرینش ظاهری انسان  
(۳) حقیقت حیات انسان روح اوست که باقی است.  
(۴) خلقت روح و دمیدن آن در جسم
- ۲۷- کدام سوره سجده واجب ندارد؟ (iranarze.ir)
- (۱) تکویر  
(۲) علق  
(۳) نجم  
(۴) فصلت
- ۲۸- کدام مورد از ارکان نماز نیست؟ (iranarze.ir)
- (۱) خواندن حمد و سوره  
(۲) دو سجده  
(۳) قیام متصل به رکوع  
(۴) نیت و تکبیره الاحرام
- ۲۹- در کدام توحید گفته می شود ذات خدا، تعدد و کثرت پذیر نیست؟ (iranarze.ir)
- (۱) توحید ذاتی  
(۲) توحید عبادی  
(۳) توحید افعالی  
(۴) توحید صفاتی
- ۳۰- کدام گزینه از معجزات حضرت موسی (ع) است؟ (iranarze.ir)
- (۱) ید بیضا  
(۲) تبدیل شدن عصا به اژدها  
(۳) زنده کردن مردگان  
(۴) گزینه های ۱ و ۲
- ۳۱- (تالیف سایت ایران عرضه) در قلمرو برهان نظم در قرآن مجید از نظامات موجود در عالم هستی به چه عنوان یاد می شود؟ (iranarze.ir)



۱) آفرینش قدیم ۲) آیات الهی ۳) خلقت جدید ۴) معجزات الهی

۳۲- (ناشر سایت ایران عرضه) در چه صورتی سفر موجب منع روزه نمی شود و فرد باید در سفر روزه بگیرد؟ (iranarze.ir)

۱) با نهی پدر و مادر به سفری که بر او واجب نبوده، نرفته باشد

۲) تصمیم داشته باشد کمتر از ده روز در جایی که سفر کرده توقف نماید

۳) برای انجام کار حرامی، مانند ستم به مظلوم یا همکاری با ظالم سفر نکرده باشد.

۴) رفتن او کمتر از چهار فرسخ شرعی و مجموع آن بیش از هشت فرسخ شرعی باشد

۳۳- مهم ترین بخش «حق الناس» و «حقوق الهی» به ترتیب کدام است؟ (iranarze.ir)

۱) حقوق معنوی- توحید ذاتی ۲) حقوق مردم- توحید ذاتی

۳) حقوق معنوی- توحید عبادی ۴) حقوق مردم- توحید عبادی

۳۴- پاداش الهی برای کسی که توبه کند و ایمان بیاورد و سپس نیکوکار شود، کدام است؟ (iranarze.ir)

۱) خداوند توبه او را می پذیرد

۲) خدا همواره آمرزنده و مهربان است

۳) خدا را آمرزنده و مهربان خواهد یافت

۴) خداوند بدی هایش را به نیکی تبدیل می کند

۳۵- همه موارد از پیامدهای سرسختی رهبران اصلی کلیسا بود، بجز: (iranarze.ir)

۱) دین را مخالف خرد و علم دانستند و دین را مانع تعقل، تجربه، قانون و حقوق انسان ها تلقی کردند

۲) آگاهی به قانون و حقوق در کشورهای اروپایی و رسمیت دادن به حقوق شهروندان افزایش یافت

۳) راه بیرون آمدن از وضع موجود را در کنار گذاشتن دین و توجه به علم و دانش تجربی دانستند

۴) اروپا را با فقر و فساد در نظام اداری، عقب ماندگی و مشکلات دیگر دست به گریبان کرد

## ❖ فصل سوم: سوالات زبان انگلیسی

1- For instance, under the main entry amicable, two nouns and an adverb are also listed. 'for instance' means ..... . (iranarze.ir)

- 1) generally                      2) for example                      3) extensively                      4) put emphasis

۱- بعنوان مثال در زیر ورودی اصلی «amicable» دو اسم و یک قید نیز جای می گیرند. for instance (بعنوان مثال) به معنای ..... است.

- (۱) عموماً                      (۲) برای مثال                      (۳) به صورت گسترده                      (۴) تأکید کردن

✓ پاسخ سایت ایران عرضه: گزینه ۲ ⇐ (for instance و for exmple هر دو به معنای «بعنوان مثال» هستند)

2- It is important to acquaint yourself ..... Your library as very first stage in your academic career

- 1) of                      2) on                      3) by                      4) with

۲- به عنوان اولین مرحله از دوره تحصیلی، مهم است که خود را ..... کتابخانه تان آشنا کنید.

- (۱) از                      (۲) روی                      (۳) توسط                      (۴) با

✓ پاسخ سایت ایران عرضه: گزینه ۴ ⇐ (acquaint oneself with) (آشنا کردن خود با) یک عبارت رایج در زبان انگلیسی است و بنابراین

همراه acquaint، واژه with می آید)

3- (source: iran arze website) The books in the library are ..... According to subjects (iranarze.ir)

- 1) classify                      2) classifies                      3) classified                      4) classification

4- I've tried those tablets and they haven't done me any ..... (iranarze.ir)

- 1) benefit                      2) good                      3) better                      4) best

5- she had watched birds fly by throwing ..... into the air.(iranarze.ir)

- 1) yourself                      2) herself                      3) ourselves                      4) themselves

6- I like to visit other countries but I find the ..... of travel is too high. iranarze.ir)

- 1) money                      2) cost                      3) expenses                      4) currency

7- they did only had my computer for three weeks when I had to have the hard drive ..... (iranarze.ir)

- 1) processed                      2) restored                      3) retakes                      4) revived

8- Mathematics, physics, chemistry and biology are all ..... , while painting is an art.(iranarze.ir)

- 1) scientist                      2) sciences                      3) scientific                      4) scientifically

9- They should select and arrange people for assigning duties and positions in society. 'Select' means ..... (iranarze.ir)

- 1) evade                      2) choose                      3) separate                      4) eliminate

**10- As..... of our employees can afford cars of..... Own they all have to rely on public transport. (iranarze.ir)**

- 1) few/them                      2) most/our                      3) none/their                      4) some /his

**11- We must try to ..... the country's wealth so that we help those who need it most.**

- 1) distribute                      2) attribute                      3) compensate                      4) eliminate

**12- When Mrs. Harris was promoted, she missed the day – to – day ..... with customers.**

- 1) involvement                      2) announcement                      3) improvement                      4) retirement

### Part B: Reading Comprehension

**Direction: Read the following passage and select choice (1), (2), (3) or (4) that best answers each question.**

**Then mark your answer on your answer sheet.**

If you think of the job's robots could never do, you would probably put doctors and teachers at the top of the list. It's easy to imagine robot cleaners and factory workers, but some jobs need human connection and creativity. But are we underestimating what robots can do? In some cases, they already perform better than doctors at diagnosing illness. Also, some patients might feel more comfortable sharing personal information with a machine than a person. Could there be a place for robots in education after all?

British education expert Anthony Seldon so. And he even has a dare for the robot takeover the classroom: 2027. He predicts robots will read students' faces, movements and maybe even brain signals. Then they will adapt the information to each student. It's not a popular opinion and its unlikely robots will ever have empathy and the ability to really connect with humans like another human can.

One thing is certain. though. A robot teacher is better than no teacher at all. In some parts of the world, there aren't enough teachers and 9-16 percent of children under the age of 14 don't go to school. That problem could be partly solved by robots because they can teach anywhere and won't get stressed or tired or move somewhere for an easier, Higher-paid job.

Those negative aspects of teaching are something everyone agrees on. Teachers all over the world are leaving because it is difficult job and they feel overworked. Perhaps the question is not "Will robots replace teachers" but "How can robots help teachers?" office workers can use software to do things like organize

and answer emails, arrange meeting and update calendars. Teachers waste a lot of time doing non-teaching work. Including more than 11 hours a week marking homework.

**13- Which of the following statements can be inferred from the first paragraph? (iranarze.ir)**

- 1) We need to underestimate what robots can do for us.
- 2) Robots cannot diagnose diseases better than doctor.
- 3) The majority of people prefer to share personal information with a human being rather than a machine.
- 4) Robots do cleaning jobs easily because they do not require human connection and creativity.

**14- (iranarze) According to the passage, which of the following statements may come true? (iranarze.ir)**

- 1) Anthony Seldon will become a robot expert soon
- 2) Teachers will be assistants to robots in 2027.
- 3) it is highly probable that robots will really connect with humans like another human can.
- 4) There will be no need for teachers throughout the world by 2027.

### Vocabulary

**Direction: choose the number of the answer choice (1), (2), (3) or (4) that best completes the blank. Then mark it on your answer sheet**

**15- Harry's son is eighteen, he is naturally ..... to drive a car. (iranarze.ir)**

- 1) to old
- 2) such old
- 3) so old
- 4) old enough

**16- the teacher told his. students that the books ..... from the library must be returned soon .**

- 1) were borrowed
- 2) borrowing
- 3) borrowed
- 4) which borrowed

**17- We ..... fir the bus for over an hour under that heavy rain before it arrived. rain a cold. 27**

- 1) shouldn't have wait
- 2) mustn't wait
- 3) shouldn't wait
- 4) mustn't have waited

**18- if my friend ..... a million dollars, he would certainly start his own business (iranarze.ir)**

- 1) would win
- 2) wins
- 3) won
- 4) has won

**19- the school gave them a generous ..... of money with which to purchase (iranarze.ir)**

- 1) reduction  
2) promotion  
3) allocation  
4) Combination

**PART B: Reading Comprehension**

**Direction: choose the number of the answer choice (1), (2), (3) or (4) that best completes the blank. Then mark it on your answer sheet**

**Passage 1:**

Today almost all cars require fuel and many haters would not work without oil. In short more than 85 percent of the global energy consumption is based on fossil fuel sources, i.e. oil, gas and coal. But to get to these valuable resources of our plane, it is necessary to drill deeper and deeper- no easy enterprise. Deep drilling technology (called "downhole drilling" in the field of oil and gas exploration) makes it possible to recover oil and gas from depth of more than 2500 m. By combining downhole drilling with directional drilling (dynamic position of a deep drill), previously unreachable oil reserves can be opened up, with drilling depth if currently approximately 5000 m and drill lengths of up to 11000 m.

Oil is a limited resource, but is an integral part of our modern way of living. Therefore, in many regions of the world, the black gold is recovered from deep inside the earth. In the USA, Russia, England, China and the Middle East, many oil and gas recovery plants, both onshore and offshore, produce several thousand barrels of petroleum or natural gas every day. Until February 2008, the longest drill hole for oil recovery was 11680 m long. It was drilled in 2007 in the course of opening up the Chayvo oil field offshore from the north -eastern coast of Sakhalin (Russia). This oil field is a approximately 2500 m deep, but it is several kilometers from the coast. These oil reserves are opened up mainly by means of directional from onshore.

**20- Which drilling technologies have been mentioned in the passage? (iranarze.ir)**

- 1) Downhole drilling and rotary drilling  
2) Circulation drilling and directional drilling  
3) Downhole drilling and directional drilling  
4) Rotary drilling and circulation drilling

**21- Websites which allow user to download new books have been accused of ..... copyright law.**

- 1) undergoing  
2) violating  
3) undertaking  
4) discriminating

**22- (i r a n a r z e) This method of construction is very convenient because it enables the builder to .....**

**Constructive units of very small dimensions, such as bricks. (iranarze.ir)**

- 1) diminish  
2) predict  
3) utilize  
4) enforce

**Part B: reading comprehension**

**Directions: read the following passage and select the choice (1), (2), (3), or (4) that best answers each question. Then mark your answer on your answer sheet.**

Attending a good pre-school and primary school has more impact on children's academic progress than their gender or family background. The Institute of Education study found that the quality of teaching children receive is more important than their gender or family income. A high quality pre-school followed by an academically effective primary school gives children's development a significant boost. But children also need a stimulating early year home- learning environment to build upon.

The effective Provision of Pre-School Education project tracked almost 3,000 children from the time they started pre-school until age 11. While all children benefit from a good pre-school, high quality is particularly important for children with special educational needs, those with mothers with low qualifications, or children who come from unstimulating homes.

At primary school, the quality of teaching affects both children's social behavior and intellectual development. The researcher found much variation in the quality of teaching at age 10 and said this had a more powerful impact on children's academic progress than their gender or whether or not they receive free school meals.

Children who attend a more academically effective primary school show better attainment and progress in key stage 2 (ages 7 to 11) than children with similar characteristics who attend a less effective school. But home matters too. A stimulating home learning environment at age 3 to 4 is linked to long-term gains in children's development and has an equal impact to the mother's qualification level

**23- Which of the following statements is true about pre-school and primary school education?(iranarze.ir)**

- 1) A high-quality pre-school alone ensures children's academic progress
- 2) The quality of education plays a more important role than children's gender
- 3) Family background is more important than the quality of education children receive
- 4) An academically effective primary school alone ensures children's academic progress

**24- According to the passage, a high-quality primary school education is particularly important for all of the following children EXCEPT those .....(iranarze.ir)**

- 1) with special educational needs
- 2) with inappropriate social behavior



3) who come from unstimulating homes

4) whose mothers have low qualifications

**Part B: Reading Comprehension:**

**Directions:** Read the following passage and select the choice (1),(2),3). Or (4) that best answers each question. Then mark your answer on your answer sheet.(iranarze.ir)

London is a famous and historic city. It is the capital of England in the United Kingdom. The city is quite popular for international tourism because London is home to one of the oldest standing monarchies in the western hemisphere. Helen and Nancy recently traveled to London. They were very excited for their trip because this was their first journey overseas from Canada.

Among the popular sights that Helen and Nancy visited are Big Ben the London Eye and Buckingham Palace. Big Ben is one of London's most famous monuments. It is a large clock tower located at the northern end of Westminster Palace. The clock tower is 96 meters tall. Unfortunately, Helen and Nancy were only able to view the tower from the outside. They learned that the tower's interior is undergoing renovations until 2022.

Fortunately, The London Eye, the city's famous Ferris wheel, was open to the public. The London Eye is situated along the southern shores of the Thames River. This attraction stands 135 meters high. It is one of London's most well-known spots for gaining aerial views of the city. Each capsule of the Ferris wheel can hold up to 25 passengers. When their capsule stopped at the top of the Ferris wheel the women took spectacular panoramic photographs of the beautiful cityscape below.

**25- why were Helen and Nancy Very excited for their trip?(iranarze.ir)**

- 1) It was their first journey overseas
- 2) London is very far from Canada
- 3) London is quite popular for its monarchy
- 4) They had never traveled to the western hemisphere

**26- How tall is the clock tower?(iranarze.ir)**

- 1) 202 meters
- 2) 135meters
- 3) 96 meters
- 4) 25 meters

**27- The word They in paragraph 2 refers to.....(iranarze.ir)**

- 1) renovations
- 2) monuments
- 3) Helen and Nancy
- 4) sights

**28- The words spots in paragraph 3 is similar in meaning to .....(iranarze.ir)**

- 1) views                      2) locations                      3) buildings                      4) attractions

**29- The paragraph following the passage will most probably talk about**

- 1) the ferries wheel    2) tourist attractions of London  
3) photographs of the beautiful city scape                      4) Helen and Nancy trip Buckingham Palace

**30- I've listened to your argument. It's neither here nor there. In other words, it's quite .....**

- 1) memorable                      2) irrelevant                      3) scornful                      4) enormous

**31- You can ask Ms. Smith all your question. She is very.....and informed. (iranarze.ir)**

- 1) reluctant                      2) knowledgeable                      3) aggressive                      4) ignorant

**Red the paragraph carefully and answer the questions.**

**Even professional writers do not write everything perfectly the first time. They have to revise their work.**

**When you revise your writing, you look for ways to change it in a way to make it better. You check your spelling and you make sure that you have used perfect periods, and other punctuation marks in the best way. You look for words that can be replaced or traded for different, more exciting words. You make sure that your words help reader get a picture in his mind when he reads them. Revising your writing is**

**important? That you make can turn boring words into exciting words, and can make your ideas ?**

**32- The passage is mainly about how to ..... (iranarze.ir)**

- 1) be a professional writer                      2) trade different things  
3) revise your writing                      4) get a written picture

**33- Which statement is true. According to this paragraph? (iranarze.ir)**

- 1) professional Writers write everything perfectly.  
2) Revising is limiting your Writing to spell check.  
3) your main concern is how to save the readers' picture in mind  
4) You revise your writing to make it clear and attractive

**34- The underline word treated means ..... (iranarze.ir)**

- 1) exchanged                      2) examined                      3) cleaned up                      4) looked after

**35-In this week's column, I ..... you some tips on how to perform this most enjoyable activity.(iranarze.ir)**

- 1) am going to give                      2) will give                      3) given                      4) have given

**36-Bargaining is a ritual ..... for centuries. (iranarze.ir)**

- 1) exists                      2) has existed                      3) existed                      4) have existed

**37-American officials ..... that climate change presents a serious threat to national security.**

- 1) warned    2) are warning  
3) has been warned    4) have been warned

### Reading

**Direction: Read the passage and choose the best answer to each question:**

if you are like most people, your intelligence differs from season to season. You are probably a lot sharper in the spring than you are at any other time of the year. A scientist believes climate and temperature have a certain effect on our mental abilities. He found out that cool weather is much more helpful for better thinking than is summer heat. This does not mean that all people are less intelligent in the summer than they are during the rest of the year. Spring appears to be the best period of the year for thinking. One reason may be that in the spring, peoples' mental abilities are influenced by the same factors that all nature.

**38-Which statement is correct about spring?**

- 1) It has no affect peoples' mental abilities.  
2) It affects some peoples' mental abilities negatively.  
3) It makes all peoples' less intelligent in comparison to other seasons.  
4) It's the best period of the year for thinking.

**39-According to the passage ..... (source: iran arze website).(iranarze.ir)**

- 1) Your intelligence is not the same all through the year.  
2) Summer heal has no effect on your intelligence.  
3) Most people think better in summer than in spring.  
4) Spring is most peoples' favorite season.

**40- (prepared by iranarze.ir) Boston college is a..... university in this city.(iranarze.ir)**

- 1) small    2) major  
3) long    4) careful

**41- (iranarze) In the future, you may only ..... to buy one book. (iranarze.ir)**

- 1) deed                      2) Read                      3) need                      4) lead

42- There are a number of reasons why computers won't .... books entirely. (iranarze.ir)

- 1) use                      2) Replace                      3) destroy                      4) try

43- Books don't need a power source ..... . . (authorship: iranarze.ir)

- 1) too                      2) Also                      3) either                      4) neither



## ❖ فصل چهارم: سوالات هوش و توانمندی های ذهنی

۱- فرید بزرگتر از فرداد و فرناز، ولی فرید کوچکتر از فرزاد است. بنابراین به طور ختم می توان گفت: (iranarze.ir)

(۱) فرداد بزرگتر از فرناز است. (۲) فرداد کوچکتر از فرناز است.

(۳) فرزاد بزرگتر از فرداد است. (۴) هر دو جواب (۱) و (۲) درست هستند.

✓ پاسخ سایت ایران عرضه: گزینه ۳ ← با توجه به اینکه در توضیحات مسئله در ارتباط با ترتیب سنی فرداد و فرناز چیزی نگفته شده است لذا نمیتوان در ارتباط با این دو فرد نظر حتمی داد که در اینصورت گزینه های ۱ و ۲ نادرست میباشند و در پی آن گزینه ۴ نیز نادرست میباشد لذا تنها گزینه درست گزینه ۳ میباشد.

۲- عکس یک عدد با  $\frac{1}{4}$  آن برابر است. آن عدد کدام است؟ (iranarze.ir)

(۱) ۲ (۲) -۲ (۳)  $\pm ۲$  (۴) ۴

✓ پاسخ سایت ایران عرضه: گزینه ۳ ← اگر عدد مجهول را با  $x$  نشان دهیم خواهیم داشت: (منبع ایران عرضه)

$$\frac{1}{x} = \frac{1}{4}x \rightarrow 4 = x^2 \rightarrow x = \pm 2$$

۳- (منبع ایران عرضه) سرعت متوسط اتومبیلی ۷۲ کیلومتر در ساعت است. محمد هر چرخ آن تقریباً ۳ متر است. در مدت یک دقیقه حرکت، هر چرخ چند دور می چرخد؟ (iranarze.ir)

(۱) ۴۰۰ (۲) ۲۰۰ (۳) ۶۰۰ (۴) ۲۴۰

۴- اگر مساحت مربع به ضلع  $a$ ،  $\frac{2}{5}$  برابر مساحت مربع به ضلع  $b$  باشد، بین  $a$  و  $b$  کدام رابطه برقرار است؟ (iranarze.ir)

(۱)  $a = 0.05b$  (۲)  $a = 0.5b$  (۳)  $10a = 25b$  (۴)  $2a = b\sqrt{10}$

۵- در یک دبیرستان ۱۵۰ نفری تعداد شاگردان کلاس اول ۳۵ نفر، تعداد شاگردان کلاس دوم ۲۵ نفر و تعداد شاگردان کلاس سوم ۱۰ درصد کل شاگردان است. تعداد شاگردان کلاس چهارم چند درصد کل شاگردان دبیرستان است؟ (iranarze.ir)

(۱) ۲۵ (۲) ۵۰ (۳) ۷۵ (۴) ۱۵

۶- به ۱۰ گرم آلیاژ مس و طلا، به نسبت ۱ به ۳، چند گرم مس بیافزاییم تا آلیاژ به نسبت ۲ به ۵ تغییر یابد؟ (iranarze.ir)

(۱)  $0/3$  گرم (۲)  $0/5$  گرم (۳) ۳ گرم (۴) ۲ گرم

۷- در مدرسه ایی ۵۰٪ دانش آموزان دوچرخه دارند، ۳۰٪ دانش آموزانی که دوچرخه دارند اسکیت هم دارند، چند درصد هم اسکیت دارند و هم دوچرخه؟

(۱) ۱۵ درصد (۲) ۲۰ درصد (۳) ۲۵ درصد (۴) ۴۰ درصد

۸- چند درصد رمزهای (تهیه شده توسط ایران عرضه) سه رقمی از سه رقم زوج تشکیل شده اند؟ (iranarze.ir)

(۱) ۱۲٪ (۲) ۱۲/۵٪ (۳) ۳۰٪ (۴) ۱۰٪

۹- برای فرش کردن سالنی، ۷۵۰ عدد موزاییک  $20 \times 20$  به کار می رود. اگر اضلاع موزاییک  $25 \times 25$  در نظر گرفته شود، چند عدد موزاییک از آن نوع لازم است؟

۱۰- گیاهان هم حس دارند. در میان گیاهان، رتبه اول در حساسیت را گیاه (میموزا) دارد. این گیاه استوایی بر اثر تماس فیزیکی با برگ هایش، آنها را از وسط تا کرده و برگ های شانه ای خود را روی هم میگذارد. این نحوه عکس العمل، مکانیسمی دفاعی برای جلوگیری از صدمه در اثر وجود طوفان های شدید به حساب می آید. این نشان میدهد که گیاهان هم مانند جانوران، به محیط اطراف خود واکنش نشان میدهند.

کدام مورد رابطه دو بخش از متن را که زیر آنها خط کشیده شده است را به منطقی ترین وجه توصیف میکند؟ (iranarze.ir)

(۱) اولی، ادله ای بر تائید ادعای متن است و دومی، بیان دیگری از ادعاست

(۲) اولی، مثالی در تائید نتیجه گیری متن و دومی، قضاوتی در باب آن نتیجه گیری است

(۳) اولی، نتیجه گیری متن است و دومی، ادله ای در اثبات آن

(۴) اولی و دومی، هر دو ادله ای هستند که ادعای متن را تقویت میکند

۱۱- در یک زبان، «تانا دونا مکا» به معنی «آب بسیار سرد»، «تانانتا» به معنی «آب گرم» و «دونا بلا» به معنی «بسیار خوب» است. کدام کلمه به معنی سرد است؟ (iranarze.ir)

(۱) تانا (۲) دونا (۳) مکا (۴) نتا

۱۲- (تهیه شده توسط ایران عرضه) کدام واژه با سه واژه ی دیگر تفاوت دارد؟ (iranarze.ir)

(۱) برد (۲) برید (۳) برودت (۴) تبرید

۱۳- عده کارمندان مرد یک شرکت سه برابر کارمندان زن است. کدام یک از اعداد زیر نمی تواند تعداد کارمندان شرکت را نشان دهد؟ (iranarze.ir)

(۱) ۲۴ (۲) ۳۲ (۳) ۲۶ (۴) ۳۶

۱۴- اگر ۵ درصد  $(m+n)$  برابر ۱۵ و  $m$  یک عدد صحیح منفی باشد، کوچک ترین مقدار ممکن برای  $n$  کدام است؟

(۱) ۱۵۱ (۲) ۳ (۳) ۲۹۹ (۴) ۳۰۱

۱۵- عدد بعدی در مجموعه اعداد رو به رو کدام است؟ (iranarze.ir)

(۱) ۳۵ (۲) ۳۰ (۳) ۲۹ (۴) ۲۵

۱۶- جرم و جنایت همه را نگران کرده است، به خصوص والدین را. نظر سنجی های اخیر نشان می دهند که بزرگ ترین ترس ۲۰ درصد از والدین اروپایی این است که بچه هایشان توسط افراد غریبه دزدیده شده و یا کشته شوند. با این وجود اغلب والدین به فرزندان خود اجازه می دهند بیرون از خانه بازی کنند. به واقع احتمال دزدیده شدن بچه ها توسط افراد غریبه یک در ۲۰۰ هزار است و از آن ضعیف تر احتمال کشته شدن یک کودک در ماجرای جنایی است که حدود یک در یک میلیون است. کدام مورد زیر را می توان به درستی متن فوق استنباط کرد؟ (iranarze.ir)

(۱) آمار کودک ربایی نسبت به گذشته کاهش چشمگیری داشته است



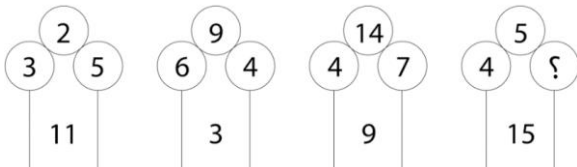
۲) امروزه بازی در محیط خارج از خانه برای رشد اجتماعی کودکان ضروری است

۳) والدین در عمق ضمیر ناخودآگاه خویش، به مبالغه آمیز بودن ترسشان، نوعی آگاهی دارند

۴) بسیاری از والدین، به دلیل مشغله های روزمره خود مجبورند چشم خود را بر بسیاری از ترس هایشان ببندند

راهنمایی: هر کدام از سوالهای زیر را به دقت بخوانید و جواب هر سوال را در پاسخنامه علامت بزنید

۱۷- در هر کدام از اشکال زیر بین اعداد ارتباط خاص و یکسانی برقرار است. به جای علامت سوال سوال کدام عدد باید قرار بگیرد؟



۸ (۱)

۷ (۲)

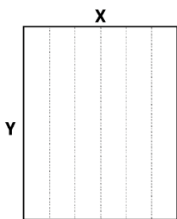
۵ (۳)

۲ (۴)

۱۸- یک مقوای مستطیل شکل در اختیار داریم. اگر این مقوا را با برش های عمودی مطابق شکل زیر به ۶ قسمت مساوی

تقسیم کنیم طول هر کدام از مستطیل های کوچک  $7/5$  برابر عرض آنها می شود اگر در ابتدا مقوای اولیه را با برش های

افقی به ۴ قسمت مساوی تقسیم می کردیم نسبت اضلاع هر کدام از برش ها کدام می شد؟ (iranarze.ir)



۸ (۱) به ۳

۲۴ (۲) به ۷

۱۹ (۳) به ۶

۱۶ (۴) به ۵

۱۹- در یک خانواده ۵ نفری شامل والدین و سه فرزند با فوت والدین میانگین سنی اعضای خانواده که  $m$  بوده است، ۱۰

سال کم می شود. میانگین سن پدر و مادر چند سال بوده است؟ (iranarze.ir)

۱)  $M+10$  (۲)  $M+15$  (۳)  $M+7/5$  (۴) نمی توان تعیین کرد

۲۰- نسبت دارایی A به B، ۲ به ۳، دارایی B به C، ۴ به ۵ و دارایی C به D، ۶ به ۷ است. D چند برابر A دارایی دارد؟

۱)  $\frac{21}{4}$  (۲)  $\frac{32}{15}$  (۳)  $\frac{35}{16}$  (۴)  $\frac{70}{32}$

۲۱- (منتشر کننده سوالات ایران عرضه) !! از آنجایی که سرما خوردگی و آنفولانزا در زمستان، به مراتب از فصول دیگر سال

به ویژه در فصول گرم بیشتر است، بهتر است برای اینکه میزان سرما خوردگی به ویژه نزد کودکان در دبستان ها را کم کنیم،

این محیط ها را همیشه گرم نگه داریم و تماس بچه ها با سرما را هرچه بیشتر کاهش دهیم. (iranarze.ir)

کدام مورد، در صورتی که صحیح فرض شود، توصیه به عمل آمده در متن را به بهترین شکل تضعیف می کند؟

۱) بیماری سرما خوردگی در فصول گرم سال هم، یک بیماری نایاب نیست.

۲) برخی تحقیقات که درباره تاثیر گرما بر قدرت بیماری زایی ویروس های سرماخوردگی انجام شده است به نتایج مشخصی رسیده اند.

۳) در فصل سرما، مردم بیشتر کنار هم هستند و لذا امکان سرایت ویروس سرما خوردگی هم زیادتر است

۴) امکان ابتلا به سرماخوردگی در فصول مختلف سال، به یک اندازه نیست.

راهنمایی: اطلاعات زیر را بخوانید و با توجه به آن، به سوال های که در متن زیر آمده است، پاسخ دهید و در پاسخنامه علامت بزنید.

۶ معلم یک مدرسه به اسامی A, C B, D, E, F در طرح رتبه بندی معلمان شرکت میکنند و بر اساس امتیاز کسب نموده از بیشترین به کمترین، به عنوان نفرات اول تا ششم معرفی می شوند، پس از بررسی امتیازات، هر کدام در یکی از رتبه های دانشیار معلم (نفرات اول و دوم)، استادیار معلم (نفر سوم)، مربی معلم (نفرات چهارم و پنجم) و آموزشیار معلم (نفر ششم) قرار گرفته اند. اطلاعات زیر، در خصوص رتبه و امتیازات این افراد موجود است:

\* از لحاظ امتیازی، B نه نفر اول شده است و نه نفر چهارم

\* C و D هم رتبه نشده اند، در حالی که F و B هم رتبه شده اند.

\* رتبه A از رتبه E بالاتر می شود، در حالی که امتیازاتش از امتیاز D کمتر بوده است.

۲۲- اگر C به رتبه استادیار معلم رسیده باشد، رتبه چند نفر از ۵ نفر دیگر به طور قطع مشخص می شود؟ (iranarze.ir)

۱ (۱)      ۵ (۲)      ۳ (۳)      ۲ (۴)

۲۳- اگر از لحاظ امتیازات، A نفر چهارم شده باشد، چه کسی از لحاظ امتیازات، نفر پنجم شده است؟ (iranarze.ir)

۱) A نمیتواند نفر چهارم باشد      ۲) E      ۳) C      ۴) B

۲۴- اگر D به رتبه استاد یار معلم رسیده باشد، کدام مورد زیر لزوماً صحیح است؟ (iranarze.ir)

۱) E به رتبه مربی رسیده است      ۲) در کسب امتیاز، نفر چهارم شده است

۳) C در کسب امتیاز، نفر اول شده است      ۴) A به رتبه مربی رسیده است

۲۵- اگر امتیازات C کمتر از امتیازات E شده باشد A از لحاظ امتیازی نفر چندم شده است؟ (iranarze.ir)

۱) پنجم      ۲) دوم      ۳) سوم      ۴) چهارم

راهنمایی: هر کدام از سوال های زیر را به دقت بخوانید و جواب هر سوال را در پاسخنامه علامت بزنید.

۲۶- در هر کدام از اشکال زیر، بین اعداد ارتباط خاص و یکسانی برقرار است. به جای علامت سوال، کدام عدد باید قرار بگیرد؟ (iranarze.ir)

۱ (۸)      ۲ (۴)      ۳ (۶)      ۴ (۷)

۲۷- در ۵ تراکنش متوالی، در هر کدام نسبت به قبلی، ۸۰ درصد، مبلغ موجودی حساب کسر شده است. اگر بعد از آخرین تراکنش، ۸۰ تومان باقی مانده باشد، در اولین تراکنش، چند هزار تومان کسر شده است؟ (iranarze.ir)

۵۰ (۴)

۸۰ (۳)

۲۰۰ (۲)

۲۵۰ (۱)

۲۸- مطابق یک بخشنامه، در یکی از شعب بانک ملی، به ازای هر ۴ کارمند مرد دارای ۳ فرزند، ۵ کارمند مرد دارای ۴ فرزند، از تسهیلات کمک هزینه اولاد، استفاده کرده اند. اگر مجموع تعداد فرزندان که پدرشان از این تسهیلات استفاده کرده اند، ۱۶۰ نفر باشد، چند نفر از این فرزندان، پدرشان دارای ۴ فرزند است؟ (iranarze.ir)

۱۲۰ (۴)

۱۰۰ (۳)

۶۰ (۲)

۲۵ (۱)

۲۹- یک ساعت شنی که زمان ریختن شن های آن، ۵۰ ثانیه است و دو ساعت دیجیتالی که یکی، هر ۵ ثانیه و دیگری، هر ۹ ثانیه زنگ می زند، در اختیار داریم. اگر هر سه ساعت، همزمان شروع به کار کنند، برای شنیدن حداقل ۸ مرتبه صدای همزمان هر دو ساعت، چند مرتبه نیاز به برگرداندن ساعت شنی داریم؟ (iranarze.ir)

۱۰ (۴)

۹ (۳)

۷ (۲)

۶ (۱)

۳۰- {ایران عرضه} یک تکه نخ ۱۶ سانتی متری داریم که از یک طرف، به رنگ سفید و به طول ۶ سانتی متر و از طرف دیگر، به رنگ سیاه و به طول ۱۰ سانتی متر است. این نخ را از دو سر آن، همزمان آتش می زنیم، سرعت سوختن نخ طوری بوده است که دقیقاً بعد از دو دقیقه، کاملاً سوخته و آتش خاموش می شود. مدت زمانی که بخش سیاه رنگ نخ، به تنهایی در حال سوختن بوده، چند ثانیه است؟ (iranarze.ir)

۳۰ (۳)

۲۰ (۳)

۱۵ (۲)

۷۵ (۱)

راهنمایی: با توجه به اطلاعات زیر به سوالات پاسخ دهید

اطلاعات مربوط به کارمندان خیره بانک «الف» در یک استان که فقط تحویلدار و حسابرس هستند، جمع آوری شده است. جدول زیر، نسبت تحویلداران و حسابرسان خیره زن و مرد را از مجموع تحویلداران و حسابرسان خیره این بانک در استان نشان می دهد. ایران عرضه

«نسبت تحویلداران و حسابرسان خیره زن و مرد از مجموع

تحویلداران و حسابرسان خیره این بانک در استان»

مرد	زن	جنسیت
		کارمند خیره
$\frac{11}{20}$	$\frac{1}{5}$	تحویل دار
$\frac{1}{10}$	$\frac{3}{20}$	حسابرس

۳۱- کدام یک از شهرهای زیر در دورترین نقطه شمال غربی قرار گرفته است؟ (iranarze.ir)

D (۴)

C (۳)

A (۲)

B (۱)

۳۲- کدام یک از شهرهای زیر، لزوماً باید هم در شمال و هم در غرب E قرار داشته باشد؟ (iranarze.ir)

\*\* با توجه به متن زیر به سوالات پاسخ دهید:

پنج خانواده که شامل خانواده سعید، خانواده خاله سعید، خانواده عمه سعید، خانواده دایی سعید و خانواده عموی سعید هستند، توسط پنج خودروی پراید، پژو، سمند، تندر ۹۰ و پیکان (هر خانواده با یک خودرو) به پیک نیک می روند و با رعایت محدودیت های زیر، در مقصد وارد یک ویلا می شوند:

خودروی پراید که متعلق به عموی سعید نمی باشد، یا اولین خودرویی است که وارد ویلا می شود یا چهارمین خودرو. خودروی تندر ۹۰ دقیقاً بعد از خودروی عمه سعید و دقیقاً قبل از خودروی دایی سعید وارد ویلا می شود. دقیقاً قبل از خودروی پژو، خودروهای عموی سعید و دایی سعید، به ترتیب وارد ویلا می شوند. خودروی خاله سعید، دقیقاً جلوی خودروی سمند وارد ویلا می شوند.

پاسخ نامه زیر کلی بوده و برای حل سوالات ۶۳ و ۶۴ به کار میرود  
با در نظر گرفتن مورد ۱ و ۲ میتوان به قطع جدول زیر را رسم کرد.

****	پژو	****	تندر ۹۰	****	****
****	****	دایی سعید	عموی سعید	عمه سعید	****

با در نظر گرفتن اینکه خودرو خاله سعید قبل از سمند وارد میشود و خودرو عمه سعید قطعاً مشخص نیست میتوان به گفت خاله سعید یا نفر اول است یا نفر چهارم که در این صورت جدول به دو حالت بعدی رسم میشود

پژو	پیکان / پراید	تندر ۹۰	سمند	پراید / پیکان
سعید	دایی سعید	عموی سعید	عمه سعید	خاله سعید

سمند	پژو	پیکان	تندر ۹۰	پراید
سعید	خاله سعید	دایی سعید	عموی سعید	عمه سعید

۳۳- خودروی تندر ۹۰، به عنوان چندمین خودرو می تواند توسط خانواده سعید وارد ویلا شود؟ (iranarze.ir)

(۱) چهارمین خودرو

(۲) خانواده سعید نمی تواند تندر ۹۰ داشته باشد

(۳) سومین خودرو

(۴) دومین خودرو

۳۴- اگر خودرو خاله سعید، پیکان باشد، خودروی عمه سعید کدام است؟ (iranarze.ir)

(۱) پراید

(۲) تندر ۹۰

(۳) پژو

(۴) سمند

۳۵- با توجه به معادلات روبرو، مقدار x کدام گزینه است؟ (iranarze.ir)

$$\begin{cases} 1 + 3 = 6 \\ 2 + 4 = 12 \\ 3 + 5 = 20 \\ 4 + 6 = 30 \\ 5 + 7 = x \end{cases}$$

۳۸ (۴)

۴۴ (۳)

۴۰ (۲)

۴۲ (۱)

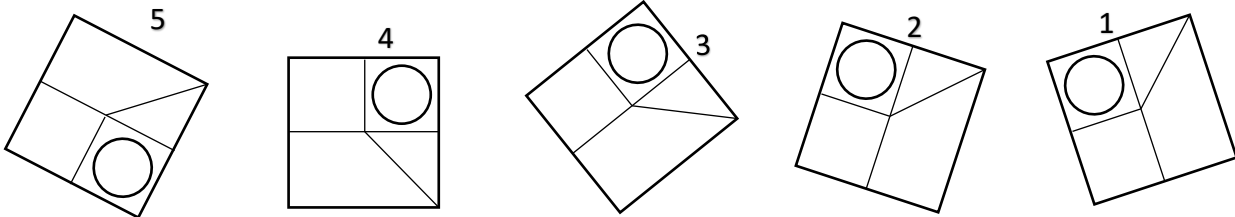
۳۶- کدام تصویر روبرو، با بقیه متفاوت است؟ (iranarze.ir)

۵ (۴)

۴ (۳)

۳ (۲)

۲ (۱)



۳۷- در تحقیقی که برای بررسی اثر بخشی داروی (الف) در درمان سرماخوردگی حاد در مردان مسن انجام شد، دو گروه از مردان مسن، وارد مطالعه شدند. به افراد یک گروه، همان داروی (الف) داده شد، در حالی که به افراد گروه دیگر، دارونما تجویز شد. بعد از یک هفته، محققین با تعجب دریافتند که افراد هر دو گروه کاملاً بهبود یافته اند.

کدام مورد در صورتی که صحیح فرض شود، تناقض موجود در متن را به منطقی ترین وجه، مرتفع می سازد؟

(۱) تقریباً تمامی آنانی که به آنها دارونما داده شد، به طریقی پی برده اند که داروی آنها بی اثر است.

(۲) برخی از پزشکان بر این باورند که اثر تلقین، گاهی از اثر دارو نیز بیشتر است.

(۳) افراد گروهی که دارونما دریافت کرده بودند، به خیال اینکه داروی دریافتی شان کافی نیست، خود اقدام به خرید و مصرف داروی (الف) کرده بودند.

(۴) داروی (الف) به واقع دارویی موثر در بر طرف نمودن سرماخوردگی حاد برای همه گروه های سنی است.

۳۸- مراقبت های پزشکی می توانند باعث طول عمر و یا بهبودی از یک بیماری جدی شوند، ولی شرایط مهم برای سلامت

جمعیت، شرایط اجتماعی-اقتصادی است که بر وضعیت جسمی افراد تاثیر می گذارد. بدین معنا که تعیین کننده های موقعیت اجتماعی سلامت، مانند میزان درآمد، سطح تحصیلات، شغل، تغذیه و طبقه اجتماعی، بسیار بیشتر از عواملی مانند عوامل بیولوژیک، باعث ابتلا به بیماری ها می شوند و در سلامت انسان نقش به سزایی دارند. که اگر نادیده گرفته شوند، رسیدن به اهداف سلامتی محال خواهد بود.

کدام مورد در صورتی که صحیح فرض شود، استدلال متن را به بهترین وجه تقویت می کند؟ (iranarze.ir)

(۱) افراد پایین دست جامعه، اگر چه ساعات بیشتری را به کار می پردازند، ولی نمی توانند موقعیت اجتماعی خود را ارتقا بخشند.

(۲) برخی از پزشکان با این نظر که بین امکان ابتلا به بیماری و میزان تحصیل و درآمد افراد، رابطه مستقیم وجود دارد، موافق نیستند.

۳) هر چه موقعیت اجتماعی افراد بالاتر می رود، آنان بیشتر نکات پیشگیری از بیماری را رعایت می کنند  
 ۴) مکمل های غذایی و دارویی موجود، نقش عوامل بیولوژیک در ایجاد بیماری ها را کمرنگ تر از گذشته کرده است  
 ۳۹- تحقیقات نشان می دهد بازده کاری افراد پس از ۵۰ ساعت کار در هفته، به شدت افت می کند. بازدهی کارمندی که در هفته ۵۵ ساعت کار می کنند، نزدیک به صفر می رسد. شاید باورش سخت باشد، ولی افرادی که در طول هفته ۷۰ ساعت کار می کنند، میزان کار مفیدشان با کسانی که ۵۵ ساعت کار می کنند. . . . ؟ (iranarze.ir)

۱) افتی نشان نمی دهد

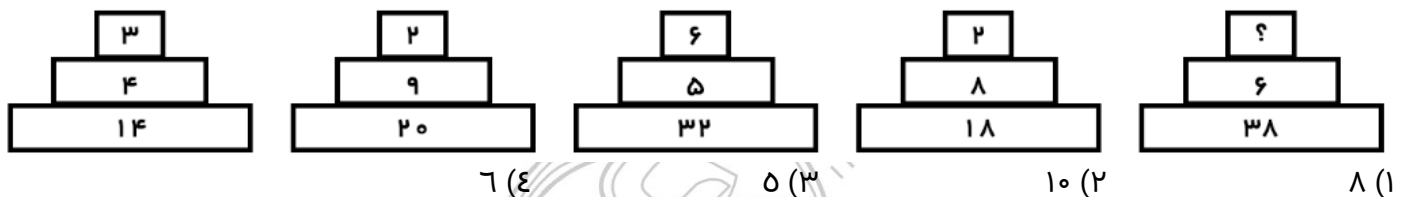
۲) کاملاً برابر است

۳) فقط به اندازه زمان بیشتری که می گذارند تغییر می کند

۴) حتی قابل مقایسه هم نیست

راهنمایی: هر کدام از سوال های زیر را به دقت بخوانید و جواب هر سوال را در پاسخنامه علامت بزنید.

۴۰- هر کدام از اشکال زیر بین اعداد، ارتباط یکسانی برقرار است، به جای علامت سوال، کدام عدد باید قرار بگیرد؟



۴۱- روی یک کاغذ ۲۵ مثلث و مربع جداگانه رسم شده است اگر تعداد اضلاع ۹۲ تا باشد، چندتا مربع خواهیم داشت؟

۱۸ (۱)      ۱۹ (۲)      ۱۷ (۳)      ۱۴ (۴)

۴۲- (ایران عرضه) وقتی ۳۰٪ از دبه ای خالی است. آن دبه ۳۰ لیتر بیشتر از وقتی که ۳۰٪ آن پر است آب می گیرد.

گنجایش دبه چند لیتر است؟ (iranarze.ir)

۲۰ (۱)      ۵۰ (۲)      ۷۵ (۳)      ۴۰ (۴)

۴۳- بر روی یک نیم خط تعداد ۱۰ نقطه گذاشته ایم. چند پاره خط بر روی آن تشکیل می شود؟ (iranarze.ir)

۲۵ (۱)      ۹۰ (۲)      ۵۵ (۳)      ۱۱۰ (۴)

## ❖ فصل پنجم: سوالات ICDL

۱- نام فایل در ویندوز حداکثر چند کاراکتر می‌تواند باشد؟ (iranarze.ir)

(۱) ۱۱ (۲) ۲۵۶ (۳) ۸ (۴) محدودیت ندارد

✓ پاسخ سایت ایران عرضه: گزینه ۲ ← نامگذاری پوشه‌ها و فایل‌ها در ویندوز تابع قوانینی است که یکی از آنها به این صورت می‌باشد: حداکثر تعداد کاراکتر برای نامگذاری یک فایل در ویندوز، ۲۵۶ کاراکتر می‌باشد. همچنین در این نامگذاری نمیتوان از کاراکترهای خاصی همچون علامت سوال، ستاره، دو نقطه و ... استفاده کرد. ایران عرضه

۲- حاصل فرمول  $\min(\text{sum}(4; 3); \text{Max}(2; 3))$  چیست؟ (iranarze.ir)

(۱) ۱۰ (۲) ۷ (۳) ۳ (۴) ۲

✓ پاسخ سایت ایران عرضه: گزینه ۳ ← ابتدا نتیجه توابع داخلی را حساب میکنیم. تابع sum جمع دو آرگومان خود را به عنوان خروجی دارد، تابع max نیز بزرگترین مقدار را از بین دو آرگومان خود به عنوان خروجی ثبت میکند. در نهایت تابع min به صورت  $\min(7; 3)$  خواهد بود که این تابع نیز کوچکترین عدد را از میان دو آرگومان خود به عنوان خروجی ثبت میکند که این خروجی برابر است با ۳

۳- (منبع ایران عرضه) خطایی که زمانی اکسل متنی را در فرمول درست تشخیص ندهد ظاهر می‌شود چیست؟ (iranarze.ir)

(۱) #value (۲) ##### (۳) #name? (۴) #div/o!

۴- کدام یک از فرمول‌های زیر معدل اعداد درون سلول‌های c4 تا c را نمایش می‌دهد؟ (iranarze.ir)

(۱) = average (c4: c8) (۲) = sum (c4: c8)

(۳) = average (c4 ; c8) (۴) = sum (c4 ; c8)

۵- برای نشان دادن عدد به صورت کسر از کدام گزینه‌ها استفاده می‌شود؟ (iranarze.ir)

(۱) Currency (۲) Scientific (۳) Accounting (۴) Fraction

۶- در نمایش آیکن‌ها به طوریکه بتوان نمایش آیکن‌ها را به شکل کاشیکاری دید، از کدام گزینه زیر استفاده می‌شود؟

(۱) List (۲) Details (۳) Small Icon (۴) Tiles

۷- برای مرتب سازی براساس نوع و تاریخ ویرایش به ترتیب از راست به چپ کدام فرمان‌ها را باید از منوی میانبر انتخاب نمود؟ (iranarze.ir)

(۱) DATE MODIFIED – TYPE (۲) TYPE – DATE

(۳) TYPE – DATE MODIFIED (۴) DATE - MODIFIED

۸- در کدام منو فرمان‌هایی برای سازماندهی اطلاعات پنجره مثل کپی، انتقال، حذف و غیره وجود دارد؟ (iranarze.ir)

(۱) Open (۲) New Folder (۳) Navigation pane (۴) Organize

۹- برای اینکه یک خانه را به چند خانه فرعی تقسیم کنیم از کدام گزینه استفاده می‌کنیم؟ (iranarze.ir)

(۱) Merge Cell (۲) Table Auto Format



Split Cells (۴)

Select Row (۳)

۱۰- در پنجره Font کدام گزینه متن را سایه دار می‌کند؟ (iranarze.ir)

Emboss (۱) Shadow (۲) Out Line (۳) Engrave (۴)

۱۱- کدام یک از اصطلاحات زیر در نرم افزار اکسس با بقیه متفاوت است؟ (iranarze.ir)

report (۱) query (۲) form (۳) table (۴)

۱۲- relationships در نرم افزار اکسس، چه کاربردی دارد؟ (iranarze.ir)

(۱) نحوه ارتباط بین جداول یک دیتابیس با دیتابیس دیگر را نشان می دهد

(۲) نحوه ارتباط بین جداول یک دیتابیس را نشان می دهند.

(۳) نحوه ارتباط بین فرم ها و جداول یک دیتابیس را نشان می دهد

(۴) نحوه ارتباط بین فیلد های متفاوت یک جدول را نشان میدهد

۱۳- با کدام گزینه، می توان جدول رسم کرد؟ (iranarze.ir)

(۱) سربرگ Home، گروه Table، دکمه Font

(۲) سربرگ Insert، گروه Table، دکمه Insert Table

(۳) سربرگ Insert، گروه Illustrations، دکمه Chart

(۴) سربرگ View، گروه Document view، دکمه Print Layout

۱۴- در ورد برای تقسیم یک خانه به چند خانه از کدام فرمان استفاده می‌شود؟ (iranarze.ir)

Split Cell (۱) Split Table (۲) Convert (۳) Hide Gridlines (۴)

۱۵- کدام گزینه از کاربردهای اصلی Excel نمی‌باشد؟ (iranarze.ir)

(۱) انجام امور نشر رومیزی و تایپ (۲) تهیه دفتر حسابداری

(۳) تهیه نمودار گرافیکی (۴) فاکتور فروش

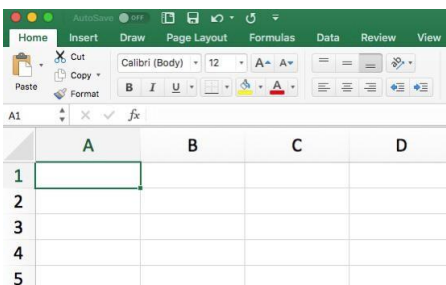
۱۶- برای نمایش کارمندانی که متولد استان اصفهان هستند، از کدام گزینه در اکسل استفاده می‌شود؟ (iranarze.ir)

(۱) Sort

(۲) View

(۳) Filter

(۴) Function



۱۷- در Excel حاصل عبارت  $4*3+2^3*2$  با توجه به اولویت عملگرها کدام است؟ (iranarze.ir)

(۴) ۴۲

(۳) ۷۶

(۲) ۴۰

(۱) ۲۸

۱۸- نحوه نمایش slide sorter در نرم افزار پاورپوینت برای کمک در کدام یک از موارد زیر است؟ (iranarze.ir)

- (۱) مشخص نمودن ترتیب نمایش اسلایدها  
(۲) مشخص نمودن نحوه اتصال دو اسلاید به همدیگر  
(۳) مشخص نمودن نحوه نمایش هر اسلاید  
(۴) مشخص نمودن نحوه ترتیب نمایش اجزاء یک اسلاید
- ۱۹- گزینه reset slide در پاورپوینت چه عملی را انجام میدهد؟ (iranarze.ir)

- (۱) اسلاید موجود را خالی از اجزا کرده و به فرمت پیش فرض در می آورد.  
(۲) نمایش سند فعلی پاورپوینت را قطع می کند  
(۳) همه متن ها و اجزا اسلاید را به فرمت اولیه تبدیل می کنند.  
(۴) یک اسلاید جدید ایجاد می کند.

۲۰- (iranarze.ir) کدام ویژگی زیر فقط در ویندوز ۱۱ وجود دارد؟ (iranarze.ir)

- (۱) پین کردن برنامه ها در منوی استارت  
(۲) ایجاد تب جدید در اکسپلورر  
(۳) ماشین حساب علمی  
(۴) وجود نوتیفیکیشن

۲۱- کدام یک از توابع زیر در نرم افزار Excel 2016، بر روی مقادیر عددی استفاده می شود؟ (iranarze.ir)

- (۱) SUMIF (۲) PROPER (۳) LOWER (۴) UPPER

۲۲- شکل زیر بخشی از یک کاربرگ را در نرم افزار Excel 2016 نشان می دهند با در نظر داشتن داده های موجود مهمترین نمودار برای نمایش رشد جذب دانشجو در مقاطع گفته شده کدام است؟ (iranarze.ir)

	A	B	C	D
۱		2014	2016	2017
۲	Bs.d	5	6	9
۳	Ms.d	4	6	7
۴	Phd	2	4	8

(۱) Rader

(۲) Pie

(۳) line

(۴) Area

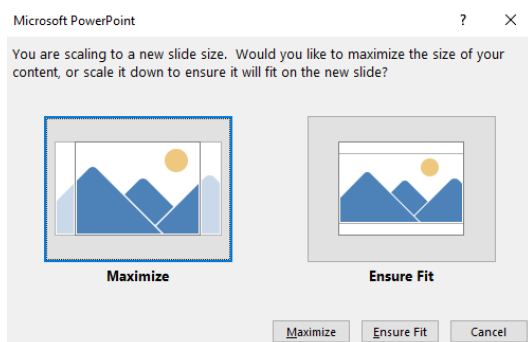
۲۳- حاصل A3+SUM(A3) در نرم افزار Excel 2016 با کدام مورد زیر، برابر است؟ (iranarze.ir)

- (۱) #REF! (۲) 2\*A3 (۳) A3 (۴) #VALEE!

۲۴- در نرم افزار Access از کدام مورد برای دریافت داده از پایگاه داده در یک پرسو جو (Query) استفاده می شود؟

- (۱) Get (۲) Extract (۳) obtain (۴) select

راهنمایی: با توجه به اطلاعات داده شده و شکل زیر سوال های ۴۵ و ۴۶ پاسخ دهید.



شکل زیر پیامی را در نرم افزار power point 2016 نشان میدهند.

۲۵- این پیام در کدام صورت رخ می دهد؟ (iranarze.ir)

(۱) ذخیره screenshot

(۲) تغییر scale تصویر

(۳) ذخیره فایل

۴) تغییر scale اسلاید

۲۶- ابزار compare برای مقایسه دو سند Word 2016 استفاده می شود. کدام مورد در خصوص مغایرت در دو سند، کدام مورد توسط این ابزار قابل تشخیص نیست؟ (iranarze.ir)

Document Property (۱) white Spaces (۲)

Case changes (۳) Formatting (۴)

۲۷- در نرم افزار Word 2016 در صورتی که سند شما باید از استاندارد APA برای درج مراجع پیروی کند، کدام مورد برای اعمال فرمت این استاندارد کاربرد دارد؟ (iranarze.ir)

(۱) ایجاد سبک مورد نظر بر اساس فرمت اعلام شده و اضافه کردن آن به گروه Citation & Bibliography

(۲) ایجاد سبک مورد نظر بر اساس فرمت اعلام شده و اضافه کردن آن به گروه Style

(۳) انتخاب سبک مورد نظر در Citation & Bibliography

(۴) انتخاب سبک مورد نظر در Style

۲۸- در نرم افزار Word ۲۰۱۶، در صورت تایپ فارسی و انتخاب گزینه Right-to-left فشردن کلیدهای → + Ctrl باعث کدام عمل خواهد شد؟

(۱) نشانگر را به ابتدای پاراگراف می برد (۲) نشانگر را به انتهای کلمه سمت چپ می برد

(۳) نشانگر را به ابتدای کلمه سمت راست می برد (۴) نشانگر را به ابتدای جمله می برد

۲۹- در نرم افزار WORD 2016 ابزاری که برای اضافه کردن نام و آدرس گروهی از اشخاص به یک سند آماده شده استفاده می شود، چه نام دارد؟

Letter merge (۱) Document Formatting (۲)

Database Management (۳) Mail Merge (۴)

۳۰- شکل زیر بخشی از یک کاربرد در نرم افزار Excel 2016 را نشان می دهد. حذف ردیف ۲ در این کاربرد باعث کدام تغییر در مقدار سلول C4 می شود؟

	A	B	C
1	1	1	
2	1	1	
3	1	1	
4	1	1	8

(۱) خطای #value!

(۲) مقدار آن ۶ برابر می شود

(۳) خطای #Ref! رخ می دهد

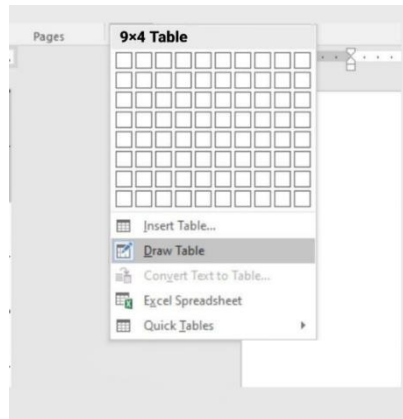
(۴) مقدار آن بدون تغییر باقی می ماند

۳۱- در نرم افزار outlook کدام گزینه قابل دسترسی نیست؟ (iranarze.ir)

Mail (۱) Calendar (۲) Movie (۳) Tasks (۴)

۳۲- حاصل تابع SQRT (ABS (A)) در Excel چه می باشد؟ (مقدار -16) (iranarze.ir)

با توجه به تصویر به ۳ سوال بعدی پاسخ دهید.



۳۳- تصویر بالا مربوط به چیست؟ (iranarze.ir)

(۱) درج جدول موجود (۲) درج جدول جدید (۳) درج سایز جدول (۴) درج عنوان جدول

۳۴- کدام گزینه با ابزار Draw Table امکان پذیر نیست؟ (iranarze.ir)

- (۱) می توان سلول به جدول اضافه کرد  
(۲) می توان خطوط مورب اضافه کرد  
(۳) می توان برای جدول حاشیه ایجاد کرد  
(۴) می توان از قبل تعداد سلول ها را وارد کرد یا مشخص کرد

۳۵- با ایجاد جدول کدام سربرگ جدید ایجاد می شود؟ (iranarze.ir)

(۱) Chart tools (۲) Table tools (۳) Insert tools (۴) Draw tools

۳۶- به منظور رفتن تایپ به خط بعد و تشکیل نشدن پاراگراف جدید از کدام یک استفاده می شود؟ (iranarze.ir)

(۱) Enter (۲) Shift+Enter (۳) Ctrl+Enter (۴) Alt+Enter

۳۷- برای گذاشتن نقطه نظرات و پیشنهادات بر روی متن تایپ شده از کدام گزینه استفاده می شود؟ (iranarze.ir)

(۱) Comment (۲) Footnote (۳) Track Changes (۴) Caption

۳۸- عملگر توان در اکسل کدام است؟ (iranarze.ir)

(۱) % (۲) & (۳) x (۴) ^

۳۹- تابع اجرای شرط در اکسل چیست؟ (iranarze.ir)

(۱) True (۲) If (۳) Condition (۴) Count

۴۰- جهت رفتن به خط بعد در یک سلول نرم افزار Excel از کدام کلید استفاده می شود؟ (iranarze.ir)

(۱) Enter (۲) Shift+Enter (۳) Alt+Enter (۴) Ctrl+Enter

۴۱- در word برای تایپ عدد ۴ به صورت توان و به شکل  $(a+b)^4$  از چه دستوری استفاده می شود؟ (iranarze.ir)

Equation script (۴)      Formula script (۳)      Superscript (۲)      Upper script (۱)

۴۲- کاربرد بوک مارک (book mark) در word چیست (تنظیم توسط فروشگاه ایران عرضه)؟ (iranarze.ir)

(۱) تصحیح خطاهای گرامری متن      (۲) پرش به یک قسمت خاص از متن

(۳) چشم پوشی از خطاهای گرامری متن      (۴) هیچکدام

۴۳- { | پ ر ا ن ع ر ض ه } پسوند آدرس اینترنتی .ac. نشان دهنده ..... می باشد (iranarze.ir)

(۱) سازمان تجاری      (۲) سازمان دانشگاهی      (۳) سازمان آموزشی      (۴) سازمان دولتی

۴۴- تعریف دانش صریح عبارتست از: (iranarze.ir)

(۱) شامل دانش فنی مهارت ها و فوت و فن هایی است که به تجربه کسب می شود

(۲) مدیریت داخلی می باشد

(۳) بصورت قوانین و راهنماها و رویه های کاری فرموله شده در کتاب ها می باشد

(۴) گزینه ۱ و ۳

۴۵- در ستون D در اکسل اسامی انگلیسی با حروف بزرگ ذخیره شده است چنانچه بخواهیم حرف اول این اسامی بزرگ و

بقیه آن با حروف کوچک ذخیره شود، الزامیست از تابع ..... استفاده شود. (iranarze.ir)

CONCATENATE (۱)      UPPER (۲)      LOWER (۳)      PROPER (۴)

۴۶- در جستجوی گوگل، کدام جمله زیر تعریف صحیح از عملگرهای جستجو را ارائه می دهد؟ (iranarze.ir)

(۱) عملگر OR: محدود کننده میزان بازیابی

(۲) عملگر OR نسبت به AND میزان بازیابی بیشتری دارد

(۳) عملگر AND: گسترش دهنده میزان بازیابی

(۴) عملگر AND نسبت به OR میزان بازیابی بیشتری دارد

۴۷- یک تقویم که بر روی دسکتاپ نمایش داده می شود و قابلیت تغییر دارد یک ..... است (iranarze.ir)

Icon (۱)      Thumbnail (۲)      Gadget (۳)      Action (۴)

۴۸- ..... نمودار های کوچکی هستند که می توانند در یک سلول اکسل قرار بگیرند. (iranarze.ir)

sparkline (۱)      If (۲)      char (۳)      Gadget (۴)

۴۹- کدام یک از توابع زیر می تواند تعداد اعداد بزرگتر از ۵ را در چند سلول محاسبه کند؟ (iranarze.ir)

COUNTIF (۱)      IF (۲)      SUMIF (۳)      COUNT (۴)

۵۰- با کدام یک از موارد ذیل در WORD می توانید یک نامه را برای افراد مختلفی که در اکسل ثبت شده است ارسال

نمایید؟ (iranarze.ir)

Recipients (۴) Mail Merge (۳) Envelopes (۲) Mark Entry (۱)

۵۱- اگر بر روی یک آیکن کلیک کرده و دکمه چپ ماوس را رها نکنیم و آن را به سمت دلخواه خود بکشیم و سپس مجدداً کلید سمت چپ را رها کنیم چه عملی انجام داده ایم؟ (iranarze.ir)

Click (۴) Tool Bar (۳) Double Click (۲) Drag and Drop (۱)

۵۲- برای ارسال یک پیام به چندین گیرنده در بین آدرس آن ها از چه علامتی استفاده می شود؟ (iranarze.ir)

(۱) . (۲) , (۳) :

۵۳- برای نمایش صفحه پیش فرض مرورگر از کدام گزینه نوار ابزار استاندارد استفاده می کنیم؟ (iranarze.ir)

Research (۴) History (۳) Home (۲) Favorites (۱)

۵۴- موضوع پیام در کدام قسمت نوشته می شود؟ (iranarze.ir)

BCC (۴) Subject (۳) CC (۲) To (۱)

۵۵- کدام مفهوم برای کلمه رمز به کار می رود؟ (iranarze.ir)

Username (۴) Access number (۳) Password (۲) DNS (۱)

۵۶- در صورتی که مقدار فیلدی که با  علامت گذاری شده است را از D14 به E20 تغییر دهیم مقدار سلول تغییری خواهد کرد؟ (iranarze.ir)

(۱) هیچ تغییری (۲) قابلیت درج فرمول در E20 وجود ندارد

(۳) سلول خالی می ماند (۴) تغییر این فیلد امکان پذیر نیست.

۵۷- الگوی `= [WorkbookName]SheetName!CellAddress` در نرم افزار Excel 2013 به چه منظور استفاده می شود؟

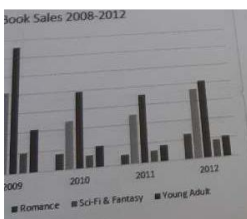
(۱) ارجاع به یک سلول خاص در یک فایل دیگر

(۲) محاسبه مجموع تمام سلولها در کاربرگهای یک فایل

(۳) ارجاع به یک سلول خاص در تمام فایلها باز

(۴) محاسبه مجموع تمام سلولها در یک کاربرگ

۵۸- شکل زیر یک نمودار در نرم افزار Excel 2013 را نشان می دهد تعداد Data Series در این نمودار چند عدد است؟



(۱) ۲۵ (۲) ۵

(۳) ۸ (۴) ۱۰

۵۹- نرم افزار ۲۰۱۶ ACCESS جزو کدام دسته قرار دارد؟ (iranarze.ir)

(۱) پردازشگر متن (۲) ارائه مطالب (۳) ذخیره اسناد (۴) پایگاه دادهها



## ❖ فصل ششم: سوالات مبانی حفاظت و حراست (برای شغل نگهبان)

۱- در مبحث حفاظت فیزیکی، کدام یک جزء ارکان اطلاعات محسوب نمی شود؟ (iranarze.ir)

(۱) اقدام پنهان (۲) حذف اطلاعات اضافی

(۳) ضد اطلاعات (۴) بررسی اطلاعات

✓ پاسخ سایت ایران عرضه: گزینه ۲ ← ارکان اطلاعات: الف) جمع آوری اطلاعات

ب) بررسی اطلاعات (ج) اقدام پنهان (د) ضد اطلاعات

۲- ..... عبارت است از گردآوری داده ها، از طریق جاسوسی، روش های فنی و یا هر طریق دیگر. (iranarze.ir)

(۱) ضد اطلاعات (۲) اقدام پنهان

(۳) جمع آوری اطلاعات (۴) بررسی اطلاعات

✓ پاسخ سایت ایران عرضه: گزینه ۳ ← جمع آوری اطلاعات: عبارت است از گردآوری داده ها، از طریق جاسوسی، روش های فنی

(عکس برداری، شنود ارتباطات الکترونیک و...) و یا هر طریق دیگر.

۳- در کدام شیوه از جمع آوری اطلاعات به جای منابع انسانی از دانش پیشرفته فنی استفاده می شود؟ (iranarze.ir)

(۱) جمع آوری فنی (۲) جمع آوری انسانی

(۳) جمع آوری آشکار (۴) جمع آوری میدانی

۴- {ا یر ا ن عرضه} به کلیه اقدامات پیشگیرانه که به منظور حفظ و نگهداری منابع حیاتی و غیر حیاتی در مقابل تهدیدات

طبیعی و غیر طبیعی به عمل می آید اصطلاحاً چه گفته می شود؟ (iranarze.ir)

(۱) پیشگیری (۲) امنیت (۳) دفاع (۴) حفاظت

۵- بیماری ایدز جزء کدام سطح از امنیت تلقی میشود؟ (iranarze.ir)

(۱) امنیت اجتماعی (۲) امنیت فردی (۳) امنیت بین الملل (۴) امنیت منطقه ای

۶- حفاظت از تاسیسات و محل هایی که بدون اتکاء به آنها نمی توان انتظار امری را داشت در راستای حفاظت از کدام اهداف

میباشند؟ (iranarze.ir)

(۱) دارایی ها (۲) تجهیزات (۳) تاسیسات (۴) اماکن

۷- توریه، رمزگویی، ترقیق چه نوعی از حفاظت محسوب میشوند؟ (iranarze.ir)

(۱) حفاظت اسناد (۲) حفاظت کلام و گفتار

(۳) حفاظت شخصیتها (۴) حفاظت ارتباطات

۸- کدام گزینه از شرایط موضع نگهبانی محسوب میشود؟ (iranarze.ir)

(۱) داشتن حداکثر میدان دید و اختفا (۲) داشتن حفاظت کامل

(۳) داشتن ارتباط موضع پست با یکدیگر (۴) همه موارد



۹- کدام عمل برای نگهبان سرپست ممنوع نمیباشد؟ (iranarze.ir)

- (۱) کاربا تلفن همراه شخصی و تماس گرفتن (۲) غذاخوردن سر پست  
 (۳) نگاه کردن به تلویزیون (۴) گوش دادن به رادیو

۱۰- خطراتی که از کنشهای طبیعی ناشی شده و دست بشر در ایجاد آنها دخالتی ندارد، کدام است؟ (iranarze.ir)

- (۱) خطرات آشکار (۲) خطرات مصنوعی (۳) خطرات طبیعی (۴) خطرات پنهانی

۱۱- (ناشر سایت ایران عرضه)!! مهم ترین اهداف قابل حفاظت بعد از نیروی انسانی چیست؟ (iranarze.ir)

- (۱) تجهیزات (۲) تاسیسات دفاعی (۳) اماکن (۴) ۱ و ۳

۱۲- اصطلاحاً هر وضعیتی که برای انسان ایجاد خطرکند به عنوان چه چیز اطلاق می شود؟ (iranarze.ir)

- (۱) آسیب (۲) تهدید (۳) ناامنی (۴) حادثه

۱۳- کدام یک از عوامل بیرونی شاخص تهدید سنجش محسوب نمیشود؟ (iranarze.ir)

- (۱) منافع ملی (۲) دامنه تهدید (۳) عمق تهدید (۴) مکان تهدید

۱۴- هنگام گشت زنی و کنترل موانع، حصارها، قفلها نگهبان به کدامیک از وسایل زیر نیاز دارد؟ (iranarze.ir)

- (۱) نورافکن (۲) پانچو (۳) تابلوی دستی ایست (۴) چراغ قوه سالم

۱۵- کدام یک از وظایف اختصاصی نگهبان نمیباشد؟ (iranarze.ir)

- (۱) گشت زنی در محدوده استحفاظی به صورت دقیق

(۲) دریافت دستورات مخصوص محل نگهبانی از رؤسای مربوطه در رابطه با نوع پست و ویژگی های آن

(۳) نصب یک نسخه از وظایف اختصاصی نگهبان در محل نگهبانی برای آگاهی از آن و تسلط بروظایف مزبور

(۴) مراقبت و هوشیاری کامل در راستای اجرای وظایف اختصاصی درمحل نگهبانی

۱۶- کدام گزینه از وظایف نگهبان در قبال مواد منفجره و اشیای مشکوک به شمار نمی آید؟ (iranarze.ir)

- (۱) تخلیه فوری افراد از و قطع عبور و مرور (۲) قطع سریع آب، برق، گاز محل مورد نظر

- (۳) مراقبت کامل حوزه استحفاظی و نگهبانی (۴) جلوگیری از ازدحام افراد

۱۷- خودداری از جابجایی و دست زدن به اجناسی که در محل حادثه وجود دارد از وظایف نگهبان در قبال چه موردی است؟

- (۱) تجاوز به حریم خصوصی (۲) دستگیری

- (۳) قتل (۴) سرقت

۱۸- کاربردیترین مواد نگارشی و حتی توضیح شفاهی که در نوشتههای اداری و شخصی دیده میشود، چیست؟

- (۱) گزارش (۲) مقاله (۳) نامه (۴) برگه قضایی

۱۹- کدام گزینه تعریف صحیحی از گزارش فردی - گروهی است؟ (iranarze.ir)

- (۱) نوعی از گزارش که در دوره های مختلف ارائه می گردد.

(۲) گزارشی که توسط یک مأمور یا یک هیئت به نگارش در می آید.

(۳) گزارشی که ابتداء به ساکن بوده و یکبار نوشته شده یا تکرار آن دارای قاعده منطقی نیست.

(۴) گزارش نیمه رسمی که بر اساس متن و تحقیقات صورت گرفته گزارش را به سه قالب شکلی یاد شده تهیه می کنند.

**۲۰- (ایران عرضه) کدام مورد از ارکان نامه های اداری محسوب نمی شود؟ (iranarze.ir)**

(۱) امضا نامه (۲) گیرندگان رونوشت

(۳) عناوین گیرنده، فرستنده و موضوع نامه (۴) آدرس گیرنده

**۲۱- قطع کردن جریان برق و دور کردن منبع برق از مصدوم با یک وسیله چوبی از اقدامات لازم برای نوع حادثه ای می باشد؟**

(۱) برق فشار ضعیف (۲) برق فشار قوی (۳) آتش سوزی ها (۴) غرق شدگی

**۲۲- (منبع ایران عرضه) کدام یک از موارد زیر تهدید کننده حیات نبوده و نیازمند درمان فوری نیست؟ (iranarze.ir)**

(۱) سیستم تنفس (۲) سیستم راه هوایی (۳) سستم حرکتی (۴) سیستم گردش خون

**۲۳- در معیار Awake ، AVPU چه سطحی از هوشیاری است؟ (iranarze.ir)**

(۱) آگاه به زمان، مکان، شخص (۲) پاسخ به محرک های کلامی

(۳) غیرپاسخگو (۴) پاسخ به محرک های دردناک

**۲۴- سرعت تنفس در کودکان ۱ تا ۸ سال چگونه است؟ (iranarze.ir)**

(۱) ۱۲ تا ۲۰ بار در دقیقه (۲) ۲۵ تا ۵۰ بار در دقیقه

(۳) ۱۵ تا ۲۵ بار در دقیقه (۴) ۱۵ تا ۳۰ بار در دقیقه

**۲۵- سفید رنگ شدن پوست در هنگام بروز حادثه نشانه چیست؟ (iranarze.ir)**

(۱) آفتاب سوختگی و انبساط عروق (۲) افت فشارخون، حمله قلبی، ترس و...

(۳) کمبود اکسیژن (۴) بیماری کبدی

**۲۶- کدام نقطه بدن در ارزیابی پوست مورد بررسی قرار نمی گیرد؟ (iranarze.ir)**

(۱) بستر ناخن ها (۲) مخاط دهان (۳) ملتحمه شدن چشم (۴) سر شدن زیر زبان

**۲۷- در موارد کمبود اکسیژن و خونرسانی ناکافی مثل خفگی، پوست به چه رنگی در می آید؟ (iranarze.ir)**

(۱) خاکستری (۲) سفید (۳) آبی (۴) قرمز

**۲۸- پوست خیلی خشک نشانه کدام بیماری می باشد؟ (iranarze.ir)**

(۱) آسیب نخاعی (۲) افت فشارخون (۳) مسمومیت (۴) مشکلات قلبی

**۲۹- کدام مورد جزء فرایند بررسی احیا محسوب نمیشود؟ (iranarze.ir)**

(۱) وضعیت راه هوایی (۲) چگونگی تنفس

(۳) قابلیت حرکت اندام ها (۴) وضعیت گردش خون

۳۰- توصیه می‌شود خانم های باردار بالای ۵ ماه موقع استراحت به کدام سمت استراحت کنند؟ (iranarze.ir)

- (۱) به پهلو راست (۲) به پشت (۳) به روی شکم (۴) به پهلو چپ

۳۱- کدام مورد از علل تشخیصی آسیب به ستون فقرات نمی باشد؟ (iranarze.ir)

- (۱) ازدست رفتن کنترل ادرار و مدفوع (۲) اختلال درحس و حرکت اندامها

- (۳) کاهش سطح هوشیاری (۴) حساسیت درلمس ناحیه آسیب دیده

۳۲- کدام نوع خون ریزی به صورت یکنواخت به رنگ قرمز تیره و تهی از اکسیژن می باشد؟ (iranarze.ir)

- (۱) شریانی (۲) وریدی (۳) مویرگی (۴) و او ۲

۳۳- (منبع فروشگاه اینترنتی ایران عرضه) شدت خونریزی به چه عاملی بستگی ندارد؟ (iranarze.ir)

- (۱) مقدار خون ازدست رفته (۲) سن بیمار

- (۳) وجود مشکلات طبی در بیمار (۴) نوع اندام آسیب دیده

۳۴- اولین روش برای کنترل خونریزی چیست؟ (iranarze.ir)

- (۱) بی حرکت نگهداشتن اندام (۲) استفاده ازکیسه یخ

- (۳) فشار مستقیم (۴) بانداژ کردن

۳۵- کدام مورد از علائم اولیه شوک به شمار نمی رود؟ (iranarze.ir)

- (۱) ضعف و بی حالی (۲) نبض تند و ضعیف

- (۳) پوست سرد (۴) پوست رنگ پریده

۳۶- کدامیک از صدمات زیر به سلول ها و عروق خونی موجود در داخل درم وارد میشود؟ (iranarze.ir)

- (۱) هماتوم (۲) کوفتگی (۳) صدمات له کننده (۴) پارگی

۳۷- کدام نوع از جراحات باز بافت نرم خارجی ترین لایه پوست را درگیر کرده و اغلب بسیار دردناک است؟ (iranarze.ir)

- (۱) پارگی (۲) کنده شدگی (۳) سوراخ شدگی (۴) خراشیدگی

۸- بسیاری از تشنج ها خود به خود محدود شونده هستند و اغلب ..... طول میکشند. (iranarze.ir)

- (۱) ۲ تا ۳ دقیقه (۲) ۱ تا ۲ دقیقه (۳) ۳ تا ۴ دقیقه (۴) ۱ تا ۳ دقیقه

۳۹- تشنج های ناشی از تب در چه سنینی شایع ترند؟ (iranarze.ir)

- (۱) در نوزادان بین ۶ ماه تا یکسال (۲) در نوجوانان ۱۲ تا ۱۴ سال

- (۳) در کودکان بین ۶ ماه تا ۶ سال (۴) در بزرگسالان ۴۰ تا ۶۰ سال

۴۰- کدام اقدام در مورد بیمار درحال تشنج اقدام نادرستی محسوب میشود؟ (iranarze.ir)

- (۱) انجام CPR درحالی که بیمار تنفس و حرکت دارد

- (۲) دور کردن اشیا خطرناک از اطراف بیمار

۳) بازکردن لباس های بیمار

۴) قراردادن بیمار در وضعیت بهبود

۴۱- شناخت پیچیدگی های سازمان کدام بعد از ابعاد ۳ گانه مدیریت به شمار میرود؟ (iranarze.ir)

۱) بعد فنی      ۲) بعد انسانی      ۳) بعد ادراکی      ۴) بعد معنوی

