

سوالات استخدامی

شرکت صنایع پتروشیمی کرمانشاه

توضیحات:

- ویژه آزمون پتروشیمی کرمانشاه
- شامل ۱۱۶ سوال
- کد محصول: es۸۲۵
- با قابلیت پرینت

برای دانلود رایگان جدیدترین سوالات استخدامی شرکت صنایع پتروشیمی کرمانشاه، اینجا بزنید

همچنین جهت مشاهده آخرین اخبار استخدامی شرکت صنایع پتروشیمی کرمانشاه، اینجا بزنید

« انتشار یا استفاده غیر تجاری از این فایل، بدون حذف لوگوی ایران عرضه، مجاز می باشد »



فهرست مطالب (برای مراجعه به هر بخش، روی عنوان بزنید)

- ❖ فصل اول: اطلاعات عمومی رایانه - صفحه ۲
- ❖ فصل دوم: زبان انگلیسی عمومی - صفحه ۷
- ❖ فصل سوم: هوش و توانمندی ذهنی - صفحه ۱۲

۱۰ سوال اول این بخش با پاسخنامه تشریحی می باشد که به عنوان نمونه زده شده است. در صورت تمایل به دریافت جواب تشریحی سوالات فصل های ۱، ۲ و ۳ می بایستی این محصول را از سایت ایران عرضه خریداری نمایید.

فصل اول: اطلاعات عمومی رایانه

۱- کدام یک از اصطلاحات زیر در نرم افزار اکسس با بقیه متفاوت است؟

(iranarze.ir) (دهمین آزمون فراگیر دستگاه های اجرایی خرداد ۱۴۰۲) (مجری جهاد دانشگاهی)

report (۱) query (۲) form (۳) table (۴)

پاسخ سایت ایران عرضه: گزینه ۴

اصطلاح table به معنی جدول برای وارد کردن و نگه داری اطلاعات در پایگاه داده میباشد. در حالی که گزینه های Query, Form و Report برای بررسی و پردازش داده های موجود در table از پایگاه داده به کار میروند.

۲- relationships در نرم افزار اکسس، چه کاربردی دارد؟

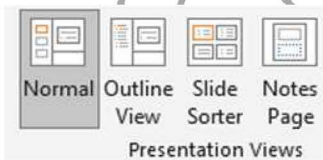
(iranarze.ir) (دهمین آزمون فراگیر دستگاه های اجرایی خرداد ۱۴۰۲) (مجری جهاد دانشگاهی)

(۱) نحوه ارتباط بین جداول یک دیتابیس با دیتابیس دیگر را نشان می دهد (۲) نحوه ارتباط بین جداول یک دیتابیس را نشان می دهند.
(۳) نحوه ارتباط بین فرم ها و جداول یک دیتابیس را نشان می دهد (۴) نحوه ارتباط بین فیلدهای متفاوت یک جدول را نشان میدهد

پاسخ سایت ایران عرضه: گزینه ۲

گزینه relationship برای برقراری ارتباط در بین جدول هایی با یک یا چندین رکورد مشترک که در یک دیتابیس قرار دارند به کار میروند. (تهیه شده توسط ایران عرضه)

۳- در تصویر روبرو، نحوه نمایش یک فایل power point در منوی view آمده است. کدام گزینه برای جابه جایی و زمان بندی اسلایدها استفاده می شود؟



Normal (۱) Outline view (۲) slide sorter (۳) notes page (۴)

(iranarze.ir) (وزارت بهداشت مهر ۱۴۰۲) (مجری جهاد دانشگاهی)

پاسخ سایت ایران عرضه: گزینه صحیح وجود ندارد

بخش مورد نظر نشان دهنده انواع نحوه نمایش های یک فایل پاورپوینت میباشد. در سه مورد از چهار مورد ذکر شده در گزینه ها میتوان با استفاده از سربرگ transition و گزینه advance slide زمانبندی اسلاید ها را انجام داد و نوع جابجایی بین اسلاید ها را دستخوش تغییرات مورد نظر کرد. تنها در گزینه note pages این عمل ممکن نمیشود، پس احتمالاً روی سوال اشتباه می باشد. لذا در صورتی که فعل موجود در صورت سوال به فرم استفاده نمیشود باشد گزینه ۴ صحیح تلقی میشود.

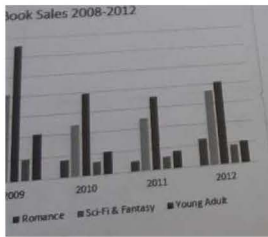
۴- کلیدهای ترکیبی Ctrl+ M در power point چه عملی را انجام می دهد؟ (iranarze.ir) (وزارت بهداشت مهر ۱۴۰۲) (مجری جهاد دانشگاهی)

(۱) ایجاد اسلاید جدید (۲) کپی ساختن از اسلاید انتخاب شده (۳) ایجاد یک سند جدید پاورپوینت (۴) شروع نمایش اسلایدهای پاورپوینت

پاسخ سایت ایران عرضه: گزینه ۱

برای ایجاد یک اسلاید جدید در پاورپوینت میتوانیم از دو روش اقدام کنیم. در اولین روش از گزینه new slide موجود در سربرگ Home و در دومین روش از کلید ترکیبی Ctrl + M استفاده میشود. برای ایجاد کپی اسلایدی که در آن قرار داریم یا آن را انتخاب کرده ایم از گزینه های duplicate slide و یا کلید های Ctrl + D استفاده میکنیم. برای ساخت یک سند جدید در پاورپوینت از کلید Ctrl + N و همچنین برای شروع نمایش اسلاید ها از کلید F5 استفاده میکنیم

۵- شکل زیر یک نمودار در نرم افزار Excel ۲۰۱۳ را نشان می دهد تعداد Data Series در این نمودار چند عدد است؟



(iranarze.ir) (بانک ملی اردیبهشت ۱۴۰۲) (مجری سنجش)

۲۵ (۱) ۵ (۲) ۸ (۳) ۱۰ (۴)

پاسخ سایت ایران عرضه: گزینه ۲

تعداد سری های داده ها در این نوع نمودار در نرم افزار اکسل برابر تعداد ستون های موجود در هر دسته سالی میباشد. تعداد ستون ها برابر ۵ عدد میباشد لذا ۵ سری داده در این نمودار به کار رفته است.

۶- نرم افزار ACCESS ۲۰۱۶ جزو کدام دسته قرار دارد؟ (iranarze.ir) (بانک ملی اردیبهشت ۱۴۰۲) (مجری سنجش)

۱) پردازشگر متن ۲) ارائه مطالب ۳) ذخیره اسناد ۴) پایگاه داده ها

پاسخ سایت ایران عرضه: گزینه ۴

نرم افزار اکسس (Access) یکی از نرم افزار های مجموعه مایکروسافت آفیس است که برای ایجاد پایگاه داده های رابطه ای مورد استفاده قرار می گیرد.

۷- ابزار compare برای مقایسه دو سند Word ۲۰۱۶ استفاده می شود. کدام مورد در خصوص مغایرت در دو سند، کدام مورد توسط این ابزار قابل تشخیص

نیست؟ (iranarze.ir) (وزارت نفت اردیبهشت ۱۴۰۲) (مجری سنجش)

۱) Document Property ۲) white Spaces ۳) Case changes ۴) Formatting

پاسخ سایت ایران عرضه: گزینه ۱

در مقایسه دو سند در نرم افزار WORD در تنظیمات این مقایسه میتوان گزینه هایی که نیاز به مقایسه دارند را تیک زد که document property جزو این گزینه ها نیست. از دیگر مواردی که میتوان در مورد آنها مقایسه انجام داد میتوان به headers and footers, comments, Tables و textboxes اشاره کرد.

۸- در نرم افزار Word ۲۰۱۶ در صورتی که سند شما باید از استاندارد APA برای درج مراجع پیروی کند، کدام مورد برای اعمال فرمت این استاندارد کاربرد

دارد؟ (iranarze.ir) (وزارت نفت اردیبهشت ۱۴۰۲) (مجری سنجش)

۱) ایجاد سبک مورد نظر بر اساس فرمت اعلام شده و اضافه کردن آن به گروه Citation & Bibliography

۲) ایجاد سبک مورد نظر بر اساس فرمت اعلام شده و اضافه کردن آن به گروه Style

۳) انتخاب سبک مورد نظر در Citation & Bibliography

۴) انتخاب سبک مورد نظر در Style

پاسخ سایت ایران عرضه: گزینه ۳

سبک رفرنس نویسی APA (American Psychological Association) یکی از انواع سبک های رفرنس نویسی میباشد که میتوان این سبک را با استفاده از گزینه style موجود در گروه

citation & bibliography در سربرگ references از بین چندین سبک رفرنس نویسی انتخاب کرد

۹- کدام یک از توابع زیر در نرم افزار Excel ۲۰۱۶، بر روی مقادیر عددی استفاده می شود؟

(iranarze.ir) (نهمین آزمون فراگیر دستگاه های اجرایی مشترک با آموزش و پرورش گروه اول تیر ۱۴۰۱) (مجری سنجش)

UPPER (۴) LOWER (۳) PROPER (۲) SUMIF (۱)

پاسخ سایت ایران عرضه: گزینه ۱

تابع SUMIF یکی از توابع ریاضی نرم افزار اکسل میباشد که داده های موجود در سلول هایی که شرایط مطابق با معیار شرط را دارند را جمع میکند. عملکرد دیگر توابع عبارت است از: تابع PROPER حرف اول هر کلمه را از یک رشته ی متنی به حرف بزرگ تبدیل میکند، تابع LOWER متن را به حروف کوچک تبدیل میکند و تابع UPPER متن را به حروف بزرگ تبدیل میکند.

۱۰- شکل زیر بخشی از یک کاربرگ را در نرم افزار Excel ۲۰۱۶ نشان می دهند با در نظر داشتن داده های موجود مهمترین نمودار برای نمایش رشد جذب دانشجو در مقاطع گفته شده کدام است؟

(iranarze.ir) (نهمین آزمون فراگیر دستگاه های اجرایی مشترک با آموزش و پرورش گروه اول تیر ۱۴۰۱) (مجری سنجش)

	A	B	C	D
۱		2014	2016	2017
۲	Bs.d	5	6	9
۳	Ms.d	4	6	7
۴	Phd	2	4	8

Rader (۱) Pie (۲) line (۳) Area (۴)

پاسخ سایت ایران عرضه: گزینه ۳

از نمودار خطی برای مقایسه میزان رشد بین چندین نوع داده که دارای مقادیر متفاوت در بازه های یکسان هستند استفاده میشود.

۱۱- در نرم افزار Excel ۲۰۱۶، حاصل کدام تابع زیر با پارامتر ورودی آن متفاوت است؟

(iranarze.ir) (نهمین آزمون فراگیر دستگاه های اجرایی مشترک با آموزش و پرورش گروه اول پنج ۱۴۰۱) (مجری سنجش)

ABS(۴) (۱) ABS(۴,۵) (۲) ABS(-۲) (۳) ABS(۴,۲) (۴)

۱۲- در نرم افزار Excel ۲۰۱۶، نتیجه عبارت ۲**۳ در یک سلول که فرمت آن General است کدام می باشد؟

(iranarze.ir) (نهمین آزمون فراگیر دستگاه های اجرایی مشترک با آموزش و پرورش گروه اول پنج ۱۴۰۱) (مجری سنجش)

۸ (۱) ۶ (۲) #VALUE! (۳) ۲۰۰۰ (۴)

۱۳- در نرم افزار excel ۲۰۱۶ ابزار Sort بر روی کدام مورد اعمال میشود؟

(iranarze.ir) (نهمین آزمون فراگیر دستگاه های اجرایی مشترک با آموزش و پرورش گروه اول شش ۱۴۰۱) (مجری سنجش)

(۱) داده های موجود در سلول ها و شماره آنها (۲) شماره سلول ها (۳) فرمول های موجود در سلول ها (۴) داده های موجود در سلول ها

۱۴- در حالت استاندارد (پیش فرض) کدام مورد زیر برای نام یک سلول در نرم افزار excel ۲۰۱۶ صحیح است؟

(iranarze.ir) (نهمین آزمون فراگیر دستگاه های اجرایی مشترک با آموزش و پرورش گروه اول شش ۱۴۰۱) (مجری سنجش)

۲B۳۱ (۱) ۲F (۲) D۱۳ (۳) D۲B (۴)

۱۵- با کدام گزینه، می توان جدول رسم کرد؟ (iranarze.ir) (بانک ملت دی ۱۴۰۱) (ایران آزمون)

(۱) سربرگ Home ، گروه Table ، دکمه Font (۲) سربرگ Insert ، گروه Table ، دکمه Insert Table

(۳) سربرگ Insert ، گروه Illustrations ، دکمه Chart (۴) سربرگ View ، گروه Document view ، دکمه Print Layout

۱۶- در ورد برای تقسیم یک خانه به چند خانه از کدام فرمان استفاده می شود؟ (iranarze.ir) (بانک ملت دی ۱۴۰۱) (ایران آزمون)

Split Cell (۱) Split Table (۲) Convert (۳) Hide Gridlines (۴)

۱۷- از کلیدهای ترکیبی Alt + F۴ به چه منظور استفاده می شود؟ (iranarze.ir) (بانک مهر ایران اسفند ۱۴۰۱) (مجری ایران آزمون)

(۱) برای ایجاد یک سند جدید (۲) برای خروج از یک سند جدید (۳) برای بستن یک سند و خروج از برنامه (۴) گزینه ۲ و ۳

۱۸- اعمال کدام مورد به فایل، باعث عدم امکان تغییر محتوای آن می شود؟ (iranarze.ir) (بانک مهر ایران اسفند ۱۴۰۱) (مجری ایران آزمون)

Hidden (۱) Write Protect (۲) Advance (۳) Read only (۴)

۱۹- کدام گزینه کاربرد اصلی اکسل نیست؟ (ایرانارزه.ir) (بانک رفاه ۱۴۰۱)

(۱) تهیه دفاتر حسابداری (۲) انجام امور نشر رومیزی و تایپ (۳) تهیه نمودار گرافیکی (۴) فاکتور فروش

۲۰- جهت ادغام سلولها از کدام گزینه استفاده میشود؟ (ایرانارزه.ir) (بانک رفاه ۱۴۰۱)

(۱) Wrap Text (۲) Justify (۳) Merge Cells (۴) Shrink To Fit

۲۱- واحد سرعت انتقال داده در شبکه اینترنت، کدام است؟ (ایرانارزه.ir) (شرکت کار و تامین مهر ۱۴۰۱) (مجری سنجش)

(۱) Mpps (۲) hps (۳) ppm (۴) bps

۲۲- ایمیلی که از طریق نرم افزار Microsoft Outlook به آدرس info@sanjesh.org ارسال شده است کدام مورد در

خصوص این ایمیل در سمت گیرنده، صحیح است؟ (ایرانارزه.ir) (شرکت کار و تامین مهر ۱۴۰۱) (مجری سنجش)

(۱) این ایمیل، با ایمیل های دیگر، هیچ تفاوتی ندارد

(۲) این ایمیل، در پوشه ای جدا از ایمیل های دیگر، متمایز می شود.

(۳) در موضوع (Subject) این ایمیل می توان تشخیص داد که از طریق نرم افزار Outlook ارسال شده است.

(۴) در امضای (Signature) این ایمیل، می توان تشخیص داد که از طریق نرم افزار Outlook ارسال شده است.

۲۳- کدام گزینه با ابزار Draw Table امکان پذیر نیست؟ (ایرانارزه.ir) (تامین اجتماعی مهر ۱۴۰۱) (مجری سنجش)

(۱) می توان سلول به جدول اضافه کرد (۲) می توان خطوط مورب اضافه کرد

(۳) می توان برای جدول حاشیه ایجاد کرد (۴) می توان از قبل تعداد سلول ها را وارد کرد یا مشخص کرد

۲۴- با ایجاد جدول کدام سربرگ جدید ایجاد می شود؟ (ایرانارزه.ir) (تامین اجتماعی مهر ۱۴۰۱) (مجری سنجش)

(۱) Chart tools (۲) Table tools (۳) Insert tools (۴) Draw tools

۲۵- به منظور رفتن تایپ به خط بعد و تشکیل نشدن پاراگراف جدید از کدام یک استفاده می شود؟

(ایرانارزه.ir) (بانک ملت سال ۱۴۰۰) (مجری ایران آزمون)

(۱) Enter (۲) Shift+Enter (۳) Ctrl+Enter (۴) Alt+Enter

۲۶- برای گذاشتن نقطه نظرات و پیشنهادات بر روی متن تایپ شده از کدام گزینه استفاده می شود؟

(ایرانارزه.ir) (بانک ملت سال ۱۴۰۰) (مجری ایران آزمون)

(۱) Comment (۲) Footnote (۳) Track Changes (۴) Caption

۲۷- در نرم افزار Excel ۲۰۱۶ تابع قدر مطلق کدام است؟ (ایرانارزه.ir) (بانک تجارت تیر ۱۴۰۰)

(۱) ABS(number ۱ , number ۲) (۲) ACOS(number ۱ , number ۲) (۳) ABS(number) (۴) ACOS(number)

شکل زیر، بخشی از یک کاربرگ را در نرم افزار Excel نشان می دهد،

۲۸- حاصل سلول D۲، کدام است؟ (ایرانارزه.ir) (بانک تجارت تیر ۱۴۰۰)

(۱) #NAME?

(۲) Pass

(۳) #Value!

(۴) Fail

	A	B	C	D	E	F	G	H
۱	name	score 1	score 2	results				
۲	richard	93	80					
۳	jennifer	60	91	pass				
۴	james	58	75	fail				
۵	lisa	79	94	pass				
۶	sharon	41	33	fail				
۷								

۲۹- حاصل تابع (TRUE) N در نرم افزار Excel ۲۰۱۳، کدام است؟

(iranarze.ir) (هشتمین آزمون فراگیر دستگاه های اجرایی مشترک با آموزش و پرورش آبان ۱۳۹۹) (مجری سنجش)

(۱) # NAME? (۲) ۰ (۳) ۱ (۴) # VALUE!

۳۰- در نرم افزار Excel ۲۰۱۳، خط کش (Ruler) در کدام View زیر، فعال می شود؟

(iranarze.ir) (هشتمین آزمون فراگیر دستگاه های اجرایی مشترک با آموزش و پرورش آبان ۱۳۹۹) (مجری سنجش)

(۱) Normal (۲) Web Layout (۳) Reading Layout (۴) Page Layout

۳۱- شکل زیر، بخشی از یک کاربرگ در نرم افزار EXCEL ۲۰۱۳ را نشان می دهد. حذف ردیف ۴ در این کاربرگ، باعث کدام تغییر در مقدار سلول C۱ می شود؟

	A	B	C	D	E
۱	۱	۱			
۲	۱	۱			
۳	۱	۱			
۴	۱	۱			

(iranarze.ir) (وزارت بهداشت مهر ۱۳۹۹ سری D۲۰۰) (مجری سنجش)

(۱) خطای RELL رخ می دهد (۲) مقدار آن برابر با ۶ می شود

(۳) مقدار آن بدون تغییر باقی می ماند (۴) خطای VALUE! رخ می دهد

۳۲- با استفاده ترکیبی از توابع SUM و COUNT کدام یک از توابع زیر را می توان در نرم افزارهای EXCEL ۲۰۱۶ ساده سازی کرد؟

(iranarze.ir) (وزارت بهداشت مهر ۱۳۹۹ سری D۲۰۰) (مجری سنجش)

(۱) TRUE (۲) CONCAHNAH (۳) MAX (۴) AVERAGE

۳۳- در جستجوی گوگل، کدام جمله زیر تعریف صحیح از عملگرهای جستجو را ارائه می دهد؟

(iranarze.ir) (علوم پزشکی سال ۱۳۹۹ نوبت عصر) (مجری سنجش)

(۱) عملگر OR: محدود کننده میزان بازیابی

(۲) عملگر OR نسبت به AND میزان بازیابی بیشتری دارد

(۳) عملگر AND: گسترش دهنده میزان بازیابی

(۴) عملگر AND نسبت به OR میزان بازیابی بیشتری دارد

۳۴- یک تقویم که بر روی دسکتاپ نمایش داده می شود و قابلیت تغییر دارد یک است.

(iranarze.ir) (علوم پزشکی سال ۱۳۹۹ نوبت عصر) (مجری سنجش)

(۱) Icon (۲) Thumbnail (۳) Gadget (۴) Action

۳۵- در صورت خراب شدن یا بیرون آوردن باتری روی مادربرد یک کامپیوتر رومیزی، چه اتفاقی می افتد؟

(iranarze.ir) (کار و تامین سال ۱۳۹۹)

(۱) خاموش شدن سیستم (۲) پاک شدن همه اطلاعات روی هارد دیسک

(۳) به هم ریختن ساعت کامپیوتر (۴) کامپیوتر رومیزی باتری ندارد

۳۶- از کدام یک از وسایل زیر، برای boot کردن یک کامپیوتر رومیزی استفاده نمیشود؟ (iranarze.ir) (کار و تامین سال ۱۳۹۹)

(۱) CD (۲) flash (۳) HDD (۴) Motherboard

۳۷- مقدار عبارت زیر کدام است؟ (بانک سینا سال ۱۳۹۸) (iranarze.ir)

	A	B	C	D	E
۱		word	excel	access	windows
۲	amir	۱۵	۷	۱۲	۱۸
۳	ali	۱۹	۱۳	۱۵	۱۸
۴	negar	۸	۱۲	۵	۱۵
۵	ehsan	۱۳	۱۸	۱۶	۱۴
۶	kazem	۳	۸	۱۲	۵

$$=(\text{Min}(B2:E6) + \text{Max}(B2:E6))/2$$

۱) ۱۱ (۲) ۱/۵

۳) ۹/۵ (۴) ۲۲

۳۸- کدام یک از تعاریف زیر یا عبارات مطابقت دارد؟ (بانک سینا سال ۱۳۹۸) (iranarze.ir)

۱) Field (به هر ستون از جدول گفته میشود) ۲) Table (به مجموعه‌ای از چند فیلد گفته می‌شود)

۳) Record به مجموعه‌ای از چند فیلد گفته می‌شود ۴) همه موارد

۳۹- اگر بر روی یک آیکون کلیک کرده و دکمه چپ ماوس را رها نکنیم و آن را به سمت دلخواه خود بکشیم و سپس مجدداً کلید سمت چپ را رها کنیم چه

عملی انجام داده ایم؟ (بانک مهر ایران مرداد ۱۳۹۸)

۱) Drag and Drop ۲) Double Click ۳) Tool Bar ۴) Click

۴۰- برای ارسال یک پیام به چندین گیرنده در بین آدرس آن‌ها از چه علامتی استفاده می‌شود؟ (بانک مهر ایران مرداد ۱۳۹۸)

۱) . ۲) , ۳) : ۴) @

فصل دوم: زبان انگلیسی عمومی

1- they'd only known each other for two month, they got engaged.

(iranarze.ir) (دهمین آزمون فراگیر دستگاه‌های اجرایی خرداد ۱۴۰۲) (مجری جهاد دانشگاهی)

۱) despite ۲) even though ۳) in spite of ۴) even if

۲- I've decided that to my boss about the situation.

(iranarze.ir) (prepared by iranarze.ir) (دهمین آزمون فراگیر دستگاه‌های اجرایی خرداد ۱۴۰۲) (مجری جهاد دانشگاهی)

۱) speak ۲) I'm going to speak ۳) I'll speak ۴) I'm having

۳- Choose the correct passive sentence. "they cancelled all flights because of fog.

(وزارت بهداشت مهر ۱۴۰۲) (مجری جهاد دانشگاهی) (iranarze.ir)

۱) All flights have been cancelled because of fog. ۲) All flights were cancelled because of fog.
۳) All flights are cancelled because of fog. ۴) All flights are being cancelled because of fog.

۴- They threw a rock The window and broke the glass.

(وزارت بهداشت مهر ۱۴۰۲) (مجری جهاد دانشگاهی) (iranarze.ir)

۱) into ۲) through ۳) across ۴) along

۵- the athlete avoids sweets and starchy foods so that he can keep his weight down

(بانک ملی اردیبهشت ۱۴۰۲) (مجرى سنجش) (iranarze.ir)

- ۱) promptly ۲) purposefully ۳) consequently ۴) frankly

۶- certain chemicals should be banned since they are to the environment.

(بانک ملی اردیبهشت ۱۴۰۲) (مجرى سنجش) (iranarze.ir)

- ۱) continuous ۲) ambiguous ۳) adventurous ۴) hazardous

۷- According to the passage, the longest drill hole for oil recovery until February ۲۰۰۸ was

(وزارت نفت اردیبهشت ۱۴۰۲) (مجرى سنجش) (iranarze.ir)

- ۱) ۱۱۰۰۰ m ۲) ۲۵۰۰ m ۳) ۵۰۰۰ m ۴) ۱۱۶۸۰ m

۸- The word "it" in paragraph ۲ refers to

(وزارت نفت اردیبهشت ۱۴۰۲) (مجرى سنجش) (iranarze.ir) (prepared by iranarze.ir)

- ۱) the Chayvo oil field ۲) the coast ۳) oil recovery ۴) the course

۹- All students are expected to their term project by the end of this month.

(نهمین آزمون فراگیر دستگاه های اجرایی مشترک با آموزش و پرورش پنج تیر ۱۴۰۱) (مجرى سنجش) (iranarze.ir)

- ۱) survey ۲) submit ۳) sustain ۴) suspect

۱۰- We must try to the country's wealth so that we help those who need it most.

(نهمین آزمون فراگیر دستگاه های اجرایی مشترک با آموزش و پرورش پنج تیر ۱۴۰۱) (مجرى سنجش) (iranarze.ir)

- ۱) distribute ۲) attribute ۳) compensate ۴) eliminate

۱۱- One important Indicator of quality of life is the proportion of one has to spend in order to buy food.

(نهمین آزمون فراگیر دستگاه های اجرایی مشترک با آموزش و پرورش شش تیر ۱۴۰۱) (مجرى سنجش) (iranarze.ir)

- ۱) authority ۲) precision ۳) priority ۴) income

۱۲- Websites which allow user to download new books have been accused of copyright law.

(نهمین آزمون فراگیر دستگاه های اجرایی مشترک با آموزش و پرورش شش تیر ۱۴۰۱) (مجرى سنجش) (iranarze.ir)

- ۱) undergoing ۲) violating ۳) undertaking ۴) discriminating

۱۳- I like to visit other countries but I find the of travel is too high.

(بانک ملت دی ۱۴۰۱) (ایران آزمون) (iranarze.ir)

- ۱) money ۲) cost ۳) expenses ۴) currency

۱۴- they did only had my computer for three weeks when I had to have the hard drive.....

(بانک ملت دی ۱۴۰۱) (ایران آزمون) (iranarze.ir)

- ۱) processed ۲) restored ۳) retakes ۴) revived

۱۵- Controlling your fear and practicing some skills in public speaking can bring you

(بانک مهر ایران اسفند ۱۴۰۱) (مجری ایران آزمون) (iranarze.ir)

- ۱) rank ۲) contact ۳) focus ۴) success

۱۶- He is completely He won't tell you lies.

(بانک مهر ایران اسفند ۱۴۰۱) (مجری ایران آزمون) (iranarze.ir)

- ۱) strong ۲) attractive ۳) trustworthy ۴) relaxed

Part B: Reading Comprehension

Directions: Read the following passage and select the choice (۱), (۲), (۳), or (۴) that best answers each question. Then mark your answer on your answer sheet.

Are you healthy? Before answering, think about what you understand by "health". It doesn't just mean freedom from disease. Health is a measure of how sound and vigorous both your body and mind are. A truly healthy person has a sense of physical and mental well-being. Our health is precious and easily damaged. But there is much we can do to maintain it. Eating well, exercising, and getting enough sleep all help keep us healthy. Standards of health and health hazards are different from place. In some parts of the world, many people have many health problems because they are poor, hungry, and without clean drinking water. In other places, stress at work, lack of exercise, and too much food bring their own health problems, such as heart disease.

Food plays a large part in our health. A healthy diet includes fresh fruit and vegetables, meat, fish, bread, eggs, and milk, but not too many fatty, salty, or sugary. Good health also depends on regular exercise because it keeps us fit. Regular exercise improves blood circulation. Makes the heart and lungs work well, and keeps us strong and toned. It is good for the brain as well as the body. And makes on feet in start and a cool-down sequence at the end to prevent strain on muscles.

۱۷- The word "they" in paragraph ۱ refers to

(شرکت کار و تامین مهر ۱۴۰۱) (مجری سنجش) (iranarze.ir)

- ۱) people ۲) health hazards ۳) parts of the world ۴) health problem

۱۸- The passage mentions all of the following as sources of health problem

(شرکت کار و تامین مهر ۱۴۰۱) (مجری سنجش) (iranarze.ir)

- ۱) lack of clean drinking water ۲) stress at work ۳) too much eating ۴) smoking

۱۹- English is spoken in most of the countries of the world. It is in fact considered an language.

(بانک ملت سال ۱۴۰۰) (مجری ایران آزمون) (iranarze.ir)

- ۱) industrial ۲) independent ۳) technological ۴) international

۲۰- Our class is twelve boys and eight girls.

(بانک ملت سال ۱۴۰۰) (مجری ایران آزمون) (iranarze.ir)

- ۱) provided with ۲) composed of ۳) concerned with ۴) full of

۲۱- The words spots in paragraph ۳ is similar in meaning to

(بانک تجارت تیر ۱۴۰۰) (iranarze.ir)

- ۱) views ۲) locations ۳) buildings ۴) attractions

۲۲- The paragraph following the passage will most probably talk about.....

(بانک تجارت تیر ۱۴۰۰) (iranarze.ir)

- ۱) the ferris wheel ۲) tourist attractions of London
۳) photographs of the beautiful city scape ۴) Helen and Nancy trip Buckingham Palace

۲۳- out of school as a teenager. Maurice decided later in life up his education where he had left off.

(مجرى جهاد دانشگاهى) (قوه قضاييه اسفند ۱۴۰۰) (iranarze.ir)

- ۱) being dropped/took ۲) having dropped/to take
۳) to drop/taking ۴) dropped/being taken

۲۴- When for olive oil, "refined" means that the oil chemically to neutralize acid content.

(مجرى جهاد دانشگاهى) (قوه قضاييه اسفند ۱۴۰۰) (iranarze.ir)

- ۱) using/ will have treated ۲) to use/ will be treated
۳) uses/ is being treated ۴) used/ has been treated

۲۵- Unfortunately, the software i saw in the store is not

(وزارت بهداشت مهر ۱۳۹۹ سری D۲۰۰) (مجرى سنجش) (iranarze.ir)

- ۱) Fundamental ۲) Compatible ۳) Predominant ۴) Meticulous

۲۶- Snakes hears things by picking up the vibrations of sound waves with their flicking tongues.

(وزارت بهداشت مهر ۱۳۹۹ سری D۲۰۰) (مجرى سنجش) (iranarze.ir)

- ۱) rationally ۲) consequently ۳) mutually ۴) constantly

۲۷ -Unfortunately, the new book failed to satisfy the..... Of the readers. (prepared by iranarze.ir)

(علوم پزشکی سال ۱۳۹۹ نوبت صبح) (مجرى سنجش) (iranarze.ir)

- ۱) offers ۲) masterpiece ۳) affairs ۴) expectation

۲۸- You can ask Ms. Smith all your question. She is very.....and informed.

(علوم پزشکی سال ۱۳۹۹ نوبت صبح) (مجرى سنجش) (iranarze.ir)

- ۱) reluctant ۲) knowledgeable ۳) aggressive ۴) ignorant

۲۹- In this week's column, I you some tips on how to perform this most enjoyable activity.

(کار و تامین سال ۱۳۹۹) (iranarze.ir)

- a) am going to give b) will give c) given d) have given

۳۰- Bargaining is a ritual for centuries.

(iranarze.ir) (کار و تامین سال ۱۳۹۹)

- a) exists b) has existed c) existed d) have existed

Read the following passage and answer questions ۱۰۶-۱۰۹.

Boston

Boston is the capital of the state of Massachusetts, about ۲۰۰ miles north of New York city on the Atlantic Ocean. About ۵۵۰,۰۰۰ people live in the city. Boston is one of the oldest and most historically important cities in North America, and was founded in ۱۶۳۰. Boston is known for its fine universities, beautiful architecture, and delicious sea food. Boston college is a major university in this city.

BC is one of the oldest and largest university in the united states.

۳۱- Boston college is a..... university in this city.

(iranarze.ir) (بانک سینا سال ۱۳۹۸)

- ۱) small ۲) major ۳) long ۴) careful

۳۲- Boston is in.....

(iranarze.ir) (بانک سینا سال ۱۳۹۸)

- ۱) Melbourne ۲) South America ۳) North America ۴) America

۳۳- A bank may choose to one's education with a loan, but one will have to pay them back later.

(iranarze.ir) (هشتمین آزمون فراگیر دستگاه های اجرایی مشترک با آموزش و پرورش آبان ۱۳۹۹) (مجرى سنجش)

- ۱) exhibit ۲) indicate ۳) finance ۴) restore

۳۴- Many employees have the opportunity to shares in the company they work for.

(iranarze.ir) (هشتمین آزمون فراگیر دستگاه های اجرایی مشترک با آموزش و پرورش آبان ۱۳۹۹) (مجرى سنجش)

- ۱) purchase ۲) predict ۳) presume ۴) prohibit

۳۵- According to doctors, exercise and good diet are the means of living a life.

(iranarze.ir) (بانک مهر ایران مرداد ۱۳۹۸)

- ۱) worried ۲) healthy ۳) skilled ۴) rapid

۳۶- My classmates and i try to a close friendship that can last for years in the future.

(iranarze.ir) (بانک مهر ایران مرداد ۱۳۹۸)

- ۱) allow ۲) educate ۳) build ۴) value

۳۷- In the future, you may only to buy one book.

(iranarze.ir) (نیروی انتظامی بهمن ۱۳۹۸)

- ۱) deed ۲) Read ۳) need ۴) lead

۳۸- There are a number of reasons why computers won't books entirely.

(نیروی انتظامی بهمن ۱۳۹۸) (iranarze.ir)

۱) use ۲) Replace ۳) destroy ۴) try

فصل سوم: هوش و توانمندی ذهنی

* برای پاسخ به سوالات ۱ و ۲ از متن زیر استفاده کنید.

هشت داوطلب در یک آزمون ورودی شرکت کرده اند. در مورد نتایج این افراد که آن ها را با حروف S, T, U, V, W, X, Y, Z نشان می دهیم. اطلاعات زیر در دست است.

(۱) هیچ یک از داوطلبان نمره مساوی با داوطلب دیگر نداشته است.

(۲) فرد S نمره ای بالاتر از فرد Z بدست آورده است.

(۳) فقط نمره یک فرد بین نمره دو داوطلب T و X قرار گرفته است.

(۴) فرد Y درست یک رتبه پایین تر از فرد U است.

(۵) فرد V و Y هر دو زتبه ای بهتر از فرد S بدست آورده اند.

(۶) فرد W بالاترین نمره (رتبه اول) را بدست آورده است.

۱- اگر فرض کنیم فرد V رتبه ای کمتر از فرد T بدست آورده باشد، کدام فرد باید در رتبه هفتم قرار داشته باشد؟

(iranarze.ir) (دهمین آزمون فراگیر دستگاه های اجرایی خرداد ۱۴۰۲) (مجری جهاد دانشگاهی)

T (۱) X (۲) S (۳) V (۴)

۲- در صورتی که رتبه ی چهارم و پنجم به ترتیب به افراد X و U تعلق گرفته باشد، رتبه ی دوم متعلق به کدام فرد می تواند باشد؟

(iranarze.ir) (دهمین آزمون فراگیر دستگاه های اجرایی خرداد ۱۴۰۲) (مجری جهاد دانشگاهی)

T (۱) V (۲) S (۳) Y (۴)

۳- دانش آموزان دبیرستانی که احساس می کنند در مدرسه موفق نیستند، اغلب قبل از فارغ التحصیلی ترک تحصیل می کنند و سرکار میروند. این در حالی

است که در سال جاری، میزان ترک تحصیل در دبیرستان شهر «الف» به میزان قابل توجهی، کمتر از سال قبل بوده است. این نشانه دلگرم کننده ای است که

نشان می دهد برنامه ای که از دو سال پیش برای بهبود روحیه دانش آموزان دبیرستانی راه اندازی شد، برای کاهش ترک تحصیل موثر واقع شده است.

کدام مورد، در صورتی که صحیح فرض شود، ادعای متن راجع به تاثیر برنامه دو ساله برای بهبود روحیه را تضعیف می کند؟

(iranarze.ir) (دبیری و هنرآموز آموزش و پرورش مرداد ۱۴۰۲) (مجری سنجش)

(۱) امسال به دلیل بحران اقتصادی، میزان بیکاری در کل کشور و از جمله شهر «الف» بسیار بالا رفته است

(۲) آمار پایین ترک تحصیلی های هر مدرسه، به تمایل والدین به ثبت نام فرزند خود در آن مدرسه می افزاید

(۳) امسال تعداد دانش آموزانی که در مدارس دیگر هم ترک تحصیل کرده اند، تغییر چشمگیری نسبت به سال های گذشته نداشته است

(۴) درآمدی که دانش آموزان ترک تحصیلی بابت کار خود کسب می کنند، در مقایسه با درآمد افراد سن و سال دار تر که همان کار را می کنند، امسال هم مانند سال های

پیشین، پایین تر است.

۴- آقای «الف» در خصوص مدارس توسعه پایدار گفت: بهبود محیط کسب و کار در گرو تحول نظام آموزشی است. شعار ما در احداث مدارس توسعه پایدار این است که مدرسه، کانون توسعه روستایی است. مدرسه توسعه پایدار، جایی نیست که کودکان در آن تحصیل کنند و بعد رها شوند. مدرسه اگر بخواهد در توسعه نقشی موثر ایفا کند، نباید فقط در خدمت کودکان باشد، بلکه باید تبدیل به محل رفت و آمد و گردهمایی اهالی روستا شده و به کانونی برای آموزش مهارت های زندگی تبدیل شود. به عنوان مثال، ممکن است زنان در روستایی از مسائل بهداشتی آگاهی کافی نداشته باشند. مدرسه توسعه پایدار می تواند مکان مناسبی برای ارائه آموزش های لازم به زنان روستایی باشد تا آنان به سان کودکان خود به مسائل توسعه پایدار آگاه شده و سهم خود در ایجاد آن را اعمال کنند. فرض لازم برای تحقق نتیجه مورد نظر نویسنده، کدام است؟ (iranarze.ir) (دبیری و هنرآموز آموزش و پرورش مرداد ۱۴۰۲) (مجرى سنجش)

۱) حضور مردان در این مدارس، به اندازه زنان مهم است

۲) افراد آنچه را که می آموزند، در عمل به اجرا در خواهند آورد

۳) احداث مدارس توسعه پایدار، آن طور که باید، مورد توجه قرار نگرفته است.

۴) برای کسب نتیجه بهتر، باید در همه مراکز فرهنگی، آموزش مهارت های زندگی مورد توجه قرار گیرد

راهنمایی: برای پاسخگویی به سوال ۵ لازم است موقعیتی را که در سوال مطرح شده، مورد تجزیه و تحلیل قرار دهید و سپس گزینه ای را که فکر میکنید پاسخ مناسب تری برای آن سوال است، انتخاب کنید. سوال را با دقت بخوانید و با توجه به مطالب مطرح شده در سوال و نتایجی که بیان شده و بیان نشده ولی قابل استنتاج است، پاسخی را که صحیح تر به نظر می رسد، و در پاسخنامه علامت بزنید.

۵- از آنجایی که سرما خوردگی و آنفولانزا در زمستان، به مراتب از فصول دیگر سال به ویژه در فصول گرم بیشتر است، بهتر است برای اینکه میزان سرما خوردگی به ویژه نزد کودکان در دبستان ها را کم کنیم، این محیط ها را همیشه گرم نگه داریم و تماس بچه ها با سرما را هرچه بیشتر کاهش دهیم. کدام مورد، در صورتی که صحیح فرض شود، توصیه به عمل آمده در متن را به بهترین شکل تضعیف می کند؟

(iranarze.ir) (آموزگار ابتدایی آموزش و پرورش اردیبهشت ۱۴۰۲) (مجرى سنجش)

۱) بیماری سرما خوردگی در فصول گرم سال هم، یک بیماری نایاب نیست.

۲) برخی تحقیقات که درباره تاثیر گرما بر قدرت بیماری زایی ویروس های سرماخوردگی انجام شده است به نتایج مشخصی رسیده اند.

۳) در فصل سرما، مردم بیشتر کنار هم هستند و لذا امکان سرایت ویروس سرما خوردگی هم زیادتر است

۴) امکان ابتلا به سرماخوردگی در فصول مختلف سال، به یک اندازه نیست.

راهنمایی: اطلاعات زیر را بخوانید و با توجه به آن، به سوال ۶ که در متن زیر آمده است، پاسخ دهید و در پاسخنامه علامت بزنید.

۶ معلم یک مدرسه به اسامی A, C, B, D, E, F در طرح رتبه بندی معلمان شرکت میکنند و بر اساس امتیاز کسب نموده از بیشترین به کمترین، به عنوان نفرات اول تا ششم معرفی می شوند، پس از بررسی امتیازات، هر کدام در یکی از رتبه های دانشیار معلم (نفرات اول و دوم)، استادیار معلم (نفر سوم)، مربی معلم (نفرات چهارم و پنجم) و آموزشیار معلم (نفر ششم) قرار گرفته اند. اطلاعات زیر، در خصوص رتبه و امتیازات این افراد موجود است:

* از لحاظ امتیازی، B نه نفر اول شده است و نه نفر چهارم

* C و D هم رتبه نشده اند، در حالی که F و B هم رتبه شده اند.

* رتبه A از رتبه E بالاتر می شود، در حالی که امتیازاتش از امتیاز D کمتر بوده است.

۶- اگر C به رتبه استادیار معلم رسیده باشد، رتبه چند نفر از ۵ نفر دیگر به طور قطع مشخص می شود؟

(iranarze.ir) (آموزگار ابتدایی آموزش و پرورش اردیبهشت ۱۴۰۲) (مجرى سنجش)

۲ (۴)

۳ (۳)

۵ (۲)

۱ (۱)

۷- قیمت ۵ دفتر، ۳ مداد و ۲ مداد پاک کن روی هم ۵۷۰ هزار تومان شده است. اگر قیمت مداد یک سوم قیمت دفتر و قیمت مداد پاک کن نصف قیمت مداد باشد، (تهیه شده توسط ایران عرضه) قیمت هر دفتر چقدر است؟ (iranarze.ir) (وزارت بهداشت مهر ۱۴۰۲) (مجری جهاد دانشگاهی)

(۱) ۸۰ هزار تومان (۲) ۱۲۰ هزار تومان (۳) ۹۰ هزار تومان (۴) ۶۰ هزار تومان

۸- ۱۰ درصد تخفیف، قیمت فروش یک کالا را ۱۰۰۰ تومان کاهش می‌دهد، اگر پس از تخفیف، فروشنده ۲۰ درصد قیمت خرید سود کرده باشد، قیمت خرید چند تومان بوده است؟ (iranarze.ir) (وزارت بهداشت مهر ۱۴۰۲) (مجری جهاد دانشگاهی)

(۱) ۵۱۰۰ (۲) ۷۵۰۰ (۳) ۷۰۰۰ (۴) ۹۰۰۰

۹- در ۵ تراکنش متوالی، در هر کدام نسبت به قبلی، ۸۰ درصد، مبلغ موجودی حساب کسر شده است. اگر بعد از آخرین تراکنش، ۸۰ تومان باقی مانده باشد، در اولین تراکنش، چند هزار تومان کسر شده است؟ (iranarze.ir) (بانک ملی اردیبهشت ۱۴۰۲) (مجری سنجش)

(۱) ۲۵۰ (۲) ۲۰۰ (۳) ۸۰ (۴) ۵۰

۱۰- مطابق یک بخشنامه، در یکی از شعب بانک ملی، به ازای هر ۴ کارمند مرد دارای ۳ فرزند، ۵ کارمند مرد دارای ۴ فرزند، از تسهیلات کمک هزینه اولاد، استفاده کرده اند. اگر مجموع تعداد فرزندان که پدرشان از این تسهیلات استفاده کرده اند، ۱۶۰ نفر باشد، چند نفر از این فرزندان، پدرشان دارای ۴ فرزند است؟ (iranarze.ir) (بانک ملی اردیبهشت ۱۴۰۲) (مجری سنجش)

(۱) ۲۵ (۲) ۶۰ (۳) ۱۰۰ (۴) ۱۲۰

نیروگاه های زمین گرمایی یا ژئوترمال به واحدهای تبدیل انرژی گفته می شود که انرژی خود را از طریق سیال گرم شده از طریق عبور از میان لایه های پوسته زمین به دست می آورد. اگر نیروگاه های زمین گرمایی را با سایر نیروگاه های انرژی های نو مقایسه کنیم مشاهده می کنیم که نیروگاه های زمین گرمایی به دلیل بالا بودن ضریب دسترسی (۸۵٪ زمان در سال)، در جهان از اهمیت فراوانی برخوردارند و از این نوع نیروگاه ها می توان به عنوان بار پایه شبکه استفاده نمود.

در زیر سطح زمین یک لایه سنگ داغ و مذاب به نام ماگما وجود دارد، که به طور مداوم حرارت در این لایه از مواد رادیواکتیو مانند اورانیوم و پتاسیم تولید می شود. این مقدار حرارت می تواند ۵۰۰۰۰ برابر بیشتر از منابع نفت و گاز انرژی تولید کند. مناطقی که درجه حرارت زمین به دلیل وجود آتشفشان ها و یا نازک بودن پوسته ی زمین بالاست، برای این صنعت مدنظر هستند. حاشیه اقیانوس آرام و حلقه آتشفشان ها را می توان جز بهترین گزینه ها معرفی کرد. از طریق ارتعاشات حاصل از زلزله ها ماگماها، سنگ های گرم و پوسته زمین اجازه حرکت آب به سمت بالا را داده و چشمه های آب گرم را به وجود می آورند، این چشمه ها از طریق حرارت زمین گرم شده و دمایشان تا حدود ۲۰۰ درجه سانتی گراد نیز می رسد.

نیروگاه های زمین گرمایی را با توجه به نوع سیال خروجی از چاه های تولیدی و نیز تجهیزات مورد استفاده در سیکل نیروگاه آن ها را دسته بندی نمود. بر این اساس نیروگاه های زمین گرمایی به سه دسته تقسیم می شوند.

۱۱- کدام مورد، رابطه پاراگراف ۲ در ارتباط با پاراگراف ۱ را به درست ترین وجه نشان می دهد؟

(iranarze.ir) (وزارت نفت اردیبهشت ۱۴۰۲) (مجری سنجش)

(۱) با برشمردن برخی نکات مثبت منبع انرژی توصیف شده در پاراگراف ۱، ظرفیت آن در تولید انرژی را نشان می دهد.

(۲) محدودیت های مرتبط با استفاده از امکان بالقوه ای که در پاراگراف ۱ آمده است را بر می شمرد.

(۳) اطلاعاتی دال بر درستی و عملی بودن ادعای پاراگراف ۱ فراهم می آورد.

(۴) فرآیند تحقق اهداف توصیف شده در پاراگراف ۱ را توصیف می کند.

۱۲- کدام مورد زیر را می توان درباره نیروگاه های زمین گرمایی به درستی از متن استنباط کرد؟

(iranarze.ir) (وزارت نفت اردیبهشت ۱۴۰۲) (مجرى سنجش)

- ۱) این نیروگاه ها، بار پایه شبکه در تمام سال را مهیا می کند.
- ۲) اتلاف انرژی در این نیروگاه ها، زمانی که در جای درستی بنا شوند، بسیار پایین است.
- ۳) میزان انرژی تولیدی سالانه هر کدام از این نیروگاه ها از نیروگاه های فسیلی بیشتر است.
- ۴) هم اکنون نیروگاه هایی که در حاشیه اقیانوس آرام و حلقه آتشفشان وجود دارند، همگی از این نوع انرژی زمین گرمایی هستند.

راهنمایی: برای پاسخگویی به سوال ۱۳، لازم است موقعیتی را که در سوال مطرح شده، مورد تجزیه و تحلیل قرار دهید و سپس گزینه ای را که فکر میکنید پاسخ مناسبتری برای آن سوال است، انتخاب کنید. سوال را با دقت بخوانید و با توجه به مطالب مطرح شده در هر سوال و نتایجی که بیان شده و بیان نشده ولی قابل استنتاج است، پاسخی را که صحیح تر به نظر می رسد، انتخاب و در پاسخنامه علامت بزنید.

۱۳- چه چیزی در انتظار فرزند دوم است؟ این کودک نیز موقعیتی منحصر بفرد دارد. از یک جهت، او هرگز قدرت و جایگاه محور بودن را تجربه نمیکند. زیرا آن جایگاه پیش تر توسط فرزند اول اشغال شده است بنابراین حتی اگر دوباره خواهر یا برادر دیگری یا به دنیا بگذارد، فرزند دوم آن حس کودکانه خلع شدگی را که خودش با ظهورش از فرزند اول گرفته است،.....

(iranarze.ir) (نهمین آزمون فراگیر دستگاه های اجرایی مشترک با آموزش و پرورش گروه پنج تیر ۱۴۰۱) (مجرى سنجش)

- ۱) تشدید میکند
- ۲) تجربه نخواهد کرد
- ۳) به دست می آورد
- ۴) فراموش نمیکند

راهنمایی: سوال ۱۴ را به دقت بخوانید و جواب سوال را در پاسخنامه علامت بزنید

۱۴- هرکدام از اشکال زیر بین اعداد ارتباط خاص و یکسانی برقرار است، به جای علامت سوال کدام گزینه قرار بگیرد؟

(iranarze.ir) (نهمین آزمون فراگیر دستگاه های اجرایی مشترک با آموزش و پرورش گروه پنج تیر ۱۴۰۱) (مجرى سنجش)

۴	۳	۲	۹	۴	۷	۴	۵	۹	۶	۸ (۱)
۵		۳		۶		۸		?		۶ (۲)
۴	۷	۵	۳	۵	۲	۶	۲	۴	۵	۵ (۳)
										۲ (۴)

راهنمایی برای پاسخگویی به سوال ۱۵ لازم است موقعیتی را که در سوال مطرح شده مورد تجزیه و تحلیل قرار دهید و سپس گزینه ای را که فکر می کنید پاسخ مناسب تری برای آن سوال است انتخاب کنید. سوال را با دقت بخوانید و با توجه به مطالب مطرح شده در سوال و نتایجی که بیان شده و بیان نشده ولی قابل استنتاج است پاسخی را که صحیح تر به نظر می رسد انتخاب و در پاسخنامه علامت بزنید

۱۵- جرم و جنایت همه را نگران کرده است، به خصوص والدین را. نظر سنجی های اخیر نشان می دهند که بزرگ ترین ترس ۲۰ درصد از والدین اروپایی این است که بچه هایشان توسط افراد غریبه دزدیده شده و یا کشته شوند. با این وجود اغلب والدین به فرزندان خود اجازه می دهند بیرون از خانه بازی کنند. به واقع احتمال دزدیده شدن بچه ها توسط افراد غریبه یک در ۲۰۰ هزار است و از آن ضعیف تر احتمال کشته شدن یک کودک در ماجرای جنایی است که حدود یک در یک میلیون است.

کدام مورد زیر را می توان به درستی متن فوق استنباط کرد؟

(iranarze.ir) (نهمین آزمون فراگیر دستگاه های اجرایی مشترک با آموزش و پرورش گروه شش تیر ۱۴۰۱) (مجرى سنجش)

- (۱) آمار کودک ربایی نسبت به گذشته کاهش چشمگیری داشته است
(۲) امروزه بازی در محیط خارج از خانه برای رشد اجتماعی کودکان ضروری است
(۳) والدین در عمق ضمیر ناخودآگاه خویش، به مبالغه آمیز بودن ترسشان، نوعی آگاهی دارند
(۴) بسیاری از والدین، به دلیل مشغله های روزمره خود مجبورند چشم خود را بر بسیاری از ترس هایشان ببندند

راهنمایی: سوال ۱۶ را به دقت بخوانید و جواب سوال را در پاسخنامه علامت بزنید

۱۶- در هر کدام از اشکال زیر بین اعداد ارتباط خاص و یکسانی برقرار است. به جای علامت سوال کدام عدد باید قرار بگیرد؟
(iranarze.ir) (نهمین آزمون فراگیر دستگاه های اجرایی مشترک با آموزش و پرورش گروه شش تیر ۱۴۰۱) (مجرى سنجش)



۱۷- کدامیک از اعداد زیر نسبت به سایر اعداد متفاوت است؟ (iranarze.ir) (بانک ملت دی ۱۴۰۱) (ایران آزمون)

- (۱) ۲۱ (۲) $\sqrt{121}$ (۳) ۱۳ (۴) ۱۷

۱۸- عقربه های یک ساعت در آینه، ساعت ۲:۴۰ را نشان می دهد، ساعت چند است؟ (iranarze.ir) (بانک ملت دی ۱۴۰۱) (ایران آزمون)

- (۱) ۷:۲۰ (۲) ۱۰:۳۵ (۳) ۷:۴۰ (۴) ۸:۴۰

۱۹- به چند طریق می توان دو پیراهن، سه شلوار و دو کت مختلف را پوشید؟ (iranarze.ir) (بانک مهر ایران اسفند ۱۴۰۱) (مجرى ایران آزمون)

- (۱) ۶ (۲) ۸ (۳) ۱۰ (۴) ۱۲

۲۰- در کدام یک از عددهای دو رقمی زیر، اگر ترتیب رقم ها معکوس شود، عدد حاصل، مربع یک عدد یک رقمی نمی باشد؟

(iranarze.ir) (بانک مهر ایران اسفند ۱۴۰۱) (مجرى ایران آزمون)

- (۱) ۶۳ (۲) ۴۶ (۳) ۹۲ (۴) ۱۸

۲۱- کدام ترکیب مناسب کمتری با سه گزینه دیگر دارد؟ (iranarze.ir) (بانک رفاه ۱۴۰۱)

- (۱) قاضی و مغضوب (۲) سائل و مسئول (۳) قاصد و مقصود (۴) حاصل و محصول

۲۲- نسبت به تیغ مثل فرو رفتن است به؟ (iranarze.ir) (بانک رفاه ۱۴۰۱)

- (۱) برندگی- نیزه (۲) برندگی- میخ (۳) شمشیر - دست (۴) نیزه - کارد

راهنمایی: اطلاعات زیر را بخوانید و باتوجه به آن، به سوال ۲۳ که در زیر آن آمده است، پاسخ دهید و در پاسخنامه علامت بزنید.

شرکتی برای تأمین کادر اداری خود، با هفت نفر به اسامی A, B, C, D, E, F و G مصاحبه کرده، سپس آنها را برحسب عملکردشان مرتب نموده و ۴ نفر اول را قبول

و ۳ نفر آخر را رد اعلام می کند. اطلاعات زیر، درخصوص این افراد و وضعیت مصاحبه شان موجود است. (www.iranarze.ir)

- B و E یا هر دو قبول می شوند یا هر دو رد. - A و G، یکی قبول و دیگری رد می شود. - عملکرد D در مصاحبه، از C بهتر است.

۲۳- اگر F رد شده باشد، چند نفر از ۶ نفر دیگر، قبولی شان قطعی می شود؟ (iranarze.ir) (شرکت کار و تأمین مهر ۱۴۰۱) (مجرى سنجش)

- (۱) ۱ (۲) ۲ (۳) ۳ (۴) ۴

۲۴- اگر C رد ولی A قبول شده باشد، وضعیت کدام فرد زیر، از لحاظ قبولی یا ردی در مصاحبه، به طور قطع، مشخص نمی شود؟

(iranarze.ir) (شرکت کار و تامین مهر ۱۴۰۱) (مجرى سنجش)

- (۱) B (۲) D (۳) E (۴) G

۲۵- باقیمانده تقسیم ۹۹۹ بر یک عدد دو رقمی، برابر ۳ است. باقیمانده تقسیم ۲۰۰۱ بر این عدد کدام است؟

(iranarze.ir) (بانک ملت سال ۱۴۰۰) (مجرى ایران آزمون)

- (۱) ۳ (۲) ۵ (۳) ۶ (۴) ۷

- هر سؤال حاوی دو اطلاع (تحت عنوان اطلاع I و اطلاع II) است. مطابق دستورالعمل زیر، پاسخ صحیح سوال ۲۶ را مشخص نمایید.

* اگر اطلاع I به تنهایی برای پاسخگویی به سؤال مطرح شده کافی باشد ولی اطلاع II به تنهایی کافی نباشد (یا برعکس)، گزینه ۱ را علامت بزنید.

* اگر دو اطلاع I و II با هم برای پاسخگویی به سؤال کافی باشند ولی هر کدام از این دو اطلاع به تنهایی برای پاسخگویی به سؤال کافی نباشند، گزینه ۲ را علامت بزنید.

* اگر هر کدام از دو اطلاع I و II به تنهایی برای پاسخگویی به سؤال کافی باشد، گزینه ۳ را علامت بزنید.

* اگر دو اطلاع I و II با هم نیز برای پاسخگویی به سؤال کافی نباشند، گزینه ۴ را علامت بزنید.

۲۶- مقدار n چقدر است؟ (iranarze.ir) (بانک ملت سال ۱۴۰۰) (مجرى ایران آزمون)

$$n < 0 \quad (II) \quad 5n = -10 \quad (I)$$

- (۱) I کافی و II ناکافی (۲) هر دو کافی، به تنهایی ناکافی (۳) I و II به تنهایی کافی (۴) I و II هر دو ناکافی

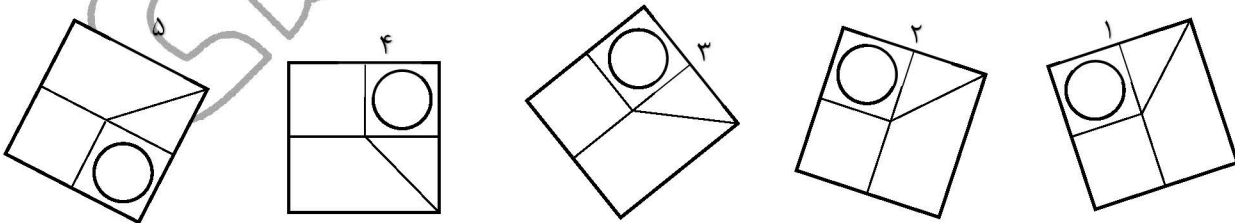
۲۷- با توجه به معادلات روبرو، مقدار x کدام گزینه است؟ (iranarze.ir) (قوه قضاییه اسفند ۱۴۰۰) (مجرى جهاد دانشگاهی)

$$\begin{cases} 1 + 3 = 6 \\ 2 + 4 = 12 \\ 3 + 5 = 20 \\ 4 + 6 = 30 \\ 5 + 7 = x \end{cases}$$

- (۱) ۴۲ (۲) ۴۰ (۳) ۴۴ (۴) ۳۸

۲۸- کدام تصویر روبرو، با بقیه متفاوت است؟ (iranarze.ir) (قوه قضاییه اسفند ۱۴۰۰) (مجرى جهاد دانشگاهی)

- (۱) ۲ (۲) ۳ (۳) ۴ (۴) ۵



راهنمایی: برای پاسخگویی به سوال ۲۹ لازم است موقعیتی را که در سوال مطرح شده، مورد تجزیه و تحلیل قرار دهید. و سپس گزینه های را که فکر می کنید پاسخ مناسب تری برای آن سوال است انتخاب کنید. سوال را با دقت بخوانید و با توجه به واقعیت های مطرح شده در هر سوال و نتایج که بیان شده و بیان نشده ولی قابل استنتاج است، پاسخی را که صحیح تر به نظر می رسد، انتخاب کنید و در پاسخ نامه علامت بزنید.

۲۹- در تحقیقی که برای بررسی اثر بخشی داروی (الف) در درمان سرماخوردگی حاد در مردان مسن انجام شد، دو گروه از مردان مسن، وارد مطالعه شدند. به افراد یک گروه، همان داروی (الف) داده شد، در حالی که به افراد گروه دیگر، دارونما تجویز شد. بعد از یک هفته، محققین با تعجب دریافتند که افراد هر دو گروه کاملاً بهبود یافته اند.

کدام مورد در صورتی که صحیح فرض شود، تناقض موجود در متن را به منطقی ترین وجه، مرتفع می سازد؟

(iranarze.ir) (وزارت بهداشت مهر ۱۳۹۹ سری D۲۰۰) (مجری سنجش)

(۱) تقریباً تمامی آنانی که به آنها دارونما داده شد، به طریقی پی برده اند که داروی آنها بی اثر است.

(۲) برخی از پزشکان بر این باورند که اثر تلقین، گاهی از اثر دارو نیز بیشتر است.

(۳) افراد گروهی که دارونما دریافت کرده بودند، به خیال اینکه داروی دریافتی شان کافی نیست، خود اقدام به خرید و مصرف داروی (الف) کرده بودند.

(۴) داروی (الف) به واقع دارویی موثر در بر طرف نمودن سرماخوردگی حاد برای همه گروه های سنی است.

۳۰- مراقبت های پزشکی می توانند باعث طول عمر و یا بهبودی از یک بیماری جدی شوند، ولی شرایط مهم برای سلامت جمعیت، شرایط اجتماعی-اقتصادی

است که بر وضعیت جسمی افراد تاثیر می گذارد. بدین معنا که تعیین کننده های موقعیت اجتماعی سلامت، مانند میزان درآمد، سطح تحصیلات، شغل، تغذیه

و طبقه اجتماعی، بسیار بیشتر از عواملی مانند عوامل بیولوژیک، باعث ابتلا به بیماری ها می شوند و در سلامت انسان نقش به سزایی دارند. که اگر نادیده

گرفته شوند، رسیدن به اهداف سلامتی محال خواهد بود.

کدام مورد در صورتی که صحیح فرض شود، استدلال متن را به بهترین وجه تقویت می کند؟

(iranarze.ir) (وزارت بهداشت مهر ۱۳۹۹ سری D۲۰۰) (مجری سنجش)

(۱) افراد پایین دست جامعه، اگر چه ساعات بیشتری را به کار می پردازند، ولی نمی توانند موقعیت اجتماعی خود را ارتقا بخشند.

(۲) برخی از پزشکان با این نظر که بین امکان ابتلا به بیماری و میزان تحصیل و درآمد افراد، رابطه مستقیم وجود دارد، موافق نیستند.

(۳) هر چه موقعیت اجتماعی افراد بالاتر می رود، آنان بیشتر نکات پیشگیری از بیماری را رعایت می کنند

(۴) مکمل های غذایی و دارویی موجود، نقش عوامل بیولوژیک در ایجاد بیماری ها را کم رنگ تر از گذشته کرده است

۳۱- کدامیک از اعداد زیر به ۷ نزدیکتر است؟ (iranarze.ir) (کار و تامین سال ۱۳۹۹)

۷/۱۵(۴)

۷/۶(۳)

۶/۸(۲)

۵/۷(۱)

۳۲- در صورتی که دو نقاش، دو اتاق را ظرف مدت دو ساعت رنگ بزنند، چند نفر لازم است تا ۱۸ اتاق را ظرف مدت ۶ ساعت رنگ بزنند؟

(iranarze.ir) (کار و تامین سال ۱۳۹۹)

۱۸ نفر (۴)

۱۲ نفر (۳)

۹ نفر (۲)

۶ نفر (۱)

۳۳- به هر یک از سه فرزند پدری که نصف دارایی خود را به تساوی بین آنها تقسیم کرده است، چه کسری از کل دارایی پدر می رسد؟

(iranarze.ir) (بانک سینا سال ۱۳۹۸)

۱/۳(۴)

۱/۴(۳)

۱/۵(۲)

۱/۶(۱)

۳۴- به اجناس یک فروشگاه در مدت یکماه، دوبار تخفیف ۱۰٪ داده شده است. چند درصد نسبت به قیمت اولیه تخفیف داده شده است؟

(iranarze.ir) (بانک سینا سال ۱۳۹۸)

(۱) ۲۰٪ (۲) ۲۱٪ (۳) ۱۹٪ (۴) هیچکدام

۳۵- روی یک کاغذ ۲۵ مثلث و مربع جداگانه رسم شده است اگر تعداد اضلاع ۹۲ تا باشد، چندتا مربع خواهیم داشت؟

(iranarze.ir) (بانک مهر ایران مرداد ۱۳۹۸)

(۱) ۱۸ (۲) ۱۹ (۳) ۱۷ (۴) ۱۴

۳۶- وقتی ۳۰٪ از دبه ای خالی است. آن دبه ۳۰ لیتر بیشتر از وقتی که ۳۰٪ آن پر است آب می گیرد. گنجایش دبه چند لیتر است؟

(iranarze.ir) (بانک مهر ایران مرداد ۱۳۹۸)

(۱) ۲۰ (۲) ۵۰ (۳) ۷۵ (۴) ۴۰

راهنمایی: برای پاسخگویی به سؤال ۳۷، لازم است موقعیتی را که در سوال مطرح شده، مورد تجزیه و تحلیل قرار دهید و سپس گزینه‌ای را که فکر می‌کنید پاسخ مناسب‌تری برای آن سوال است، انتخاب کنید. سوال را با دقت بخوانید و با توجه به واقعیت‌های مطرح شده در هر سؤال و نتایجی که بیان شده و بیان نشده ولی قابل استنتاج است، پاسخی را که صحیح‌تر به نظر می‌رسد، انتخاب و در پاسخنامه علامت بزنید.

۳۷- چنانچه برای بچه‌های مدرسه‌ای تکالیف درسی برای انجام در خانه تعیین شوند، این تکالیف می‌توانند بین درس‌ها و جلسات کلاس، پیوستگی ایجاد کنند.

آنها نه تنها دروس تدریس شده را بهتر در ذهن دانش‌آموزان جا می‌اندازند، بلکه آنها را برای پذیرش دروس آینده هم آماده‌تر می‌کنند.

کدام مورد، فرض مستتر در استدلال فوق است؟

(iranarze.ir) (هشتمین آزمون فراگیر دستگاه‌های اجرایی مشترک با آموزش و پرورش آبان ۱۳۹۹) (مجرى سنجش)

(۱) در حال حاضر، در برخی مدارس، تکالیف درسی برای دانش‌آموزان وجود ندارد.

(۲) انجام تکالیف درسی، جزء لاینفک آموزش کلاسیک مدرسه‌ای است.

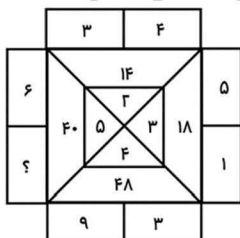
(۳) تدوین تکالیف درسی مبتنی بر دروس کلاسی انجام می‌پذیرد.

(۴) موفقیت دانش‌آموزان در هر سطح آموزشی، منوط به یادگیری نکات آموزشی سطوح پیشین است.

راهنمایی: سوال ۳۸ را به دقت بخوانید و جواب هر سوال را در پاسخنامه علامت بزنید.

۳۸- در شکل روبه‌رو، بین اعداد ارتباط خاصی برقرار است. به جای علامت سؤال، کدام عدد زیر باید قرار بگیرد؟

(iranarze.ir) (هشتمین آزمون فراگیر دستگاه‌های اجرایی مشترک با آموزش و پرورش آبان ۱۳۹۹) (مجرى سنجش)



(۱) ۴ (۲) ۸ (۳) ۱۴ (۴) ۲

ایران عرضه

مرجع نمونه سوالات

آزمون های استخدامی

به همراه پاسخنامه تشریحی

خدمات ایران عرضه:

- ارائه اصل سوالات آزمون های استخدامی
- پاسخنامه های تشریحی سوالات
- جزوات و درسنامه های آموزشی

برای دانلود رایگان جدیدترین سوالات استخدامی شرکت صنایع پتروشیمی کرمانشاه، اینجا بزنید

همچنین جهت مشاهده آخرین اخبار استخدامی شرکت صنایع پتروشیمی کرمانشاه، اینجا بزنید

« انتشار یا استفاده غیر تجاری از این فایل، بدون حذف لوگوی ایران عرضه، مجاز می باشد »

