

سوالات استخدامی

موسسه حسابرسی

سازمان تامین اجتماعی

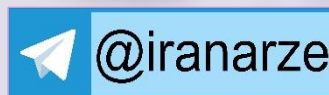
توضیحات:

- ویژه آزمون حسابرسی تامین اجتماعی
- شامل ۳۸ سوال
- با قابلیت پرینت

برای دانلود رایگان سوالات استخدامی موسسه حسابرسی سازمان تامین اجتماعی، اینجا بزنید

همچنین جهت مشاهده آخرین اخبار استخدامی موسسه حسابرسی سازمان تامین اجتماعی، اینجا بزنید

« انتشار یا استفاده غیر تجاری از این فایل، بدون حذف لوگوی ایران عرضه، مجاز می باشد »



هوش، استعداد تحصیلی و توانمندی های عمومی

* برای پاسخ به سوالات ۱ و ۲ از متن زیر استفاده کنید.

هشت داوطلب در یک آزمون ورودی شرکت کرده اند. در مورد نتایج این افراد که آن ها را با حروف S, T, U, V, W, X, Y, Z نشان می دهیم. اطلاعات زیر در دست است.

(۱) هیچ یک از داوطلبان نمره مساوی با داوطلب دیگر نداشته است. (۲) فرد S نمره ای بالاتر از فرد Z بدست آورده است.

(۳) فقط نمره یک فرد بین نمره دو داوطلب T و X قرار گرفته است. (۴) فرد Y درست یک رتبه پایین تر از فرد U است.

(۵) فرد V و Y هر دو رتبه ای بهتر از فرد S بدست آورده اند. (۶) فرد W بالاترین نمره (رتبه اول) را بدست آورده است.

۱- اگر فرض کنیم فرد V رتبه ای کمتر از فرد T بدست آورده باشد، کدام فرد باید در رتبه هفتم قرار داشته باشد؟

(iranarze.ir) (دهمین آزمون فراگیر دستگاه های اجرایی خرداد ۱۴۰۲) (مجری جهاد دانشگاهی)

T (۱) X (۲) S (۳) V (۴)

۲- در صورتی که رتبه ی چهارم و پنجم به ترتیب به افراد X و U تعلق گرفته باشد، رتبه ی دوم متعلق به کدام فرد می تواند باشد؟

(iranarze.ir) (دهمین آزمون فراگیر دستگاه های اجرایی خرداد ۱۴۰۲) (مجری جهاد دانشگاهی)

T (۱) V (۲) S (۳) Y (۴)

۳- دانش آموزان دبیرستانی که احساس می کنند در مدرسه موفق نیستند، اغلب قبل از فارغ التحصیلی ترک تحصیل می کنند و سرکار میروند. این در حالی

است که در سال جاری، میزان ترک تحصیل در دبیرستان شهر «الف» به میزان قابل توجهی، کمتر از سال قبل بوده است. این نشانه دلگرم کننده ای است که

نشان می دهد برنامه ای که از دو سال پیش برای بهبود روحیه دانش آموزان دبیرستانی راه اندازی شد، برای کاهش ترک تحصیل موثر واقع شده است.

کدام مورد، در صورتی که صحیح فرض شود، ادعای متن راجع به تاثیر برنامه دو ساله برای بهبود روحیه را تضعیف می کند؟

(iranarze.ir) (دبیری و هنرآموز آموزش و پرورش مرداد ۱۴۰۲) (مجری سنجش)

(۱) امسال به دلیل بحران اقتصادی، میزان بیکاری در کل کشور و از جمله شهر «الف» بسیار بالا رفته است

(۲) آمار پایین ترک تحصیلی های هر مدرسه، به تمایل والدین به ثبت نام فرزند خود در آن مدرسه می افزاید

(۳) امسال تعداد دانش آموزانی که در مدارس دیگر هم ترک تحصیل کرده اند، تغییر چشمگیری نسبت به سال های گذشته نداشته است

(۴) درآمدی که دانش آموزان ترک تحصیلی بابت کار خود کسب می کنند، در مقایسه با درآمد افراد سن و سال دار تر که همان کار را می کنند، امسال هم مانند سال های

پیشین، پایین تر است.

۴- آقای «الف» در خصوص مدارس توسعه پایدار گفت: بهبود محیط کسب و کار در گرو تحول نظام آموزشی است. شعار ما در احداث مدارس توسعه پایدار این

است که مدرسه، کانون توسعه روستایی است. مدرسه توسعه پایدار، جایی نیست که کودکان در آن تحصیل کنند و بعد رها شوند. مدرسه اگر بخواهد در

توسعه نقشی موثر ایفا کند، نباید فقط در خدمت کودکان باشد، بلکه باید تبدیل به محل رفت و آمد و گردهمایی اهالی روستا شده و به کانونی برای آموزش

مهارت های زندگی تبدیل شود. به عنوان مثال، ممکن است زنان در روستایی از مسائل بهداشتی آگاهی کافی نداشته باشند. مدرسه توسعه پایدار می تواند

مکان مناسبی برای ارائه آموزش های لازم به زنان روستایی باشد تا آنان به سان کودکان خود به مسائل توسعه پایدار آگاه شده و سهم خود در ایجاد آن را

اعمال کنند. فرض لازم برای تحقق نتیجه مورد نظر نویسنده، کدام است؟ (iranarze.ir) (دبیری و هنرآموز آموزش و پرورش مرداد ۱۴۰۲) (مجری سنجش)

(۱) حضور مردان در این مدارس، به اندازه زنان مهم است

(۲) افراد آنچه را که می آموزند، در عمل به اجرا در خواهند آورد

۳) احداث مدارس توسعه پایدار، آن طور که باید، مورد توجه قرار نگرفته است.

۴) برای کسب نتیجه بهتر، باید در همه مراکز فرهنگی، آموزش مهارت های زندگی مورد توجه قرار گیرد

راهنمایی: برای پاسخگویی به سوال ۵ لازم است موقعیتی را که در سوال مطرح شده، مورد تجزیه و تحلیل قرار دهید و سپس گزینه ای را که فکر میکنید پاسخ مناسب تری برای آن سوال است، انتخاب کنید. سوال را با دقت بخوانید و با توجه به مطالب مطرح شده در سوال و نتایجی که بیان شده و بیان نشده ولی قابل استنتاج است، پاسخی را که صحیح تر به نظر میرسد، و در پاسخنامه علامت بزنید.

۵- از آنجایی که سرما خوردگی و آنفولانزا در زمستان، به مراتب از فصول دیگر سال به ویژه در فصول گرم بیشتر است، بهتر است برای اینکه میزان سرما خوردگی به ویژه نزد کودکان در دبستان ها را کم کنیم، این محیط ها را همیشه گرم نگه داریم و تماس بچه ها با سرما را هرچه بیشتر کاهش دهیم.

کدام مورد، در صورتی که صحیح فرض شود، توصیه به عمل آمده در متن را به بهترین شکل تضعیف می کند؟

(iranarze.ir) (آموزگار ابتدایی آموزش و پرورش اردیبهشت ۱۴۰۲) (مجرى سنجش)

۱) بیماری سرما خوردگی در فصول گرم سال هم، یک بیماری نایاب نیست.

۲) برخی تحقیقات که درباره تاثیر گرما بر قدرت بیماری زایی ویروس های سرماخوردگی انجام شده است به نتایج مشخصی رسیده اند.

۳) در فصل سرما، مردم بیشتر کنار هم هستند و لذا امکان سرایت ویروس سرما خوردگی هم زیادتر است

۴) امکان ابتلا به سرماخوردگی در فصول مختلف سال، به یک اندازه نیست.

راهنمایی: اطلاعات زیر را بخوانید و با توجه به آن، به سوال ۶ که در متن زیر آمده است، پاسخ دهید و در پاسخنامه علامت بزنید.

۶ معلم یک مدرسه به اسامی A, C, B, D, E, F در طرح رتبه بندی معلمان شرکت میکنند و بر اساس امتیاز کسب نموده از بیشترین به کمترین، به عنوان

نفرات اول تا ششم معرفی می شوند. پس از بررسی امتیازات، هر کدام در یکی از رتبه های دانشیار معلم (نفرات اول و دوم)، استادیار معلم (نفر سوم)، مربی

معلم (نفرات چهارم و پنجم) و آموزشیار معلم (نفر ششم) قرار گرفته اند. اطلاعات زیر، در خصوص رتبه و امتیازات این افراد موجود است:

* از لحاظ امتیازی، B نه نفر اول شده است و نه نفر چهارم

* C و D هم رتبه نشده اند، در حالی که F و B هم رتبه شده اند.

* رتبه A از رتبه E بالاتر می شود، در حالی که امتیازاتش از امتیاز D کمتر بوده است.

۶- اگر C به رتبه استادیار معلم رسیده باشد، رتبه چند نفر از ۵ نفر دیگر به طور قطع مشخص می شود؟

(iranarze.ir) (آموزگار ابتدایی آموزش و پرورش اردیبهشت ۱۴۰۲) (مجرى سنجش)

۱ (۱) ۵ (۲) ۳ (۳) ۲ (۴)

۷- قیمت ۵ دفتر، ۳ مداد و ۲ مداد پاک کن روی هم ۵۷۰ هزار تومان شده است. اگر قیمت مداد یک سوم قیمت دفتر و قیمت مداد پاک کن نصف قیمت مداد

باشد، (تهیه شده توسط ایران عرضه) قیمت هر دفتر چقدر است؟ (iranarze.ir) (وزارت بهداشت مهر ۱۴۰۲) (مجرى جهاد دانشگاهی)

۱ (۱) ۸۰ هزار تومان ۲ (۲) ۱۲۰ هزار تومان ۳ (۳) ۹۰ هزار تومان ۴ (۴) ۶۰ هزار تومان

۸- ۱۰ درصد تخفیف، قیمت فروش یک کالا را ۱۰۰۰ تومان کاهش می دهد، اگر پس از تخفیف، فروشنده ۲۰ درصد قیمت خرید سود کرده باشد، قیمت خرید چند

تومان بوده است؟ (iranarze.ir) (وزارت بهداشت مهر ۱۴۰۲) (مجرى جهاد دانشگاهی)

۱ (۱) ۵۱۰۰ ۲ (۲) ۷۵۰۰ ۳ (۳) ۷۰۰۰ ۴ (۴) ۹۰۰۰

۹- در ۵ تراکنش متوالی، در هر کدام نسبت به قبلی، ۸۰ درصد، مبلغ موجودی حساب کسر شده است. اگر بعد از آخرین تراکنش، ۸۰ تومان باقی مانده باشد، در اولین تراکنش، چند هزار تومان کسر شده است؟ (بانک ملی اردیبهشت ۱۴۰۲) (مجرى سنجش)

(۱) ۲۵۰ (۲) ۲۰۰ (۳) ۸۰ (۴) ۵۰

۱۰- مطابق یک بخشنامه، در یکی از شعب بانک ملی، به ازای هر ۴ کارمند مرد دارای ۳ فرزند، ۵ کارمند مرد دارای ۴ فرزند، از تسهیلات کمک هزینه اولاد، استفاده کرده اند. اگر مجموع تعداد فرزندان که پدرشان از این تسهیلات استفاده کرده اند، ۱۶۰ نفر باشد، چند نفر از این فرزندان، پدرشان دارای ۴ فرزند است؟ (بانک ملی اردیبهشت ۱۴۰۲) (مجرى سنجش)

(۱) ۲۵ (۲) ۶۰ (۳) ۱۰۰ (۴) ۱۲۰

نیروگاه های زمین گرمایی یا ژئوترمال به واحدهای تبدیل انرژی گفته می شود که انرژی خود را از طریق سیال گرم شده از طریق عبور از میان لایه های پوسته زمین به دست می آورد. اگر نیروگاه های زمین گرمایی را با سایر نیروگاه های انرژی های نو مقایسه کنیم مشاهده می کنیم که نیروگاه های زمین گرمایی به دلیل بالا بودن ضریب دسترسی (۸۵٪ زمان در سال)، در جهان از اهمیت فراوانی برخوردارند و از این نوع نیروگاه ها می توان به عنوان بار پایه شبکه استفاده نمود. در زیر سطح زمین یک لایه سنگ داغ و مذاب به نام ماگما وجود دارد، که به طور مداوم حرارت در این لایه از مواد رادیواکتیو مانند اورانیوم و پتاسیم تولید می شود. این مقدار حرارت می تواند ۵۰۰۰۰ برابر بیش تر از منابع نفت و گاز انرژی تولید کند. مناطقی که درجه حرارت زمین به دلیل وجود آتشفشان ها و یا نازک بودن پوسته ی زمین بالاست، برای این صنعت مدنظر هستند. حاشیه اقیانوس آرام و حلقه آتشفشان ها را می توان جز بهترین گزینه ها معرفی کرد. از طریق ارتعاشات حاصل از زلزله ها ماگماها، سنگ های گرم و پوسته زمین اجازه حرکت آب به سمت بالا را داده و چشمه های آب گرم را به وجود می آورند، این چشمه ها از طریق حرارت زمین گرم شده و دمایشان تا حدود ۲۰۰ درجه سانتی گراد نیز می رسد. نیروگاه های زمین گرمایی را با توجه به نوع سیال خروجی از چاه های تولیدی و نیز تجهیزات مورد استفاده در سیکل نیروگاه آن ها را دسته بندی نمود. بر این اساس نیروگاه های زمین گرمایی به سه دسته تقسیم می شوند.

۱۱- کدام مورد، رابطه پاراگراف ۲ در ارتباط با پاراگراف ۱ را به درست ترین وجه نشان می دهد؟ (iranarze.ir) (وزارت نفت اردیبهشت ۱۴۰۲) (مجرى سنجش)

(۱) با برشمردن برخی نکات مثبت منبع انرژی توصیف شده در پاراگراف ۱، ظرفیت آن در تولید انرژی را نشان می دهد.

(۲) محدودیت های مرتبط با استفاده از امکان بالقوه ای که در پاراگراف ۱ آمده است را بر می شمرد.

(۳) اطلاعاتی دال بر درستی و عملی بودن ادعای پاراگراف ۱ فراهم می آورد.

(۴) فرآیند تحقق اهداف توصیف شده در پاراگراف ۱ را توصیف می کند.

۱۲- تهیه شده توسط ایران عرضه) کدام مورد زیر را می توان درباره نیروگاه های زمین گرمایی به درستی از متن استنباط کرد؟

(iranarze.ir) (وزارت نفت اردیبهشت ۱۴۰۲) (مجرى سنجش)

(۱) این نیروگاه ها، بار پایه شبکه در تمام سال را مهیا می کند.

(۲) اتلاف انرژی در این نیروگاه ها، زمانی که در جای درستی بنا شوند، بسیار پایین است.

(۳) میزان انرژی تولیدی سالانه هر کدام از این نیروگاه ها از نیروگاه های فسیلی بیشتر است.

(۴) هم اکنون نیروگاه هایی که در حاشیه اقیانوس آرام و حلقه آتشفشان وجود دارند، همگی از این نوع انرژی زمین گرمایی هستند.

راهنمایی: برای پاسخگویی به سوال ۱۳، لازم است موقعیتی را که در سوال مطرح شده، مورد تجزیه و تحلیل قرار دهید و سپس گزینه ای را که فکر میکنید پاسخ مناسبتری برای آن سوال است، انتخاب کنید. سوال را با دقت بخوانید و با توجه به مطالب مطرح شده در هر سوال و نتایجی که بیان شده و بیان نشده ولی قابل استنتاج است، پاسخی را که صحیح تر به نظر می رسد، انتخاب و در پاسخنامه علامت بزنید.

۱۳- چه چیزی در انتظار فرزند دوم است؟ این کودک نیز موقعیتی منحصر بفرد دارد. از یک جهت، او هرگز قدرت و جایگاه محور بودن را تجربه نمیکند. زیرا آن جایگاه پیش تر توسط فرزند اول اشغال شده است بنابراین حتی اگر دوباره خواهر یا برادر دیگری پا به دنیا بگذارد، فرزند دوم آن حس کودکانه خلع شدگی را که خودش با ظهورش از فرزند اول گرفته است.....

(iranarze.ir) (نهمین آزمون فراگیر دستگاه های اجرایی مشترک با آموزش و پرورش گروه پنج تیر ۱۴۰۱) (مجری سنجش)

(۱) تشدید میکند (۲) تجربه نخواهد کرد (۳) به دست می آورد (۴) فراموش نمیکند

راهنمایی: سوال ۱۴ را به دقت بخوانید و جواب سوال را در پاسخنامه علامت بزنید

۱۴- هر کدام از اشکال زیر بین اعداد ارتباط خاص و یکسانی برقرار است، به جای علامت سوال کدام گزینه قرار بگیرد؟

(iranarze.ir) (نهمین آزمون فراگیر دستگاه های اجرایی مشترک با آموزش و پرورش گروه پنج تیر ۱۴۰۱) (مجری سنجش)

(۱) ۸ (۲) ۶ (۳) ۵ (۴) ۲

| | | | | | | | | | |
|---|---|---|---|---|---|---|---|---|---|
| ۴ | ۳ | ۲ | ۹ | ۴ | ۷ | ۴ | ۵ | ۹ | ۶ |
| ۵ | | ۳ | | ۶ | | ۸ | | ? | |
| ۴ | ۷ | ۵ | ۳ | ۵ | ۲ | ۶ | ۲ | ۴ | ۵ |

راهنمایی برای پاسخگویی به سوال ۱۵ لازم است موقعیتی را که در سوال مطرح شده مورد تجزیه و تحلیل قرار دهید و سپس گزینه ای را که فکر می کنید پاسخ مناسب تری برای آن سوال است انتخاب کنید. سوال را با دقت بخوانید و با توجه به مطالب مطرح شده در سوال و نتایجی که بیان شده و بیان نشده ولی قابل استنتاج است پاسخی را که صحیح تر به نظر می رسد انتخاب و در پاسخنامه علامت بزنید

۱۵- جرم و جنایت همه را نگران کرده است، به خصوص والدین را، نظر سنجی های اخیر نشان می دهند که بزرگ ترین ترس ۲۰ درصد از والدین اروپایی این است که بچه هایشان توسط افراد غریبه دزدیده شده و یا کشته شوند. با این وجود اغلب والدین به فرزندان خود اجازه می دهند بیرون از خانه بازی کنند. به واقع احتمال دزدیده شدن بچه ها توسط افراد غریبه یک در ۲۰۰ هزار است و از آن ضعیف تر احتمال کشته شدن یک کودک در ماجرای جنایی است که حدود یک در یک میلیون است. کدام مورد زیر را می توان به درستی متن فوق استنباط کرد؟

(iranarze.ir) (نهمین آزمون فراگیر دستگاه های اجرایی مشترک با آموزش و پرورش گروه شش تیر ۱۴۰۱) (مجری سنجش)

(۱) آمار کودک ربایی نسبت به گذشته کاهش چشمگیری داشته است

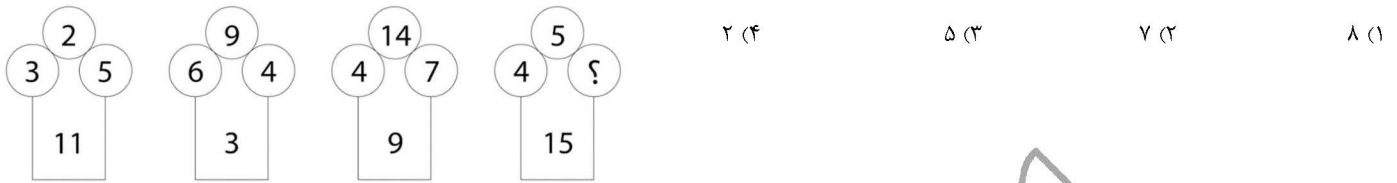
(۲) امروزه بازی در محیط خارج از خانه برای رشد اجتماعی کودکان ضروری است

(۳) والدین در عمق ضمیر ناخودآگاه خویش، به مبالغه آمیز بودن ترسشان، نوعی آگاهی دارند

(۴) بسیاری از والدین، به دلیل مشغله های روزمره خود مجبورند چشم خود را بر بسیاری از ترس هایشان ببندند

راهنمایی: سوال ۱۶ را به دقت بخوانید و جواب سوال را در پاسخنامه علامت بزنید

۱۶- در هر کدام از اشکال زیر بین اعداد ارتباط خاص و یکسانی برقرار است. به جای علامت سوال کدام عدد باید قرار بگیرد؟
(iranarze.ir) (نهمین آزمون فراگیر دستگاه های اجرایی مشترک با آموزش و پرورش گروه شش تیر ۱۴۰۱) (مجری سنجش)



۱۷- (تنظیم توسط فروشگاه ایران عرضه) کدامیک از اعداد زیر نسبت به سایر اعداد متفاوت است؟ (iranarze.ir) (بانک ملت دی ۱۴۰۱) (ایران آزمون)

۲۱ (۱) $\sqrt{121}$ (۲) ۱۳ (۳) ۱۷ (۴)

۱۸- عقربه های یک ساعت در آینه، ساعت ۲:۴۰ را نشان می دهد، ساعت چند است؟ (iranarze.ir) (بانک ملت دی ۱۴۰۱) (ایران آزمون)

۷:۲۰ (۱) ۱۰:۳۵ (۲) ۷:۴۰ (۳) ۸:۴۰ (۴)

۱۹- به چند طریق می توان دو پیراهن، سه شلوار و دو کت مختلف را پوشید؟ (iranarze.ir) (بانک مهر ایران اسفند ۱۴۰۱) (مجری ایران آزمون)

۶ (۱) ۸ (۲) ۱۰ (۳) ۱۲ (۴)

۲۰- در کدام یک از عددهای دو رقمی زیر، اگر ترتیب رقمها معکوس شود، عدد حاصل، مربع یک عدد یک رقمی نمی باشد؟

(iranarze.ir) (بانک مهر ایران اسفند ۱۴۰۱) (مجری ایران آزمون)

۶۳ (۱) ۴۶ (۲) ۹۲ (۳) ۱۸ (۴)

۲۱- کدام ترکیب مناسب کمتری با سه گزینه دیگر دارد؟ (iranarze.ir) (بانک رفاه ۱۴۰۱)

(۱) قاضی و مغضوب (۲) سائل و مسئول (۳) قاصد و مقصود (۴) حاصل و محصول

۲۲- نسبت به تیغ مثل فرو رفتن است به؟ (iranarze.ir) (بانک رفاه ۱۴۰۱)

(۱) برندگی - نیزه (۲) برندگی - میخ (۳) شمشیر - دست (۴) نیزه - کارد

راهنمایی: اطلاعات زیر را بخوانید و باتوجه به آن، به سوال ۲۳ که در زیر آن آمده است، پاسخ دهید و در پاسخنامه علامت بزنید.

شرکتی برای تأمین کادر اداری خود، با هفت نفر به اسامی A, B, C, D, E, F, G مصاحبه کرده، سپس آنها را برحسب عملکردشان مرتب نموده و ۴ نفر اول را قبول

و ۳ نفر آخر را رد اعلام می کند. اطلاعات زیر، درخصوص این افراد و وضعیت مصاحبه شان موجود است. (www.iranarze.ir)

- B و E یا هر دو قبول می شوند یا هر دو رد. - A و G، یکی قبول و دیگری رد می شود. - عملکرد D در مصاحبه، از C بهتر است.

۲۳- اگر F رد شده باشد، چند نفر از ۶ نفر دیگر، قبولی شان قطعی می شود؟ (iranarze.ir) (شرکت کار و تأمین مهر ۱۴۰۱) (مجری سنجش)

۱ (۱) ۲ (۲) ۳ (۳) ۴ (۴)

۲۴- اگر C رد ولی A قبول شده باشد، وضعیت کدام فرد زیر، از لحاظ قبولی یا ردی در مصاحبه، به طور قطع، مشخص نمی شود؟

(iranarze.ir) (شرکت کار و تأمین مهر ۱۴۰۱) (مجری سنجش)

B (۱) D (۲) E (۳) G (۴)

۲۵- (تهیه شده توسط ایران عرضه) باقیمانده تقسیم ۹۹۹ بر یک عدد دو رقمی، برابر ۳ است. باقیمانده تقسیم ۲۰۰۱ بر این عدد کدام است؟

(iranarze.ir) (بانک ملت سال ۱۴۰۰) (مجری ایران آزمون)

(۱) ۳ (۲) ۵ (۳) ۶ (۴) ۷

- هر سؤال حاوی دو اطلاع (تحت عنوان اطلاع ا و اطلاع ب) است. مطابق دستورالعمل زیر، پاسخ صحیح سوال ۲۶ را مشخص نمایید.

* اگر اطلاع ا به تنهایی برای پاسخگویی به سؤال مطرح شده کافی باشد ولی اطلاع ب به تنهایی کافی نباشد (یا برعکس)، گزینه ۱ را علامت بزنید.

* اگر دو اطلاع ا و ب با هم برای پاسخگویی به سؤال کافی باشند ولی هر کدام از این دو اطلاع به تنهایی برای پاسخگویی به سؤال کافی نباشند، گزینه ۲ را

علامت بزنید.

* اگر هر کدام از دو اطلاع ا و ب به تنهایی برای پاسخگویی به سؤال کافی باشد، گزینه ۳ را علامت بزنید.

* اگر دو اطلاع ا و ب با هم نیز برای پاسخگویی به سؤال کافی نباشند، گزینه ۴ را علامت بزنید.

۲۶- مقدار n چقدر است؟ (iranarze.ir) (بانک ملت سال ۱۴۰۰) (مجری ایران آزمون)

$$5n = -10 \quad (I) \quad n < 0 \quad (II)$$

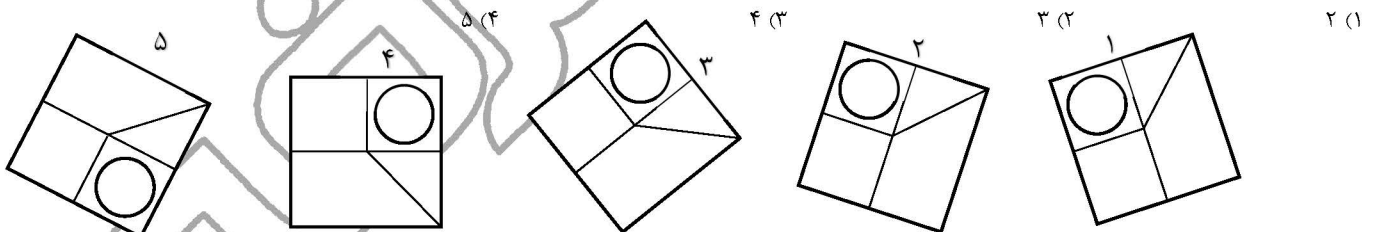
(۱) ا کافی و ب ناکافی (۲) هر دو کافی، به تنهایی ناکافی (۳) ا و ب به تنهایی کافی (۴) ا و ب هر دو ناکافی

۲۷- با توجه به معادلات روبرو، مقدار x کدام گزینه است؟ (iranarze.ir) (قوه قضاییه اسفند ۱۴۰۰) (مجری جهاد دانشگاهی)

$$\begin{cases} 1 + 3 = 6 \\ 2 + 4 = 12 \\ 3 + 5 = 20 \\ 4 + 6 = 30 \\ 5 + 7 = x \end{cases}$$

(۱) ۴۲ (۲) ۴۰ (۳) ۴۴ (۴) ۳۸

۲۸- کدام تصویر روبرو، با بقیه متفاوت است؟ (iranarze.ir) (قوه قضاییه اسفند ۱۴۰۰) (مجری جهاد دانشگاهی)



راهنمایی: برای پاسخگویی به سوال ۲۹ لازم است موقعیتی را که در سوال مطرح شده، مورد تجزیه و تحلیل قرار دهید. و سپس گزینه های را که فکر می کنید پاسخ مناسب تری برای آن سوال است انتخاب کنید. سوال را با دقت بخوانید و با توجه به واقعیت های مطرح شده در هر سوال و نتایجی که بیان شده و بیان نشده ولی قابل استنتاج است، پاسخی را که صحیح تر به نظر می رسد، انتخاب کنید و در پاسخ نامه علامت بزنید.

۲۹- در تحقیقی که برای بررسی اثر بخشی داروی (الف) در درمان سرماخوردگی حاد در مردان مسن انجام شد، دو گروه از مردان مسن، وارد مطالعه شدند. به افراد یک گروه، همان داروی (الف) داده شد، در حالی که به افراد گروه دیگر، دارونما تجویز شد. بعد از یک هفته، محققین با تعجب دریافتند که افراد هر دو گروه کاملاً بهبود یافته اند.

کدام مورد در صورتی که صحیح فرض شود، تناقض موجود در متن را به منطقی ترین وجه، مرتفع می سازد؟

(iranarze.ir) (وزارت بهداشت مهر ۱۳۹۹ سری D۲۰۰) (مجری سنجش)

۱) تقریباً تمامی آنانی که به آنها دارونما داده شد، به طریقی پی برده اند که داروی آنها بی اثر است.

۲) برخی از پزشکان بر این باورند که اثر تلقین، گاهی از اثر دارو نیز بیشتر است.

۳) افراد گروهی که دارونما دریافت کرده بودند، به خیال اینکه داروی دریافتی شان کافی نیست، خود اقدام به خرید و مصرف داروی (الف) کرده بودند.

۴) داروی (الف) به واقع دارویی موثر در بر طرف نمودن سرماخوردگی حاد برای همه گروه های سنی است.

۳۰- مراقبت های پزشکی می توانند باعث طول عمر و یا بهبودی از یک بیماری جدی شوند، ولی شرایط مهم برای سلامت جمعیت، شرایط اجتماعی-اقتصادی

است که بر وضعیت جسمی افراد تاثیر می گذارد. بدین معنا که تعیین کننده های موقعیت اجتماعی سلامت، مانند میزان درآمد، سطح تحصیلات، شغل، تغذیه

و طبقه اجتماعی، بسیار بیشتر از عواملی مانند عوامل بیولوژیک، باعث ابتلا به بیماری ها می شوند و در سلامت انسان نقش به سزایی دارند. که اگر نادیده

گرفته شوند، رسیدن به اهداف سلامتی محال خواهد بود. کدام مورد در صورتی که صحیح فرض شود، استدلال متن را به بهترین وجه تقویت می کند؟

(iranarze.ir) (وزارت بهداشت مهر ۱۳۹۹ سری D200) (مجرى سنجش)

۱) افراد پایین دست جامعه، اگر چه ساعات بیشتری را به کار می پردازند، ولی نمی توانند موقعیت اجتماعی خود را ارتقا بخشند.

۲) برخی از پزشکان با این نظر که بین امکان ابتلا به بیماری و میزان تحصیل و درآمد افراد، رابطه مستقیم وجود دارد، موافق نیستند.

۳) هر چه موقعیت اجتماعی افراد بالاتر می رود، آنان بیشتر نکات پیشگیری از بیماری را رعایت می کنند

۴) مکمل های غذایی و دارویی موجود، نقش عوامل بیولوژیک در ایجاد بیماری ها را کم رنگ تر از گذشته کرده است

۳۱- (تنظیم توسط فروشگاه ایران عرضه) کدامیک از اعداد زیر به ۷ نزدیکتر است؟ (iranarze.ir) (کار و تامین سال ۱۳۹۹)

۱) $\frac{50}{7}$ (۲) $\frac{6}{8}$ (۳) $7\frac{1}{6}$ (۴) $7\frac{1}{15}$

۳۲- در صورتی که دو نقاش، دو اتاق را ظرف مدت دو ساعت رنگ بزنند، چند نفر لازم است تا ۸ اتاق را ظرف مدت ۶ ساعت رنگ بزنند؟

(iranarze.ir) (کار و تامین سال ۱۳۹۹)

۱) ۶ نفر (۲) ۹ نفر (۳) ۱۲ نفر (۴) ۱۸ نفر

۳۳- به هر یک از سه فرزند پدری که نصف دارایی خود را به تساوی بین آنها تقسیم کرده است، چه کسری از کل دارایی پدر می رسد؟

(iranarze.ir) (بانک سینا سال ۱۳۹۸)

۱) $\frac{1}{6}$ (۲) $\frac{1}{5}$ (۳) $\frac{1}{4}$ (۴) $\frac{1}{3}$

۳۴- به اجناس یک فروشگاه در مدت یکماه، دوبار تخفیف ۱۰٪ داده شده است. چند درصد نسبت به قیمت اولیه تخفیف داده شده است؟

(iranarze.ir) (بانک سینا سال ۱۳۹۸)

۱) ۲۰٪ (۲) ۲۱٪ (۳) ۱۹٪ (۴) هیچکدام

۳۵- روی یک کاغذ ۲۵ مثلث و مربع جداگانه رسم شده است اگر تعداد اضلاع ۹۲ تا باشد، چندتا مربع خواهیم داشت؟

(iranarze.ir) (بانک مهر ایران مرداد ۱۳۹۸)

۱) ۱۸ (۲) ۱۹ (۳) ۱۷ (۴) ۱۴

۳۶- وقتی ۳۰٪ از دبه ای خالی است. آن دبه ۳۰ لیتر بیشتر از وقتی که ۳۰٪ آن پر است آب می گیرد. گنجایش دبه چند لیتر است؟

(iranarze.ir) (بانک مهر ایران مرداد ۱۳۹۸)

۱) ۲۰ (۲) ۵۰ (۳) ۷۵ (۴) ۴۰

راهنمایی: برای پاسخگویی به سؤال ۳۷، لازم است موقعیتی را که در سؤال مطرح شده، مورد تجزیه و تحلیل قرار دهید و سپس گزینه‌ای را که فکر می‌کنید پاسخ مناسب‌تری برای آن سؤال است، انتخاب کنید. سؤال را با دقت بخوانید و با توجه به واقعیت‌های مطرح شده در هر سؤال و نتایجی که بیان شده و بیان نشده ولی قابل استنتاج است، پاسخی را که صحیح‌تر به نظر می‌رسد، انتخاب و در پاسخنامه علامت بزنید.

۳۷- چنانچه برای بچه‌های مدرسه‌ای تکالیف درسی برای انجام در خانه تعیین شوند، این تکالیف می‌توانند بین درس‌ها و جلسات کلاس، پیوستگی ایجاد کنند.

آنها نه تنها دروس تدریس شده را بهتر در ذهن دانش‌آموزان جا می‌اندازند، بلکه آنها را برای پذیرش دروس آینده هم آماده‌تر می‌کنند.

کدام مورد، فرض مستتر در استدلال فوق است؟

(iranarze.ir) (هشتمین آزمون فراگیر دستگاه‌های اجرایی مشترک با آموزش و پرورش آبان ۱۳۹۹) (مجری سنجش)

(۱) در حال حاضر، در برخی مدارس، تکالیف درسی برای دانش‌آموزان وجود ندارد.

(۲) انجام تکالیف درسی، جزء لاینفک آموزش کلاسیک مدرسه‌ای است.

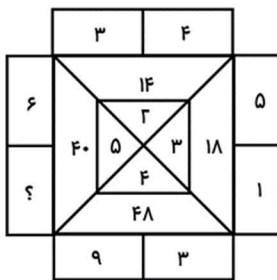
(۳) تدوین تکالیف درسی مبتنی بر دروس کلاسی انجام می‌پذیرد.

(۴) موفقیت دانش‌آموزان در هر سطح آموزشی، منوط به یادگیری نکات آموزشی سطوح پیشین است.

راهنمایی: سؤال ۳۸ را به دقت بخوانید و جواب هر سؤال را در پاسخنامه علامت بزنید.

۳۸- در شکل روبه‌رو، بین اعداد ارتباط خاصی برقرار است. به جای علامت سؤال، کدام عدد زیر باید قرار بگیرد؟

(iranarze.ir) (هشتمین آزمون فراگیر دستگاه‌های اجرایی مشترک با آموزش و پرورش آبان ۱۳۹۹) (مجری سنجش)



۲ (۴)

۱۴ (۳)

۸ (۲)

۴ (۱)

ایران عرضه

مرجع نمونه سوالات

آزمون های استخدامی

به همراه پاسخنامه تشریحی

خدمات ایران عرضه:

- ارائه اصل سوالات آزمون های استخدامی
- پاسخنامه های تشریحی سوالات
- جزوات و درسنامه های آموزشی

برای دانلود رایگان سوالات استخدامی موسسه حسابرسی سازمان تامین اجتماعی، اینجا بزنید

همچنین جهت مشاهده آخرین اخبار استخدامی موسسه حسابرسی سازمان تامین اجتماعی، اینجا بزنید

« انتشار یا استفاده غیر تجاری از این فایل، بدون حذف لوگوی ایران عرضه، مجاز می باشد »

