

توضیحات:

- مجری آزمون سنجش
- آزمون آبان ۱۳۹۸
- شامل ۶۰ سوال
- حیطه عمومی

اصل سوالات حیطه عمومی


آزمون استخدامی بانک

رفاه کارگران ۱۳۹۸ سری 100A

برای دانلود رایگان جدیدترین سوالات استخدامی ادوار گذشته بانک رفاه کارگران، اینجا بزنید

همچنین جهت مشاهده آخرین اخبار استخدامی بانک رفاه کارگران، اینجا بزنید

« انتشار یا استفاده غیر تجاری از این فایل، بدون حذف لوگوی ایران عرضه، مجاز می باشد »



فهرست مطالب (برای مراجعه به هر بخش، روی عنوان بزنید)


❖ فناوری اطلاعات (مهارت های Word, Power Point, Excel, Internet) - صفحه ۲

❖ زبان انگلیسی-عمومی - صفحه ۴

❖ استعداد شغلی - صفحه ۷

فناوری اطلاعات (مهارت های Word, Power Point, Excel, Internet)

۱- شکل زیر، بخشی از یک سند در نرم افزار Word 2013 را نشان می دهد. کدام مورد در خصوص تعداد کلمات نشان داده شده صحیح است؟



(۱) تعداد کلمات انتخاب شده، ۱۳۳۰ کلمه است

(۲) تعداد کلمات انتخاب شده، ۴۵ کلمه است.

(۳) ۱۳۳۰ فاصله انتخاب شده است


(۴) ۴۵ فاصله انتخاب شده است.

۲- در نرم افزار Word 2013، برای باز کردن یک لینک در متن، از کدام کلید استفاده

می شود؟ (iranarze.ir)

Ctrl (۱) Alt (۲) Shift (۳) Tab (۴)

۳- شکل زیر، بخشی از گروه Fonts را در نرم افزار Word 2013 نشان می دهد. تفاوت A^{\wedge} با x^2 کدام است؟ (iranarze.ir)



(۱) A^{\wedge} برای Header و x^2 برای Footnote استفاده می شود.

(۲) A^{\wedge} برای افزایش اندازه متن و x^2 برای Footnote استفاده می شود.

(۳) A^{\wedge} برای افزایش اندازه حروف و x^2 برای افزایش اندازه اعداد استفاده می شود.

(۴) A^{\wedge} برای افزایش اندازه متن و x^2 برای نوشتن متن بر بالای خط متن استفاده می شود.

۴- کدام یک از تبدیل های زیر، در نرم افزار Word 2013 امکان پذیر است؟ (iranarze.ir)

Picture to Table (۱) Text to Table (۲)

Smart Art to Table (۳) Shape to Table (۴)

۵- کدام مورد، برای تغییر ظاهر متن در نرم افزار Word 2013 استفاده می شود؟ (iranarze.ir)

Symbol (۱) Shape (۲) Style (۳) Layout (۴)

۶- در نرم افزار Word 2013، درج Watermark در کدام سربرگ انجام می شود؟ (iranarze.ir)

Mailing (۱) Insert (۲) Design (۳) View (۴)

۷- کدام مورد در خصوص Ruler در نرم افزار Word 2013، صحیح است؟ (iranarze.ir)

(۱) تنها خط کش افقی وجود دارد.

(۲) برای نمایش خط کش باید Add-in مجزا نصب کرد.

۳) نمایش خط کش در چهار سمت نرم افزار امکان پذیر است.

۴) نمایش خط کش عمودی در تنظیمات نرم افزار امکان پذیر است.

۸- تعداد آرگومان الزامی برای تابع SUM در نرم افزار Excel 2013، کدام است؟ (iranarze.ir)

۱ (۱) ۲ (۲) ۳ (۳) صفر ۴ (۴) ۳

۹- حاصل فرمول روبه رو، در نرم افزار Excel 2013 کدام است؟ =COUNTIF(B2:B3;">55")

۱) تعداد سلول هایی که مقدار آنها در ستون های B2 و B3، بیشتر از ۵۵ است.

۲) تعداد سلول هایی که مقدار آنها در سلول های B2 و B3، بیشتر از ۵۵ است.

۳) تعداد سلول هایی که مقدار آنها در سلول های B2 و B3، بیشتر یا مساوی ۵۵ است.

۴) تعداد سلول هایی که مقدار آنها در ستون های B2 و B3، بیشتر یا مساوی ۵۵ است.

۱۰- در نرم افزار Excel 2013، ابزار Slicer برای کدام یک از موارد زیر، قابل استفاده است؟ (iranarze.ir)

۱) Pivot Charts و Pivot Tables، Tables

۲) فقط Pivot Tables و Pivot Charts

۳) فقط Pivot Tables و Tables

۴) فقط Tables

۱۱- در نرم افزار Excel 2013، در صورت ادغام چند سلول انگلیسی، متن کدام سلول در سلول نهایی ظاهر می شود؟ (iranarze.ir)

۱) Upper-Right

۲) Lower-Left

۳) Upper-Left

۴) Lower-Right

۱۲- برای جست و جو در نرم افزار Excel 2013، از کدام کلید ترکیبی استفاده می شود؟ (iranarze.ir)

۱) Ctrl + S

۴) Shift + S

۳) Shift+ F

۲) Ctrl + F

۱۳- در صورتی که بخواهید لوگوی سازمان شما در تمام اسلایدهای یک فایل PowerPoint قرار گیرد، از کدام مورد استفاده می کنید؟ (iranarze.ir)

۱) Style

۴) Slide Master

۳) Textbox

۲) Gridlines

۱۴- برای سازماندهی اسلایدهای موجود در یک فایل PowerPoint 2013، از کدام مورد می توان استفاده کرد؟ (iranarze.ir)

۱) Sections

۴) Marge

۳) Objects

۲) Watermark

۱۵- شکل زیر، کدام نوع شیء در نرم افزار PowerPoint 2013 را نشان می دهد؟ (iranarze.ir)

۱) Chart

۴) Word Art

۳) Smart Art

۲) Shape

۱۶- در هنگام چاپ در نرم افزار PowerPoint 2013، امکان چاپ کدام مورد وجود ندارد؟ (iranarze.ir)

۱) Full Page Slides

۲) Current View

۳) Notes Pages

۴) Outlines

۱۷- در نرم افزار Outlook 2013، درج @ در متن ایمیل به معنای کدام مورد است؟ (iranarze.ir)

۱) اضافه کردن گیرنده

۲) حذف گیرنده

۳) جلب توجه مخاطب خاص در یک ایمیل

۴) ارسال یک کپی مجزا از ایمیل به آن آدرس

۱۸- در نرم افزار Internet Explorer، کدام کلید ترکیبی، در ابتدای متن تایپ شده در نوار آدرس، عبارت www. و در انتهای آن، عبارت .com را درج

می کند؟ (iranarze.ir)

Ctrl+ Left Arrow (۲)

Ctrl + Enter (۱)

Alt + Enter (۴)

Ctrl+ Right Arrow (۳)

۱۹- (تهیه شده توسط ایران عرضه) مشاهده مستقیم یک شبکه تلویزیونی در اینترنت، چه نام دارد؟ (iranarze.ir)

Downloading (۲)

Capturing (۱)

Networking (۴)

Streaming (۳)

۲۰- ظاهر، رنگ، اندازه و چگونگی نمایش عناصری که در یک صفحه وب درج شده اند را با استفاده از کدام زبان توصیف می کنند؟ (iranarze.ir)

CSS (۴)

ASP (۳)

PHP (۲)

XML (۱)

زبان انگلیسی-عمومی

PART A: Grammar and Vocabulary

Directions: Choose the word or phrase (1), (2), (3), or (4) that best completes each sentence. Then mark the correct choice on your answer sheet.

21- The insert rate is the amounton top of the principal by a lender to a borrower for the use of assets.

- 1) charged
2) that charged
3) charging
4) is charged

22- There have been no bankruptcies among insurance companies or manufacturers, nor.....hampered as a result.

- 1) technical progress has
2) technical progress has been
3) has technical progress
4) has technical progress been

23-merchant banks are fee-based, investment banks have a two-fold income structure. (iranarze.ir)

- 1) Yet
2) Despite
3) While
4) Nevertheless

24-in firms that use and deliver disruptive technology carries significant risk. (iranarze.ir)

- 1) Investing
2) That investing
3) If investing
4) When investing

25- Mobile commerce is an increasingly large subset of electronic commerce,firms or individuals conduct business over the Internet. (iranarze.ir)

- 1) for a model where
2) a model which
3) a model where
4) through a model of

26- The National Weather Service's main job is to track dangerous weather patterns andtheir routes.

- 1) exaggerate
2) anticipate
3) exhilarate
4) annihilate

27- The reason for the murder is still.....as the police have been unable to find any substantial clues. (iranarze.ir)

- 1) notorious
2) ambiguous
3) hazardous
4) meticulous

28- The company was fined for racialafter a review highlighted the absence of minorities in key positions.

- 1) discrimination
2) consolidation

3) proclamation

4) reciprocation

29-As banking.....over time, people realized that carrying large amounts of gold over long distances was unsafe as well as inconvenient.(iranarze.ir)

1) eloped

2) eroded

3) elapsed

4) evolved

30- Investment banking deals.....with the creation of capital for other companies, governments, and other entities. (iranarze.ir)

1) obviously

2) primarily

3) consequently

4) approximately

PART B: Reading Comprehension

Directions : Read the following two passages and select the choice (1),(2),(3),or (4) that best answers each question. Then mark your answer on your answer sheet.

Passage 1:

Virtually nothing is known about Ptolemy's life except what can be inferred from his writings. His first major astronomical work, the *Almagest*, was completed in about AD 150 and contains reports of astronomical observations that Ptolemy had (prepared by iranarze.ir)made over the preceding quarter of a century.

The *Almagest* was called by Ptolemy *He mathematike syntaxis* ("The Mathematical Collection") because he believed that its subject, the motions of the heavenly bodies, could be explained in mathematical terms. The opening chapters present empirical arguments for the basic cosmological framework within which Ptolemy worked. The Earth, he argued, is a stationary sphere at the center of a vastly larger celestial sphere that revolves at a perfectly uniform rate around the Earth, carrying with it the stars, planets, sun, and moon-thereby causing their daily risings and settings. Through the course of a year the sun slowly traces out a great circle, known as the ecliptic, against the rotation of the celestial sphere. (The planets similarly travel against the "fixed stars" found in the ecliptic: hence the planets were known as "wandering stars.") The fundamental assumption of the *Almagest* is that the apparently irregular movements of the heavenly bodies are in reality combinations of regular, uniform, circular motions.

31- It can be inferred from the passage that Ptolemy made his astronomical observations around AD..... (iranarze.ir)

1) 175

2) 150

3) 125-150

4)150-175

32- What is the subject of the *Almagest*? (iranarze.ir)

1) Mathematical terms

2) Mathematical formulas

3) Motions of the heavenly

4) Cosmological analysis

33- Which of the following is the best synonym for the word "revolves" in paragraph 2?(iranarze.ir)

1) Rotates

2) Spans

3) Flaps

4) Roams

34- The word "it" in paragraph 2 refers to (iranarze.ir)

1) a stationary sphere

2) the Earth

3)uniform rate

4) a celestial sphere

35- Which of the following statements is true?(iranarze.ir)

1) Ptolemy's model of the universe was heliocentric.

2) Ptolemy called the sun and the moon "wandering stars".

- 3) Ptolemy believed in a geocentric model of the universe.
- 4) According to Ptolemy, there were no fixed stars in the ecliptic.

Passage 2:

Prior to the introduction of central banking, every bank could issue its own notes. As such, the economy would be flooded with thousands of different types of notes. The people accepting these notes would have very little idea of what the notes were worth or could be redeemed for. As such, there was less trust in the banking system as a whole. This is when the central banks took over. Central banks, in modern times have been granted the sole rights to print and distribute currency notes. The notes that they print are considered to be legal tender. This means that they are the only legally accepted form of money and the courts will only enforce debts if they are denominated in terms of the established legal tender. Therefore, modern day central banks have monopoly over the issue of currency notes. They are in a position to ensure its acceptability and maintain its value without the intervention of competing market forces.

Central banks in today's world, not only issue the currency notes but they also determine the amount and timings of such currency issue. The modern day monetary policy has virtually moved out of the realm of the government and into the realm of central banks. Central banks are supposed to be free of political influence. In theory this means that they would not inflate or deflate the currency of the nation to meet political objectives. It is for this reason that governments all across the world have minimal influence on monetary policy. Rather, it is the central banks that decide the quantum of money and credit that circulates within the economy at any time.

36- Which of the following would best describe the function of central banks in the first paragraph? (iranarze.ir)

- 1) Payment mechanism
- 2) Financier to the government
- 3) Control over monetary policy
- 4) Monopoly over the issue of currency notes

37- Why was there less trust in the banking system in the past? (iranarze.ir)

- 1) There were different types of notes available.
- 2) Everyone could easily print and distribute notes.
- 3) People were not sure how to work with the notes.
- 4) The central banks did not know what the notes could be redeemed for.

38- The word "granted" in paragraph 1 means..... . (iranarze.ir)

- 1) enforced
- 2) given
- 3) denied
- 4) kept

39- The word "they" in paragraph 1 refers to (iranarze.ir)

- 1) modern times
- 2) central banks
- 3) sole rights
- 4) the notes

40- Which of the following are central banks NOT allowed to do? (iranarze.ir)

- 1) Issue the nation's currency notes
- 2) Inflate or deflate the currency to meet political objectives
- 3) Determine the amount and timings of issuing the nation's currency
- 4) Decide the quantum of money and credit that circulates within the economy

استعداد شغلی:

راهنمایی: در این بخش از آزمون، دو متن داده شده است. هر کدام از متن ها را به دقت بخوانید و صحیح ترین پاسخ را برای سؤال هایی که در زیر هر متن آمده است، انتخاب کنید و در پاسخنامه علامت بزنید.

متن اول:

کارکنان نیازهای متفاوتی دارند. بعضی با دریافت پول بیشتر، بعضی با پذیرفته شدن، بعضی با تشویق و احساس رضایت می کنند. در سازمان هایی که به صورت سنتی اداره می شوند، مدیران فقط به دنبال تأمین نیازهای فیزیولوژیکی و ایمنی که اولین نیاز در سلسله مراتب نیازهای آبراهام مازلو می باشد، هستند. در این سطح، نیازهای اصلی و اساسی آنها، مانند شکوفایی که از جمله نیازهای روانی است، برآورده نمی شود. کارکنان در صورت عدم تأمین نیازهای اساسی شان، ابتدا احساس رضایت نمی کنند و سپس بعد از تلاش برای ارضای این نیاز و مواجه شدن با عدم توجه مدیران، انگیزه در آنها از بین می رود و در نهایت بی تفاوت خواهند شد. این مسئله، چون به مرور به وجود می آید، در کارکنان قدیمی بیشتر دیده می شود.

۴۱- موضوع اصلی متن، کدام است؟

- (۱) نتیجه عدم توجه به نیازهای کارکنان
(۲) نیازهای مادی و روانی کارکنان از نظر آبراهام مازلو
(۳) معایب مدیریت سنتی
(۴) فرآیند شکل گیری نیازهای جدید در کارکنان

۴۲- عبارت «این نیاز» در متن، به کدام مورد اشاره دارد؟ (iranarze.ir)

- (۱) انگیزه (۲) نیاز روانی (۳) سطح نیازهای اصلی (۴) احساس رضایت

۴۳- بر طبق متن، کدام مورد صحیح است؟ (iranarze.ir)

- (۱) بی انگیزه شدن کارکنان، یک فرآیند تدریجی است.
(۲) سلسله مراتب نیازهای آبراهام مازلو، نیازمند بازنگری است.
(۳) مدیران قبل از توجه به نیازهای فیزیولوژیکی و ایمنی کارکنان، لازم است که اول نیازهای اساسی آنها را برآورده نمایند.
(۴) کارکنانی هستند که دریافت پول بیشتر، پذیرفته شدن و تشویق، چنان برایشان مهم است که در صورت برآورده شدن این نیازها، دچار بی تفاوتی نمی شوند.

متن دوم:

در زمان اداره بانک های ضعیف، مداخله به موقع از اهمیت خاصی برخوردار است، زیرا جلوی وخیم تر شدن مشکل را می گیرد. در بسیاری از موارد، هیئت مدیره و بسیاری از مدیران بانک، مثل ناظران، تمایل به تأخیر در اتخاذ واکنش اصلاحی دارند. [۱] دلیل اصلی این است که ایشان امید دارند که مشکل با گذشت زمان حل شود. به علاوه برخی عوامل خارج از بانک هم ممکن است به طور مستقیم و غیرمستقیم، بر ناظران اعمال نفوذ کنند تا ایشان را وادار کنند که در روند کارها تعلل ایجاد کنند. [۲] اما تجربیات بین المللی نشان داده که اگر مشکلات بانک ها سریعاً تشخیص داده نشوند، وخیم تر خواهند شد. [۳] یک طرح واکنش اصلاحی برای بانکی که ضعیف تشخیص داده شده، می بایست با جزئیات کامل و دقیق باشد و در ضمن، بیانگر این مهم باشد که چگونه بانک می تواند به موقعیت مالی خود بازگردد. یک ناظر باید قدرت تشخیص این نکته را داشته باشد که آیا مرحله و روند کار رضایت بخش بوده یا اقدامات بیشتری لازم است. [۴] ناظر همچنین باید مکانیسم به جایی برای اطلاع رسانی یا مشورت با دولت، بانک مرکزی، مسئولین گزیر و دیگر آژانس های نظارتی داخل و خارج داشته باشد.

۴۴- بر طبق متن، چرا اقدام برای حل مشکل در بانک های ضعیف کند است؟ (iranarze.ir)

- (۱) عوامل خارج از بانک به دلیل عدم آگاهی از وخامت اوضاع، خواستار رفع سریع مشکل نمی شوند.
(۲) هماهنگی لازم بین بخش های مختلف که مسئول حل مشکلات هستند، وجود ندارد.

۳) تفکر غالب بر این است که مشکل خود به خود محو می شود.

۴) ناظرین انگیزه لازم برای اقدام سریع را ندارند.

۴۵- اطلاعات کافی برای پاسخ به کدام سؤال زیر، در متن وجود دارد؟ (iranarze.ir)

۱) چرا ناظرین برای مشورت با دولت و بانک مرکزی و سایر تشکیلات مربوطه، باید مکانیسم های خاصی داشته باشند؟

۲) چه چیز مؤید آن است که اگر مشکلات بانک ها سریع تشخیص داده نشوند، این مشکلات وخیم تر می شوند؟

۳) چرا برخی از عوامل خارجی، سعی در ایجاد تعلل در روند حل مشکلات بانک های ضعیف می کنند؟

۴) ویژگی مشخصه بانکی که ضعیف قلمداد می شود، کدام است؟

۴۶- کدام قسمت از متن که با شماره های [۱]، [۲]، [۳] و [۴] مشخص شده اند، بهترین قسمت برای قرار گرفتن جمله زیر است؟ (iranarze.ir)

«بنابراین، از موارد مهم این است که برای تشویق مسئولین نظارتی، ایجاد انگیزه کنیم تا ایشان جهت پاسخ به مشکلات، واکنش سریع و جدی اتخاذ کنند.»

(۱) [۲] (۲) [۴] (۳) [۱] (۴) [۳]

راهنمایی: هر کدام از سؤال های ۴۷ تا ۵۲ را به دقت بخوانید و پاسخ صحیح آن را در پاسخنامه علامت بزنید.

۳		۶
	۱۵	?
	۱۷	۲۶
۴		۵

۴۷- در شکل زیر، بین اعداد ارتباط خاص و یکسانی برقرار است. به جای علامت سؤال، کدام عدد باید قرار بگیرد؟

(۱) ۸۱ (۲) ۵۲

(۳) ۳۷ (۴) ۲۹

۴۸- شکل زیر، یک مربع را نشان می دهد که به سه ناحیه A که مربع است و دو مستطیل B و C تقسیم شده است. اگر نسبت اضلاع مستطیل B، ۲ به ۵

A	B
C	

(تنظیم توسط فروشگاه ایران عرضه) باشد، نسبت اضلاع مستطیل C کدام است؟ (iranarze.ir)

(۱) ۲ به ۳ (۲) ۱ به ۳

(۳) ۱ به ۲ (۴) ۳ به ۵

۴۹- با برداشتن ۱۴ عدد پرتقال از درون جعبه ای که پرتقال های هم وزن دارد، وزن میوه های درون جعبه ۳۵ درصد کاهش می یابد. درون جعبه چند پرتقال

باقی می ماند؟ (iranarze.ir)

(۱) ۱۶ (۲) ۲۱ (۳) ۲۶ (۴) ۳۳

۵۰- فردی نصف پولی که دارد را به پسرش که اصلاً پولی ندارد، می دهد. پسر چند درصد از پولی که گرفته را باید به پدرش برگرداند تا یک چهارم پدرش پول

داشته باشد؟ (iranarze.ir)

(۱) ۲۵ (۲) ۴۰ (۳) ۵۰ (۴) ۶۰

۵۱- در صندوق مغازه ای فقط اسکناس ۲،۵ و ۱۰ هزار تومانی موجود است (به تعداد کافی). حسن یک کالای ۱۷ هزار تومانی می خرد و یک چک پول ۵۰ هزار

تومانی به مغازه دار می دهد و باقی پول خود را از وی می گیرد. حسن حداقل چند اسکناس می تواند گرفته باشد؟ (iranarze.ir)

(۱) ۶ (۲) ۷ (۳) ۸ (۴) ۹

۵۲- طول هر ۵ قدم سجاد، معادل ۸ قدم پسرش رضا است. آنها از دو نقطه روی یک خط راست به سمت هم شروع به قدم زدن می کنند و در جایی که به هم

می رسند، مجموعاً ۵۰ قدم برداشته اند، به طوری که تعداد قدم های سجاد، مضربی از ۵ است. اگر قرار بود کل مسیر فقط توسط سجاد طی شود، تعداد قدم

های وی، کدام عدد زیر است؟ (iranarze.ir)

۴۵ (۴)

۴۰ (۳)

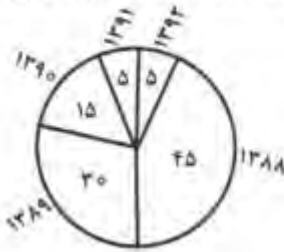
۳۵ (۲)

۳۰ (۱)

راهنمایی: با توجه به اطلاعات، نمودار و جدول زیر، به سؤال های ۵۳ تا ۵۶ پاسخ دهید.

از آمار تعداد حواله های ارزی صادره و صادره بانکی در پنج سال ۱۳۸۸ تا ۱۳۹۲، جدول و نمودار زیر حاصل شده است. تعداد حواله های وارده، مجموعاً ۲ هزار حواله بوده است.

نمودار درصد حواله‌های ارزی وارده در پنج سال



جدول تعداد حواله‌های ارزی صادره در پنج سال

سال	تعداد
۱۳۸۸	۲۴۰۰
۱۳۸۹	۳۰۰۰
۱۳۹۰	۴۲۰۰
۱۳۹۱	۱۶۰۰
۱۳۹۲	۱۸۰۰

۵۳- تقریباً چند درصد از تعداد حواله های ارزی صادره در این پنج سال، مربوط به سال ۱۳۹۰ بوده است؟ (iranarze.ir)

- ۳۲ (۱) ۲۳ (۲) ۲۱ (۳) ۱۴ (۴)

۵۴- در سال آخر، تعداد حواله های صادره چند برابر تعداد حواله های وارده بوده است؟ (iranarze.ir)

- ۸ (۱) ۱۶ (۲) ۱۸ (۳) ۳۰ (۴)

۵۵- حواله های صادره در سال ۱۳۹۱، تقریباً چند درصد از کل حواله های سال های ۱۳۹۱ و ۱۳۹۲ بوده اند؟ (iranarze.ir)

- ۳۷ (۱) ۴۴ (۲) ۴۶ (۳) ۴۷ (۴)

۵۶- در سال ۱۳۸۹، نسبت حواله های وارده به حواله های صادره کدام بوده است؟ (iranarze.ir)

- ۵ به ۲ (۱) ۲ به ۷ (۲) ۴ به ۱ (۳) ۵ به ۱ (۴)

راهنمایی: با توجه به اطلاعات و شکل زیر، به سؤال های ۵۷ تا ۶۰ پاسخ دهید.

در یکی از شعب بانک رفاه، چهار باجه به شماره های ۱ تا ۴، مطابق شکل زیر، کنار هم قرار دارند. چهار نفر به اسامی A، B، C و D جهت امور بانکی خود، هر کدام جلوی یکی از باجه ها نشسته اند. کار این چهار نفر، با رعایت تمام محدودیت های زیر، با ترتیب خاصی تمام می شود.

- D نه دقیقاً کنار B نشسته است و نه آخرین نفری است که کارش تمام می شود.
- A دقیقاً بعد از فردی که جلوی باجه ۳ نشسته است و زودتر از C، کارش تمام می شود.
- فردی که به باجه شماره ۲ مراجعه کرده، یا C است یا اولین نفری است که کارش تمام شده.

باجه ۱	باجه ۲	باجه ۳	باجه ۴

۵۷- اگر B سومین نفری باشد که کارش تمام می شود، فردی که به باجه شماره ۳ مراجعه کرده است، چندمین نفری است که کارش تمام می شود؟

- چهارمین (۱) سومین (۲) دومین (۳) اولین (۴)

۵۸- اگر سومین نفری که کارش تمام می شود C باشد، D به کدام باجه مراجعه کرده است؟ (iranarze.ir)

- ۴ (۱) ۳ (۲) ۲ (۳) ۱ (۴)

۵۹- اگر D سومین نفری باشد که کارش تمام می شود، آخرین نفری که کارش تمام می شود به کدام باجه مراجعه کرده است؟ (iranarze.ir)

۱ (۴)

۲ (۳)

۳ (۲)

۴ (۱)

۶۰- اگر اولین نفری که کارش تمام می شود به باجه شماره ۱ مراجعه کرده باشد، برای چند نفر از چهار نفر، شماره باجه ای که به آن مراجعه کرده اند، به طور

قطع مشخص می شود؟ (iranarze.ir)

۴ (صفر)

۱ (۳)

۴ (۲)

۲ (۱)



ایران عرضه

مرجع نمونه سوالات

آزمون های استخدامی

به همراه پاسخنامه تشریحی

خدمات ایران عرضه:

- ارائه اصل سوالات آزمون های استخدامی
- پاسخنامه های تشریحی سوالات
- جزوات و درسنامه های آموزشی

برای دانلود رایگان جدیدترین سوالات استخدامی ادوار گذشته بانک رفاه کارگران، اینجا بزنید

همچنین جهت مشاهده آخرین اخبار استخدامی بانک رفاه کارگران، اینجا بزنید

« انتشار یا استفاده غیر تجاری از این فایل، بدون حذف لوگوی ایران عرضه، مجاز می باشد »

