

توضیحات:

- آزمون مهر ۱۳۹۹
- مجری آزمون سنجش
- شامل ۱۰۵ سوال
- حیطة عمومی

اصل سوالات حیطة عمومی


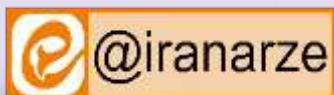
آزمون استخدامی وزارت بهداشت

۱۳۹۹ سری 200D

برای دانلود رایگان جدیدترین سوالات استخدامی ادوار گذشته وزارت بهداشت، اینجا بنزید

همچنین جهت مشاهده آخرین اخبار استخدامی وزارت بهداشت، اینجا بنزید

« انتشار یا استفاده غیر تجاری از این فایل، بدون حذف لوگوی ایران عرضه، مجاز می باشد »



فهرست مطالب

- ❖ فناوری اطلاعات و مهارت های هفتگانه I.C.D.L - صفحه ۲
- ❖ ریاضی و آمار مقدماتی - صفحه ۴
- ❖ زبان و ادبیات فارسی - صفحه ۵
- ❖ معارف اسلامی - صفحه ۷
- ❖ زبان انگلیسی عمومی - صفحه ۸
- ❖ اطلاعات عمومی، دانش اجتماعی و حقوق اساسی - صفحه ۱۰
- ❖ هوش و توانمندی های عمومی - صفحه ۱۱

فناوری اطلاعات و مهارت های هفتگانه I.C.D.L

۱- در یک کامپیوتر ، کدام مورد از وظایف نرم افزارهای سیستمی است ؟ (iranarze.ir)

(۱) مدیریت سخت افزارها ، نرم افزارها ، و اطلاعات موجود در یک سیستم

(۲) کنترل محاسبات در سیستم های کامپیوتری

(۳) تهیه سیستم های مالی و محاسباتی

(۴) مدیریت سیستم های ایمنی

۲- کدام مورد زیر را می توان یک فایل اجرایی دانست ؟ (iranarze.ir)

(۱) FILE .TEXT (۲) File. Int (۳) File.exe (۴) File . xls

۳- کدام مورد در خصوص fonts در windows ۱۰ صحیح است ؟ (iranarze.ir)

(۱) در هر بروز رسانی سیستم عامل ، لیست فونت ها به حالت اولیه برگردانده می شود.

(۲) بیش از هزار فونت به صورت پیش فرض بر روی سیستم عامل نصب است

(۳) بدون نصب فونت های سری B نم ی توان کاراکترهای فارسی تایپ کرد

(۴) امکان جست و جو ی فونت ها ی نصب شده وجود دارد.

۴- کدام مورد در خصوص BIN RECYCLE در windows ۱۰ صحیح است ؟ (iranarze.ir)

(۱) در windows ۱۰ وجود ندارد.

(۲) قابلیت SHOW و HIDE کردن آن بر روی DESKTOP وجود دارد

(۳) برای اضافه کردن آن به سیستم عامل ، باید سیستم عامل به روز رسانی شود

(۴) برای اضافه کردن آن به سیستم عامل ، باید UTILITIES MICROSOFT نصب شود

۵- ابزار COMPARE برای مقایسه دو سند WORD ۲۰۱۶ استفاده می‌شود. در صورت وجود مغایرت در دو سند، کدام مورد توسط این ابزار قابل تشخیص

نیست؟ (iranarze.ir)

DOCUMENT PROPERTY (۲)

CASE CHANGES (۱)

WHITE SPACES (۴)

FORMATTING (۳)

۶- در نرم افزار WORD ۲۰۱۶، در صورتی که سند شما باید از استاندارد APA برای درج مراجع پیروی کند، کدام مورد برای اعمال فرمت این استاندارد کاربرد دارد؟ (iranarze.ir)

(۱) ایجاد سبک مورد نظر براساس فرمت اعمال شده و اضافه کردن آن به گروه CITATION & Bibliography

(۲) ایجاد سبک مورد نظر براساس فرمت اعمال شده و اضافه کردن آن به گروه styles

(۳) انتخاب سبک مورد نظر در گروه CITATION & Bibliography

(۴) انتخاب سبک مورد نظر در گروه styles

۷- در نرم افزار word ۲۰۱۶ خط کش در کدام نما قابل مشاهده نیست؟ (iranarze.ir)

Print layout (۴)

Draft (۳)

Web layout (۲)

Outline (۱)

۸- شکل زیر، بخشی از یک کاربرگ در نرم افزار EXCEL ۲۰۱۳ را نشان می‌دهد. حذف ردیف ۴ در این کاربرگ، باعث کدام تغییر در مقدار سلول C۱ می‌شود؟ (iranarze.ir)

(۱) خطای RELL رخ می‌دهد.

(۲) مقدار آن برابر با ۶ می‌شود

(۳) مقدار آن بدون تغییر باقی می‌ماند.

(۴) خطای! VALUE رخ می‌دهد

۹- با استفاده ترکیبی از توابع SUM و COUNT کدام یک از توابع زیر را می‌توان در نرم افزارهای EXCEL ۲۰۱۶ ساده سازی کرد؟ (iranarze.ir)

AVERAGL (۴)

MAX (۳)

CONCAHNAH (۲)

TRUE (۱)

۱۰- در نرم افزار EXCEL ۲۰۱۶ کدام تابع زیر می‌تواند بیش از یک عملگر داشته باشد؟ (iranarze.ir)

NOW (۴)

PRODUCT (۳)

SIN (۲)

NOL (۱)

۱۱- کدام مورد در خصوص کلید در نرم افزار ۲۰۱۶ ACCESS صحیح است؟ (iranarze.ir)

(۱) مقدار آن در جدول، منحصر به فرد است

(۲) برای بازیابی کل جدول می‌تواند استفاده شود

(۳) مقدار آن در کل پایگاه داده، منحصر به فرد است.

(۴) برای بازیابی کل پایگاه داده می‌تواند استفاده شود.

۱۲- در نرم افزار ۲۰۱۶ POWERPOINT کدام روش برای نمایش یک اسلاید مخفی در نمای SHOW SLIDE استفاده می‌شود؟ (iranarze.ir)

(۱) کلیک راست بر روی اسلاید و انتخاب SHOW HIDDEN

(۲) کلیک راست بر روی اسلاید و انتخاب Show all

(۳) فشردن کلیدهای ctrl + H

(۴) فشردن کلید H

۱۳- شکل زیر، پنجره ZOOM در نرم افزار ۲۰۱۶ PONIT POWER را نشان می‌دهد. این پنجره بر روی کدام مورد، اعمال می‌شود؟ (iranarze.ir)

Selection pane (۴)

STATUS BAR (۳)

MENU BAR (۲)

SLIDES (۱)

۱۴- زبان استاندارد برای نمایش المان‌های طراحی شده در یک صفحه وب توسط مرورگر کدام است؟ (iranarze.ir)

MOZILLA (۴)

HTML (۳)

MDN (۲)

SQL (۱)

۱۵- نامه دریافت شده از یک کاربر دیگر، در کدام پوشه زیر، ممکن است قرار گیرد؟ (iranarze.ir)

SENT (۴) OUTBOX (۳) SPAM (۲) DRAFT (۱)

ریاضی و آمار مقدماتی

۱۶- حاصل عبارت $\sqrt[3]{9 - \sqrt{17}} \times \sqrt[3]{9 + \sqrt{17}}$ کدام است؟ (iranarze.ir)

۴ (۴) ۸ (۳) ۱ (۲) ۲ (۱)

۱۷- اگر $A \cap C = A$ و $A \cap B' = B'$ باشد، مجموعه B U C با کدام مجموعه برابر است؟ (iranarze.ir)

A' (۴) A (۳) \emptyset (۲) M (۱)

۱۸- اگر $f = \{(0, 4), (3, 3), (2, 2), (1, 2), (0, 1), (0, 0)\}$ و $g = \{(2, -1), (0, 0), (0, 1), (1, 2), (2, 2)\}$ باشد، مقدار $f(g(-2)) - f(f(2))$ کدام است؟ (iranarze.ir)

۳ (۴) ۵ (۳) ۱ (۲) ۲ (۱)

۱۹- به ازای چند مقدار صحیح m نمودار تابع $y = \frac{1}{2}x^2 + (m-2)x + 1$ همواره بالای نمودار محور x هاست؟ (iranarze.ir)

۴ (۴) ۵ (۳) ۲ (۲) ۳ (۱)

۲۰- دو خط $ax - y = -\frac{9}{4}$ و $-4x + y = 8a$ برهم عمودند. مقدار a کدام است؟ (iranarze.ir)

1 (۴) 4 (۳) $\frac{1}{4}$ (۲) $\frac{1}{4}$ (۱)

۲۱- اگر $S_n = 2n^2 + n$ مجموع n جمله اول دنباله حسابی $\{a_n\}$ باشد، a_n کدام است؟ (iranarze.ir)

۳۹ (۴) ۳۶ (۳) ۴۳ (۲) ۴۰ (۱)

۲۲- اگر حاصل ضرب و مجموع مربعات دو عدد به ترتیب ۶- و ۱۳ باشد، قدر مطلق مجموع مکعبات آنها کدام است؟ (iranarze.ir)

۱۸ (۴) ۱۹ (۳) ۷ (۲) ۸ (۱)

۲۳- نمودار تابع $|x| + |y| = 4$ نمایش کدام شکل هندسی است؟ (iranarze.ir)

لوزی (۱) مربع (۲) متوازی الاضلاع (۳) مستطیل (۴)

۲۴- اگر $\tan x = \frac{1}{3}$ و $\cos x < 0$ باشد مقدار $\cos x$ کدام است؟ (iranarze.ir)

$\frac{5}{10}$ (۴) $-\frac{9}{10}$ (۳) $\frac{3}{\sqrt{5}}$ (۲) $-\frac{3}{\sqrt{10}}$ (۱)

۲۵- عبارت $\frac{(x^2 - 4x + 4)(x^3 - 1)}{(x+1)^2}$ در بازه ی (a, -1) همواره منفی است، مقدار a کدام است؟ (iranarze.ir)

۱.۵ (۴) ۱ (۳) ۲.۵ (۲) ۲ (۱)

۲۶- حسن و ۶ نفر دیگر وارد اتاقی می شوند که در آن ۷ صندلی تعبیه شده است. با کدام احتمال، حسن روی صندلی وسط می نشیند؟ (iranarze.ir)

$\frac{1}{7}$ (۴) $\frac{1}{6}$ (۳) $\frac{6}{7}$ (۲) $\frac{5}{6}$ (۱)

۲۷- در بررسی نمرات درسی آمار زیستی دانشجویان یک کلاس، نوع متغییر کدام است؟ (iranarze.ir)

کیفی - اسمی (۱) کیفی - ترکیبی (۲)

کمی - گسسته (۳) کمی - پیوسته (۴)

۲۸- داده های آماری در بازه ی [۶۰ و ۳۳] قرار دارند. اگر این داده ها در ۹ طبقه دسته بندی شوند، مرکز دسته وسط کدام است؟ (iranarze.ir)

(۱) ۴۶ (۲) ۴۶.۵ (۳) ۴۳ (۴) ۴۳.۵

۲۹- ۲۰۰ داده در ۱۰ طبقه دسته بندی شده است. اگر فراوانی تجمعی دسته نهم برابر ۱۸۰ باشد، درصد فراوانی نسبی دسته دهم کدام است؟ (iranarze.ir)

(۱) ۱۵ (۲) ۱۷ (۳) ۱۰ (۴) ۱۲

۳۰- اگر ۱۴۰۲، ۱۴۰۰، ۱۴۰۳، ۱۴۰۱ و ۱۴۰۴ داده های جمع آوری شده در یک مطالعه آماری باشند، انحراف معیار کدام است؟ (iranarze.ir)

(۱) $\sqrt{2}$ (۲) $\sqrt{3}$ (۳) ۲ (۴) ۳

زبان و ادبیات فارسی

۳۱- معنی هر یک از واژه های رو به رو به ترتیب کدام است؟ « نعت ، مفلس ، مشاطه » (iranarze.ir)

(۱) توصیف، فقیر، آوازه خوان (۲) ستایش، درویش، آرایشگر

(۳) مدح، ناتوان، آوازه خوان (۴) وصف، بی چیز، آشپز

۳۲- در کدام عبارت، معنی واژه مشخص شده « غلط » است؟ (iranarze.ir)

(۱) تحصیل باید با فراغ بال و تانی انجام گیرد (آهستگی) (۲) خود را از تعلق به حیفه های ناچیز روزگار بی نیاز کن (لاشه)

(۳) روز دیگر گوشت مضمحل شده بود (نابود) (۴) روزبه اهتزاز هر چه تمام تر بنمود (علاقه مندی)

۳۳- در کدام گروه کلمه « غلط املایی » وجود دارد؟ (iranarze.ir)

(۱) بیقوله و کنج، ارتزاق و روزی خوردن، حاجب و پرده دار (۲) اعزاز و گرامی داشتن، مالوف و خو گرفته، اعتکاف و گوشه نشینی

(۳) آسوه و سرمشق، ابتر و ناقص، جزمیت و قطعیت (۴) تبختر و تکبر، حاذق و ماهر، بیت الحزن و ماتمکده

۳۴- در متن زیر چند غلط املایی یافت می شود؟ (iranarze.ir)

« معلوم گردد که روح پاک علوی نورانی را در صورت قالب خاکی سفلی ظلمانی کشیدن چه حکمت بود و باز مفارغت دادن و قطع تعلق روح از قالب کردن چراست؟ و باز در هشر قالب را نشر کردن و کسوت روح ساختن سبب چیست؟ »

(۱) دو (۲) یک (۳) چهار (۴) سه

۳۵- کدام بیت فاقد آرایه مجاز است؟ (iranarze.ir)

(۱) بنا کرد و نان داد و لشکر نواخت شب از بهر درویش شب خانه ساخت

(۲) بدو گفت خندان که نام تو چیست تن بی سرت را که خواهد گریست

(۳) برآشف ایران و برخاست گرد همی هر کسی کرد ساز نبرد

(۴) خروشی بر آمد ز دشت و ز شهر غم آمد جهان را از آن کار بهر

۳۶- آرایه های بیت زیر کدام اند؟ (iranarze.ir)

به یاد روی شیرین بیت می گفت چو آتش تیشه می زد کوه می سفت

(۱) استعاره، تشبیه، ایهام، تناسب (۲) مجاز، کنایه، ایهام، تناسب

(۳) مجاز، تشبیه، جناس (۴) استعاره، کنایه، اسلوب، معادله

۳۷- مفهوم کدام بیت با سایر ابیات تفاوت دارد ؟ (iranarze.ir)

- (۱) تهی دست در خوب رویان میبچ
- (۲) به یک بار بر دوستان زر مباحث
- (۳) اگر تنگ دستی مرو پیش یار
- (۴) به دست تهی بر نیاید امید
- که بی سیم مردم نیرزند هیچ
- وز آسیب دشمن به اندیشه باش
- وگر سیم داری بیا و بار
- به زر برکنی چشم د یو سفید

۳۸- مفهوم کنایی «گندم نمای جو فروش» از کدام بیت دریافت می شود ؟ (iranarze.ir)

- (۱) با نامرادی از همه کس زخم می خوریم
- (۲) چون به طاعت نگه کنی گنه است
- (۳) طاعت خود ز چشم خلق بپوش
- (۴) هوش به میخانه و رو در خدای
- ای وای اگر سپهر رود بر مراد ما
- عاشق خویش بین چه مرد ره است
- زان مکن یاد و در فزونی کوش
- وای بر این طاعت آلوده وای

۳۹- مفهوم عبارت زیر کدام است ؟ (iranarze.ir)

((دوستی آن را شاید که وقت خشم تو بر تو ببخشد))

- (۱) کسی شایسته دوستی است که وقتی بر او خشم گیری ، از تو در گذرد
- (۲) کسی را می توانی به درستی برگزینی که هرگز بر او خشم نگیری
- (۳) دوست خوب کسی است که بر تو خشم نگیرد ، حتی اگر به او دشمنی کنی
- (۴) کسی می تواند دوست اختیار کند که هنگام خشم بتواند گناه او را ببخشد.

۴۰- (تهیه شده توسط ایران عرضه) عبارت «آنچه گوید به لطف گوید نه به عنف» با کدام بیت، ارتباط مفهومی دارد؟ (iranarze.ir)

- (۱) چو کردت لطف و احسان و نکویی
- (۲) تو با این لطف طبع و دلربایی
- (۳) بنده حلقه به گوش از نوازی برود
- (۴) هر جا که لطف اوست کند سوسن از نبر
- حرامت باد اگر شکرش نگویی
- چنین سنگین دل و سرکش چرایی
- لطف کن لطف که بیگانه شود حلقه به گوش
- هرجا که عنف اوست کند خنجر از گیا

۴۱- کدام جمله از نظر نگارش «غلط» است؟ (iranarze.ir)

- (۱) دیروز بعد از ظهر پدرم به تهران آمده و زود برگشته بود
- (۲) وی ایشان را بنشانده و هر یکی را کاردی به دست راست داد
- (۳) روزگار ما را آموده و در کوره حوادث پرورده است .
- (۴) زلیخا ایشان را خوانده و جایگاهی ساخته بود.

۴۲- میان دو جمله مستقل که پیوند معنایی دارند ، کدام نشانه گذاری کاربرد دارد ؟ (iranarze.ir)

- (۱) نقطه (.)
- (۲) دو نقطه (:)
- (۳) نقطه ویرگول (؛)
- (۴) ویرگول (،)

۴۳- واژه قافیه در همه گزیننه ها «ماضی نقلی» است. به جز؟ (iranarze.ir)

- (۱) وه که پراکنده شد آنچه شد اندوخته
- (۲) یوسفی ارزان چنین کس چو تو نفروخته
- (۳) روشنی طلعتش زهره و مه سوخته
- (۴) کیست که امشب ز رخ مشعله افروخته

۴۴- نوع واژه های کدام مورد «مفاوت» است؟ (iranarze.ir)

- (۱) ترسناک - شرمگین (۲) پیرایه - گویش (۳) ارجمند - دو گانه (۴) هنرور - تنومند

۴۵- نقش دستوری «ت» در بیت زیر، به ترتیب کدام است؟ (iranarze.ir)

«لب شیرینت ار شیرین بدیدی در سخن گفتن بر او شکرانه بودی گر بدادی ملک پرویزت»

- (۱) مضاف الیه - مفعول (۲) مفعول - مضاف الیه (۳) متمم - مفعول (۴) مضاف الیه - متمم

معارف اسلامی

۴۶- «نمود ظاهری» ایمان، کدام مورد است؟ (iranarze.ir)

- (۱) معرفت الهی (۲) عقلانیت (۳) نیت پاک (۴) عمل صالح

۴۷- «آنچه انسان را از گناه حفظ می کند و موجب می شود که او به واجبات و مستحبات اهتمام بیشتری نشان دهد»، در تعریف کدام واژه است؟

- (۱) اخلاص (۲) تزکیه (۳) تقوا (۴) ایمان

۴۸- صفات فعل خداوند، از کدام دسته صفات اند؟ (iranarze.ir)

- (۱) از ارتباط ذات الهی با مخلوقات انتزاع می شوند، مانند خالقیت
(۲) از ارتباط ذات الهی با مخلوقات انتزاع می شوند، مانند قادریت
(۳) همواره با ذات الهی اند و در انتزاع آنها، نیاز به تصور موجودات دیگر نیست، مانند خالقیت
(۴) همواره با ذات الهی اند و در انتزاع آنها، نیاز به تصور موجودات دیگر نیست، مانند قادریت

۴۹- عبارت «اگر خداوند امری را اراده کند، بالضرورة تحقق می یابد» ناظر بر کدام اراده الهی است؟ (iranarze.ir)

- (۱) تشریحی (۲) تکوینی (۳) فعلی (۴) ذاتی

۵۰- اگر بگوییم «افعال فاعل، در نهایت اتقان؛ استواری و کمال است و هیچ نقص و کاستی به فعل او راه نمی یابد» خداوند را به کدام صفت وصف کرده ایم؟

- (۱) علیم (۲) حکیم (۳) عالم (۴) قیوم

۵۱- از آیه شریفه «ظَهَرَ الْفَسَادُ فِي الْبَرِّ وَالْبَحْرِ بِمَا كَسَبَتْ اَيْدِي النَّاسِ ...» کدام مفهوم دریافت می شود؟ (iranarze.ir)

- (۱) بسیاری از رنج ها و دردها شر نیستند، بلکه باعث تکامل و رشد اخلاق ی برخی از افراد ستمدیده هستند
(۲) بسیاری از انسان ها از اموری را که شر می دانند، واقعا شر نیستند، چون قضاوت ها ی ما سطحی و شتاب زده است.
(۳) دلیل شر دانستن برخی امور، ناشی از عدم شناخت جامع و کامل انسان هاست.
(۴) شر درجهان، از شرارت انسان حاصل می شود و شرارت انسان نیز ناشی از آزادی و اختیار است.

۵۲- قرآن مجید «دلیل ناخوش دانستن برخی امور را ناشی از عدم شناخت جامع و کامل می داند» کدام آیه شریفه زیر، گویای این مطلب است؟

- (۱) و عَسَىٰ اَنْ تَكْرَهُوا شَيْئًا وَّ هُوَ خَيْرٌ لَّكُمْ
(۲) و عَسَىٰ اَنْ تُحِبُّوا شَيْئًا وَّ هُوَ شَرٌّ لَّكُمْ
(۳) و لَنذيقنهم من العذاب اللدنی دون العذاب الکبر
(۴) ان الله ال یُغیِّر ما بقوم حتی یُغیِّروا ما بانفسهم

۵۳- رجمه آیه شریفه «اگر در آسمان و زمین، خدایانی جز الله بود، نظام آنها به تباهی می گرایید» ناظر بر کدام بعد توحید است؟ (iranarze.ir)

- (۱) حاکمیت (۲) مالکیت (۳) ربوبیت (۴) خالقیت

۵۴- آیات شریفه « وَ نَفْسٍ و ما سَوَّاهَا : فَالْهَمَّهَا فُجُورُهَا وَ تَقْوَاهَا » بیانگر کدام ودیعه الهی در انسان است ؟ (iranarze.ir)

- (۱) هدایت الهی و امدادهای او
(۲) گرایش به خیر و نیکی
(۳) فضیلت کرامت و عزت
(۴) فطرت خدا آشنا

۵۵- مصداق کامل ترین پایداری در برابر خواهش های دل کدام است؟ (iranarze.ir)

- (۱) یاد خدا
(۲) انفاق
(۳) روزه
(۴) نماز

۵۶- پیامبر خدا، حضرت محمد، به ترتیب حکومتش را بر چه پایه ای بنا کرد و تنها مالک گرامی بودن انسان ها ، کدام است؟ (iranarze.ir)

- (۱) برابری و مساوات - تقوا
(۲) تساوی و مساوات - تقوا
(۳) برابری و مساوات - ایمان
(۴) تساوی و مساوات - ایمان

۵۷- آیه شریفه «رَبِّنا ما خَلَقْتَ هذا باطلا سَبْحانَكَ » به کدام موضوع اشاره دارد؟ (iranarze.ir)

- (۱) مخلوقیت و بهره وری از حق
(۲) قانونمدی و هدف داری
(۳) همکاری و هماهنگی
(۴) همبستگی و وابستگی

۵۸- ترجمه آیه شریفه «آیا گمان کردید شما را بیهوده آفریده ایم ، و به سوی ما باز نمی گردید » بیانگر کدام برهان عقلی معاد است؟ (iranarze.ir)

- (۱) امکان معاد در پرتو معقولیت
(۲) امکان معاد در پرتو حکمت
(۳) ضرورت معاد در پرتو معقولیت
(۴) ضرورت معاد در پرتو حکمت

۵۹- با توجه به آیه شریفه «هر انسانی وارد محشر می گردد؛ در حالی که همراه او سوق دهنده و گواهی دهنده ای است» بر کدام یک از گواهان روز رستاخیز اشاره دارد؟ (iranarze.ir)

- (۱) قرآن
(۲) زمان
(۳) فرشتگان
(۴) پیامبران

۶۰- کدام مورد بیانگر رابطه میان «عمل» و «پاداش و کیفر» در قیامت است ؟ (iranarze.ir)

- (۱) صورت حقیقی اعمال است که با از بین رفتن ظاهر عمل باقی مانده است.
(۲) براساس مجموعه ای از قراردادهای تعیین می شود که با میزان جرم و کیفر متناسب است
(۳) گزارشی است که فرشتگان آن را ثبت کرده اند تا در قیامت عرضه شود .
(۴) محصول طبیعی خود عمل است و الزم است تا انسان از آن مطلع باشد.

زبان انگلیسی - عمومی

DIRECTION : choose the word or phase (1) , (2) , (3) or (4) that best complete each sentence . then mark the correct choice on your answer sheet.

61- if I had known you and your family were coming to visit me , I a cake. . (iranarze.ir)

- 1) WOULD have baked
2) Would bake
3) Had baked
4) Have baked

62- My mother has made some sandwiches..... we have a snake on the way. . (iranarze.ir)

- 1) UNLESS
2) So that
3) Whereas
4) Whether

63- strange as it may seem the light came on no one as near the switch. . (iranarze.ir)

- 1) otherwise 2) accordingly 3) although 4) despite

64- Professor Thompson I often spoke when I took his class ,received the outstanding researcher award last year.

- 1) To him 2) To whom 3) While 4) Whom

65- Not only my birthday, but she also did not even apologize for forgetting it . . (iranarze.ir)

- 1) Susan forget 2) Forgot Susan 3) Susan did forget 4) Did Susan forget

DIRECTIONS: choose the word or phase (1) (2) , (3) or (4) that best completes each sentence. Then mark the correct choice on your answer sheet

66- I would not say that the man was a willing volunteer , since his to go on stage was written all over his face?

- 1) Resemblance 2) Coincidence 3) Endurance 4) Reluctance

67- When the volcano erupted , lava the whole town and forced people out of their homes? . (iranarze.ir)

- 1) Inundated 2) Aggravated 3) Terminated 4) Humiliated

68- Unfortunately , software i saw in saw in the store is not with my MAC. . (iranarze.ir)

- 1) fundamental 2) Compatible 3) Predominant 4) Meticulous

69- Snakes hears things by picking up the vibrations of sound waves with their flicking tongues. . (iranarze.ir)

- 1) Exhibited 2) Extracted 3) Established 4) Enhanced

70- NATASHA IS WORKING ON A research project studying the genes of DNA (iranarze.ir)

- 1) Exhibited 2) Extracted 3) Established 4) enhanced

Part c : READING COMPREHENSION

DIRECTIONS: READTHEFOLLOWINGPASSAGEANDSELECTTHECHOICE, (1) (2) (3) OR(4) THAT best answers each questions. then mark the correct choice on your answer sheet

Medical equipment prior to and even during the scientific revolution was based on classical Greek and roman theories about science, which were not based on science at all , but on philosophy and superstition, human health was viewed as a balance of a 4 internal humors in the body. the 4 humors blood, yellow bile, black bile, and phlegm were analogous to the4 elements of the universe to classical thinkers: fire, air, water, and earth. aliments. Both physical and mental, were caused by a imbalanced of humors. The ideal mind and body balanced all four humors, gracefully. To heal , doctors prescriptions seem to make sense. fevers , for example were treated with cold, dry prescriptions to combat the hot, wet overstimulation in the body . but when tjtat failed , ofthen the next step was bloodletting .unnecessary purging and enemas were also common cures, which have helped some people, but also might have caused more problems than they solved. George Washingtons death has recently been attributed, not to the strep throat he probably had as he died, but to the bloodletting and mercury enema given to him cure it. Not quite scientific medical cure are still available and used by many even today.

71- which of the following statements is true , according to the passage ? . (iranarze.ir)

- 1) CLSSSICAL Greek and roman theories about science were mostly based on philosophy.
2) The Greeks believed in only 3 of the 4 internal humors in the body.
3) Medical equipment before and even during the scientific revolution was based on scientific experiment.
4) The romans were more in favor of the 4 elements of the universe than the 4 internal humors

72- What did the doctors do in the past to treat patients (prepared by iranarze.ir) ? . (iranarze.ir)

- 1) They did something to keep the balance between the physical and mental dimensions
2) They prescribed foods or procedures which would balance the liquids of the body.

- 3) They made an attempt to lower the patients body temperature
4) They tried to make sense of the hot , wet overstimulation in the body

73- The word ((analogous)) in line 5 is similar in meaning to? . (iranarze.ir)

- 1) NOTICEABLE 2) DEPENDABLE 3) DESIRABLE 4) COMPARABLE

74- THE WORD ((it)) IN LINE 15 REFERS TO (iranarze.ir)

- 1) THE BLOODLRYING 2) GEORGE WASHINGTON DEATH
3) The strep throat 4) Mercury enema

75- The last sentences of the passage shows that the author has a (n)attitude . (iranarze.ir)

- 1) CRITICAL 2) POSTITIVE 3) HUMOROUS 4) OPTIMISTIC

اطلاعات عمومی، دانش اجتماعی و حقوق اساسی

۷۶- غار کتله خور، از جاذبه های گردشگری کدام استان است ؟ (iranarze.ir)

- ۱) کردستان ۲) قزوین ۳) زنجان ۴) همدان

۷۷- روستای کهن و دیدنی ایپانه ، از جاذبه های گردشگری کدام استان است ؟ (iranarze.ir)

- ۱) خوزستان ۲) اصفهان ۳) لرستان ۴) فارس

۷۸- کتاب زن زیادی ، اثر کیست ؟ (iranarze.ir)

- ۱) محمود دولت آبادی ۲) هوشنگ گلشیری
۳) سیمین دانشور ۴) جلال آل احمد

۷۹- دوران نهضت آزمایشگاه های کامل و متکی به روش های علمی توسط وسایل پیشرفته در ایران با تاسیس کدام آزمایشگاه آغاز شد ؟

- ۱) بنگاه بهداشت ۲) آزمایشگاه شورین
۳) انستیتو رازی ۴) انستیتو پاستور

۸۰- قیام ۱۵ خرداد ۱۳۴۲ در اعتراض به کدام حادثه به وقوع پیوست ؟ (iranarze.ir)

- ۱) دستگیری امام خمینی (ره) ۲) کشتار مردم قم
۳) لایحه انجمن های ایالتی و ولایتی ۴) رفراندوم انقلاب سفید.

۸۱- سردار خیبر، لقب کدام شهید دفاع مقدس است؟ (iranarze.ir)

- ۱) مهدی زین الدین ۲) مهدی باکری
۳) محمد ابراهیم همت ۴) حسن باقری

۸۲- موزه آبگینه و سفالینه که اولین موزه شیشه و سفال ایران محسوب می شود، در کدام شهر است ؟ (iranarze.ir)

- ۱) همدان ۲) قزوین ۳) یزد ۴) تهران

۸۳- نخستین جنگ دوران خلافت امام علی (ع) کدام است ؟ (iranarze.ir)

- ۱) نهروان ۲) جمل ۳) خوارج ۴) صفین

۸۴- در کدام دوران ، بحرین از سرزمین ایران جدا شد ؟ (iranarze.ir)

- (۱) ناصرالدین شاه (۲) احمدشاه (۳) پهلوی اول (۴) پهلوی دوم

۸۵- کدام شخصیت علمی، پدر علم ژنتیک ایران است؟ (iranarze.ir)

- (۱) داریوش فرهود (۲) مجید سمیعی (۳) رحیم رحمان زاده (۴) توفیق موسیوند

۸۶- چند استان ایران، با کشورهای همسایه شمالی ، دارای مرز دریایی هستند ؟ (iranarze.ir)

- (۱) ۳ (۲) ۴ (۳) ۱ (۴) ۲

۸۷- کدام مورد ، از نهادهای تابعه وزارت بهداشت ، درمان و آموزش پزشکی نیست ؟ (iranarze.ir)

- (۱) انستیتو پاستور ایران (۲) سازمان نظام پزشکی

- (۳) سازمان بهزیستی (۴) سازمان غذا و دارو

۸۸- سازمان بازرسی کل کشور ، نظارت بر اجرای صحیح کدام دسته از هنجارهای حقوقی در دستگاه های اداری را بر عهده دارد؟ (iranarze.ir)

- (۱) مصوبات هیئت وزیران (۲) نظامات دولتی

- (۳) قوانین (۴) سیاست های کلی

۸۹- کدام مقام زیر، نظارت مالی بر مقامات عالییه کشور را بر عهده دارد؟ (iranarze.ir)

- (۱) رئیس دیوان محاسبات کشور (۲) دادستان کل کشور

- (۳) رئیس دیوان عالی کشور (۴) رئیس قوه قضائیه

۹۰- در قانون اساسی ، عضویت افراد حقوق دان در کدام یک از شوراهای عالی کشور تصریح شده است ؟ (iranarze.ir)

- (۱) شورای نظارت بر سازمان صدا و سیما (۲) مجمع تشخیص مصلحت نظام

- (۳) شورای نگهبان (۴) شورای عالی امنیت ملی

هوش و توانمندی های عمومی

راهنمایی : در این بخش از آزمون ، یک متن داده شده است . این متن را به دقت بخوانید و پاسخ سوال هایی را که در زیر آن آمده است ، با توجه به آنچه می توان از متن استنتاج یا استنباط کرد ، انتخاب کنید و در پاسخنامه علامت بزنید.

به خوبی می دانیم که تجربه های احساسی و عاطفی دوران نوزادی و کودکی در شخصیت و سلامت روانی افراد تاثیر قابل ملاحظه ای دارند. لذا هر آنچه ما به عنوان والدین در سال های اولیه زندگی کودکانمان انجام می دهیم، در شخصیت و زندگی کنونی و آینده آنها بسیار موثر است. ایجاد محیطی امن و قابل پیش بینی به لحاظ احساسی فیزیکی برای فرزندان، برقراری ارتباط درست و مثبت و متعادل با فرزندان، کاستن از نمایش قدرت و بگومگوهای زبان آور و اظهار عشق و علاقه بی قید و شرط به فرزندان ، از جمله موارد اصلی و مهم ایجاد لحظات خوش و تاثیر گذار بر آنهاست. به عقیده هارتلی روتر (۲۰۰۵) از میان بخش های گوناگون، مهم ترین و اصلی ترین بخش حس شادی عمیق عزت نفس است. وی اذعان می دارد که سه ویژگی عزت نفس، اتکا به نفس، اعتماد به نفس نقطه آغازین برخورداری از سلامت احساسی - عاطفی و توان برقراری روابط شاد و رضایت بخش است. اطمینان قابلیت پیش بینی، توانایی و خودکار آمدی ، خونگرمی و جامعه پذیری ، از عوامل مهم و ضروری برای حس اعتماد به نفس اند. توانایی مقابله با مشکلات، حل مسائل، قابلیت تفکر، و عملکرد مستقیم، از جمله عوامل مهم ایجاد حس اتکا به نفس محسوب می شود. مجموع این ویژگی ها که به شکل گیری حس ارزشمندی و خود انگاره مثبت در فرد منجر می شوند، همان عزت نفس را تشکیل می دهند. عزت نفس باعث ایجاد احساس رضایت و خوشنودی عمیق و پایدار در فرد می شود که به نوعی همان شادی واقعی یا شادی درونی است. همان طور که ارسطو نیز اشاره می کند ، شادی درونی همان احساس رضایت و خوشنودی از خود است. لذا هر چند فعالیت هایی از قبیل خرید اسباب بازی، خوردن خوراکی های خوشمزه و مورد علاقه، دیدن فیلم و یا انجام دادن بازی های مختلف ، همگی باعث شادی کودکان می شوند. و نمی توان تاثیر این نوع شادی های اکتسابی را انکار کرد. اما قطعاً اثر این نوع شادی ها، موقتی و بی ثبات است. شاید پرداختن به

کارهای روزمره، برای بزرگسالان عادی، تکراری، و غیر مهم جلوه کند. اما انجام دادن آنها برای کودکان خردسال به طور مستقل یا همراه با بزرگسالان، عالوه بر ایجاد اطمینان نسبت به خود، توانایی پیش بینی فعالیت های روزمره و کسب استقلال و اتکا به نفس را به وجود می آورد. کودکان از اینکه بتوانند فعالیت هاش شخصی مانند غذا خوردن، لباس پوشیدن، مسواک زدن و حمام کردن را به طور مستقل انجام دهند، لذت می برند و احساس رضایت و خوشنودی در آنها شکل می گیرد. این امر باید به صورت گام به گام و مرحله به مرحله انجام پذیرد. بعد از شکل گیری توانایی انجام دادن کارهای شخصی ساده و روزمره، در کودکان، می توانید مسئولیت برخی از امور داخل خانه مانند مرتب کردن اتاق، تا زدن لباس ها، چیدن ظروف در کابینت، چیدن میز غذا و تمیز کردن و گردگیری وسایل، قراردادن لباس های کثیف در سبد لباسشویی را به آنها واگذار کنید. سپس به مرور زمان، فعالیت های ساده روزمره در بیرون از منزل، مانند همراهی در خرید را با آنها تمرین کنید و در نهایت، برای انجام دادن هر یک از کارهای روزمره، به آنان تفویض اختیار نمایید. تفویض اختیار به موقع برای انجام امور، سبب احساس استقلال و اعتماد به نفس و در نهایت، لذت و شادی درونی در فرزندان می شود. کما اینکه والدین نیز احساس رضایت خرسندی و شادی درونی از عملکرد تربیتی خود را تجربه کنند.

۹۱- موضوع اصلی متن کدام است؟ (iranarze.ir)

- (۱) شادی پایدار در کودکان
(۲) رابطه کارهای روزمره و عزت نفس
(۳) شادی عمیق از دیدگاه علم و فلسفه
(۴) اثر تجربیات کودکی در زندگی انسان

۹۲- طبق متن، کدام مورد درباره ی عزت نفس صحیح است؟ (iranarze.ir)

- (۱) ایجاد آن در بزرگسالی، سخت تر از دوران کودکی است.
(۲) از احساس رضایت و خوشنودی عمیق سرچشمه می گیرد
(۳) شامل سه مولفه جدا ولی وابسته است.
(۴) مولفه ای می باشد که برابند برخی ویژگی هاست.

۹۳- این ادعا در متن که آنچه والدین در سال های اولیه زندگی کودکان انجام می دهند، در شخصیت و زندگی کنونی و آینده آنها بسیار موثر است، بر پایه کدام فرض مطرح شده در متن، استوار است.؟ (iranarze.ir)

- (۱) تفویض اختیار به موقع برای انجام امور، سبب احساس استقلال و اعتماد به نفس و در نهایت، لذت و شادی درونی در فرزندان می شود. (پاراگراف ۲)
(۲) تجربه های احساسی و عاطفی دوران نوزادی و کودکی در شخصیت و سلامت روانی افراد تاثیر قابل ملاحظه ای دارند. (پاراگراف ۱)
(۳) هر چند فعالیت هایی از قبیل خرید اسباب بازی، خوردن خوراکی های خوشمزه و مورد علاقه، دیدن فیلم و یا انجام دادن بازی های مختلف، همگی باعث شادی کودکان می شوند. و نمی توان تاثیر این نوع شادی های اکتسابی را انکار کرد. اما قطعاً اثر این نوع شادی ها، موقتی و بی ثبات است. (پاراگراف ۱)
(۴) کودکان از اینکه بتوانند فعالیت هاش شخصی مانند غذا خوردن، لباس پوشیدن، مسواک زدن و حمام کردن را به طور مستقل انجام دهند، لذت می برند و احساس رضایت و خوشنودی در آنها شکل می گیرد (پاراگراف ۲)

۹۴- کدام مورد، نگرش نویسنده به شادی های اکتسابی را به بهترین وجه توصیف می کند؟ (iranarze.ir)

- (۱) نگرانی
(۲) مخالفت صریح
(۳) بدبینی
(۴) تایید شده مشروط

۹۵- اطلاعات کافی برای پاسخ به کدام سوال زیر، در متن وجود دارد؟ (iranarze.ir)

- (۱) آیا از نظر برونر (۲۰۰۵) باید بین بخش هایی که در ایجاد حس شادی عمیق تاثیر گذارند، به نوعی تمایز قائل شد؟
(۲) آیا والدینی که عملکرد تربیتی خود را تمام و کمال انجام می دهند، نسبت به آنانی که در این کار کوتاهی می کنند، احساس رضایت، خرسندی و شادی درونی بیشتری را تجربه می کنند؟
(۳) چرا بزرگسالان کارهای روزمره را عادی و تکراری و غیر مهم می پندارند؟
(۴) چرا کودکان انجام فعالیت های شخصی را بر برخی وظایف به ظاهر مهم ترجیح می دهند.

راهنمایی: برای پاسخگویی به سوال های ۹۴ تا ۹۸ الزم است موقعیتی را که در هر سوال مطرح شده، مورد تجزیه و تحلیل قرار دهید. و سپس گزینه های را که فکر می کنید پاسخ مناسب تری برای آن سوال است انتخاب کنید. هر سوال را با دقت بخوانید و با توجه به واقعیت های مطرح شده در هر سوال و نتایجی که بیان شد، و بیان نشده ولی قابل استنتاج است، پاسخی را که صحیح تر به نظر می رسد، انتخاب کنید و در پاسخ نامه علامت بزنید.

۹۶- اصلاح رفتار افراد در برخورد با مسائل گوناگون، مستلزم آگاهی بخشی به آنان است. بنابراین، انتظار داشتن رفتار مطلوب زیست محیطی از شهروندان، مستلزم آن است که شهروندان در فرایند جامعه پذیری، که از سنین کودکی آغاز می شود، نسبت به اهمیت محیط زیست آگاه شوند و در طی زمان، حفظ محیط زیست به عنوان یک ارزش در آنها درونی می شود.

کدام مورد زیر رامی توان به درستی از متن فوق استنباط کرد؟ (iranarze.ir)

(۱) هر نوع آگاهی، خود به خود به عمل نمی انجامد، مگر اینکه فرایند آگاهی بخشی از سنین پایین شروع شود.

(۲) بین آگاهی اجتماعی، و فعل اجتماعی فردی که فرایند جامعه پذیری را تجربه نکرده است، همواره فاصله وجود دارد

(۳) احساس مسئولیت در مقابل حفظ محیط زیست اکتسابی است

(۴) کسانی که نسبت به محیط زیست بی تفاوتند، به نوعی جامعه ستیز هم هستند.

۹۷- برای هر خرید، از لباس گرفته تا مواد خوراکی، فروشندگان، خرید ما را در کیسه های پلاستیکی تحویل میدهند. کیسه های پلاستیکی بین ۱۰ تا ۲۰ سال در طبیعت جا خوش می کنند. تا در نهایت تجزیه می شوند. و در نتیجه، اگر پلاستیک های کمتری تولید و مصرف شود، زباله های کمتری تولید می شود. بهتر است برای خرید بسته یا کیفی پارچه ای همراه خود ببریم و به فروشندگان بگوییم کیسه پلاستیکی نمی خواهیم. با آموزش راهکارهای عملی سبز زیستن به مردم، محیط زیست در امان خواهد ماند. فرض مندرج در متن فوق، کدام است؟ (iranarze.ir)

(۱) بیشتر مردم کالای خود را در کیسه های پلاستیکی به خانه می برند

(۲) چنانکه به مردم آموزه اهی داده شود، آنها بدان عمل می کنند.

(۳) بیشتر حجم زباله های مخرب را کیسه های پلاستیکی تشکیل می دهند.

(۴) فروشندگان کالا، منافع خود را به حفظ محیط زیست ترجیح می دهند.

۹۸- در تحقیقی که برای بررسی اثر بخشی داروی (الف) در درمان سرماخوردگی حاد در مردان مسن انجام شد، دو گروه از مردان مسن، وارد مطالعه شدند. به افراد یک گروه، همان داروی (الف) داده شد، در حالی که به افراد گروه دیگر؛ دارو نما تجویز شد. بعد از یک هفته، محققین با تعجب دریافتند که افراد هر دو گروه کامال بهبود یافته اند. کدام مورد در صورتی که صحیح فرض شود، تناقض موجود در متن را به منطقی ترین وجه، مرتفع می سازد؟

(۱) تقریباً تمامی آنانی که به آنها دارونما داده شد، به طریقی پی برده اند که داروی آنها بی اثر است.

(۲) برخی از پزشکان بر این باورند که اثر تلقین، گاهی از اثر دارو نیز بیشتر است.

(۳) افراد گروهی که دارونما دریافت کرده بودند، به خیال اینکه داروی دریافتی شان کافی نیست، خود اقدام به خرید و مصرف داروی (الف) کرده بودند.

(۴) داروی (الف) به واقع دارویی موثر در بر طرف نمودن سرماخوردگی حاد برای همه گروه های سنی است.

۹۹- مراقبت های پزشکی می توانند باعث طول عمر و یا بهبودی از یک بیماری جدی شوند، ولی شرایط مهم برای سلامت جمعیت، شرایط اجتماعی، اقتصادی است که بر وضعیت جسمی افراد تاثیر می گذارد. بدین معنا که تعیین کننده های موقعیت اجتماعی سلامت، مانند میزان درآمد، سطح تحصیلات، شغل، تغذیه و طبقه اجتماعی، بسیار بیشتر از عواملی مانند عوامل بیولوژیک، باعث ابتلای به بیماری ها می شوند. و در سلامت انسان ها نقش به سزایی دارند. که اگر نادیده گرفته شوند، رسیدن به اهداف سلامتی محال خواهد بود. کدام مورد در صورتی که صحیح فرض شود، استدلال متن را به بهترین وجه تقویت می کند (تنظیم توسط فروشگاه ایران عرضه)؟ (iranarze.ir)

(۱) افراد پایین دست جامعه، اگر چه ساعات بیشتری را به کار می پردازند، ولی نمی توانند موقعیت اجتماعی خود را ارتقا بخشند

(۲) برخی از پزشکان با این نظر که بین امکان ابتال به بیماری و میزان تحصیل و درآمد افراد، رابطه مستقیم وجود دارد، موافق نیستند.

(۳) هر چه موقعیت اجتماعی افراد بالاتر می رود، آنان بیشتر نکات پیشگیری از بیماری را رعایت می کنند

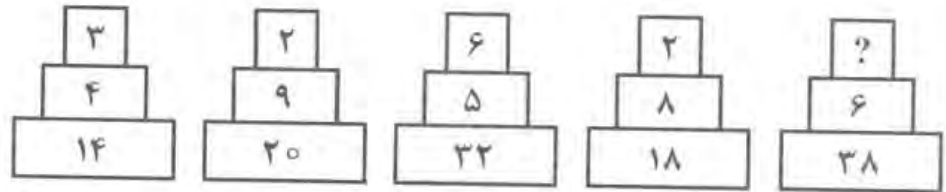
(۴) مکمل های غذایی و دارویی موجود، نقش عوامل بیولوژیک در ایجاد بیماری ها را کم رنگ تر از گذشته کرده است

۱۰۰- تحقیقات نشان می‌دهد بازده کاری افراد پس از ۵۰ ساعت کار در هفته، به شدت افت می‌کند. بازدهی کارمندانی که در هفته ۵۵ ساعت کار می‌کنند، نزدیک به صفر می‌رسد، شاید باورش سخت باشد، ولی افرادی که در طول هفته ۷۰ ساعت کار می‌کنند، میزان کار مفیدشان با کسانی که ۵۵ ساعت کار می‌کنند.....؟ (iranarze.ir)

(۱) اکتی نشان نمی‌دهد. (۲) کاملاً برابر است

(۳) فقط به اندازه زمان بیشتری که می‌گذارند تغییر می‌کند. (۴) حتی قابل مقایسه هم نیست

۱۰۱- هر کدام از اشکال زیر بین اعداد، ارتباط یکسانی برقرار است، به جای علامت سوال، کدام عدد باید قرار بگیرد؟ (iranarze.ir)



۸ (۱) ۱۰ (۲) ۵ (۳) ۶ (۴)

۱۰۲- در یک درمانگاه، یک پرستار به ازای هر ۲ سرمی که تزریق می‌کند، ۵ آمپول (وریدی و غیر وریدی) تزریق می‌کند. اگر ۴۵ درصد از آمپول‌هایی که این پرستار زده است، وریدی باشد، وی حداقل چند سرم تزریق کرده است؟ (iranarze.ir)

۱۰ (۱) ۸ (۲) ۱۶ (۳) ۱۲ (۴)

۱۰۳- یک نوار کاغذی را به دو قسمت مساوی A و B تقسیم می‌کنیم. از قسمت A، تکه‌های ۴ سانتی متری جدا کرده و نهایتاً، یک تکه ۲ سانتی متری باقی می‌ماند. از قسمت B نیز، تکه‌های ۵ سانتی متری جدا کرده و نهایتاً یک تکه ۳ سانتی متری اضافه می‌آوریم. در کل، حداقل چند تکه نوار کاغذی در اختیار خواهیم داشت؟ (iranarze.ir)

۹ (۱) ۷ (۲) ۱۲ (۳) ۱۰ (۴)

۱۰۴- پزشکی روز شنبه تعدادی بیمار را ویزیت کرده است. اگر در روزهای بعد این پزشک هر روز یک نفر بیشتر از روز قبل ویزیت کرده و در ظرف مدت ۷ روز، ۸۴ نفر را ویزیت کرده باشد، وی روز شنبه، چند نفر را ویزیت کرده است؟ (iranarze.ir)

۵ (۱) ۱۲ (۲) ۹ (۳) ۸ (۴)

۱۰۵- در یک درمانگاه، بین ساعات ۸ صبح تا ۸ شب ۳ پرستار به اسمی A، B و C هر کدام ۵ ساعت متوالی باید توری حضور داشته باشند که درمانگاه در هیچ دقیقه‌ای از این مدت بدون پرستار نباشد. اگر بدانیم رأس ساعت ۴ بعداز ظهر A و C هر دو در درمانگاه حضور داشته‌اند بیشترین زمانی که B و C با هم در درمانگاه حضور داشته‌اند. چند ساعت بوده است؟ (iranarze.ir)

۱ (۱) ۴ (۲) ۳ (۳) ۲ (۴)

ایران عرضه

مرجع نمونه سوالات

آزمون های استخدامی

به همراه پاسخنامه تشریحی

خدمات ایران عرضه:

- ارائه اصل سوالات آزمون های استخدامی
- پاسخنامه های تشریحی سوالات
- جزوات و درسنامه های آموزشی

برای دانلود رایگان جدیدترین سوالات استخدامی ادوار گذشته وزارت بهداشت، اینجا بزنید

همچنین جهت مشاهده آخرین اخبار استخدامی وزارت بهداشت، اینجا بزنید

« انتشار یا استفاده غیر تجاری از این فایل، بدون حذف لوگوی ایران عرضه، مجاز می باشد »

